

新北市立新莊國民中學 110 學年度第 1 學期第 3 次段考 8 年級社會領域試題卷

班級 座號 姓名

※ 選擇題：本試卷共 50 題，每題 2 分，總分為 100 分。
每一題均為單選題，請選出最適當答案。

※ 請用 2B 鉛筆在答案卡上相應的位置畫記。

1. 我國中央政府與地方政府的分權方式採用(甲)制度，遇有權限爭議時，交由(乙)單位解決。請問：甲、乙分別為何？
(A)均權制度、司法院 (B)權力分立、監察院
(C)均權制度、立法院 (D)地方自治、行政院

2. 承上題，甲：舉行公務員地方特考、乙：大型廢棄物清運、丙：興建國民運動中心、丁：提升國軍戰力。請問：上述哪些工作屬於地方政府的職權？
(A)甲丙丁 (B)乙丙丁 (C)甲乙丙 (D)乙丙

3. 依據我國地方制度法的規定，我國地方政府分為三個層級，請問：右表中那些單位屬於我國現行的地方自治團體？
(A)甲丁 (B)乙丙丁
(C)甲乙丁戊 (D)丁戊

甲	新北市烏來區
乙	基隆市中正區
丙	台灣省
丁	宜蘭縣羅東鎮
戊	苗栗市福安里

4. 為了落實公平投票，不論是公職人員選舉或是公民投票，皆依照憲法規定的投票原則進行。請問：下列敘述何者完全正確？
(A)有投票權者，每人只能領取一張選票—符合普通原則
(B)不分性別，男女皆可以參與選舉投票—符合平等原則
(C)為落實間接民主，不須透過代理人行使投票權—符合直接原則
(D)投票時僅能使用專用戳章圈選—符合秘密投票原則

5. 政治參與是指人民以各種途徑，試圖影響政府或公共政策的過程。請問關於政治參與的內涵何者有誤？
(A)可督促政府施政，避免少數統治
(B)具體行動包含：參與示威遊行、參加專業技術人員考試
(C)投書媒體也能表達民眾立場
(D)最常見的方式：選舉投票

6. 關於我國地方自治現況，下列敘述何者完全正確？
(A)地方政府僅有行政權和立法權，屬於同一層級的垂直分權
(B)地方政府經費來源包含自籌財源、中央補助與舉債收入
(C)民眾繳交娛樂稅、房屋稅，可以增加地方公共造產收入
(D)省虛級化的原因，在於直轄市政府與省政府管轄範圍高度重疊

【第 7 至 9 題為題組】

因應去年 12 月舉行的公民投票，中選委會針對公投作業，製作「公投 1218、人民是投家」宣導影片，地方選委會也印製資料配合宣導。此次公投共有四個議案，分別是「重啟核四」、「反萊豬」、「公投綁大選」及「珍愛藻礁」。選委會指出，與公職人員選舉最大差別在於，中華民國國民年滿(甲)□歲、未受監護宣告，並在各直轄市、縣(市)繼續居住(乙)□個月以上，便具有公民投票權。選委會並提醒民眾投票當天要遵守防疫規定，並記得攜帶「投票 3 寶」國民身分證、投票通知單及印章前往指定投開票所投票。

7. 關於我國公民投票的相關敘述 (甲)落實憲法保障人民的選舉權與複決權 (乙)範圍包含對人與事的投票 (丙)投票時一定要帶齊「投票 3 寶」才可以領取選票 (丁)公民投票流程依序如下：提案→人民連署→公告→投票。請問：下列選項何者完全正確？
(A)甲乙丙 (B)乙丙丁 (C)甲丁 (D)丁

8. 若民眾要參與公民投票，年齡資格與居住條件皆須要符合法律規定。請問：文中的甲、乙答案應該分別為何？
(A)18 歲、4 個月 (B)20 歲、6 個月
(C)18 歲、6 個月 (D)20 歲、4 個月
9. 請問：上文中畫線部分指的是哪一項選舉原則？
(A)普通原則 (B)平等原則 (C)直接原則 (D)無記名原則

【第 10 至 11 題為題組】

因應 COVID-19 疫情對民眾工作、生活經濟造成衝擊，苗栗縣三義鄉民代表會與公所共商振興紓困對策，由公所提出「苗栗縣三義鄉因應嚴重特殊傳染性肺炎 (COVID-19) 疫情發放振興消費禮金自治條例」，追加預算新台幣 4675 萬元，獲代表會三讀通過，合格設籍鄉民每人發放 3000 元現金。

10. 下列各組地方政府，何者與苗栗縣屬於同一層級？
(A)新竹縣、基隆市、嘉義市
(B)台中市、桃園市、新竹市
(C)三星鄉、嘉義市、玉里鎮
(D)澎湖縣、基隆市、屏東市
11. 依照我國地方政府職權分配，三義鄉民代表會議決通過三義鄉法規與預算，並監督鄉公所施政。請問：下列各組地方行政機關和立法機關的配對，何者完全正確？
(A)南投縣公所—南投縣議會
(B)桃園市政府—桃園市議會
(C)屏東市政府—屏東市議會
(D)基隆市政府—基隆市民代表會

【第 12 至 13 題為題組】

三義鄉公所 2020 年獲公路總局補助辦理三義慢城幸福巴士，規畫路線以基本民行為主、觀光為輔，除設置的站牌，並可隨招隨停，以提供偏鄉地區高齡者、學生、民眾及遊客便利的公共運輸服務。目前，三義幸福巴士共規劃 4 條路線，行經路線包含鄉內車站、學校、行政機關、以及觀光景點。

12. (甲)社會福利 (乙)安全衛生 (丙)經濟發展 (丁)教育文化
請問：三義慢城幸福巴士設置，屬於地方自治的哪些項目？
(A)甲乙 (B)乙丙 (C)丙丁 (D)甲丙
13. 過去三義鄉公所曾參加苗栗縣各鄉鎮市推行公共造產業務績效考核榮獲第 3 名，請問：下列巴士行經地點，何者屬於地方政府的公共造產？
(A)三義高中 (B)公有游泳池
(C)天后宮 (D)客家書院

【第 14 至 16 題為題組】

中華民國第三次九合一地方公職人員選舉預計於今年 11 月份舉行，將由中華民國自由地區之直轄市選出新一屆的直轄市長、直轄市議員、里長、山地原住民區長及區民代表；並在縣市選出新一屆的縣市長、縣市議員、鄉鎮市長、鄉鎮市民代表、村長和里長。

14. 請問：家住田中鎮的首投青年阿榮，在本屆選舉投票日一共可以領到幾張選票？
(A)3 張 (B)4 張 (C)5 張 (D)6 張
15. 根據阿榮的生涯規劃，年滿 30 歲生日之前，想要投入地方公職選舉，希望能嚴格把關縣府預算、做好縣府與民眾溝通橋梁。請問：下列職務何者最可能是他的考量？
(A)彰化縣長 (B)立法委員
(C)彰化縣議員 (D)田中鎮民代表
16. 阿榮若將來要登記參選上述公職，他必須符合哪些條件才能登記參選？(甲)未被宣告褫奪公權 (乙)戶籍在選區設籍滿 4 個月 (丙)參選時年齡至少要滿 26 歲 (丁)必須經由政黨提名推薦
(A)甲乙丙 (B)甲乙 (C)甲乙丁 (D)乙丙丁

背面尚有試題

新北市立新莊國民中學 110 學年度第 1 學期第 3 次段考 8 年級社會領域試題卷

班級 座號 姓名

17. 請根據以下三位外國商人的自述判斷他們來華經商的順序為何？
- (甲)威廉：當年上海開港後我馬上帶了十萬兩到上海設立洋行才有今日的百萬身價
- (乙)亨利：想當年我只能透過「公行」進行貿易，不能直接與中國官方往來
- (丙)約翰：我來中國時剛好台灣淡水開港通商，台灣的烏龍茶讓我賺了不少錢！
- (A)甲乙丙 (B)丙乙甲 (C)乙甲丙 (D)乙丙甲

18. 馬關條約中允許日人可在通商口岸設廠製造商品，後來其他西方列強也紛紛來華設廠，請問：其他西方列強又沒有簽訂馬關條約，卻能比照日本在華設廠製造是因為下列哪一項特權而能利益均霑？
- (A)協定關稅 (B)領事裁判權
- (C)畫分勢力範圍 (D)片面最惠國待遇

19. 莫桓到二二八公園遊玩時，看到了臺灣最早的火車頭，他翻出了簡介，發現原來這是清朝的古物，而且第一天通車時，還被圍觀的民眾驚恐的稱為「黑色妖馬」！請問：在自強運動中台灣的鐵路建設要感謝下列哪一位清朝官員的規劃？
- (A)沈葆楨 (B)丁日昌 (C)唐景崧 (D)劉銘傳

20. 近代清、日兩國面對西方勢力的衝擊，都做出了回應，有關這段歷史的敘述，下列哪個選項**錯誤**？

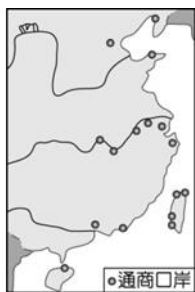
選項	中國(清朝)	日本
(A)最早面對的西方勢力	美國	英國
(B)引發事件	鴉片戰爭	黑船事件
(C)造成結果	被迫開港通商	被迫開港通商
(D)導火線	林則徐查禁鴉片	培里率軍艦來日本

21. 中國申報報導：「這一場戰爭是君主立憲戰勝君主專制的最佳寫照。我們政府應該也要仿行君主立憲的體制，讓國家富強。」根據上述內容所指的戰爭是下列哪一場？
- (A)鴉片戰爭 (B)日俄戰爭 (C)清法戰爭 (D)英法聯軍

22. 圖(一)與圖(二)是清末時期對外開放通商口岸的演變情形。請問：圖(二)增開臺灣、長江沿岸與北方各地的通商口岸與下列哪一場戰爭有關？



圖(一)



圖(二)

- (A)甲午戰爭 (B)日俄戰爭 (C)清法戰爭 (D)英法聯軍

23. 克里斯於 1900 年以記者的身分，隨著八國聯軍來到中國。在這次的隨軍過程中，他留下對於戰爭與當時清帝國的紀錄。請問：下列何者應該**不會**是他報導中會出現的內容呢？
- (A)由於當時清帝國尚未辦理外交的現代機構，聯軍在交涉時倍感困難
- (B)聯軍一開始到中國的目的是為了保護在當地的僑民，不讓他們受到義和團的迫害
- (C)聯軍進入北京後，慈禧太后和光緒皇帝倉皇逃到西安
- (D)八國聯軍官兵攻入紫禁城後坐在龍椅上拍照

24. 上海在開港通商後漸受重視，外國人紛紛來設立洋行，因此西洋事物最早傳入的地點就是上海。請問：身處於 19 世紀後期上海的秦碩，**不會**有以下什麼經歷？
- (A)他可以透過打電報或者到郵政局寄信給住在天津的好朋友易行
- (B)他可以和家人坐人力車到租界區的外國洋行買舶來品
- (C)他可以透過萬國公報得知第一次世界大戰的消息
- (D)他可以嘗試穿西裝帶女朋友到西餐廳吃西餐、喝咖啡

25. 下列關於探討清末婦女角色轉變的敘述，何者**錯誤**？
- (A)上海怡和絲廠內招收女工，女性因此增加外出工作的機會，有助於婦女地位提升
- (B)1907 年頒布奏定女學堂章程後，官員及士紳受到「女子無才便是德」觀念的影響不願投入女學堂的開辦
- (C)由於受到西方思潮影響及不纏足運動推動，解放了小腳，婦女體會到「大方天足行飛快，反覺金蓮步步羞」的生活模式
- (D)當時傳統「父母之命、媒妁之言」的婚姻依然存在，但逐漸被自由戀愛的風氣所取代

26.

敬愛的巴特勒上尉：

您覺得這次「遠征中國」又體面又高尚，但我卻有不同的看法。當時我們英國商人來華貿易，被規定只能住在城外的「夷館」，交易必須經過「公行」，常被可惡的公行勒索，實在是有苦難言啊！總算在「商務戰爭」後，公行被廢除了，有了平等的貿易。而且我們還取得了一樣「特別的權利」，因此我的英國朋友們開始無法無天的犯罪行為，他們難道看不到中國人民的憤怒嗎？真是愚蠢至極呀！

往事不提了，最近我正計畫在臺灣的淡水繼續經營茶葉。當然，這也是因為您的功勞，才有了「1858 年的條約」。但是對於這次遠征，我看到了「兩個強盜」，闖入了圓明園。一個掠奪，一個縱火，似乎獲得勝利就可以當強盜了。……

祝你好運，我的好友。

傑克

依據〈傑克給巴特勒上尉的一封信〉，有關內容的理解，何者**錯誤**？

- (A)傑克當年所住的「夷館」，應位於「北京」
- (B)信中所指的「商務戰爭」應是指「鴉片戰爭」
- (C)信中所提到的「特別的權利」，最可能是指「領事裁判權」
- (D)傑克所說的「兩個強盜」最可能是指「英國和法國」

27. 下列是銀優主演的歷史劇部分劇本內容，請根據內容判斷，其歷史背景應與何者有關？

第一幕：〔旁白〕油燈微弱的光芒，映照出譚嗣同和梁啟超憂愁的面容。

梁啟超無奈地說：「聽說皇上已經被太后軟禁了……。嗣同，還是一起走吧！」譚嗣同聽了，心裡像刀割一樣地難受。「我已無事可辦，惟待死期而已。你不必再勸我。」譚嗣同從容地說。

- (A)日軍侵臺 (B)立憲運動 (C)自強運動 (D)戊戌政變

繼續作答下張試卷

28. 上海百年飯店浦江飯店正式歇業裝修，改裝成證券博物館。浦江飯店由英國蘇格蘭籍僑民彼得禮查於 1846 年創立，為全中國第一家西式酒店，被譽為「上海著名的里程碑建築」。此間 170 年的傳奇飯店曾創下許多歷史，卓別林、愛因斯坦等名人都曾入住過。下列何者最不可能為此間飯店所經歷的歷史？

(A)鴉片戰爭期間列強曾占領此地
(B)中國第一盞電燈在這裡亮起
(C)是第一批使用自來水的西式旅館
(D)見證現代電報線的開通

29. 珉豪為了準備歷史報告，上網查詢相關資料。下列是他在搜尋網站上所搜尋到的資料。他所查詢的應該是哪一報刊的歷史？

原名教會新報，1868 年於上海創刊，主辦人為美國傳教士林樂知，以林華書院的名義出版。起初為宗教性質刊物，著重刊登闡釋教義的文章，以及溝通教徒、教友情況的「各地教友來信」等。1874 年改名後，報刊內容始轉為涉及政治時事、中外關係、教育、科學等議題，有助於民眾對於西方思潮的接觸與理解。

(A)申報 (B)萬國公報 (C)點石齋畫報 (D)飛影閣畫報

30. 根據清代派往海外的督學簽呈：「這些寄宿孩童，滿口洋文，只會說哈囉，連對師長的禮節也忘了，……穿起洋服連辮子都剪了，還學洋人穿牛仔褲、打棒球，真是數典忘祖、貽笑大方。」因為這份簽呈，使得清代派往留美的學生於光緒 7 年全數被召回。請問：清代派幼童留美與下列哪一史事有關？

(A)庚子後新政 (B)自強運動 (C)立憲運動 (D)戊戌變法

31. 德國皇帝威廉二世，在 1900 年德國軍隊出兵中國時的發言：「你們應對不公正的行為予以報復，他們以令人髮指的方式嘲弄外國使節的神聖不可侵犯性，如果遇到敵人，切勿留情，不要留活口。用你們手裡的武器，讓中國人即使在一千年後也不敢對德國人側目而視。」德國皇帝是因為中國爆發老百姓殘殺外國人的事件，而發表此言論，請問：在此事件中中國老百姓高喊什麼口號？

(A)保民義舉 (B)扶清滅洋 (C)反清復明 (D)天下一家

32. 真祐參加「全民星攻略」節目的益智問答，他在資格賽中得到四個提示：1.女權提倡、2.留學日本、3.創辦中國女報、4.離婚。請問這題答案是？

(A)孫中山 (B)梁啟超 (C)秋瑾 (D)徐志摩

33. 底下是關於「中國面對西力衝擊及其反應」的描述：(甲)鴉片戰爭→展開自強運動；(乙)清法戰爭→清朝廢除渡台禁令；(丙)八國聯軍→推行庚子後新政；(丁)日俄戰爭→興起立憲運動風潮。請問：敘述錯誤的有哪些？

(A)甲乙 (B)丙丁 (C)甲丙 (D)乙丙

34. 90 歲的日裔美籍學者真鍋淑郎榮獲 2021 年諾貝爾物理學獎，他早在數十年前就發表溫室氣體濃度上升對暖化影響的預測模型，是今日全球暖化研究的重要奠基者因而獲獎。請問全球暖化帶來的影響「不包括」下列何者？

(A)南極各種藻類分布範圍擴大
(B)北極海新航道的開闢
(C)大洋洲熱帶海域珊瑚數量增加
(D)紐西蘭山區終年積雪界線往高海拔移動。

35. 近年全球極端氣候事件頻繁影響農作物生長，台灣的保險公司推出「芒果保險」，每 1 公頃芒果園保費約 2 萬元，如遇天災歉收可賠 9 萬元，盼能以保險有效移轉生產風險，彌補農民減產的損失。同樣深受極端氣候之苦的澳洲，其地中海型氣候區是世界第六大葡萄酒產地，因此圖中何地最可能有「葡萄保險」的需求？



(A)甲 (B)乙 (C)戊 (D)己

36. 承上題，該地葡萄採收的季節多在夏末秋初，因葡萄不耐放也不易運輸，故釀酒的酒莊多位在葡萄園附近。請問澳洲葡萄最可能在何時收成？

(A)3 月 (B)6 月 (C)9 月 (D)12 月

37. 有「無蛇國」之稱的紐西蘭因為沒有走獸和蛇，且地面食物豐富，鳥類的翅膀退化，演化出許多種無翼鳥，但大多在人類登陸後滅絕，奇異鳥(如右圖)是唯一倖存下來的無翼鳥。請問紐西蘭擁有許多此類特有種生物，與該國何種特性關係最密切？



(A)位置孤立 (B)地質古老 (C)地形多樣 (D)氣候濕冷

38. 紫斑蝶屬於熱帶蝶種，台灣是全世界紫斑蝶分布最北的國家。東南亞國家冬天不冷，紫斑蝶不需要遷移，唯台灣紫斑蝶需越過北回歸線度冬的獨特現象，形成壯觀的「紫蝶幽谷」，與墨西哥「帝王斑蝶谷」同屬世界級奇景。近年發現紫斑蝶延後南下度冬，也縮短了度冬時間。請問紫斑蝶習性改變與下列何者較「無關」？

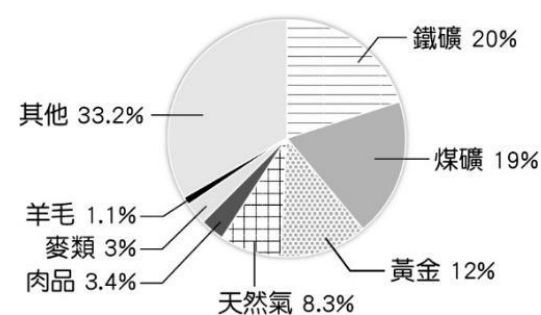
(A)工業化發展 (B)海平面上升
(C)森林的開發 (D)都市化擴張

39. 請依據北極區域簡圖判斷下列哪一項觀念最正確？

(A)甲乙丙丁都可以看到永晝
(B)甲乙丙丁都在北極點的南方
(C)毛利人主要居住在甲地
(D)飛越北極上空是歐、亞、非三洲之間的最短路徑



40. 附圖為西元 2017 年澳洲出口貨物的統計資料。請問：這張圖顯示出澳洲產業活動的特色為下列何者？



(A)農牧業產量少
(B)勞動力缺乏
(C)以中國市場為主
(D)資源出口大國

背面尚有試題

新北市立新莊國民中學 110 學年度第 1 學期第 3 次段考 8 年級社會領域試題卷

班級 座號 姓名

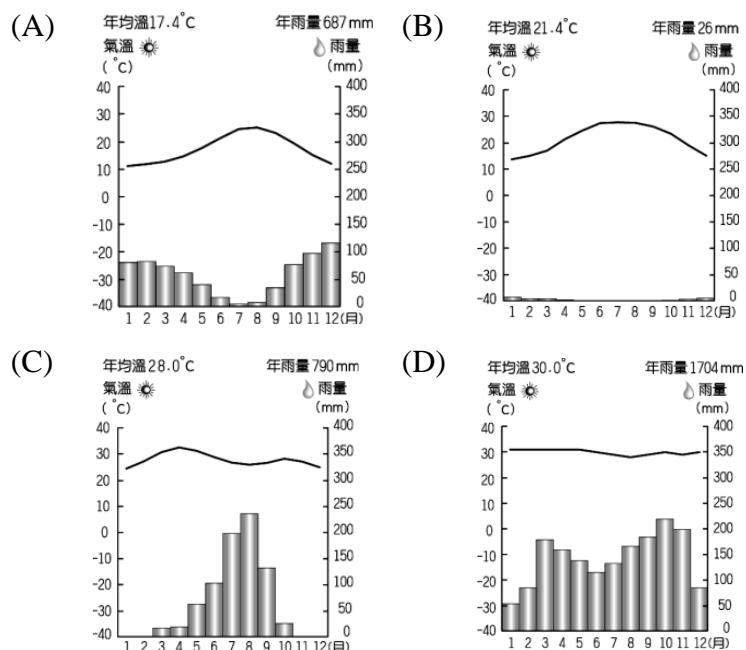
41. 2022 跨年煙火受新冠肺炎 Omicron 變種病毒影響，英、法、日、韓等國取消跨年活動，但澳洲雪梨的跨年煙火表演照常舉辦，請問下列何地比澳洲更早迎接 2022 新年第一道曙光？

- (A) 美國夏威夷 (B) 吉里巴斯
(C) 台灣 (D) 帛琉

42. 疫情過後如果規劃前往澳洲旅遊，請問下列何者最可能是澳洲觀光局建議的行程之一？

- (A) 毛利人部落探尋 (B) 暗夜等待絢麗極光
(C) 珊瑚礁水域浮潛 (D) 挑戰冰河健行

43. 氣候類型和地理位置的關係最大，請問：下列哪一種氣候分布範圍和赤道的距離最近？

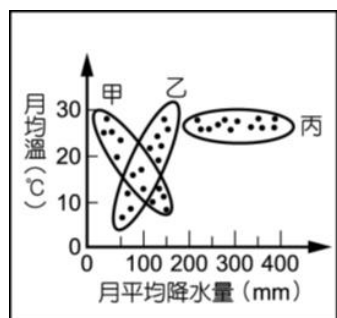


44. 2020 年澳洲發生超過 8 個月的森林大火，當時火災燃燒面積相當於 4.7 個臺灣，至少 33 人罹難，估計上億隻動物因此死亡。但是在 2021 年初卻遭逢百年一遇的嚴重水患侵襲，東南部沿海平原 6 天內降下 900 公釐雨水，造成河水暴漲。請問當地水患成因與下列哪一種盛行風有關？

- (A) 西風 (B) 東北信風
(C) 東南信風 (D) 東南季風

45. 右圖為澳洲的甲、乙、丙三地各月平均氣溫和平均降水量所做的統計圖（每個區域 12 個點代表 12 個月），請問何者為澳洲雪梨的氣候統計資料？

- (A) 甲
(B) 乙
(C) 丙
(D) 皆不符合



46. 紐西蘭的人口數大約 500 萬人，其中北島人口約 385 萬人，占全國人口的 77%，南島人口約 115 萬人，占全國人口的 23%。造成南北島人口分布不均現象的主要因素為下列何者？

- (A) 地勢高低 (B) 面積大小 (C) 降雨多寡 (D) 緯度高低

【第 47 至 48 題為題組】

薩摩亞是一個南太平洋島國，位於夏威夷與紐西蘭的中間，人口數大約 20 萬，面積約 2934km²，各島山巒起伏，最高峰西利西利山海拔 1858 米。薩摩亞今年掌權 33 年的執政黨垮台，由改革派、同時也是薩摩亞首位女性總理馬塔法接任，因此被西方媒體評為 2021 年進步最多的年度風雲國家之一。

47. 參考上文，請問關於薩摩亞的敘述下列何者正確？


- (A) 傳統產業以觀光業為主
(B) 由珊瑚礁島組成
(C) 屬於密克羅尼西亞群島
(D) 為南島語族之一

48. 薩摩亞在 2009 年更改道路通行方向，從靠右行駛改為靠左行駛，方便進口汽車的使用。2011 年更改標準時間，從比格林威治標準時晚 11 小時改為早 13 小時。請問薩摩亞這些政策實行的目的為下列何者？

- (A) 便利與紐西蘭、澳洲貿易往來
(B) 加入亞太經濟合作會議 (APEC)
(C) 爭取成為太平洋交通轉運站
(D) 促進與美國夏威夷的戰略合作

【第 49 至 50 題為題組】

報導指出：「新冠肺炎延燒各國，許多國際航線也停止運轉，目前全球有數千架飛機停飛，澳洲沙漠出現新的奇景，儼然成為『飛機墳場』(如右圖)，因為沙漠夠大、跑道長，可以容納各類大型飛機，氣候乾燥、濕度低，也能降低客機零件鏽蝕的風險，因此被大多數航空公司選作長期停機場。當然，更重要的是沙漠位置偏僻，停機費用也相對便宜。」



49. 請問文中所提的飛機墳場最可能位於澳洲何處？

- (A) 西部高原 (B) 沿海平原
(C) 中部平原 (D) 大分水嶺山脈

50. 由於澳洲氣候乾燥，特別適合作為長期停機場，請問澳洲氣候乾燥的成因主要為何？

- (A) 深居內陸、距海遙遠
(B) 終年副熱帶高壓盤據
(C) 位於盛行西風背風側
(D) 地形封閉、水氣難以進入

試題結束

新北市立新莊國民中學 110 學年度第 1 學期第 3 次段考 8 年級社會領域試題
解答

1	2	3	4	5	6	7	8	9	10
C	D	A	D	B	B	D	C	A	A
11	12	13	14	15	16	17	18	19	20
B	D	B	C	C	B	C	D	D	A
21	22	23	24	25	26	27	28	29	30
B	D	A	C	B	A	D	A	B	B
31	32	33	34	35	36	37	38	39	40
B	C	A	C	C	A	A	B	B	D
41	42	43	44	45	46	47	48	49	50
B	C	D	C	B	D	D	A	A	B