

新北市立新莊國民中學 112 學年度第 1 學期第 2 次段考 7 年級社會領域試題卷

班級 _____ 座號 _____ 姓名 _____

※ 選擇題：本試卷共 50 題，每題 2 分，總分為 100 分。

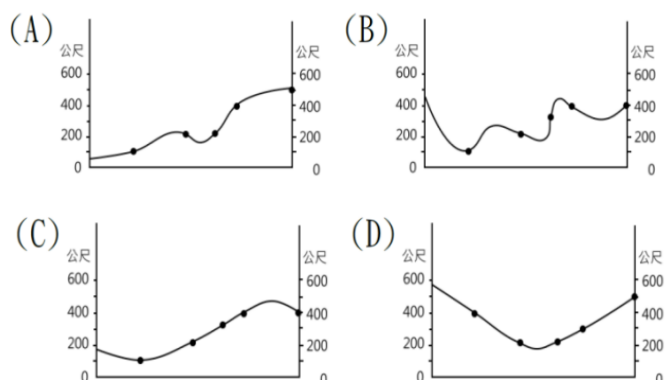
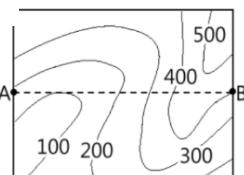
每一題均為單選題，請選出最適當答案。

※ 請用 2B 鉛筆在答案卡上相應的位置畫記。

1. 位於新北市金山區的四磺子坪地熱發電廠在今年十月正式運轉，是全台第一座火山型地熱發電廠。在經過近半世紀的鑽研技術後，終於克服管線易遭腐蝕問題，為全台開發火山地熱能源重要的里程碑。請問上述能源成因與造成下列哪一種自然景觀的營力最相近？

(A)澎湖玄武岩 (B)野柳女王頭
(C)琉球嶼花瓶岩 (D)桃園牛角埤

2. 若將右圖等高線地形圖中 AB 兩點間的線段繪成地形剖面圖，請問下列哪一張圖正確？



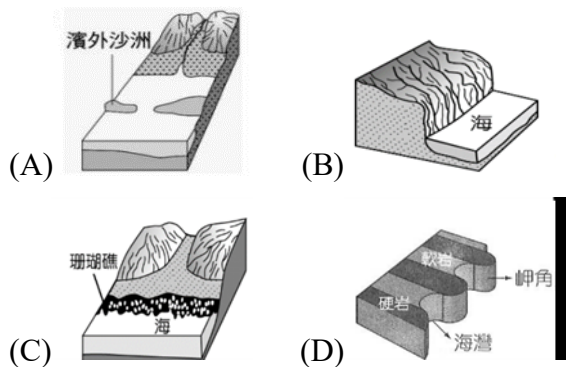
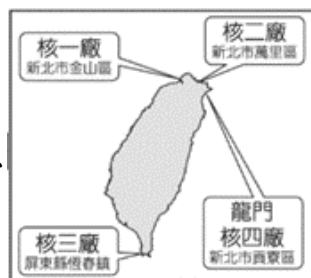
3. 「大城溼地」位於濁水溪出海口，擁有廣闊的泥質灘地，是全國最大的濕地。附近多以種植西瓜或鮮蚶養殖業為主，台灣有一半以上的鮮蚶產自這裡。關於此地的敘述何者正確？

(A)海岸線陡直 (B)沿岸平原廣大
(C)海水清澈且深 (D)堆積作用較弱

4. 清水斷崖高一千多公尺，以幾近 90 度的角度緊臨太平洋，沿線蘇花公路綿延 20 多公里，一邊是懸崖峭壁，一邊是茫茫大海，形勢險峻，令人嘆為觀止。而在蘇花公路的崇德隧道旁，設有步道通往觀景臺，可將斷崖海岸的壯麗景觀盡入眼簾。請問清水斷崖位於哪一座山脈？

(A)海岸山脈 (B)雪山山脈 (C)中央山脈 (D)玉山山脈

5. 歐洲聯盟今年元旦開始將核能改列為綠色能源而引起台灣國內爭論，反核人士認為其輻射污染的風險無法排除、核廢料難處理等等，擁核人士則對國內供電不足、碳排放增加、空污惡化等現象感到憂心。相關學者決定再次前往核一廠、核二廠、核四廠勘查，沿途最可能見到下列哪一種海岸景觀？



6. 臺灣首座長距離通過深水域跨海大橋在去年十月完工通車，該橋可連結大、小金門離島，全長 5.4 公里，橋塔造型是金門縣民投票選出的高粱穗心形狀，頗具意義。

請問這座跨海大橋跨越的兩側島嶼成為下列何者？

(A)沿海丘陵沒入海中 (B)海底岩漿噴發凝固
(C)河流搬運泥沙堆積 (D)海底珊瑚礁露出海面

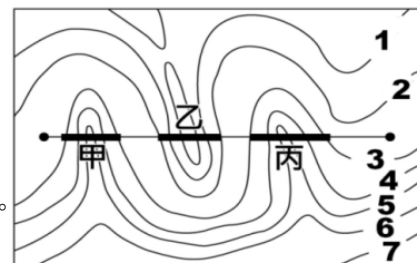
7. 新莊國中學生在暑假的時候組隊去蘭嶼實察，若要選擇離蘭嶼最近的港口搭船前往，請問他們會在何處登船？

(A)台東富岡漁港 (B)宜蘭烏石港
(C)嘉義布袋漁港 (D)基隆八斗子漁港

8. 承上題，他們從新莊出發時，打算往北繞到該港口，請問途中不會經過下列哪個地形區？

(A)宜蘭平原 (B)林口台地 (C)臺北盆地 (D)雪山山脈

9. 政府計畫興建一條快速道路，規畫的路線如右圖所示。道路沿線有河流及山地阻隔，因此經過甲跟丙地需興建橋樑，乙地則需開挖隧道，以求最短距離。請問：假設等高線線段 3 為 500 公尺，等高線間距值為 100 公尺，則下列說明最符合文中所敘述的條件？

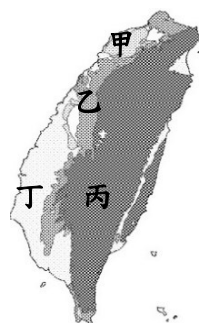


(A)線段 5 的高度為 700 公尺
(B)高度依序為線段 2>4>6
(C)河川由南向北流
(D)此圖最高點可能為 900 公尺。

10. 臺灣的公路編號東西向為偶數，南北向為奇數，奇數公路不僅較多且里程數遠大於偶數公路，例如省道 9 號總長就超過 453 公里。請問，臺灣南北向公路較多且距離較長的主要原因為何？

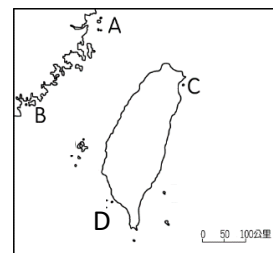
(A)台灣島面積狹小 (B)山脈位置偏東
(C)山地面積廣大 (D)板塊東西擠壓

11. 石虎是臺灣僅存的原生貓科動物，喜棲息於 1,000 公尺以下，草生地與農墾地混雜的淺山闊葉林裡，主要分布在苗栗、臺中、南投。因淺山開發造成石虎面臨生存危機，全臺僅剩數百隻，為瀕臨絕種的保育類野生動物。依據上文可知石虎多在右圖中哪一種地形區生活？



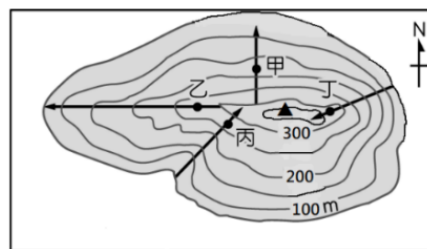
(A)甲 (B)乙 (C)丙 (D)丁

12. 「烏龜怪方蟹」是一種生活在海底火山溫泉周邊的特有生物，棲息在硫磺礦的縫隙間，或是高溫水「旁」的正常水溫中，常因此被誤認為具有耐高溫特性，實是嚴重誤解。牠靠著吃被燙死的浮游生物生存，是全球極為少見的生態體系。依其命名及特性推測此特殊物種應分布於右圖中哪一座島附近？



(A)A (B)B (C)C (D)D

13. 右圖為某地的等高線圖，▲為圖中的最高點，請根據附圖判斷下列敘述何者最為正確？



(A)等高線的間距值為 100m
(B)屬於山地地形
(C)丁路線坡度最平緩
(D)走丙路線可參加溯溪活動

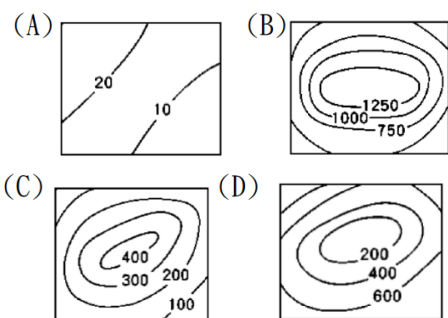
14. 承上題，▲為此地形圖的最高點，其高度可能是多少公尺？

(A)421m (B)308m (C)373m (D)568m

【第 15 至 16 題為題組】

遊玩花東就看要走濱海線還是縱谷線，濱海線走省道台 11 線，沿路海景無敵；縱谷線則走省道台 9 線，穿越兩山夾峙的田野鄉鎮，各有不同樂趣。請回答第 15~16 題：

15. 沿著台九線開車遊玩時最可能行駛在下列哪一種地形區？



16. 根據上圖-台九線花蓮段遊玩路線規劃圖，請問下列敘述何者正確？

- (A)右側車窗可欣賞海岸山脈風景
(B)途經的卓溪鄉位於菲律賓海板塊上
(C)此路線往終點可欣賞到清水斷崖
(D)此路線行經北回歸線

17. 下列對於家庭的敘述，哪個選項的組合皆為錯誤的內容？

- (A)甲丙 (B)乙戊 (C)丁戊 (D)丁己

- 甲、家庭是構成社會的最基本單位
乙、親子間互有權利義務關係
丙、家庭是個人最早接觸的團體
丁、唯有基於血緣才能構成家庭
戊、家庭對個人發展與社會穩定有密切的關係
己、面對社會的轉變，家庭的功能都可被政府機構與傳播媒體所取代

18. 下列家庭功能轉變的敘述，何者錯誤？

- (A)家庭生育功能降低，各地方政府陸續推出催生補助，希望減緩少子化現象
(B)現代社會家庭的經濟功能以生產為主，消費為輔
(C)才藝班、線上課程的普及，取代部分的家庭教育功能
(D)老人安養機構的興起，取代部分家庭保護與照顧的功能

19. 新聞報導某高中生因為在路上奔跑撞倒騎電動輔助自行車的婦人，家長須負連帶賠償責任賠償 25 萬元。上述家長的連帶責任是希望發揮家庭的何種功能？

- (A)生育功能 (B)生產功能 (C)教育功能 (D)消費功能

20. 下列四人的對話中，親屬關係觀念正確的有幾項？

- (A)1 項 (B)2 項 (C)3 項 (D)4 項

大雄：「叔叔和嬸嬸是一家人，都是我的旁系血親。」
靜香：「姊夫是血親的配偶，所以與我是姻親關係。」
胖虎：「阿姨是我的旁系血親，表哥是我的直系血親。」
小夫：「大嫂和我沒有血緣關係，所以我倆不是親屬」

21. 下圖是鄭有禮與甄美麗的結婚囍帖，請問從圖中判斷，鄭有禮與甄美麗結婚後，甄吉祥與郝溫柔兩人的親屬關係與下列哪一組相同？

- (A)鄭有禮的妹妹與甄美麗的哥哥
(B)鄭有禮與甄美麗的外婆
(C)甄美麗與鄭恭敬
(D)鄭有禮與甄美麗的伯母

謹訂 112 年 11 月 26 日星期六於莊園大飯店為長男鄭有禮與甄吉祥先生長女甄美麗舉行結婚典禮，恭請闔家光臨
父鄭恭敬 母郝溫柔



22. 過年時，恩碩的家人同聚在一起玩搶答遊戲，需依照提示搶快猜出是哪位家人躲在布幕後面。請問根據下面的提示判斷此人最有可能是恩碩的誰？

- (A)伯母 (B)舅舅 (C)叔叔 (D)姊夫

提示：我的爸爸是恩碩的阿公，我和恩碩的爸爸沒有血緣關係，但我的小孩是恩碩的表弟。

23. 家家有本難念的經，看似幸福的家庭，背後總有不為人知的辛酸事。下表是五位好友分享彼此的家庭近況，請由對話內容判斷，哪些人的家庭型態較相似？

- (A)甲戊 (B)乙丙 (C)甲丁戊 (D)甲乙丙

甲：「媽媽跟嬸嬸常常為了輪到誰煮飯、誰打掃的事爭吵不休，奶奶常出面當和事佬。」
乙：「老公你快出來看！你的孩子和我的孩子正在打我們的孩子！」
丙：「婆媳問題是我家難以化解的結。不只是婆婆和媳婦感到痛苦，男人也覺得很受苦。」
丁：「爸爸最怕颱風天停課不停班，他是唯一能照顧我的人，請假就沒全勤獎金了。」
戊：「我家的姑姑和叔叔每天都為了看哪台電視吵個不停，爺爺決定再買一台電視。」

24. 國中生家豪原本和爸爸、媽媽住在一起，後來單獨搬去跟爺爺與奶奶一起住。長大結婚後與妻子分居兩地，假日才能見面。請問家豪的家庭型態的變化依序為何？

- (A)大家庭、隔代教養家庭、重組家庭
(B)小家庭、折衷家庭、頂客家庭
(C)小家庭、隔代教養家庭、兩地家庭
(D)三代家庭、隔代教養家庭、單親家庭

25. 《民法》和我們的家庭生活息息相關，下列哪些行為屬於《民法》範疇？

- (A)甲乙 (B)甲丁 (C)乙丙 (D)乙丁

甲、任職滿 6 個月的品瑜，可向公司申請育嬰假
乙、父母疏於照顧年幼的孩子，法院可停止其親權行使
丙、長期失業的兒子，要不到錢就毆打父母，父母決定聲請保護令
丁、年幼時曾被父母遺棄者，可請求法院免除或減輕扶養父母的義務

26. 政府透過修法推動家庭平權，父母與子女的權利義務關係也隨著調整。請問下列有關家庭平權的敘述何者正確？

- (A)夫妻離婚時，子女的親權歸屬，由雙方依夫妻的最佳利益進行協議
(B)依法不論男女都可平等繼承遺產，即使子女對父母惡意棄養，但基於平等原則，該子女仍得繼承遺產
(C)夫妻財產於婚內由丈夫支配，夫妻離婚後財產則歸屬妻子
(D)配偶間、父母與子女之間互負扶養義務

27. 以往《民法》規定子女從父姓、婚後必須住在夫家等，現在《民法》的規定大不同。下表是比較《民法》修法前後所做的表格，請問何項敘述正確？

比較內容	以前的規定	現在的規定
(甲)姓氏	子女應從父姓	子女應從母姓
(乙)住所	妻以夫的住所為住所	夫以妻的住所為住所
(丙)財產	結婚關係中妻名下之財產歸妻所有	妻之財產原則上歸夫所有
(丁)夫妻離婚後未成年子女親權	由父行使之	父母協議或父母協議不成，由法院依子女最佳利益決定

28. 《甲法》自 1998 年制定後歷經 6 次修正，立院本會期進入第 7 次修法，此次修法重點，除同性婚姻伴侶納入家庭成員定義外，最重要的是防杜性影像遭散布的相關保護措施，審查會通過條文明定，為強化被害人性影像的保護措施，增列防止被害人性影像遭散布的相關保護措施為保護令類型。請問《甲法》是指哪部法律？
(A)《民法》 (B)《性別平等工作法》
(C)《家庭暴力防治法》 (D)《刑法》

29. 承上題，有關《甲法》的敘述，何者正確？
(A)保護家庭暴力的加害人
(B)被害人是未成年人，可由其親屬代為聲請保護令
(C)同居男女朋友間的虐待不屬於家暴範圍
(D)警察可直接核發保護令

30. 下列關於「育嬰假」的敘述，何者正確？
(A)規定於《性別平等教育法》
(B)只有女性才可以請育嬰假
(C)員工任職滿 6 個月後，在子女滿 3 歲前皆可申請
(D)育嬰假的制定是為了節制生育率

31. 根據雜誌的報導，台灣已經名列全世界生育率較低的國家之一，此種少子化現象，將會帶來何種影響？(甲)年輕人扶養老人的負擔加重；(乙)勞動人口減少，影響經濟發展；(丙)晚婚及不婚率增加；(丁)女性勞動參與率提升
(A)甲乙 (B)甲丙 (C)乙丁 (D)乙丙

【第 32 至 33 題為題組】


台灣老化速度飛快，於 1993 年邁入「高齡化社會」，並於 2018 年老年人口占總人口比率超過 14% 進入「高齡社會」；國發會預估我國老年人口占總人口比率將於 2025 年進入超高齡社會。除了老年人口數即將超過總人口數的 20% 這驚人比率之外，更關鍵的是，台灣社會老化速度居全球之冠。

32. 依上文請問下列何者非人口老化所造成的影響？
(A)壯年人口負擔加重 (B)退休年齡提早
(C)老人福利支出增加 (D)醫療資源需求增加
33. 由數據顯現未來台灣老人的照護負擔沉重，請問：政府應規劃何種社會福利政策，來解決老人安養與照顧的問題？(甲)開辦老人日間照顧中心(乙)推動長期照顧十年計劃(丙)宣導三代同鄰(丁)設立公立安養中心(戊)設置 113 婦幼保護專線
(A)甲乙丙戊 (B)乙丙戊 (C)乙丁戊 (D)甲乙丙丁

【第 34 至 36 題為題組】

【資料 1.】住在熱蘭遮城附近的原住民，17 世紀透過教會「教冊仔」，學習讀書寫字，並運用在生活記事、記帳…等(如右圖①)

【資料 2.】清乾隆 12 年范咸《重修臺灣府志》〈風俗志〉記錄當時原住民的生活：「習紅毛字者，曰『教冊』，用鵝毛管削尖，注墨水於筒，醮而橫書自左而右，登記符檄、錢穀數目。暇則將鵝管插於頭上，或貯腰間。」



34. 根據上述資料內容，請問當時學習讀書寫字的原住民族是下列哪一族？
(A)凱達格蘭族 (B)和安雅族
(C)噶瑪蘭族 (D)西拉雅族
35. 「這是 Formosa 島，我主的旨意差遣我到這兒來為此居民傳播○○的福音，此島位於北緯二十二度，周圍有一百三十哩，包括許多部落，人口眾多……」-《臺灣略記》；此段記錄是首任駐臺傳教士甘治士所著述，他在臺任期有十年以上，為了方便傳教，用羅馬拼音教導原住民認識文字。請問他所設計的文字名稱是下列哪一個？
(A)新港文字 (B)漢人文字
(C)清朝滿文 (D)馬賽文字

36. 承上題，傳教士一邊學習當地原住民語言，一邊傳播○○的福音，請問○○的福音，是指下列哪一個宗教？
(A)佛教 (B)天主教 (C)基督教 (D)道教

【第 37 至 38 題為題組】

【資料 1.】傳說鄭成功到臺灣時，百姓獻上由荷蘭人自印尼爪哇引進養殖的虱目魚做為貢品，鄭成功當時用濃厚的泉州腔問：「啥乜魚(什麼魚)？」因為「啥乜」聽起來像「虱目」，百姓就以此為魚名，又稱國姓魚。荷蘭人除了引進養殖漁業，還引進高經濟價值的蔬果，例如：蓮霧、番石榴、土芒果…現在還是商品化重要果樹。



圖片來源：FB @1982 小時

【資料 2.】1624 年荷蘭聯合東印度公司(VOC)治理臺灣，因為臺灣優越的地理位置，他們發展國際轉運貿易，並積極招募漢人來臺灣開墾，引進耕牛以提高耕種效率，使得米、糖產量大增，成為荷蘭當局重要財源。

37. 根據上述資料，請問，荷蘭招募漢人來臺開墾，卻因為對漢人管制嚴格，引發下列哪一項反抗事件？
(A)麻豆社之役 (B)郭懷一事件
(C)新港社之役 (D)朱一貴事件
38. 荷蘭人利用漢人開墾臺灣土地，又透過漢人與原住民交易取得梅花鹿皮，導致原住民原本賴以為生的鹿場逐漸消失，被迫改以農耕方式過活。請問：當時鹿皮多出口至哪一個國家？
(A)中國 (B)印尼 (C)澳門 (D)日本

【第 39 題至第 40 題為題組】

39. 請問西元 1626 年西班牙船員在臺灣登陸，此登陸地點西班牙人稱為「Santiago」，自閩南移民臺灣之漢人因其音如「三貂角」，故稱之。請問西班牙人是在【右圖②】哪一地區登陸？
(A)甲 (B)乙 (C)丙 (D)丁



40.

和平島平一路

埋藏地下多年的諸聖教堂，在考古團隊多次比對下，挖掘出訴說小島大歷史的大型考古遺址。

展覽結合虛實體驗，再現橫跨古今的歷史場景。

小島大歷史

上圖是基隆市政府文化局於 2021 年「小島大歷史」-再現聖薩爾瓦多城與挖掘諸聖教堂所製作相關文獻地圖資料。

- 根據上題圖②地圖與本題基隆小島大歷史文獻資料，請問西班牙人來臺灣是要傳播哪一個宗教？
(A)回教 (B)基督教 (C)天主教 (D)佛教

41. 臺灣俗諺：「無某(妻子)、無猴(兒子)、無厝(房子)。」這是描述清帝國早期在臺灣社會出現的人物，而他們是當時社會秩序不安的隱憂，也顯現出清帝國當時對領有臺灣消極之心態。請問他們是下列哪一種人物？
(A)傳教士 (B)高山族 (C)紅毛番 (D)羅漢腳

【第 42 至第 44 題為題組】

(中央社記者 屏東縣 2023 年 11 月 4 日電)

英國愛丁堡大學返還 4 具近 150 年前死於牡丹社事件原住民遺骨。

牡丹鄉公所發布新聞稿指出，牡丹社事件已時隔百餘年(2024 年為 150 周年)，部落歷經了多個外來政權治理，沒有文字記錄的先民，已少有人談論當時的戰事。得知祖先遺骨下落的牡丹社群 ruljigaljig 家頭目、巫師及助手們，準備好祭祀用品、儀式用豬骨、豬肉及全新 4 套傳統服飾，從台灣飛越 1 萬公里距離、跨越 8 個時區抵達西歐。



42. 根據上篇新聞稿是在說明 1874 年日本以琉球漁民在臺遇害為由出兵臺灣，與臺灣排灣族原住民發生激烈戰爭；請問此戰爭之後讓清廷注意到臺灣的重要性，所以派哪一位官員來臺灣加強防務？

- (A)丁日昌 (B)沈葆楨 (C)劉銘傳 (D)邵友濂

43. 下列哪一項建設，不是上題來臺防務官員所負責？

- (A)架設電報系統，方便聯絡臺灣南北
(B)積極開山撫番，加強對原住民管理
(C)廢除渡臺禁令，大陸人民自由遷徙
(D)修築西式炮臺，強化臺灣南部海防

44. 請問日本以「懲辦兇手」，決定出兵之舉動，是因為他們在外力入侵下，朝野上下一心致力改革，國力因此增強，並因此想南向擴張勢力有關。請問日本的改革，史稱「○○○○」？

- (A)大化革新 (B)保民義舉
(C)明治維新 (D)自強運動

【第 45 題至第 46 題為題組】

【資料 1.】清光緒年間，為了保護藩屬國○○與法國發生戰爭，戰事除了在○○當地，還擴及至臺灣海峽，法軍上將孤拔(右圖③)率領遠東艦隊，打敗清朝福建船政水師和南洋水師，先後控制臺灣澎湖和基隆，但是在滬尾之役受挫，又因為士兵染上霍亂疾病，無法達成拿下臺灣全島目的。



【資料 2.】澎湖法軍殉職紀念碑(右圖④)，俗稱萬人塚，是一座位於臺灣澎湖縣馬公市蛇頭山的一座紀念碑，因紀念清法戰爭之殉難法國士兵而設立，也是澎湖縣少數保存清法戰爭相關設施，至今並未列為文化資產。



45. 根據【資料 1.】在清光緒年間為了保護藩屬國而與法國發生清法戰爭，戰火更波及至臺灣，這些戰役被人總稱為「西仔反」；請問，被清朝保護的藩屬國是指哪一個國家？

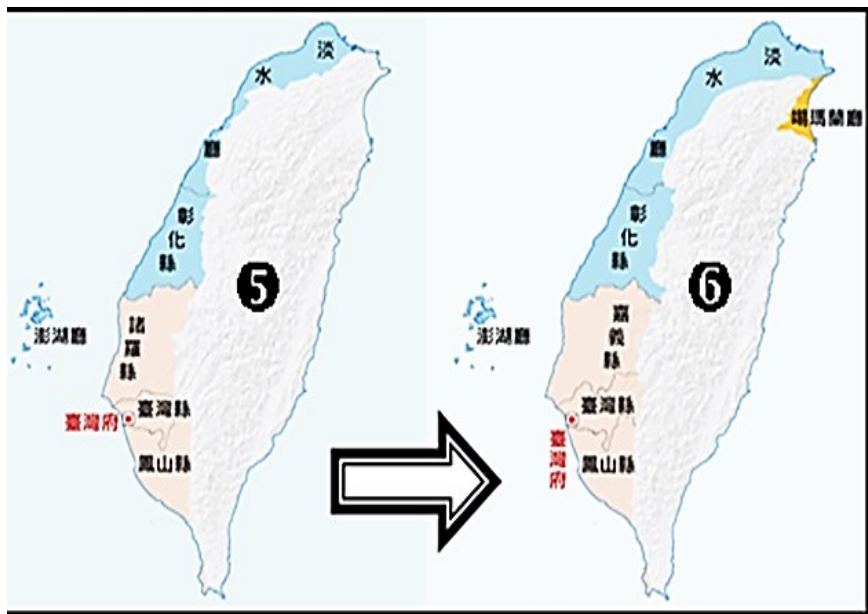
- (A)琉球 (B)越南 (C)朝鮮 (D)日本

46. 因為清法戰爭，使得清廷更加重視對臺灣之經營，在光緒 11 年(西元 1885 年)下令臺灣建省，派劉銘傳來臺擔任第一任巡撫，進行許多現代化建設。請問下列哪一項建設並非劉銘傳時期所進行？

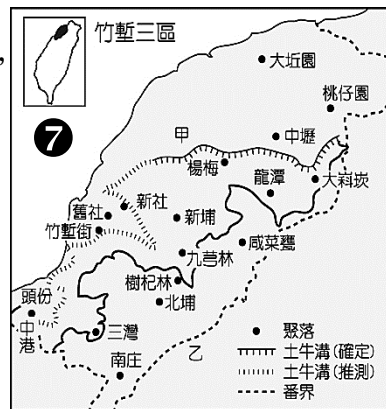
- (A)始興建安平二鯤鯓炮臺 (B)設立郵政總局發行郵票
(C)設立西學堂與電報學堂 (D)重整修基隆二沙灣炮臺

47. 清朝領有臺灣後，雖然漢人來臺人口逐漸增加，但是清廷並未以社會和經濟發展需求來調整行政區的規劃，而是在爆發人民不滿和外力入侵的壓力下，才陸續增設、調整，並加強地方治安與國防。請問下列台灣地圖由⑤→圖⑥，是因為發生了哪些事情？

- (A)朱一貴事件、漢人侵擾(B)戴潮春事件、倭寇侵擾
(C)林爽文事件、西人侵擾(D)林爽文事件、海盜侵擾



48. 右圖⑦是竹塹三區地圖，圖上有劃出許多不同線條標示，這是清廷為了地方秩序長穩久安所設置規劃，也為了防止原住民族失去土地，但是當時漢人移民陸續來臺，土地越來越不敷分配。請問會有這種情況產生，是清廷實施哪一種政策所造成？



- (A)臺灣棄留
(B)渡臺禁令
(C)劃界封山
(D)開港通商

49. 英屬外商「怡和洋行」自清朝就已經在臺灣設立公司，至今在臺灣還有旗下著名餐飲品牌-Pizza Hut(必勝客)、KFC(肯德基)。請問「怡和洋行」可以在臺灣設立貿易據點的原因是下列哪一項？

- (A)臺灣開港通商 (B)臺灣開山撫番
(C)臺灣保民義舉 (D)臺灣官逼民反

50. (甲)大肚王國被鄭氏鎮壓 (乙)朱一貴事件
(丙)郭懷一事件 (丁)增設臺北府
請按照時間先後順序排列以上臺灣歷史事件。

- (A)甲乙丙丁 (B)丙甲乙丁
(C)乙丁甲丙 (D)丁甲丙乙

新北市立新莊國民中學 112 學年度第 1 學期第 2 次段考 7 年級社會領域試題
解答

1	2	3	4	5	6	7	8	9	10
A	C	B	C	D	A	A	B	B	D
11	12	13	14	15	16	17	18	19	20
B	C	D	C	A	D	D	B	C	A
21	22	23	24	25	26	27	28	29	30
A	B	A	C	D	D	D	C	B	C
31	32	33	34	35	36	37	38	39	40
A	B	D	D	A	C	B	D	A	C
41	42	43	44	45	46	47	48	49	50
D	B	A	C	B	A	D	C	A	B