

※ 選擇題：本試卷共 50 題，每題 2 分，總分為 100 分。
 每一題均為單選題，請選出最適當答案。
 ※ 請用 2B 鉛筆在答案卡上相應的位置畫記。

- 七年忠班召開班會時的對話如下：
 主席：「班服的顏色根據投票結果為：紅色 7 票、藍色 10 票、灰色 10 票。」
 小哲：「剛剛同學聊天講話的聲音太大，我都聽不清楚討論的內容。」
 阿莉：「班服顏色表決完之後，大家可以討論班遊的地點嗎？」
 根據我國《會議規範》的規定，下列敘述何者正確？
 (A)主席在開會時的任務包含宣布會議名稱與開會目的
 (B)主席應以抽籤方式來處理上述表決結果產生的問題
 (C)小哲所說的情況可以提出秩序問題請主席處理
 (D)阿莉可以提出權宜問題使她的提議列入討論

- 小陽在電視上看到一則新聞報導，如右圖所示，根據圖中內容判斷，有關校方所提到的處理程序，下列敘述何者正確？
 (A)受害學生或其父母要向教務處提出申訴
 (B)校方知悉後要召開性別平等教育委員會
 (C)校方調查事件結束後要向警察機關彙報
 (D)校方依據《性騷擾防治法》處理此事件

近日新北市某高中發生一起在校學生遭同學性騷擾的事件，校方表示目前已經進入處理程序……

- 恩恩在網路上看到一篇專題報導，如下圖所示，根據圖中內容判斷，有關該部落對於原住民族重要性的描述，何者有誤？

上帝的部落—司馬庫斯
 位在新竹縣尖石鄉的司馬庫斯部落，族人以虔誠的基督教信仰為主，將部落建設為符合上帝所應許之地，故又稱為「上帝的部落」。由於擁有臺灣特有的紅檜神木群的優勢，帶動此地的觀光發展，但司馬庫斯族人依然仰賴、堅持長老所維護的精神，讓族人珍惜呵護自然環境與土地，不願因為過度商業化的建設方式，造成泰雅族文化、語言的式微。
 族人透過部落會議確認了「共營制度」，由居民共同分擔工作、共用土地、均分所得利益，同時享有婚育、醫療、教育等各方面福利津貼；部落也成立泰雅爾學校，自編文化繪本、開設語言及手工藝課程。

- 小欣想在學校創設電競社團，並列出三項實施步驟（如下表），依據學生自治的原則，其先後順序依序為何？

甲	找到一定人數的社員後向學校申請成立
乙	訂定電競社團的組織章程
丙	舉辦社長選舉的投票活動

- (A)甲→乙→丙
 (B)乙→甲→丙
 (C)甲→丙→乙
 (D)乙→丙→甲

- 大勇在準備公民課的上臺報告，主題為「如何奠定原住民族自治的基礎」，他在原住民族社群網站上蒐集資料，下列哪一個網頁所提供的資訊較符合他的需要？
 (A)網頁一：召開部落會議的計畫事項
 (B)網頁二：族語保存與傳承推廣活動
 (C)網頁三：政府土地開發與侵占爭議
 (D)網頁四：時歲祭儀休假辦法的規定
- 八年孝班的班會課時間，全班正踴躍地討論隔宿露營的舞蹈歌曲…
 阿天：我們來討論聖誕節的班級活動啦！(甲)
 阿兵：主席，怎麼還沒表決，就決定是這首歌曲呢？(乙)
 請問：針對以上兩人的發言，(甲)、(乙)依序要提出什麼問題來做正確的處理？
 (A)權宜問題、秩序問題 (B)秩序問題、權宜問題
 (C)權宜問題、權宜問題 (D)秩序問題、秩序問題
- 臺東縣政府策劃了「南方以南—南迴藝術計畫」受到藝術界相當高的肯定，也讓南迴沿途自然風光與部落文化被更多人注意。原住民策展人彼勇·伊斯瑪哈單表示：過去很多人對於南迴的想像，大多是地理上的框架，今年的藝術季是希望創造流動與對話的場域，象徵藝術跨越族群和突破邊境的框限。臺東縣政府也與金崙部落、大鳥部落、土坂部落合作推出活動，邀請藝術家分享創作經驗、傳統手工藝 DIY、部落美食、部落美聲及導覽等深度體驗，讓民眾更加認識原住民族的文化與故事。根據上文內容判斷，其主要是透過何種方式推廣部落文化？
 (A)召開部落會議，共同決定部落事務
 (B)藉由政府的計畫，與部落共同努力
 (C)發起抗爭活動，積極爭取部落權益
 (D)由族人發掘部落特色，發展部落經濟
- 以下是召開班會時的職務及工作內容之配對，請問哪些配對有誤？
 甲、主席：賦予與會人員發言地位。
 乙、司儀：宣達會議名稱與開會目的。
 丙、紀錄：書寫報告事宜與議決要點。
 丁、導師：裁決權宜問題與秩序問題。
 (A)甲丙 (B)甲丁 (C)乙丙 (D)乙丁
- 以下是兩位族人聊起參加「原住民族部落活力計畫」的實施成效，請問他們所參加的是計畫中的哪一個項目？
 甲：我跟其他人把部落種植過剩的花卉做成加工品販售，增加一筆收入。
 乙：我改良了栽種技術，農作物產量大大增加，開始接受買家的訂單。
 (A)復振部落傳統文化，凝聚文化主題認同
 (B)營造民族生活環境，建構部落安全場域
 (C)回復共工共耕文化，減少貨幣依賴
 (D)發展部落經濟產業，促進部落就業機會
- 金車文教基金會所進行的「青少年友善校園問卷調查」，顯示校園霸凌現象仍嚴重，調查指出青少年認為同學太白目是造成被霸凌的主要因素(76.5%)、其次是因意見不合(50.4%)；而霸凌的方式通常都會以言語攻擊(80.7%)及排擠孤立的方式(53.5%)。網路霸凌現象逐年上升，從 2014 年的 19.9%，提高至 2018 年的 31.2%。
 請問：該基金會所調查的議題，主要會損害學生在校園中哪一種權利？
 (A)隱私權 (B)學習權 (C)身體自主權 (D)健康權

11. 莫拉克風災後，導致由大武壠族人居住的小林村遭覆滅，其生活與文化的保存也面臨挑戰。2015 年，日光小林協會成立，開始進行與政府合作的部落營造行動。

◎小林大滿舞團：期許透過歌舞達到藝術治療與心靈療癒，舞團更肩負文化復興的重責大任，努力在文獻與耆老的口述歷史中，慢慢將大武壠族的文化找回來。

◎傳承古老技藝：小林村人利用農作物編織手環與戒指，每一株植物的運用，都包含著大武壠族祖先的心血與智慧。

以上日光小林協會的部落營造活動所傳達的理念不包括下列何者？

- (A) 塑造族人的身分與文化認同
(B) 爭取原住民族傳統領域的保存
(C) 重建傳統部落文化與土地連結
(D) 透過部落營造再興部落文化

12. 某班級正在召開班會，全班必須選出校慶園遊會時販賣的商品，主席依照同學先後提議的項目，依序由上而下寫在黑板上（如右圖所示）。此時，一隻蜜蜂飛進教室，同學們開始尖叫，現場秩序混亂，干擾影響到會議的進行…

提案
#冰淇淋
#滷味
#珍珠奶茶
#鬆餅

下列相關敘述，何者有誤？

- (A) 表決的正確順序要由冰淇淋開始
(B) 表決的結果可以依據多數決的原則來決定
(C) 蜜蜂飛進教室的偶發事件，可以提出秩序問題來解決
(D) 若最高票數為滷味與鬆餅時，主席可以加入投票決定

13. 依據我國《會議規範》的規定，召開班會的流程有以下幾個步驟，請問正確的流程排序為何？

甲、討論事項 乙、選出主席、司儀、紀錄
丙、宣布開會 丁、臨時動議 戊、報告事項

- (A) 丙→乙→甲→戊→丁
(B) 乙→丙→戊→甲→丁
(C) 丙→乙→戊→丁→甲
(D) 乙→丙→甲→丁→戊

14. 公民課，以下四位同學針對原住民族進行報告，請問有哪幾位同學的報告是正確的？

阿新：原住民族部落的起源，大致上都是來自同一祖先、血緣相近的成員所組成。

小莊：目前臺灣原住民族共有 16 族，但各族部落的領袖名稱與產生方式並無差異。

大國：部落是原住民族的生活空間與信仰中心，傳統領域的保護是部落的重要議題。

中中：部落舉辦的歲時祭儀是重要的文化傳承活動，族人可依據法律申請放假一日。

- (A) 阿新、大國、中中 (B) 阿新、小莊、大國
(C) 阿新、小莊、中中 (D) 小莊、大國、中中

15. 阿佑班上有一位長相斯文、舉止儒雅的男生，但班上調皮搗蛋的同學常常取笑他的行為，甚至對他毛手毛腳，具有正義感的阿佑決定以行動幫助這名同學，請問下列哪一項敘述是正確？


- (A) 僅能由這名受害同學的家長向學校提出申訴
(B) 此事件屬於學生間的紛爭，可以交由學生自治會調查
(C) 學校要依據《性別平等教育法》的規定處理此事件
(D) 學校會召開「學生申訴評議委員會」進行調查此事件

16. 「學生自治」是指讓學生在遵守社會規範與符合校規的情況下，自行管理、參與學校的公共事務；依此判斷，下列何者符合學生自治的範疇？

- 甲、參與校務會議提案校規修訂
乙、決定年級性的校外教學地點
丙、製作學生個人的讀書計畫表
丁、向校方提議增設韓語學習社

- (A) 甲乙丙 (B) 乙丙丁 (C) 甲丙丁 (D) 甲乙丁

17. 附圖一 是清代年間，臺灣原住民幫忙官員渡溪的景象，因為協助渡溪是當時政府指派原住民的勞役之一；此外，原住民還要負責開路、運糧等工作，所以在雍正年間就曾發生中部地區平埔族群不堪官吏不當差遣，憤而反抗事件，請問是指下列哪一事件？



(A) 新港社事件 (B) 郭懷一抗爭事件
(C) 大甲西社事件 (D) 大肚王抗爭事件

18. 下表是臺灣在不同時期的主要進、出口貨物，請依照歷史時代先後順序排列。

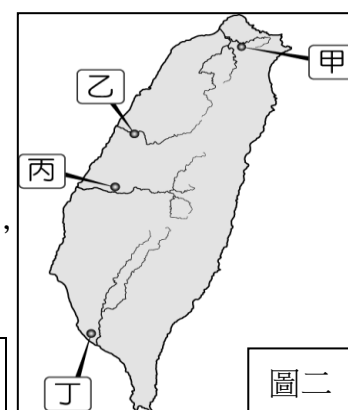
時間	進口貨物	出口貨物
甲	紡織品、鴉片	茶葉、蔗糖、樟腦
乙	白銀、瓷器、香料	蔗糖、鹿皮、絲綢
丙	軍用物資、布料	蔗糖、鹿皮

- (A) 乙丙甲 (B) 甲乙丙 (C) 丙乙甲 (D) 甲丙乙

【第 19 至 20 題為題組】請參照圖二 清領時期臺灣水圳分布圖：

19. 因為近幾年 COVID-19 疫情關係，國內睽違已久的馬拉松比賽陸續恢復。下述是彰化二水著名國際馬拉松於今年舉辦前的宣傳，希望繼續透過此項活動，讓民眾感受先民開墾水圳辛勞，並結合當地觀光特色，提升當地商機與觀光人潮。請問此活動與圖二哪一條水圳有關？

文化部網站-節慶活動
2022「二水國際跑水節」
時間：2022.11.6
地點：彰化縣二水鄉
主軸：文化 樂活
活動性質：全國級
主辦單位：彰化縣政府文化局



- (A) 甲 (B) 乙 (C) 丙 (D) 丁

20. 來臺灣漢人曾和原住民一起合作，用割地換水方式開挖水圳，而此漢人為了雙方合作順利，還娶了當地平埔族頭目的女兒為妻。此水圳完工後，成為清領時期最重要水圳，更影響此區巴宰族遷移至後山。請問這是指圖二中的哪一條水圳？

- (A) 甲 (B) 乙 (C) 丙 (D) 丁

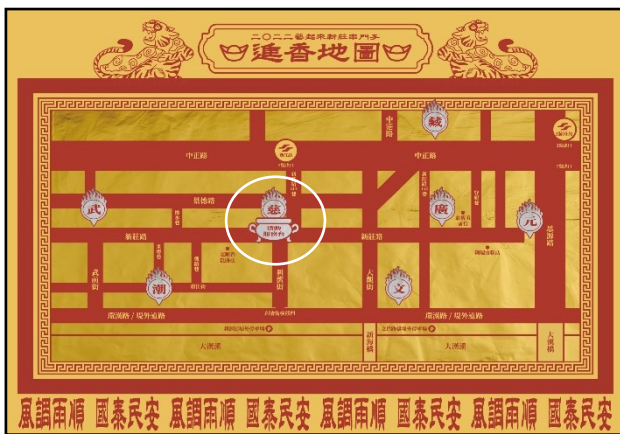
繼續作答下張試卷

21. 近幾年迪化街一段有間名餐廳-「同安樂」，前身是陳悅記茶行；「陳悅記」並非人名，而是陳家家譜的公業統號，陳老闆祖先來自福建泉州同安，故用「同安樂」來命名；又因為陳家曾出了三位舉人，所以位在大龍峒祖宅也被稱為「老師府」，更在 2018 年被指定為國定古蹟。其祖宅祭祀來臺第一位祖先—陳文瀾。請問「陳悅記」是哪一種型態的宗族組織？
- (A)唐山祖 (B)恩主公 (C)開臺祖 (D)媽祖

22.

此圖是 2022 藝起來新莊串門子—進香地圖。

清領時期，大漢溪旁的新莊移民越來越多，三百多年前，不同族群陸續聚集於此地開墾，逐漸成為北部地區商業重心，短短一條街道，因為族群的不同，開始建立起各自信仰的廟宇，如今香火綿延，繼續傳承先民的開拓精神。

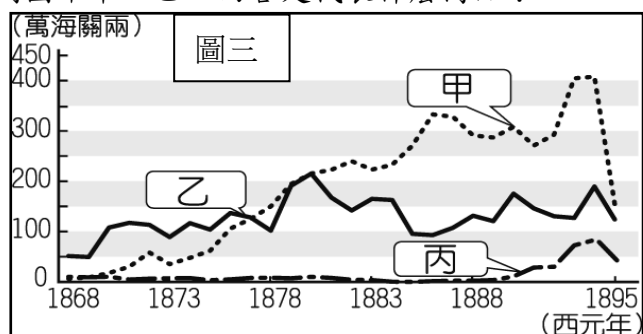


由於新莊位於南北交通要衝與貨物集散中心，曾有「一府二鹿三新莊」之美譽，居民在移民生活穩定富裕之虞，為了感恩海神媽祖的庇佑，擴建著名的「慈祐宮」，成為守護眾生最溫柔堅定的場所。請問，和媽祖一樣成為漢人移民共同信仰的是下列哪一尊神明？

- (A)三山國王 (B)開漳聖王 (C)清水祖師 (D)福德正神

【第 23 至 24 題為題組】請參照圖三回答問題：

23. 圖三是臺灣在某一時期三種重要出口商品總值比較圖。請問圖中甲、乙、丙各是代表什麼商品？



- (A)甲：茶葉、乙：樟腦、丙：蔗糖
(B)甲：樟腦、乙：蔗糖、丙：茶葉
(C)甲：茶葉、乙：蔗糖、丙：樟腦
(D)甲：蔗糖、乙：茶葉、丙：樟腦
24. 請問甲商品主要在哪裡加工後才能由哪一個港口外銷海外？
- (A)大嵵崁；打狗港 (B)大稻埕；安平港
(C)大嵵崁；鹿港 (D)大稻埕；淡水港

25.

2022.8.27 聯合報/花蓮即時報導

大港口事件 145 周年 花蓮豐濱鄉公所追思正名 Cepo'戰役
花蓮縣豐濱鄉港口部落阿美族人，在西元 1877 年曾遭清軍攻打，造成超過上百族人犧牲。今年是第 145 周年，鄉公所以原住民觀點重新詮釋，正名為「Cepo'戰役」；今天族人一起重回當時戰事發生地-靜浦國小校區擴大追思，希望後代族人勿忘這段抵抗境外勢力的英勇歷史。

請問上述花蓮原住民遭遇漢人攻擊，是因為當時清朝政府的哪一項政策所造成？

- (A)開墾水圳 (B)開山撫番 (C)開港通商 (D)發展國貿

26. 台南市長榮中學創立於 1885 年（光緒 11 年），是由英國基督教長老教會所創辦臺灣第一所中學，當時校名「長老教中學校」，創辦人為英國傳教士余饒理（George Ede），也是首任校長。請問基督教長老教會可以來臺灣傳教，主要是下列哪一事件的影響？

- (A)清法戰爭後開墾番界 (B)清法戰爭後開港通商
(C)英法聯軍後合資開墾 (D)英法聯軍後開港通商

27. 附圖是小蘭和小葵在複習討論歷史課本內容，他們對話中提到，臺南原本是全臺經濟重心，但是到 19 世紀後期卻發生變化，請問是因為北部所生產的哪些商品影響？

- (A)茶葉、樟腦 (B)稻米、蔗糖
(C)鹿皮、樟腦 (D)茶葉、香蕉

自 17 世紀以來，臺南原本是全臺經濟的重心，但到了 19 世紀卻發生了變化。

因為那時幫臺灣出口的主要商品多是在北部生產。

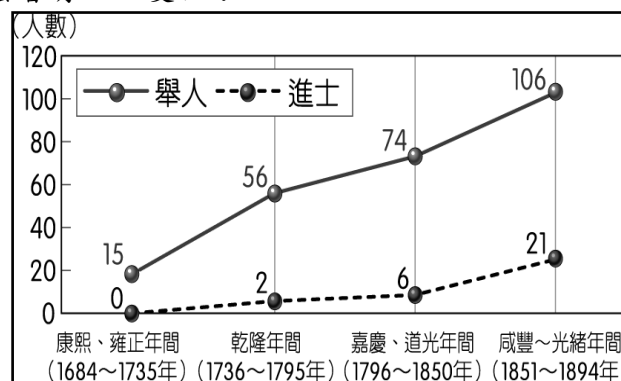


28. 下列臺灣俗諺，請問哪兩項是在說明清代移墾社會因為爭奪土地、水源、商業利益或是因為語言或祖籍不同，時常聚眾滋事而出現分類械鬥？

- (A)甲乙 (B)丙丁 (C)甲丁 (D)乙丙

- (甲)番兒至老無妻
(乙)仙拚仙，拚死猴齊天
(丙)輸人不輸陣，輸陣歹看面
(丁)唐山過臺灣，心肝結歸丸

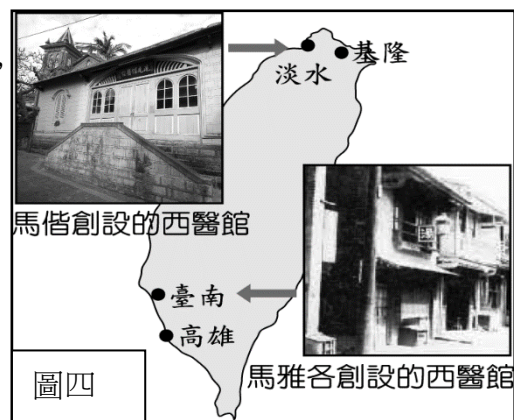
29. 附圖是清代臺灣舉人、進士人數統計圖，從圖中通過科舉考試人數的提升，可以得知臺灣文風開始轉變。請問，為什麼會有如此變化？



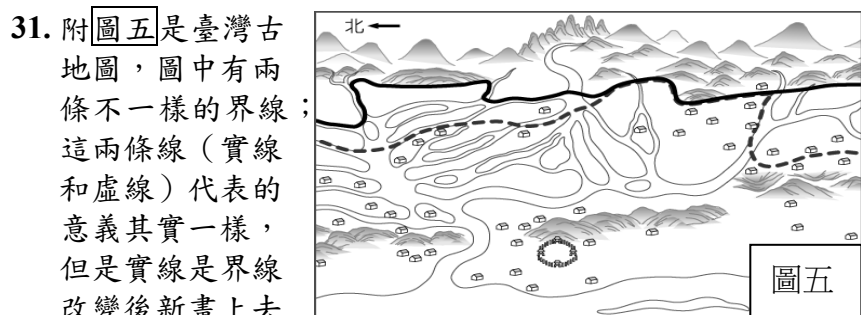
- (A)鄭用錫開辦書院教育子弟
(B)生活經濟改善，文風日盛
(C)沈光文來台從事文教活動
(D)渡台禁令解除，科舉興盛

30. 附圖四是小杰在歷史課報告時所使用的圖片，請問依照此圖片內容，小杰報告的主題應該是下列哪一選項最適合？

- (A)臺灣開港後西方文化再傳入
(B)臺灣建省後劉銘傳的再建設
(C)臺灣與歐洲世界第一次接觸
(D)臺灣醫療發展由南往北移動



背面尚有試題



請問這兩條界線的改變，是因為下列哪一項情況？

- (A)高山族群獵場往山區擴張
(B)平埔族群獵場往山區擴張
(C)漢番界線逐漸向山區移動
(D)甘蔗種植從平原往丘陵移

32. 圖六

圖六

- (A)此場所是位於東部的深山區
(B)此場所是清官方設立的社學
(C)孩童與教師用平埔族語交談
(D)此場所是清官方設立的書院

33. 清帝國時期，臺灣政治逐漸穩定，經濟因為商業發展興盛，所以出現「郊」和「洋行」商業組織。請問關於「郊」和「洋行」商業組織的敘述，下列哪一項正確？

- (A)「洋行」：臺灣從兩岸貿易走向國際貿易
(B)「郊」：在臺灣開港通商後出現
(C)「洋行」：臺灣與中國兩岸貿易組織
(D)「郊」：以貿易商品分泉郊、廈郊

【第 34 至 36 題為題組】

2021 年上半年，台灣遭逢自 1911 年有紀錄以來最低的降雨量，可謂「百年大旱」。在這波大旱中，台灣河川流域面積最大、豐枯比卻最為極端的□□地區反而災情相對緩和，主要原因是得到「伏流水」的支援。



何謂伏流水？(如示意圖)河床有如一塊海綿，第一層是粗顆粒組成的含水層，飽含水分，再下面是黏土組成的阻水層，伏流水就是阻水層以上，和河水相通的這層含水層。簡單說明，河水是地表水，可是到了旱季，就算河床裸露，依然在河床下流動的水，即是「伏流水」。

相較於一般地下水，伏流水具「流動性」且「有直接來自河川的補注」，因此我們在取用伏流水時只要有適當的監測就不會有取用一般地下水時常見的※※的疑慮。此外，河川表面的水流流速較快，較底層的伏流水則流速相對較慢，因此具有取水期較長的優點。請依據上文回答 34~36 題：

34. 伏流水屬於水循環的哪一階段？

- (A)凝結 (B)蒸發 (C)降水 (D)逕流

35. 文中所提到的※※的疑慮是指下列何者？

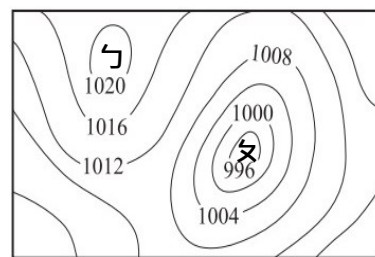
- (A)地層下陷 (B)降水不足 (C)河川汙染 (D)泥沙淤積

36. 此次旱災期間受惠於伏流水的□□地區應為下列何地？

- (A)中彰 (B)竹苗 (C)高屏 (D)嘉南

37. 右圖為北半球某地地表的等壓線分布圖，上方為北方，請問下列敘述何者正確？

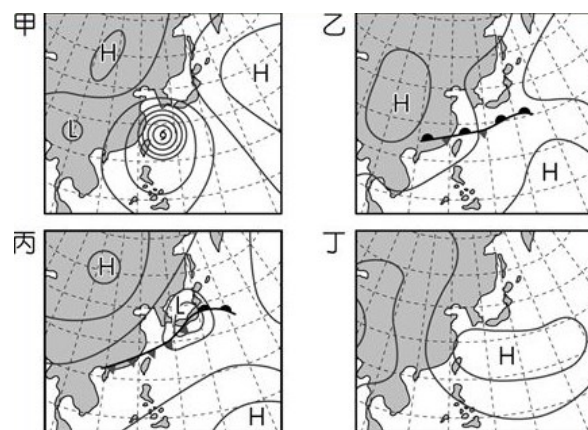
- (A)ㄅ為低氣壓籠罩
(B)數值單位為 hPa
(C)此時吹東南風
(D)ㄆ的氣溫較低



38. 台灣整體年均日照接近 1,800 小時，太陽光電發展條件良好。政府目標於 2025 年，太陽光電累計安裝容量達 2,000 萬瓩，其中屋頂型太陽光電目標 800 萬瓩、地面型太陽光電 1,200 萬瓩。請問政府所設定的光電安裝容量目標在下列哪一縣市所占比應為最低？

- (A)花蓮 (B)彰化 (C)台南 (D)屏東

39. 在氣象預報中出現的地面天氣圖，是形式最簡單的天氣圖，圖上僅有



氣象預報新聞中出現下列哪一張地面天氣圖時，代表台灣接下來幾天天氣晴朗穩定，出門不用帶傘？

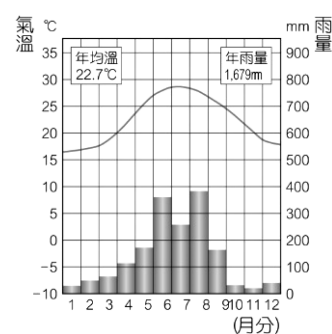
- (A)甲 (B)乙 (C)丙 (D)丁

40. 嘉嘉某日在電視上看到氣象預報人員為防心血管疾病患者因劇烈氣溫變化猝死，特別提醒下列事項：【起床勿急促離開被窩】、【避免清晨時外出運動】、【不宜單獨爬山及泡湯】，請問以上最可能是哪一天的氣象預報內容？

- (A)10月20日 (B)1月30日
(C)3月31日 (D)8月15日

41. 右圖為某地的氣候圖，依圖判斷關於此地的敘述下列何者正確？

- (A)位於南半球
(B)海拔 3000 公尺
(C)年溫差約 13 度
(D)冬季位於迎風坡

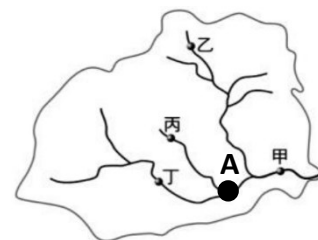


42. 台灣雖然具有世界平均 2.6 倍的豐沛降雨量，同時卻也是世界名列第 19 位缺水地區。請問造成台灣水資源不足的主因為何？(甲)人口密度高 (乙)降水空間分布平均 (丙)降水時間分布不均 (丁)河川長，流速快 (戊)地形高低落差大 (己)缺乏地下水

- (A)甲乙丁 (B)甲丙戊 (C)丙丁戊 (D)丙戊己

43. 右圖為某河川水系簡圖，A 處代表水庫的位置。請問：下列哪一敘述正確？

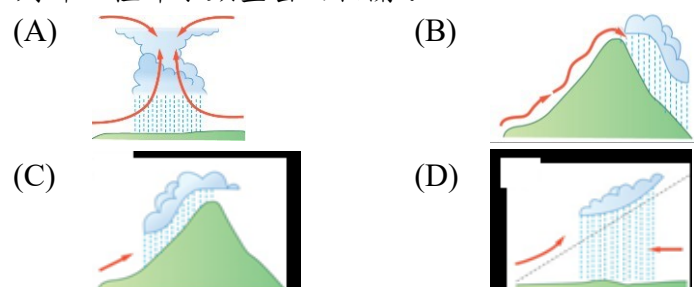
- (A)甲的堆積作用最旺盛
(B)丁的集水區最大
(C)乙的流速最慢
(D)丙、丁皆位於 A 水庫的流域範圍內



44. 天人菊因耐旱、抗風，適合在年降水量僅約 1000mm 的澎湖生長，是澎湖的縣花，所以澎湖被稱為「菊島」。請問造成澎湖年降水量少的主因為何？

(A)地勢低平難抬升水氣
(B)位於東北季風背風側
(C)夏季對流雨不興盛
(D)島嶼面積小蒸發量少

45. 全臺灣降雨量最多的地方在哪裡？無論是過去的常勝軍新北、基隆交界的「火燒寮」，還是今年雨量皆破萬，一起締造新紀錄的新北市萬里「大坪」和宜蘭縣南澳「西帽山」，這些地方能夠成為臺灣「雨王」主要與下列哪一種降水類型密切相關？

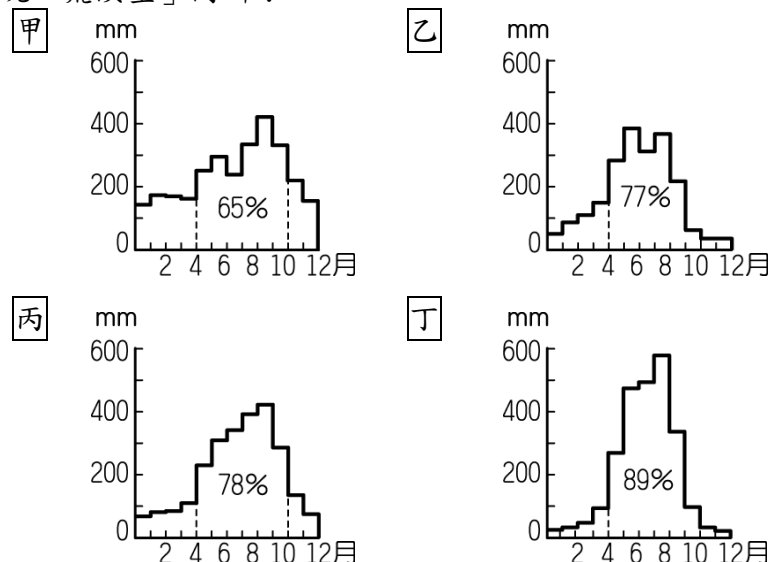


46. 右表為根據中央氣象局發布的七月月均溫統計，從圖中溫度可以發現臺北的七月平均氣溫高於其他地區。除了臺北是建築物密集的都會區，較易吸熱的效應影響外，還與下列哪一項因素關係密切？

測站	七月月均溫
臺北	29.1°C
宜蘭	28.4°C
嘉義	28.0°C
高雄	28.3°C

(A)緯度位置偏低 (B)熱帶低壓籠罩
(C)夏季焚風吹拂 (D)位於盆地地形

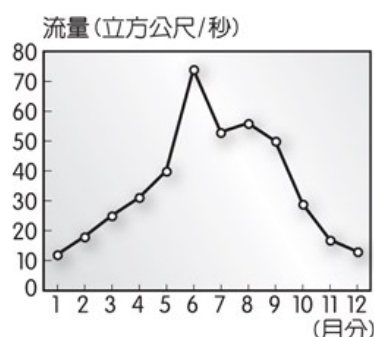
47. 下列為臺灣四區的降水季節分布圖，請問何地最可能出現「荒溪型」河川？



(A)甲 (B)乙 (C)丙 (D)丁

48. 右圖為濁水溪某年的流量變化圖，請問圖中水位最高時的主要降雨型態有何特色？

(A)冷空氣爬升
(B)歷時較短暫
(C)降水範圍大
(D)常伴隨雷電



49. 當某地區因氣流過山沉降而使氣溫達 36°C 以上且相對溼度低於 50%時，視為有「焚風」現象。焚風常常造成農作物受損，尤其臺東的釋迦、香蕉及咖啡常常為農損大宗。請問臺東因焚風而產生農損的情形通常在哪一個月份較容易發生？

(A)10 月 (B)7 月 (C)4 月 (D)1 月

50. 下列關於臺灣河川特色的敘述，何者正確？

(A)高屏溪為台灣最長河川
(B)淡水河流量較濁水溪穩定
(C)因山脈偏東，河川多東西分流
(D)水庫多分布於北部河川

試題結束

新北市立新莊國民中學 111 學年度第 1 學期第 3 次段考 7 年級社會領域試題
解答

1	2	3	4	5	6	7	8	9	10
A	B	A	A	A	D	B	D	D	C
11	12	13	14	15	16	17	18	19	20
B	C	B	A	C	D	C	A	C	B
21	22	23	24	25	26	27	28	29	30
C	D	C	D	B	D	A	D	B	A
31	32	33	34	35	36	37	38	39	40
C	B	A	D	A	C	B	A	D	B
41	42	43	44	45	46	47	48	49	50
C	B	A	A	C	D	D	C	B	B