

新北市立新莊國民中學 109 學年度第 2 學期第 2 次段考 7 年級社會領域試題卷

班級 座號 姓名

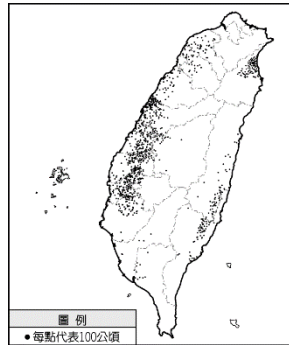
※ 選擇題：本試卷共 50 題，每題 2 分，總分為 100 分。
每一題均為單選題，請選出最適當答案。

※ 請用 2B 鉛筆在答案卡上相應的位置畫記。

- 下列何者的職業屬於第二級產業？
(A)種花生的農夫 (B)花生罐頭工廠的工人
(C)貨車司機 (D)大賣場店員

- 右圖為臺灣某種農作物的種植分布圖，該作物最有可能為？

(A)茶
(B)甘蔗
(C)水稻
(D)樟腦



- 自捷運動物園站可搭貓空纜車上山，一路飽覽丘陵地區的綠意後即可輕鬆抵達貓空站。何者應為貓空地區最有名的農產品？

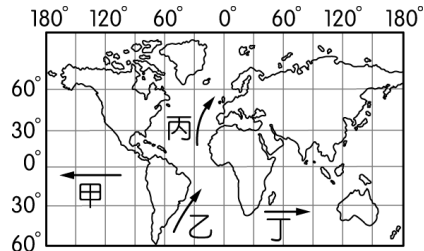
(A)鳳梨 (B)水稻 (C)甘蔗 (D)茶

- 下列農作物中，何者為糧食作物？

(A)小麥 (B)茶 (C)甘蔗 (D)菊花

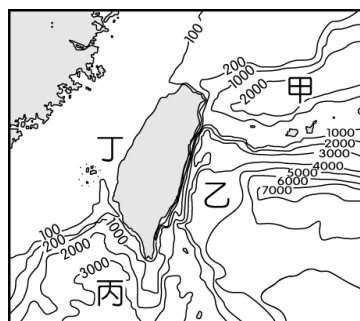
- 參考右圖，何者為寒流？

(A)甲
(B)乙
(C)丙
(D)丁



- 右圖為臺灣附近海域等深線圖，單位為公尺，何處屬於大陸棚？

(A)甲
(B)乙
(C)丙
(D)丁



- 為何臺灣的畜牧業以欄牧方式為主？

(A)地價低廉 (B)地狹人稠
(C)動物習性 (D)專業化程度低

- 下列何者不是臺灣農業的發展特徵？

(A)粗放農業 (B)單位面積產量高
(C)產品多樣 (D)農產品商品化

- 下列產業類別中，近年臺灣產值最高者為？

(A)重工業 (B)輕工業
(C)高科技工業 (D)農業

- 下列何種工廠應為原料區位？

(A)煉鋁廠 (B)麵包廠 (C)糖廠 (D)汽水廠

- 運動鞋製造廠多位於中國或東南亞國家，與何種工業區位條件最有關？

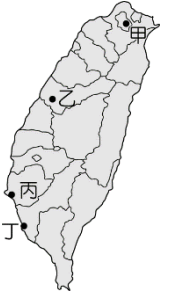
(A)原料 (B)動力 (C)勞工 (D)市場

- 民國 50 年代政府在沿海港口設立加工出口區，當時的出口貨物多以何種工業產品為主？

(A)輕工業 (B)重工業
(C)高科技工業 (D)資訊工業

- 民國 60 年代政府扶植鋼鐵、石化等重工業，這些工業多集中於右圖中的何處？

(A)甲
(B)乙
(C)丙
(D)丁



- 承上題，此種集中的趨勢與何工業區位條件最有關？

(A)原料 (B)交通 (C)市場 (D)動力

- 下列國家或地區中，何者是臺灣進出口值比例最高的貿易對象？

(A)中國 (B)美國 (C)歐洲 (D)南韓

- 下列國家或地區中，何者是臺灣主要的貿易入超國？

(A)中國 (B)美國 (C)東協 (D)日本

- 近年來，各種志願結社的團體紛紛成立，透過團體的運作，可以提供參與公共事務的管道。下列關於志願結社的敘述何者正確？

(A)人民依自由意願組成或參與
(B)政府絕不會限制人民成立團體
(C)公民才有資格參與志願結社的團體
(D)個人不可以同時參加數個團體

- 請問下列何者對媒體的態度最為正確？

(A)媒體發布的所有資訊都是錯誤的，我們不應直接採信
(B)網路媒體更新消息十分快速，故能全盤接受網路媒體的資訊
(C)國際媒體的資訊一定比當地媒體的訊息更為正確，不須經過查證
(D)對於媒體發布的消息或新聞，我們應該要先分析，並經過審慎思考

- 團體是由兩個以上的個人所組成，成員彼此有經常性的互動與溝通，以及一定程度的認同感，通常擁有共同的目標。下列何者可以稱為團體？

(A)菜市場買菜的群眾
(B)每星期固定聚會分享心得的社區讀書會
(C)搭同一班高鐵列車從台北到高雄的旅客
(D)五星級飯店裡的住房客人

- 在現代，參與團體事務是普遍且常見的社會現象。就國中時期的青少年而言，對於參與團體事務應該抱持下列何種正確觀念？

(A)學生應以考取理想學校為本分，不應該參與校外的任何活動
(B)國中生可以多參與學校、社區或志願結社所舉辦的各種活動
(C)基於法律規定，國中生因年齡還小，只能選擇參加一個團體
(D)進入社會後，個人才須培養服務社會的精神，不須從小培養

- 兒童福利聯盟非以營利為目標，自成立以來一直致力於兒童福利工作的推展。根據上述內容判斷，兒童福利聯盟主要是何種取向的團體？

(A)增進人際關係 (B)滿足情感需求
(C)建立共同興趣 (D)達成工作目標

背面尚有試題

新北市立新莊國民中學 109 學年度第 2 學期第 2 次段考 7 年級社會領域試題卷

班級 座號 姓名

22. 有媒體針對「為了防疫需要，你可以接受你的權益被限制嗎？」這個問題進行線上調查，其中一項問題是「除了禁止學生出國，我覺得應該擴大到每個人都不可以出國」，調查結果贊成的佔 43%，反對的佔 36%，不確定的佔 21%。關於調查結果的相關敘述，下列何者正確？
(A)公共意見具有差異性 (B)政府應忽視公共意見
(C)此為透過遊行表達意見 (D)民意僅有一種聲音
23. 民主社會，多數的老百姓都想過平穩安樂的生活，所以當民眾決定走上街頭抗議政府施政，政府官員們應該先想想是什麼原因造成他們做出這樣的選擇。上述的內容應與下列何項敘述最相關？
(A)國家缺乏強而有力的社會規範
(B)弱勢群體權益受到政府刻意忽視
(C)以暴制暴可以有效表達公共意見
(D)違反民意的政策可能引發民眾反彈
24. 電子菸在網路、夜市皆可容易取得，成為未成年吸菸的「入門菸」。董氏基金會指出，電子菸明明是菸，卻定位模糊，青少年容易受誤導，呼籲政府將電子菸納入《菸害防制法》，明文管制買方行為。日前有民眾在國發會的公共政策網路參與平臺，提案要求「合法開放電子菸」。請問這是以何種方式來向政府表達對公共事務的意見？
(A)以陳情的方式向政府表達民意
(B)透過正式管道，影響政府決策
(C)透過書面方式向政府提出建議
(D)以民意調查來收集民眾的意見
25. 當媒體曝光某項社會問題，會引發人民的討論，此時民眾可以運用何種權利，透過媒體表達對公共議題的看法？
(A)新聞自主權 (B)隱私權
(C)媒體接近使用權 (D)平等權
26. 在不影響新聞自由的情況下，我國哪一個政府單位可依法要求媒體善盡事實查證義務？
(A)行政院教育部
(B)立法院
(C)行政院國家通訊傳播委員會（NCC）
(D)地方法院
27. 在現代民主社會中，媒體識讀是不可或缺的公民素養，其最主要的原因為何？
(A)媒體對於公眾討論議題的影響頗大
(B)媒體是政府政策宣導的重要管道
(C)媒體是公民唯一獲得資訊的途徑
(D)媒體是人民監督政府的唯一方式

【第 28 至 30 題為題組】請根據下文回答下列問題：

苗栗陸續傳出數起石虎在棲息地活動慘遭路面汽車撞死新聞，隱藏在新聞後的黑幕，是因一件件大型土地開發案，導致石虎棲地不斷流失。根據民間自組的『石虎保育協會』統計，目前全臺石虎的數量恐怕不到 500 隻，石虎滅絕近在眼前，而臺灣雖有《野生動物保育法》，但規範模糊不清，致使石虎生存暴露在種種人為危機中。而石虎棲地危機引起社會大眾廣泛關注後，許多民眾走上街頭共同抗議開發案，甚至有網友主動設計石虎 Q 圖和海報文宣在網路上響應搶救活動。最終，在民間浩大的社會輿論壓力下，促使苗栗縣政府決定改變原有土地開發政策，朝向與石虎共存共榮的訴求發展，擬定新的施政方向。」

28. 依上文判斷，促使苗栗縣政府更改原本土地開發計畫的原因，最能彰顯民主社會下公共意見具有何種特性？
(A)公開性 (B)差異性 (C)不穩定性 (D)影響性
29. 根據石虎棲地危機的新聞描述，下列說法何者完全正確？
(A)石虎棲地保育與一般大眾無關，故難以匯集成公共意

見

- (B)苗栗縣政府沒有實權，故無法影響公共政策的實施
(C)民眾透過集會遊行表達對公共事務的意見，有助於凝聚社會共識
(D)石虎棲地開發案有人支持，也有人持反對態度，顯示公共意見具有不穩定性

30. 動保團體前往政府機關抗議、發起保育石虎連署等救援活動，呼籲民眾和政府重視生態保育問題。根據以上內容，描述環保團體的行動下列何者最為恰當？
(A)發揮公民自治精神，違反法律規範
(B)維護在地族群利益，促進經濟發展
(C)透過志願結社發聲，影響公共生活
(D)藉由社會運動過程，挑戰政府權力

【第 31 至 33 題為題組】

30 多年前創辦人曹慶先生，原本只是個台糖退休的小職員，卻憑著一股毅力與愛心，在沒有政府和企業人士資助下，跑遍全台各地大小鄉鎮，以勸募的方式，集資成立了全國唯一一家專門照顧植物人的社福機構—財團法人創世社會福利基金會。

31. 創世基金會向社會大眾及企業募款，將這些錢用在植物人身上，而不是分配給組織內的成員，這是屬於志願結社的何種特性？
(A)民間性 (B)非營利性 (C)自主性 (D)組織性
32. 承上題，在創世基金會的運作與曹慶先生的呼籲下，社會大眾終於開始重視植物人安養的問題。請問：下列敘述何者正確？
(A)志願結社可以喚起民眾對公共議題的關注
(B)創世基金會的性質是政黨
(C)創世基金會屬於政府機關
(D)臺北市政府與創世基金會均屬於志願結社
33. 從創世基金會設有董事會，下分事業部門及管理部門，請問其符合志願結社何項特徵？
(A)民間性 (B)自主性 (C)非營利性 (D)組織性
34. 下面為四位同學表演歷史舞台劇的腳本，導演挑了一些重要的歷史人物，希望學生能把這些人物演得活靈活現，同時編劇組設計了一些經典台詞，請問：哪一位同學回家有認真背台詞？
(A)蔣渭水：我積極爭取了臺中中學校的建立
(B)陳儀：在臺灣總督府裡，我位階是最高的
(C)雷震：我主辦的雜誌內容，為政府所不容
(D)李登輝：我解除戒嚴令，讓台灣邁向民主

35. 1929 年宏麗在新竹火車站看到一群人在合影，聽到旁邊的路人說：「他們是一群熱衷於政治社會運動的知識分子，現在要動身去日本東京請願，希望他們這次會成功。」請問：下列何項內容是這些人去東京請願的目標？

- (A)希望讓臺灣人擁有投票權
(B)爭取在臺灣成立臺灣議會
(C)要求在增加大學錄取名額
(D)獲得在臺發行報紙的權利

36. 日治時期臺灣的人口呈現成長現象，主要是因為當時死亡率降低，使得人口激增，請問：上述情形跟日本政府實施哪項政策有關？

- (A)引進現代司法制度，並灌輸法治觀念
(B)在各地建造公園，成為市民休憩場所
(C)百貨公司相繼落成，讓臺灣經濟起飛
(D)建立西式醫院，辦理預防注射和接種。

請繼續作答下張試卷

新北市立新莊國民中學 109 學年度第 2 學期第 2 次段考 7 年級社會領域試題卷

班級 座號 姓名

37. 臺灣的政治民主化歷程非常漫長，發生許多讓臺灣人記憶深刻的事件，請問：下面四項歷史事件，按照時間先後順序排列，何者正確？

(甲)實施地方自治 (乙)三月學運的發生
(丙)美麗島事件的爆發 (丁)雷震事件的爆發
(A)甲丁乙丙 (B)丙丁甲乙
(C)甲丁丙乙 (D)甲丙乙丁

38. 爺爺回憶道：「還記得以前政府都會透過新聞推廣許多愛國的歌曲，像是臺灣好、中華民國頌等歌曲，目的要培養人民有愛國精神，而且當時歌手也要配合演唱愛國歌曲，才能拿到『歌星證』」，請問：為何當時臺灣社會呈現這樣的面貌？

(A)臨時條款的頒布 (B)雷震事件的爆發
(C)戒嚴令的頒布 (D)美麗島事件的發生

39. 日治初期，總督府所設立的中學校，以收日籍學生為主，當時臺灣人的選擇不多，請問：當時總督府在臺灣主要發展哪幾類的學校，提供臺灣人做選擇？

(甲)醫學校 (乙)師範學校 (丙)警察學校
(丁)律師學校 (戊)農工商職業學校
(A)甲乙戊 (B)甲丁戊 (C)甲丙丁 (D)甲乙丙

40. 育慶說：「我以前是念老松公學校，有天看到學校改名為老松國民學校，後來我還進到臺中中學校讀書，過了幾年，跟著一群人走上街頭，歡呼戰爭的結束。」請問：根據上面的敘述，下列選項何者正確？

(甲)學校的改名是因為受到民族自決的影響
(乙)育慶讀的臺中中學校，同學都是臺灣人
(丙)「歡呼戰爭的結束」，是國共內戰的結束
(丁)老松公學校的老師，上課時都是用日語
(A)甲乙 (B)乙丁 (C)乙丙 (D)甲丁

41. 畫家陳澄波曾以「二二八事件處理委員會」代表的身分與國軍協商，但遭到逮捕、槍決，請問：關於這場歷史事件爆發的原因為何？

(A)民眾希望解除戒嚴令，爆發警民衝突
(B)「黨外」團體力量過大，與政府衝突
(C)雷震試圖組成政黨，受到民眾的擁護
(D)警察查緝私菸，誤殺民眾，引起憤慨

42. 「動員戡亂」是指國家遇到戰爭與緊急危難，政府可以動用全部人員與資源支援軍事國防活動，民國 37 年受到國共內戰影響，政府制定動員戡亂時期臨時條款，請問：關於這個條款的敘述下列何者正確？

(A)這個條款頒布後，擴大總統的職權
(B)限制人民言論、集會、結社等自由
(C)民國 76 年才由總統把這個條款廢除
(D)國共內戰結束之後，立刻就被終止

43. 這一次的地方議員選舉限制了選民的資格，同時也只有開放半數議員名額民選，但是已經讓臺灣人對於自治、普選、參政權等觀念獲得初步的認識，請問：臺灣地方上能有這樣的成果，要感謝哪一個機構？

(A)臺灣地方自治聯盟 (B)請願運動團體
(C)臺灣文化協會 (D)臺灣民眾黨

44. 線索一：他終止了動員戡亂

線索二：首位人民直選總統

根據上面兩個線索，請問：今天老師上課要介紹哪一位人物？

(A)蔣中正 (B)李登輝 (C)蔣經國 (D)陳水扁

45. 校外教學時，學生們來到新竹火車站，在牆上看到以前新竹火車站的照片(如右圖)，車站最大的特色就是有一個中央的鐘塔樓，請問：關於這張照片的敘述，哪一位同學講的最正確？



(A)丹橘：是劉銘傳任內的照片，他最早蓋鐵路
(B)曉陶：有時鐘耶！日治時期才有標準時間制
(C)如月：這是邵友濂將鐵路通到新竹後所拍攝
(D)明月：中華民國政府來臺後，引進標準時間

【第 46 至 47 題為題組】請根據下文回答下列問題：

「景美人權文化園區」過去被稱為景美看守所，為臺灣白色恐怖時期的臺灣警備司令部軍法處和國防部軍法局所在地，曾經是審理中華民國國軍犯罪軍人、一般重刑犯與政治犯的地方，也保留著當年美麗島事件的審判現場，現在藉由「景美人權文化園區」傳承歷史記憶，引領臺灣人權教育的推動。

46. 根據上述的內容，「景美人權文化園區」在白色恐怖時期關押過許多犯人，請問：當時的臺灣社會呈現哪一種面貌？

(A)保密防諜、人人有責 (B)解除戒嚴、開放黨禁
(C)民選總統、政黨輪替 (D)宣傳選舉、推動民主

47. 文章中提到「景美人權文化園區」中，保留著美麗島事件的審判現場，請問：關於此事件的敘述何者正確？

(A)創辦自由中國雜誌，挑戰政府權威
(B)「黨外」人士隔年成立民主進步黨
(C)當時事件爆發的地點是在臺北
(D)當年國內經濟、教育發展迅速

【第 48 至 50 題為題組】請根據下文回答下列問題：

在延平北路一帶有許多歷史古蹟，附近的靜修女中在 1921 年是「臺灣文化協會」舉行創立會的地點，而這條街上的義美食品門市，以前則是蔣渭水所成立的大安醫院，另外往前走一點還有一座「蔣渭水紀念公園」，裡面可以看到兩塊石碑分別為「臺灣文化協會的紀念碑」與「黨員紀念碑」。

48. 上述內容中提到「靜修女中在 1921 年是『台灣文化協會』舉行創立會的地點」，請問：下列哪位歷史人物也會出席這場創立會？

(A)陳儀 (B)余清芳 (C)陳誠 (D)林獻堂

49. 「臺灣文化協會」的宗旨為「謀臺灣文化之向上」，推行啟迪民智的工作，請問：這個機構會從事哪些活動，讓民眾獲取更多知識？

(甲)設立讀報社 (乙)宣揚日本文化
(丙)創辦台灣民報 (丁)舉辦演講會

(A)甲乙丙 (B)甲乙丁 (C)乙丙丁 (D)甲丙丁

50. 根據文章中所提到的兩塊石碑，一塊為「臺灣文化協會的紀念碑」，請問：第二塊的「黨員紀念碑」，應為下列哪一個政黨？

(A)臺灣地方自治黨 (B)中國國民黨
(C)臺灣民眾黨 (D)中國民主黨

試題結束

新北市立新莊國民中學 109 學年度第 2 學期第 2 次段考 7 年級社會領域試題
解答

1	2	3	4	5	6	7	8	9	10
B	C	D	A	B	D	B	A	C	C
11	12	13	14	15	16	17	18	19	20
C	A	D	B	A	D	A	D	B	B
21	22	23	24	25	26	27	28	29	30
D	A	D	B	C	C	A	D	C	C
31	32	33	34	35	36	37	38	39	40
B	A	D	C	B	D	C	C	A	B
41	42	43	44	45	46	47	48	49	50
D	A	A	B	B	A	D	D	D	C