

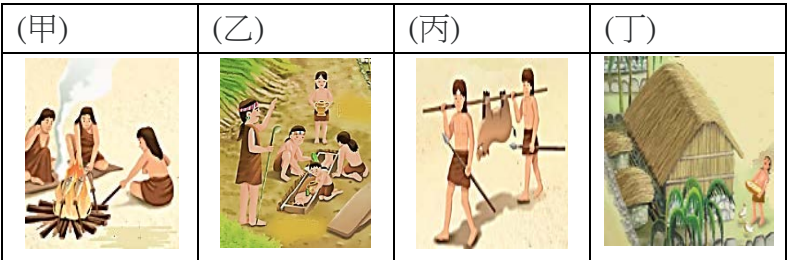
※ 選擇題：本試卷共 50 題，每題 2 分，總分為 100 分。  
每一題均為單選題，請選出最適當答案。  
※ 請用 2B 鉛筆在答案卡上相應的位置畫記。

題組一 右圖台灣史前文化遺址分布圖。請根據此圖，回答第 1-3 題：

1. 此一史前文化的命名，是依據 1969 年宋文薰所發掘的八仙洞先陶文化層出土遺物，年代距今大約 50,000 年前，一直延續到距今 5000 年前才消失，出土的器物以大型石器為主。請問：該史前文化應位於右圖中的何處？  
(A) 甲 (B) 乙 (C) 丙 (D) 丁



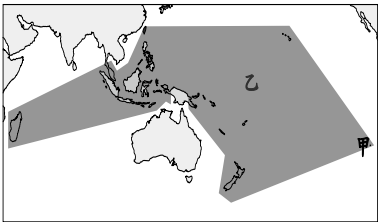
2. 承上題，請問下列哪些「不可能」是該史前文化人類會有的生活？  
(A) 甲乙 (B) 乙丙 (C) 乙丁 (D) 甲丁



3. 在台灣某時期的史前文化遺物中，我們發現了一些特別的物品（如圖所示），請問下列何者為此時期代表文化的特色？  
(A) 民眾活動範圍僅限於本島，未與其他地區有太多的往來  
(B) 分布在右圖中的丙區  
(C) 打製石器與燒製陶器顯示文明的進步  
(D) 懂得鐵的使用，並以煉鐵作坊來製作更多的器具



4. 有語言學家認為此一族群真正的故鄉在台灣，並以台灣為根據地，大約在 5000 到 6000 年前開始向外遷移，經菲律賓再至大洋洲各島嶼。請問：關於此族群的敘述，下列何者「錯誤」？



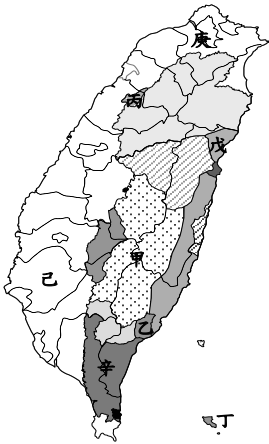
- (A) 分布的最東端在右圖中的甲地，即為智利復活節島  
(B) 乙海洋為大西洋，其中許多島嶼為此族群的分布範圍  
(C) 台灣為分布的最北端，原住民屬於此族群  
(D) 紐西蘭的原住民毛利族可歸類於此族群中。

5. 下表顯示不同時期對於原住民的稱呼，請問下列敘述何者正確？  
(A) 民國 83 年修憲後乙族群被稱為山地同胞  
(B) 甲時期生番與熟番的區分，是依是否納稅及服勞役  
(C) 乙族群在漢人大量來台後，血緣與其融合而文化不易保存  
(D) 凱達格蘭族在甲時期會被歸類為生番


(甲)時期	熟番	生番
↓		
日治時期	平埔族	(乙)族群

題組二 右圖為臺灣原住民分布圖。請根據此圖，回答第 6-9 題：

6. 「參加祭典的主要成員為年齡十三至十八歲的男孩，也就是少年會所的成員。祭典藉著刺猴活動與儀式，來培養少年的膽識和英勇的殺敵氣概。傳統以真正的猴子作為行刺的對象，今日則改以草猴代替，讓現代的少年認識過去族群歷史上英勇的一面。」請問：舉辦上述祭典的是臺灣原住民分布圖中哪一族群？  
(A) 甲 (B) 乙 (C) 丙 (D) 丁



7. 直到 19 世紀前期，某族群人仍使用自己的文字與漢人簽訂雙語的土地契約（如右圖），請問該族群分布在臺灣原住民分布圖中何處？  
(A) 戊 (B) 己 (C) 庚 (D) 辛



8. 「這個祭典是族人對於矮人的一種懺悔表現，其獨特性即在於族人對矮人的感恩與怨恨的雙重心理下，所產生的一種『贖罪』似的祭典。而透過祭典的深沉懺悔，不僅激勵族人自立自強、互助團結，同時也有慶祝豐收、消災降福的涵義。」請問：舉辦上述祭典的是臺灣原住民分布圖中哪一族群？  
(A) 甲 (B) 乙 (C) 丙 (D) 丁

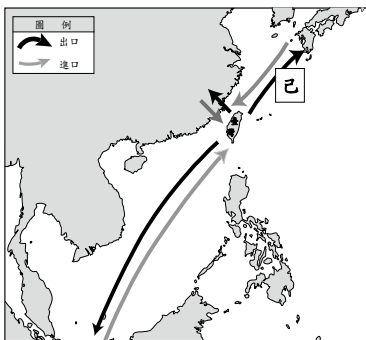
9. 請問下列哪一項和分布在臺灣原住民分布圖中丁區的原住民「無關」？  
(A) 甩髮舞和勇士舞 (B) 飛魚祭  
(C) 貴族社會 (D) 漁團組織

10. 雲林縣北港鎮有一個紀念碑，是紀念 1621 年某人率領民眾來到台灣，在北港上岸後從事開墾活動，並且向外貿易，成為中國東南沿海一代重要的海商集團。請問：此紀念碑所紀念的人物是誰？  
(A) 鄭成功 (B) 顏思齊 (C) 鄭經 (D) 陳永華

11. 關於在右圖甲地建立城堡的國家，下列敘述何者正確？  
(A) 積極在台灣傳播天主教，建立許多教堂  
(B) 引進番茄、豌豆、蔗糖等新作物  
(C) 透過各社選出的長老來對原住民進行間接控制  
(D) 在台灣北部統治了 16 年後撤離台灣

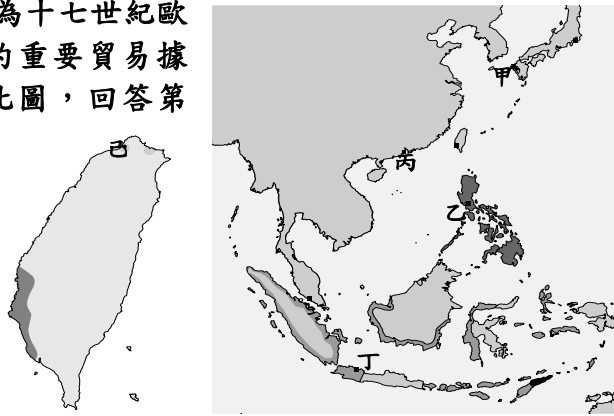


12. 荷治時期台灣作為國際貿易轉運站，帶來極大的經濟利潤，甚至有「台灣真是一頭好乳牛」的說法。請問：透過右圖己線所貿易的貨物有哪些？（甲）稻米（乙）鹿皮（丙）白銀（丁）蔗糖（戊）絲綢  
(A) 甲乙丙 (B) 丙丁戊  
(C) 甲乙丁 (D) 乙丁戊



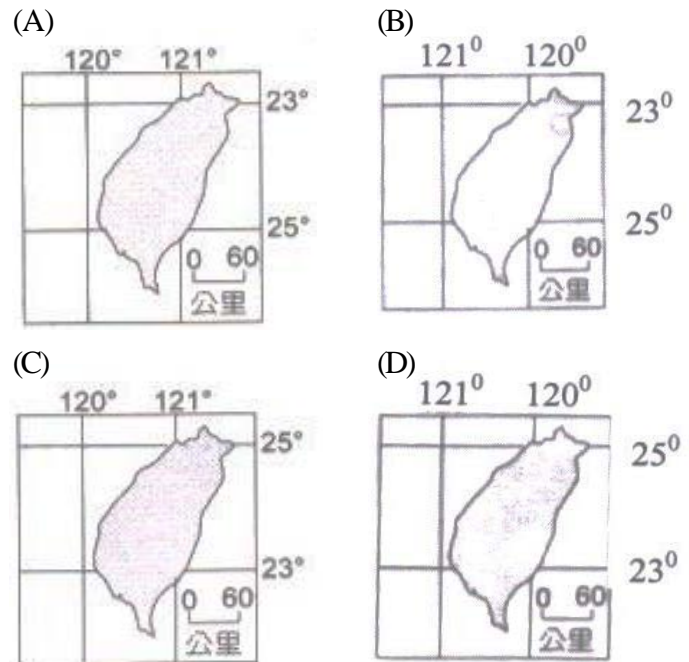
請翻面繼續作答

**題組三** 右圖為十七世紀歐洲人在東亞的重要貿易據點。請根據此圖，回答第 13-14 題：

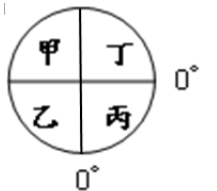


13. 有文獻記載：「統治者每年向圖中己地的已婚原住民課徵兩隻雞和三甘當米的稅，原住民感到無法忍受，所以襲擊統治者位於己地城堡，殺了 30 個人。到了 1642 年統治者終於離開，原住民才鬆了一口氣。」請問：上文提到的統治者，以圖中何處為貿易據點？  
(A) 甲 (B) 乙 (C) 丙 (D) 丁
14. 「該公司在右圖丁區設立總部，得到政府的授權，獨佔海上貿易，使用國家名義設置軍隊、對外宣戰、締約，也可任命官員來統治殖民地。」請問：上述公司為哪一個國家所有？  
(A) 葡萄牙 (B) 日本 (C) 荷蘭 (D) 西班牙。
15. 1652 年爆發郭懷一抗荷事件，背景為荷蘭人對漢人的不合理管制，導致漢人心生不滿而群起反抗。請問：下列何者「並非」荷蘭人對漢人採取的措施？  
(A) 禁止漢人自由集會  
(B) 對漢人徵收苛捐雜稅  
(C) 漢人不許與原住民私自交易  
(D) 漢人擁有土地卻缺乏生產工具來進行開墾
16. 17 世紀時因某項政策的實施，使得西班牙人對日本貿易受阻，故而減少駐台的軍隊。請問：關於此政策的敘述，下列何者正確？  
(A) 外國人只能到長崎進行貿易  
(B) 只有荷蘭人和英國人獲准來日本做生意  
(C) 實施的原因是為防備倭寇劫掠沿海地區  
(D) 導致海商活動的據點由澎湖轉移至台灣
17. 下列有關新莊國中位置的描述中，何者是正確的？  
(A) 「在新莊分局門口的 315° 方向」—絕對位置  
(B) 「在新北市新莊區中正路 211 號」—相對位置  
(C) 「在新莊捷運站 2 號出口的南方」—相對位置  
(D) 「在經緯座標點(121°27'E, 25°02'N)」—相對位置
18. 全球依據緯度位置畫分出熱帶、溫帶與寒帶三大氣候區，請問「近赤道區偏高溫，近南北極偏低溫」的成因為下列何者？  
(A) 地球自轉方向 (B) 極點磁場轉變  
(C) 太陽照射角度 (D) 地軸傾斜位置
19. 小威住在美國華盛頓的姑姑計畫撥打視訊電話，預計於美國華盛頓(75°W)時間 10 月 16 日上午 10 點連線臺灣(120°E)的小威，請問小威應於臺灣時間幾點接聽視訊電話？  
(A) 10 月 15 日 16 時 (B) 10 月 16 日 10 時  
(C) 10 月 16 日 23 時 (D) 10 月 17 日 11 時

20. 臺灣位置位於東經 120 度至 122 度，北緯 22 度至 25 度，請問下列何圖是正確的？

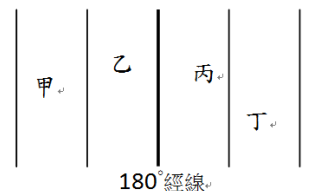


21. 承上題，請問臺灣應位於右圖地球分區中的哪區？



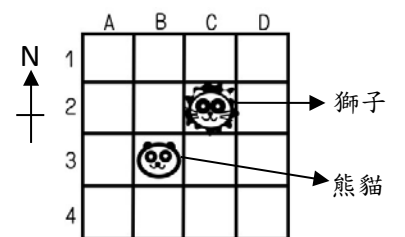
- (A) 甲 (B) 乙 (C) 丙 (D) 丁

22. 請參照右圖甲乙丙丁四地的經度位置，若四地想施放 2019 年 1 月 1 日的跨年煙火，請依序排出四地的煙火施放順序？



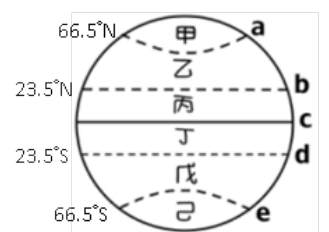
- (A) 甲乙丙丁 (B) 乙甲丁丙  
(C) 丙丁甲乙 (D) 丁丙乙甲

23. 請參照右圖的網格地圖，選出正確的選項？



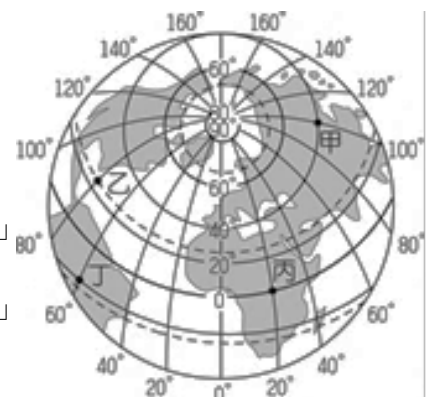
- (A) 熊貓位於(D,3)座標點  
(B) 獅子位於(C,2)座標點  
(C) 獅子在熊貓的 90 度方向  
(D) 熊貓在獅子的東北方向

24. 請參照右圖氣候分區圖的代碼，找出「錯誤」的選項？



- (A) 每年 12 月冬至時，太陽會直射在 d 線上  
(B) 甲區與己區屬於四季如冬的寒帶環境  
(C) 戊區在 6 月應為大雪紛飛的冬季  
(D) c 線位於格林威治時區

25. 課堂上大家在熱烈討論右圖中甲乙丙丁四地的環境，請找出「錯誤」的說法？



- (A) 歡新：「甲地晚上 8 點時，乙地應為早上 8 點。」  
(B) 迎莊：「甲地為夏季時，丁地應為冬季。」  
(C) 進國：「丙地與丁地應該沒有時差存在。」  
(D) 入中：「丁地處於西經 60 度，南緯 20 度。」



26. 下列表格為小美上課所抄錄的筆記，請找出正確的內容為何？

(A) 乙戊 (B) 甲戊 (C) 甲丙 (D) 甲乙

類型	經線	緯線
(甲)定義	連結南北極的圓圈	與赤道平行的圓弧線(半圓)
(乙)方向	南北向	東西向
(丙)分界	赤道為界 分出東西半球	本初子午線為界 分出南北半球
(丁)度數	東西經各 90 度	南北緯各 180 度
(戊)長度	皆等長，交會於南北極點	不等長，緯度越高長度越短

27. 請問以下敘述何者是「領海海域內可行使，而經濟海域內不可行使」的權利？

(A) 捕撈漁獲資源 (B) 開採海底礦產  
(C) 發展賞鯨航線 (D) 驅逐他國船艦

28. 下列有關時區的敘述何者「有誤」？

(A) 本初子午線通過美國紐約格林威治天文臺  
(B) 每 15 度經度定為 1 時區，全球共有 24 個時區  
(C) 國際標準時區範圍由西經 7.5 度延伸至東經 7.5 度  
(D) 每向東跨 1 時區應加 1 小時，向西跨 1 時區應減 1 小時

29. 在比例尺為 1：25000 的地圖中，其中一座橋梁經測量後為 4 公分，請問這座橋梁實際應有多長？

(A) 1 公里 (B) 100 公尺  
(C) 2500 公尺 (D) 50000 公分

30. 若使用手機開啟電子地圖，將手機螢幕由臺灣全區放大至新莊區，請問下列敘述何者正確？

(A) 比例尺逐漸變大  
(B) 地圖資訊越來越簡略  
(C) 地表實際涵蓋範圍變大  
(D) 方向標永遠將上方視為北方

31. 「地處臺灣東北方的釣魚臺列嶼海底資源豐富，蘊含豐富漁產、石油能源與多樣礦物，使得臺灣、中國與日本紛紛宣稱擁有主權，以擴充自己的□□海域並取得資源開發權。」，請問上文所述的□□海域為何？

(A) 領海海域，領海基線外推 12 公里的範圍  
(B) 經濟海域，領海基線外推 200 浬的範圍  
(C) 經濟海域，領海基線外推 12 浬的範圍  
(D) 公共海域，領海基線 500 英里的範圍

32. 請參照右圖臺灣行政區圖，請問以下敘述何者「錯誤」？

(A) 北回歸線通過庚、癸兩區  
(B) 數字 1~6 區皆為直轄市，由中央政府直接管理  
(C) 離島尚有三行政區，分別為澎湖縣、金門縣、連江縣  
(D) 甲區-宜蘭縣、乙區-苗栗縣、丙區-新竹縣、丁區-南投縣



33. 請參照下圖新莊廟街周邊地圖，找出下列資訊何者「有誤」？

(A) 由捷運新莊站沿黑點前進至麥當勞約為 400 公尺  
(B) 想從麥當勞至武聖廟參拜應向西南方前進  
(C) 可於圖中找到圖示法的比例尺  
(D) 地圖上方應為北方



34. 最後十四堂星期二的課一書中教授是這麼告訴學生：「你要知道自己會死，並且隨時做好準備．．．．．這樣你在活著的時候，就可以比較投入。」請問這段話說明了生命的何種意涵？

(A) 生命長度比寬度來得重要  
(B) 生命是獨特的，必須肯定自己  
(C) 人死之後，仍有可能延續生命的價值  
(D) 認識生命特性進而把握當下

35. 下列何者最符合「性別角色」的敘述？

(A) 不受傳統觀念影響  
(B) 屬於生理性別  
(C) 是先天造成的  
(D) 是社會依照其文化給予不同生理性別者相對應的行為期待

36. 下列有關校園性騷擾事件的處理方式，哪個程序「錯誤」？

(A) 可由受害學生的父母提出檢舉  
(B) 須彙報教育主管機關  
(C) 須向輔導處申請調查  
(D) 交由性別平等教育委員會處理

37. 安寧病房提供癌症末期患者緩和療護，貫徹安寧療護四全（全家、全人、全隊、全程）的照顧理念，使病患在家人的陪伴下，有尊嚴的走完人生最後一程；不刻意加速也不延緩死亡的到來，將死亡視為一個自然的過程。請問：安寧病房的設立，最能體現下列哪一項概念？

(A) 生命無常 (B) 尊重生命  
(C) 欣賞生命的獨特 (D) 延續生命價值

38. 有學者認為廣告若傳達不適當的訊息，可能產生強化性別刻板印象的效果。下列廣告臺詞中，何者最可能會產生上述效果？

(A) 體貼老婆的第一選擇，清淨牌洗衣機  
(B) 健康活靈芝，孝順父母親的最佳選擇  
(C) 男女需求大不同，營養補充各取所需  
(D) 安康保全，守護全家人的平安與幸福

39. 獲選生命鬥士的 小翰，從小與祖母相依為命，相當懂事乖巧，會幫祖母分擔家務，就在國中畢業後，小翰 選擇自己喜愛的高職類科就讀，希望未來能替家裡分擔家計，但就在入學不久之後，發現自己罹患血癌，因而休學中斷學業，展開和病魔的對抗。請問：以上 小翰 的故事，說明了生命的什麼特性？
- (A) 不可回逆性 (B) 獨特性  
(C) 無常性 (D) 延續性
40. 請問以下何者符合性別平等的真諦？
- (A) 男女生在工作上同工不同酬  
(B) 捷運站內，男女廁的數量相同  
(C) 軍警學校招生不限性別  
(D) 美嫻 常以「女士優先」為理由，希望得到特殊待遇
41. 個人在認識自我的過程中，可從美國 迦納 提出的「多元智慧」理論去瞭解自己某些面向的潛能，請問右圖中的三種職業，他們在何種智慧面向較突出，請依甲乙丙順序排出？
- (A) 肢體動覺、邏輯數學、自然觀察  
(B) 語文、人際、肢體動覺  
(C) 自然觀察、語文、音樂  
(D) 內省、語文、空間
42. 大國 股份有限公司未依法給足員工 5 天的陪產假，損及勞工權益，因此遭勞工局開罰 2 萬至 30 萬。請問 大國 股份有限公司此種作法顯示了什麼意涵？
- (A) 性別歧視 (B) 性別角色  
(C) 性別刻板印象 (D) 性騷擾
43. 承上題，大國 股份有限公司是因為違反哪一項法律而遭到處罰？
- (A) 民法 (B) 性別工作平等法  
(C) 勞動基準法 (D) 就業保險法
44. 某所女子中學的老師在臉書中表示：「女孩子本來就要學會做家事，頭髮不能留太短才是淑女的表現。」請問從上述說法，可看出何種觀念？
- (A) 強化生理性別 (B) 落實性別平等  
(C) 性騷擾 (D) 性別刻板印象
45. 有關個人需求理論的敘述，下列敘述何者正確？
- (A) 每個人都可以滿足自尊的需求  
(B) 各種需求沒有高低順序發展的分別  
(C) 社會需求又稱作自我實現的需求  
(D) 生理是最基本的需求
46. 以下四位同學對於「性騷擾」的認識，何者正確？
- (A) 小新：「性騷擾」可能出現在男女不當的追求過程中  
(B) 莊仔：「性騷擾」只會發生在異性之間  
(C) 建國：「性騷擾」的界定標準是以警察的判斷為主  
(D) 阿中：「性騷擾」專指同性或異性在肢體上不當的

碰觸

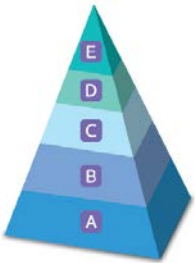
47. 日前「世界巡迴超級 1000」的中國羽球公開開賽，「世界球后」戴資穎 首戰世界排名第 14 的地主 高昉潔，意外以 17 比 21、16 比 21 落敗。戴資穎 臉書寫道：「即使到了排名第一，也依然要學習著承受輸的感覺，因為那是嚐到勝利果實的必經過程，不論自己贏得多少勝利，得到多少冠軍....那都不能代表著永遠，輸輸贏贏是運動員生涯的常態，怎麼調適自己再重新來過，是最重要的，我不需要為自己多解釋什麼，懂的人自然會懂。我只想要自己可以繼續走著我想走的路，享受在場上的每一刻，即使輸了必須面對這些，我依然要鼓舞著自己繼續前進。」請問：由上述文中何者「不是」戴資穎 面對生命的態度？
- (A) 生命無常、及時行樂  
(B) 挫折是生命中最好的禮物  
(C) 接納生命的不完美，堅持到底、完成夢想  
(D) 失敗為成功之母

48. 下列關於法律上建立性別平權社會，哪組配對正確？

選項	範圍	適用法律
(A)	落實家庭中的性別平權	性別平等教育法
(B)	落實學校教育的性別平權	性騷擾防治法
(C)	強調社會上和諧、善意的性別互動模式	民法
(D)	落實工作場所中的性別平權	性別工作平等法

題組四 請判斷下列敘述符合右圖中何項層次的需求？

49. 在 三隻小豬 的故事中，為避免大野狼的威脅，第三隻小豬決定建造一間比較堅固的房子。小豬這種行為主要是滿足 馬斯洛 需求層次中的何種需求？
- (A) **A** (B) **B** (C) **C** (D) **D**



50. 在 灰姑娘 的故事中，王子撿到玻璃鞋後，想要找出玻璃鞋的女主人，期待能與心儀的對象在一起。請問：王子主要是想滿足 馬斯洛 需求層次中的何種需求？
- (A) **B** (B) **C** (C) **D** (D) **E**

新北市立新莊國民中學 107 學年度第 1 學期第 1 次段考 7 年級社會領域試題

解答

1	2	3	4	5	6	7	8	9	10
<b>A</b>	<b>C</b>	<b>D</b>	<b>B</b>	<b>B</b>	<b>B</b>	<b>B</b>	<b>C</b>	<b>C</b>	<b>B</b>
11	12	13	14	15	16	17	18	19	20
<b>C</b>	<b>D</b>	<b>B</b>	<b>C</b>	<b>D</b>	<b>A</b>	<b>C</b>	<b>C</b>	<b>C</b>	<b>C</b>
21	22	23	24	25	26	27	28	29	30
<b>D</b>	<b>B</b>	<b>B</b>	<b>D</b>	<b>C</b>	<b>A</b>	<b>D</b>	<b>A</b>	<b>A</b>	<b>A</b>
31	32	33	34	35	36	37	38	39	40
<b>B</b>	<b>D</b>	<b>B</b>	<b>D</b>	<b>D</b>	<b>C</b>	<b>B</b>	<b>A</b>	<b>C</b>	<b>C</b>
41	42	43	44	45	46	47	48	49	50
<b>D</b>	<b>A</b>	<b>B</b>	<b>D</b>	<b>D</b>	<b>A</b>	<b>A</b>	<b>D</b>	<b>B</b>	<b>B</b>