




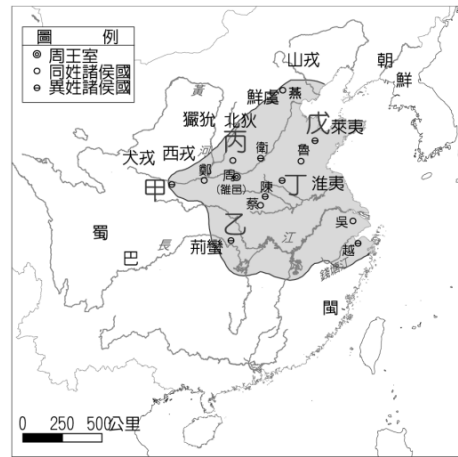
班 座號_____ 姓名_____

※ 請用 2B 鉛筆在答案卡上相應的位置畫記。

- | | | | |
|--|--|--|--|
| <p>甲</p>  <p>楚漢相爭開始</p> | <p>乙</p>  <p>班超出使西域</p> | <p>丙</p>  <p>秦朝滅亡</p> | <p>丁</p>  <p>黃巾之亂爆發</p> |
|--|--|--|--|

- 投筆從戎
- 
- An illustration of a man in traditional Chinese clothing sitting at a desk, writing a letter with a brush. On the desk are several rolled-up scrolls. A thought bubble above him shows him as a soldier on horseback, holding a spear and bow, representing his decision to join the military.

- | 皇帝 | 和帝 | 殤帝 | 安帝 | 順帝 | 沖帝 | 質帝 | 桓帝 | 靈帝 | 少帝 |
|------|----|------|----|----|----|----|----|----|----|
| 即位年齡 | 10 | 三個多月 | 13 | 12 | 2 | 8 | 15 | 12 | 17 |



- (A) 甲師 (B) 乙師 (C) 丙師 (D) 丁師

11. 家儀是一位 秦朝 的平民，他的日常生活中不會看到下列哪一種景象？

- (A) 優秀的人才可以被選派進入太學學習，成績優秀者可以擔任官吏
(B) 商人使用統一的貨幣進行交易
(C) 客棧老闆使用統一的文字記錄收支情形
(D) 鄰里的壯丁被徵召去修築長城

12. 從漢初到 漢武帝，中國的政治思想屢經轉變；下列何者為其轉變的情形？

- (A) 道家→法家 (B) 道家→儒家
(C) 法家→儒家 (D) 儒家→道家

13. 曾老師說：「這位人士未發跡前，曾受家人冷落輕視，之後發憤圖強，充實才學，終受君王重用，齊湣王曾拜任為相，隨後其策畫東方六國『合縱』反秦……。」請問：曾老師描述的歷史人物是誰？

- (A) 商鞅 (B) 張儀 (C) 呂不韋 (D) 蘇秦

14. 下列幾位同學探討春秋戰國時代貴族沒落、平民崛起的原因，其中哪位同學的見解不正確？

- (A) 芝繼：私人講學興起，平民階層出現不少人才
(B) 柔安：各國競爭激烈，大量起用平民
(C) 芷淳：封建制度逐漸鞏固，各國用人唯才
(D) 力瑜：養士風氣盛行

15. 珉豪是東周時代從事工商業的平民百姓，他可能有何生活經驗？

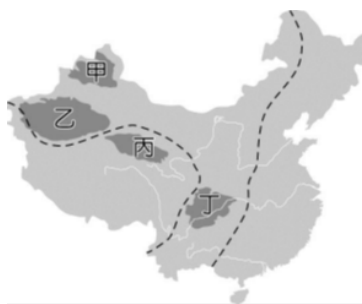
- (A) 政府實施專賣制度，限制商業發展
(B) 經營工商業因而致富，使商人地位提高
(C) 專為貴族服務，社會地位不如農民
(D) 各國重農抑商，商人社會地位低落

16. 喬因是一名太學生，平日用心苦讀，手不釋卷，經常在課堂上與博士官討論問題。若依課程安排，喬因所研討的內容，應是哪一類的書籍？

- (A) 五經 (B) 漢書 (C) 傷寒雜病論 (D) 史記

題組一 右圖為中國四大盆地分布圖，請回答第 17、18 題：

17. 胡楊木又被稱為「沙漠英雄樹」，是世界上唯一生長在沙漠裡能有高達六公尺樹幹的樹種。有資料顯示全世界 90% 的胡楊木在中國，而中國 90% 的胡楊木在塔里木盆地。請問胡楊木主要生長在圖中何地？



- (A) 甲 (B) 乙 (C) 丙 (D) 丁

18. 柴達木盆地察爾汗鹽湖有一座聞名的「萬丈鹽橋」，沒有橋墩欄杆，用鹽鋪出來的橋，長 32 公里約合萬丈，汽車如果開得太快，容易造成打滑翻車，所以當你看見「鹽路打滑，注意慢行！」一定要放慢速度以策安全。請問「萬丈鹽橋」位於圖中何地？

- (A) 甲 (B) 乙 (C) 丙 (D) 丁

題組二 右圖為中國「省級」行政區圖，請回答第 19、20 題：

19. 迪士尼樂園是全世界接待遊客人數最多的主題樂園，自 1955 年在美國洛杉磯第一座迪士尼樂園開幕後風靡全球，目前全球有六間迪士尼樂園，其餘五間分別位於美國佛羅里達州、法國巴黎、日本東京、中國香港與上海，請問如欲感受迪士尼樂園歡樂氣氛可前往圖中何地？



- (A) 甲 (B) 乙 (C) 丙 (D) 丁

20. 喀什市是中國離歐洲最近的城市，面積相當兩個台北市大，六十萬人口之中有九成是當地最主要的少數民族-維吾爾族，此地扮演中國通往中亞及南亞的西大門角色。請問喀什市位於圖中何地？

- (A) 甲 (B) 乙 (C) 丙 (D) 丁

題組三 趕在中國 10/1-10/7 國慶連假前，廣深港高鐵香港段(右圖虛線部分)宣告完工，在 2018 年 9 月 23 日全線通車，廣州經深圳到香港不需一小時即可抵達，大幅減少香港至中國各地所需時間，請回答第 21、22 題：



21. 廣深港高鐵通車後，如從中國最北邊的黑龍江省搭乘高鐵疾駛 2584 公里後可於一日內抵達香港，窗外風景也在一日內從冰天雪地轉換成溫暖的熱帶景觀，請問此現象與中國哪一地理特徵有關？

- (A) 所跨經度多 (B) 地勢西高東低
(C) 所跨緯度多 (D) 地形落差大

22. 中國遊客利用國慶連假七天搭乘廣深港高鐵前往香港遊玩時，發現香港只有十月一日當天放假而非連假，反而耶穌受難日(3/30~31)及聖誕節(12/25~26)實施連假，復活節也放假一天，請問此一國兩制現象是因為香港曾經受哪一國殖民統治所影響？

- (A) 英國 (B) 葡萄牙 (C) 美國 (D) 日本

23. 中國農業部 2 月發布 2018 年休漁公告，自 5 月 1 日開始生效，為期 3 至 4 個月，休漁期間中國三大緣海範圍內，漁船不得進行捕撈作業，期盼維持海洋生態。由於此公告影響越南漁民在傳統漁場的捕撈作業權益，引發越南政府抗議。請問越南的傳統漁場是指下列何地？

- (A) 渤海 (B) 黃海 (C) 東海 (D) 南海

24. 尼泊爾政府在珠穆朗瑪峰設置了免費 wi-fi，主要目的是緊急狀況時協助救援工作，平時則讓登山者們可以在地球最高處報平安、打卡紀念，或者發個 Instagram 好好炫耀一番。請問中國下列何地離尼泊爾政府所設置的 wi-fi 基地台最近？

- (A) 西藏自治區 (B) 新疆維吾爾自治區
(C) 四川省 (D) 重慶市

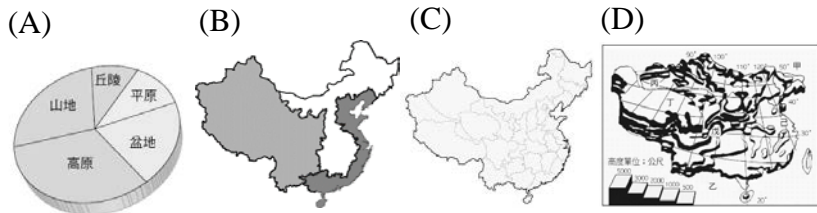
25. (甲)第一級階梯高度 1000 公尺以下，人口密度高 (乙)第二級階梯主要以高原、丘陵為主 (丙)東北平原屬第三級階梯 (丁)第一級階梯有青藏高原、柴達木盆地 (戊)第三級階梯山脈主要是東-西走向。上述對中國地勢各級階梯的敘述何者正確？

- (A) 甲乙 (B) 丙丁 (C) 丁戊 (D) 甲戊

26. 印尼雅加達亞運在上個月圓滿落幕，中國仍穩坐亞洲運動霸主地位，蟬聯十屆亞運金牌數第一。9/2 這天舉行的閉幕典禮在雅加達時間(時區為東七區)的晚上七點盛大展開。中國北京(時區為東八區)電視台同步轉播這場閉幕典禮，而住在新疆烏魯木齊(時區為東六區)的知名女星 迪麗熱巴 也全程觀看這個節目，請問她應該於烏魯木齊當地鐘錶顯示何時準時收看呢？

- (A) 晚上六點 (B) 晚上七點 (C) 晚上八點 (D) 晚上九點

27. 中國的河川有「江水九曲必向東」的特性，此特性最適合利用下列哪一張地圖來解釋？



28. 右圖為中國沙岸、岩岸分布圖。圖中甲、乙兩地由於組成物質不同，形成不同的海岸地形。下列關於甲、乙兩海岸地形特色及土地利用之敘述，何者正確？

- (A) 甲地沿海平原寬廣，海底地形平淺
(B) 甲地海岸線曲折，適合海洋漁業
(C) 乙地海岸線平直，海底地形陡深
(D) 乙地缺乏天然良港，多發展養殖漁業



29. 下表為國土排名世界前四大國家的人口密度與土地面積資料，根據資料判斷，何者最可能是中國？

項目	土地面積(km ²)	人口數(人)
(A) 甲國	997 萬	3483 萬
(B) 乙國	1707 萬	14250 萬
(C) 丙國	960 萬	135569 萬
(D) 丁國	983 萬	31889 萬

30. 下列哪一項中國的地理特徵是受地勢西高東低影響？

- (A) 太平洋氣流很難進入內陸
(B) 溫帶氣候面積最大
(C) 人工運河大多呈南北流向
(D) 居民生活空間廣大

31. 西元 2015 年 4 月 25 日位於喜馬拉雅山區的尼泊爾發生規模 7.8 強震，地震僅持續二十秒，卻釀成至少八千人死亡，其中包括十八名登山客命喪雪崩，是聖母峰攀登史上最多人死亡的一天。請問此次地震的成因與哪兩個板塊關係最密切？

- (A) 歐亞及太平洋板塊 (B) 歐亞及非洲板塊
(C) 太平洋及印澳板塊 (D) 印澳及歐亞板塊

32. 中國的京杭大運河是中國重要的人工運河。請問：下列關於此運河的敘述，何者敘述正確？

- (A) 北起南京，南到杭州
(B) 溝通海河、黃河、淮河、長江等中國重要水系
(C) 運河蘊藏大量水力資源，利於水力發電
(D) 串連起中國四大直轄市的貨物運輸

33. 中國四大高原中，有三個高原分別因冰河侵蝕、河流侵蝕、雨水溶蝕等作用造成地表崎嶇的景觀，但有一處高原卻是平坦遼闊，為中國畜產品的主要來源地之一。請問此地位於圖中何處？



- (A) A 地 (B) B 地 (C) C 地 (D) D 地

34. 關於我國中央政府的分權制衡關係，下列敘述何者正確？

- (A) 行政院院長可直接解散立法院，重新改選立法委員
(B) 若立法院通過對行政院院長的不信任案，則行政院院長必須辭職
(C) 立法院可以向行政院提起覆議案，要求重新提出法案
(D) 立法委員需接受行政官員的監督

35. 日前新聞報導：陸軍五六四旅去年發生性騷擾事件，部隊以一般風紀案處理，監察院國防與情報委員會根據監委的調查指出，此案調查處理過程錯誤百出，嚴重傷害當事人隱私與人格，因此監察院(甲)陸軍司令部，要求檢討改善。請問(甲)應填入

- (A) 彈劾 (B) 糾舉 (C) 糾正 (D) 懲戒

36. 司法院日前舉行「大法官釋憲七十周年慶祝大會」，邀前院長翁岳生、賴英照、賴浩敏和歷任大法官與會。司法院院長許宗力表示，當一個國家國民憲法意識愈提高，大法官釋憲功能愈受人民期待。請問下列何者為大法官的職權？(甲)質詢行政院各部會官員(乙)統一解釋法律、命令(丙)審理政黨違憲解散事項(丁)審理民刑事訴訟(戊)提出總統、副總統彈劾案

- (A) 甲丁 (B) 乙丙 (C) 乙丙戊 (D) 乙丙丁戊

37. 過去公投提案門檻太高，導致全國性議案無法透過公投方式來成立，因此(甲)審議公民投票法修正草案，下修投票年齡、公投提案從總統投票人數的千分之 5，降低到萬分之 1、連署門檻降到總統投票人數的 1.5%。此修正案三讀通過須經過(乙)公布，並由(丙)來推動。上述(甲)、(乙)、(丙)依序為？
- (A) 立法院、總統、行政院
 (B) 司法院、立法院、行政院
 (C) 行政院、總統、立法院
 (D) 行政院、立法院、司法院
38. 我國中央政府總預算的「編列」、「審核」、「執行」、「審查」分別由那些機關負責？
- (A) 行政院、監察院、行政院、立法院
 (B) 行政院、立法院、總統、司法院
 (C) 行政院、立法院、行政院、監察院
 (D) 行政院、立法院、行政院、司法院
39. 關於「三權分立」與「五權分立」加以比較，何者正確？
- (A) 「三權分立」的三權是指行政權、立法權、監察權
 (B) 「三權分立」主張政府各部門要互相制衡
 (C) 「五權分立」將司法權與監察權獨立出來
 (D) 我國政府運作目前採行「三權分立」制度
40. 一家人正在準備各種考試，下列哪一個人參加的是由 考試院 主辦的考試？
- (A) 麗華 參加全民英檢測驗
 (B) 允傑 準備國中教育會考
 (C) 耀生 參加空服員考試
 (D) 心慧 準備公務人員考試
41. 南韓 與我國在政治制度上有諸多相同點，朴槿惠 去年因貪腐醜聞遭國會彈劾，因此成為 南韓 首位遭彈劾下台的民選總統。請問：我國總統彈劾案程序為何？
- (A) 立法院 提出，移送 司法院 憲法法庭
 (B) 監察院 提出，移送 司法院 公務員懲戒委員會
 (C) 立法院 提出，公民投票決定
 (D) 監察院 提出，移送 司法院 憲法法庭
- 題組四** 2016 年中央公職人員選舉，於 1 月 16 日舉行 中華民國 第十四任總統、副總統選舉及第九屆立法委員選舉。選舉結果由 民主進步黨 候選人 蔡英文、陳建仁 當選。
42. 此次選舉由 國民黨、民進黨、親民黨 推薦候選人參選總統，在公平競選下，民主進步黨 候選人當選，形成 中華民國 史上第三次政黨輪替。請問：上述內容呈現出我國的何種民主政治內涵？
- (A) 民意政治 (B) 責任政治 (C) 法治政治 (D) 政黨政治
43. 蔡政府上任後，陸續發生一些事件，若依我國相關法律規定，何者屬於總統職權？
- (A) 調查國軍飛彈誤射事件並到 立法院 報告及接受質詢
 (B) 面對國家領土爭議，提案修憲明定我國領土範圍
 (C) 司法院 院長提名人懇辭提名，重新提出院長名單
 (D) 對不當施政的行政機關提糾正案以樹立新政府風範

44. 依憲法之規定，下列有關總統與 立法院 之敘述，何者有誤？
- (A) 立法院 可對總統提出罷免案，公民投票決定
 (B) 總統核可行政院覆議案，移送 立法院 審議
 (C) 立法院 審查通過的法律，由總統公布
 (D) 立法院 提名考試院長之人選，由總統同意
45. 我國哪些重要官員需經由總統提名，並經 立法院 同意後任命之？
- (A) 大法官、教育部 部長
 (B) 考試委員、審計長
 (C) 交通部 部長、行政院 院長
 (D) 立法院 院長、監察委員
46. 蔡政府新上任之時，有些政策的推動常常受到人民的質疑，並被人民所反對，例如取消連假高速公路夜間免收通行費，政策一推出沒多久，馬上又喊停，這表示政府在制訂政策時沒有考慮到民主政治的哪一項內涵？
- (A) 民意政治 (B) 法治政治 (C) 責任政治 (D) 政黨政治

題組五 汶萊 國王叫 蘇丹，是國家元首，自 14 世紀以來世襲至今已經有六百多年了，人均 GDP（國內生產總值）超過 4 萬美元，石油和天然氣的生產和出口約佔國內生產總值的 67%，社會福利之程度與範圍皆非常完善，是世界上最富有的國家之一，更以不需要繳稅的國家聞名。現任 蘇丹 是 哈吉·哈桑納爾·博爾基亞，他於 1967 年 10 月繼承王位，成為 汶萊 第 29 代 蘇丹。1984 年 1 月 1 日 汶萊 脫離 英國 和平獨立。汶萊 的 蘇丹 以 國家元首 身份兼任 汶萊 首相，且 汶萊 立法議員由 蘇丹 任命，沒有民選立法機關。

47. 請問根據上文內容判斷，汶萊 的國體和下列哪些國家相同？(甲)日本(乙)德國(丙)南韓(丁)英國
- (A) 乙丙 (B) 甲乙 (C) 甲丁 (D) 丙丁
48. 請問根據上文內容判斷，汶萊 的統治方式和下列哪些國家相同？(甲)中華人民共和國(乙)北韓(丙)日本(丁)法國
- (A) 甲乙 (B) 乙丙 (C) 丙丁 (D) 甲丁
49. 汶萊 有豐富的石油和天然氣，因此迅速成為富有的國家，人民的教育及醫療免費，甚至提供國外留學及就醫費用，使得人民的幸福感也是名列世界前茅。請問：根據上文國家發揮了哪些功能？(甲)安全(乙)經濟(丙)正義(丁)福利
- (A) 甲乙 (B) 乙丁 (C) 丙丁 (D) 甲丁
50. 目前 汶萊 以專屬經濟區為由聲稱擁有約五萬平方公里的南沙群島 海域，其範圍包括南通礁；而 中華人民共和國、中華民國、馬來西亞 以及 越南 等鄰近國家也均宣稱擁有該群島的海域管轄權。請問：上述國家是因為哪些國家要素發生爭議？(甲)人民(乙)領土(丙)主權(丁)政府
- (A) 甲乙 (B) 甲丁 (C) 丙丁 (D) 乙丙

新北市立新莊國民中學 107 學年度第 1 學期第 1 次段考 8 年級社會領域試題

解答

1	2	3	4	5	6	7	8	9	10
B	A	C	D	D	D	C	A	C	B
11	12	13	14	15	16	17	18	19	20
A	B	D	C	B	A	B	C	D	C
21	22	23	24	25	26	27	28	29	30
C	A	D	A	B	C	D	A	C	C
31	32	33	34	35	36	37	38	39	40
D	B	A	B	C	B	A	C	B	D
41	42	43	44	45	46	47	48	49	50
A	D	C	D	B	A	C	A	B	D