

新北市立新莊國民中學 110 學年度第 2 學期第 1 次段考 7 年級社會領域試題卷

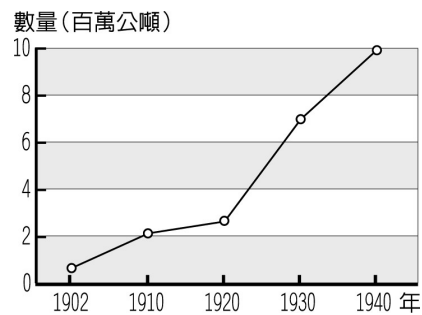
班級 座號 姓名

※ 選擇題：本試卷共 50 題，每題 2 分，總分為 100 分。
每一題均為單選題，請選出最適當答案。

※ 請用 2B 鉛筆在答案卡上相應的位置畫記。

1. 某一布告中提到：「……國際公法規定，若割讓土地無法被當地人民所接受，則該約便無法成立，外國已有前例可循。若各國能仗義執言，使臺灣歸還大清，臺民願以所有利益回報。」此布告最早可能出現於下列何時？
(A)1937 年中日戰爭爆發後 (B)第一次世界大戰爆發後
(C)馬關條約簽訂後 (D)清法戰爭發生時
2. 臺灣總督兒玉源太郎來臺後，深知要解決「土匪」問題必須善用警察。因此在民政長官後藤新平的推動下，於總督府設置警察本署，建立總督府中央、地方一條鞭式的警察指揮系統，並讓地方警察掌管地方事務，形成「警察政治」的體制，臺灣儼然成為日本殖民地之「警察國家」。請問：兒玉總督想用警察解決的「土匪」，最有可能是指下列何者？
(A)伺機抗日的臺民 (B)來臺的日本流浪漢
(C)居無定所的羅漢腳 (D)大陸來臺的抗日義軍
3. 維基百科記載：西元 1896 年 3 月 30 日，日本國會頒布法律，特別賦予臺灣總督律令制定權，在其管轄區域內得發布具有法律效力的命令，而且緊急命令可不經中央主管機關呈請天皇裁決而立即發布。在日本本國，制定法律是國會的權力，緊急命令只有天皇可以發布。然而臺灣總督卻擁有這兩項大權。此外擁有行政權的總督本身具有軍人背景又可指揮軍隊、還肩負司法權與立法權下，可視為威權統治的代表。有關於這段歷史的發展，下列何者正確？
(A)上述頒布的法律是《六三法》
(B)此法頒布後，開始皇民化時期
(C)當時總督由軍人擔任是為因應中日戰爭爆發
(D)臺灣人用「大人」來稱呼臺灣總督
4. 楊逵（1906 年—1985 年），日治臺灣小說家，《送報伕》是其代表作。在他的晚年自述中提到「當我九歲時某事件發生，日本動用武裝部隊去鎮壓。這段時間，整個鎮上的每一家都關門閉戶…」此即西來庵事件。請問：下列關於西來庵事件的敘述何者錯誤？
(A)主要是余清芳策劃此抗日行動
(B)地點在現今的台中市玉井區
(C)利用宗教信仰吸引民眾
(D)此事件後漢人轉以非武裝的政治社會運動
5. 田健治郎來臺灣上任臺灣總督時，曾說：「我姓田，百家姓裡面也有，所以我和臺灣人都是一家人，對於臺灣人的處境我非常了解，非常同情。」這位首任文官總督的說法，是由於當時日本在臺灣推動哪一項政策？
(A)理蕃政策 (B)農業台灣
(C)皇民化運動 (D)內地延長主義
6. 2015 年的紀錄片《蘆葦之歌》，講述臺灣慰安婦的故事，參與演出的小桃阿嬤從小立志當老師，然而在 70 多年前，她卻在去臺南女中的上學途中，被日本警察強押到海外做慰安婦，受害期間長達 1095 天，直到日本戰敗回臺，已經 24 歲，是擔任慰安婦時間最長的臺籍阿嬤，曾多次親自到日本法院，以慰安婦身分打官司，她生前曾說，這輩子就等日本一個道歉。請問：小桃阿嬤被強迫做慰安婦的時代背景應是下列何時？
(A)中法戰爭期間 (B)甲午戰爭期間
(C)西來庵事件期間 (D)中日戰爭爆發期間

7. 台南烏山頭水庫旁有一個日式宿舍園區，導覽內頁說明此園區的是日本技師八田與一和同僚的宿舍群，為了使工人能勞役平衡，還設置醫院、澡堂、網球場等設施。請問當時八田與一與同僚及工人是在進行哪一工程？
(A)興建發電廠 (B)修築水利工程
(C)農作物品種改良 (D)修建西部縱貫鐵路
8. 米是東方人的主食，臺灣俚語說「一樣米飼百樣人」、「吃飯皇帝大」，可見米食在臺灣的地位。日本人引進粳稻在臺灣改良、種植成功，使台灣除了糯米、在來米之外，又多了蓬萊米，豐富了臺灣的米食文化。此一「蓬萊米」的改良應為下列何者所培植成功？
(A)磯永吉 (B)邱逢甲 (C)八田與一 (D)後藤新平
9. 晉豪在書上讀到：「……氤氳的霧中/仍有許多枯骨半埋/在花岡山上龜裂的泥層中/猶抱著遺憾/哀泣依舊/與濁水溪的滾滾流水/傳唱成賽德克的悲歌」關於這段詩句所描述的事件，下列何者有誤？
(A)發生時地：西元 1930 年，今南投縣仁愛鄉
(B)爆發背景：總督府推行理蕃政策、掠奪資源
(C)領導：賽德克族頭目莫那魯道
(D)影響：漢人改以社會運動爭取權益
10. 日治初期，臺人反抗事件層出不窮與財政入不敷出需要日本本國大力援助，導致日本政府飽受國際社會嘲笑，認為不具備治理殖民地的能力。甚至當時日本瀾漫著《臺灣賣卻論》的思維（將臺灣以一億日圓賣給法國），最後在當時民政長官積極推動基礎建設與財政改革下，臺灣脫離入不敷出的窘境。請問：下列台灣的建設，何者不是日本首創？
(A)興建機場
(B)實施專賣制度
(C)成立臺灣銀行
(D)設立郵政、電報等通訊設施
11. 小華在網路上報名一個旅遊行程，簡介說明如下：旗幻山城的老派時光！彷彿童話故事場景的旗山火車站，穿越時空隧道的老街石拱迴廊，穿梭在巴洛克建築的洋牌樓間，一秒飛到日本的旗山武德殿與鳥居神社，猶如地下宮殿的上水道淨水廠，最後再到鮮緹手作工坊買好吃香蕉蛋捲，順買散步點心旗山老街菠蘿泡芙，再到旗尾糖廠吃道地香蕉冰，與旗山老街來場老派約會！由導覽簡介知道，這趟旅行參觀許多旗山的歷史景點，由這些景點可知旅行社規劃的行程偏重哪一主題？
(A)清領後期的現代化建設
(B)開港通商後的社會文化變遷
(C)日治時期台灣的社會文化
(D)戰後民間飲食文化的變遷
12. 附圖為日治時期臺灣蔗糖的生產量曲線圖。請問下列何者不是蔗糖產量提升主要原因？
(A)推動「工業日本，農業台灣」政策
(B)嘉南大圳的興修
(C)新式機器與技術的引進
(D)總督府保障蔗農的生產與價格。



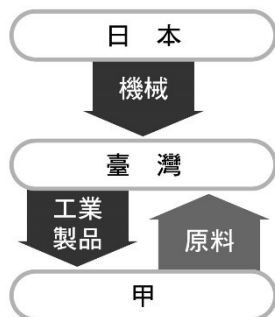
背面尚有試題

新北市立新莊國民中學 110 學年度第 2 學期第 1 次段考 7 年級社會領域試題卷

班級 座號 姓名

13. 一九三〇年代以後，在總督府的政策推動下，臺灣轉變成爲日本重要的工業生產地，區域分工如右圖所示，請問圖中「甲」應是指下列何者？

(A) 中國 (B) 東南亞
(C) 朝鮮 (D) 日本



14. 西元 1937 年後，日本展開侵華戰爭，全力推行皇民化運動。請問：下列哪些經歷應該是此一時期所呈現的景象？

(A) 燕如與姐姐一起穿著唐裝到學校上漢語課
(B) 又恩在廟口欣賞京劇《霸王別姬》的演出
(C) 義軒在大街上看到政府徵召臺灣人從軍的海報
(D) 怡靜聽聞泰雅族原住民遭受日軍的鎮壓

【第 15 至 16 題為題組】

- ※ 後藤新平向日本國內申請成立專屬組織，主要任務為調查台灣人的舊有習慣，又稱「舊慣調查」。以下為其理由書，請詳閱後配合所學回答下列問題：

本島(台灣)納入帝國版圖經歷七年...現在是確立法律制度、提振殖產興業，講求法治、經濟大計的時機。然而本島長久以來在清國治理下，島上法律、經濟皆存在各種舊有習慣，就法律觀點觀之，各種舊慣與法律互存，其中土地權利關係，親族繼承規則等最為複雜，無法用與內地相同的法律規範...。交通運輸、貨幣、度量、保險、信用工會等機構因襲舊慣，有諸多不便，皆是妨礙農商工業發展的原因。這些事情多是數百年來的慣習造成，新的制度如果貿然改革實施，不只造成民眾視聽混淆的恐慌，恐也會令原有良善制度為之消失;故此，在今日宜調查此類舊慣考究其利害，加以取舍，從法律、經濟兩方調整，為當今最緊急的事情，故有設置本調查會必要。

15. 後藤新平進行舊慣調查的考量，正確的分析應是？

(A) 為了打擊台灣民主國的抗日活動
(B) 為了解決霧社事件後的土地問題
(C) 為了滿足強化殖民統治及增加財政的需求
(D) 為了配合南進政策的各項工業建設

16. 文中提到的貨幣問題，後來是以設立哪家銀行來進行整頓？

(A) 台灣銀行 (B) 中央銀行 (C) 台北銀行 (D) 高雄銀行

17. 下列敘述何者錯誤？

(A) 臺灣人口持續增加中
(B) 臺灣近年來出生率、死亡率皆低
(C) 臺灣近年的社會增加率在 0% 上下擺盪
(D) 自然增加率是影響臺灣人口成長趨勢的主因

18. 下列何者屬於人口遷移的推力？

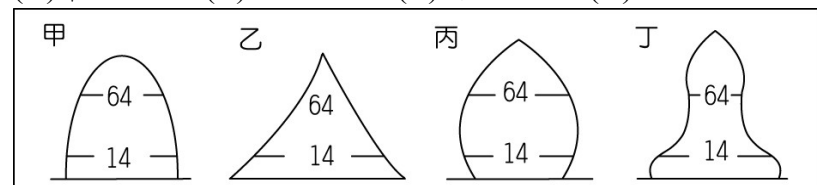
(A) 生活機能強 (B) 工作機會多
(C) 生活環境佳 (D) 戰爭

19. 以下行政區中，何者近年人口減少趨勢最明顯？

(A) 新竹市 (B) 桃園市 (C) 新北市 (D) 臺北市

20. 參考下圖四個國家的人口金字塔，何國面臨少子化狀況？

(A) 甲 (B) 乙 (C) 丙 (D) 丁



21. 臺灣漢人的祖先大多來自中國何區域？

(A) 西南部 (B) 西北部 (C) 東南部 (D) 東北部

22. 臺灣新住民的來源地以何國最多？

(A) 泰國 (B) 印尼 (C) 中國 (D) 越南

23. 臺灣穆斯林的人數較少，伊斯蘭教的宗教建築稱為？

(A) 伯公廟 (B) 清真寺 (C) 教堂 (D) 宗祠

【第 24 至 33 題為題組】

閱讀以下資訊，回答下列問題：

某國人口 500 萬人，面積 50 萬平方公里，該年出生 25 萬人，死亡 20 萬人，移入 5 萬人，移出 4 萬人，0-14 歲共 125 萬人，15-64 歲共 350 萬人，65 歲以上共 25 萬人，男性 225 萬人，女性 275 萬人。

24. 該年的人口密度為多少人/平方公里？

(A) 0.1 (B) 1 (C) 10 (D) 100

25. 該年的出生率為？

(A) 20‰ (B) 50‰ (C) 80‰ (D) 100‰

26. 該年的死亡率為？

(A) 20‰ (B) 25‰ (C) 35‰ (D) 40‰

27. 該年的自然增加率為？

(A) 10‰ (B) 40‰ (C) 80‰ (D) 90‰

28. 該年的移入率為？

(A) 8‰ (B) 10‰ (C) 12‰ (D) 14‰

29. 該年的移出率為？

(A) 8‰ (B) 10‰ (C) 12‰ (D) 14‰

30. 該年的社會增加率為？

(A) 2‰ (B) 8‰ (C) 12‰ (D) 18‰

31. 該年的人口增加率為？

(A) 8‰ (B) 12‰ (C) 20‰ (D) 30‰

32. 該年的扶養比約為？

(A) 13% (B) 23% (C) 33% (D) 43%

33. 該年的性別比約為？

(A) 82 (B) 92 (C) 112 (D) 122

34. 臺北市防疫專線由專人協助居家檢疫者安排採檢、探病及奔喪事宜，一旦接到檢疫者的家屬在加護病房或安寧病房的緊急探視需求，均以特急件安排相關事宜，讓惦記親人的心願得以了卻。但少數探病轉為奔喪，最終可能還是留下不捨和遺憾。上述關於讓居家檢疫者得以探病及奔喪的考量是基於文化的哪一個特性？

(A) 普遍性 (B) 差異性 (C) 累積性 (D) 制約性

35. 下表為小婕的公民隨堂測驗，答案依序為何，才能得到滿分？

(A) ○○○XX (B) ○○XX○
(C) ○X○XX (D) ○X○X○

- () (1) 青少年的次文化有共通的流行語、追星、動漫、使用網路社群媒體分享動態等。
() (2) 臺灣在過去日本的皇民化運動及國民政府的國語運動帶來優越的文化發展。
() (3) 印度教不吃牛肉，伊斯蘭教不吃豬肉，不同宗教的規範亦呈現出文化的差異性。
() (4) 傳統「五倫」的內涵不因時間和社會環境而改變。
() (5) 泰雅族的紋面傳統隨時代而變遷。

繼續作答下張試卷

36. 下列哪一個選項最能符合下文的敘述？

- (A)強勢文化的擴張 (B)主流文化優於次文化
(C)弱勢文化的反撲 (D)主流文化融合次文化

漫威電影宇宙系列 (英語：Marvel Cinematic Universe films) 是美國超級英雄電影，根據漫威漫畫出版物中的角色進行改編。這些電影自 2007 年起開始製作，至今漫威影業已出品了 27 部電影，另有十多部影片正處於不同的製作階段。該系列至今已在全球累積了超過 225 億美元的票房成績，使其成為有史以來所有系列電影中票房收入最高的電影系列。「復仇者聯盟：終局之戰」在全臺賣破 9 億，對於臺灣電影而言彷彿是遙不可及的神話。

37. 下表為阿亮在公民課堂上所做的報告，並請同學根據公民課所學的內容進行分享，何人所提出的不正確？

- (A)芊芊：文化的制約性，使得民眾到新年時大都會進行屬於自己文化的新年活動
(B)阿翊：跨年活動為社會規範中的風俗習慣
(C)小炳：每個國家新年時都有慶祝的儀式是文化的差異性
(D)小薰：跨年活動是相沿成習、約定成俗的慣例

Happy New Year 各國跨年大不同

- ★韓國：吃下健康、長壽象徵的年糕湯
★西班牙：吃下 12 顆葡萄 ★挪威：製作花環蛋糕
★丹麥：去別人家門口摔東西 ★厄瓜多：燒紙人

38. 康康參加某節目的賓果遊戲，題目如附表，已知某社會規範的兩項說明，為了賓果連成一線，表中【甲】應該填入何者最為關聯？

- (A)主要效果為良心的譴責、社會輿論的批評
(B)《道路交通管理處罰條例》嚴懲酒醉駕車不法行為
(C)形成獎善懲惡的教義來約束日常生活
(D)社會中長期累積而形成的

由立法機關制定		
	【甲】	
		國家透過公權力處罰

39. 下列同學們所發表的言論，何者未具備尊重文化多元的觀點？

- (A)小夢：入境隨俗，避免文化衝突
(B)瑄瑄：強調文化位階，避免自我傳統文化認同的危機
(C)小菲：響應國際母語日，重視不同語言的保護
(D)阿智：主流文化與次文化並存，展現多樣的特性

40. 請問：下列兩則新聞可看到何種社會規範的呈現？

- (A)倫理道德 (B)風俗習慣 (C)宗教信仰 (D)法律

新聞報導一：科技巨擘蘋果公司宣布，停止在俄羅斯所有產品的銷售並發表聲明：「我們對俄羅斯入侵烏克蘭深感關切，並與所有因暴力事件而遭受苦難的人站在一起」，「我們支持人道努力，為正在蔓延的難民危機提供援助」。

新聞報導二：SpaceX 公司創辦人馬斯克親自表示烏克蘭可以使用星鏈計畫，代表無論俄羅斯的砲火是否進一步破壞烏克蘭的網路設備與建置，烏克蘭仍可維持網路暢通，也可以繼續透過手機直播破除俄方蓄意散佈的各種假消息。

41. 107 年元旦起，政府針對百貨公司業、購物中心、量販店業、連鎖便利商店業、連鎖速食店、飲料店業等 14 類商家，不得免費提供塑膠袋，違者處新臺幣 1,200 至 6,000 元以下罰鍰。請問：下列何者最為接近上面的敘述？

- (A)法律只規範人的外在行為
(B)國家具有強制力來處罰違反法律者
(C)國家需依一定的程序來制定法律
(D)法律無法規範人民內在的真實想法

42. 下圖為小雯熱烈響應學校辦理的減塑活動，此活動的內容與下列何者為相同的社會規範？

- (A)為阻絕非洲豬瘟，禁止入境旅客攜帶肉品入境
(B)西方人對「13」這個數字很忌諱，有的大樓沒有 13 樓，有些機場也不會設 13 號登機門
(C)參觀元宵節燈會，依序排隊觀賞，且不任意破壞作品
(D)伊斯蘭教徒每日會向聖地方向朝拜五次



43. 公民老師要求同學依照文化的特性進行分組報告，小恩看見帆帆找了下面的一張圖片。請問：帆帆那一組要報告的應該是文化的哪一個特性？

- (A)普遍性 (B)差異性 (C)制約性 (D)累積性



【第 44 至 46 題為題組】

第十三屆金曲獎年度專輯得主阿爆(甲)是排灣族原住民，但在高雄長大，她受訪時曾說：(乙)父母擔心她被貼上「山地人」的標籤被欺負，因此不和她講族語。朋友問她能否用排灣族語數數字時，她才驚覺她的母語並不流利。

(丙)她的歌曲結合藍調、電音，並加入華語、閩南語、英語，顛覆以往大眾對原住民音樂的印象。她說：「很多原住民年輕人想接近自己的文化，可是找不到方法，音樂是很好的方式。(丁)像吃飯，西餐、韓式、日式，可是要有一個味道是屬於自己原來族群的口味，不用每天吃，但起碼要有一個選項是它。」

44. 根據文中，哪一段文字隱含文化位階的概念？

- (A)甲 (B)乙 (C)丙 (D)丁

背面尚有試題

45. 下列哪一個選項是(丁)這段話最好的註解？

- (A)肯定認同自我文化
- (B)文化並無高低優劣之分
- (C)文化融合讓文化更加豐富多元
- (D)建立相互尊重與包容的態度

46. 下列何項作法無法破除不平等現象？

- (A)「大陸新娘」及「外籍新娘」正名為「新住民」
- (B)明定保障臺灣各固有族群的自然語言和手語的傳承
- (C)多以自我觀點評斷他族文化
- (D)尊重文化的異質性、維持不同文化的特殊性

【第 47 至 50 題為題組】



鬼殺隊



八嘎囧

圖片來源：擷自「台灣迷因 taiwan meme」臉書

日本動漫《鬼滅之刃》因其超人氣而引發討論，有網友將鬼滅之刃當中的鬼殺隊與八家將相比較，笑稱兩者有高度相似的特色。文化部趁此風潮，幫八家將洗刷負面印象 - 「臺灣的真•鬼殺隊」。

媒體報導或是坊間閒聊將八家將戲稱為「8+9」，甚至將其與青少年犯罪、違法鬧事等負面形象連結，形成對宮廟文化的刻板印象。文化部指出，八家將及官將首，都屬於民間傳統藝陣的一環，在神明出巡時，執行為神明開路、輔佐抓鬼的任務。在古早臺灣傳統社會扮演安定人心、凝聚地方的關鍵角色。文化部盼拿掉被標籤及汙名化的偏見，看到八家將的價值！

47. 根據文中，對於八家將的描述，應為下列何種社會規範？

- (A)風俗習慣 (B)倫理道德 (C)宗教信仰 (D)法律

48. 承上題，關於此種社會規範的相關敘述，何者正確？

- (A)社會中長期累積的生活經驗
- (B)人類對人生或宇宙奧秘產生的敬畏心理
- (C)人類生活中最早發展出來的社會規範形式
- (D)具有強制性的社會規範

49. 關於八家將的描述，下列敘述何者正確？

- (A)為次等文化，與主流文化有所差異
- (B)與主流文化互相排斥而被貼上負面標籤
- (C)社會上多數人認同的價值和信仰
- (D)展現多元豐富文化的生命力

50. 下列敘述何者正確？(甲)日本文化為我國的主流文化

- (乙)日本文化對我國而言為強勢文化 (丙)透過商品或媒體等方式，容易不自覺接受其所傳遞的觀念 (丁)全面接受強勢文化可使國家更為先進

- (A)甲乙 (B)甲丙 (C)乙丙 (D)乙丁

試題結束

新北市立新莊國民中學 110 學年度第 2 學期第 1 次段考 7 年級社會領域試題
解答

1	2	3	4	5	6	7	8	9	10
C	A	A	B	D	D	B	A	D	D
11	12	13	14	15	16	17	18	19	20
C	D	B	C	C	A	A	D	D	C
21	22	23	24	25	26	27	28	29	30
C	C	B	C	B	D	A	B	A	A
31	32	33	34	35	36	37	38	39	40
B	D	A	D	D	A	C	B	B	A
41	42	43	44	45	46	47	48	49	50
B	C	D	B	A	C	C	B	D	C