

※ 選擇題：本試卷共 50 題，每題 2 分，總分為 100 分。
 每一題均為單選題，請選出最適當答案。

※ 請用 2B 鉛筆在答案卡上相應的位置畫記。

- 相較於都會區學生，偏鄉孩子因為學習資源與親子陪伴較為貧乏，無法從小培養閱讀習慣。兒童福利聯盟公布調查報告，指出偏鄉孩子閱讀的資源少、家人難陪伴與偏鄉少圖書等三大困境。上述內容凸顯台灣社會哪一項議題上不公平？
 (A)個人財富沒有得到合理分配
 (B)城鄉差距使得需求滿足不公
 (C)個人付出沒有得到相對認可
 (D)個人責任上承擔比例不合理
- 關於「社會安全」概念的說法，下列敘述何者錯誤？
 (A)現代社會安全政策是從極權國家開始發展
 (B)社會安全的思維可追溯到宗教的慈善觀念
 (C)社會安全就是基於人人生而平等的概念進而實現社會公平正義
 (D)社會安全秉持著「社會互助、共同承擔風險」的精神
- 2021 年高雄市鹽埕區「城中城大樓」火警，高雄市社會局派出社工為火警傷患及家屬提供相關協助，致送關懷慰問金每人 1 萬元，並同步啟動「緊急安置計畫」，區公所同步協助民眾申請災害救助金。這是屬於我國哪一項社會福利政策範疇？
 (A)社會安全 (B)社會津貼 (C)福利服務 (D)社會救助
- 依照身心障礙者專用停車位設置管理辦法，亂停路邊身心障礙者停車格，可依道路交通管理處罰條例，罰車主 600 元以上、1,200 元以下罰鍰。也就是說，當你沒有「身心障礙者專用停車位識別證」卻占用身心障礙者停車格，法律會依法開罰。請問：「身心障礙者專用停車位」這是屬於我國哪一項社會福利政策？
 (A)社會救助 (B)福利服務 (C)社會保險 (D)居住正義
- 在日本，孩子出生時，男女都有權休一年育嬰假，但由於工作壓力，2018 年日本只有 6% 的父親申請，而申請的母親則有 82%，但是根據調查其實有 86% 男性勞工想要請育嬰假，卻又擔心遭人非議。日本環境大臣小泉進次郎表示，他計劃在小孩出生後，申請「育嬰假」。這在日本是一個罕見的決定，此事成為日本的重要新聞並引發社會熱議。從「公平正義」的觀點判斷，何者正確？
 (A)為了社會整體利益，男性應犧牲個人，不請育嬰假
 (B)女性處於社會弱勢的地位，優先享有請育嬰假的權利
 (C)性別因素影響，男性申請育嬰假的需求無法滿足
 (D)社會階級影響，僅政府官員能請育嬰假而有不公平
- 我國《民法》明文規定：「夫妻於日常家務，互為代理人」，意思是家務應由家人共同承擔並非單一方的工作。但衛福部統計發現，職業婦女平均每日家務勞動工作時間仍高達 4.2 小時，而男性僅 1 小時，由此可看出我國在哪一層面仍存有不公平現象？
 (A)責任承擔 (B)貢獻肯定 (C)利益分配 (D)需求滿足

7. 右表所列的是政府推動的部分社會福利政策。其中哪些是屬於「健康與醫療照護」的項目？

項目	福利政策
甲	國民年金保險的實施
乙	加強新流感的防疫措施
丙	兒童課後輔導機構
丁	新住民生活輔導適應班
戊	推行國民保健工作

(A)甲乙 (B)甲戊 (C)乙戊 (D)丙丁

- 我們經常會面臨一些不公平的處境，有時會對於這些不公平有負面的感受，因此常會去思考是什麼原因造成不公平，以下敘述何者錯誤？
 (A)社會地位造成社會階級，可能會因而產生不公平的感受
 (B)有些是與生俱來的或傳承的社會地位因而產生不公平，這是無法改變的
 (C)不同的社會地位不會影響個人取得資源的機會與能力
 (D)當資源與機會取得是依據社會地位來決定，就可能讓人處於不公平的處境
- 如圖為「社會安全發展示意圖」，根據示意圖判斷，下列敘述何者正確？



- (A)早期的社會安全是在提升全民生活福祉
 (B)現代社會安全強調扶助弱勢者
 (C)現代社會安全是政府必須運用公權力承擔的責任
 (D)現代社會安全均由民間團體推動較貼近民眾想法
- 「全球女性工作外派調查報告」最新調查顯示，高達 71%、一九八〇年至一九九五年出生的 Y 世代女性上班族，希望工作能有國際外派的機會，然而，現階段全球外派人口中僅 20% 是女性。全球女性上班族對於外派的需求日益增加，但這樣的需求卻無法反映現實狀況，企業的外派員工男女比例上，女性員工的代表性仍不足。上述情形主要違反下列何者？
 (A)在機會均等下給予弱勢群體較多照顧
 (B)每個人都能公平的取得地位或資源
 (C)人人有權過著有尊嚴的生活
 (D)人人皆享有自由結社的權利
- 下列我國各項社會福利措施及其所具備的特點配對，何者正確？
 (A)國民年金—以福利服務滿足國民多元化需求
 (B)身心障礙者居家服務—以社會救助為社會安全最後一道防線
 (C)重陽敬老禮金—以社會津貼補充社會保險不足
 (D)防疫補助金—以福利服務營造有利人民身心健康的生活環境

【第 12 至 14 題為題組】

電影【寄生上流】是 2019 年上映的一部具黑色幽默的韓國驚悚劇情片，主要敘述社會貧富不均、階級差距，內容充滿隱喻對比，以幽默的諷刺方式傳達社會底層為了生存而遊走在道德邊緣、上流社會資本主義的現實和荒誕，讓觀眾在詼笑之餘反思社會貧富不均導致人性善惡之別，以及一種對於社會階級的捷伐。近日，法國影后羅蕾卡拉米在新片《豪門心計》化身在魚罐頭工廠上班的員工，靠心機和「富爸爸」相認，一心想爭家產，行為亦堪稱「寄生上流」。

- 若想改善上文中上流社會及社會底層之間存在的「階級問題」，下列何種方式較為有效？
 (A)落實結社自由 (B)保障基本生活
 (C)提供照顧服務 (D)促進社會流動

新北市立新莊國民中學 111 學年度第 2 學期第 3 次段考 7 年級社會領域試題卷

班級 _____ 座號 _____ 姓名 _____

13. 為減少類似「寄生上流」的不公平現象，下列何者作法 不適合？

- (A)每個人都應該享有基本自由和權利
(B)確保每個人都有公平機會取得相關資源
(C)對弱勢團體提供更多照顧與利益
(D)推行共產國家的財產公有制度

14. 某些看完電影後的民眾，有感而發表示：「若政府能夠提供協助，照顧低收入戶或遇災受害者，維持其基本生活，協助其脫離貧困，或許就不會出現電影中荒誕的劇情。」這些民眾的想法，和下列哪一項社會福利政策的內涵相似？

- (A)社會救助 (B)福利服務 (C)社會保險 (D)居住正義

【第 15 至 16 題為題組】

台北萬華龍山寺捐贈一輛到宅沐浴車予門諾基金會，讓花蓮門諾基金會得以將自 2009 年起開辦的到宅沐浴服務。透過特殊製作的玻璃纖維床板、加壓馬達、蓮蓬頭等器材，以三位照服員為一組的服務模式，克服偏鄉環境（有的臥床者家中無熱水或空間窄小），減低移位風險，讓長輩能在自己床上洗澡。提供失能者沐浴服務不僅僅可以使失能者改善身體舒適度，也證實此服務可解決長期臥床所衍生的褥瘡、皮膚病、新陳代謝方面的疾病及生理問題，同時讓家庭照顧者也可喘口氣，提升家庭生活品質，更讓失能者能有尊嚴的繼續生活。

15. 上述花蓮門諾基金會的到宅沐浴服務，可以改善哪一種不公平處境？

- (A)利益分配 (B)需求滿足 (C)貢獻肯定 (D)責任承擔

16. 花蓮門諾基金會自 2009 年起開辦的「到宅沐浴服務」，和下列哪一種社會福利政策的內涵相似？

- (A)社會救助 (B)福利服務 (C)就業安全 (D)居住正義

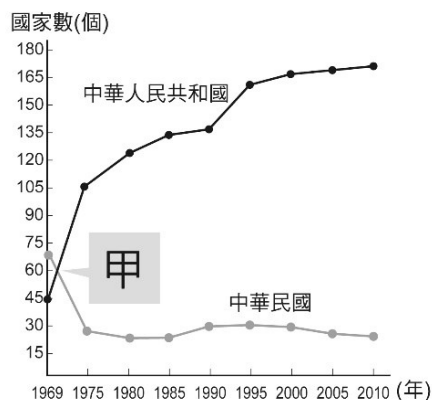
17. 好萊塢電影《捍衛戰士：

獨行俠》，短短 10 天就在台灣賣出超過 1.2 億元票房佳績，劇中阿湯哥的飛行外套也受到大眾的注目(如右圖)。請問：關於外套上一同繡有美國、中華民國、日本及聯合國旗幟，應是在下列哪一時空背景下產生？



- (A)二次大戰時，美國與中華民國結盟對抗日本
(B)美國與中共爆發貿易戰爭後，結盟臺灣與日本
(C)中華民國退出聯合國，美國另與日本及臺灣組成亞太合作會議
(D)韓戰爆發後，美國將臺灣納入東亞反共防衛體系的一環

18. 自 2023 年 3 月宏都拉斯與我國斷交後，目前中華民國僅有 13 個邦交國。右圖是中華民國與中華人民共和國邦交國變化曲線表。表中兩條曲線相交的（甲），發生了何事？



- (A)韓戰爆發
(B)中華民國退出聯合國
(C)臺灣與美國斷交
(D)兩岸開始小三通

19. 2018 年 8 月新聞報導：在中共「八一」建軍節當天，美國國會完成下年度《國防授權法案》立法程序，將咨請川普總統簽署施行。該法案包括多項友臺條款，在具有強制力的條款中，明文責成美國國防部「全面評估臺灣的軍力」，並依據評估結果展開各項具體作為。法案也建議美國派遣醫療船訪臺。聯邦參議院 1 日以 87 票贊成、10 票反對通過 2019 會計年度《國防授權法案》。聯邦眾議院已在 7 月 26 日以 359 票贊成、54 票反對通過此一法案，因此法案將咨請川普總統簽署施行。該法案提及美國依據《臺灣關係法》，應經由對外軍售、直接商售及產業合作，強力支持臺灣獲得防禦性武器。而《臺灣關係法》是在中美斷交後，由美國國會另訂以維持非官方關係。請問：中美斷交時，當時的中華民國總統是何人？

- (A)蔣經國 (B)蔣中正 (C)李登輝 (D)馬英九

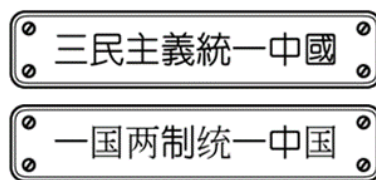
20. 新莊國中林老師在黑板上貼上某地的簡介，請依內容判斷，找出該地在附圖上的位置？

- (A)甲 (B)乙
(C)丙 (D)丁

位置	臺灣西方的離島
歷史特色	兩岸武力對抗時，此地曾發生兩次重大戰役
景觀特色	地質結構上與中國大陸相連，古蹟及文化景觀眾多，成立「國家公園」



21. 謝先生是在中國福建經商的臺商，常往來於金門與廈門兩地，他看到如下圖兩則不同的宣傳標語。請問：設立這些標語的時代背景為何？



- (A)我國終止《動員戡亂時期臨時條款》
(B)八二三炮戰之後兩岸形成武力對抗
(C)中共與美國建交後採和平統戰策略
(D)我國政府開放民眾赴中國大陸探親

22. 下圖是兩岸交流事務處理機構的示意圖。由於兩岸開始交流互動，不少兩岸問題也由此衍生而出，迫切需要建立溝通聯繫機制來處理解決。根據圖中的內容判斷，圖中的「乙」和「丙」機構名稱分別是下列何者？



- (A)大陸委員會、海峽交流基金會
(B)臺灣事務辦公室、海峽兩岸關係協會
(C)臺灣事務辦公室、海峽交流基金會
(D)大陸委員會、海峽兩岸關係協會

23. 近年來，中華人民共和國的戰機不斷擾臺，飛機多次進入我國防空識別區，影響我方飛航安全，是因為自兩岸分治以來，中共一直堅持擁有臺灣主權，並提出多項對臺政策。下列何者 不是 由中共提出的主張？

- (A)一國兩制 (B)解放台灣 (C)三不政策 (D)和平統戰

繼續作答下張試卷

24. 下圖是民國 96 年達達全家到臺灣外島旅遊時，在當地港口看到之告示。請問：下列哪一個地點是不可能會出現下圖告示的地方？

每日往返兩岸班次：
 【地點】→福州馬尾：下午 14：00
 福州馬尾→【地點】：上午 09：15
 ◎注意事項：
 請於開船時間前 1 小時， 至各港口辦理購票登船手續。
 因關係旅客上下船因素， 上述為預估時間， 正確時間當日洽旅行社較妥。

- (A)蘭嶼 (B)金門 (C)馬祖 (D)澎湖

25. 下圖漫畫顯示西元 1945～1970 年，兩岸與國際外交關係的變化。如果要將漫畫按照發生的時間先後排列，下列何者正確？



- (A)甲乙丙 (B)甲丙乙 (C)丙甲乙 (D)乙丙甲

26. 右表是某些年分臺灣佃農每年每公頃收益統計，表中的數字演變反映出政府的哪一項政策？

年代	佃農稻穀收益數
1948 年	1,947 公斤
1949 年	2,788 公斤
1953 年	3,991 公斤
1968 年	6,925 公斤


- (A)提高農會功能並興修水利工程
- (B)實施三七五減租與耕者有其田
- (C)推動進口替代政策以振興農業
- (D)推動十大建設，帶動國內景氣復甦

27. 下表為台灣經濟發展在不同階段的成果，其出現先後的排列應為？

- (A)①②③④ (B)②①④③ (C)③①②④ (D)④③①②

①	發展小而美的高科技產業已發揮成效
②	經濟自由化和國際化已奏效
③	十大建設已成功扮演了工業發展的火車頭
④	朝野運用外資發展加工出口業效果顯著

28. 右圖是民國 50 年代時，我國所外銷的家電和日常用品。此一時期海外貿易之所以興盛的原因，與政府當時採取下列哪一個經濟政策有關？



- (A)進口替代 (B)發展重工業
- (C)出口導向 (D)提倡高科技產業

29. 蔡英文總統在 2016 年 11 月 15 日出席「2016 年臺灣-東協對話研討會」時，說明政府「新南向政策」的三項目標，包括：增進相互瞭解、穩步拓展雙向交流及強化全面的夥伴關係，請問如果要響應政府的「新南向政策」，應從事下列何種活動？

- (A)去日本參與遊學打工 (B)參加非洲的志工服務
- (C)到印尼參加青年論壇 (D)參與烏克蘭戰爭的志工團

30. 臺灣的環保運動在某一年代興起，發生反核四運動、反六輕運動，另外還要求造成汙染的工廠遷移。請問：環保運動興起的背景正好是臺灣經濟處於哪一個階段的時候？

- (A)土地改革 (B)進口替代 (C)產業升級 (D)十大建設

31. 請依你所學來解讀下表的内容，請問下列敘述何者正確？

時間	重要抗爭事件
1990 年	高雄桃源鄉梅山村布農族村民北上立法院，抗議劃入玉山國家公園影響生計。
1991 年	原住民組成反對設立雪霸國家公園委員會，在新竹舉行會議，認為大霸尖山是泰雅族的聖山，開發將嚴重侵犯族人生活空間。
1994 年	太魯閣族千餘人前往太管處，以「反壓迫、爭生存、還我土地」為訴求進行抗爭。

- (A)集會言論自由尚未解禁時，原住民已走上街頭抗爭
- (B)在 1994 年修改憲法後原住民正式改稱為山胞
- (C)除了爭取正名和土地權，原住民並沒有其他的訴求
- (D)之後立法院通過原住民族基本法得以保障權益

32. 根據國家語言發展法規定，自 111 學年度起，中小學必修本土語言，包含閩南語、客語、原住民語、馬祖閩東語在內的本土語言以及臺灣手語，小學每周一節，國中一、二年級每周一節，高中增加兩學分。臺灣的母語有瀕臨危險和消失的危機，與二戰後政府限制本土語言發展的政策有關。請問：當年政府限制母語的背景為何？
- (A)戒嚴時期限制人民言論自由
 (B)推行中華文化強化國家認同
 (C)降低美國流行文化對社會的影響
 (D)推行單一語言有助經濟發展

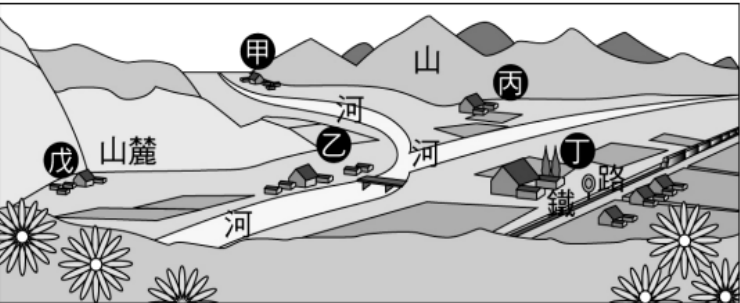
33. 請閱讀下文回答問題：

小說《蘋果的滋味》敘述主角江阿發在上班的路途上，不幸被一位美國軍官所乘座的汽車撞倒，因此撞斷了雙腿，住進美軍醫院療養。沒料到，阿發的整個家庭非但沒有因此陷入困境，該位美國軍官賠償五萬元現金，又願意帶阿發的啞女兒到美國留學。而前來探望傷勢的老婆、孩子及朋友，見到他能待在豪華的醫院裡，反而對他被撞之事，頗感到羨慕不已。後來，阿發讓老婆和孩子品嚐送來作為禮物的美國蘋果，此刻全家人品嘗到天堂的果實...

咬到蘋果的人，一時也說不出什麼，總覺得沒有想像那麼甜美，酸酸澀澀，嚼起來泡泡的有點假假的感覺。但是一想到爸爸的話，說一顆蘋果可以買四斤米，突然味道又變好了似的，大家咬第二口的時候，就變得起勁而又大口的嚼起來，噗喳噗喳的聲音馬上充塞了整個病房。作者黃春明透過小說，以臺灣民情為題材，關懷在地人民的生活，關注勞工等小人物的遭遇，訴說當時窮人家的苦與認命，亦描繪了一個時代的背景，和那個時代人物不同的心理狀態。

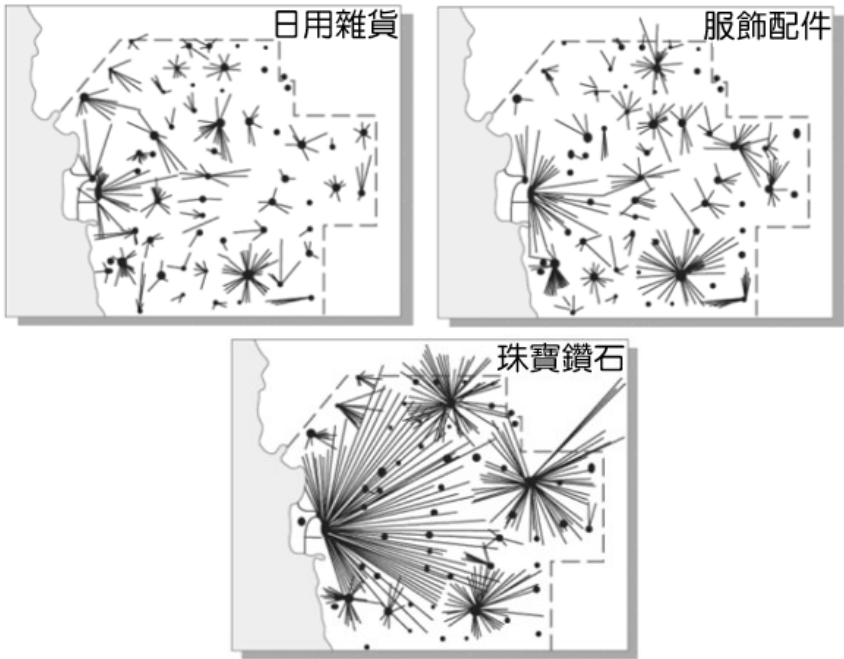
根據上文判斷，這篇小說應該是臺灣哪個時期的文學作品風格？

- (A)民國 40 年代的國語文學
 (B)民國 50 年代的美國流行文化
 (C)民國 60 年代的鄉土文學
 (D)民國 70 年代的本土文化
34. 聚落主要分為鄉村與都市兩種類型，請問鄉村聚落與都市聚落主要依據何種指標而劃分？
- (A)土地面積 (B)建築高度 (C)農家數量 (D)產業類別
35. 每個地方環境不同，請參考下圖中甲、乙、丙、丁、戊處，哪一些聚落較可能發展成都市呢？
- (A)甲、乙聚落 (B)甲、戊聚落
 (C)乙、丁聚落 (D)丙、丁聚落

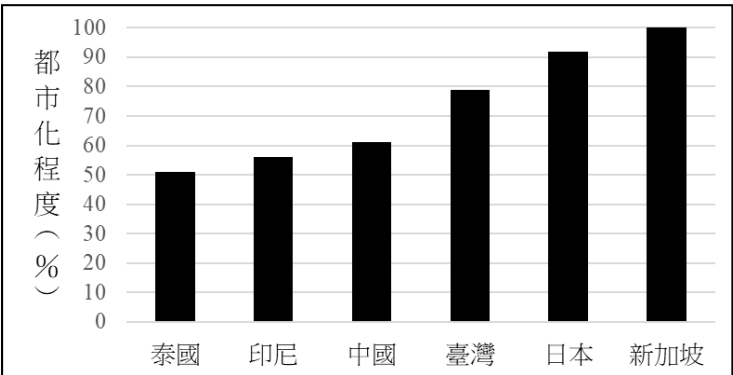


36. 住在澎湖馬公的 89 歲翁阿公罹患帕金森氏症，長期臥床，有氣切及尿管留置，經由長照中心通報，馬公衛生所陳主任前往阿公家看診。實際上，健保署除了提供居家醫療照護服務給家有失能或其他疾病就醫不便的民眾外，也供給二、三級離島居民較多的醫療補助以及 24 小時全年無休的醫療服務。請問相較本島都會環境，離島提供這些醫療補助與服務，希望改善的是台灣何種社會現象？
- (A)交通網絡鬆散 (B)資源分配不均
 (C)人口老化嚴重 (D)資訊落差顯著

37. 下圖為某地居民取得三種不同商品的空間移動示意圖，圖中直線代表的即是移動距離。請參閱圖中資訊，找出下列敘述中，何項最吻合此圖情境？



- (A)購買平均單價較高的商品，移動距離較長
 (B)使用越頻繁的商品，移動距離越長
 (C)珠寶行相較雜貨鋪和服飾店的服務範圍更小
 (D)服飾店應比雜貨鋪和珠寶行的數量更多
38. 台灣現今交通建設完善，無論是對內或是對外交通往來移動都十分方便，但也造成不同運輸系統激烈競爭，紛紛搶食有限的消費市場。請問 2007 年台灣的「高鐵」正式營運後，對於下列何種運輸方式衝擊最大？
- (A)國內航空 (B)沿海海運 (C)公路客運 (D)捷運轉乘
39. 下圖為 2020 年台灣與亞洲主要國家的都市化程度比較圖，請問從圖中可以讀到什麼訊息？
- (A)新加坡與日本的都市人口數多於印尼
 (B)台灣從事第一級產業的人口比例高於中國
 (C)泰國鄉村人口比例高達 60% 以上
 (D)所有新加坡人都住在都市

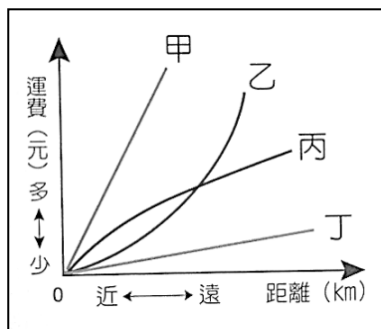


40. 台灣各直轄市交通系統隨時間不斷精進，各有自己的特點，請問下表中各行政區與交通設施的組合中，有哪些「寫錯」了？
- (A)甲、乙、丙 (B)乙、戊、己
 (C)丙、丁、己 (D)丁、戊、己

直轄市	捷運系統	國際港口	國際機場
(甲)新北市	O	O	X
(乙)台北市	O	X	O
(丙)高雄市	X	O	X
(丁)台南市	O	O	X
(戊)桃園市	O	X	O
(己)台中市	O	O	O

【第 41 至 42 題為題組】

右圖為鐵路、公路、水運、空運（未按照順序）在不同距離下的運費示意圖，請依據圖中資訊回答下列問題：



41. 甲、乙、丙、丁四種運輸方式各有自己的特點，請問下列敘述何者是正確的？
- (A)「乙」運輸的機動性略遜於「丙」運輸
(B)「甲」運輸運量是最大的，「丁」運輸是時效性最高的
(C)旅客搭乘「甲」、「丁」運輸常需要搭配轉乘其他交通工具
(D)以長程運輸觀察，運費水平應是「甲」>「丙」>「乙」>「丁」運輸
42. 選擇運輸方式要考量貨物的價值、體積、重量、時效性等條件，再依各種運輸工具的特性做決定，請問下列組合中採行的交通方式，何者是「不可行」的？
- (A)高科技廠：因應晶片荒，台製半導體晶片多採用「甲」運輸快速出口歐美地區
(B)台北小晴：宅配桃園拉拉山水蜜桃回家選擇「乙」運輸
(C)桃機地勤：下班後可利用「丙」運輸趕至新莊輔大醫院探病
(D)台灣糧商：進口大量美國小麥、玉米，多使用「丁」運輸運回國

【第 43 至 44 題為題組】

右圖為台灣區域分布圖，請依據圖中資訊回答下列問題：

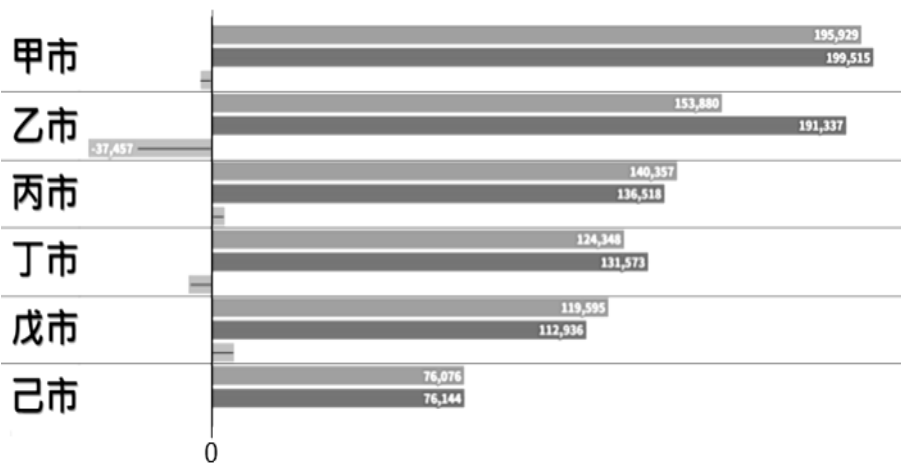


43. 有機農業最重視生態、友善環境，不使用化肥、農藥，生產安全優質健康農產品。台灣的有機農業研究中心肩負重責大任，是全球第五座專責有機單位，也是亞洲第一座的研究中心，目前僅加拿大、美國、英國及瑞士四國有設立，是全球唯一在副熱帶地區的研究中心，除了政府全力支持，也期盼能和鄰近學校、農業團體合作一起推動。請問此有機農業研究中心最可能成立在哪裡？
- (A)甲區 (B)乙區 (C)丙區 (D)丁區
44. 由於各國政府重視節能減碳政策，綠能產業興起，電動自行車具省力、輕便及免駕照等優勢，帶動產值穩定增長，台灣自行車龍頭巨大(GIANT) 結合區域精密機械優越優勢，號召上下游 34 家供應商共組自行車永續聯盟(BAS)，攜手減碳、投入碳盤查、綠色製造，爭取自行車破權，以利擴大歐美市場的外銷商機。請問此聯盟主要群聚於哪個地區？
- (A)甲區 (B)乙區 (C)丙區 (D)丁區

【第 45 至 47 題為題組】

下圖為2022年台灣六個直轄市的遷移人口數統計圖，請依據圖中資訊回答下列問題：

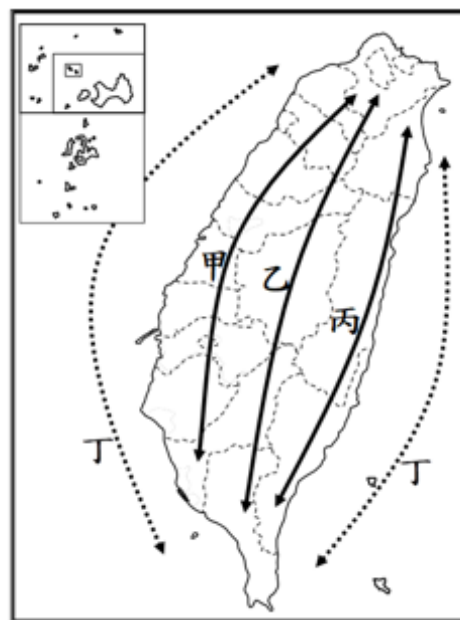
■ 遷入人數 ■ 遷出人數 ■ 總計



45. 目前台灣六都直轄市中，人口「負」成長最明顯的是北、高兩市，請問應是圖中哪兩個城市？
- (A)甲市、乙市 (B)乙市、丁市
(C)丙市、丁市 (D)甲市、己市
46. 承上題，影響台北市人口移出的原因中，房價問題絕對是影響最大的一塊，買不起的人選擇往周邊城市發展，買得起的人又能在外縣市以相同價格獲得更大坪數，再加上 OOOO 發達，民眾可以在兼顧工作生活的同時往稍遠、更便宜的地方移居，導致首都人口連年負成長。根據上文所述，請推測首都發展過程中，究竟是因何種系統發達，發生了下列何種變化？
- (A)大眾運輸發達，發生了郊區化
(B)通訊科技發達，發生了都市化
(C)觀光河運發達，發生了都會化
(D)廉價航空發達，發生了全球化
47. 台灣的直轄市多數已處於人口負成長的狀態，但桃園市與台中市仍是維持人口正成長趨勢的行政區，上圖的戊市即為全台人口正成長最多的直轄市——桃園市，請問下列選項何者「並非」桃園市的人口拉力？
- (A)航空產業蓬勃發達 (B)位置鄰近台北都會
(C)充足土地可供開發 (D)海陸交通完善便捷

【第 48 至 50 題為題組】

右圖為台灣國土空間策略發展計畫圖，請依據圖中資訊回答下列問題：



48. 台積電(tsmc)的全球佈局計畫在海內、外大規模擴廠，目前已確定往美國、日本建設新廠，德國廠則正在評估中；逐步朝向國際化的同時，仍在地深化台灣科技根基，規劃將最先進製程的產品留在台灣生產。請問台積電公司的規劃最切合台灣國土發展策略計畫中的哪一項發展策略？
- (A)甲 (B)乙 (C)丙 (D)丁

49. 近日南橫向陽國家森林遊樂區旁向陽營地發現台灣黑熊進入營地內炊事亭覓食情形，為避免人熊遭遇及干擾黑熊取食習慣，台東林管處自 2023 年 5 月 25 日即日起暫停受理向陽營地申請事宜，已完成申請住宿向陽營地之山友，將辦理全額退費。請問上文提及的處理方式與哪一項發展策略的概念最接近？

- (A)甲 (B)乙 (C)丙 (D)丁

50. 台灣國家公園各有其獨特之處，請問以下列出的台灣國家公園與「丁」發展策略關聯性較強的國家公園有哪些呢？

- | | |
|-------------|-----------|
| ①陽明山國家公園 | ②太魯閣國家公園 |
| ③澎湖南方四島國家公園 | ④東沙環礁國家公園 |
| ⑤玉山國家公園 | ⑥墾丁國家公園 |
| ⑦金門國家公園 | ⑧台江國家公園 |
| ⑨雪霸國家公園 | |

- (A) ①④⑤⑨ (B) ②③④⑦
(C) ③④⑤⑨ (D) ③④⑥⑧

試題結束

新北市立新莊國民中學 111 學年度第 2 學期第 3 次段考 7 年級社會領域試題
解答

1	2	3	4	5	6	7	8	9	10
B	A	D	B	C	A	C	C	C	B
11	12	13	14	15	16	17	18	19	20
C	D	D	A	B	B	D	B	A	B
21	22	23	24	25	26	27	28	29	30
C	D	C	A	D	B	D	C	C	C
31	32	33	34	35	36	37	38	39	40
D	B	C	D	C	B	A	A	D	C
41	42	43	44	45	46	47	48	49	50
C	C	D	B	B	A	D	A	B	D