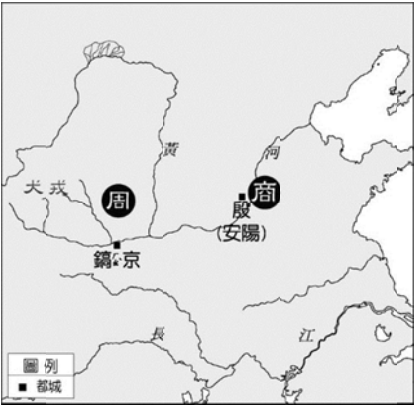
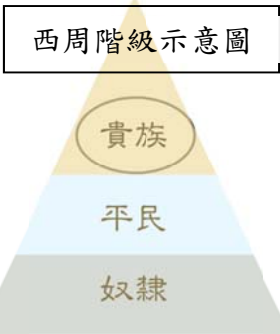


※ 選擇題：本試卷共 50 題，每題 2 分，總分為 100 分。
 每一題均為單選題，請選出最適當答案。
 ※ 請用 2B 鉛筆在答案卡上相應的位置畫記。

- 大約在三千多年前，黃河流域一帶先後出現商、周王朝(如右附圖)，同時在長江流域也有其他文化出現。但是，在更遠古時期的黃河流域也曾出現重要文化遺址。請問，曾經出現在黃河流域的文化遺址是指下列哪些？
 (甲) 三星堆文化
 (乙) 河姆渡文化
 (丙) 仰韶文化
 (丁) 大盆坑文化
 (戊) 龍山文化
 (A) 甲丙 (B) 乙戊 (C) 丙戊 (D) 甲丁

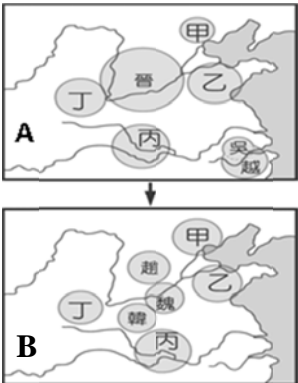


- 周朝封建體制已趨成熟，而封建社會基本上是指：一、貴族土地的再分割，由王室(天子)將部分土地分給諸侯，諸侯再分給大夫；二、權力的分化，貴族每一級按照身分等級受封，確立彼此的尊卑關係。如右西周階級示意圖，請問下列哪一項敘述正確？
 (A) 周朝封建制度是以宗法血緣關係維繫
 (B) 母系血緣也有資格參與世襲繼承
 (C) 平民可以透過努力擔任政府機關官員
 (D) 奴隸階級若是被貴族賞識，也有機會成為貴族



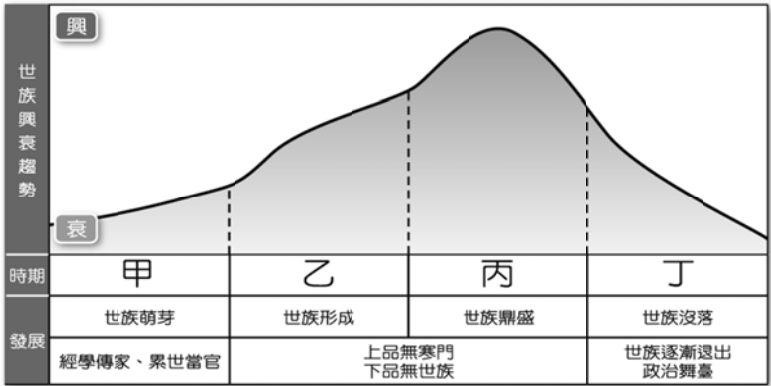
題組：第 3-4 題

- 如右附圖，由圖 A→圖 B 是中國歷史政治、社會動盪不安時期。請問圖 A，當時由哪一個地區諸侯提出尊王攘夷口號以維繫周朝王室？
 (A) 甲 (B) 乙 (C) 丙 (D) 丁
- 請問由圖 A→圖 B 情勢發展到最後，是由哪一個國家統一天下？
 (A) 甲 (B) 乙 (C) 丙 (D) 丁

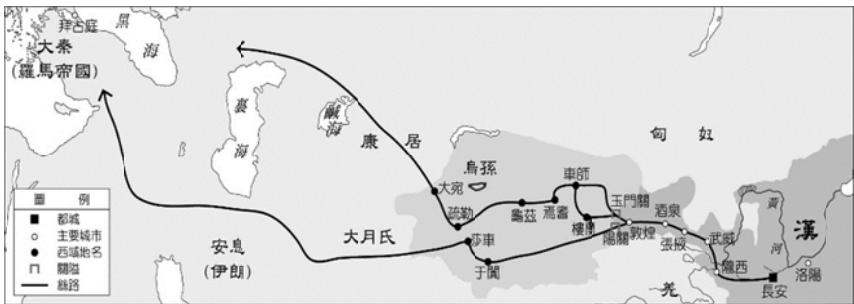


- 西元前 221 年，秦王嬴政統一天下，為了維繫帝國政權，除了自身集大權於一身，還需要有輔佐政務的人才，以及各專業的文武百官；為了國家政務推動，故開始建立選拔人才之方法。請問，中國歷史上選拔官員方式有(甲)九品任官(乙)科舉制度(丙)封建世襲(丁)推舉孝廉；如果按照歷史時間先後順序排列，請問下列哪一項正確？
 (A) 甲乙丙丁 (B) 乙丙丁甲
 (C) 丙丁甲乙 (D) 丙甲乙丁
- 史料記載：「高門華閥，有世及之榮，庶姓寒人，無寸進之路。選舉之弊，至此而極。」因為當時讀書人只要出身名門之家，憑藉家世背景與祖先庇蔭，就可位居朝廷要職，士庶之間的分別，連皇帝都無法過問。請問關於此一情況的敘述，下列哪一項錯誤？
 (A) 世家大族掌握政治權力與經濟資源
 (B) 形成「萬般皆下品，唯有讀書高」現象
 (C) 名門之家講究身分，強調門當戶對
 (D) 世族享有減免賦稅之特權

- 如下附圖從丙演變至丁，世家大族沒落逐漸退出政治舞臺，是因為哪一項制度的影響？
 (A) 科舉制度 (B) 察舉制度
 (C) 民主制度 (D) 宗法制度



- 東周時期由於諸侯國彼此爭戰，導致戰亂頻繁，影響當時政治、社會動盪不安，甚至原本掌控在貴族手中的知識，也不再被壟斷，形成百家爭鳴局面。請問當時各家思想學派敘述，下列哪一項錯誤？
 (A) 儒家-孔子為重要代表人物，主張國君應該實行仁政
 (B) 法家-站在統治者立場，富國強兵是唯一強盛目標
 (C) 法家-秦王嬴政以此治國，建立中央集權的統一帝國
 (D) 儒家-推崇黃老思想，主張無為而治
- 是中國漢武帝時期著名的外交探險家，他打開了中西交通的源頭，開闢一條經西域、中亞，甚至通往印度、歐洲的道路(如下附圖)；德國地理學家李希霍芬(Ferdinand von Richthofen)將此路命名為「絲綢之路」。請問，○○是因當時哪一外患而出發？
 (A) 安息 (B) 匈奴 (C) 大月氏 (D) 大秦



- 下圖是正赫整理的歷史筆記，世理向他借來準備複習，發現他竟然忘記寫上標題！請問下列表圖的標題應該寫上什麼？

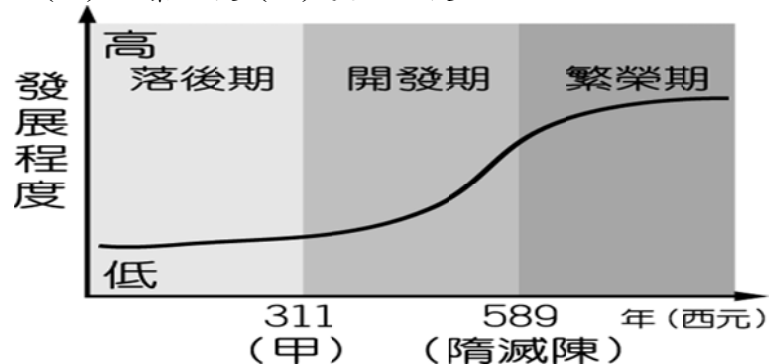
長城以北	長城以南
逐水草而居	農業生活



- 三星堆文化與河姆渡文化
- 舊石器與新石器文化
- 農耕文化與草原文化
- 禮樂與青銅器文化

11. 中國經濟發展的重心原本在黃河流域，但是在哪一事件（如附圖甲）之後，因為北方長期戰亂，所以大批人士為了生存遷往南方，也為南方帶來進步的農耕技術與充沛人力，加速南方開發，讓中國經濟與文化重心逐漸南移？

(A) 永嘉之禍 (B) 秦滅六國
(C) 大秦入侵 (D) 突厥入侵



12. 如下兩張整理圖片在說明胡漢融合之下的演變。其中，以魏晉南北朝的北魏在當時漢化最為積極。一般認為，北魏孝文帝是因為從小撫養他的文明太后出身漢人背景，所以影響他決定進行漢化政策。請問，北魏孝文帝是下列哪一族人？

(A) 突厥 (B) 吐蕃 (C) 鮮卑 (D) 匈奴

胡人姓氏	漢姓
拓跋	→ 元
步六孤	→ 陸
獨孤	→ 劉
拔拔	→ 長孫



13. 請閱讀下列資料，選出一位中國帝王。

資料一：《資治通鑑》記載：「四夷君長詣闕請上為天可汗，上曰：『我為大唐天子，又下行可汗事乎？』群臣及四夷皆稱萬歲。是後以璽書賜西北君長，皆稱天可汗。」

資料二：他容納直諫，知人善任；也曾說：「自古皆貴中華，賤夷狄，朕獨愛之如一。」如此心態，才能開創貞觀盛世。

資料三：唐高祖武德九年六月初，發生兄弟相殘之悲劇，史稱玄武門之變。高祖將獲勝的秦王立為皇太子，並傳位給他，自己成為太上皇。

(A) 唐太宗 (B) 秦始皇 (C) 漢武帝 (D) 齊桓公

14. 佛教起源於印度，創教者為釋迦牟尼，一般尊稱為佛陀，其主張眾生平等；請問下列關於佛教在中國發展的敘述，哪一項**錯誤**？

(A) 魏晉南北朝時因為戰亂，佛教成為人民的精神寄託
(B) 唐代時期，佛教流傳在中國達於鼎盛
(C) 玄奘將從印度帶回來的佛教經典自行翻譯
(D) 洛陽白馬寺存放玄奘從印度帶回來的佛教經典

題組：第 15-16 題

如右下附圖，請回答關於東亞文化圈的相關歷史問題。

15. 隋唐時期是中國繼秦漢之後的大一統帝國，此時期與周遭民族互動下的文化交流，除了留下燦爛輝煌之文史紀錄，還影響到後世甚至現代。請問，當時某一國家非常喜歡中國文化，曾派學生到首都長安留學之外，更是全力模仿中國文字、儒學、曆法、佛教，在當時被稱為「君子國」。請問此國是附圖中的哪一個國家？



(A) 甲 (B) 乙 (C) 丙 (D) 丁

16. 隋唐時期是中外文化交流的興盛期，也是逐漸形成東亞文化圈的重要時代。請問關於此時期的文化交流，下列哪一項**錯誤**？

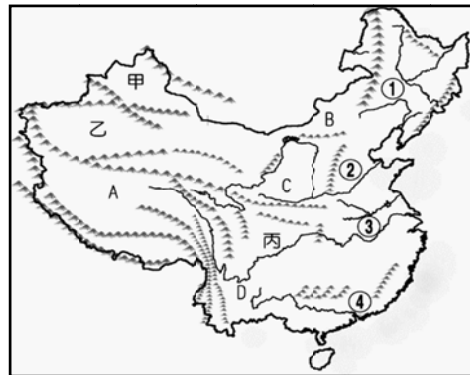
(A) 唐太宗時將文成公主和親至吐蕃，促成漢藏交流
(B) 日本在七世紀時實施大化革新，是一項唐化運動
(C) 唐代受到胡風影響開始製作竹藤編織的椅凳
(D) 中國造紙術西傳是因為唐軍與突厥軍隊交戰戰敗

題組

附圖為中國主要地形分布圖，請依據此圖回答第 17-19 題：

17. 「奔跑吧！兄弟」節目來到中國某一高原拍攝，參加的藝人說：「我們一行人到達五千多公尺高的高原，在一片寒冷荒涼的環境下，看到了打破凍土限制的火車經過在眼前，這感覺真是太神奇了！」請問：當天一行人最可能在圖中的哪一個高原拍攝節目？

(A) A (B) B (C) C (D) D。



18. 「丙」盆地在三國時代是蜀國的根據地，地勢封閉，易守難攻。農業發達，物產豐隆，富庶的景況有「天府之國」的美稱。請問：「丙」盆地是下列哪一個盆地？

(A) 塔里木盆地 (B) 準噶爾盆地
(C) 柴達木盆地 (D) 四川盆地。

19. 台灣的農業考察團前往大陸進行交流，選定了④平原，作為交流的地點。因為該區的氣候環境與台灣較相近，收穫次數與作物種類也較相似。請問：④平原為下列哪一個平原？

(A) 東北平原 (B) 華北平原
(C) 長江中下游平原 (D) 珠江三角洲。

20. 中國與印度兩國長久以來面臨邊境糾紛，2020 年 5 月 9 日印度錫金邦北部的納庫拉地區邊界爆發衝突，雙方人員互丟石頭與鬥毆，造成數名士兵受傷。請問：根據附圖發生衝突的地區，其自然景觀為下列何者？

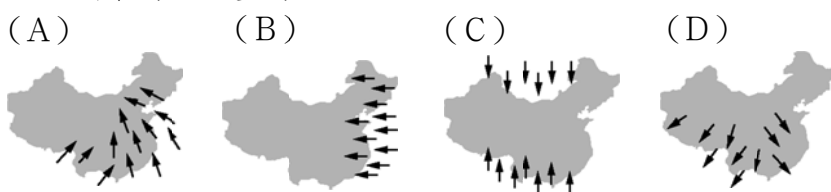
(A) 平坦遼闊的草原 (B) 連綿高聳的山脈
(C) 盆地邊緣的綠洲 (D) 高山環繞的沙漠。



21. 雲貴高原上的昆明與台北的緯度均位於北緯 25 度左右，但台北的夏季月均溫可達 32°C，而昆明僅有 20°C，影響兩地氣溫呈現此一差異的主要因素為何？

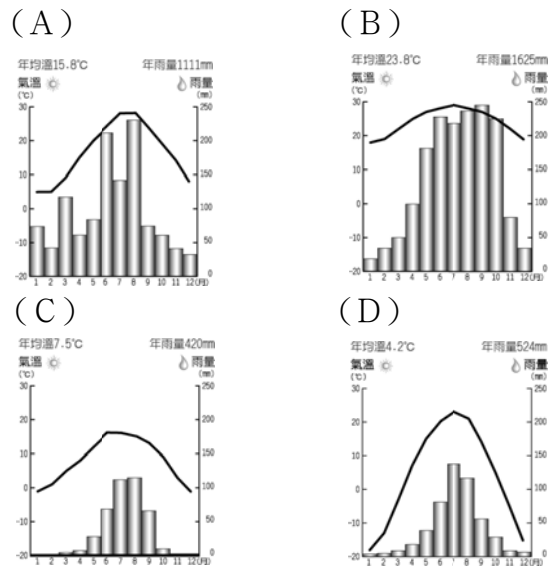
(A) 人口多寡 (B) 經度位置 (C) 植被多寡 (D) 地勢高低。

22. 中國最主要的降雨季節受某盛行風的影響。下列哪一張圖最符合此盛行風的風向？



班級 _____ 座號 _____ 姓名 _____

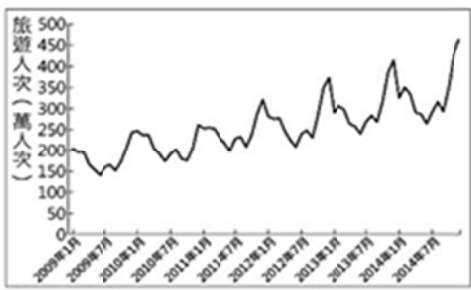
23. 電視節目正在介紹中國的氣候，其中出現下列四張氣候圖與地點配對的遊戲，哪一張最可能位於附圖中的上海？




24. 中國在 1950 至 1980 年間，對一月月均溫低於 0°C 的區域施行免費供煤取暖政策，但卻造成嚴重空氣汙染，影響當地居民健康。而該政策供煤的範圍大致在哪條河流以北？
 (A)黃河 (B)淮河 (C)長江 (D)珠江

25. 中國國土廣大，所以氣候也複雜多變，以下對中國氣候特徵的敘述中，哪一項是錯誤的？
 (A)緯度愈高，氣溫愈高 (B)降水空間分布不均
 (C)夏季普遍高溫 (D)降水集中夏季。

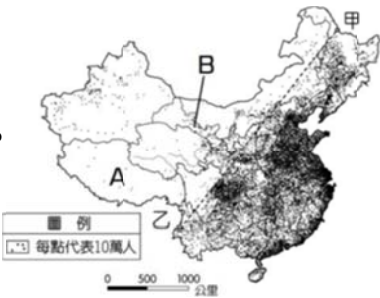
26. 附圖為中國某行政區 2009 至 2014 年接待的國內旅遊人次統計，若根據旅遊者夏季會傾向至避暑勝地，冬季則至避寒勝地旅遊的特性來判斷，右圖最可能是下列何地的資料？
 (A)東北平原 (B)塔里木盆地 (C)珠江三角洲 (D)青藏高原



27. 附圖為「中國人口問題的漫畫示意圖」。請問：此漫畫反映出中國的哪一項人口問題？
 (A)性別比失衡
 (B)人口總數太多
 (C)幼年人口比例下降
 (D)老年人口比例上升



28. 附圖為中國人口分布圖，以甲乙兩地的連線畫分成東、西半部。請問：關於中國人口分布的特徵下列敘述何者『正確』？
 (A) 西半部因降雨量少，環境負載力較低，人口稀疏
 (B) 東半部因高原面積廣闊，有利農耕，故人口集中
 (C) 甲、乙的連線大致與年雨量 750mm 的等雨量線一致
 (D) A 地因河川流經，水源充足，因此聚集較多的人口。



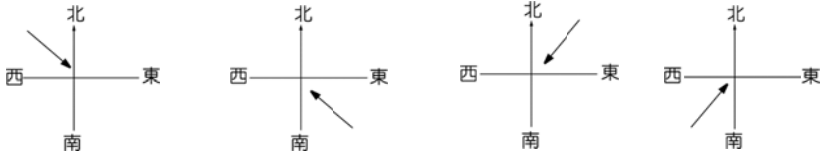
29. 建築師必須對當地自然環境有充足認識，才能建造出最適合居住的房屋。請問：下列哪位建築師對中國傳統建築型態的說法有誤？
 (A)王信義：「南部因雨日多，建築常見騎樓設計以方便避雨」
 (B)張小巢：「內蒙古高原過去因逐水草而居，為了方便移動以容易拆裝為訴求的蒙古包」
 (C)李東森：「雲貴高原因氣候乾燥少雨，故可挖掘不易坍塌的窯洞居住」
 (D)陳永慶：「南方因多雨、地形崎嶇複雜，過去多興建可配合崎嶇地形且利於防潮的干欄式建築」。

30. 附表為中國四個城市的氣候資料。請問：根據附表，下列何者敘述『正確』？
 (A)甲城市位居秦嶺-淮河以北，年溫差小
 (B)乙城市因緯度高，全年低溫，年日溫差皆小
 (C)丙城市為熱帶季風氣候，全年高溫多雨
 (D)丁城市地處西北內陸，距海遠、年雨量少。

	一月均溫	七月均溫	年雨量
甲	18.2	28.4	1625
乙	-2.1	15.3	420.5
丙	5.1	29.5	1521.2
丁	-10.5	26.6	35

31. 明清時期，因東南沿海地區人口快速增加，導致居民渡重洋移居別處開墾。請問：上述人口遷移的主要原因為下列何者？
 (A)地勢高聳 (B)降水量少
 (C)人口稀少 (D)糧食不足。

32. 中國北部的北京市冬季時風沙大，造成當地居民的困擾。該地區的冬季季風風向為下列何者？
 (A) (B) (C) (D)



33. 附圖是中國東半部季風氣候分區示意圖。請問：圖中甲、乙、丙依序代表哪些氣候帶？
 (A)熱帶、溫帶、寒帶
 (B)熱帶、副熱帶、溫帶
 (C)溫帶、副熱帶、熱帶
 (D)寒帶、溫帶、熱帶



34. 報載：「東華大學「準畢業生」到教育部前抗議，不滿校方以沒完成離校手續不給畢業證書，提出訴願。該生怒控，當初是為了抗爭不合理的校內交通規定故意不繳罰金。現在即使他學分修滿，也考上台大城鄉所碩士班，卻沒辦法就讀。」問：上述文中學生可提出訴願，是憲法保障的何項基本權利？
 (A) 平等權 (B) 自由權 (C) 參政權 (D) 受益權

35. 法國是一個歐洲主權國家，(甲)本土由地中海一直延伸至英吉利海峽及北海，並由萊茵河一直延伸至大西洋，整體呈六角狀。(乙)人口約有 6,660 萬人，若不包括海外領地和海外地區則為 6,450 萬人。(丙)總統是國家元首，由普選直接產生，總理是政府首腦，由國民議會席次過半黨派組成的聯合政府推舉而出，由總統任命。(丁)巴黎是法國的首都及最大都市，也是歐洲大陸最大的文化與金融中心。從以上敘述可知，何者與法國該國家組成要素無關？
 (A) (甲) (B) (乙) (C) (丙) (D) (丁)

36. 《中華民國憲法》規定：「人民有依法律納稅之義務。」至於繳納所得稅之規定、結算申報的方式，則由《所得稅法》及《所得稅法施行細則》明定之。問：上述內容強調《憲法》的何項特性？
 (A) 最高性 (B) 原則性 (C) 固定性 (D) 優越性

請翻面繼續作答

37. 在我國年滿 18 歲之公民，可行使公民投票權。以下是 2018 年公民投票第 16 案的內容：【您是否同意：廢除《電業法》第 95 條第 1 項，即廢除「核能發電設備應於中華民國一百十四年以前，全部停止運轉」之條文？】此案投票結果為：同意票數 59.4%；不同意票數 40.5%。問：下列敘述何者正確？

- (A) 電業法為命令位階，由行政機關制定
(B) 在我國享有公民投票的權利是憲法保障的自由權
(C) 公民投票是賦予公民行使創制權及複決權的權利
(D) 此案公投結果為贊成核能發電設備應於中華民國一百十四年以前，全部停止運轉

38. 「合法性」乃民主國家的統治強調依法而治，其在積極面上要求行政行為必須有法律依據；而在消極面上要求行政行為不得牴觸法律。然而，法律可能只是反應執政者或是少數精英的利益，甚至違反公平正義原則時，則該統治行為不具「正當性」。問：下列何種方式，無助於政府取得正當性？

- (A) 舉辦政策公聽會，聽取人民的聲音
(B) 透過選舉產生政黨輪替，表達人民的意志
(C) 透過公民投票，讓人民表達公共意見
(D) 民眾採取司法訴訟向國家求償，爭取權益

39. 報載：「就在中國軍機頻頻擾台、甚至侵犯海峽中線，總統蔡英文今日搭乘行政專機於澎湖視察「空軍天駒部隊」，展現防衛國家、寸土不讓的決心。蔡英文致詞說，她要代表國人，向捍衛領空的弟兄姊妹，致上最深的感謝。因為有大家全副武裝在警戒室待命，才能在狀況來臨時的 5 分鐘內升空應對，捍衛領空，守護國家。」問：國家設置軍隊主要發揮何項功能？

- (A) 維護國家安全 (B) 保障人民權利
(C) 維護社會秩序 (D) 加強社會福利

40. 報載：「紐西蘭防範新型冠狀病毒，COVID-19 疫情有成，被譽為全球防疫典範。然而，在 6 月 16 日新增 2 例境外移入，2 人在未完成官方檢疫隔離程序的情況下，獲得「同情豁免」前往威靈頓見親人最後一面，導致出席奔喪的 320 人都得接受隔離，此事讓總理阿爾登相當不滿。衛生部長克拉克表示要為防疫期間出現缺失負起責任，總理已同意克拉克請辭。」問：衛生部長請辭展現出民主政治的何種特色？

- (A) 民意政治 (B) 法治政治 (C) 政黨政治 (D) 責任政治

題組：

報載：「總統蔡英文宣布擴大開放美國豬肉、牛肉，承諾為確保食安，將會落實食品標示規定，標示來源國以提供充足資訊。食藥署也發布「散裝食品標示」新規定，規範所有食品販售業者，包含豬、羊、牛等 20 項農畜禽散裝食品，都需清楚標示原產地以供辨識。新制從 110 年 1 月 1 日開始施行，若業者未依規定標示，可依《食品安全衛生管理法》處新台幣 3 萬至 300 萬罰鍰，若標示不實，可處 4 萬至 400 萬罰鍰。」

41. 根據上述畫線部分，可知法治社會具有下列何種特色？

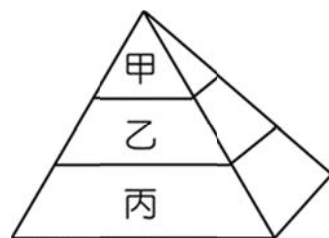
- (A) 人民無法預見法律效果
(B) 法律規定會隨統治者改變
(C) 法律是統治者限制人民的工具
(D) 政府機關執法有明確依據

42. 關於文中《食品安全衛生管理法》的敘述，何者正確？

- (A) 其位階與《地方稅法通則》相同
(B) 屬於行政機關發布的命令
(C) 內容多為原則性的規範
(D) 修改必須經公民投票複決

43. 下圖代表法律的位階圖，請根據圖中三者的關係判斷，下列敘述何者正確？

- (A) 甲的規範內容最為詳盡
(B) 乙是用來補充丙的規定
(C) 丙由行政機關依據職權制定
(D) 效力高低為丙 > 乙 > 甲



44. 承上題，甲、乙、丙依序應為

- (A) 中華民國憲法增修條文、海洋汙染防治法、一般食品衛生標準
(B) 中華民國憲法、國民教育法、土地徵收條例
(C) 中華民國憲法、山坡地建築管理辦法、土地登記規則
(D) 中華民國憲法增修條文、性別工作平等法、道路交通管理處罰條例

題組：

報載：「司法院公告（甲）三讀通過《憲法訴訟法》修法，將為我國憲法解釋制度帶來新紀元。過去司法院（乙）是採取「會議」模式進行憲法審查，然而憲法審查作為國家司法權最高階層的行使，不是用司法權最基本的法庭形式進行，在某程度上確實難以讓人信服。現在通過的《憲法訴訟法》，最主要的功能為在解釋案件中納入詳盡的程序規範，以法庭形式處理憲法解釋案件，從組成和程序上更接近司法審判。」

45. 上述文中（甲）、（乙）應為

- (A) 立法院；法官 (B) 司法院；大法官
(C) 法務部；大法官 (D) 立法院；大法官

46. 文中的《憲法訴訟法》是屬於何項法律位階？

- (A) 憲法 (B) 法律 (C) 職權命令 (D) 授權命令

題組：

報載：「今年 3 月一名高中生返國後確診，新北市長侯友宜隔日隨即宣布全市高中職以下師生，避免出國，各縣市群起效尤，宣布禁令，中央流行疫情指揮中心當天傍晚也宣布獲政院同意，依《嚴重特殊傳染性肺炎防治及紓困振興特別條例》第 7 條規定，禁止全國高中職以下師生出國。此命令一出，有立委認為，《憲法》保障人民的居住遷徙權利，不管是任何法律，對於必要處置的敘述，恐缺乏授權主管機關得以發布禁出國命令。」

47. 根據文中畫線部分判斷，立委質疑人民何項基本權利受到侵犯？

- (A) 平等權 (B) 自由權 (C) 參政權 (D) 受益權

48. 有關《憲法》之敘述，何者正確？

- (A) 由立法院訂定、修正
(B) 與憲法增修條文屬於同一位階
(C) 其修憲程序為司法院提案，公民投票複決
(D) 其位階低於法律，高於命令

題組：

報載：「為有效防堵非洲豬瘟入侵台灣，立法院修正《動物傳染病防治條例》，若旅客從非洲豬瘟疫區攜帶豬肉製品入境者，首次開罰 20 萬元，再犯直接開罰 100 萬元。而境外旅客若攜帶肉品，沒有繳清罰款將拒絕入境。」

49. 我國政府得以拒絕未繳清罰款之境外旅客入境，主要是基於下列哪一項理由？

- (A) 國際組織授權政府而有權管制
(B) 政府擁有界定其人民身分的權力
(C) 我國對內具最高性而有決策權威
(D) 我國對外具排他性可管理他國人民

50. 我國政府公布的相關防疫措施，可要求人民遵守配合。由此可知我國政府是以何種方式治理國家？

- (A) 行使公權力 (B) 定期選舉
(C) 政黨輪替 (D) 限制人權

新北市立新莊國民中學 109 學年度第 1 學期第 1 次段考 8 年級社會領域試題
解答

1	2	3	4	5	6	7	8	9	10
C	A	B	D	C	B	A	D	B	C
11	12	13	14	15	16	17	18	19	20
A	C	A	D	B	D	A	D	D	B
21	22	23	24	25	26	27	28	29	30
D	A	A	B	A	C	A	A	C	D
31	32	33	34	35	36	37	38	39	40
D	A	B	D	D	B	C	D	A	D
41	42	43	44	45	46	47	48	49	50
D	A	C	A	D	B	B	B	C	A