

- ※ 選擇題：本試卷共 50 題，每題 2 分，總分為 100 分。每一題均為單選題，請選出最適當答案。
- ※ 請用 2B 鉛筆在答案卡上相應的位置畫記。
- 宥辰在手機行看見許多新型手機，(甲)價格介於 12000 元~38000 元不等，(乙)買了一支新手機後，到銀行(丙)繳了上個月的信用卡帳單，並(丁)轉存 10000 元至定期存款。請問：上述的行為與貨幣功能的配對，何者正確？
 (A) (甲)－價值衡量 (B) (乙)－價值儲存
 (C) (丙)－交易媒介 (D) (丁)－債務清償
 - 由於以物易物的不便，因此發明了貨幣做為交易的媒介，而一個國家貨幣價值的高低，是以哪一項標準來衡量？
 (A)國家存、放款的金額 (B)金融機構的存款數量
 (C)所能購買商品的數量 (D)國家黃金與外匯多寡
 - 關於貨幣的敘述，正確的有幾項？
 (甲)我國負責發行貨幣的機關為臺灣銀行 (乙)政府可透過控制貨幣數量，來維持物價穩定 (丙)可作為價值儲存 (丁)由法令強制其價值 (戊)店家可以拒收顧客用大量零錢買東西 (己)儲值卡為法定貨幣 (庚)為發展經濟，政府可隨意增加鈔票發行數量
 (A)3 項 (B)4 項 (C)5 項 (D)6 項
 - 消費者使用信用卡購物比例甚高，但信用卡並非真正的貨幣，其主要原因為何？
 (A)信用卡缺乏防偽設計，容易出現盜刷的情況
 (B)信用卡的普及性不足，無法在所有商店使用
 (C)信用卡不是由政府發行的貨幣，民眾信賴度不足
 (D)信用卡支付消費款項後，仍須以貨幣清償債務
 - 瑞典是邁向無現金社會非常快速的國家，但最近瑞典政府重新評估無現金社會帶來的影響，例如：瑞典全國約三分之一的人口是 55 歲以上的高齡人口，如果太快放棄現金而不用，將對老人、移民或遊客造成衝擊。另外，無現金支付的電子交易因為記錄大量消費數據，這些數據幾乎等於沒有畫面的監視器，監控所有的消費行為。最後，非現金支付還容易受到停電、駭客攻擊影響，瑞典的支付系統就曾因為停電，造成大量遊客無法付款的窘境。請問畫線內容是在說明何者之間的關聯？
 (A)科技研發與風險管理
 (B)消費方式與社會責任
 (C)交易方式與貨幣的功能與價值
 (D)支付工具的便利性與隱私權
 - 疫情陸續解封，雲霏預計十二月到德國深度旅遊，十月先上網預訂房間，一間森林木屋要價 200 歐元（十月匯率歐元：台幣＝1：30），到了十二月付款時，發現同樣 200 歐元的木屋需多付新台幣 2000 元。請問若無其他因素影響，此時匯率變為多少？
 (A)歐元：台幣＝1：25 (B)歐元：台幣＝1：35
 (C)歐元：台幣＝1：40 (D)歐元：台幣＝1：50
 - 新聞報導長榮海運繼去年發放 40 個月年終的超狂紀錄後，今年再傳加碼至「60 個月」，引起社會高度討論與羨慕；有些公司被指控涉及對清潔工「假承攬真僱傭」，引起外界批評聲浪，兩者形成強烈的對比。上述凸顯出下列何者的重要性？
 (A)企業應促進國家經濟的成長
 (B)善待員工可以提升企業競爭力
 (C)企業提升生產力素質只好犧牲員工
 (D)企業應以利潤考量為優先

- 電影《她有話要說》講述兩名記者，如何挖掘好萊塢職場性騷擾醜聞，進而促成全球 #MeToo 運動發展。知名好萊塢電影製片哈維溫斯坦被多位女性指控性侵及性騷擾，女星艾莉莎米蘭諾也發文表示自己也是受害者，希望讓社會意識到問題的嚴重性。」請問：「#MeToo」這個主題標籤最可能與下列何者相關？
 (A)職場性騷擾防治 (B)童工權益保障
 (C)勞工基本權益保障 (D)公平的市場勞動參與
- 現在全民人手一支手機，常有雇主利用通訊軟體在假日交辦業務。過去就有員工用一封截圖訊息投訴，雇主就被判需要補發四小時加班費的案例。勞動部表示，勞工只要能拿出與雇主對話截圖、電子郵件證明，並提供假日工作時間證明，就會被認定為有加班，雇主若違規最重罰 100 萬元罰鍰。請問：根據上文敘述，下列何者正確？
 (A)勞動部對雇主處罰鍰是根據《勞動基準法》
 (B)政府做出上文中的規定，應該是基於防止職業災害
 (C)雇主利用假日交辦業務是為使社會發展多元化
 (D)雇主利用通訊軟體做溝通管道是重視勞動權益
- 上公民課時，老師列舉 6 種常見的工作類型讓學生區分。根據右表判斷，老師應該是在說明哪兩種勞動類型？

公車司機	家庭主婦
飯店主廚	導護媽媽
市場菜販	社區巡守隊

 (A)家務勞動&社會服務 (B)市場勞動&家務勞動
 (C)有酬勞動&無酬勞動 (D)男性勞動&女性勞動
- 15 歲的佑信告訴公民老師，他在暑假打工時，雇主要求他簽定一份契約如下圖，而他的家長在簽約前也同意契約內容。但老師認為這份契約根本無效，下列何者為最可能的原因？

契約書
 本人於○○飲料店屬於短期打工性質，自願於夜間及假日工作。
 簽訂人：王冠鈞 張佑信

 (A)佑信只有 15 歲，未達打工最低年齡規範
 (B)佑信未成年，所有行為無效
 (C)佑信所簽的契約內容已違反《勞動基準法》的規範
 (D)佑信未滿 18 歲打工，已違反《兒童及少年福利與權益保障法》

【第 12 至 14 題為題組】

昔日同窗好友相約聚餐，聊起彼此近年來的發展。俊傑是從事國外水產進口的商人，嘉豪是機車零件的出口商，益凡經營旅行社，包辦國內外的旅遊生意，柏毅近期打算要出國求學深造。他們在工作或生活上的重要決定可能會因匯率變動而有所影響，下表為今年 9 月至 12 月份，其他國家貨幣兌換新台幣的匯率（1 外幣兌換新台幣的比率），請由此判斷下列題目：

匯率	2022 年 9 月	2022 年 12 月
美金	29.5	30.9
英鎊	36.1	37.9
日幣	0.24	0.22
澳幣(澳大利亞)	20.5	21.9
瑞士法郎	34.2	33.1

背面尚有試題

12. 請問誰在外匯市場中有「購買外幣」的需求？
 (A)準備出國求學的柏毅、出口機車零件的嘉豪
 (B)進口國外水產的俊傑、準備出國求學的柏毅
 (C)益凡協助來我國旅遊的日本觀光客、進口國外水產的俊傑
 (D)出口機車零件的嘉豪、益凡協助來我國旅遊的日本觀光客
13. 經營旅行社的益凡今年 12 月份要規劃帶團出國旅遊，若民眾僅依匯率的變動作為考量，請問客戶到哪些國家旅遊的意願比較高？
 (A)美國、瑞士 (B)美國、日本
 (C)英國、澳大利亞 (D)日本、瑞士
14. 四位同窗好友聚餐時，正興高采烈地討論著有關於外幣與匯率的話題，請問下列何者敘述是正確的？
 (A)俊傑：匯率的變動通常是由一國的政府之公權力來決定的，即由看得見的手來決定
 (B)嘉豪：今年 12 月份是出售澳幣的最佳時機
 (C)益凡：我朋友的公司最近想到日本投資，因此需要在近期出售日幣
 (D)柏毅：澳幣的價值大於美金

【第 15 至 16 題為題組】

右圖是某百貨公司對於受僱者所提出的工作內容，其中有部分內容會造成職場上不公平的情況，並違反現行法規。

百貨公司電梯服務員	我要應徵	★儲存工作
工作內容		
1. 對百貨服務工作有興趣。 2. 可配合彈性排班需求。 3. 面帶笑容，殷勤款待來訪顧客。		
招募對象：限25歲以下女性 職位類別：百貨服務生、百貨工作人員 工作待遇：時薪180元／小時 工作性質：兼職 上班地點：○○市○○區○○路○○號 上班時段：日班／晚班／假日班		

15. 請問內容所說「職場上不公平的情況」是指下列何者？
 (A)薪資待遇明顯與工作項目不符
 (B)排班需求侵害員工休閒生活
 (C)招募對象有年齡、性別上差別待遇
 (D)假日班不符合《勞動基準法》規定
16. 上文所說「職場上不公平的情況」最符合下列何種現象？
 (A)勞資衝突 (B)就業歧視
 (C)職場性騷擾 (D)職業災害
17. 每一個重要變革的產生總是許多重要人物的貢獻，請根據下列重要人物所做的貢獻按時代先後順序劃分：
 (甲)達文西創作【最後的晚餐】
 (乙)孟德斯鳩提出三權分立
 (丙)馬丁路德張貼【九十五條論綱】
 (丁)牛頓發表萬有引力定律
 (A)甲乙丙丁 (B)丙甲乙丁 (C)甲丙丁乙 (D)甲乙丁丙
18. 伽利略利用高倍望遠鏡觀察不僅發現了月球表面的坑洞更證實了下列哪一種主張，使得他被教會終身監禁？
 (A)地心說 (B)日心說
 (C)天體運行軌道是圓形的 (D)地圓說
19. 下列哪一項飲食習慣與來自美洲的作物無關？
 (A)秦平優雅地一邊啜飲著咖啡一邊和人談生意
 (B)秦安邊吃著炸薯條邊和好友聊天
 (C)秦喜在電影院吃著爆米花（用玉米製作的點心）看【阿凡達 2：水之道】
 (D)秦樂樂喝著熱可可在追【First Love 初戀】這齣劇

20. 右圖(一)中的太陽石曆應該出自圖(二)中的哪一個美洲古文明？



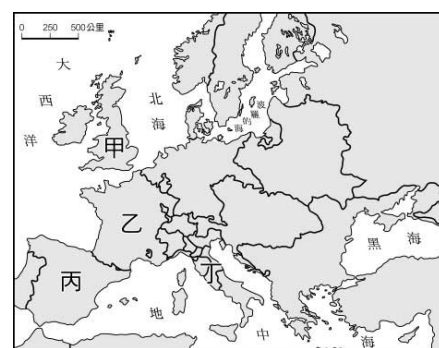
圖(一)



圖(二)

21. 法蘭西科學院是一個為了鼓勵科學家進行研究而成立的科學研究機構，請問：出資成立此機構的人是誰？
 (A)亨利八世 (B)路易十六 (C)拿破崙 (D)路易十四

22. 為了研究科學革命中的天才以及了解主張天賦人權的啟蒙思想家，銀優預計前往天才及這位啟蒙思想家的家鄉尋找資料。請問：銀優會前往附圖中哪一個國家？




圖(三)

- (A)甲 (B)乙
(C)丙 (D)丁
23. 泰民身處在十八世紀的法國，他最有可能遇到下列哪一件事？
 (A)和英國一起派兵進攻中國，攻入中國首都
 (B)佔領澳洲成為殖民地，派遣囚犯前往開墾
 (C)有許多啟蒙思想家紛紛提出不同的政治學說，使法國成為啟蒙運動的重鎮
 (D)法國正在準備成立科學研究機構
24. 《中華民國憲法》規定：「中華民國之主權屬於國民全體。」請問：這規定應該與下列哪一位啟蒙思想家的主張有關？
 (A)孟德斯鳩 (B)洛克 (C)伏爾泰 (D)盧梭
25. 下列事件的因果關係對照組，何者有誤？
 (A)殖民者帶來傳染病加上屠殺→美洲人口大量減少
 (B)文藝復興→科學革命
 (C)鄂圖曼土耳其人影響東西交通→歐洲人尋找前往東方的新航路
 (D)澳洲發現銀礦→大量移民前往開挖，造成當地的傳統習俗及土地受到侵害
26. 在「人都會死」的前提下，楊平是人、老吳是人、張小胖是人、郭凡也是人，所以楊平、老吳、張小胖、郭凡都會死。以上的概念是由主張知識可以藉由推理而得，不必仰賴親身經驗的人所提出，請問：這是下列何人提出的主張？
 (A)培根 (B)笛卡兒 (C)伽利略 (D)牛頓
27. 珉豪想寫一本書，書名是「改變 16 世紀歷史的大事紀」，請問：下列哪一項資料不適合列入這本書？
 (A)馬丁路德掀起宗教改革的先聲
 (B)近代「科學革命」的揭開序幕
 (C)麥哲倫及其船隊首先完成繞行世界一周的壯舉
 (D)亞當斯密提出自由放任的經濟學說

28. 西元 1751 年，有一位主編集合 100 多位法國優秀思想家、哲學家、科學家和政治家……等各行業優秀人才，花了 20 餘年編撰了內容多達 35 卷共 2000 多萬字的【百科全書】，在這編輯過程中，逐漸形成一群反對封建專制、天主教會和傳統舊思想的「百科全書派」知識份子。請問：這位主編是誰？
(A)狄德羅 (B)哥白尼 (C)盧梭 (D)洛克

29. 泰姬瑪哈陵(圖(四))位於印度北方，是世界新七大奇景之一。它是蒙兀兒王朝第五代皇帝沙賈汗為了紀念他的第二任妻子用白色大理石建造的一座陵墓。這座建築也被視為蒙兀兒帝國藝術風格最精緻的代表。請問：泰姬瑪哈陵的藝術風格不會包括下列何者？
(A)波斯 (B)伊斯蘭 (C)英國 (D)印度



圖(四)

【第 30 至 33 題為題組】

30. 渝瑤在今年暑假參加了閃亮旅行社的「發現者之旅」，這行程的出發點是在發現者紀念碑的所在地，這也是發現新航路抵達印度的人之出發地，請問：渝瑤的「發現者之旅」是從下列何地出發？
(A)西班牙馬拉加 (B)葡萄牙里斯本
(C)荷蘭阿姆斯特丹 (D)英國倫敦

31. 承上題，發現者紀念碑是為了紀念大航海時代中偉大的人物而設計的，請問：下列哪一個人物應該不會在紀念碑上？
(A)狄亞士 (B)亨利王子 (C)達文西 (D)麥哲倫

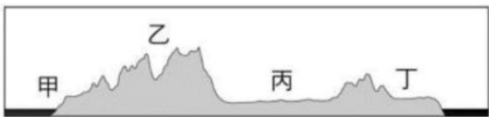
32. 請問：第 30 題文中所提的發現新航路之國家來到亞洲後所佔領的貿易據點應在圖(五)中何處呢？
(A)甲 (B)乙
(C)丙 (D)丁

33. 承上題，這個國家後來也來到了新大陸，請問：這個國家在新大陸所佔據的殖民地是在下列何地？
(A)巴西 (B)秘魯
(C)阿根廷 (D)墨西哥



圖(五)

34. 附圖為北美洲沿著北緯 40 度剖出的地形剖面圖，根據此圖判讀下列敘述何者「錯誤」？
(A)圖中的箭頭指向東方
(B)乙區為落磯山脈，受板塊擠壓，多火山、地震活動
(C)丙區為北美大平原，密西西比河流經南部，是重要的農業帶
(D)丁區是拉布拉多高原，地勢高聳，缺乏礦產



35. 附圖是北美洲氣候類型分布圖。其中甲區域氣候分布的緯度，東岸比西岸低，主要受哪一因素影響？
(A)西風 (B)地形
(C)洋流 (D)距海遠近



36. 承上題附圖，乙區域氣候僅分布於狹長的海洋地帶，不像歐洲較深入內陸，主要受哪一因素影響？
(A)西風較弱 (B)面積較大
(C)山脈南北走向 (D)冬季冷氣團較強

37. 巴拿馬運河是世界唯一的聯洋運河，關於該運河的敘述，下列何者「錯誤」？
(A)設置水閘控制水位
(B)連接太平洋與印度洋
(C)切穿中美地峽山地
(D)紐約到東京的商船經由此處可縮短距離

38. 美國牛肉曾出現狂牛症、殘留萊克多巴胺（瘦肉精）等問題，是否開放美豬、美牛進口在臺灣發生爭議，甚至舉辦公投。請問美國飼養肉牛的放牧區主要位於附圖中何處？
(A)甲 (B)乙 (C)丁 (D)戊



39. Apple TV+想拍攝以北美洲各地自然災害為主題的原創影集，故事背景設定在自然災害發生頻率較高的地方，最後選出圖中四個地點，這四個地點分別依據當地自然災害的發生時間來決定拍攝主題，請問：下列哪一地點的拍攝主題最正確？

	(A)	(B)	(C)	(D)
地點	甲	乙	丙	丁
時間	12-2 月	1-3 月	4-5 月	6-9 月
拍攝主題	暴風雪	颶風	地震	龍捲風

40. 北美洲的農業耕作以「粗放農業」為主，這種農業類型的特色「不包括」下列哪一項？
(A)總產量大 (B)耕地面積大
(C)機械化程度高 (D)農業人口比例高

41. 歷經殖民、獨立，發展至今，中南美洲多數國家的經濟結構有哪一項特色？
(A)科技發達，科技化農業盛
(B)勞工廉價，成為世界工廠
(C)多依賴單一農、礦產品出口
(D)文化強勢，商品行銷全世界

42. 美國傳統的工業如鋼鐵、汽車兩種工業，多發源自美國東北部和五大湖區。請問：該地區有利於此兩種工業發展的主要條件為何？
(A)市場廣大 (B)原料豐富 (C)勞工眾多 (D)地形平坦

背面尚有試題

43. 中南美洲有居民採用如附圖所示的「奇南帕耕作法」來擴大耕地面積。首先以蘆葦組成的蘆葦筏，用來積聚土壤的底層基地，使耕作的泥土漂浮在水面上。在新建的土地上種植農作物和果樹。利用樹根來鞏固人造的浮動園地。每次播種之前，必須挖掘一些新的土壤鋪上。因此隨著栽培時間的增加，園地面積也會增加。想要實地看到這樣的耕作方式必須前往中南美洲何處？
- (A)西印度群島 (B)墨西哥高原
(C)亞馬孫盆地 (D)巴西高原



44. 「為施壓墨西哥政府解決非法移民問題，美國前總統川普揚言對墨西哥進口的產品加徵關稅，最高增至 25%，讓很多汽車廠商神經緊繃。」而汽車大廠最早將零組件的工廠設立在美墨邊界的原因為下列哪些因素？
- (甲)勞工工資低廉 (乙)利用密西西比河運輸 (丙)充沛的資金和技術 (丁)加入 NAFTA，出口至美國可關稅減免
- (A)甲乙 (B)乙丙 (C)丙丁 (D)甲丁

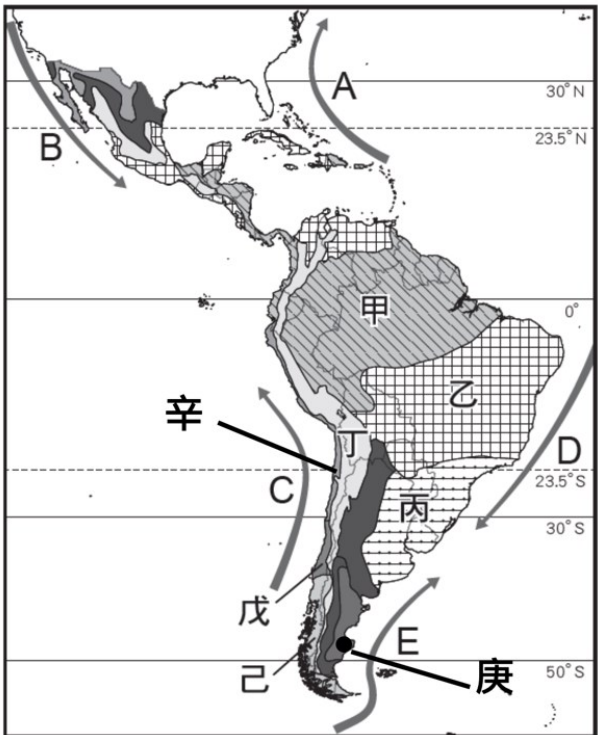
45. 下表為拉丁美洲某個國家的提示，若要加入第四項提示，可以選擇下列哪一敘述填入？

提示 1：甘蔗、咖啡、柑橘產量豐富
提示 2：足球強權、世界杯足球賽嗨翻天
提示 3：森巴嘉年華會
提示 4：？

- (A)高山上放牧羊駝、駱馬
(B)曾有印加古文明，留下馬丘比丘遺跡
(C)鐵礦豐富發展鋼鐵、汽車工業
(D)首都華爾街的金融動向，牽動著全球經濟走勢
46. 十六世紀以來，北美洲大量接受來自世界各地的移民，使其成為多民族的匯集地。請問：目前北美洲的種族構成中，哪一族群所占的比例最高？
- (A)歐裔白人 (B)非裔黑人 (C)印第安人 (D)因紐特人

【第 47 至 50 題為題組】

附圖為中南美的氣候分布簡圖，請依據附圖回答下列問題：



47. 何區受西風影響，呈現終年有雨，與西歐地區相似？
(A)丙 (B)丁 (C)戊 (D)己
48. 何區因位於西風背風側，並受到寒流影響呈現溫帶沙漠氣候？
(A)丙 (B)丁 (C)戊 (D)庚
49. 何區受到祕魯涼流及高壓帶影響，形成乾燥的熱帶沙漠氣候？
(A)戊 (B)己 (C)庚 (D)辛
50. 丙氣候區的主要形成原因為何？
(甲)盛行西風吹拂 (乙)東南信風吹拂 (丙)暖流流經 (丁)副熱帶高壓籠罩
(A)甲乙 (B)甲丁 (C)乙丙 (D)丙丁

試題結束

新北市立新莊國民中學 111 學年度第 1 學期第 3 次段考 9 年級社會領域試題
解答

1	2	3	4	5	6	7	8	9	10
A	C	A	D	D	C	B	A	A	C
11	12	13	14	15	16	17	18	19	20
C	B	D	B	C	B	C	B	A	A
21	22	23	24	25	26	27	28	29	30
D	A	C	D	D	B	D	A	C	B
31	32	33	34	35	36	37	38	39	40
C	B	A	D	C	C	B	C	A	D
41	42	43	44	45	46	47	48	49	50
C	B	B	D	C	A	D	D	D	C