

※ 選擇題：本試卷共 50 題，每題 2 分，總分為 100 分。

每一題均為單選題，請選出最適當答案。

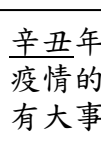
※ 請用 2B 鉛筆在答案卡上相應的位置畫記。

- 介紹手冊寫到：「『八仙洞』是台東必去之地，擁有十多個自然形成的海蝕洞，也是台灣最早的舊石器時代遺址，是個兼具地質景觀與史前文化的景點…等。」請問：在當地參觀時會看到下列哪個現象？
(A)出土許多「貝塚」 (B)使用貨幣貿易狀況
(C)看到使用過的石器 (D)有煉製鐵器的痕跡
- 甲：「政府實施海禁政策，雖然是為了防備倭寇，但造成我不能出海捕魚，家庭陷入困境」
乙：「為了打壓鄭氏政權，朝廷啟用海禁政策，但為了生計，還是有不少人偷偷進行走私貿易」
根據上面的敘述，請問：甲乙分別是屬於哪個時期的人？
(A)甲：明朝時期的漁民 乙：清朝時期的百姓
(B)甲：清朝的批貨商人 乙：明朝的政府官員
(C)甲：荷蘭時期的船夫 乙：西班牙的翻譯官
(D)甲：日本本地的商家 乙：明朝碼頭的工人
- 林鳳是一位將軍，早年追隨鄭成功來到台灣，曾奉命開墾荒地，據說現在「林鳳營火車站」就是他當年開墾土地的中心，請問：火車站名字的由來，與下列哪項狀況最相關？
(A)「鎖國政策」糧食短缺，士兵開墾土地
(B)「軍屯」的實施，士兵開始要自耕自食
(C)「海禁政策」留守士兵為了糧食而開墾
(D)國際貿易興盛，栽培大量稻米銷往海外
- 書裡寫道：「他是明朝的將軍，一生中戰功赫赫，當年成功逼退荷蘭人的創舉，讓人讚嘆！政府還在澎湖立碑表揚他的貢獻」，請問：這本書名應該是下列何者？
(A)顏思齊的貿易哲學 (B)明朝時期的鄭成功
(C)沈有容一生的貢獻 (D)鄭芝龍的海上霸權
- 「紅毛城」早年稱為「聖多明哥城」，現在是台灣的一級古蹟，同時也是附近民眾休閒時光的好去處，請問：「紅毛城」名字的改變，代表哪兩個政權曾占領台灣？
(A)西班牙 荷蘭 (B)日本 葡萄牙
(C)日本 西班牙 (D)荷蘭 葡萄牙
- 台南的「孔廟」興建時間在 1665 年，當年鄭氏政權的統治者推崇文教，孔廟就是在「他」任內期間所建造的，請問：上述的「他」是指哪位統治者？
(A)施琅 (B)鄭成功 (C)鄭經 (D)鄭克塽
- 農業的出現，使人類食物的取得，由以往完全仰賴自然，發展成可以自主生產，其中「稻米」因具備種子較大、乾燥後能長期保存等優點，而被人類當成主食，請問：哪個文化遺址出土已經炭化的稻米？
(A)長濱文化遺址 (B)大坌坑文化遺址
(C)圓山文化遺址 (D)南關里文化遺址
- 在民國八十三年八月一日，國民大會修改憲法，「原住民」這三個字出現，讓原住民的「正名運動」有了具體的成果，請問：下面關於台灣原住民的敘述，哪些是正確的？
(甲)清帝國時，把原住民分為平埔族與高砂族
(乙)平埔族群因為居住區域，與漢人接觸較早
(丙)日治時期，日人稱原住民「生番」與「熟番」
(丁)無文字，所以常使用口語傳承歷史與文化
(A)甲乙 (B)乙丁 (C)甲丙 (D)丙丁

- 下面是三家不同的電視新聞台，對新冠肺炎 COVID-19 做了一系列報導與追蹤，並從各個角度去推測接下來的走向，請問：關於這三家電視台的敘述何者「錯誤」？



西元 2019 年印度神童阿南德，預測世界將有一場「全球性疾病大流行」，結果半年後，COVID-19 疫情爆發…以上來自今日新聞報導。



辛丑年(西元 2021 年)，大家要小心疫情的反撲，以往遇到辛丑年，都會有大事發生…以上為三立新聞報導



民國 109 年，我國驗出第一個 COVID-19 的病患，目前已將患者送往醫院進行隔離…以上為 BBC 電台報導

- BBC 電台所播報的內容，比其他兩家時間都早
- 三立新聞用中國干支紀年的方式來播報新聞
- 阿南德精準的預測，讓他在二十一世紀爆紅
- 中國干支紀年的傳統曆法，每 60 年為一週期

- 台灣某政權的統治者說道：「我喜歡跟英國商人貿易，我們已經達成貿易協定，讓他們在安平(台南)設立商館，希望以後可以從中買到更多軍用物資。」請問：上述應該是哪個政權？

- 西班牙政權時期 (B)荷蘭政權時期
- 葡萄牙政權時期 (D)鄭氏政權時期

- 「人獸形玉質耳飾」為台灣國寶之一，此耳飾是稀少珍貴的玉器，它出土在卑南文化的石板棺中，請問：如果要去參觀當時挖掘的場景，應該去(圖一)哪一個地點？

- 甲 (B)乙 (C)丙 (D)丁



(圖一)

- 約翰是荷蘭商人，十七世紀時跟著荷蘭商團到台灣做生意，當時荷蘭把台灣當成國際貿易轉運站，請問：約翰在台灣的這段時間，會經歷哪些事件？

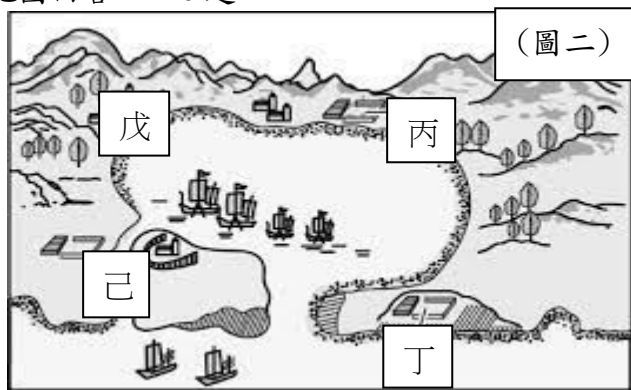
- 與鄭成功合作，一起對抗清朝政府
- 拿著中國的瓷器，轉運給其他國家
- 從日本進口鹿皮，賣給原住民部落
- 發現日本政府不歡迎荷蘭前去貿易。

- 台灣歷史上有幾位重要的「海商」，他們在東亞的活動非常頻繁，並對台灣的開墾有許多貢獻，請問：關於幾位「海商」的敘述，何者正確？

- 顏思齊曾經招募漢人開墾雲林、嘉義一帶
- 鄭芝龍拒絕投靠清帝國，因此日後被暗殺
- 「海商」的貿易據點一直都是以台灣為主
- 施琅瓦解顏思齊在東亞海面上的貿易商團

【第 14 至 16 題為題組】

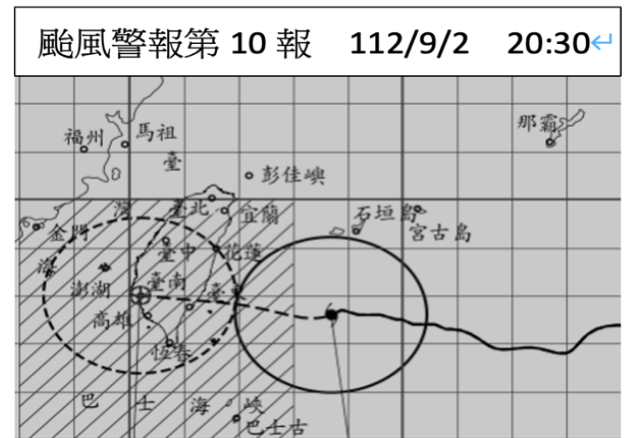
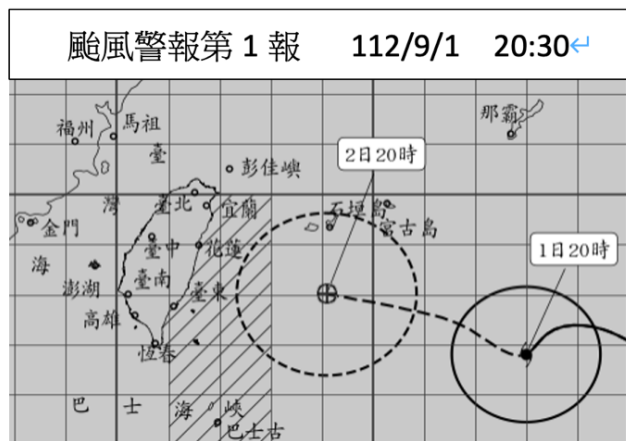
(圖二)為甲國調查員所繪製的地圖，這是當年要探聽乙國在台灣的貿易狀況所畫的，十六、十七世紀，甲乙兩國為了拓展在東亞的貿易圈，先後占領了台灣，請根據(圖二)地圖回答 14-16 題:



14. 當時甲國調查員發現到，此區常有公司的人來開會，同時長官也會在這頒布命令，這裡儼然就是個行政中心，請問:這個區域位置在(圖二)的何處?
(A)丙 (B)丁 (C)戊 (D)己
15. 承上題「甲國調查員看到有公司的人來開會…等」，請問:「這間公司」有下列哪些特色?
①亞洲總部位於菲律賓②可代表國家組織軍隊
③此公司能自行宣戰④公司可以代表國家締約
(A)①②③ (B)①③④ (C)②③④ (D)①②④
16. 請問:下面關於甲乙兩國的敘述何者正確?
(A)甲國占領台灣之後，曾與日本發生貿易糾紛
(B)乙國後期實施了「鎖國政策」，退出東亞貿易
(C)甲國曾經想占領澎湖，但是被明朝將軍逼退
(D)乙國日後建造「普羅民遮城」，鞏固統治政權

【第 17 至 19 題為題組】

海葵颱風路徑撲朔迷離，下圖為海葵颱風侵台時期的警報單（實線顯示颱風目前所在位置，虛線顯示為未來 20 小時內的預測路徑，圓圈為颱風的暴風半徑，圖中方格距離為 1 經度，1 緯度），請根據此警報單回答下列問題：

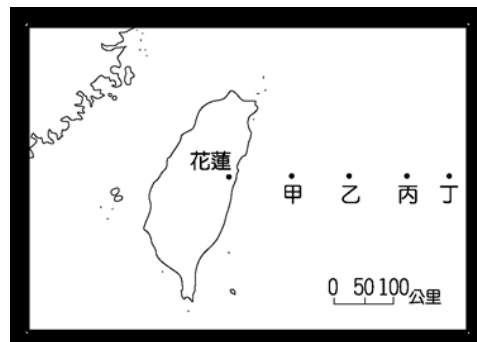


17. 氣象主播正在擬定海葵颱風第一報位置的講稿，下列哪份颱風位置的講稿正確?
(A) 颱風中心位於 (119°N, 26°E)
(B) 颱風位於菲律賓西南方
(C) 颱風位於太平洋東側
(D) 颱風中心位於 (128°E, 21.9°N)
18. 依據氣象預報，當颱風暴風半徑於 4 小時內可能經過，且其平均風力達 7 級以上，陣風達 10 級以上之地區有致災之餘，可停止上班上課以防災。由上兩張警報單圖判斷，何處停止上班上課的機率最低?
(A)台北市 (B)台中市 (C)台南市 (D)高雄市
19. 根據颱風行經路線與位置判斷，下列敘述何者正確?
(A)颱風朝北移動，東海地區漁船需嚴加戒備
(B)颱風朝西移動，澎湖需做好防颱準備
(C)颱風朝南移動，馬祖地區嚴防強風豪雨
(D)颱風朝東移動，颱風警報預計隨後解除

【第 20 至 21 題為題組】

『報導者』雜誌報導，國際緝毒組織發現台灣毒梟在亞洲毒品的販運市場中，不論到東南亞印尼或東北亞日本、南韓，都扮演著『交通』的角色，常以仿冒漁船的方式於公海交易，躲避查緝，此讓台灣緝毒單位不得不與國際組織合作，以杜絕毒品走私，將毒品阻於境外。

20. 台灣在亞洲的毒品販運市場中扮演著『交通』的重要角色，應與下列何者有關?
(A)位居東亞島弧重要樞紐上
(B)位居溫帶與熱帶氣候的過渡帶
(C)位居海洋與陸地生態的交會地帶
(D)位居歐亞大陸與菲律賓海版塊的接觸帶
21. 台灣緝毒單位若要與國際組織合作緝捕在公海仿冒漁船的毒梟，則下列何處海域因非台灣法律管轄範圍而最需要合作 (200 浬約為 370 公里)?
(A)甲 (B)乙 (C)丙 (D)丁



【第 22 至 24 題為題組】

知名豪華深海探潛船『探坦號』在前往鐵達尼號殘骸的深海途中失蹤，因搜救難度極高而成為世界新聞頭條。下圖甲處為其失蹤前的最後位置，請根據此圖回答下列問題：



22. 世界各洲入口網站皆將此圖列為快訊報導資訊，但因圖中缺乏下列哪個洲的資料，以致於該洲報導此新聞時需重新繪製地圖?
(A)亞洲 (B)北美洲 (C)大洋洲 (D)北極海

繼續作答下張試卷

23. 各國報導探坦號於『甲』處海域失事，請問『甲』處應是下列何者？
(A)太平洋 (B)印度洋 (C)大西洋 (D)北極海
24. 若要為這張地圖標上重要的經緯線，下列何者無法標示於圖中？
(A)本初經線 (B)赤道 (C)國際換日線 (D)北回歸線

【第 25 至 26 題為題組】

新建案『基泰大直』因連續壁工程意外，導致南側公寓下陷造成鄰損，市政府雖緊急灌漿搶救，但不久後北側的道明外僑學校也出現下陷，讓周圍住戶恐懼不已。第一張圖是『基泰大直』的位置概略圖，第二張圖是記者為讓讀者更清楚受影響區域，針對第一張圖方框截圖後的地圖，並於圖中以『■』標記事件位置。請問：



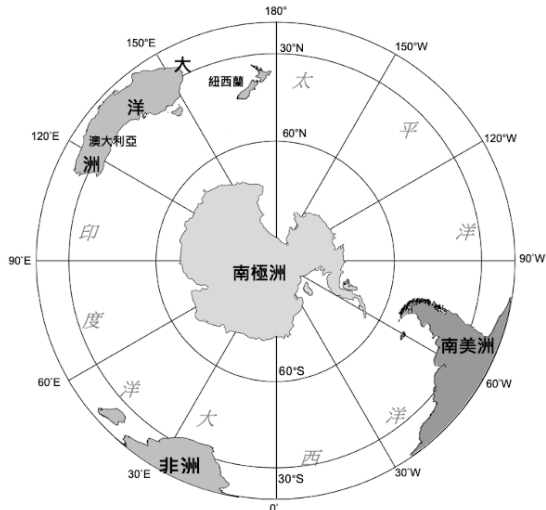
25. 記者截圖後改變了這張地圖的什麼要素？
(A)地圖比例尺變大 (B)地圖方位南北顛倒
(C)地圖比例尺變小 (D)地圖圖例意義不同
26. 若想知道北側道明外僑學校的學校類別（即小學、中學、或大學），應該從此圖中的什麼資訊著手？
(A)圖名 (B)圖例 (C)比例尺 (D)向標

【第 27 至 28 題為題組】

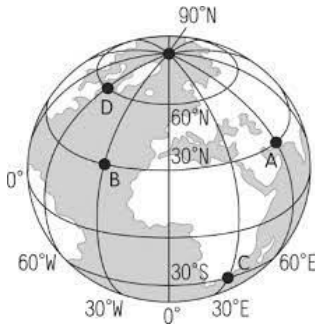
因受疫情影響，國際遊輪無法到港，旅遊業者為減少虧損推出國內遊輪行程，計畫停駐台北港、花蓮港、高雄港、水頭碼頭（金門）四個港口，但規劃者只標示出港口的經緯度座標位置，卻忘了說明是哪個港口。請問：

港口	東經	北緯
甲	120.288598	22.598895
乙	121.379087	25.152203
丙	118.292912	24.421305
丁	121.632339	23.986506

27. 港口標示經緯度供遊輪使用的目的，可能與下列何者有關？
(A)季節判斷依據 (B)交通導航需要
(C)溫度預測依據 (D)保護經濟海域
28. 關於表中的四個港口的配對，下列何者正確？
(A)甲-台北港 (B)乙-水頭碼頭(金門)
(C)丙-高雄港 (D)丁-花蓮港
29. 賞鯨是許多人夢寐以求的活動，據調查台灣附近的鯨魚常出現於太平洋，若遊輪行程也想將賞鯨納入規劃，則應在下列哪個航段特別標註此活動？
(A)甲→乙 (B)甲→丙 (C)乙→丙 (D)乙→丁
30. 下圖為地球外的某一視角所繪製的地圖，關於此圖的描述何者正確？
(A)中心點的經緯度為(0,0)
(B)圖中的陸地為北美洲、歐洲、非洲
(C)是地球人類主要的居住範圍
(D)圖中海洋面積遠大於陸地



31. 最亮、最大的滿月被稱為超級藍月，100 年來最多出現 4 次，最近的一次為 2023 年 8 月 31 日，若各地的天文 youtuber 舉辦超級藍月直播接力賽，則下列四個地點，何處可能是最後直播者所在地？
(A)124°W,25°S (B)60°W,25°N
(C)124°E,25°S (D)60°E,65°N
32. 哥吉拉電影預計開拍續集，導演希望找尋符合下列條件的地點當做拍攝場景，『一、位於東半球，二、與台灣季節相反，三屬於溫帶氣候』，若你是導演特助，判斷下列何地最符合導演的要求？
(A)A (B)B (C)C (D)D



33. 下圖是桃園美華泰購物商場的位置，請問：下列那種位置的表示方式與此圖類似？
(A)位於高鐵站與機場之間
(B)原從機場搭直達車 10 分鐘
(C)在東經 121 度，北緯 25 度
(D)位於桃園高鐵站北方 100 公尺



背面尚有試題

新北市立新莊國民中學 112 學年度第 1 學期第 1 次段考 7 年級社會領域試題卷

班級 座號 姓名

34. 福智文教基金會於 4 月 22 日世界地球日偕同 76 家臺灣企業團體，同時舉辦「用愛環抱海洋，企業淨灘 GO！」活動，期盼企業從源頭開始為地球貢獻社會公民責任。當日參與淨灘的企業人士及親友總計逾 2,730 位，總計清出廢棄物 4,703 公斤。請問：上述眾人的行為與下列何人具備同樣的公民德性？
- (A)小雯支持言論自由，將「我不同意你的說法，但我誓死捍衛你說話的權利」這句話作為人際溝通準則
(B)潔玲參加政府舉辦的興建焚化爐公聽會，以表達自己反對興建的立場
(C)阿達上網瀏覽政府設立的闢謠專區，確認新聞訊息的真實性
(D)阿祥遵守交通號誌，走斑馬線穿越十字路口
35. 大明主張偏遠地區小學應該廢校或與他校合併，才符合經濟投資效益。小華卻認為教育的決策，不應僅止於數值的計算，而應以保障學童的學習權，實現教育機會均等為考量。請問：小華的觀點最主要是基於下列何項因素？
- (A)捍衛公平正義 (B)增進公共利益
(C)多元尊重包容 (D)促進經濟效益
36. 陳之藩先生曾說：「民主不是一群會投票的驢」。每逢選舉期間，網路、電視上總充斥著假新聞、捕風捉影的消息，如果選民對政治事務無知，那其實和驢投票的結果並沒有什麼分別。請問：要終止盲目的投票行為，避免人云亦云，我們必須要具備下列哪一項公民的基本德性？
- (A)參與公共事務 (B)和平尊重包容
(C)理性思考批判 (D)捍衛公平正義
37. 下列有關人權的敘述，何者正確？
- (A)人權是透過後天努力學習取得，必須得到應有的尊重
(B)生而為人，就享有普遍性的人權保障，精神病患在收容所也享有基本人權
(C)人權應該考量族群、年齡與性別之分，實施差別對待
(D)外籍移工並不具有我國國籍，故政府無法維護其人權
38. 聯合國宣布每年 10 月 11 日為「國際女童日」，這一主題日確認女童的各項權利，希望為女童提供更多的機會，並減少全世界對於女童的不平等待遇。去年，我國行政院則將每年的 10 月 11 日訂為「台灣女孩日」，促使全民關心女孩權益問題。請問：上述做法，主要目的為下列何者？
- (A)破除傳統的性別刻板印象
(B)確保不同種族間的公平競爭
(C)減少社會各階層間的歧視行為
(D)讓女孩都能獲得應有的人權保障
39. 歌手蔡依林的歌曲〈玫瑰少年〉的創作背景，是以葉永鋕作為中心人物，用優美的歌詞和旋律刻畫性別平等的理念，為各種性向及外貌的群體發聲。葉永鋕因為陰柔且偏女性化的性別氣質，使得他長年都遭到特定同學欺負，甚至常被要脅在眾人面前，強行脫褲以驗明正身，導致他下課時不敢上廁所。請問：同學的行為已構成下列何者？
- (A)性騷擾 (B)性別刻板印象
(C)性別偏見 (D)性霸凌
40. 《世界人權宣言》第十五條：一、人人有權享有國籍。二、任何人的國籍不得任意剝奪，亦不得否認其改變國籍的權利。請問：依據我國《國籍法》規定，下列何人

目前不具有我國國籍？

- (A)在台灣出生、父母是加拿大人，目前在出版社上班的小玉
(B)在美國出生、台灣就學，明年可以參與選舉投票的小花
(C)在夏威夷出生，父親是台灣人，母親是美國人，目前在英國遊學的阿傑
(D)母親是越南人，透過歸化方式，已取得中華民國身分證的小藍
41. 台灣事實查核教育基金會與國立教育電台合作的「新聞真·假掰。假訊息 ByeBye！」節目，邀請各行各業的朋友暢談媒體議題，陪伴聽眾提升媒體素養、增強對假訊息的抵抗力，達成「群體免疫」。請問：在資訊爆炸的年代，各種真真假假的訊息，下列哪些作法能夠避免我們受騙？(甲)對標題保持懷疑態度(乙)調查消息來源(丙)查詢相關報導(丁)只分享可信的消息
- (A)甲乙丙 (B)乙丙丁 (C)甲丙丁 (D)甲乙丙丁
42. 塔利班政權自 2021 年重掌阿富汗後，女權大開倒車。除了不允許女性單獨前往公共場所，還禁止她們就學，幾乎徹底阻斷女性在社會上的發言權。近期更擴大範圍，不准女性進入該國旅遊勝地班達米爾國家公園，宣稱對女性來說觀光不是必須。對於塔利班政權的作為，美國國務院和世界人權組織皆發聲予以譴責。請問：上述內容，主要在凸顯哪些議題的重要性？(甲)公民與公民德性的培養(乙)人權與人性尊嚴的保障(丙)政府與社會福利政策(丁)性別偏見與歧視
- (A)甲乙 (B)乙丁 (C)丙丁 (D)乙丙
43. 人性尊嚴是人權保障的核心價值。請問：下列哪些選項有助於維護人性尊嚴？(甲)政府規定公立學校須依一定比例聘用身障人士(乙)公共場所設置性別友善廁所，讓任何性別的人皆得以安心無障礙的如廁(丙)教育部宣布自 112 學年起，在全國各級學校提供免費生理用品，尤其照顧不利處境學生(丁)內政部為展現打擊詐騙的決心，與其他部會合作，訂頒「新世代打擊詐欺策略行動綱領」
- (A)甲乙丙 (B)乙丙丁 (C)甲乙丁 (D)甲乙丙丁
44. 某家事業單位以「要搬重男性佳」為由徵人，遭勞工局認定在招募徵才時因性別有差別待遇，開罰新台幣 30 萬元。勞工局表示，雇主如因對特定性別有偏見，進而在徵人廣告揭示「限女性」、「男性佳」、「徵女會計」、「徵門市小姐」，都屬於就業歧視，造成求職人無法或不能前往應徵，進而影響就業機會平等。請問：勞工局的作法，是希望能達到下列哪些目的？
- (甲)促進性別平權，禁止歧視行為(乙)尊重個人身體自主權(丙)促進族群和解，減少社會對立(丁)保障就業權利，不因性別而有差別待遇
- (A)甲乙丁 (B)甲丁 (C)甲丙丁 (D)乙丙丁
45. 小夫：今年我已經可以行使罷免權。
宜靜：明年總統大選，我才符合投票資格。
胖虎：明年我才具備公民投票資格。
依據上述三人的對話，年齡由小到大的排列，應為下列何者？
- (A)小夫、宜靜、胖虎 (B)胖虎、宜靜、小夫
(C)宜靜、胖虎、小夫 (D)小夫、胖虎、宜靜

繼續作答下張試卷

【第 46 至 48 題為題組】

據統計，2022 年交通事故中，平均每天將近 47 位行人，在台灣道路上非死即傷。美國媒體 CNN 曾於報導中以「living hell」形容台灣的交通環境，使「行人地獄」成為台灣交通亂象的貶稱。為洗刷台灣「行人地獄」汙名，立法院通過《道路交通管理處罰條例》修正案，駕駛若是不停讓行人，最高可開罰 6000 元；機車維持 1200 元罰鍰。

今年 8 月「行人零死亡推動聯盟」更在台北凱達格蘭大道，舉行「還路於民—行人零死亡」行人路權大遊行，號召全民走上凱達格蘭大道，用雙腳對抗交通暴力。此次遊行的 5 大訴求，包括：健全人行設施、改革駕訓及考驗制度、執法捍衛行人路權、重建交通法制、以縣市為單位，推動零死亡願景。希望中央和地方政府一起努力，為下一代打造一個有尊嚴的步行環境。

46. 當日遊行活動雖有大雨攪局，但仍有數萬名民眾到場力挺。請問：參與遊行的民眾展現出下列何種現代公民的基本德性？
 (A)理性思考批判 (B)和平尊重包容
 (C)參與公共事務 (D)捍衛公平正義。
47. 參與遊行的日本人「Iku 老師」，曾拍攝影片點出台灣病態交通問題，認為台灣輕視交通安全、無視人民安全，更直言再不改善台灣會繼續爛下去，卻被部分網友怒轟是在製造台灣動盪、要他滾回日本去。請問：上述網友的回應言論，顯示需加強下列何項公民德性？
 (A)理性思考批判 (B)遵守法律規範
 (C)參與公共事務 (D)和平尊重包容。
48. 當日前往參加遊行的四海社區成員，包含阿福(66 歲)、阿嬌(44 歲)、花花(20 歲)、蘭蘭(18 歲)、小哥(17 歲)共有五人。請問：本屆立法委員將在明年 1 月 13 日進行改選，屆時將有幾位民眾可以在立委投票當日領到選票行使參政權？
 (A)2 人 (B)3 人 (C)4 人 (D)5 人

【第 49 至 50 題為題組】

#我也是（英語：#MeToo）是社交媒體上用於譴責性侵犯與性騷擾行為的主題標籤，鼓勵女性在網路上公開被侵犯的經歷，以使人們能認識到這些行為的普遍性。2023 年臺灣#MeToo 運動是指 5 月起於臺灣發生一連串揭露性騷擾事件的情勢。最早是由民進黨前黨工指控曾經遭遇職場性騷擾。其後在臺灣形成#MeToo 效應，相繼爆出過去曾經遭到性騷擾的指控，案件除了涉及各政黨外，也擴及至媒體、校園、體育、藝文等場域。

在臺灣，各領域均存在許多工作場所性騷擾的情況，且以各種形式發生性騷擾。根據勞動部去年工作場所就業平等調查，約有 20 萬名勞工遭到職場性騷擾，但提出申訴者的比例相當低。針對性別平等事件，立法院已先後完成「性平三法」修正案，除了分層級重罰權勢性騷，也強化外部申訴及監督機制，避免吃案。

49. 在臺灣，各領域均存在性騷擾的情況，且以各種形式發生。請問：下列情境與適用的性平法規配對何者有誤？
 (A)小美在搭公車上學途中，遭陌生男子襲胸—性騷擾防治法
 (B)櫻木在校園對同學開黃腔講笑話—性別平等教育法
 (C)小金下班後公司尾牙聚餐時，被同事毛手毛腳—性騷擾防治法
 (D)阿德在出差時，被女上司搭肩摟腰—性別平等工作法
50. 請依據文意判斷，下列四人對於性騷擾的說法何者有誤？
 (A)小春：透過政府完善的法律規範，就能杜絕性騷事件發生
 (B)小夏：性騷擾可能發生在職場、校園或各處公共場域
 (C)小秋：擔心二度傷害、失去工作，可能是職場性騷申訴比例低的原因之一

- (D)小冬：只要與性或性別有關，讓當事人感到不舒服的言行舉止，就可能構成性騷擾。

試題結束

新北市立新莊國民中學 112 學年度第 1 學期第 1 次段考 7 年級
社會領域試題解答

1	2	3	4	5	6	7	8	9	10
C	A	B	C	A	C	D	B	A	D
11	12	13	14	15	16	17	18	19	20
D	B	A	B	C	D	D	A	B	A
21	22	23	24	25	26	27	28	29	30
D	C	C	C	A	B	B	D	D	D
31	32	33	34	35	36	37	38	39	40
A	C	C	B	A	C	B	D	D	A
41	42	43	44	45	46	47	48	49	50
D	B	A	B	B	C	D	B	C	A