

- ※ 選擇題：本試卷共 50 題，每題 2 分，總分為 100 分。
 每一題均為單選題，請選出最適當答案。
 ※ 請用 2B 鉛筆在答案卡上相應的位置畫記。

【第 1 至 2 題為題組】

1. 請閱讀以下新聞回答問題。

【BBC News 中文網 2023 年 9 月 5 日報導】中國中部山西省的一段長城遭到嚴重破壞。警方稱，有兩名建築工人涉嫌為節省施工路程而使用挖掘機破壞長城，他們被刑事拘留。而被破壞的「三十二長城」是明長城的一段，位於山西省右玉縣的一座山上。



警方表示，兩名嫌疑人用挖掘機將古長城原有豁口開挖成一個大缺口，以便於挖掘機從該缺口處通行。警方表示，該行為對長城的完整性和文物安全造成了「不可逆的破壞」。該案件正在進一步調查中。據報導，「三十二長城」有現存較完整的邊牆和烽火台，屬於省級文物保護單位。……

請問此新聞報導中的明長城，是在哪一個朝代統一後連接各國長城用來防禦北方外患？

- (A) 商朝 (B) 秦朝 (C) 漢朝 (D) 唐朝
2. 承上題題目中「連接各國長城用來防禦北方外患」，北方外患就是指有一草原民族興起，不時越界威脅南邊農業民族。請問：此北方草原民族，是指下列哪一族？
- (A) 鮮卑 (B) 突厥 (C) 天竺 (D) 匈奴

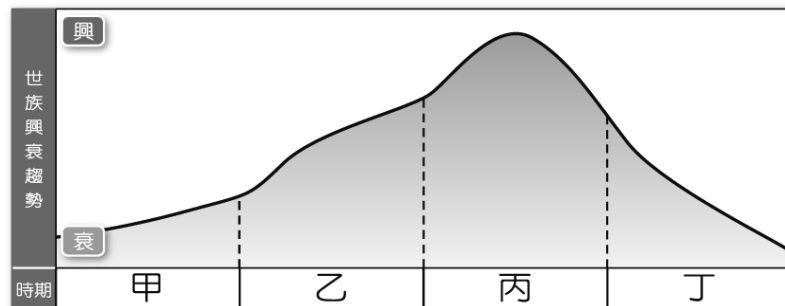
3. 【中央研究院歷史語言研究所-歷史文物陳列館出版文創商品 -「商王洗澡要洗熱水」扭蛋，每款 150 元，僅現場扭蛋機販售，無法指定款式，只能自己扭。】上述商王所使用器具是在商周時期區分貴族與平民身分的重要用具，更是彰顯貴族擁有國家權力象徵！請問這些用具總稱「？」



- (A) 青銅器 (B) 鑄鐵器 (C) 甲骨文 (D) 陶瓷器
4. 盛唐詩人李白，被稱為浪漫派詩人，更有「詩仙」之稱；他的詩句行雲流水，自然優美的詩句已傳誦千年，甚至成為經典，例如五言絕句《靜夜思》：「床前明月光，疑是地上霜，舉頭望明月，低頭思故鄉。」是李白最膾炙人口之作，自 8 世紀問世以來，幾乎每一本唐詩詩集都會收錄。《少年行》：「五陵年少金市東，銀鞍白馬度春風。落花踏盡遊何處？笑入胡姬酒肆中。」請問，李白此作《少年行》是在描述反映當時何種社會狀況？
- (A) 創貞觀之治，立大唐聲威的社會
 (B) 抵禦草原民族，自我保護的社會
 (C) 胡漢融合，創立兼容並蓄的社會
 (D) 伊斯蘭教外傳，宗教多元的社會

【第 5 至 7 題為題組】

請參照下圖-「世族興衰趨勢」表回答問題。



5. 請問，「丙」是世家大族最鼎盛時期，主要的原因是因為當時實施下列哪一項政策？
- (A) 推舉孝子廉吏 (B) 九品官人之法
 (C) 建立封建體制 (D) 實施郡縣制度
6. 承上題，請選出最符合這時期的相關俗語。
- (A) 十年寒窗無人問，一舉成名天下知
 (B) 萬般皆下品，唯有讀書高
 (C) 上品無寒門，下品無世族
 (D) 少年讀書不用心，不知書中有黃金
7. 請問，世家大族由興盛（丙）走向衰敗（丁），逐漸退出政治舞台，是因為哪一項選拔人才新政策出現？
- (A) 選舉制度 (B) 察舉制度
 (C) 科舉制度 (D) 宗法制度
8. 請按照時間先後順序，排列以下歷史事件。
- (甲) 魏晉南北朝胡漢接觸頻繁，促進民族大融合
 (乙) 秦朝確立郡縣制度，開啟中央集權政治體制
 (丙) 周朝用封土建國與宗法血緣，維繫天子權威
 (丁) 東亞文化圈出現於唐朝，胡風興盛文化多元
- (A) 甲丙乙丁 (B) 丁乙丙甲
 (C) 乙丙丁甲 (D) 丙乙甲丁


【題組：第 9 題～第 10 題】

9. 「佛教」是世界三大普世宗教之一，今日臺灣也有大家耳熟能詳佛教派別，例如：位於台北-法鼓山、高雄-佛光山、花蓮-慈濟。目前在臺灣，有些佛教徒雖然也和一般道教信仰融合，無論如何一直都是信眾心靈上的重要支持力量。請問，佛教最早是在哪一個朝代時傳入中國？



- (A) 秦朝 (B) 漢代 (C) 西晉 (D) 唐朝
10. 「佛教」起源於印度，早期在西域流行，創立者為釋迦牟尼，他主張眾生平等，一般尊稱他為「佛陀」；請問，下列關於佛教在中國發展的敘述，哪一項錯誤？
- (A) 唐朝建成雲岡石窟大佛像，今已列入世界文化遺產
 (B) 唐朝玄奘帶回佛教經典自行翻譯，促使佛教中國化
 (C) 唐朝文化外傳時，也包括佛教傳至朝鮮半島和日本
 (D) 魏晉南北朝時期戰亂不止，佛教成為人民精神寄託

11.

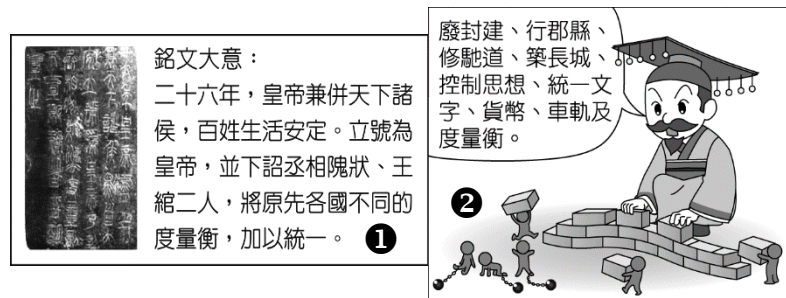


如上附圖是某個朝代的漢化政策示意圖，請由圖示判斷是當時下列哪一位皇帝所推動？

- (A) 秦始皇 (B) 北魏孝文帝 (C) 唐太宗 (D) 漢武帝

【題組：第 12 至第 13 題為題組】

12. 根據下圖 ①、②，完成國家統一霸業的是下列哪一位人物？



- (A) 秦始皇-嬴政 (B) 漢高祖-劉邦
(C) 隋文帝-楊堅 (D) 唐太宗-李世民

13. 承上題，他完成國家統一霸業，開始採行郡縣制度來治理國家，更促進各地文化溝通順暢，經濟發展迅速。關於郡縣制度，請問下列哪一項正確？

- (A) 郡縣長官以選貴族為重 (B) 郡縣長官由各地自行選出
(C) 郡縣長官可以直接世襲 (D) 郡縣長官由中央指派任免

【題組：第 14 至第 16 題為題組】

在國外，只要有華裔居住的地區多有「唐人街」，又稱唐人區、華人區 (Chinatown)。唐人街最早叫「大唐街」。1673 年納蘭性德《淶水亭雜識》：「日本，唐時始有人往彼，而居留者謂之『大唐街』，今且長十里矣。」請參照下圖回答下列問題。



14. 如圖中唐朝時期乙區的唐化運動，請問下列哪一項錯誤？

- (A) 全力模仿中國的文物制度，所以被稱為「君子國」
(B) 在七世紀時，孝德天皇決心開始推行「大化革新」
(C) 多次派遣使節、學生、僧侶來華被稱為「遣唐使」
(D) 其文字-「片假名」，是依照漢字楷書偏旁簡化而成

15. 中國重要四大發明之一「造紙術」，是在東漢時期蔡倫進行改良，他用樹皮、破布和魚網等廉價之物進行造紙，大大降低了造紙的成本。唐朝軍隊，曾和大食軍隊交戰於圖中哪一區？結果兵敗，許多具有造紙技術工匠士兵因此被俘虜，促成中國造紙技術西傳。

- (A) 甲 (B) 乙 (C) 丙 (D) 丁

16. 唐太宗時派遣遠親文成公主和親，她將佛教與農業技術帶至當地，促進兩國文化交流，也影響佛教在當地有特殊的發展。請問文成公主是嫁到圖中哪一區？

- (A) 甲 (B) 乙 (C) 丙 (D) 丁

17. 從明清時期以後，有大量閩、粵華人渡海，遷往海外台灣或是東南亞地區，華人原鄉生活習性與文化信仰隨之擴散。請問明清以來，使華人大量外移的推力為何？

- (甲.糧產不足)、(乙.政策限制)、(丙.人口過多)、(丁.汙染嚴重)
(A) 甲乙 (B) 甲丙 (C) 乙丙 (D) 丙丁

18. 中國主要的人口分布界線—黑河、騰衝線，請問與下列何項指標大致吻合？

- (A) 農業區與畜牧區 (B) 稻米區與小麥區
(C) 草原區與沙漠區 (D) 高原區與平原區

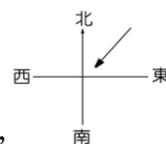
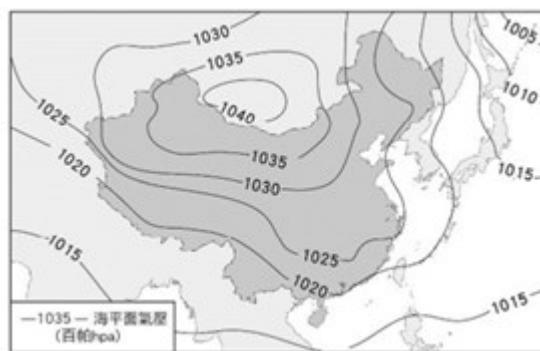
19. 中國 1949 年建國以來，面臨嚴峻的人口問題，於不同時間點分別制定了重大人口計畫，請依時序找出正確的人口政策為何？

- (A) 一胎化→開放二胎→提倡三孩
(B) 提倡三孩→一胎化→開放二胎
(C) 一胎化→提倡三孩→開放二胎
(D) 開放二胎→一胎化→提倡三孩

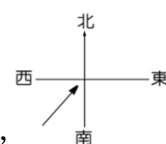
20. 中國學者觀察自身國情後，有 3000 萬以上男性「被動單身」，是因長期出生人口性別比例失衡造成的結果，研議徵收「單身稅」刺激他們更積極考慮婚姻，並可增加國家稅收，以應對當前社會問題，引發各界廣泛討論。請問中國研議徵收單身稅期待改善的社會問題，「不包含」下列何項？

- (A) 幼年人口快速銳減
(B) 人口外移引發文化擴散
(C) 性別比失衡，明顯高於 100
(D) 扶養比上升，經濟負擔日益沉重

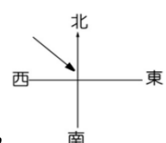
21. 下圖為中國某時的地面天氣圖，就圖中資訊判讀，請問此時中國首都北京感受到的氣候與季風風向為何？



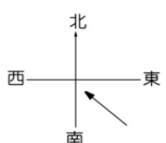
(A) 夏季雨季，



(B) 夏季雨季，



(C) 冬季乾季，



(D) 冬季乾季，

22. 中國新疆因深居內陸，水氣稀少，形成了中國最大沙漠—塔克拉瑪干沙漠，地廣人稀，在能源結構轉型的需求下，紛紛提出多項新型綠電方案，請檢視當地自然環境條件後，選出因地制宜且具備發展潛力的綠色能源政策應為下列何項？

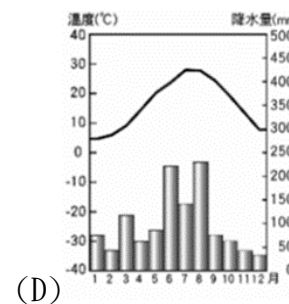
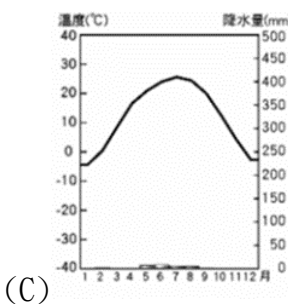
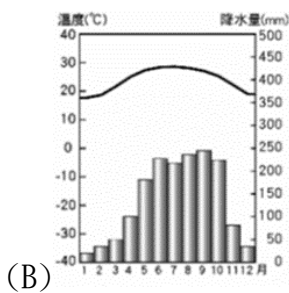
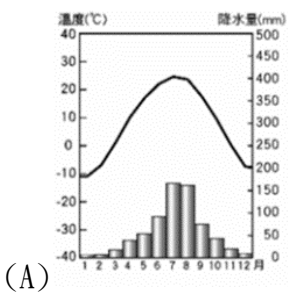
- (A) 潮汐發電 (B) 水力發電 (C) 地熱發電 (D) 太陽能發電

23. 秦嶺、淮河所處位置恰好符合中國重要的自然界線與文化分際，現已成為劃分中國南方與北方的主要分界，請找出下列屬於「秦嶺淮河線以南」的特色有哪些呢？
 (甲.最冷月均溫 0℃ 以上)、(乙.最暖月均溫 18℃ 以上)、
 (丙.終年月均溫低於 20℃)、(丁.年降水量 500mm 以下)、
 (戊.年降水量 750mm 以上)、(己.盛行饅頭、餃子等麵食文化)、
 (庚.稻作區，以米食料理為主食)、(辛.河川冬季結冰，偏重發展陸運系統)、
 (壬.常見騎樓與干欄式建築)、
 (癸.作物生長季短，僅夏季可耕作)
- (A) 甲-丁-己-辛 (B) 甲-戊-庚-壬
 (C) 乙-庚-辛-癸 (D) 丙-丁-戊-壬

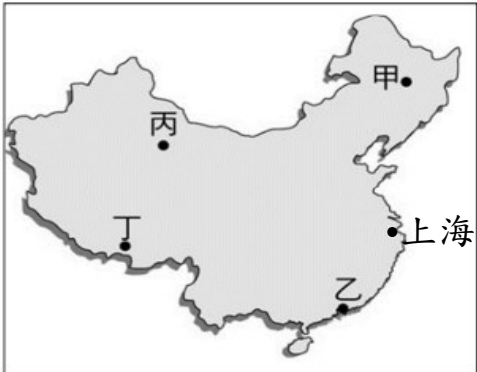
24. 環境負載力指的是一地能夠供應資源與承受污染物的能力，隨著人們的過度開發與科技進步，環境負載力可能下降或上升。請問下列中國各地形區中，哪一區環境負載力「最高」？
 (A) 長江中下游平原 (B) 東北平原
 (C) 黃土高原 (D) 準噶爾盆地
25. 當地居民利用雨量偏少，土壤具備垂直壁立性，不易坍塌的特性，開鑿洞穴、地穴成為特色民居，如左圖所示。請問這種冬暖夏涼，居民半鑿山腰住，車馬多從頭上過的傳統窯洞建築，常見於右圖中何區？
 (A) 甲區 (B) 乙區 (C) 丙區 (D) 丁區



26. 中國此區自治區的少數民族，多數人選擇居住於綠洲，利用周邊高山夏季融雪為水源，並善用當地日夜溫差大利於作物儲存糖分的特性，務農為生，以種植棉花、哈密瓜與葡萄……等等農產聞名國際，此區因而美稱為「瓜果之鄉」。請問上文描述的應是下列何區少數民族的生活寫照？
 (A) 西藏的藏族 (B) 廣西的壯族
 (C) 內蒙古的蒙古族 (D) 新疆的維吾爾族
27. 承上題，根據上文敘述，下列氣候圖何者吻合此自治區的氣候？



【題組】下圖為上海與甲、乙、丙、丁地的位置示意圖，請依圖中資訊回答第 28~29 題



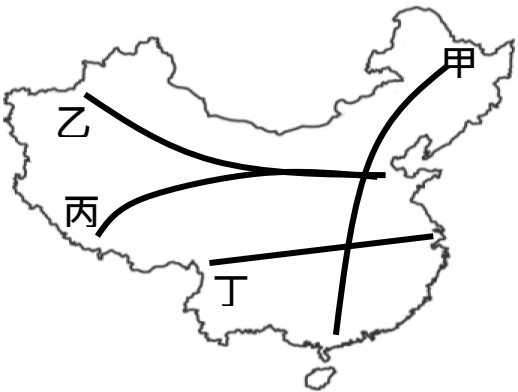
28. 下表為中國某年的氣候資料，請參考下列表格所提供的資訊，判斷此地應在圖中何處？

(A) 甲地 (B) 乙地 (C) 丙地 (D) 丁地

月份	平均氣溫(℃)	降水量(mm)
1	-18	3
2	-14	5
3	-5	8
4	4	21
5	12	34
6	20	78
7	23	185
8	21	160
9	15	40
10	3	22
11	-9	7
12	-16	3

29. 上海的地理位置優越，地處河流出海口，又位於海岸線中間點，以上海港掌控了對內與對外航運，水運、陸運與空運運輸皆發展非常快速，現已成為中國的經濟核心，人均收入位居全中國之冠。請參考圖中上海位置，找出上海掌控的是哪條河流的內河航運權呢？
 (A) 黑龍江 (B) 黃河 (C) 珠江 (D) 長江

【題組】下圖為中國境內的四條鐵路幹線，請依圖中資訊回答第30~33題



30. 中國鐵路哈爾濱局集團公司推出一趟由冰城到椰島的列車，別稱為候鳥列車，全程4361公里，途經11個省市，行駛時間長達46小時，冬季時節起訖站溫差將近50℃，且車上的旅客多以老人為主，列車乘務人員需擁有急救技能，以因應乘客身體不適的危急狀況。請問此列車行駛路線是哪一條？
 (A) 甲路線 (B) 乙路線 (C) 丙路線 (D) 丁路線

背面尚有試題

31. 承上題，造成該列車起訖站溫差達到 50°C 的主要原因為何？
- (A)經度跨距 (B)緯度跨距
(C)距海遠近 (D)地勢高低
32. 該列車跨越了中國的三階地形階梯，由平地都市一路行駛上世界屋脊，體驗世界海拔最高的鐵路旅程，不同海拔高度出現不同形貌的景緻與生態。請問這輛可體驗最大海拔高度落差的列車走的是哪個路線呢？
- (A)由南向北行駛甲鐵路 (B)由西向東行駛乙鐵路
(C)由東向西行駛丙鐵路 (D)由東向西行駛丁路線
33. 承上題，登上世界最高高原後，所看到的景觀應如同下列何項敘述？
- (A)平坦遼闊，草原廣布 (B)水土流失，溝壑交錯
(C)幅員廣闊，遍地沙漠 (D)地表崎嶇，寒冷荒涼

34. 公民課下課後，同學玩九宮格遊戲，其中 9 張牌卡如下表，其中班長已先抽走「主權」之要素，請問以下何人能湊齊國家剩餘的構成要素，並連成一線者，而順利獲勝？

1 最高權力	2 聯合國	3 總統、皇室
4 完善法律	5 人民 20 萬	6 行政院、立法院
7 朝野各政黨	8 國號國旗	9 台澎金馬

(A)小新

	1	
	5	
	9	

(B)莊仔

5	6	9

(C)阿國

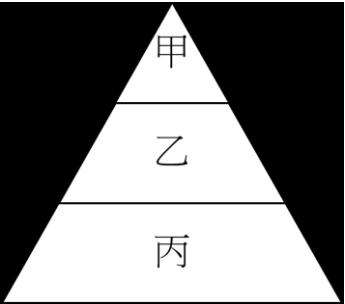
		2
	3	
8		

(D)阿中

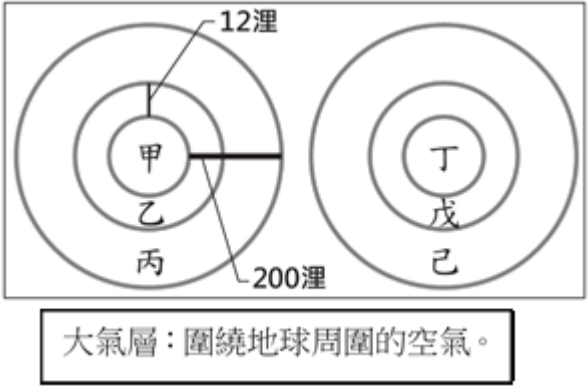
4		
	8	
		9

35. 某國在一次的足球賽中，地主隊與世仇球隊，因觀眾情緒失控衝入現場，導致多人傷亡。針對該起意外，社會輿論指向警方過度執法，面對譴責，警方因此被調職，當日在場執法的員警亦遭懲處。請問關於上文底線處可看出民主治理的何種特色？
- (A)民意政治、政黨政治 (B)法治政治、責任政治
(C)責任政治、民意政治 (D)法治政治、政黨政治

36. 附圖為我國廣義的法律位階示意圖，請問法律各階層的敘述，以下各種特色何者敘述**錯誤**？ (A)乙是指由立法院制定的法律，總統公布 (B)甲內容為原則性的規範，具體事項由法律加以補充 (C)甲是由行政機關提案，選舉人投票複決 (D)丙是由行政機關制定，以補充法律的不足



37. 下圖為某國周邊範圍的示意圖，甲區塊為該國的土地，乙、丙區塊為環繞在甲周圍的海域，而丁、戊、己區塊則分別為甲、乙、丙所對應大氣層內的空中領域。根據圖中內容判斷，該國完整的領陸範圍應為下列何者？
- (A)甲 (B)甲、丁 (C)甲、乙、丁、戊
(D)甲、乙、丙、丁、戊、己



38. 近年來，跨國電信詐騙猖獗，因此立法院三讀通過修正案，將加重詐欺罪納入管轄範圍，以保障國人權益，縱使國人在海外犯罪，我國司法機關仍可依法處罰，亦有權向他國主張管轄權，不僅有利於檢警機關調查，也可達到嚇阻的效果。請問上文可展現國家何種功能？
- (A)促進經濟發展 (B)維護社會秩序
(C)保障國家安全 (D)提升文化素質

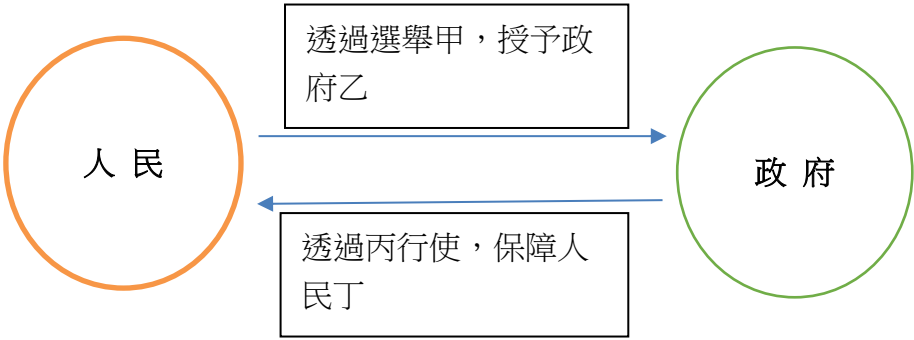
美國的反體罰組織於 1998 年發起「不打小孩日」的活動，這個最先在美國推行的活動，迅速得到國際社會的響應，2001 年起，其他反體罰及兒童人權團體也開始於 4 月 30 日這一天舉辦各種活動，倡議終止體罰兒童，並推廣正面的管教方式。臺灣也參與了「國際不打小孩日」的活動，下圖是相關活動的宣傳標語。



我國政府也開始建立更完善的法律制度來保障兒童權益，例如，修訂《兒童及少年福利與權益保障法》，促使政府、社會大眾與家長正視兒童福利與虐待兒童的問題；修訂《教育基本法》，明文禁止校園體罰，藉由公權力保障學生不受體罰。政府的各種作法，目的是預防及保護兒童免於一切形式的暴力侵害，希望提供兒童更完善的成長環境。

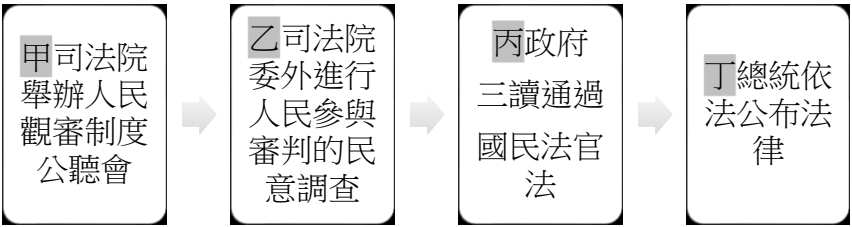
39. 關於文末前、後所提及我國的二項法規，下列敘述何者最適當？
- (A)以法律位階而言，後者具有最高性
(B)以法律位階而言，前者具有固定性
(C)以修法程序而言，皆須經總統公布後才生效
(D)以修法程序而言，皆可由立法機關加以解釋
40. 政府三讀通過的《憲法訴訟法》，「憲法法庭」將取代原來的釋憲機關，方式也從閉門會議改為裁判方式宣告審查結果。以下有關上文《憲法訴訟法》相關的敘述，何者正確？
- (A)法律位階高於《原住民族教育法》
(B)由制憲國民大會制訂
(C)三讀通過後，由總統公布
(D)由司法院逕行修訂與公布

41. 甲官員：召開記者會鞠躬道歉，承擔人民責難並引咎辭職。
乙官員：遭法院判處徒刑及褫奪公權。請根據你所學的知識，判斷以下何者正確？
(A)甲官員負起的是政治責任
(B)甲辭職的原因僅有貪汙
(C)乙遭判刑是因為違背多數民意
(D)乙官員承擔的是政治責任
42. 有關國家與政府的相關敘述，請問以下何者為非？
(A)政府為一政治實體，具有穩定性與持續性
(B)國家的功能需仰賴政府的公權力執行
(C)政府是國家構成要素之一
(D)政府權力的轉移不會影響國家的主權存續與否
43. 以下為公民課後的回家作業，阿龐試著比較權力與權利的差異，需要完成下圖，請幫助他完成下列未填入的甲乙丙丁？
(A)甲、乙為權力，丙、丁為權利
(B)甲、乙為權利，丙、丁為權力
(C)甲、丙為權力，乙、丁為權利
(D)甲、丁為權利，乙、丙為權力



44. 老師準備了下列的四種字卡，請同學們配對，請問以下何種組合是正確的？
- | | |
|----------------|---------------|
| 甲政府與人民均需遵守法律 | 乙法律即為統治者的意志展現 |
| 丙法律是統治者限制人民的工具 | 丁執行法律有明確的規範 |
- (A)法治社會是甲+乙 (B)人治社會是甲+丙
(C)法治社會是丙+丁 (D)人治社會是乙+丙
45. 過去曾有同性伴侶因違反民法「所謂之結婚，必為一男一女結合關係」而遭拒絕，在經過民眾長時間爭取，2018 年的公民投票後，2019 年司法院釋字第 748 號解釋施行法三讀通過，我國成為亞洲第一個保障同性婚姻的國家。而大法官已在先前宣告民法違憲，有關單位須在 2 年內修正或制定相關法律。請問從上文畫底線處，可得知憲法具有什麼特性？
(A)最高性 (B)固定性 (C)原則性 (D)進步性
46. 以下有關國家構成要素的敘述，請問誰的說法是正確的？
(A)具有我國國籍者稱為公民
(B)領海是指海岸基線向外延伸 120 哩
(C)政府是指管理國家的機構，如：民眾黨、民進黨
(D)主權是指國家最高的權力，具有最高性與獨立性
47. 法律是由國家依照一定的程序所制定，而有效力強弱之分，請問以下三部法律「國家公園管理站設置標準」、「國立高級中等學校校務基金設置條例」、「兩岸人民關係條例施行細則」，依序列出應屬於哪一位階？
(A)憲法、法律、命令 (B)法律、法律、命令
(C)命令、法律、法律 (D)命令、法律、命令

48. 日前全台曾多處停電，為確保用電無虞，台電公司根據《電源不足時期用電辦法》實施分區輪流限電，民眾可從電費單上確認自己住所的組別。請問上文所提及的法規，下列何者敘述正確？
(A)由行政機關訂定，再由總統公布
(B)法律位階低於憲法，高於命令
(C)內容具體詳盡，用以補充法律規定的不足
(D)內容簡明扼要，用於規範政府的組織與職權
49. 台灣周邊海空域近期相當緊張，中國軍機襲擾頻率激增，某日上午 6 時起大批共機進入西南空域，沿巴士海峽往東南空域飛行，我軍廣播驅離，中國軍機回應「不要干擾我們正常訓練。」請問根據以上新聞我國軍機廣播驅離是為了展現國家何種功能？
(A)安全 (B)秩序 (C)經濟 (D)人權
50. 今年開始實施的國民法官制度是讓來自各行各業、擁有不同背景與生活經驗的一般國民加入審判程序，參與聽訟及最後審判的過程。我國的國民法官制度歷經多年的努力，終於完成立法。以下是該制度推動的歷程，請問對於各階段的敘述，何者正確？
(A)甲階段的公聽會可展現民主政治特色
(B)乙階段的民意調查可彰顯法治政治
(C)丙階段的政府是指司法院
(D)總統依法公布法律可看出主權在民



試題結束

新北市立新莊國民中學 112 學年度第 1 學期第 1 次段考 8 年級
社會領域試題解答

1	2	3	4	5	6	7	8	9	10
B	D	A	C	B	C	C	D	B	A
11	12	13	14	15	16	17	18	19	20
B	A	D	A	D	C	B	A	A	B
21	22	23	24	25	26	27	28	29	30
C	D	B	A	C	D	C	A	D	A
31	32	33	34	35	36	37	38	39	40
B	C	D	B	C	C	A	B	C	C
41	42	43	44	45	46	47	48	49	50
A	A	D	D	A	D	D	C	A	A