

※ 選擇題：本試卷共 50 題，每題 2 分，總分為 100 分。  
每一題均為單選題，請選出最適當答案。

※ 請用 2B 鉛筆在答案卡上相應的位置畫記。

1. 中國俗諺：「好男不當兵，好鐵不打釘。」請問上述可能是源自於哪一個朝代的政策？
- (A) 漢朝：罷黜百家，獨尊儒術  
(B) 魏晉南北朝：忽視禮教，崇尚玄虛  
(C) 唐朝：胡漢融合，兼容並蓄  
(D) 宋朝：重文輕武，文人政治

2. 蘇軾《教戰守策》云：「今國家所以奉西北二虜者，歲以百萬計。奉之者有限，而求之者無厭，此其勢必至於戰。」上述表示，北宋每年都要給外患大量的歲幣；其中「西北二虜」，請問是指當時的哪兩個外族？
- (A) 契丹、女真 (B) 契丹、党項  
(C) 女真、蒙古 (D) 党項、蒙古

3. 歷史上的恩與仇常會傳與子孫。例如創建金國女真族□□氏後裔，因為祖先與南宋大將岳飛敵對，迄今依舊傳襲著「三不」祖訓：一、不聽不看《說岳全傳》；二、不唱不看《草坡面禮》與《八大錘》等戲曲；三、同姓同族不通婚，可與漢姓通婚但絕對不能與岳姓通婚。請問，□□應該是指女真族的哪一個姓氏？
- (A) 完顏 (B) 乞顏 (C) 富察 (D) 耶律

4. 元世祖建立元帝國後，將國都定於大都，使當時的大都成為遠至多瑙河和幼發拉底河的世界之都。而元朝實施差別待遇的種族政策，把境內人民分為四等；請問，當時曾經來華的義大利人馬可波羅（附圖），應該是屬於當時哪一個階層？



- (A) 蒙古人 (B) 色目人 (C) 漢人 (D) 南人
5. 13 世紀在義大利的某教堂，神父告訴信徒，要虔誠向上帝禱告並懺悔，如此就可以躲過帶著火炮來自東方的「黃禍」。請問，上述神父所說「黃禍」，是指下列哪一事件？
- (A) 安史之亂 (B) 怛羅斯之役  
(C) 地理大發現 (D) 蒙古西征

6. (甲) 漢朝：崇尚儒術，經學傳家  
(乙) 魏晉：上品無寒門，下品無世族  
(丙) 唐朝：理學興起，融合佛、道思想  
(丁) 南宋：理學的集大成者-朱熹

請問上述哪幾項正確？

- (A) 甲乙丁 (B) 乙丙丁 (C) 甲乙丙 (D) 甲丙丁

7. 唐、宋、明的黨爭：

(甲) 朝代	唐代	宋代	明代
(乙) 黨爭	新舊黨爭	東林黨爭	牛李黨爭
(丙) 衝突背景	世家大族與科舉新貴	保守態度與激進思想	政治與利益上的鬥爭
(丁) 主要影響	唐朝政治更加惡化	北宋國勢更加衰弱	明朝政局更加敗壞


請問，上表哪一個選項的整裡有錯？

- (A) 甲 (B) 乙 (C) 丙 (D) 丁

8. 紙幣仍是現今社會不可或缺的貨幣之一。關於中國紙幣的起源發展，請問紙幣的出現除了因為商業的發達之外，也需要配合哪一項科技技術的進步？

- (A) 繪畫技術 (B) 火藥技術 (C) 印刷技術 (D) 航海技術

9. 承上題，下列紙幣出現的先後順序為何？



- (A) 甲乙丙 (B) 丙甲乙 (C) 乙丙甲 (D) 丙乙甲

10. 有關作者與書名的配對，請問下列哪幾項正確？

- (甲) 朱熹-《四書集注》 (乙) 司馬遷-《資治通鑑》  
(丙) 沈括-《夢溪筆談》 (丁) 李時珍-《本草綱目》  
(戊) 羅貫中-《水滸傳》 (己) 宋應星-《天工開物》

- (A) 乙丁戊己 (B) 甲丙丁己 (C) 甲丁戊己 (D) 乙丙丁戊

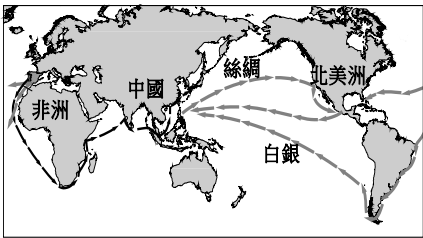
11. 大雄下星期三要交歷史期末報告，他上網查詢並引用下列三項資料：①南洋三寶港②造船技術史③世界航海史。請問，大雄的期末報告主題最有可能是下列哪一個？

- (A) 耶穌會教士東來 (B) 世界地理大發現  
(C) 荷蘭來臺灣殖民 (D) 太監鄭和下西洋

12. 明末，東北女真族之皇太極繼位後，改國號為「清」，改族名為「滿州」。下列四件事情是滿清入關之後的積極行動，請依照時間先後順序排列。(甲) 滅南明勢力 (乙) 消滅流寇 (丙) 攻克臺灣 (丁) 平三藩之亂

- (A) 甲乙丙丁 (B) 丙乙甲丁 (C) 乙甲丁丙 (D) 丁乙丙甲

13. 右圖為中國明清時期的對外貿易，促成中國與美洲往來熱絡的原因為何？



- (A) 西班牙積極與中國進行貿易往來  
(B) 阿拉伯商人走海路前往廣州貿易  
(C) 義大利商人開始地理大發現探險  
(D) 英國人擴大佈局亞洲殖民地市場

14. 有句流行話說：「明清殿試升進士，現代電腦手機生近視。」請問，在當時科舉考試的特色，下列何者正確？

- (A) 考試內容以理學、唐詩、宋詞為命題範圍  
(B) 通過科舉考試的士人形成世襲的士紳階級  
(C) 八股文不必排比對偶，只要完成規定字數  
(D) 貢士參加皇帝親自主持殿試排名統稱進士

15. 明末時期來自義大利，是位傳教士（如附圖），他身穿儒服，爭取中國士人的好感，並將西方科技帶進中國，對中西交流做出重大貢獻，被當時士大夫尊稱為「泰西儒士」。請問，下列哪一項是此位傳教士的重要事蹟？



- (A) 屬於天主教長老教會  
(B) 協助繪製中國第一部有經緯度的皇輿全覽圖  
(C) 與徐光啟合譯數學著作幾何原本前半部  
(D) 努力勸導中國人崇敬上帝，勿再祭祖拜孔

16. 明初和清初都曾經實施海禁政策，其實施的主要目的為何？

- (A) 明初是為防範倭寇；清初是為封鎖臺灣鄭氏  
(B) 明初是為封鎖臺灣鄭氏；清初是為防範倭寇  
(C) 皆為防範臺灣鄭氏  
(D) 皆為防範倭寇入侵

請翻面繼續作答



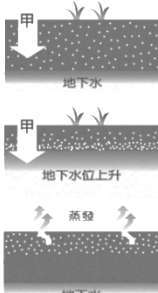
17. 關於明清時期的工商業與經濟發展，請問下列哪一位同學的敘述**錯誤**？
- (A) 大寶：江西景德鎮以製作瓷器聞名
- (B) 二寶：玉米、番薯、馬鈴薯從美洲傳入
- (C) 三寶：山東與福州的商幫最有名，在各大城市建立會館，作為同鄉寄宿聯絡與商業往來居所
- (D) 小寶：手工業分工細密，新興專業市鎮紛紛興起

18. 謝老闆打算到中國投資，下列有關各項產業區位的評估，何者**正確**？
- (A) 南部地區盛產煤、鐵，原料充足，適合投資鋼鐵工業
- (B) 西部地區鐵、公路運輸網密集，有利於產品的運送
- (C) 隴海鐵路是中國東西交通運輸的重要幹線
- (D) 珠江三角洲盛產棉花，利於紡織工業的發展

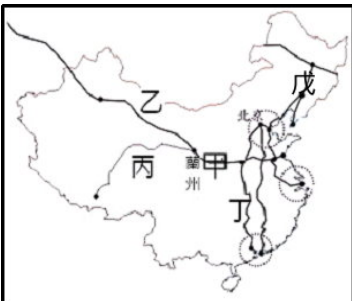
19. 為改善中國南部地區水災和北部地區嚴重缺水的問題，中國進行了『南水北調』工程，其中的南水主要是指附圖中哪條河川？
- (A) 甲 (B) 乙 (C) 丙 (D) 丁



20. 附圖為土壤鹽鹼化過程示意圖，圖中「甲」所代表的意義為何？
- (A) 不當施肥
- (B) 過度灌溉
- (C) 排放工業廢水
- (D) 超抽地下水



21. 附圖為中國鐵路分布圖，圖中哪段鐵路在興建時，須克服冰原沼澤地形，以及凍融作用造成鐵軌變形的困難？
- (A) 甲 (B) 乙 (C) 丙 (D) 戊

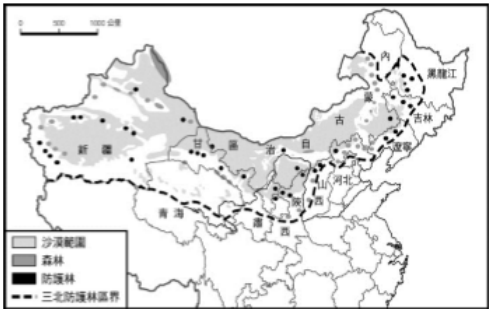


22. 下列對於中國傳統農業的敘述，何者**正確**？
- (A) 中國東半部地形平坦、溫差大，是農業主要分布區
- (B) 秦嶺、淮河以北經濟作物為茶和甘蔗
- (C) 新疆地區綠洲農業的灌溉水源為高山雪水
- (D) 經濟作物的種植面積大於糧食作物
23. 浩子暑假要到中國進行美食之旅，預定要從東半部的北京玩到西半部的內蒙古，附表是他預定要品嚐的美味食物。請問：影響兩地的飲食內容差異最主要的因素是？

北京美食	內蒙古美食
烙餅、水餃、炸醬麵、牛肉麵、驢打滾、豌豆黃、山楂糕、	全羊宴、烤羊心、炒羊肚、手扒羊、馬奶酒、金沙奶皮、酥油茶

- (A) 氣溫高低 (B) 宗教信仰 (C) 交通分布 (D) 雨量多寡
24. 新聞報導：「2018 年全球汽車總銷量受到中美貿易戰影響，中國汽車銷售增加率呈現負成長……而中國仍將是全球最大區域市場，並持續穩定擴大占比。」請問：影響上述有關中國部分的最主要因素為何？
- (A) 交通便利 (B) 人口眾多 (C) 原料豐富 (D) 面積廣大
25. 新聞報導：「蘋果公司執行長庫克於日前訪問中國後表示『蘋果之所以把最多代工放在中國，並不是著眼當地勞動成本最低……，而是被中國的技術與人才吸引！』」由上述報導可得知跨國企業在中國的投資已經轉向哪一類型產業？
- (A) 服務業 (B) 精密機械產業
- (C) 傳統勞力密集產業 (D) 資本與技術密集產業

26. 附圖為中國的三北防護林分布圖，此綠色長城工程**無法**防治下列哪一項環境問題？
- (A) 黃土高原水土流失嚴重
- (B) 洞庭湖泥沙淤積導致面積縮小
- (C) 北京日益嚴重的沙塵暴現象
- (D) 內蒙古荒漠化土地擴大



27. 近年來工商業發展後，連農業活動的類別亦由傳統的稻麥改為蔬果、花卉等作物為主。最主要的影響因素為何？
- (A) 大量出口 (B) 技術進步 (C) 人口減少 (D) 市場需求

28. 明達趁休假到中國北京旅遊發現當地空氣品質很糟糕，並拍下他覺得特別的照片如附圖，原來是當地正值沙塵暴的盛行時期，回台灣特地做了有關沙塵暴的筆記，請問他的筆記中哪些敘述**錯誤**？
- (甲)沙塵暴多發生在夏、秋之際
- (乙)為了減緩沙塵暴的影響，建設三北防護林
- (丙)在北京的沙塵是由西北季風帶來的
- (丁)沙塵暴不會影響周邊國家的空氣品質
- (A) 甲丁 (B) 甲乙 (C) 甲丙 (D) 丙丁



29. 關於下列表格兩區域農業主要特色比較，何者最為**正確**？

秦嶺、淮河	(A)	(B)	(C)	(D)
	耕地	收穫次數	生長期	主要糧食作物
以北	水田	1~2 次	較長	稻米
以南	旱田	2~3 次	較短	小麥

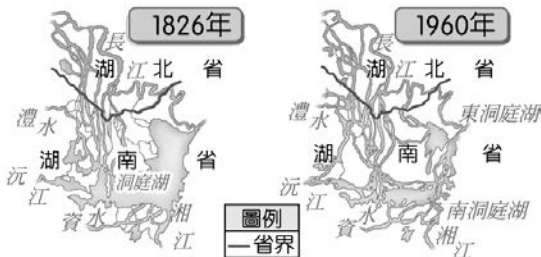
30. 中國與台灣貿易關係緊密，改革開放三十多年來，台商前往投資的數量與日俱增，但近年來台商對中國的投資金額卻有下滑的趨勢，請問下列何者**不是**造成該情況的主要原因？
- (A) 中國工資上揚 (B) 中資企業興起
- (C) 台商轉向東南亞投資 (D) 經濟特區增加為六個

31. 附圖是中國傳統農牧業分區圖，以下有關甲~丁區的敘述，何者**錯誤**？
- (A) 甲區乙區的分界線為年雨量 500mm 等雨量線
- (B) 甲區為中國農業區
- (C) 乙區與丙區畜牧方式不同是受到「氣溫」不同的影響
- (D) 丁區採行山牧季移



32. 十幾年來，中國經濟快速發展的主因為何？
- (A) 實施一胎化政策 (B) 擴大農村經濟改革
- (C) 實施經濟改革開放政策 (D) 擴大軍事工業的發展

33. 附圖為中國洞庭湖的面積變遷示意圖，依圖中資訊判斷，當地最可能出現下列哪一種環境問題？
- (A) 土壤鹽鹼化
- (B) 沙塵暴擴大
- (C) 水患頻率增加
- (D) 凍土面積廣布



34. 下列那些人類活動容易造成荒漠化？ (甲)乾燥地區過度灌溉 (乙)過度畜牧 (丙)過度伐林(丁)過度抽取地下水。  
(A) 甲乙丙 (B) 乙丙丁 (C) 甲乙丁 (D) 甲丙丁
35. 依照我國公職人員選舉罷免法的相關規定，王曉明受法院褫奪公權尚未復權，李小花受法院監護宣告尚未撤銷，有關他們二人參政權的行使，請依附表依序選出正確的選項？  
(A) 乙丁 (B) 丙乙 (C) 甲乙 (D) 丙丁
36. 下列四人皆為公職人員當選人，且剛好是所屬公職人員的最低參選年齡。請就他們的談話內容判斷，何人的年齡是最大的？  
(A) 我會購置多輛復康巴士，使鎮內的身障人士與長者方便就醫  
(B) 我會善盡質詢行政院各部會官員的責任  
(C) 縣市合併升格後，我與我的行政團隊共同打造一個美麗的市中心  
(D) 我會為縣民做好監督政府的職責
37. 現代民主國家中，都有利益團體與政黨兩種組織，但其對政治的影響力並不相同。若探討兩者的關係，則下列何者的敘述是正確的？  
(A) 政黨須透過利益團體的力量，才能促使政府改變政策  
(B) 利益團體的目的在影響決策，政黨的目的則是取得政權  
(C) 政黨不受任何利益團體影響，只為多數的民眾謀福利  
(D) 利益團體為保持政治的中立，不與任何政黨發生關聯
38. 熱衷於政治活動的景泰，對未來的規劃如下表所示。若僅從年齡資格判斷，當景泰年滿 26 歲時，他尚未具備表中何項規劃所需的條件？  
(A) 甲 (B) 乙 (C) 丙 (D) 丁
- | 規劃 | 規劃內容               |
|----|--------------------|
| 甲  | 參選鎮民代表，爭取為民服務的機會   |
| 乙  | 把握投票的機會，積極參與政黨活動   |
| 丙  | 希望在政黨支持下，參選縣長選舉    |
| 丁  | 憑藉累積良好聲望與人脈，參選立委選舉 |
39. 有四位同學在討論「政黨」，哪一位同學的說法最正確？  
(A) 阿彬：政黨是一群人的組合，所以學校的社團是一種政黨  
(B) 阿翰：政黨只能匯集民意，不能教育民眾及改變民眾的認知  
(C) 偉孝：政黨選輸即成為在野黨，需負責執行政黨的政策  
(D) 正男：政黨選贏成為執政黨，必須承擔施政成敗的責任
40. 美滿國社會運動領袖明瑞計畫籌組新政黨，讓選民能多個選擇。實際上，美滿國由人民黨一個政黨長期執政，尚無其他政黨可以與之抗衡。由上述可知，美滿國的政黨制度屬於哪一種型態？  
(A) 一黨專政 (B) 一黨獨大 (C) 兩黨制 (D) 多黨制
41. 美美在今年的選舉中成為首投族，家人提醒她選舉時應該注意的事項，哪一個人的說法偏離事實？  
(A) 爸爸：一定要帶印章，否則不能投票  
(B) 媽媽：不可以用自己的印章蓋在選票上，否則會成為廢票  
(C) 哥哥：進入投票所不可以攜帶有照相功能的手機  
(D) 爺爺：不可以接受行賄，不然會觸犯法律

42. 過去緬甸由軍方強權統治，終於在 2007 年發生番紅花革命，僧侶、學生群起抗議；直到 2015 年進行的國會大選，翁山蘇姬所屬的「全國民主聯盟」，取得 77%國會席次，大勝執政黨，「全國民主聯盟」可以立法、籌組政府並選出新任的緬甸總統。請問：緬甸這次大選，「全國民主聯盟」獲得勝利而組織政府，展現出選舉的何種功能？  
(A) 選出公職人員 (B) 影響政府政策  
(C) 合法取得政權 (D) 落實責任政治
43. 老師解說某種政治概念：「內閣制國家，須贏得國會半數席次，才能成為執政黨，若沒有政黨席次過半，需透過政黨合作，共同籌組政府，而參與的政黨皆為執政黨。」請問：老師解說的概念為何？  
(A) 虛位元首 (B) 政黨輪替 (C) 權能區分 (D) 聯合政府
44. 雨娟以「公民投票」為主題上臺報告，下列哪項正確資訊會出現在她的報告中？  
(A) 人民透過公民投票，促使政府檢討施政  
(B) 須在公民投票案的所在地設籍 4 個月以上  
(C) 人民透過公民投票可落實創制權、罷免權  
(D) 政府藉由實施公民投票，落實均權制度的理念
45. 報載，復興航空突然宣布解散公司，航班全面停飛，並將依勞動基準法資遣所有員工，引發員工不滿，復興航空工會提出二個訴求，資遣費以年資一年一個基數作為計算，另外加 50 萬做為補償；依照法律規定，應於 60 日前預告員工，故離職日應延後兩個月。上述「工會」的表現，最能說明下列何者？  
(A) 屬於自利性的利益團體  
(B) 主動推舉候選人參與選舉  
(C) 該利益團體以贏得選舉為主  
(D) 組成目的在協調同業關係
46. 2016 年 1 月 16 日舉行第 14 屆總統、副總統和第九屆立法委員選舉，各候選人皆展開一連串熱烈的競選活動，時代力量黨在選舉中獲得五席，其中三席是區域立委，2 席是不分區立委。請問：這 2 席不分區立委是如何產生的？  
(A) 由區域立委得票率產生  
(B) 經由原住民立委得票率產生  
(C) 經由總統得票率產生  
(D) 經由政黨比例得票率產生
47. 利益團體除藉由遊行方式向政府表達訴求外，還可經由下列哪種方式向政府施壓，以達成其目的？  
(A) 策畫推翻政權的活動  
(B) 推派候選人參選  
(C) 向相關政府官員賄賂  
(D) 支持相同理念的政黨
48. 承上題，上述這些團體傳達訴求時，還可以採行那些方式？  
(甲)遊說(乙)宣傳(丙)陳情(丁)彈劾(戊)參選  
(A) 甲乙丙丁 (B) 乙丙戊 (C) 甲乙丙 (D) 乙丙丁戊
49. 依據我國相關法律規定，我國中央公職人員選舉包括何者？  
(甲)總統、副總統(乙)直轄市長(丙)縣(市)議員  
(丁)立法委員(戊)行政院長(己)立法院院長  
(A) 甲乙丙 (B) 甲丁戊己 (C) 甲丁 (D) 甲乙丙丁己
50. 電影「女權天使」描述 1990 年代，以愛麗絲·保羅為首的一群女性，因為美國女性沒有投票權，因此發起一連串的社會運動。請問：在我國若女性沒有投票權是違反下列何種選舉原則？  
(A) 普通 (B) 平等 (C) 直接 (D) 無記名

新北市立新莊國民中學 107 學年度第 1 學期第 3 次段考 8 年級社會領域試題

解答

1	2	3	4	5	6	7	8	9	10
<b>D</b>	<b>B</b>	<b>A</b>	<b>B</b>	<b>D</b>	<b>A</b>	<b>B</b>	<b>C</b>	<b>A</b>	<b>B</b>
11	12	13	14	15	16	17	18	19	20
<b>D</b>	<b>C</b>	<b>A</b>	<b>D</b>	<b>C</b>	<b>A</b>	<b>C</b>	<b>C</b>	<b>B</b>	<b>B</b>
21	22	23	24	25	26	27	28	29	30
<b>C</b>	<b>C</b>	<b>D</b>	<b>B</b>	<b>D</b>	<b>B</b>	<b>D</b>	<b>A</b>	<b>B</b>	<b>D</b>
31	32	33	34	35	36	37	38	39	40
<b>C</b>	<b>C</b>	<b>C</b>	<b>A</b>	<b>B</b>	<b>C</b>	<b>B</b>	<b>C</b>	<b>D</b>	<b>B</b>
41	42	43	44	45	46	47	48	49	50
<b>A</b>	<b>C</b>	<b>D</b>	<b>A</b>	<b>A</b>	<b>D</b>	<b>D</b>	<b>C</b>	<b>C</b>	<b>A</b>