

新北市立新莊國民中學 110 學年度第 2 學期第 2 次段考 7 年級社會領域試題卷

班級 座號 姓名

※ 選擇題：本試卷共 50 題，每題 2 分，總分為 100 分。
每一題均為單選題，請選出最適當答案。

※ 請用 2B 鉛筆在答案卡上相應的位置畫記。

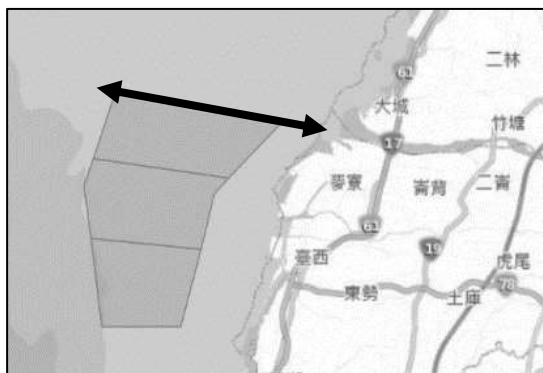
1. 下表顯示 2019 年台灣兩種經濟作物的前四大產區，根據這兩種作物適合栽種的環境來判斷，表中的甲，最有可能是下列哪個地區？

食用甘蔗		茶葉	
地區	產量(公噸)	地區	產量(公噸)
台南市	6432	南投縣	10043
雲林縣	6326	甲	1722
甲	6180	新竹縣	490
彰化縣	3999	桃園縣	456

(A)嘉義縣 (B)屏東縣 (C)宜蘭縣 (D)新北市

2. 下圖為雲林離岸風力發電場址，被列為是極具風力發電潛力的海域，但風車建置過程，卻因可能影響漁業發展，要進行環境影響評估。圖中雙箭頭距離約為 18 公里，是此場址距海岸最遠距離。試問：此風力發電廠址影響的漁業，可能是下列哪種類型？（註：1 哩=1.852 公里）

(A)沿岸漁業 (B)近海漁業 (C)遠洋漁業 (D)淡水養殖



3. 下表為台灣 2021 年前 10 大國際品牌及其主要商品。由表中資料判斷，這些企業大多具有下列哪項共同特色？

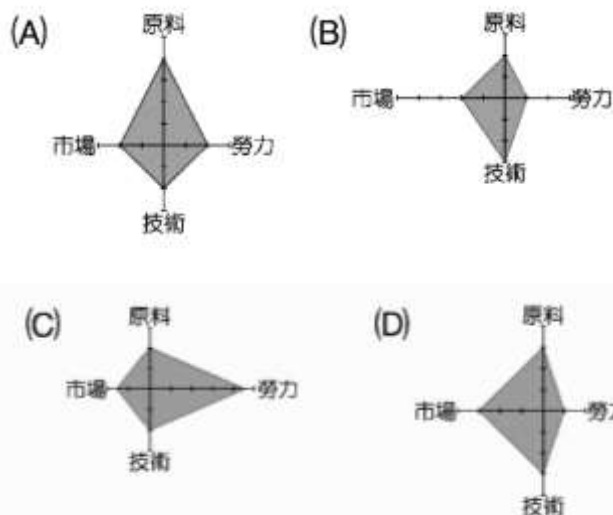
排名	企業名稱	主要商品
1	華碩	電腦、手機、伺服器
2	趨勢科技	防毒軟體
3	旺旺集團	金融控股
4	巨大機械	腳踏車、電動單車
5	研華科技	工業用電腦
6	聯發科	半導體、行動晶片
7	國泰金控	金融控股
8	宏碁	電腦、液晶螢幕
9	中信金控	金融控股
10	美利達	腳踏車、電動單車

(A)生產廠房靠近原料產地 (B)需要大量廉價勞工
(C)資金與技術需求高 (D)多位於交通便利的港口

4. 『工廠女兒園』一書描述著台灣經濟起飛期間，許多女性離開農村到加工出口區的工廠上班，協助改善家庭經濟的時代故事。試問：此書描述的场景可能與下列何項政策有關？

(A)以技術與資本密集發展高科技產業
(B)以十大基礎建設帶動鋼鐵、機械等重工業發展
(C)以農業原料加工提升農業產值
(D)以廉價勞力吸引外國資金技術來台

5. 智慧工廠是現代化工廠的最佳寫照，其利用人工智慧(以機器、電腦進行分析、判斷、決策、執行)讓傳統工廠提高生產速度、效率與彈性，並大量引進機器人、機器手臂進行組裝、包裝等作業，進而大幅降低工廠生產成本。試問：下列為四間工廠的生產成本分析圖，請判斷下列哪間工廠最適合轉型成智慧工廠？



6. 現今超市產品多有產銷履歷標章(TAP)，如右圖。這類產銷履歷農產品，可以透過 QR-CODE 查詢農民生產運銷紀錄，也代表驗證機構已親赴生產現場確認農民的產製過程是否安全用藥、友善環境，以及農產品質是否安全無虞。此種印有產銷履歷標章的農產品的農地，具有下列哪種農業發展的特性？



(A)商品化農業 (B)自給自足農業
(C)產品多樣化 (D)多角化經營

7. 農產一直是國際貿易商品的重要類別，也能成為貿易出超的來源之一。如果不考慮交通，下表中哪一國的自然環境，能產出最多樣的水果，有成為水果王國的條件？

項目	甲國	乙國	丙國	丁國
經度	20° W	120° E	20° W	120° E
緯度	60° S	20° N	60° N	20° S
最高海拔	100mm	2500mm	2500mm	100mm

【第 8 至 9 題為題組】

2020 年非洲豬瘟肆虐亞洲，如中國、越南等國相繼淪陷，在相對壅擠的飼養環境中，豬瘟的傳播更顯快速，台灣養豬業者，擔心依台灣畜牧業的特性，若豬瘟入侵將快速傳播，管控不易。政府除了加強邊境管制安撫養豬業者，更輔導牧場改用飼料、禁用動物性廢渣廚餘等方式協助業者，完善防疫體系。試問：

8. 文中的養豬牧場，大多分布於右圖中何處？

(A)甲乙 (B)乙丙
(C)丙丁 (D)甲丁

9. 文中提到『台灣畜牧業的特性，可能讓豬瘟的傳播速度更快』，指的可能是下列何者？

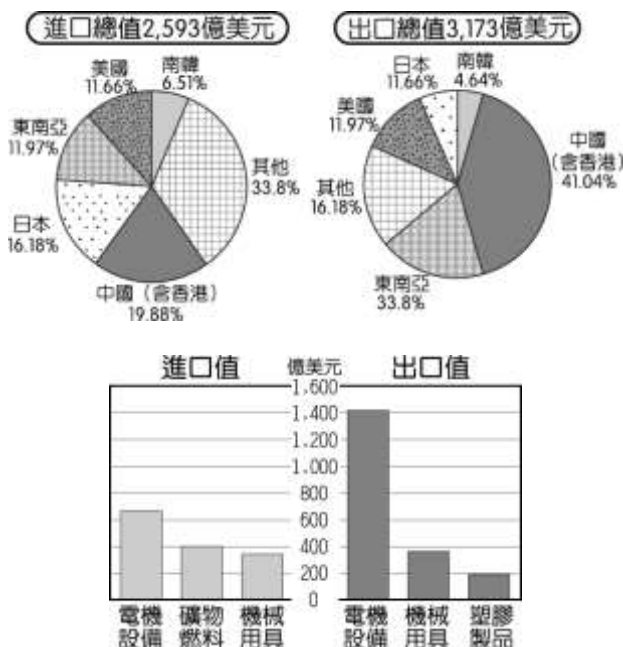
(A)牧場是現代農家的副業
(B)牧場經營模式專業化
(C)牧場擁有現代化的設備
(D)牧場多以欄牧方式飼養



背面尚有試題

【第 10 至 11 題為題組】

2020 年台灣為世界上第 17 大貿易國，由此可見台灣的經濟實力，(上)圖為台灣主要的經貿夥伴及其進出口貿易值比例圓餅圖，(下)圖為台灣進出口商品類別貿易金額長條圖，請根據兩圖表回答下列問題：



10. 依據台灣的進出口貿易比例圓餅圖來看，下列敘述何者正確？

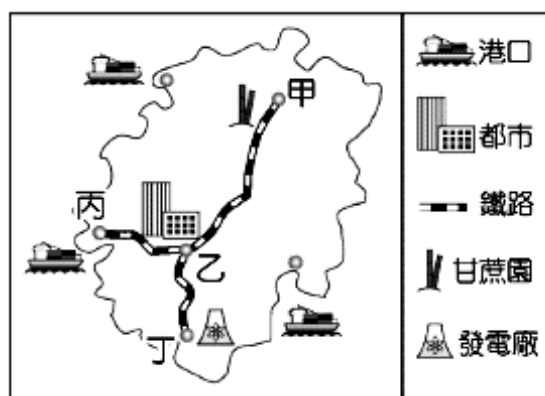
- (A) 台灣對中國的貿易現況為入超
- (B) 台灣對東南亞的貿易現況為出超
- (C) 日本對台灣的貿易現況為入超
- (D) 美國對台灣的貿易現況為出超

11. 依據進出口商品類別長條圖來看，台灣主要出口的貿易商品，多與何種區位的生產條件有關？

- (A) 充足原料 (B) 尖端技術 (C) 廣大市場 (D) 廉價勞力

【第 12 至 13 題為題組】

下圖為某個島嶼簡圖，其中甲、乙、丙、丁分別具有工業發展所需要的不同區位條件，該島的工廠老闆則會根據其工廠的成本結構選擇適合的設廠地點，以降低成本、提高利潤。請問：



12. 該島有四間工廠，其中一間設置在圖中丙地，依照丙地的區位優勢判斷，此工廠可能是下列何者？

- (A) 黑糖工廠 (B) 煉鋁工廠 (C) 麵包工廠 (D) 魚罐頭工廠

13. 下表為某商品在圖中不同地點設廠的生產成本，其成本高低來自於不同設廠地點所造成的運輸成本差異。若與原料相比，該工廠所製造出來的商品具有下列何種特性？

地點	甲	乙	丙	丁
成本(萬元)	200	50	150	150

- (A) 易腐敗 (B) 體積變小 (C) 易保存 (D) 重量變輕

【第 14 至 16 題為題組】

新北市政府於 104 年開始推動『友善田園區域計畫』，其範圍包含石門、三芝等區域，目前參與計畫農友共 170 位，並且成立『友善契作平台』，協助友善小農先銷後產的營運模式，媒合社會大眾以契作方式認購友善農產品，讓農民沒有後顧之憂，增進收入穩定。此計畫不僅能讓農夫將心力花在專心照顧農作物上，消費者更可買到更健康安全的農產品，對土地更友善，達到環境永續的理念。

(備註：契作是指消費者以一定的資金，委託農民協助代耕，並按照契約內容進行。此過程中農夫可以得到基本保障，而消費者又可以直接獲得有品質且價格合理的農產品)

14. 上述計畫中的產銷過程，包含下列哪些產業類別？

- (A) 第一、二級產業 (B) 第二、三級產業
- (C) 第一、三級產業 (D) 第一、二、三級產業皆有

15. 上文中成立的友善契作平台，強調『先銷後產的營運模式，媒合社會大眾以契作方式認購友善農產品』，與下列何者的理念相契合？

- (A) 品質提升 (B) 品牌經營 (C) 改善通路 (D) 多角化經營

16. 若以農業發展的四策略來評估此份計畫，其缺乏下列哪項策略？

- (A) 品質提升 (B) 品牌經營 (C) 改善通路 (D) 多角化經營

17. 我國志願結社在民主自由氛圍下蓬勃發展，近年人民團體數量持續增加，為多元開放社會之表徵。下列有關志願結社的敘述，何者正確？

- (A) 人民可藉由結社影響與監督政府施政
- (B) 公民才有資格參加人民團體
- (C) 個人不可同時加入數個團體
- (D) 志願結社會將收入分配給組織內的成員

18. 承上題，關於我國志願結社的法律規範，下列敘述何者正確？

- (A) 志願結社除受相關法律規範外，不受政府所控制
- (B) 志願結社一定要向政府正式立案登記才能組成
- (C) 所有志願結社的成立皆不受任何法律的規範
- (D) 志願結社為我國憲法保障人民的受益權

19. 一群主婦許下「走出廚房，投入社會」的承諾，要成為一個「勇於開口，敏於行動，樂於承擔」的台灣公民。1989 年正式成立「財團法人主婦聯盟環境保護基金會」，基金會秉持初衷，倡議生活環保、綠色消費、綠色飲食、低碳節能、非核家園，透過組織力量呼籲人人力行環保。有關此基金會的敘述，何者正確？

- (A) 是以滿足成員情感需求為主要功能的團體
- (B) 屬於民間性的志願結社
- (C) 基金會可執行公權力，處罰破壞環境生態者
- (D) 透過團體力量維護成員間的私人利益

【第 20 至 23 題為題組】

珍愛藻礁公投---「您是否同意中油第三天然氣接收站遷離桃園大潭藻礁海岸及海域？」

珍愛藻礁公投由來：台灣為因應未來的能源轉型政策，預計設立第三座液化天然氣接收站（俗稱三接）。但環團認為桃園藻礁是全球最獨特的大型淺海現生藻礁地景及生態系，其中歷經 7600 年才形成的大潭礁尤為寶貴。環團屢次請求政府在此處畫設保護區，但政府卻堅持將中油三接蓋在此處，因此訴求全

新北市立新莊國民中學 110 學年度第 2 學期第 2 次段考 7 年級社會領域試題卷

班級

座號

姓名

民公投拯救藻礁。2020 年小學老師退休的潘忠政啟動「搶救藻礁公投連署」。2021 年 5 月連署達成，成為第 20 案全國性公民投票。

TVBS 民調中心公投前三天完成的民調顯示，有 42% 民眾會投票同意遷離接收站，36% 會投票不同意遷離，22% 未表態。公投開票結果則為同意票 390 萬 1171 票，不同意 416 萬 3464 票，結果為不通過。請問：

20. 環保團體透過連署方式企圖拯救大潭藻礁，此為讓民眾藉由下列何種方式表達對公共事務的意見？

- (A) 透過政府提供的管道 (B) 向政府遞交請願書
(C) 立法機關修改法律 (D) 政黨透過選舉影響政策

21. 民調顯示民眾對於三接興建與否的意見分歧，顯示出公共意見的何項特性？

- (A) 公開性 (B) 差異性 (C) 不穩定性 (D) 影響性

22. 民眾參與公民連署及公民投票的行為來表達自己的意見，最能彰顯出人民參與公共事務的何項重要性？

- (A) 落實積極監督執行，以防止少數人操弄政治
(B) 公共事務與全體成員息息相關
(C) 參與公共事務來增加政府與人民的負擔
(D) 讓政府的決定更能貼近社會群體的需求

23. 有關行使公民投票的資格，何者**錯誤**？

- (A) 在投票案的所在地須設籍 6 個月以上
(B) 公民投票權包括創制、複決權
(C) 年齡須滿 20 歲
(D) 須具有中華民國國籍

【第 24 至 27 題為題組】

社團法人舊鞋救命國際基督關懷協會
成立宗旨：以基督信仰精神及人道援助行動為基礎，關懷世界弱勢族群的身心靈並協助建立永續自立的方針。

發起人：楊右任

工作團隊：理事長、營運總監、專案經理、出納專員、志工負責人、倉庫經理、專案總監等人

非洲撒哈拉沙漠以南，許多孩子生命無法超過五歲，超過百萬名學童沒鞋可穿，沙蚤是沒有鞋子的孩子都有的疾病，也讓某些孩子因此致命。於台灣募集二手鞋，送至東非偏鄉，進行沙蚤醫療與衛教宣導。每年號召數千名志工一同投入，讓台灣人民的善心化為循環行動。

24. 人民成立舊鞋救命關懷協會是憲法保障的何項基本權利？

- (A) 集會自由 (B) 結社自由 (C) 意見自由 (D) 人身自由

25. 由文中協會的工作團隊資料判斷，最能彰顯此志願團體的何項特性？

- (A) 志願性 (B) 非營利性 (C) 自主性 (D) 組織性

26. 關於該協會的敘述，何者為**非**？

- (A) 屬於救援兒童的營利組織
(B) 不受政府或其他團體支配或控制
(C) 該團體較政府組織更為彈性，但不具有強制力
(D) 成員主要目的在於完成工作任務

27. 志工們募集二手鞋，送至東非偏鄉的作為，是實踐何項公民素養的表現？

- (A) 尊重多元文化 (B) 實現公平正義
(C) 落實倫理道德 (D) 培養理性思考能力

【第 28 至 29 題為題組】

報載：「(甲) 指出某新聞台播出的政論節目中，有來賓表示兩位大學教授因去萬華阿公店導致染疫的內容，未落實事實查證，致損害公共利益核處 40 萬元；另位來賓指出台大醫院以研究計畫為名，由指揮中心專家小組召集人的妻子帶領，找來院外人士助權貴施打莫德納疫苗的相關內容，未落實事實查證，致損害公共利益核處 80 萬元，此電視台共被裁罰 120 萬元。」請問：

28. 文中(甲)應為下列何者？

- (A) 法院 (B) 新聞局
(C) 國家通訊傳播委員會 (D) 台灣媒體觀察教育基金會

29. 文中電視台被開罰，凸顯何種專業素養的重要性？

- (A) 捍衛言論自由 (B) 表達公共意見
(C) 媒體倫理與自律 (D) 培養媒體識讀能力

【第 30 至 31 題為題組】

媒體亂象一直是臺灣社會所詬病的問題，過去著重批評主流媒體(電視臺、報章雜誌出版社、廣播電臺等)為了收視率、廣告收益、政治利益等目的而有各種荒腔走板、荒謬之舉。而今網際網路上，許多人或組織為了自己的商業利益、政治情感及利益等，也製造與散布了許多假訊息。

「甲」是我國社會刻不容緩的議題，網際網路的便利使人產生依賴，然而當今網際網路不僅使資訊查證越來越便利，同時也使不精確、扭曲、謠傳、偽造的訊息更加迅速且廣泛地流傳，進而影響公民社會的發展…。

30. 文中「甲」應為下列何者？

- (A) 保障言論自由 (B) 表達公共意見能力
(C) 捍衛新聞自由 (D) 媒體識讀能力

31. 下列何種做法**無助於**我們對假訊息的辨識？

- (A) 瀏覽可檢查事實的網站 (B) 堅持個人的偏見
(C) 檢查訊息發布日期 (D) 查核作者真偽及其信譽

【第 32 至 33 題為題組】

台北市立動物園 1 年 365 天卻只有除夕休園，考量修繕工程、不干擾動物、員工精進知識等需要，園方提出台北市政府 i-Voting 網路投票，希望每年增加 10 天休園時間，內容為「動物園可以增加不對外開放的時間嗎？」，分成「可以」、「不可以」共兩個投票選項，開放網路全民投票。結果有 3 萬零 58 票贊成，贊成率高達 98%。請問：

32. 多數人同意動物園休園，園方決定從 6 月 19 日到 28 日暫停對外開放，進行整體修繕。此結果展現出公共意見的何者特性？

- (A) 公開性 (B) 差異性 (C) 不穩定性 (D) 影響性

33. 動物園針對可以增加不對外開放時間的議題舉辦網路全民投票，展現出公共意見的何者特性？

- (A) 公開性 (B) 差異性 (C) 不穩定性 (D) 影響性

34. 下表關於臺灣教育史措施，請問哪一項實施時間最晚？

臺灣教育史	
甲	設立公學校與小學校，教授基礎知識
乙	以羅馬字母拼音，用「新港文」閱讀聖經
丙	馬偕在淡水設置-「牛津學堂」、「女學堂」
丁	在台北設立西學堂與電報學堂培育相關人才

- (A) 甲 (B) 乙 (C) 丙 (D) 丁

【第 35 至 36 題為題組】請閱讀下列短文回答：

1920 年代是臺灣政治社會運動蓬勃發展時期，而當時也開始出現臺灣農民運動。例如，發生在彰化的「二林事件」(1924-1925)，就是此時期重要的農民抗爭運動！

當時蔗農因為「原料區域採收制」只能將採收的甘蔗賣給區域內的糖廠，而製糖公司還會偷斤減兩剝削農民，農民苦不堪言；彰化當地接受過新式教育的知識分子醫師李應章鼓勵農民團結起來爭取權益，並領導農民創立「二林蔗農組合」，這組織對於農民的抗爭意識有了具體形象。有一天製糖公司又強制採收時，農民們與之爆發激烈衝突，最後上百位農民與李應章醫師等人均被警方拘留，「二林蔗農組合」被迫解散……

35. 請問，文中李應章醫師領導蔗農創立「二林蔗農組合」應該是受到下列哪一團體的影響？

- (A) 中國民主黨 (B) 臺灣議會設置請願運動
(C) 臺灣文化協會 (D) 臺灣地方自治聯盟

36. 1920 年代臺灣政治社會運動蓬勃發展，最主要是受到哪一思潮的刺激，開始展開臺灣的文化啟蒙，並用較溫和的方式來抗議日本總督專制？

- (A) 警察政治 (B) 同化政策 (C) 日臺合一 (D) 民族自決

37. 杜聰明醫師，台北淡水三芝人，1909 年他以第一名考進臺灣的第一學府-臺灣總督府醫學校，在醫學校時，他的成績一直保持第一，並每天鍛鍊身體；1915 年負笈日本，考進京都帝國大學醫學部，之後更成為第一位完成醫學博士學位的臺灣人。他研究出可以降低戒鴉片毒癮者痛苦的戒斷方法，他可以說是在日本殖民教育統治下，成功完成學業的優秀例子。請問他到日本深造，與當時教育政策有何關係？

- (A) 「差別待遇、隔離政策」之教育原則
(B) 有志繼續升學者往海外以彌補高等教育之不足
(C) 以實用為原則的推廣農工商職業教育
(D) 一次大戰期間為了皇民化，實施六年義務教育

38. 如右附圖是日治時期臺灣學齡兒童就學率簡表，請問從 1940~1943 年，學齡兒童就學率突然提升的原因應該是下列哪一項？

- (A) 開始補助臺灣清寒子弟獎勵學金
(B) 開始實施六年國民義務初等教育
(C) 開始實施國英雙語教學成效優良
(D) 開始改善初等教育師資設備裝置

西元年	臺灣人
1917	13.1%
1920	25.1%
1925	29.5%
1930	33.1%
1935	41.5%
1940	57.6%
1943	71.3%

39. 1920 年代臺灣知識份子為了制衡總督府的專制統治，展開政治社會運動，請將下列政治社會運動組織，按照成立時間先後順序排列。



- (A) 甲乙丙 (B) 乙甲丙 (C) 乙丙甲 (D) 丙乙甲

40. 關於 1930 年代的臺灣生活環境與各項習慣，請問下列敘述哪一項錯誤？

- (A) 官方透過保甲宣導衛生教育，讓公共衛生觀念普及
(B) 臺灣人民大部分已經養成守法、守時的新生活規範
(C) 群眾揪著習慣偷竊者前往衙門，要請官員主持公道
(D) 透過宣導鼓勵民眾放足、斷髮，以邁向新文明生活

41. 請問下列內容是在敘述哪一位歷史人物？

- ① 他出生於豪門之後，因其父待人處事和善溫雅且熱心公益，所以自幼被父親身教影響甚深
② 與臺籍知識份子努力爭取，成立第一所專收臺人子弟中學—「臺中中學校」
③ 自 1920 年代起，努力向日本帝國爭取成立臺灣議會，但是經過十五次請願仍未成功，被稱為「臺灣議會之父」
④ 籌組臺灣地方自治，終於在 1935 年首次舉辦選舉地方議員，臺灣人民第一次行使投票權

- (A) 蔣渭水 (B) 余清芳 (C) 丘逢甲 (D) 林獻堂

42. 1999 年由林正盛導演，在臺灣上映的電影《天馬茶房》

是一部描敘臺灣日治末期到戰後初期，發生在台北大稻埕太平町的愛情故事。製片葉金勝藉此真人實境，加上虛構情節，描述當時臺灣民眾必須跨越兩個不同文化與統治的生活方式。

場景一：祖國接收後大發米糧給臺灣人，改善因為戰爭時期糧食不足問題，也平穩了臺灣物價。

場景二：臺灣人唱著「灑麵煮麵，穩當妥當」（「三民主義，吾黨所宗」），明顯點出臺灣與當時中國語言有隔閡。

場景三：日本時期，日本警察一來要馬上將布袋戲偶趕快換上日本軍裝，並演唱日本軍歌。

場景四：日本無條件投降後，劇團成員要繪製巨幅國旗看板歡迎祖國來接管，但是對祖國不了解，國旗都畫反了。

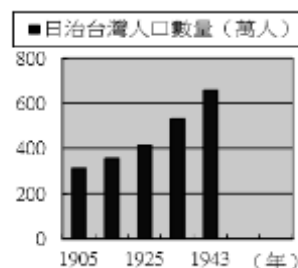
就當時的時空背景，上述電影場景，請問哪一項不該出現？

- (A) 場景一 (B) 場景二 (C) 場景三 (D) 場景四

43. 如右附圖是日治時期臺灣人口成長圖，從圖表數據可以看出日治時期臺灣人口呈現大幅成長，請問大幅成長的正確原因包括下列哪幾項？

- (甲) 實施全民健保
(乙) 建立現代西式醫院
(丙) 發放生育獎助金
(丁) 官方宣導現代衛生觀念
(戊) 興建公共衛生設施

- (A) 甲丙戊 (B) 丙丁戊 (C) 乙丁戊 (D) 甲丙丁



繼續作答下張試卷

44.

普丁簽新法 可再連 2 任俄國總統當到 83 歲

中央社 2021.04.06

俄羅斯政府今天表示，總統普丁 (Vladimir Putin) 簽署新法，將可讓他再競選兩個 6 年任期，為他掌權至 2036 年鋪路。

中央社新聞稿提到，俄羅斯總統普丁可能打破任期限制！許多人士開始批評，此新法是憲政政變，目的要讓普丁成為萬年總統！回顧臺灣歷史，蔣中正先生也曾打破《中華民國憲法》連任限制，連續擔任五任總統直到逝世。請問蔣中正先生可以連續連任的法源依據為何？

- (A)《臺灣省戒嚴令》 (B)《動員戡亂時期臨時條款》
(C)《法律第六十三號》 (D)《總統宣告解嚴令》

45.

嘉義知名畫家-陳澄波年表

- ◆1895，出生於嘉義
- ◆1907，12 歲進入嘉義第一公學校
- ◆1913，18 歲進入台北國語學校
- ◆1924，29 歲就讀東京美術學校圖書師範科
- ◆1946，51 歲擔任嘉義第一屆參議會議員
- ◆1947，52 歲因「二二八事件」，被槍決於嘉義火車站前

1947，52 歲的陳澄波因「二二八事件」，被槍決於嘉義火車站前。請問下列關於發生二二八事件的背景敘述，哪一項正確？

- (A)文化上，臺灣與中國文化差異甚深
(B)政治上，行政長官想盡快融入臺灣
(C)政治上，多數民眾主張回歸日本
(D)經濟上，物價迅速平穩米糧充足

46. 「你是忘記了，還是害怕想起來？」

2019 年上映一部臺灣校園懸疑歷史驚悚片-《返校》，這部電影是改編自赤燭遊戲團隊的恐怖冒險解謎遊戲，故事中敘述一群高中生跑到廢棄校舍中探險，卻遇到大批冤死鬼魂，鬼魂們懷著怨念想找出當時舉發地下讀書會閱讀禁書，導致學生們冤死的告密者。還好，最後學生們在當時事件倖存者的幫助之下逃離校園。導演徐漢強表示：「《返校》最終要傳遞的精神就是，真的不要忘記我們現在擁有的一切是怎麼來的。因為我們現在的自由生活，是很多人犧牲所換來，這是大家絕對不能忘記的事情。」

請問《返校》這部電影的時空背景應該是在哪一個年代？

- (A)1920 年代 (B)1930 年代 (C)1950 年代 (D)1990 年代

47. 下列附圖是戰後臺灣重要事件漫畫，請依照發生時間先後順序排列，然後選出正確答案。



- (A)乙丁甲丙 (B)丁丙甲乙 (C)甲乙丁丙 (D)乙甲丙丁

48. 民國四十年代，雷震等人創辦《自由中國》雜誌，直接對當局批評時政，為政府所不容；之後更籌設「中國民主黨」，遭到當局壓制，結果被捕入獄，當時總統甚至指示「雷之刑期，不得少於十年！」請問，雷震的作為是觸犯了執政當局哪一項禁忌？

- (A)《動員戡亂時期臨時條款》
(B)《解嚴令》
(C)《法律第六十三號》
(D)《臺灣省戒嚴令》

49. 1979 年 12 月 10 日，有一黨外雜誌在高雄舉行「國際人權日紀念大會」，結果當晚造成嚴重的警民衝突，雜誌社被查封，不少黨外人士被拘捕；由於牽涉多人，有被逮捕民眾家人甚至險遭滅門，引起國際關注。附圖是當時一份外國報紙對此事件偵訊過程之報導。請問，這家黨外雜誌社所發行應該是下列哪一份刊物？



標題：持不同意見者，將此審判視為民主的考驗。

- (A)《臺灣民報》 (B)《美麗島》
(C)《自由中國》 (D)《高山青》

50. 促使中華民國政府終止動員戡亂、廢除《臨時條款》、同時進行修改《憲法》和中央民意代表改選等，是因為某一件政治運動的結果，請問這件政治運動是指下列哪一項？

- (A)太陽花學運 (B)美麗島事件
(C)野百合學運 (D)雷震事件

試題結束

新北市立新莊國民中學 110 學年度第 2 學期第 2 次段考 7 年級社會領域試題
解答

1	2	3	4	5	6	7	8	9	10
A	A	C	D	C	A	B	B	D	B
11	12	13	14	15	16	17	18	19	20
B	D	A	C	C	D	A	A	B	A
21	22	23	24	25	26	27	28	29	30
B	D	C	B	D	A	B	C	C	D
31	32	33	34	35	36	37	38	39	40
B	D	A	A	C	D	B	B	A	C
41	42	43	44	45	46	47	48	49	50
D	A	C	B	A	C	D	D	B	C