

# 新北市立新莊國民中學 107 學年度第 1 學期第 1 次段考 9 年級社會領域試題卷

班 座號 姓名

※ 選擇題：本試卷共 50 題，每題 2 分，總分為 100 分。  
每一題均為單選題，請選出最適當答案。

※ 請用 2B 鉛筆在答案卡上相應的位置畫記。

1. 學習世界歷史，必須對年代的劃分和時間的觀念有基本的認識，世界歷史通常以西元作為紀年的方式，典故是出自耶穌誕生的年份，而每一百年以一世紀稱之，例如西元元年到西元一百年是西元一世紀，西元前一年到西元前一百年是西元前一世紀。請問：羅馬歷史於 B.C.509 進入共和時期，應是下列何時？

- (A) 西元五世紀初 (B) 西元前五世紀初  
(C) 西元前六世紀初 (D) 西元前六世紀末

2. 右圖為西元前 1750 年的圓筒印章與壓印泥版。印章上刻有神與英雄事蹟，以及此泥版所有人的名字與身分地位，文字則呈現用削成三角形的蘆葦桿子在溼泥版上以刻壓的方式寫下的形狀。請問：圖中古物最有可能出現於何地？



- (A) 兩河流域 (B) 恆河流域  
(C) 地中海東岸 (D) 尼羅河畔

3. 西元 2007 年，以色列境內的猶太教教士針對在安息日執行飛航工作一事，向以色列航空公司提出抗議。依猶太教經典規定，「安息日，嚴禁一切工作，犯者必被治死」，而「謹守安息日的，必蒙真神賜福」。請問：這場抗議事件與下列哪一個歷史背景有關？

- (A) 此一抗議事件應發生於巴基斯坦  
(B) 「蒙真神賜福」的「真神」是指耶穌  
(C) 與安息日有關的規定，最早應記載於《新約聖經》  
(D) 對真神的堅定虔誠，與一神的信仰密不可分

4. 目前廣泛使用於西方世界的拼音文字系統，其淵源發展是由下表三個古民族的文字演變而來，請問右表三種文字依序為哪三個民族所發明或改良的？

象形文字	𐀀 𐀁 𐀂 𐀃 𐀄 𐀅 𐀆 𐀇 𐀈 𐀉 𐀊 𐀋 𐀌 𐀍 𐀎 𐀏 𐀐 𐀑 𐀒 𐀓 𐀔 𐀕 𐀖 𐀗 𐀘 𐀙 𐀚 𐀛 𐀜 𐀝 𐀞 𐀟 𐀠 𐀡 𐀢 𐀣 𐀤 𐀥 𐀦 𐀧 𐀨 𐀩 𐀪 𐀫 𐀬 𐀭 𐀮 𐀯 𐀰 𐀱 𐀲 𐀳 𐀴 𐀵 𐀶 𐀷 𐀸 𐀹 𐀺 𐀻 𐀼 𐀽 𐀾 𐀿
字母文字	Α Β Γ Δ Ε Ζ Η Θ Ι Κ Λ Μ Ν Ξ Ο Π Ρ Σ Τ Υ Φ Χ Ψ Ω α β γ δ ε ζ η θ ι κ λ μ ν ξ ο π ρ σ τ υ φ χ ψ ω
拉丁文字	A B C D E F G H I J K L M N O P Q R S T U V W X Y Z

- (A) 蘇美→腓尼基→羅馬 (B) 埃及→希伯來→希臘  
(C) 蘇美→腓尼基→希臘 (D) 埃及→腓尼基→羅馬

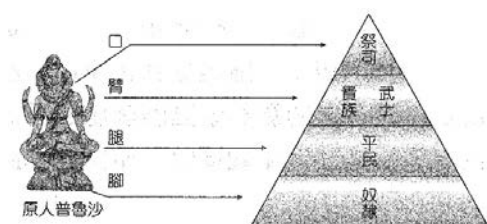
5. 某演講會時，主講人展示右方附圖的圖片。這是埃及死後審判的繪畫。請問：善人最後會被帶到哪位神明面前，獲得重生的機會？



- (A) 太陽神 (B) 耶和華 (C) 宙斯 (D) 尼羅河神

6. 〈圖一〉是上古時期某一民族為了維持其統治地位，融合宗教教義制定出階級森嚴的社會制度。請問：此民族為〈圖二〉何處的統治者？

- (A) 甲 (B) 乙 (C) 丙 (D) 丁



〈圖一〉



〈圖二〉

7. 下述四位同學一起於課後討論有關四大古文明的報告內容，請問何人所言正確？

- (A) 仁傑：「四大古文明的共同特點是皆發源於大河流域、擁有肥沃的土地，且皆屬於亞洲國家。」  
(B) 耀文：「兩河流域文明的孕育之源來自於幼發拉底河、底格里斯河的沖積，並在阿拉伯半島南端形成肥沃月彎。」  
(C) 柏翰：「西非的尼日河曾有過輝煌的上埃及古文明，沖積出的肥沃土壤主要在孟斐斯一帶形成高度的農業文明。」  
(D) 光桓：「印度文明的發展早期在印度河一帶已出現城市文明，而後漸往恆河流域擴張，文明因而於此半島上開展。」

8. 印度國徽為孔雀王朝著名君主阿育王在鹿野苑所立的阿育王柱的柱頭裝飾。其形為四隻獅子站在基座上，各面一個方向。腳下各有一輪二十四輻的法輪，法輪之間分別繪有一隻象、一隻獅子、一隻牛和一匹馬。下方以天城體書有國家格言「唯真理必勝」。請問：上述君主曾大力提倡哪一宗教？



सत्यमेव जयते

- (A) 印度教 (B) 猶太教 (C) 佛教 (D) 婆羅門教

9. 右圖是古希臘城邦分布圖，下列有關此圖城邦的描述，何者正確？



- (A) 世界最早民主制度起源於丙  
(B) 奧林匹克運動會的起源地在丁  
(C) 甲城邦以驍勇善戰聞名，以軍國主義聞名  
(D) 發生於西元前五世紀的波希戰爭，最後主要是由乙城邦率領希臘民族打贏了波斯帝國

10. 魯夫喜歡與海賊夥伴們探討人生意義與倫理道德，如果他想要對於右邊三人的生平及言論有更深入的了解，可以在圖書館的哪一類書籍中找到他們的相關資料？

蘇格拉底：知道的越多，才知知道的越少。

柏拉圖：聰明人說話，是因為有些話要說；蠢人說話，則因為要說些話。

亞里斯多德：吾愛吾師，吾更愛真理。

- (A) 希臘哲學的奧秘  
(B) 美索不達米亞的驚艷  
(C) 羅馬共和的精神  
(D) 孔雀王朝的黃金時代

11. 1799 年 8 月，法國軍隊在尼羅河口最西端的羅塞塔附近修築防禦工事時，偶然發現一塊滿是文字的石碑。這塊石碑上刻有三種不同的文字——上半部是古埃及象形文字，中間是埃及通俗體，最下面的一部分是古希臘文。碑文的內容是關於埃及祭司為法老刻寫的頌詞公告。石碑是一種官方公告，以三種文字寫成的目的是讓各族人都能看懂。從歷史發展的角度來看，此碑反映出何項史實？

- (A) 古埃及疆域曾到達希臘半島  
(B) 亞歷山大於東征後統治埃及  
(C) 希臘雅典城邦曾統治古埃及  
(D) 象形文是由希臘文轉換而來



12. 如果依照亞歷山大東征的路線旅遊,最有可能順道參觀下列哪一個古蹟?

- (A)埃及金字塔 (B)中國萬里長城 (C)羅馬競技場 (D)雅典帕德嫩神廟



13. 有關「希臘化文化」的成就,下列敘述何者正確? (甲)歐幾里德著有《幾何原本》(乙)希羅多德著有《歷史》一書,被推崇為「西方史學之父」(丙)阿基米德發現浮體力學及槓桿原理 (丁)蘇格拉底、柏拉圖、亞里斯多德,有「希臘三哲人」之稱

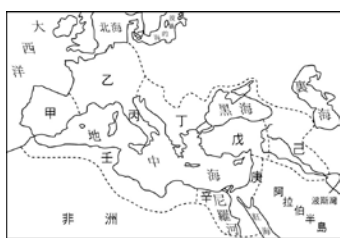
- (A) 甲丙 (B) 乙丁 (C) 乙丙丁 (D) 甲乙丙丁

14. 請問下列哪個羅馬人對於自己所處時代,發表了「正確的」言論?



15. 右圖為上古時代某時期地中海沿岸國家形勢圖,請問下列選項何者正確?

- (A) 甲到王的大帝國最早由丁處開始發跡而向外擴張  
(B) 基督教起源於圖中辛處  
(C) 戊區原是古西亞文明西臺人的居住地  
(D) 十二銅表法源自居住甲處民族



16. 佛教與基督教皆為今日世界信仰人數較多的宗教,下列有關此兩大宗教的敘述比較,何者「正確」?

- (A) 前者發源於亞洲的印度;後者發源於歐洲的羅馬  
(B) 前者改革自婆羅門教;後者改革自猶太教而來  
(C) 前者創立時間為西元六世紀;後者則在西元一世紀  
(D) 兩者教義相近,皆宣揚平等並有因果輪迴之說

17. 全球旅遊平台 KKday 讓許多業者可以針對不同國家、不同客群客製化其行程來獲得最佳的旅遊體驗。若 KKday 計畫在 東南亞、南亞、西亞、中亞 四個區域,針對某宗教推出旅遊行程,則針對哪個宗教能在四個區域最多國家獲得迴響?

- (A) 天主教 (B) 伊斯蘭教 (C) 印度教 (D) 佛教

18. 下圖為 2020 年世界博覽會的主視覺設計概念圖,由此圖判斷,這次的世界博覽會在下列哪個地方舉辦?



- (A) 吉隆坡 (B) 新德里 (C) 杜拜 (D) 塔什干

19. 右表為世界海岸線排名,由表中可發現印尼的海岸線長度排名世界第二,比俄羅斯還長,原因可能為下列何者?

名次	國家	國土面積	海岸線長度
1	加拿大	9093507	202080(km)
2	印尼	1826440	54716(km)
3	格陵蘭	2166086	44087(km)
4	俄羅斯	16995800	37653(km)
5	菲律賓	298170	36289(km)

- (A) 谷灣海岸曲折 (B) 島嶼數量眾多  
(C) 國土形狀狹長 (D) 所處緯度較低

20. 右圖為哈薩克獨立後採用的國旗:

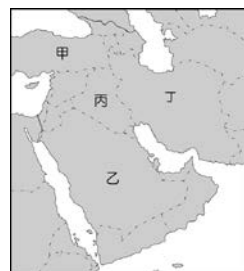



『藍色的背景是寬廣無際的藍天(此顯示為灰色背景),32 道光芒的金黃色太陽(此顯示為白色)與翱翔於天際的草原雄鷹,以此組合象徵著幸運、安寧、和平、統一,左側的長條紋路顯示其對傳統文化的重視。』下列關於國旗圖文的解釋何者正確?

- (A) 「寬廣無際的藍天」是受到副熱帶高壓終年壟罩影響  
(B) 「32 道光芒的金黃色太陽」是夏至永晝的表現  
(C) 「天際的草原雄鷹」的草原是因距海遙遠水氣不足所致  
(D) 「傳統文化」指的是猶太安息日的作息傳統

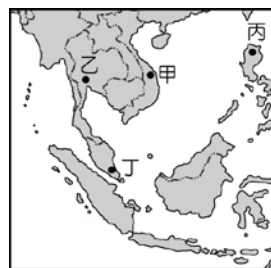
21. 下左圖是西亞地區為了因應當地特殊環境所使用的灌溉方式,若要對這樣的灌溉方式進行研究,應到下右圖中何處?

- (A) 甲 (B) 乙 (C) 丙 (D) 丁



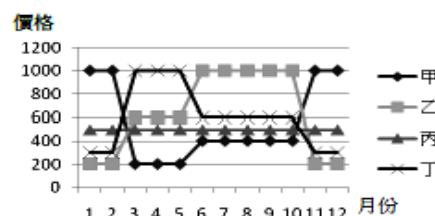
22. 政府於近年推動「新南向政策」,擴大與東南亞國家的經貿往來,希望可以減少對單一國家的依賴。右圖中哪個國家因受漢文化影響,風俗習慣與台灣相近,而成為台商投資首選?

- (A) 甲 (B) 乙 (C) 丙 (D) 丁



23. 機票價格會隨旅遊季節與人數的不同而有變化,當機票價格越高,表示旅遊人數越多;機票價格便宜,表示當季旅遊人數較少。右圖為飛往四個國家的一年的機票價格變化,何者可能是印度?

- (A) 甲 (B) 乙 (C) 丙 (D) 丁

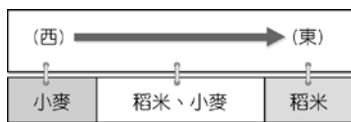


24. 近年全球手機銷售逐漸飽和,許多大廠紛紛進軍印度,設立軟硬體製造與行銷中心,力圖在這極具潛力的市場取得佳績。下列何者不是印度可以成為極具潛力手機製造與行銷市場的原因?

- (A) 豐富原料 (B) 廉價勞力  
(C) 市場廣大 (D) 軟體人才眾多

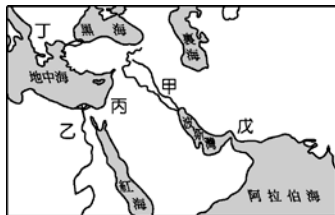


25. 印度大平原發達的農業足以養活 13 億人口，其糧食作物分布如右圖所示，試問：其分布特性是受到何種因素影響？



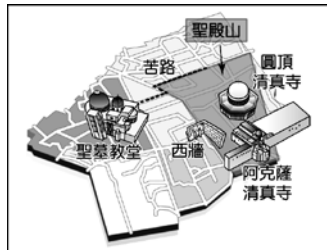
(A) 溫度 (B) 地形 (C) 緯度 (D) 雨量

26. 好萊塢導演要拍攝關於巴比倫、亞述、蘇美與加爾底亞人的傳記電影，需找尋相關的遺跡以供佈景的設計，試問：這位導演應到圖中何處找尋？



(A) 甲 (B) 乙 (C) 丙 (D) 丁

27. 西亞不同族群對聖地的爭奪，是造成該地區衝突的主要原因之一，圖為三大宗教聖地分布示意圖，請問此圖最有可能是下列哪個都市？

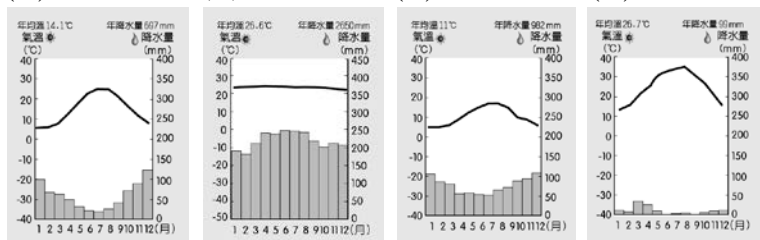


(A) 伊斯坦堡 (B) 巴格達  
(C) 耶路撒冷 (D) 麥加

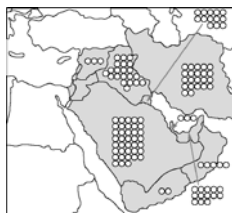
28. 右圖為某地區的民房建築型態，若根據其建築特色加以判斷，這地區的氣候圖最有可能是下列何者？



(A) (B) (C) (D)



29. 右圖為某區域最主要資源的分布圖，請根據此圖陸塊的形狀判斷，圖中的○符號應該是下列何者？



(A) 水 (B) 石油 (C) 農田 (D) 鐵礦

**題組一** 中國「一帶一路」的 21 世紀經濟戰略要點，被視為中國經濟實力的延伸，藉由貸款資助所經國家的基礎建設，增加國際影響力，也得以掌握自身工業發展的需求。圖為中國「一帶一路」示意圖，請問：



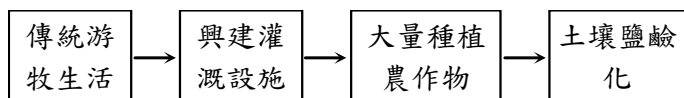
30. 若以「絲綢之路經濟帶」來看，中國得以掌握自身工業發展需求，指的可能是下列何者？

(A) 石油 (B) 鐵礦 (C) 錫礦 (D) 棉花

31. 若以「21 世紀海上絲綢之路」來看，哪個國家因位居此路要道，使中國不敢與此國家交惡？

(A) 越南 (B) 印度 (C) 新加坡 (D) 斯里蘭卡

**題組二** 中亞地區為傳統絲路的必經要道，自古以來即有許多民族生活於此，但近百年來此地的土地利用卻有極大改變，下表為中亞地區的土地利用變遷，請根據此表回答問題：



32. 上表中所提到的大量種植「農作物」，可以在右圖境內的哪個位置發現？

(A) 甲 (B) 乙 (C) 丙 (D) 丁



33. 下列何種環境災害與中亞的土地利用變遷關係最密切？

(A) 地層下陷 (B) 全球暖化  
(C) 鹹海消失 (D) 冰河融化

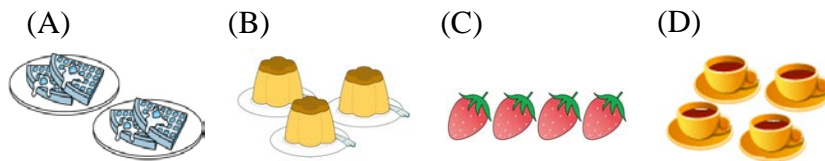
34. 阿寶 最近迷上玩抓怪遊戲，遊戲中突然同時出現三隻怪獸，但是他只剩下一個道具，僅能選擇一隻抓取。在不考慮其他因素的情形下，他決定單以能力值做為衡量標準，想抓取能力值高的怪獸。根據附圖，下列敘述何者正確？



★越多代表能力值越高

(A) 阿寶 的最佳選擇是毛蟲怪  
(B) 大角怪才是 阿寶 的最佳選擇  
(C) 選擇大角怪和選擇金魚怪的機會成本相同  
(D) 選擇金魚怪的機會成本最低

35. 有四位好朋友相約一起喝下午茶，若他們都想吃到相同的餐點，根據圖示，何者會出現稀少的問題？



36. 一名髮型設計師，因為資金不足，無法擁有屬於自己的店面，所以她就在黃昏市場利用自製工具及設備開始幫客人理髮，因技術純熟與頗負創意，且每次只收 100 元，因而大排長龍。請問：下列敘述何者**錯誤**？

(A) 剪髮一次只收 100 元是其銷貨收入中的產品價格  
(B) 主要提供的商品是無形的勞務  
(C) 這名髮型設計師不算是生產者  
(D) 剪髮贈送刮鬍子是提高銷售量的策略

37. 今年香蕉大豐收導致價格崩盤，蕉農面對種植香蕉及人工採收所花費的成本無法回收，乾脆不採收。請問：上述經濟學的現象與下列何者相同？

(A) 厚奶茶搶購熱潮，造成賣場大缺貨  
(B) 全新豪華休旅車在台銷售表現亮眼，車商重金投入台灣市場  
(C) 天氣轉涼，商家進行冷氣促銷活動  
(D) 歡慶 戴資穎 亞運封后，麥當勞 大麥克買一送一賣到缺貨

38. 承上題，義美 食品公司宣布以市價 3 倍收購 100 公噸的 A 級 台灣 香蕉，希望藉以協助 台灣 農業。過往通常以製作傳統香蕉泥、香蕉澱粉、香蕉乾、香蕉片等加工方式來解決短期過量生產的困境。但 義美 對此表示，應該要再研發更多附加價值的生產製程。請問：義美 公司決定收購香蕉，開發新的香蕉產品為何項生產要素？

(A) 自然資源 (B) 人力資源 (C) 資本 (D) 企業才能

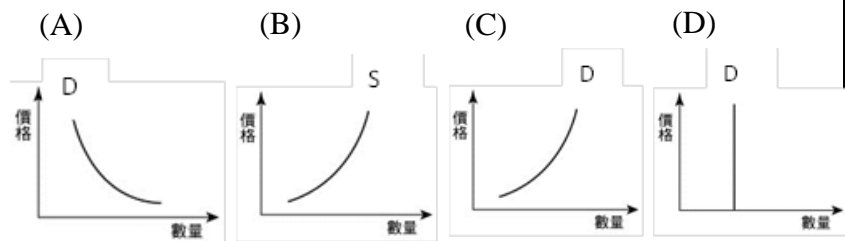
39. 小玫開了一家手工蛋糕店，按訂單要求來生產蛋糕，但每天最多只能生產 100 個蛋糕，每個蛋糕售價 150 元，原料成本每個 100 元。附表為試賣期間的需求狀況，根據資料，下列何者正確？
- | 日 期 | 需求狀況 (個) |
|-----|----------|
| 第一天 | 80       |
| 第二天 | 100      |
| 第三天 | 110      |
| 第四天 | 125      |
- (A) 第一天利潤為 8000 元  
(B) 第三天的銷貨收入為 16500 元  
(C) 四天共賣出 415 個蛋糕  
(D) 總利潤為 19000 元

40. 承上題，小玫為了降低生產成本，下列哪一項做法是可行的？
- (A) 簡化產品包裝 (B) 開設分店  
(C) 添購新設備 (D) 延長營業時間

41. 阿肥開設了一家「麻辣火鍋店」，口味獨特、用料實在，吸引不少顧客上門。但是，一到夏季業績明顯下滑，阿肥想運用國中公民老師教過的「需求法則」來重新訂定夏季的火鍋價格。根據右表判斷，阿肥應該將夏季平日的火鍋價格單價訂為多少較為適當？
- | 時 段 |    | 單位價格  |
|-----|----|-------|
| 冬季  | 平日 | 399 元 |
|     | 周末 | 459 元 |
| 夏季  | 平日 | ? 元   |
|     | 周末 | 359 元 |
- 平日：周一到周五  
周末：周六、周日
- (A) 379 元 (B) 299 元 (C) 419 元 (D) 389 元

42. 有關「生產要素－使用生產要素的成本」的配對，下列組合哪些正確？(甲)觀光果園租用土地－地價(乙)補習班工讀生－薪資(丙)燒烤店排煙設備－利息(丁)早餐店店面裝潢－地租。
- (A) 甲乙 (B) 甲丙 (C) 乙丁 (D) 乙丙
43. 新聞報導：「台北秋季旅展於 8 月底盛大登場，旅行業者針對中秋連假及季節旅遊行程推出多項套裝行程及優惠方案，讓民眾能提早規畫省荷包。」請問：影響上述民眾消費行為的因素與下列哪一個選項相同？
- (A) 颱風來襲前，消費者搶購生鮮蔬菜  
(B) 新款手機即將開賣，引領預購風潮  
(C) 上班族領到年終獎金，購物犒賞自己  
(D) 漫威超級英雄特展校園門票一掃而空

44. 根據報導：「2018 年 富士比 名人富豪榜最年輕入榜者凱莉珍娜炫富成性，在自己專屬的真人秀節目《凱莉私生活》中，裡頭滿滿的奢華物品。在她的包包收藏間內，有滿屋的愛馬仕、香奈兒、LV、Saint Laurent、GUCCI.....，全世界最貴的喜馬拉雅鱷魚皮凱莉包也在裡頭，儼然像是名牌精品的暢貨二手店。」請問：下列哪一個圖最能說明她的消費行為？



45. 下列有關於經濟學的相關概念，何者正確？
- (A) 「生命誠可貴，親情價更高，若為電腦故，兩者皆可拋」呈現出青少年沉迷於電腦的機會成本為生命加親情  
(B) 當所得提高時，生活必需品支出所佔的比例較多  
(C) 阿公在陽台栽種的青菜分送給左鄰右舍是為商品  
(D) 向陽的房子房價較貴，在此充足的日照為經濟財
46. 下表為精彩文具店三種文具的部分資料，每一個品項的售價均為 50 元，其總利潤高低依序為筆記本、文件夾、立可帶。根據上述內容判斷，表中的甲、乙最可能為下列何者？
- (A) 甲：15，乙：40 (B) 甲：15，乙：25  
(C) 甲：10，乙：20 (D) 甲：10，乙：25

文具種類	銷售數量 (個)	成本 (個)
文件夾	20	25
筆記本	甲	15
立可帶	30	乙

- 題組三 有志月薪 2 萬 8 千元，父母給的房子每月收租 2 萬 5 千元。有志看著市場上俗稱「夾娃娃機」的選物販售機店正夯，正巧工作也不盡如意，遂辭掉工作，收回出租給別人的房子，投入夾娃娃機店的經營。他另外所投入的生產成本如右表所示：
- | 店面裝潢   | 50 萬元         |
|--------|---------------|
| 機台     | 3 萬元/台 × 20 台 |
| 兌幣機    | 3 萬元/台        |
| 監視錄影設備 | 5 萬           |
| 電費     | 5000 元/月      |

47. 請問：在 有志 的生產成本中，何種支出最多？又何種支出最少？
- (A) 自然資源；人力資源 (B) 資本；人力資源  
(C) 自然資源；資本 (D) 人力資源；自然資源
48. 有志的店面位在學區附近，因此，選物販售機的內容物多以文具、玩具為主。請問：這是生產時考量的何種課題？
- (A) 生產什麼 (B) 如何生產 (C) 為誰生產 (D) 生產數量
49. 若一年後，有志投入的資金皆已回本，第二年開始每月平均獲利 5 萬。請問：若 有志 的滿足程度完全來自金錢且根據機會成本的概念，有志辭掉工作，經營夾娃娃機店的決定值得嗎？
- (A) 值得，每月獲利 5 萬元  
(B) 值得，每月多賺 2 萬 2 千元  
(C) 不值得，每月減損 3 千元  
(D) 不值得，每月減損 2 萬 5 千元
50. 近來，有不少家長反映學生過度沉迷夾娃娃，部分機台甚至擺放十八禁商品，影響學童身心。行政院□□□□□□進行查核機台是否合法或是否有業者擅改玩法違規之情事。請問：□□□□□□指的是下列何者政府機關？
- (A) 消費者服務中心 (B) 消費者文教基金會  
(C) 臺灣消費者保護協會 (D) 消費者保護處

新北市立新莊國民中學 107 學年度第 1 學期第 1 次段考 9 年級社會領域試題

解答

1	2	3	4	5	6	7	8	9	10
<b>D</b>	<b>A</b>	<b>D</b>	<b>D</b>	<b>D</b>	<b>D</b>	<b>D</b>	<b>C</b>	<b>D</b>	<b>A</b>
11	12	13	14	15	16	17	18	19	20
<b>B</b>	<b>A</b>	<b>A</b>	<b>C</b>	<b>C</b>	<b>B</b>	<b>B</b>	<b>C</b>	<b>B</b>	<b>C</b>
21	22	23	24	25	26	27	28	29	30
<b>D</b>	<b>A</b>	<b>A</b>	<b>A</b>	<b>D</b>	<b>A</b>	<b>C</b>	<b>D</b>	<b>B</b>	<b>A</b>
31	32	33	34	35	36	37	38	39	40
<b>C</b>	<b>B</b>	<b>C</b>	<b>D</b>	<b>B</b>	<b>C</b>	<b>B</b>	<b>D</b>	<b>D</b>	<b>A</b>
41	42	43	44	45	46	47	48	49	50
<b>B</b>	<b>D</b>	<b>A</b>	<b>C</b>	<b>D</b>	<b>A</b>	<b>B</b>	<b>C</b>	<b>C</b>	<b>D</b>