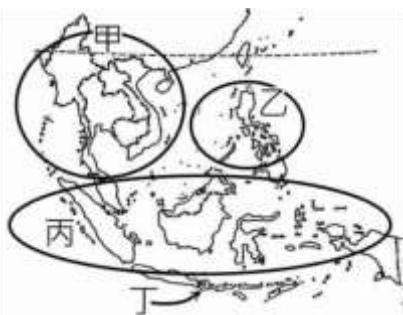


- ※ 選擇題：本試卷共 50 題，每題 2 分，總分為 100 分。
 每一題均為單選題，請選出最適當答案。
 ※ 請用 **2B 鉛筆** 在答案卡上相應的位置畫記。

1. 附圖為東南亞宗教分布圖，甲、乙、丙、丁分別代表不同主流宗教，正確的配對為何？

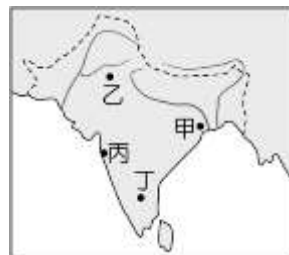


- (A) 甲：伊斯蘭教、乙：佛教、丙：印度教、丁：天主教
 (B) 甲：佛教、乙：天主教、丙：伊斯蘭教、丁：印度教
 (C) 甲：佛教、乙：天主教、丙：印度教、丁：伊斯蘭教
 (D) 甲：伊斯蘭教、乙：天主教、丙：佛教、丁：印度教
2. 關於東南亞各地的氣候特徵，下列敘述何者正確？
 (A) 中南半島主要為熱帶雨林氣候
 (B) 菲律賓群島為全年多雨的氣候
 (C) 中南半島西側雨量較多是受緯度影響
 (D) 東印度群島降雨主要是對流雨
3. 有關南亞各地的氣候特徵，下列敘述何者正確？
 (A) 乞拉朋吉位於冬季季風迎風面，雨量非常多
 (B) 德干高原東側因夏季迎風而多雨
 (C) 印度半島西北部因距海遙遠形成塔爾沙漠
 (D) 北部受地形高度影響形成高地氣候
4. 南亞與東南亞許多國家經歷過西方殖民，這些國家在獨立後，社會經濟發展大部分會出現下列哪些現象？(甲)區域發展不均 (乙)經濟多依賴農、礦業為主 (丙)擁有資金與技術 (丁)國內公共建設完備。
 (A) 甲乙 (B) 甲丁 (C) 乙丙 (D) 乙丁
5. 有關南亞的作物分布，下列敘述何者錯誤？
 (A) 黃麻主要分布在濕熱的恆河三角洲
 (B) 稻米分布在印度河上游及沿海地區
 (C) 茶葉分布在迎風多雨的丘陵區，如大吉嶺
 (D) 印度河沿岸因氣候較乾燥適合棉花種植
6. 印度半島的氣候類型主要受到季風轉換的影響而形成不同的氣候特色，共分為涼季、熱季、雨季三類。請問：這些季節的分布現象，若從年初 1 月開始一直到當年的 12 月年底，依各季節分布的時間加以排列，其先後順序應該為下列何者？
 (A) 熱季、雨季、涼季、熱季
 (B) 熱季、涼季、雨季、熱季
 (C) 涼季、雨季、熱季、涼季
 (D) 涼季、熱季、雨季、涼季

7. 臺灣由於近年來人口結構及產業轉型的因素影響，大量引進外籍移工。目前觀光局正推動如附圖所示的認證標章。請問：這項政策對於下列哪一國而言最為友善？



- (A) 越南 (B) 印尼
 (C) 菲律賓 (D) 泰國
8. 齊博士是一位地理學家，正在探勘世界各地的地形景觀。請問：他到南洋群島考察時，最有可能是要探勘下列哪一種地形景觀的特色作為他研究的主題？
 (A) 三角洲地形 (B) 沙漠地形
 (C) 火山地形 (D) 冰河地形
9. 東南亞位在兩大洋必經的位置上，自古以來就是不同文化接觸的地區，包含貿易、移民、殖民等等原因，使得東南亞文化相當豐富多元。請問：下列各國的特色，何者不是因為殖民所形成的特色？
 (A) 印尼大規模種植油棕樹提煉棕櫚油
 (B) 雅加達為港埠型都市
 (C) 菲律賓料理中有西班牙海鮮燉飯
 (D) 汶萊以伊斯蘭教為國教
10. 根據知名網站的人口數資料，2022 年 4 月印度人口數正式突破 14 億人，使得印度的人口數在不久的未來將超越中國，成為世界人口最多的國家。龐大的人口數量造就印度近年來經濟快速成長，但也對環境造成不少破壞。請問：下列關於印度近年來的環境問題，何者正確？
 (A) 工業發展使得印度河污染嚴重
 (B) 平原西部地勢低窪，經常淹水
 (C) 貧民窟經常有疾病擴散的問題
 (D) 東北部土壤逐漸鹽鹼化
11. 東南亞各國的經濟增長相當快速，自 1967 年當地的東南亞國協成立以來，各國平均的 GDP 增長率約為每年 8~11%，成為重要的新興市場，也吸引了許多跨國企業進入。此現象與當地具備哪些發展條件關係最大？
 (甲) 人口眾多 (乙) 資源豐富 (丙) 技術進步 (丁) 資金雄厚
 (A) (甲)(乙) (B) (丙)(丁) (C) (甲)(丙) (D) (乙)(丁)
12. 寶萊塢電影《三個傻瓜》裡，主角們就讀的頂尖理工學校，被稱為印度「科學皇冠上的瑰寶」，每年錄取的名額約有 5,000 名，但報考人數卻破 30 萬人，換算成錄取率只有 1.67%，目的是為了培養優秀的科學家與工程師，成為國家資訊科技等高科技的發展重鎮。請問：該學校所培養出來的人才在畢業後，最可能前往附圖中何處就業？



- (A) 甲 (B) 乙 (C) 丙 (D) 丁

13. 印度除了積極培養高科技相關人才外，還有哪些關鍵優勢吸引歐美等先進國家與之合作？(甲)英文是官方語言 (乙)工資較低廉 (丙)基礎建設完善 (丁)動力資源充足
(A)甲乙 (B)乙丙 (C)丙丁 (D)甲丁

14. 涵蓋15國的《區域全面經濟夥伴協定》(RCEP)，已經完成談判，參與成員有東協10國以不同方式與中國、日本、南韓、紐西蘭、澳洲簽署協定。預計GDP可達25.5兆美元，約占全球的30%，是全世界經濟規模最大、涵蓋人口最多的自由貿易市場。上述的協定簽訂後，預計會產生下列哪一種影響？

(A)保護主義盛行，提高關稅
(B)各國談判整合成功，利於各方合作
(C)促進亞洲與非洲擴大經濟交流
(D)發展組織共同貨幣，便於流通運用

15. 近來南亞的最大國家新冠病毒染疫人數飆高，在醫療資源不足下人們開始尋求以宗教方式防疫，部分人們每天喝恆河水、泡恆水並將牛糞塗抹身上，深信可藉此避免病毒感染。請問這樣的信仰模式與當地何種宗教有關？

(A)佛教 (B)天主教 (C)印度教 (D)伊斯蘭教

16. 阿緯在印度半島上畫了一個白色箭頭，如附圖。該箭頭是表示印度半島上某項特徵的變化狀態？

(A)稻米種植面積愈來愈大
(B)年降水量愈來愈少
(C)地形愈來愈平坦
(D)佛教信徒愈來愈多



17. 某次上公民課時，老師請同學以刑事訴訟為主題，踴躍發表自己的看法。請問：下列哪些同學認知有誤？

(A)丙丁戊 (B)甲乙丁 (C)乙丙戊 (D)乙丙丁戊
甲花非花：刑事訴訟的流程依序為：偵查→起訴→審判→執行。

乙素還真：由檢察官負責案件的偵查與起訴、法官則負責案件的審判與執行。

丙風隨行：被害人自行到地檢署按鈴申告的行為稱為公訴。

丁莫召奴：刑罰無法制裁所有的違法行為。

戊玉天璣：被告未經審判確定有罪前，皆推定為無罪，這就是罪刑法定原則。

18. 現年10歲的國小學生風之痕、14歲的國二學生海殤君與18歲的混混金小開三人在便利商店未經結帳就偷吃麵包，並用工具破壞店內用餐區設備，經店家發現後報警處理。請問：針對三人的法律責任敘述，下列何者完全正確？

(A)風之痕年紀尚輕，不論做任何事，皆不會受到刑罰制裁
(B)金小開因未滿20歲，父母親須負起連帶的刑事責任
(C)風之痕、海殤君因未滿18歲，兩人皆可減輕刑罰處罰
(D)金小開屬於完全責任能力人，父母親不須負起連帶損害賠償責任

19. 根據我國法律規定，下列哪一個刑事案件無法進行調解？
(A)叮噹因為失戀心情不佳，持棍棒敲破巷子整排車子的擋風玻璃
(B)花花一邊開車一邊滑手機，不慎將路人撞傷
(C)賓果盜領銀行客戶存款後，捲款逃逸
(D)仔仔未經查證，在網路上散佈友人曾經未婚墮胎的不實言論

20. 民法規範法律行為是否有效的依據，以甲歲、乙歲為分界；刑法規範是否能承擔刑罰的依據，則以丙歲、丁歲為分界，而刑法針對年滿戊歲的長者，可以減輕刑罰。請問：將上述5個數字相加，正確解答應該為何？

(A)144 (B)139 (C)137 (D)142

21. 一名身價破億的焦姓酒店大亨，誤以為停在路邊的機車是他的，但是鑰匙插進去卻發不動，於是他把車子牽到鎖店，這輛機車的車主找不到車因而報警，焦男被警方移送法辦，但檢方認為他沒有竊盜犯意，予以不起訴處分。請問：檢方裁定焦男沒有竊車犯意而不起訴，是基於何種理由？

(A)誠實信用原則 (B)無罪推定原則
(C)罪刑法定原則 (D)禁止權力濫用原則

22. 張姓女子因信用卡被人盜刷向警方報案，警方循線通知涉嫌盜刷的姜女到案。姜女在警訊時就坦承犯案，全案在檢方調查時，姜女與張女達成私下和解，賠償盜刷金額1.2萬餘元，張女也願撤回告訴，但檢方仍依偽造文書罪起訴姜女。請根據上文判斷，下列何者觀念正確？

(A)因此案為告訴乃論案件，所以張女無法撤回告訴
(B)張女到警局報案是採取自訴方式維護權益
(C)姜女已與張女達成民事和解，所以賠償對方1.2萬元罰金
(D)法院在接獲檢方提起公訴後，才會開始審理

23. 犯罪一定是違法，但違法不一定是犯罪。請判斷下列哪些人的行為屬於犯罪行為？

甲、小玉和小丸子因意見不合發生爭吵，小玉當眾用不雅字眼辱罵小丸子 乙、大雄因被公司裁員，於是心生不滿，縱火燒毀騎樓的機車洩憤 丙、宜靜和小夫騎車出遊，沒有依照交通號誌連闖幾個路口紅燈 丁、小明在社區停車場倒車，不小心撞壞鄰居的轎車

(A)甲乙丁 (B)乙丙丁 (C)甲乙丙 (D)甲乙

24. 根據刑法規定，符合特定資格或身分者，就可減輕其刑。請問：下列哪些人的情況符合規定？

(A)甲乙戊己 (B)乙丙戊 (C)乙丙己 (D)甲乙丙丁

甲	78 歲的王淡犯下竊盜罪。
乙	15 歲的大雄侵占同學遺失物品。
丙	16 歲已結婚的小美毆傷同事。
丁	13 歲的學生阿達在路上攻擊流浪狗。
戊	現年 30 歲，但從小就是啞巴的小威，持刀刺傷朋友。
己	今年 50 歲的阿吉犯下重傷害罪，但被判定行為時，辨識能力顯著降低。

繼續作答下張試卷

【第 25 至 26 題為題組】

有鑑於酒駕事故頻傳，立法院三讀修正通過加重酒駕刑罰，增訂加重結果犯與再犯的罰金刑，也延長再犯重罰年限，10 年內再犯酒駕致人死傷即加重處罰，以減少酒駕事件，維護公共安全，新法已於今年 3 月 31 日開始施行。

25. 立法院修法加重酒駕罪責的措施，以減少酒駕事件，最主要希望發揮刑罰的何項功能？
(A)處罰犯罪 (B)預防犯罪 (C)矯正犯罪 (D)報復犯罪
26. 刑法的制定可保障國家、社會與個人法益免受侵犯。請問：酒駕刑罰規範主要在保護的利益與下列何種相同？
(A)幫助敵國竊取國家情資
(B)深夜聚眾，在道路蛇行飆車
(C)用望遠鏡偷窺鄰居生活日常
(D)不滿女友要求分手，限制她行動

【第 27 至 28 題為題組】

前市議員香吉士在任內，利用魯夫當人頭詐領公費助理補助費，遭法院依利用職務機會詐取財物罪，判處有期徒刑 3 年 10 個月，褫奪公權 4 年，沒收犯罪所得 5 萬多元。

27. 依我國刑罰規定，下列敘述何者正確？甲、沒收屬於剝奪財產的處罰 乙、褫奪公權與沒收皆屬於從刑 丙、沒收可獨立宣告 丁、褫奪公權屬於剝奪資格的刑罰
(A)甲乙丁 (B)乙丙 (C)甲丙丁 (D)甲丙
28. 若今年香吉士服刑期滿出獄，仍無法從事哪項行為？
(A)以無黨籍身分登記參選里長
(B)年底行使公民投票權
(C)參加專業人員國家檢定考試
(D)向銀行申請貸款，開設公司

【第 29 至 30 題為題組】

現年 30 歲的秋天在母親節當天與家人到花蓮旅遊，不料在超商提款時，因專心帶著孩子，一時分神，操作完成後卻忘記將提領的 5000 元現金取走，被在後方的 15 歲高一學生春天順手牽羊拿走；秋天返回店家時發現現金已遺失，決定要報警處理，警方循線找到春天，將她依侵占罪嫌送辦。

29. 秋天以犯罪被害人的身分，去警察局報案，請求追訴犯罪的行為，是以何種方式尋求權利救濟？
(A)自訴 (B)告發 (C)告訴 (D)公訴
30. 根據刑法規定，侵占罪屬於非告訴乃論案件。秋天事後發現對方年紀尚輕，同意只要對方私下返還金錢，即給予機會不再追究。請問：她可否去警局聲明撤回此案告訴？
(A)可以，因為春天屬於限制責任能力人
(B)可以，因為案子尚未交由檢方接手
(C)不可以，因為秋天屬於完全行為能力人，要對自己的提告行為負責
(D)不可以，依法此類案件只能透過訴訟方式處理

【第 31 至 33 題為題組】

高市酒店、茶行凌晨接連被砸重大滋擾案，遭(甲)依妨害秩序罪嫌，將張姓嫌犯等 12 人移送給(乙)偵辦並起訴，(丙)決定依妨害秩序罪判刑，將其中 9 人判處拘役可易科罰金確定，另外，張嫌等 3 人被判 7 至 8 月不等有期徒刑，仍可上訴。

31. 針對上文所提及的拘役、徒刑與罰金的敘述，下列何者正確？甲、拘役、徒刑皆為主刑、罰金為從刑 乙、徒刑屬於生命刑、拘役屬於自由刑、罰金屬於財產刑 丙、罰金可獨立宣告 丁、三者皆為主刑
(A)甲乙 (B)丙丁 (C)甲乙丙 (D)乙丙丁
32. 關於文內甲、乙、丙三人職權的敘述，下列何者正確？
(A)乙在法庭上代表原告，請求判處被告有罪並科以刑罰
(B)乙協助調查案發經過及蒐集犯罪證據
(C)甲負責審理案件並作出判決
(D)丙受理民眾報案後，若確認被告有犯罪可能，即提起公訴
33. 若張嫌不滿一審法院的判決結果，決定再提起上訴。請問：他上訴的行為是在行使憲法保障人民的哪項基本權利？
(A)平等權 (B)受益權 (C)參政權 (D)自由權
34. 戰爭後期，國軍連連失利，財政金融崩潰，社會動盪不安，最後中華民國政府遷往台灣，請問：關於當時的敘述，何者正確？
(甲)台灣當時已經頒布戒嚴令了
(乙)二戰失利，政府才撤退來台
(丙)雖然在打仗，但政府已經制定出憲法
(丁)退守台灣後，台灣便爆發二二八事件
(A)甲丙 (B)甲丁 (C)甲乙 (D)乙丁
35. 哈爾濱地區有個 731 部隊遺址、韓國 2017 年有部上映的電影—「軍艦島」、亞洲各地有許多「慰安婦」雕像，請問：上述的遺址、電影跟雕像，都跟哪一場戰爭有關？
(A)國共內戰 (B)第一次世界大戰
(C)軍閥混戰 (D)第二次世界大戰
36. 美國 夏威夷知名景點—「亞利桑那號紀念館」，佇立於海面上，他不僅僅是一個戰爭紀念館，同時也是軍人公墓，殘骸中仍有千名陣亡將士的遺體，當時這場恐怖的攻擊，讓美國決定加入戰爭，請問：關於這個戰爭紀念館，下面敘述何者正確？
(A)這主要是紀念美國在一戰陣亡的士兵
(B)主要是在紀念珍珠港事件罹難的士兵
(C)當年蘇聯無預警的偷襲，造成美國參戰
(D)這場戰爭中，美國與英國是敵對的情形
37. 「張學良故居」位在在新竹，他在此地被軟禁了 13 年，請問：在這個歷史景點中，不會看到哪個介紹？
(A)曾經擔任過陸軍軍官學校的校長
(B)他是位將軍，曾帶領軍隊去剿共
(C)西安事變的主使者，挾持了蔣中正
(D)宣布歸順中華民國政府，中國統一

38. 北伐的途中，國民政府逐漸受到共產黨與親共勢力的控制，民國16年，政府開始以武力清除國民黨內部的中共份子，並在日後另組國民政府，請問：當時蔣中正另組國民政府，地點位於何處？

- (A)南京 (B)廣州 (C)陝西 (D)北京

39. 「是他統一了中國，也是他讓中國擺脫不平等條約，但他也是他無限期連任總統，讓民主的道路充滿挑戰」請問：「他」是指下列哪一為歷史人物？

- (A)袁世凱 (B)蔣中正 (C)孫中山 (D)張學良

40. 日本在位最久的天皇—昭和天皇，他即位後，遇到國際經濟危機，社會不穩定，導致國內「軍國主義」抬頭，請問：這樣的情況，對日本造成什麼影響？

- (A)以擴充軍備、侵略戰爭做為國家的理念
(B)國家開始練習自給自足，減少進口貨物
(C)一切以人民需求為主，進口民生必需品
(D)社會大眾主張廢除天皇，改行民主共和

41. ○○地區宣佈歸順中國，讓國家統一，但日後被日本控制，終於盼到戰爭結束，沒想到又被國際犧牲，最終落到蘇聯手上，請問：○○指的是中國哪一個地區？

- (A)山東 (B)東北 (C)廣州 (D)西安

42. 八年抗戰爆發後，日軍不斷入侵中國，各地常會有戰爭發生，天空也有飛機空投炸彈，請問：下列哪一個選項，會是日軍轟炸的目標？

- (A)掛著滿洲國國旗的汽車 (B)華北自治區的政府機關
(C)重慶區域裡重要的街道 (D)台北地區的台灣總督府

43. 對日抗戰期間，共產勢力不斷擴大，實力逐漸可以跟國民政府互相抗衡，日後國共雙方爆發戰爭，請問：這場戰爭會爆發的原因，跟下列何者有關？

- (A)蔣中正要剿滅共產黨，共產黨努力反抗
(B)蘇聯訓練中共軍隊，引起蔣中正的注意
(C)八年抗戰期間，共產黨加入了日本軍隊
(D)雙方為了爭奪日軍占領區，而爆發衝突

44. 「終於阿！各國放棄在華的特權，後來開會時，也達到共識，聲明日本應該將台灣與其他地區還給我們……等」請問：關於上述的敘述，下列何者正確？

- (A)上文中的「聲明」是指雅爾達密約
(B)上文中的「開會」成員有包含蘇聯
(C)文中「開會」的地點在埃及的開羅
(D)會議結束後，美國與英國對日宣戰

45. 最近發生烏俄戰爭(烏克蘭VS俄羅斯)，從新聞報導中，可以得知各國對俄羅斯進行經濟制裁，其中「聯合國」大會通過決議，要求俄羅斯停戰，特別是對於烏克蘭平民的攻擊，請問：關於上面這個國際組織的敘述，何者錯誤？

- (A)負有維持國際和平與安全的責任
(B)中華民國參與了聯合國創建過程
(C)此國際組織，是在二戰後建立的
(D)中美英法德五國，為常任理事國

【第 46 至 47 題為題組】

2017 年的中國時報提到：「孫中山的《建國大綱》全文只有 25 條，把整個國家的建設分成三個階段，分別是○政、○政、○政……」，請根據上面敘述回答下列問題：

46. 請問：孫中山的《建國大綱》，把國家建設分成哪三個階段？(請按照順序)

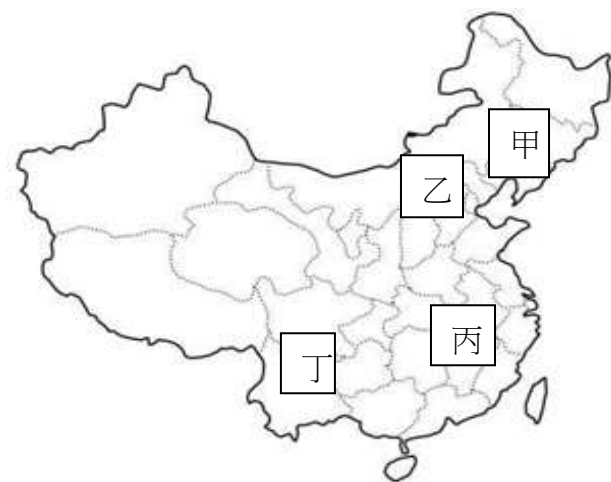
- (A)憲政—訓政—軍政 (B)訓政—憲政—軍政
(C)軍政—訓政—憲政 (D)憲政—軍政—訓政

47. 請問：下面哪兩個人，是生活在《建國大綱》的同一個階段？

- (甲)我出生時，買東西都只能用法幣
(乙)我生日在12/25，同年實施憲法
(丙)社會好混亂，軍閥互相爭奪地盤
(丁)聽說政府現在收了回關稅自主權
(A)甲乙 (B)甲丁 (C)甲丙 (D)乙丙

【第 48 至 50 題為題組】

根據(圖一)的地圖回答下列問題：



(圖一)

48. 流光：當年我年紀太小，躲在租界區，日軍在外面亂殺人，還有兩個軍官舉辦「殺人比賽」，請問：流光當時位於哪個區域？

- (A)甲 (B)乙 (C)丙 (D)丁

49. 妣羅：我居住的地方更慘，之前鐵路被炸毀，爆炸聲嚇壞大家，後來聽說以後這個區域被溥儀控制，他不是早就退位了嗎！請問：妣羅居住在哪个區域？

- (A)甲 (B)乙 (C)丙 (D)丁

50. 晚媚：我們這個地區，本來人口不多，日後政府遷都到這裡，戰爭期間變成國際都市，人口遽增。請問：晚媚當時生活在哪个地區？

- (A)甲 (B)乙 (C)丙 (D)丁

試題結束

新北市立新莊國民中學 110 學年度第 2 學期第 2 次段考 8 年級社會領域試題
解答

1	2	3	4	5	6	7	8	9	10
B	D	D	A	B	D	B	C	D	C
11	12	13	14	15	16	17	18	19	20
A	D	A	B	C	B	C	A	C	B
21	22	23	24	25	26	27	28	29	30
C	D	D	C	B	B	C	A	C	D
31	32	33	34	35	36	37	38	39	40
B	A	B	A	D	B	A	A	B	A
41	42	43	44	45	46	47	48	49	50
B	C	D	C	D	C	B	C	A	D