

新北市立新莊國民中學 107 學年度第 1 學期第 2 次段考 9 年級社會領域試題卷

班 座 號

姓名

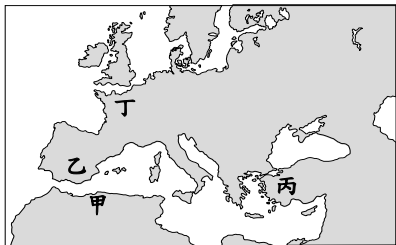
※ 選擇題：本試卷共 50 題，每題 2 分，總分為 100 分。

每一題均為單選題，請選出最適當答案。

※ 請用 2B 鉛筆在答案卡上相應的位置畫記。

1. 附圖表示日耳曼民族的遷徙與建國，請問下列敘述何者正確？

- (A) 西元 800 年被教宗加冕為「羅馬人的皇帝」是圖中乙國的君主
- (B) 這些王國中以圖中甲國的實力最強
- (C) 丙國的統治範圍內採中央集權的體制
- (D) 諸國分立的局面，與東漢攻打突厥並導致其西遷而壓迫到日耳曼民族的生存空間有關



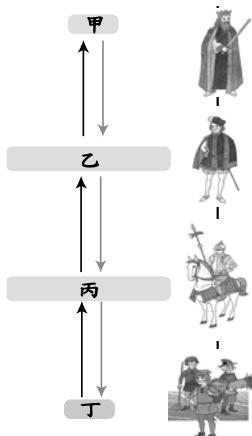
2. 「西元 962 年 2 月 2 日，此人在教皇約翰十二世的主持下，於聖彼德大教堂加冕為『羅馬人的皇帝』。他如願地追隨了查理大帝的腳步，再次重建了羅馬帝國。」請問：關於上述君主所建立的帝國，下列何者「錯誤」？

- (A) 帝國內部呈現分裂狀態，小國林立
- (B) 19 世紀時被拿破崙解散
- (C) 皇帝無實權，曾被評為「既不神聖，也非羅馬，更非帝國」
- (D) 由附圖中的甲國演變而來



3. 右圖表示中古時代西歐的封建制度，請問下列敘述何者正確？

- (A) 丙階層是作戰的主力，也是乙階層的領主
- (B) 乙階層對於國王而言是領主，對於騎士而言是附庸
- (C) 丁階層會將莊園土地全數種滿作物、沒有遺漏，以提升產量
- (D) 全國唯一永遠是領主而非附庸的是甲階層



4. 關於中國西周與中古西歐封建制度的比較，請問下列敘述何者「錯誤」？

- (A) 西周是統一的帝國，中古西歐則是處於分裂的狀態
- (B) 西周國王的權力較中古西歐為高
- (C) 西周分封土地依據的原則是契約關係，中古西歐則是血緣關係
- (D) 西周重視嫡長子繼承制，中古西歐則強調領主和附庸的主從關係

5. 右圖是聖索菲亞大教堂內部的鑲嵌壁畫，查士丁尼竟和聖母與耶穌平起平坐，請問這代表什麼意義？

- (A) 東羅馬帝國政教分離，時常發生政治、宗教間的衝突
- (B) 東羅馬帝國的皇帝同時掌管政治及宗教事務，地位很高
- (C) 查士丁尼推廣拉丁文使其成為中古西歐通用文字，貢獻良多
- (D) 東羅馬帝國信奉羅馬公教，以教宗為最高領導者

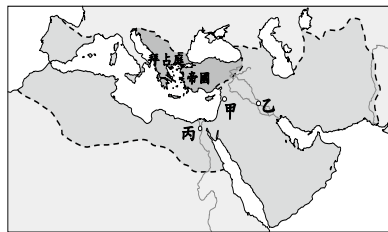


6. 小敏在書上看到一段文字：「國王，我們最高的統治者，和他的繼承者，應該被接受且尊為英格蘭教會唯一至高的首領。」若她進一步搜尋相關資料，可能會出現下列哪些內容？ (甲)「否定教宗權威」 (乙)「被歸類於舊教的範圍」 (丙)「為亨利八世所創立」 (丁)「提出預選說」

- (A) 甲乙 (B) 乙丙 (C) 甲丙 (D) 乙丁

7. 老師在課堂上畫出某帝國的疆域 (如附圖)，請同學發表該帝國的特色，請問下列哪一位同學說對了？

- (A) 小安安：「從《一千零一夜》一書可以了解當時最重要的城市乙地繁華的景象」
- (B) 珮琪：「此帝國信仰的宗教希望信徒一生至少要到甲地朝聖一次」
- (C) 麒宇：「唐代和此帝國曾於丙地交戰，導致造紙術的西傳」
- (D) 小珊珊：「此帝國於 11 世紀崛起，成為拜占庭帝國的主要外患」

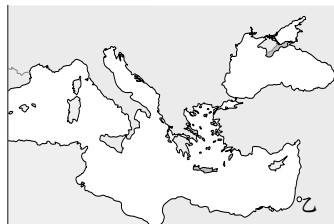


8. 右表顯示史上橫跨歐、亞、非三洲大帝國的起源地，請問若按帝國建立的時間先後順序加以排列，下列何者正確？

帝國	起源地
(甲)帝國	義大利半島
(乙)帝國	伊朗高原
(丙)帝國	阿拉伯半島
(丁)帝國	小亞細亞
(戊)帝國	希臘北部

- (A) 甲丁乙戊丙
- (B) 乙戊甲丙丁
- (C) 丙甲丁戊乙
- (D) 戊丙乙丁甲

9. 西元 11 世紀教宗烏爾班二世對教徒演講：「**甲**已經入侵我們東方兄弟的國家，又侵占了我們的聖地。我要勉勵你們，也懇求你們，督促一切有封爵等級之人，乃至所有騎士、士兵、富人與窮人，都必須迅速給予東方基督教徒援助。把凶惡的民族趕出我們的領土，我告訴在座的各位，也通知不在場的人：這是上帝的旨意。」請問：根據演講內容，下列敘述何者正確？



- (A) 文中**甲**民族是指鄂圖曼土耳其人
- (B) 戰爭多次成功收復聖地，軍事成就卓越
- (C) 戰爭有助於東西文化交流，中國的火藥即由此西傳歐洲
- (D) 文中所指的「聖地」位於附圖乙處。

10. 「巴黎大學原為聖母院主教學校，吸引許多有聲望的教師前來，日漸壯大規模，因而有『教授的大學』(masters' university) 之稱。波隆納大學是歐洲最古老的大學，學生有招募老師的權力，並且掌握大學行政，所以又稱『學生的大學』(students' university)」請問：此段文章的主題應為下列何者？

- (A) 「市民階級成為推動近代歐洲歷史發展的重要力量」
- (B) 「教士對保存希臘、羅馬的古典文化有重要的貢獻」
- (C) 「老師或學生所組成的行會是西方大學制度的起源」
- (D) 「中古後期歐洲的著名城市因東西貿易興盛而形成於地中海沿岸」

11. 右圖顯示中世紀繪畫與文藝復興繪畫的不同之處。請問：根據右圖，文藝復興時期的作品有何特色？



- (A) 人物通常不會有明顯表情
- (B) 人物溫柔可親，表達「以人為本」的概念
- (C) 致力於彰顯人物的神聖莊嚴
- (D) 以神為中心，宗教思想主宰各個層面

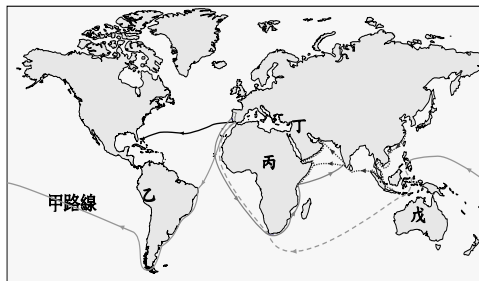
12. 關於地理大發現的影響，下列敘述何者「錯誤」？

- (A) 明朝時玉米、番薯等新作物傳入中國，紓解糧食不足的壓力
- (B) 歐洲人從非洲捕捉印第安人來作為開發殖民地的人力，導致印第安人數劇減
- (C) 明朝「一條鞭法」規定百姓按畝徵銀，與西班牙自殖民地取得白銀和中國貿易，導致白銀流入中國有關
- (D) 台灣歷史進入國際競爭時期，荷蘭、西班牙競相在台灣建立殖民地、掠奪經濟資源

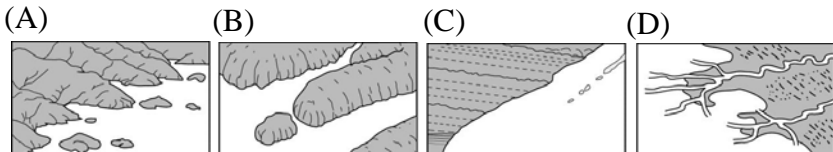
13. 文藝復興時期某部作品有以下內容：「君王對於殘酷這個惡名不必介意，所應重視的倒是不要濫用仁慈，因為仁慈會帶來滅頂之災．．．君王應當效法狐狸與獅子，由於獅子不能夠防止自己落入陷阱，而狐狸則不能夠抵禦豺狼。因此，君王必須是一頭狐狸以便認識陷阱，同時又必須是一頭獅子，以便使豺狼驚駭。」請問：此作品的作者應為下列哪一位？
(A) 馬基維利 (B) 塞凡提斯 (C) 佩脫拉克 (D) 莎士比亞
14. 「她是不識字的農村少女，傳說在 16 歲時的某一日遇見天使，從而得到『天主的啟示』，要求她帶兵收復當時由敵人佔領的失地。她於 1429 年解奧爾良之圍，成為聞名全國的女英雄。1430 年她不幸被擄，以異端和女巫罪遭判火刑。」請問：下列何者與文中主角經歷的戰爭有關？
(A) 促使英、法由封建式政權走向以君主為權力中心的「王權國家」
(B) 由於文中主角激勵士氣，戰爭的結果是英國獲勝
(C) 戰爭起因是具有英國貴族身分的法王，爭奪英國王位繼承權
(D) 由於死傷慘重，使英、法兩國的國王權力大為減弱

題組（一）右圖為歐洲地理大發現的路線。請根據下圖回答第 15 至 16 題：

15. 關於圖中甲路線的敘述，下列何者正確？
(A) 繞過好望角，發現到東方的新航路
(B) 船隊在麥哲倫遇害後繼續向西航行，完成繞行地球一周
(C) 率先抵達美洲，卻誤以為所到之處是東方的印度
(D) 在明成祖的支持下遠航，最遠到達非洲東岸



16. 「西元 1526 年西班牙征服者法蘭西斯科·皮薩羅和他的兄弟到達一個非常富裕的土地，很有可能就是歐洲傳說中的黃金國。皮薩羅受到西班牙皇帝批准征服該地區，他們將國王俘虜，要求百姓在倉庫中塞滿巨額的黃金，以贖回國王。人民交了贖金，但皮薩羅欺騙他們，竟將國王處死。」請問：文中皮薩羅征服的帝國應位於圖中何處？
(A) 乙 (B) 丙 (C) 丁 (D) 戊
17. 「推銷贖罪券的教士們鼓吹，教皇的贖罪券能使人免除一切懲罰，並且得救，便陷入了謬誤。因教皇事實上並沒有赦免煉獄中靈魂的任何處罰，因為按照教會法的規定，人應在生前接受這些處罰。．．．真誠悔過的基督徒，就是不購買贖罪券，也能夠獲得全面免除罪罰的權利。．．．相信贖罪券的拯救功能是徒勞無益的，即使其兜售者，甚至教皇本人以其靈魂作為擔保，也沒有用。」請問：率先提出以上論點的應為下列何人？
(A) 喀爾文 (B) 羅耀拉 (C) 薄伽丘 (D) 馬丁路德
18. 由 18 名科學家、船員、攝影師組成的環保團體「Sail Against Plastic」在今年 6 月底前進北極圈內的海岸考察，發現當地有許多人使用的一次性用品，包括塑膠瓶、棉花棒、濕紙巾和食品外包裝。攝影師也拍下了 2 隻小北極熊啃食黑色塑膠袋、將其套在頭上的畫面。請問上述令人心痛的照片最可能是在下列哪一種海岸拍攝到的？



19. 學者提出警告：如果再不採取行動，到了 2050 年海洋裡的塑膠製品會比魚群還多。因此歐盟所設立的歐洲議會在上個月底以壓倒性多數通過：歐盟所有成員國將禁止使用包括吸管、塑膠餐具等一次性塑膠製品，以遏止海洋汙染。請問此決策最可能是在下列何地進行討論並決議？
(A) 巴黎 (B) 倫敦 (C) 布魯塞爾 (D) 斯德哥爾摩

20. 關於歐洲地形特色的敘述何者正確？
(A) 南歐有特殊的谷灣、石灰岩地形
(B) 廣大的歐洲大平原主要分布於西歐和北歐
(C) 東歐可見到峽灣和火山地形
(D) 阿爾卑斯山東西走向，造成南北交通上的阻隔

21. 若以西歐和東歐的氣候特徵利用下表來說明，請問其中哪一項是「錯誤」的？
(A) 甲 (B) 乙
(C) 丙 (D) 丁

	西歐 → 東歐		
甲	多	年雨量	少
乙	小	年溫差	大
丙	長	雨季	短
丁	長	日照時間	短

22. 愛你的鄰居-波士尼亞戰爭的故事這本書評論巴爾幹半島上近代發生的戰爭，書名相當諷刺，作者以拿自己生命做賭注的專業勇氣，帶領讀者一同前往烽火漫天的戰爭前線，並不斷質疑人性面對殺戮的底線，是一部真誠且發人省思的報導文學。請問巴爾幹半島糾紛不斷，與下列哪一個因素較「無關」？
(A) 戰略位置重要 (B) 石油礦產豐富
(C) 地形複雜崎嶇 (D) 宗教信仰分歧

23. 西伯利亞的河川在春末夏初時，常因上游河段先融冰，導致河水無法宣洩而氾濫成災。對此，俄羅斯軍方部署戰鬥機對部分結冰河段進行轟炸，以防止水患。上述河川氾濫成災的原因，除了氣候嚴寒外，與下列哪項因素關係密切？
(A) 河道狹窄 (B) 支流眾多 (C) 河川流向 (D) 水流曲折

24. 下表關於歐洲重要海峽的資料，下列何項敘述正確？
(A) 甲 (B) 乙 (C) 丙 (D) 丁

項目	直布羅陀海峽	英吉利海峽
(甲)隔海國家	西班牙和法國	英國和法國
(乙)連接海域	地中海與大西洋	北海與大西洋
(丙)海底隧道	已完成	未完成
(丁)分布位置	西歐	南歐

25. 德國的經濟產值約占歐盟的五分之一，各種工業產品以創新及高品質著稱，深受國際歡迎。下列有關德國的經濟發展狀況，何者「不正確」？
(A) 豐富的煤礦資源，是工業發展的基礎
(B) 便利的水運網，利於工業原料及產品運輸
(C) 太陽能及風力發電事業，居全球領先地位
(D) 體積小，單價高的精密工業是目前發展重點
26. 信用卡或手機行動支付等電子貨幣日漸普及，丹麥政府甚至宣布停止發行紙鈔及硬幣，直接在教堂旁邊設置刷卡機，方便教友做禮拜時的捐款，僅剩醫院、藥房、郵局受理現金。而觀光客如想利用行動支付在歐洲各國購買該國生產的知名產品，下列建議清單中何者正確？
(A) 荷蘭--Philips 刮鬍刀 (B) 芬蘭--LEGO 玩具
(C) 英國--Chanel 香水 (D) 瑞典--Rolex 手錶

27. 聯合國每年都會在 3 月 20 日「國際幸福日」這天公布《全球幸福指數報告》，這份報告主要評定因素包括預期壽命、社會支持度、對政府的信任度、人均 GDP、個人自由感以及國民慷慨程度。2018 年幸福指數前十名的國家中，北歐五國全數上榜，芬蘭更躍居第一。北歐五國除了社會福利佳，各國因地制宜的產業發展也發揮穩定經濟的效果，請問下列關於各國產業發展的說明哪些正確？

(A) 甲、乙 (B) 丙、丁 (C) 甲、戊 (D) 乙、戊

國家	主要產業	發展優勢
(甲)挪威	航運業	位居主要航線、港灣條件佳
(乙)冰島	煉鋁工業	地熱、水力能源豐富
(丙)瑞典	鋼鐵工業	煤礦品質佳，火力發電充裕
(丁)芬蘭	汽車工業	具有優質鐵礦
(戊)丹麥	酪農業	氣候涼溼、平原廣、黑土沃

28. 附圖為東歐簡圖。下面有兩家台灣企業看準東歐國家的發展潛力，紛紛想進駐投資設廠，請從這兩家公司對話的內容，判斷他們想投資的分別為圖中哪兩個國家？

揚名海運：「這國家不僅盛產煤鐵，工業條件佳，且地理位置好。尤其北部的格但斯克港，又以造船工業聞名，很符合我們公司需求」。

宏海企業：「這國家早期因為發展軍火工業，工業基礎好，且勞力便宜，在加入歐盟後，又可免關稅，我們很期待它的潛力」。



(A) A、C (B) B、C (C) B、E (D) F、D

題組(二) 右圖為歐洲國家分布簡圖，歐洲國家數量眾多，各國有其發展特色，請依據右圖回答 29、30 題：



29. 歐元硬幣的正面都是相同的，標示硬幣的幣值，但背面的圖案可由歐盟各國自行設計。上圖分別為某兩國發行的歐元，一枚是音樂家莫札特的頭像，另一枚則為拉斐爾所繪的但丁頭像，請問：這兩枚硬幣最可能由哪些國家所發行？


(A) 甲、丙 (B) 丙、丁 (C) 乙、己 (D) 己、庚

30. 知名教堂「聖家堂」是世界上唯一尚未完工就被聯合國教科文組織列為世界文化遺產的建築物。聖家堂在沒有建照的情況下，非法施工超過 1 個世紀，日前終於和市議會達成協議，聖家堂須在未來 10 年支付 3600 萬歐元（約新台幣 13 億）取得建照，預定 2026 年完工，屆時將是高第過世 100 週年。請問聖家堂位於圖中哪一國境內？

(A) 甲 (B) 乙 (C) 戊 (D) 庚

題組(三) 請依據下文及附圖回答 31、33 題：

為了慶祝新年，可口可樂公司在俄羅斯最受歡迎的社群網站 Vkontakte 上發布以該公司標誌性的紅白兩色作主調的聖誕賀卡，紅色背景上浮現一幅白茫茫的俄羅斯地圖，下面寫著「從莫斯科到海參崴歡度冬



休」，祝消費者新年快樂，但地圖上少了爭議領土「克里米亞半島」，大批俄羅斯網友留言抗議，趕緊加上去卻又引起鄰近某國撻伐抵制，最後只好撤下賀卡。請問：

31. 卡片中充滿基督教聖誕歡樂氣息，但俄羅斯依據所屬教派的曆法將「聖誕節」定為每年 1 月 7 日，而非世人印象中的 12 月 25 日，請問俄羅斯所屬教派為下列何者？

(A) 喀爾文教派 (B) 路德教派 (C) 東正教 (D) 天主教

32. 卡片中以下列何種文字寫著「從莫斯科到海參崴歡度冬休」？

(A) 拉丁文 (B) 日耳曼文 (C) 羅馬拼音 (D) 斯拉夫文

33. 卡片中箭頭所指為爭議土地「克里米亞半島」，此地獨立公投通過後自願併入俄羅斯。克里米亞原屬於□□國，該國不承認公投的結果，與俄羅斯的關係原本就因加入歐盟與否陷入僵局，甚至遭俄羅斯斷絕天然氣供應，克里米亞獨立事件更使兩國關係雪上加霜。請問□□國的為下列何者？

(A) 波蘭 (B) 白俄羅斯 (C) 烏克蘭 (D) 羅馬尼亞

34. 2017 年 5 月，中華電信 499 方案一推出，讓全民搶申辦，排隊人潮不斷，引發「499 之亂」。針對 499 方案是否延長的問題？中華電信董事長表示，這是短期促銷，不應是常態，所以 499 方案會按照原先計畫，只到 5 月 15 日就會截止，絕對不會延長，向隅者只能再等下一次促銷方案。根據上述內容，下列何人的經濟學見解較正確？

(A) 小閃：這是通貨膨脹的現象
(B) 阿電：此方案價格低致使生產者增加生產
(C) 小麥：價格決定深受統制經濟的影響
(D) 阿坤：還有向隅者代表供不應求的現象

35. 政軒和政穎分工合作捏黏土，並且每人只能捏一種動物。下表為他們兩個人花費相同時間，捏出小熊和兔子的數量表。若兩人必須依照比較利益分工合作，請問下列敘述何者正確？

	政軒	政穎
小熊	4	3
兔子	8	5

(A) 政軒對於捏小熊具有比較利益
(B) 政穎對於捏兔子具有比較利益
(C) 政軒對於捏兔子具有比較利益
(D) 政穎對於捏小熊具有絕對利益

36. 今天公民老師講解許多經濟學的概念，阿達抄下許多筆記，請幫他指正出哪個地方錯了？

(A) 股票市場是一個無形市場
(B) 一件衣服「標價 3000 元」是代表貨幣發揮價值衡量的功能
(C) 使用「YAHOO 輕鬆付」(第三方支付)可達到貨幣的債務清償功能
(D) 「通貨緊縮」意味著商品價格下跌，貨幣價值上漲

37. 新竹新埔一帶柿餅加工名聞遐邇，每年 9 至 10 月左右，通常要在柿子七分熟時採收，接著必須人工將柿子一顆顆削皮去蒂，再加以日

	採收(顆)	削皮去蒂(顆)
老闆	60	70
老李	70	60
阿政	80	40
小穎	50	50

曬、風乾、捻壓、翻面與 SPA 後完工。某柿餅加工廠老闆、還有員工老李、阿政、小穎，共四人分時段倆倆搭配依比較利益分工，且每人只專司一項工作，下表為每小時他們在兩項工作的生產數量。請根據資料判斷，何人不管是跟誰搭配都是負責削皮去蒂？

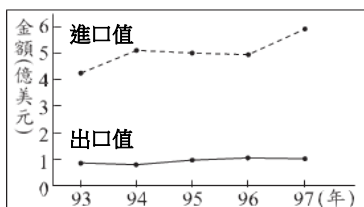
(A) 老闆 (B) 老李 (C) 阿政 (D) 小穎

38. 近年來水波爐在日本可是超夯商品之一，這款商品包含了氣炸、微波、電鍋及烤箱的功效，還可以自動清潔、消毒及除臭，簡直萬能！政軒 2018 年 1 月到日本買了一台 5 萬日圓的水波爐，感覺很好用，半年後又再次到日本想再買一台。在不考慮其他條件的情況下，換回新台幣計價，買第二台價格的變化可能為何？(下表為兩個不同時間日圓兌換新台幣的匯率情況)

時間	日幣兌換新台幣
2018 年 1 月	1:0.2558
2018 年 6 月	1:0.2702

- (A) 多付 720 元 (B) 少付 720 元 (C) 多付 1200 元 (D) 少付 1200 元
39. 德國在 1920 年代初，民生必需品每 49 小時漲價一倍，到了 1923 年間德國最高的鈔票面額是「一百兆馬克幣」，在當時八百億馬克幣只能買一條麵包，讓人民不知如何是好。依此研判，下列關於當時德國的敘述何者正確？
- (A) 領固定薪水者，生活水準提升
(B) 貨幣價值增加，儲蓄意願上升
(C) 商品供不應求，物價持續上升
(D) 面臨通貨緊縮，民眾囤積物品

40. 附圖是民國 93 年至 97 年，我國水果類農產品的國際貿易概況。根據圖中內容，可觀察出下列何種現象？



- (A) 我國生產水果具絕對利益
(B) 我國生產水果具比較利益
(C) 水果類呈現貿易順差狀態
(D) 水果類呈現貿易逆差狀態
41. 公民課班上正在分組討論「經濟制度」的特徵，每組均提出一項觀點，請問有幾個組別的觀點是正確的？
- (A) 3 (B) 4 (C) 5 (D) 6

組別	說明
第一組	市場經濟採行財產私有制
第二組	計畫經濟由市場機能控制價格
第三組	市場經濟的缺點是貧富差距大
第四組	計畫經濟的缺點是生產效率低落
第五組	市場經濟有一隻看得見的手掌握市場
第六組	計畫經濟政府介入控制商品數量

42. 小軒和小穎打算將教室布置成海洋世界，所以利用放假回家畫各式各樣的「魚」和「螃蟹」再到學校剪下、張貼。附表為他們 1 小時所能畫出來的數量，若小軒在畫「螃蟹」和「魚」均具有絕對利益，但依照比較利益法則，他卻負責畫「魚」。根據內容判斷，表中的甲、乙最可能分別為？
- (A) 9, 12 (B) 11, 10 (C) 15, 11 (D) 8, 6

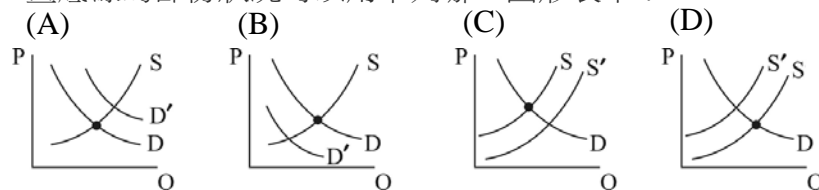
	小軒	小穎
魚	10	8
螃蟹	甲	乙

題組(四) 請依據下文及附圖回答 43~45 題：

2018 年職棒總冠軍賽，Lamigo 桃猿隊再度別出心裁，祭出買總冠軍賽內野門票送對戰日職羅德隊交流賽門票的方案，最貴票價創下 1980 元的史上新高，較去年調漲 300 元。依 Lamigo 如此調高總冠軍賽門票售價，明年如果再打進總冠軍賽，很有可能票價會突破 2000 元的關卡。此事件評價可謂正反兩極，有人認為太貴，不過也有人認為這就單純的經濟學問題，這是商業行為，在商言商，票要賣多貴是球團的權利，民眾若不買單，票賣不掉，自然會降價。

43. 請問：根據上文畫底線所描述的狀況，符合經濟學上的哪一種概念？
- (A) 市場機能 (B) 需求法則 (C) 供給法則 (D) 比較利益

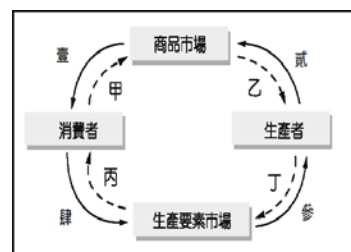
44. 根據新聞報導，今年從前兩戰來看，熱區兩種門票漲價約 2 成，總進場人數下滑約 3 成，但因各價位區銷售詳細情況不明，無法精確比較總收入，不過對比過去進場人數，Lamigo 桃猿隊應該是感到有點踢到鐵板。請問：針對本題畫底線的部份狀況可以用下列哪一圖形表示？



45. 假設下表為 Lamigo 桃猿球團公布的票價供需表，若想要達到市場均衡的狀態，應該將票價訂為多少元？
- (A) 880 (B) 1280 (C) 1580 (D) 1980

票價(元)	880	1280	1580	1980
供給量(張)	10000	15000	16000	20000
需求量(張)	20000	15000	15000	12000

題組(五) 附圖為經濟活動循環圖，虛線箭頭(--->)為貨幣的流向，實線箭頭(——>)為商品及生產要素的流向。請依題示回答第 46~48 題。



46. 針對「經濟活動循環」，下列敘述的配對何者正確？
- (A) 甲：星據點 KTV 購買新的音響設備
(B) 乙：紅海公司支付工程師的薪水
(C) 丙：每逢農曆年台基電員工都會領到公司給的年終獎金
(D) 丁：心農園餐廳過年不打烊，營業額大幅成長
47. 根據新聞報導，2017 年以來美國經濟持續好轉，勞動薪資上漲，失業率降低的情況下，民眾消費信心增加，帶動年中的消費動能，因此「黑色星期五」購物大節在美創下 79 億美元的網購零售額紀錄。根據上述畫底線的部分，指經濟活動循環圖中哪一貨幣流向變動？
- (A) 甲 (B) 壹 (C) 肆 (D) 丙
48. 國際勞工組織於 2014 年發表一份名為《就業中卻賺更少：年輕人合理薪資與最低工資趨勢》的報告，正式宣告「青年薪資折扣(youth wage discount)」趨勢的存在。這份報告指出，少子化的趨勢意味著勞動市場中年輕人口供給量少，市場價格理應跟著拉高，但實際上青年與成人之間的薪資差距卻逐漸擴大。根據上述畫底線的部分，指經濟活動循環圖中哪一流向變動？
- (A) 壹 (B) 貳 (C) 參 (D) 肆

題組(六) 請依據下文回答 49~50 題：

近年由於全球景氣趨於保守，其中中國大陸實體經濟狀況不佳，歐美市場景氣尚未復甦，因此也牽動了各國對日本和台灣工具機的採購意願。但是日圓兌美元持續走貶，讓日本工具機外銷訂單暢旺，反觀新台幣兌美元匯率卻讓出口表現「雪上加霜」。因此業者和公會期盼央行能在新台幣匯率上對症下藥，充分了解廠商面臨的實際處境。

49. 關於中央銀行的敘述，何者正確？
- (A) 中央銀行隸屬於總統府
(B) 中央銀行對民眾有存放款業務
(C) 中央銀行需控制貨幣發行數量
(D) 中央銀行往來對象為全國民眾
50. 根據內容，業者和公會期盼央行如何對症下藥？
- (A) 限制他國工具機進口
(B) 調降新台幣存款利率
(C) 新台幣兌美元應設法貶值
(D) 新台幣兌美元應持續升值

新北市立新莊國民中學 107 學年度第 1 學期第 2 次段考 9 年級社會領域試題

解答

1	2	3	4	5	6	7	8	9	10
C	D	D	C	B	C	A	B	D	C
11	12	13	14	15	16	17	18	19	20
B	B	A	A	B	A	D	B	C	A
21	22	23	24	25	26	27	28	29	30
D	B	C	B	D	A	A	B	D	A
31	32	33	34	35	36	37	38	39	40
C	D	C	D	C	C	A	A	C	D
41	42	43	44	45	46	47	48	49	50
B	B	A	B	B	C	A	D	C	C