

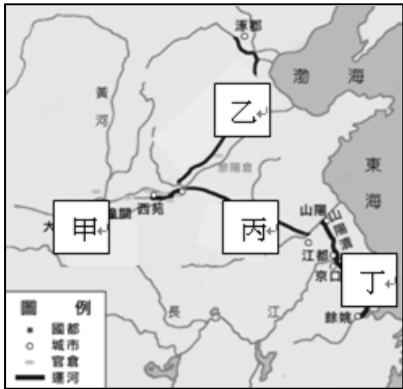
※ 選擇題：本試卷共 50 題，每題 2 分，總分為 100 分。
每一題均為單選題，請選出最適當答案。
※ 請用 2B 鉛筆在答案卡上相應的位置畫記。

1. 南朝宋的張敷為正員中書郎（官職），中書舍人（官職）秋當、周起以為與張敷是同僚，商量是否應該去拜訪他。周起說：「他倘若不招待我們，我們會很難堪，我們還不如不去。」秋當說：「我們也已經有相當地位了，既是同事，去他家中坐坐總可以。」這樣，他們兩人就決定去看張敷。張敷預先擺設了二床，距離牆壁二、四尺。兩位客人就席，張敷呼喝左右說：「移我遠離客人」……秋當、周起二人感到很窘困，只得退出。請問上述故事是在說明南北朝的哪一現象？

(A) 胡漢衝突嚴重 (B) 黨爭糾紛不斷
(C) 宦官外戚對立 (D) 門第觀念森嚴

2. 附圖是隋朝運河分布圖，請問圖中「丙」運河的敘述何者正確？

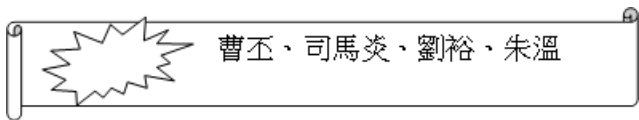
(A) 其開鑿目的是為了便利京師與長江間物資的運送
(B) 是隋文帝在位時開鑿的
(C) 此運河的開鑿是為了攻打高麗
(D) 此運河開鑿後有助於南方物資運送至北方



3. 關於中國歷史上佛教與道教的發展，請問下列表中何項正確？

項目	佛教	道教
(A)起源	印度	中國本土
(B)發展	秦代白馬寺為首座佛寺	魏晉時吸收法家思想
(C)帝王提倡	曾為北魏國教	南朝梁武帝所熱衷
(D)分派	東漢時有五斗米道、太平道	唐朝時有「禪宗」

4. 悠純複習段考時將下列人全部統整在一個主題中，但是不小心卻將主題弄髒。請問：根據提示，悠純統整的主題應為何者？



(A) 結束分裂亂世 (B) 權臣篡位建國
(C) 外戚奪位建國 (D) 開發江南有功

5. 歷史「事實」與歷史「解釋」不同，最大的差別在於歷史「事實」是呈現客觀的事實本身；而歷史「解釋」則是史學家對史實的詮釋。就「赤壁之戰」發生的背景與影響而言，下列哪一項敘述屬於歷史解釋？

(A) 發生於東漢末年
(B) 曹操揮軍攻打孫權、劉備聯軍
(C) 曹操戰敗，退回北方
(D) 奠定了三國鼎立的基礎

6. 小威發現下列四張魏晉南北朝時期的地圖，請按照時代先後依序排列出來：

- (A) 丙－甲－丁－乙 (B) 丙－乙－丁－甲
(C) 甲－乙－丙－丁 (D) 丁－甲－丙－乙



7. 日本文字是模仿中國漢字而形成，請問下列圖表中的文字該如何說明？

波は	奈な	太た	加か	安あ
は	な	た	か	あ
利あり	比ひ	任に	知ち	以い
り	ひ	に	ち	い

- (A) 片假名－採用漢字楷書偏旁創造而成
(B) 平假名－採用漢字楷書偏旁創造而成
(C) 片假名－根據漢字草書所製成
(D) 平假名－根據漢字草書所製成

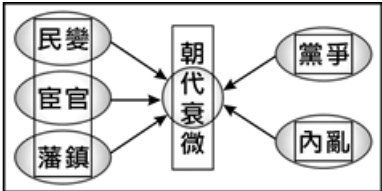
8. 根據右方漫畫圖所示，圖中的皇帝最有可能是中國歷史上哪一位好佛的帝王？

(A) 北魏孝文帝 (B) 梁武帝
(C) 唐太宗 (D) 晉武帝



9. 如附圖所示，這最有可能是下列哪一個朝代衰亡時的情形？

- (A) 隋朝
(B) 唐朝
(C) 東漢
(D) 西晉

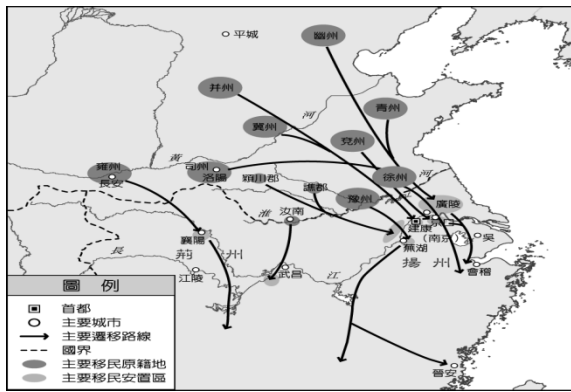


10. 下表為中國歷史上官方曾經實施的選拔人才制度，當中何者開始推行的時間是最晚的？

甲	創設進士科，以此作為選拔國家官員的制度
乙	中正官依照品德、才能和家世背景品評人物
丙	國均用人唯才，形成「布衣卿相」的局面
丁	地方官員定期向朝廷推舉「孝子」和「廉吏」

- (A) 甲 (B) 乙 (C) 丙 (D) 丁

11. 附圖是中國某一時期北方人向南遷移的路線圖。請問：根據圖中的路線來判斷，這應該是下列哪一時期的遷移路線？



- (A) 五代 (B) 東晉 (C) 東周 (D) 秦朝
12. 大導演侯孝賢拍攝的唐代傳奇【刺客聶隱娘】電影中，你不可能看到哪一場景在電影中出現？
- (A) 市集上有許多金髮碧眼的外國人，買賣各樣的外國商品
(B) 市集中的交易使用方便攜帶的紙幣，使商業更加繁榮
(C) 首都長安建有回教清真寺，內有許多阿拉的信徒虔誠祈禱
(D) 社會風氣開放，街上婦女袒胸薄紗式的妝扮時有所見
13. 《後漢書·袁紹傳》有如附圖的記載。此圖顯示東漢末年群雄想挾制皇帝，借其名義號令諸侯。曹操是「挾天子以令諸侯」最著名者，他權重朝野，野心勃勃。請問：當時被曹操視為傀儡來控制的天子為下列何者？
- (A) 漢靈帝 (B) 漢獻帝 (C) 漢桓帝 (D) 漢宣帝
14. 「竹林七賢」，即嵇康、阮籍、山濤、向秀、王戎、劉伶和阮咸七人。嵇康反對司馬氏奪權，終身不仕而被殺。他的《與山巨源絕交書》極為後人推崇，他在養生與音樂方面也很有素養。與嵇康齊名的阮籍，雖然不得已向司馬氏低頭，但仍採取消極態度。他與嵇康一樣，反對虛偽的名教制度，主張反歸自然，文學造詣亦頗深。阮咸、劉伶俱為當時隱士，沉醉于豪飲。山濤、向秀、王戎早期與嵇康、阮籍共遊竹林，但晚年均出仕西晉，向秀在玄學理論上成就極高，而王戎則是出名的貪婪之徒。下列哪一句話不適宜用來描述竹林七賢？
- (A) 放任灑脫 (B) 不拘禮法
(C) 崇尚玄虛 (D) 奮發圖強

15. 右圖為唐代文化傳播示意圖，下列敘述何者正確？



- (A) 高宗年間在丙區與他國發生戰役，造成造紙術西傳
(B) 甲區的東突厥大力模仿中國的文字、儒學、曆法、律令、宗教等，有「君子國」之稱
(C) 西元 8 世紀摩尼教自丁區傳入中國
(D) 乙區在西元七世紀時，學習中國文化制度，推行「大化革新」

16. 詩人余光中歌詠唐代詩人李白，寫道：「酒入豪腸，七分釀成了月光，餘下的三分嘯成劍氣，繡口一吐就半個盛唐。從開元到天寶，從洛陽到咸陽，冠蓋滿途車騎的囂鬧，不及千年後你的一首，水晶絕句輕扣我額頭，噹地一彈挑起的回音。」以下四位同學根據這首新詩所延伸的歷史意義，何人的敘述正確？

- (A) 芷若：「詩仙」李白與「詩聖」班固齊名於當世
(B) 敏敏：唐朝開國定都洛陽，即隋代大興城
(C) 小昭：「開元」和「天寶」都是唐玄宗的年號
(D) 珠兒：此詩暗中透露出李白在黃巢之亂下的困頓

17. 相傳某位皇帝在睡午覺曾作了夢，夢見一條小河旁種滿楊柳樹，而旁邊山坡上有一顆李子樹，本來相安無事。但某一天天下大雨，洪水溢過河岸，楊柳樹全數淹沒，但李子樹卻平安無事。夢到此處這位皇帝驚醒了，這位皇帝讓臣子解夢，臣子說這是不祥之兆，因為楊柳的「楊」字代表剛好是這位皇帝的姓氏，而李子樹的「李」字剛好是此位皇帝所代表王朝的下一個王朝的皇帝姓氏，代表楊家王朝會被李氏所取代，沒料到日後此夢境竟然成真！請問：請問下列有關這前後兩個王朝的比較，何者「錯誤」？

- (A) 都建都於長安 (B) 都曾有宦官把持朝政
(C) 均曾有盛世出現 (D) 均使用科舉取士

18. 中國夏季各地氣溫差異與何因素的關係較大？

- (A) 地形 (B) 緯度 (C) 距海遠近 (D) 季風

19. 下列何者不是秦嶺-淮河一線的地理意義？

- (A) 一月月均溫 0°C 等溫線
(B) 750 毫米等雨量線
(C) 南部、北部地區的分界
(D) 熱帶、副熱帶氣候的分界

20. 季風的成因為何？

- (A) 經度差異 (B) 緯度差異
(C) 海陸性質差異 (D) 地形差異

21. 下列何處是中國冬季雨量較多的地區？

- (A) 華北平原 (B) 海南島
(C) 四川盆地 (D) 準噶爾盆地

22. 參考附圖，何處的雨量最多？

- (A) 甲
(B) 乙
(C) 丙
(D) 丁




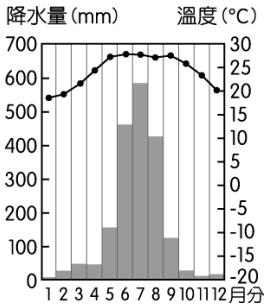
23. 承上題，何處為內流區？

- (A) 甲 (B) 乙 (C) 丙 (D) 丁

24. 中國哪個自治區內有流向印度洋的河川？

- (A) 西藏 (B) 新疆 (C) 內蒙古 (D) 寧夏

25. 附圖為中國某地的氣候圖，該地為何種氣候？
(A) 副熱帶季風
(B) 熱帶季風
(C) 溫帶草原
(D) 高地
26. 下列湖泊中，何者為鹹水湖？
(A) 洞庭湖 (B) 鄱陽湖 (C) 青海湖 (D) 西湖
27. 下列四地形區中，何者的民族最複雜多元？
(A) 東北平原 (B) 內蒙古高原
(C) 黃土高原 (D) 雲貴高原
28. 新疆北部為何民族複雜？
(A) 地處邊境 (B) 雨量稀少
(C) 地勢較高 (D) 高山環繞
29. 參考附圖，何處是為中國人數最多的少數民族所成立的自治區？
(A) 甲 (B) 乙 (C) 丙 (D) 丁
30. 下列何民族不以伊斯蘭教為主要信仰？
(A) 藏族 (B) 哈薩克族 (C) 回族 (D) 維吾爾族
31. 附圖為中國出生率、死亡率、自然增加率統計圖，何者不是圖中所反映的人口狀況？
(A) 出生率逐年下降
(B) 一胎化政策奏效
(C) 自然增加率主要受出生率影響
(D) 人口數逐年減少。
32. 下列何者不是中國推行一胎化政策所造成的影響？
(A) 人口數量得到控制
(B) 老年人口比例降低
(C) 幼年人口性別比失衡
(D) 重男輕女觀念更盛。
33. 2016 年中國總人口數約 13.81 億人，其中約 7.92 億人住在都市，5.89 億人住在鄉村，該年中國的都市化程度約為多少？
(A) 134% (B) 74% (C) 57% (D) 43%
34. 據報載，我國許多縣市政府都有嚴重負債問題，多位縣市首長採用開源節流的措施來解決財政問題。問：下列何者最不可能 是縣市首長採行的方法？
(A) 增設農產觀光市場，向使用者收費
(B) 向中央政府爭取統籌分配款項
(C) 減少舉債收入
(D) 調高營業稅的課徵稅率



35. 廷尉 是國中八年級的學生，其父母打算在暑假期間安排環島之旅，帶他到處去遊玩。請問：下列景點中，何者的地方層級與其他三者不同？
(A) 到「台南市」品嚐東山咖啡
(B) 到「花蓮縣」欣賞峽谷地形
(C) 到「嘉義縣」阿里山看日出
(D) 到「新竹市」大啖著名的廟口小吃
36. 某鄉公所鄉長表示：「鬧區機車停車格並未收費，因而被部分民眾長期占用，導致許多民眾常在找不到停車格的情況下，隨意違規停車，對街道景觀與交通安全造成影響，所以有必要實施機車停車收費政策。」根據上述內容判斷，下列何者錯誤？
(A) 停車收費可使地方規費收入增加
(B) 鄉民代表有權可監督新政策的實施
(C) 鄉公所是地方政府的立法機關
(D) 新政策的執行將有助於降低外部成本發生
37. 甲、乙、丙三人的居住地資料如附表，近日三人分別向當地選出的民意代表陳情，希望他們能反映民情。根據表中資料判斷，甲、乙、丙所陳情的對象，依序最可能為下列何者？

居民	居住地
甲	台中市
乙	嘉義市
丙	台東市

(A) 市民代表、市議員、立法委員
(B) 市議員、市民代表、市議員
(C) 立法委員、市民代表、市議員
(D) 市議員、立法委員、市民代表
38. 小新 住在雲林縣北港鎮，看到新聞報導地方公職人員選舉，俗稱九合一選舉，將於 107 年 11 月 24 日舉行。問：小新 在今年不會看到哪位公職人員的選舉造勢活動？
(A) 雲林縣長 (B) 北港鎮民代表
(C) 立法委員 (D) 北港鎮長
39. 我國《地方制度法》對於行政層級的畫分和所轄的次級地方組織，都有詳細的規定。下列有關「新北市新莊區」與「屏東縣長治鄉」之敘述，何者正確？
(A) 前者為市府派出單位，後者為地方自治團體
(B) 二者皆為縣級行政單位所轄的次級地方組織
(C) 前者之首長為區長，後者之首長為鄉長，均由選舉產生
(D) 前者設區民代表會，後者設鄉民代表會，二者皆為立法機關
40. 有些地方政府規定人民須購買專用垃圾袋以處理垃圾，否則清潔隊將不予清運，違反或任意傾倒垃圾者，將處以高額罰款。請問：地方政府此措施的最主要動機為何？
(A) 將外部成本內部化
(B) 增加政府的稅收
(C) 提高行政的效率
(D) 刺激民間的消費

41. 居住在苗栗縣苗栗市的 志玲，因覺得住家周遭的馬路坑洞過多，讓經常外出的她感到危險，於是向當地的地方民意代表陳情，希望能獲得相關單位的重視。根據上述內容判斷，志玲所陳情的對象最可能是下列何者？
- (A) 苗栗縣長 (B) 苗栗市議員
(C) 苗栗市民代表 (D) 苗栗市長
42. 報載：「2018 年使用牌照稅的開徵稅額以新北市居冠，達 86.41 億元，第二名為台中市，為 86.2 億元。」問：下列關於牌照稅的敘述，何者正確？
- (A) 以財產價值為課稅對象
(B) 課徵採負擔能力原則
(C) 徵收機關為財政部國稅局
(D) 屬於地方政府規費收入
43. 國健署 2017 年宣布對免稅菸品課徵每包 20 元的健康福利捐，主要目的為進一步降低菸害帶來的外部效果。問：下列何項政府政策效果與上述政策最相似？
- (A) 設置不分區立委的婦女保障名額
(B) 每週提供國小學童飲用免費牛奶
(C) 免費提供身心障礙人士復康巴士
(D) 免費提供國人施打流感疫苗
44. 我國中央與地方政府的權限劃分採均權制度。下列何者依其性質屬於地方政府管轄的範疇？
- (A) 雪霸國家公園補助學者從事櫻花鉤吻鮭棲地研究
(B) 北區公務人員特考的錄取與分發
(C) 臺北市與新北市整合雙方自行車租借系統
(D) 嘉義茶農製茶所向政府申請減免所得稅
45. 報載：「行政院公平交易委員會針對嘉儀公司於網站刊載兩種除濕機商品，網頁宣稱「1 級效能」，就足以影響交易決定之商品品質為虛偽不實及引人錯誤之表示，處新台幣 15 萬元罰鍰。」問：上述行政院的作為，發揮了政府的何項經濟功能？
- (A) 提供公共財 (B) 維持經濟秩序
(C) 保障私有財產 (D) 縮短貧富差距
46. 下列四位同學針對公共財提出不同的見解，何者的看法最正確？
- (A) 小夫：「政府所提供的服務或設施都是公共財」
(B) 胖虎：「無法禁止讓不付費的人使用」
(C) 大雄：「公共財適合由私人企業提供」
(D) 靜香：「國防、捷運都是公共財」
47. 民國 86 年修憲後，政府推動「省」虛級化政策，「省」的角色也發生轉變。下列相關敘述何者正確？
- (A) 省主席改由行政院長提請總統任命
(B) 省仍具有地方自治團體的地位
(C) 省諮議員由人民直接投票選出
(D) 省成為立法院的派出機關

題組：下表是 美珠 上個月家計本的部分帳目支出表，依據表中資料回答問題：

項目	金額 (元)	項目	金額 (元)
繳汽車貸款	10000	繳水電費	2500
購買公債	20000	繳所得稅	30000
繳公有停車場 停車費	200	申請護照費用	1300
繳房屋稅	6000	台塑加油站的油費	1500
繳超速罰單	3600	大樓管理費	2000

48. 美珠 的支出屬於政府的收入共有幾項？
- (A) 五項 (B) 六項 (C) 七項 (D) 八項
49. 美珠 的支出屬於政府「規費收入」的金額有多少？
- (A) 200 元 (B) 1300 元 (C) 1500 元 (D) 5100 元
50. 有關表中房屋稅及所得稅的敘述，下列何者正確？
- (A) 兩者稅收皆由中央政府徵收
(B) 兩者稅收皆屬於財產稅
(C) 兩者稅收課徵皆採用受益原則
(D) 兩者稅收皆在每年 5 月申報及開徵

新北市立新莊國民中學 107 學年度第 1 學期第 2 次段考 8 年級社會領域試題

解答

1	2	3	4	5	6	7	8	9	10
D	D	A	B	D	A	D	B	B	A
11	12	13	14	15	16	17	18	19	20
B	B	B	D	D	C	B	A	D	C
21	22	23	24	25	26	27	28	29	30
B	D	C	A	B	C	D	A	B	A
31	32	33	34	35	36	37	38	39	40
D	B	C	D	A	C	D	C	A	A
41	42	43	44	45	46	47	48	49	50
C	A	D	C	B	B	A	C	C	D