

※ 選擇題：本試卷共 50 題，每題 2 分，總分為 100 分。

每一題均為單選題，請選出最適當答案。

※ 請用 2B 鉛筆在答案卡上相應的位置畫記。

1. 「……靖海將軍奉旨徂征臺灣，師次平海，地方苦旱，有井在天妃廟前之左，舊不能資百口，至是泉忽大湧，四萬餘眾汲之如裕，如是。及澎湖攻克，我師登岸，見妃像臉汗未乾，衣袍具溼，迺知神功之默佑也。奏聞，上遣禮部郎中雅虎致祭。」請問：上述因為天妃顯靈，保佑其攻臺順利，便將顯靈狀況上奏予何人？

(A) 順治皇帝 (B) 康熙皇帝
(C) 雍正皇帝 (D) 乾隆皇帝

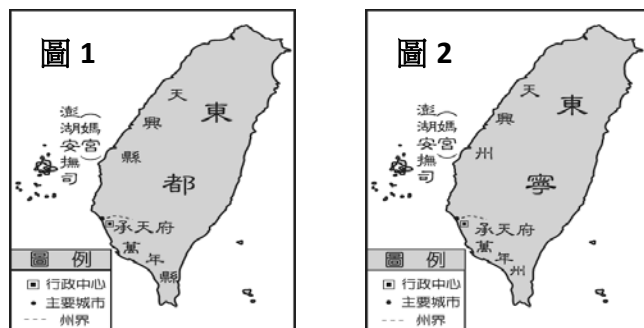
2. 史書記載：福建人何斌曾指一地是「沃野千里，足資根據，又橫絕大海，四通外國，耕種可以足食，興販可以足用，十年生聚，十年教訓，真霸主之區也。番民受紅夷凌辱，每欲反噬久矣，以公威臨之，即如使狼逐羊群也。」公遂誓師東征，攻陷紅夷所築之熱蘭遮城，結束三十八年在其地之殖民。請問：上述何斌所言，應該是對誰所說？

(A) 鄭芝龍 (B) 陳永華 (C) 鄭成功 (D) 鄭經

3. 本校一進校門川堂之後，向左有座人物塑像，上面刻有「萬世師表」四字，主要紀念漢人文化歷史上的第一聖人-孔子。請問：臺灣第一座與其有關的孔廟是建於哪一時期的哪一縣市？

(A) 鄭氏時期；台南市 (B) 荷治時期；高雄市
(C) 鄭氏時期；高雄市 (D) 荷治時期；台南市

4. 圖 1、圖 2 是鄭氏時期的臺灣行政區圖。請問：從圖 1 變成圖 2 的主要原因為何？



(A) 鄭克塽繼位 (B) 施琅攻臺
(C) 鄭成功逼退荷蘭人 (D) 鄭經繼位

5. 有一份臺灣史料記載：「鄭氏來臺灣經營，帶來很多士兵與眷屬，為了解決糧食問題而實施『寓兵於農』的屯墾制度，今天可以從臺灣南部地區的地名，看出當時屯墾的影子。」請問：下列哪一個地名與當時屯墾有關？

(A) 新北市新莊區 (B) 屏東縣車城鄉
(C) 高雄市前鎮區 (D) 彰化縣鹿港鎮

6. 清廷為了斷絕中國東南沿海居民對鄭氏家族的聯繫，採行「片板不許入海，粒貨不許越界」的海禁政策；但鄭氏仍以原有的海上優勢，突破清廷的經濟封鎖，與中國進行走私，也積極與週遭地區商人發展貿易，賺取豐厚利潤互換彼此所需。請問：下列何者並非當時鄭氏貿易往來的對象？

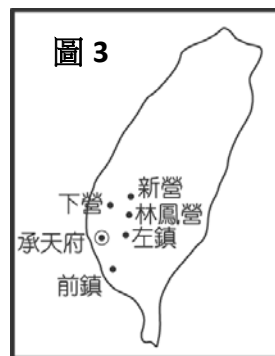
(A) 英國 (B) 法國 (C) 東南亞 (D) 日本

7. 以下資料是英國東印度公司與臺灣所簽訂的部分契約內容：「（一）英人所租用前荷蘭市廳舍作商館，年需付租金五百銀元。（二）英船入港時，將所有槍炮、火藥及其他武器交給國王，駛離時發還。（三）經常派駐兩名炮手為國王服務。」由上述契約內容提到「前荷蘭市廳舍」可知為鄭成功擊退荷人之後所簽訂，請問：當中所謂的「國王」應該指下列何人？

(A) 鄭經 (B) 康熙皇帝 (C) 沈光文 (D) 鄭克塽

8. 如附【圖 3】是鄭氏時期臺灣的行政區建置圖，請問圖中顯示之地名可以反映出下列何事？

(A) 指派文官在各地成立書院，注重教育，培養人才
(B) 成立郊商做為進出口地點
(C) 分派軍隊到各地開墾，解決糧食不足問題
(D) 管理漢人來台居住的地方行政單位



9. 清朝有位大臣上書皇帝：「中國東南形勢在海而不在陸。□□雖一島，實腹地數省之遮罩。棄之則不歸番，不歸賊，而必歸荷蘭。」針對此段上疏，請問當時皇帝最後決策為何？

(A) 此島實施海禁政策 (B) 將此島納入版圖之內
(C) 決定開始積極治理 (D) 鼓勵漢人往此島移民

10. 高寶在閱讀清領前期的臺灣歷史，發現了一個有趣的名詞-【羅漢腳】。請問：這個名詞的意思，應該是下列哪一個？

(A) 因為意外而失去雙腳的人
(B) 不管事的官員
(C) 不洗腳的人
(D) 單身而且沒有固定職業的遊民

11. 清領時期漢番關係：

【資料一】：「近日番女，多與漢人牽手，婚約禮文，略如漢制。」

【資料二】：「內地無賴多竄入番社為婿，所生兒為土生仔，常誘生番醉夜出，頗為民害。」

請問：根據上面兩項資料記載內容，與下列哪一句臺灣諺語所反映的社會現象雷同？

(A) 唐山過臺灣，心肝結歸丸
(B) 六死三留一回頭
(C) 一府二鹿三艋舺
(D) 有唐山公，無唐山媽

12. 如附【圖 4】為臺灣行政區劃圖。同學們討論：清代吳沙曾率眾到蛤仔難拓墾的事蹟。關於此地何時畫入行政區內之說法，請問哪一位才是正確的？



(A) 嘉慶時期設噶瑪蘭廳。
(B) 嘉慶時期併入淡水廳。
(C) 乾隆時期設宜蘭縣。
(D) 雍正時期設淡水廳。

13. 農業發展，需要仰賴穩定的水源灌溉，才能使荒地變良田。在清朝統治時期，臺灣的農墾可以迅速發展，要歸功於水利設施的建立。清代興建的水圳有：(甲)葫蘆墩圳(乙)八堡圳(丙)曹公圳(丁)瑠公圳。請由南而北的位置排列。

(A) 丙甲乙丁 (B) 甲乙丙丁
(C) 丙乙甲丁 (D) 甲丁乙丙

14. 高寶與小白下課時間在討論臺灣地名。

❖高寶：「現在臺灣還有許多地名，可以看出當年移民開墾的痕跡。」

❖小白：「沒錯！地名中有『股』、『份』等字的地方，如苗栗縣頭份市，就是漢人移民當年在當地開墾的結果。」

請問：他們應該是在討論臺灣史上哪一個時期？

(A) 鄭氏治台時期 (B) 荷蘭殖民南部時期
(C) 西班牙殖民北部時期 (D) 清領時期。

15. 在歷史課中，同學們在討論清代臺灣的郊商，根據討論的內容判斷，請問哪一位同學的說法正確？

(A) (B) (C) (D)

此為一種商業組織，在當時的重要市鎮中郊商林立。

由貿易地相同的商人所組成的有糖郊、布郊等。

由從事特定商品買賣的商人組成的有南郊、北郊等。

隨著臺灣人口增加，海外貿易日漸擴大，而興起從事海外貿易的商人。



16. 新竹縣北埔鄉有一個國家一級古蹟中，唯一的宅第類古蹟-「金廣福公館」。「金」是吉利發財之意；「廣」是指粵籍移民；「福」是指閩籍移民。請問：此古蹟代表著清領前期何種社會現象？

(A) 漢人移民都向原住民搶奪土地來開墾
(B) 漢人移民常用合資合股方式開墾土地
(C) 當時政府贈送土地鼓勵漢人移民來台
(D) 當時政府多向外國人借款來開墾土地

17. 右圖是爺爺正在告訴孫子關於臺灣早期的歷史。請問：爺爺所說的「一府二鹿三艋舺」這句話，反映出下列哪些意義？

(甲) 土地拓墾的順序
(乙) 商業發展的過程
(丙) 水利設施的興建
(丁) 貿易港口的發展

(A) 甲乙丁 (B) 乙丙丁 (C) 甲乙丙 (D) 甲丙丁



18. 臺灣的海岸類型依構成物質可分為：(甲)岬灣海岸 (乙)沙岸 (丙)斷層海岸 (丁)珊瑚礁海岸。若是由墾丁出發，沿西部海岸往北環島一圈，則依序會經過哪些海岸類型？

(A) 甲乙丁丙 (B) 丙丁乙甲
(C) 丁乙甲丙 (D) 丁乙丙甲

19. 以下的敘述中，有幾項是受到「內營力」作用所造成的？
(甲)立霧溪下切形成 V 字型的峽谷(乙)斷層作用造成筆直的清水斷崖(丙)火山作用形成鐘狀的紗帽山(丁)長期的雨水冲刷造成月世界的惡地地形(戊)板塊擠壓形成的海岸山脈。

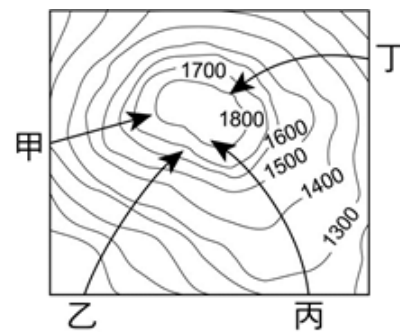
(A) 二項 (B) 三項 (C) 四項 (D) 五項

20. 莫拉克颱風橫掃台灣南部，造成不少損害，想要即時了解風災前後地貌的變化，下列哪種地形表示方式是最佳的選擇？

(A) 地形剖面圖 (B) 分層設色圖
(C) 等高線地形圖 (D) 航空照片

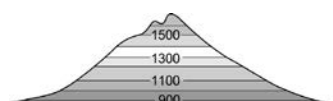
21. 根據附圖，甲、乙、丙、丁四條路線中，哪條路的坡度最緩？

(A) 甲
(B) 乙
(C) 丙
(D) 丁



22. 附圖為某地的等高線地形圖，若以地形剖面圖來表示，下列何圖是正確的？

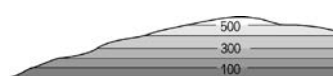
(A)




(B)



(C)

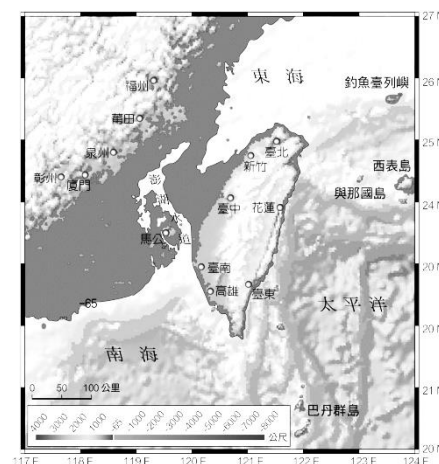


(D)



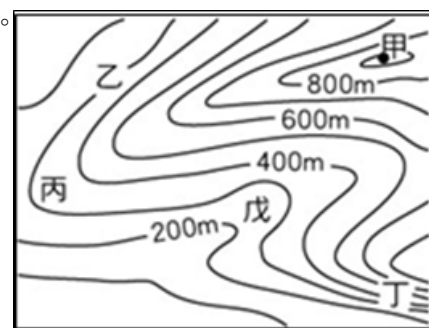
23. 附圖為冰河時期的臺灣，與大陸相連，生物可於兩地遷徙行動。冰河期過後海平面上升，臺灣海峽出現，才使臺灣成為島嶼。請問：這樣的海陸位置造成臺灣的自然生態有何特色？

(A) 過境候鳥多
(B) 島上演化出特有種
(C) 植物成垂直分布
(D) 海洋魚類物種豐富



24. 某個低緩坡地如附圖所示。根據這張等高線地形圖中的資料加以判斷，哪一個地區位於河谷中？

(A) 乙
(B) 丙
(C) 丁
(D) 戊

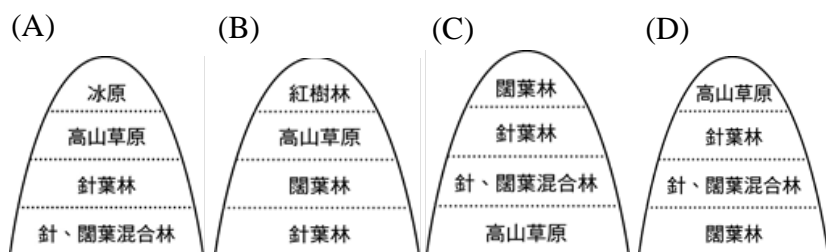


25. 世勛是林口工業區的小主管，公司派他前往高雄出差，路途中會經過的台地有甲—林口台地、乙—大肚台地、丙—桃園台地、丁—八卦台地，由北而南的**正確**排列組合為何？
 (A) 甲、乙、丙、丁 (B) 甲、丙、乙、丁
 (C) 甲、丙、丁、乙 (D) 甲、丁、丙、乙

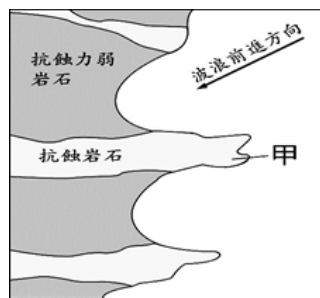
26. 附圖是某種島嶼的成因示意圖，請問下列何者是屬於這種類型的島嶼？
 (A) 蘭嶼
 (B) 東沙島
 (C) 澎湖群島
 (D) 馬祖列嶼



27. 臺灣山區天然植物景觀豐富。請問由平地至山區的植物分布變化，下列何者的順序是**正確**的？



28. 附圖為地理百科關於海岸類型的圖片。請問：圖中凸出海中的地形「甲」稱為什麼？
 (A) 岬角
 (B) 灣澳
 (C) 沙洲
 (D) 珊瑚礁



題組：附圖為台灣離島分布簡圖，回答 29 題至 30 題。

29. 『由戰役古蹟與傳統聚落所形成的地區，還有特產高粱酒、砲彈菜刀，地質上屬於大陸島，又是台灣國家公園之一』，想瞭解台灣文化，卻又不想花大錢的中國人，這裡必定是你最佳的選擇。這文章有可能是離島分布圖中哪一區的居民想出來的旅遊文宣？
 (A) 甲 (B) 乙 (C) 丙 (D) 戊



30. 台灣離島分布簡圖中的島嶼代號和名稱配對何者**正確**？
 (A) 丙—琉球嶼 (B) 丁—澎湖群島
 (C) 戊—龜山島 (D) 庚—綠島

題組：附圖為國家公園分布簡圖，回答 31 題至 33 題。

31. 國寶魚櫻花鉤吻鮭是冰河時期所遺留的魚類，這對於位處熱帶的臺灣來說，極具特殊的學術意義。若要目睹此種魚類可到哪座國家公園？
 (A) 丙 (B) 丁 (C) 戊 (D) 辛



32. 民國九十六年，政府設立了以保育該地特有的海洋生態景觀的國家公園，擁有全臺海域唯一發育完整的大型珊瑚環礁是哪座國家公園？
 (A) 甲 (B) 庚 (C) 辛 (D) 壬
33. 根據下方新聞報導內容可以得知此國家公園為何處？
 (A) 甲 (B) 己 (C) 庚 (D) 壬

自由時報 2014-10-18 15:56

今年 8 月公告成立台灣第 9 座國家公園，今天正式掛牌，未來將禁止部分漁業撈捕，並計畫按照專家建議，發展為魚類種源保育庫。

由東嶼坪嶼、西嶼坪嶼、東吉嶼、西吉嶼，及周邊數個島嶼礁岩組成，陸域面積約 370 公頃，約有 14.6 個大安森林公園大，海域面積 3 萬 5473 公頃，約 1.3 個台北市大小，因人煙稀少，居民不到 50 人。

此處漁業資源、周邊珊瑚覆蓋率達 5 成以上，還擁有獨特玄武岩地質景觀和稀有保育鳥類，加上人文史跡豐富的小漁村，經過專家學者多年奔走後，才終於列入國家公園。

34. 依據家庭的定義，下列屬於家庭的有幾項？甲：新婚夫妻安琪和土瀚 乙：房東淑晶和租屋房客美麗 丙：結拜的劉備、張飛、關公 丁：喪偶的藍天和他的養子大地
 (A) 4 (B) 3 (C) 2 (D) 1 項

題組：回答 35 題至 37 題。

卡通中可愛有點迷糊的小丸子似乎遺傳自十分疼愛他的爺爺，奶奶非常和藹可親，爸爸阿宏有一點小臭屁，小丸子有時會和家庭主婦的媽媽鬧鬧脾氣，小丸子有時喜歡模仿同校的姊妹，姊妹兩人有時也會鬥嘴，一家六口幸福平順地住在一起過日子……。

35. 依上文所提供的資料，小丸子家有哪些親屬關係？

甲：配偶 乙：直系血親 丙：旁系血親 丁：姻親

- (A) 甲乙丙 (B) 甲乙丁 (C) 甲丙丁 (D) 甲乙丙丁。

36. 承上文，有關小丸子家庭狀況的敘述，下列哪一項**正確**？

- (A) 缺點是父母年老時可能面臨安養照顧的問題
 (B) 是折衷家庭又叫做三代同鄉
 (C) 優點是家中幼年子女較可以得到照料
 (D) 家中事務由哪一代決定較不易造成困擾。

37. 相愛容易相處難。雙薪家庭桃子和果然新婚後，衝突似乎成了家常便飯。甲：果然回家後鞋襪隨意丟放 乙：吃完飯後，誰洗碗筷，誰洗衣 丙：果然下班後常和朋友喝幾杯應酬再回家 丁：桃子決定拿出所有積蓄，借好朋友還債，上述所發生的家庭衝突的類型屬於生活習慣和意見衝突的是哪幾項？

- (A) 甲乙 (B) 甲丙 (C) 乙丙 (D) 甲丁

題組：回答 38 題至 39 題。

靜雯結束上一段婚姻數年後，帶著女兒梧桐和杰楷再婚，共組新家庭，過了一段日子，靜雯又生下寶寶和 BO 妞，一家五口和樂融融，受到親友們很大的祝福…

38. 靜雯目前的家庭型態**不屬於**下列哪一種？

- (A) 重組家庭 (B) 小家庭
 (C) 頂客家庭 (D) 繼親家庭

新北市立新莊國民中學 107 學年度第 1 學期第 2 次段考 7 年級社會領域試題卷
 _____ 班 座號 _____ 姓名 _____

39. 承上文，有關靜雯和杰楷目前家庭狀況的敘述，哪一項正確？

- (A) 梧桐和咻咻是旁系血親
 (B) 靜雯和杰楷結婚所以兩人是姻親
 (C) 如果杰楷沒有辦理收養梧桐的手續，依民法而論杰楷和梧桐之間是直系血親關係
 (D) 杰楷若有辦理收養梧桐，依法兩人是姻親關係

40. 關於家庭暴力的敘述，下列哪一項錯誤？

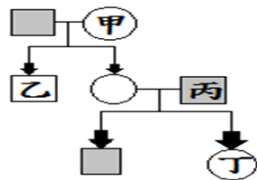
- (A) 家庭暴力的發生和學歷、性別無關
 (B) 家庭暴力防治法保障的家庭成員包括前配偶、現有或曾經有同居關係
 (C) 被害人可向警察局申請保護令，讓加害人遠離被害人生活
 (D) 受到家庭暴力的未成年子女可以依民法向地方法院來申請限制或剝奪父母的親權

41. 餐廳推出具有民法親屬關係的人共同前來聚餐便可享有特別優惠，下列哪一項可能無法享受到餐廳這一次的優惠活動？

- (A) 小玉的爸爸和小玉的姨丈
 (B) 小玉的媽媽和小玉的嬸嬸
 (C) 小玉的媽媽和小玉的奶奶
 (D) 小玉的外公、外婆和小玉的爺爺、奶奶

42. 附圖為小南的家庭示意圖，小南上公民課向學生提到親屬關係時，介紹自己與家中成員的關係皆為血親關係。

若以□代表男性，○代表女性，線段——代表婚姻關係，箭頭→代表親子關係，則小南最可能是圖中哪一個位置？

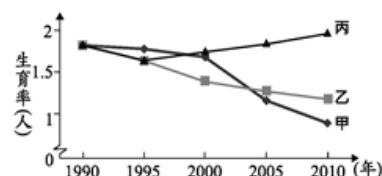


- (A) 甲 (B) 乙 (C) 丙 (D) 丁

43. 采薇夫婦年輕時收養了被棄養的小智，但成年後的小智遊手好閒不工作成了啃老族，甚至吸毒，經常要不到錢便出手毆打采薇夫婦。采薇夫婦不堪家暴，而且害怕小智會變本加厲傷害他們，想一勞永逸解決問題，終止彼此之間的關係，下列哪一項敘述正確？

- (A) 無法終結彼此間的關係
 (B) 依法向法院提出終止收養關係，完成法律程序即可
 (C) 只能終止法律上的關係，血緣關係斷不了
 (D) 只要公開登報表達終止的意願，彼此立即不再有關係

44. 右圖是甲、乙、丙三個國家關於人口的部分資料。依右圖內容顯示和我國目前情況，下列哪一項說明較正確？



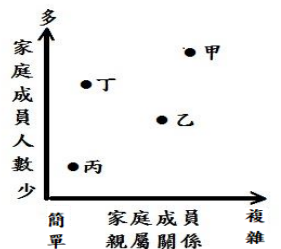
- (A) 丙國數值與甲、乙二國差距隨時間逐漸縮小
 (B) 我國現狀比較接近丙國，將來會加重未來年輕人扶養老人的負擔
 (C) 引進大量外籍移工對甲乙兩國數值提升較有直接的幫助
 (D) 丙國很可能施行了營造母、嬰親善環境並提供生育、養育幼兒補助津貼...等政策

45. 媒體報導：2054 年我國總人口數將跌破 2000 萬人，2022 年人口將負成長，我國人口於 2017 年死亡人口數首次高於出生人口數，政府官員及專家學者們都提出這已是國安問題了！大家一定得想方設法來解決該問題！面對該問題最可能採取下列哪一項作為？

- (A) 強化家庭生育功能 (B) 調查新興家庭型態
 (C) 宣導維繫家庭親密關係 (D) 防治家庭暴力問題

46. 下列哪一種家庭狀況最符合右圖中甲的位置？

- (A) 折衷家庭
 (B) 繼親家庭
 (C) 聯合家庭
 (D) 核心家庭



題組：回答 47 題至 48 題。

媒體報導：隨著社會變遷，家庭的功能也隨之改變，家長自己太忙而孩子太閒，與其在家看電視玩 3C，不如送去補習班補學科、學才藝或上運動課，既不會埋沒孩子的才華又有助於孩子的升學！社經地位越高者，多選擇將孩子送去補習，不論學科或才藝補習的結果，都有利於升學的推甄，這也反映出教育 M 型化...。

47. 文章最後提及社經地位越高者，多選擇將孩子送去補習，有利於升學推甄，也反映出教育 M 型化。造成這樣的結果主要是下列哪一項家庭功能可以充分發揮？

- (A) 生育功能 (B) 教育功能
 (C) 經濟功能 (D) 保護與照顧功能

48. 下列選項中有關於家庭功能的變遷那些是正確的？

甲：由生育多個小孩到少生、不生 乙：教育機構的普及和傳媒的發達取代了家庭全部的教育功能 丙：家庭的經濟功能由注重生產轉變為以消費為主 丁：托育及安養機構逐漸取代家庭對幼兒及老人的保護照顧功能

- (A) 甲乙丙 (B) 乙丙丁 (C) 甲丙丁 (D) 甲乙丙丁

49. 下面為西風的社會科報告內容，哪一部份出了錯誤？

甲、當一地區 65 歲以上人口佔總數比例 7%時，為高齡化社會，將來會加重未來年輕人扶養老人的負擔 乙、屆時個人、家庭或政府所面對的是老人的安養照顧問題 丙、政府應迫切的推動老人長期保險及各種長照政策，例如老人日照中心 丁、所有獨居老人必須和家人同住否則須強制進入安養中心，以免發生意外。

- (A) 甲 (B) 乙 (C) 丙 (D) 丁

50. 對於民法陸續修正後有關家庭平權的敘述，下列哪一項錯誤？

- (A) 子女姓氏由過去的從父姓修正為由父母共同協議
 (B) 夫妻離婚對於未成年子女的親權協議不成時，法院應依夫妻的經濟狀況做決定
 (C) 依性別工作平等法規定父或母之一方均可在子女未滿三歲前申請育嬰假
 (D) 幼時受到家暴遺棄的小孩對於日後出現請求扶養的父母，孩子可以向法院請求減輕或免除義務。

新北市立新莊國民中學 107 學年度第 1 學期第 2 次段考 7 年級社會領域試題

解答

1	2	3	4	5	6	7	8	9	10
B	C	A	D	C	B	A	C	B	D
11	12	13	14	15	16	17	18	19	20
D	A	C	D	A	B	A	C	B	D
21	22	23	24	25	26	27	28	29	30
C	B	B	D	B	D	D	A	B	D
31	32	33	34	35	36	37	38	39	40
A	B	D	C	D	C	B	C	A	C
41	42	43	44	45	46	47	48	49	50
D	D	B	D	A	C	C	C	D	B