

※ 選擇題：本試卷共 50 題，每題 2 分，總分為 100 分。
 每一題均為單選題，請選出最適當答案。
 ※ 請用 2B 鉛筆在答案卡上相應的位置畫記。

- 約兩千年前建立的古絲路，聯繫了東、西方的貿易往來，至今日更建立橫越了歐亞大陸的新絲路鐵路通道，請問由古絲路至新絲路主要通過的是中國的哪兩區？
 (ㄅ)河套平原區 (ㄅ)河西地塹區
 (ㄇ)青藏高原區 (ㄇ)新疆綠洲區
 (A)ㄅㄅ (B)ㄅㄇ (C)ㄇㄇ (D)ㄅㄇ
- 到新疆最誘惑人的是西域水果，民謠說：「吐魯番的葡萄哈密的瓜，庫爾勒的香梨人人誇，葉城的石榴頂呱呱」，還有石榴、白杏、無花果、甜瓜、伊犁蘋果等，水果乾則是饋贈好友的佳品，葡萄乾、瓜乾等廣受歡迎，請問新疆被喻為瓜果之鄉，瓜果香甜的原因為何？
 (A)有塞上江南的豐富水源灌溉(B)使用農業技術改良品種
 (C)沙漠地區日夜溫差大 (D)添加畜牧鮮奶施肥

- 西部地區人口分布與精華區因氣候限制，多分布於水源所在，請問下列各區的氣候條件、人口分布與使用水源何者是完全正確的？

地區	氣候	精華區	水源
(A)河西走廊	乾燥氣候	祁連山腳	雪水
(B)青藏高原	高地氣候	藏北高原	河水
(C)內蒙古	高地氣候	綠洲所在	雪水
(D)新疆	乾燥氣候	河套地區	河水

- 中國政府為提振西部經濟，執行了多項大型經濟計畫，請問下列敘述何者「錯誤」？
 (A)搭建青藏鐵路為西部提升觀光產值
 (B)在內蒙古發現大量石油，轉型石化工業
 (C)在青海利用強烈日照，推動太陽能發電計畫
 (D)設立喀什經濟特區與口岸城市，發展邊境貿易
- 青藏高原因地勢高聳被喻為「世界屋脊」，請問下列各地形區何者的成因與青藏高原是一樣的？
 (A)美國的洛磯山脈 (B)臺灣的太魯閣峽谷
 (C)中國的塔里木盆地 (D)印度的印度大平原

- 清真認證 (Halal Certification)
 標誌如右圖，在非伊斯蘭國家日益常見，此認證起源於伊斯蘭教法，針對穆斯林日常生活食用或碰觸身體的產品，必須符合伊斯蘭教義，即為「清真(HALAL)」，以避免穆斯林碰觸不潔之物。請問下列關於伊斯蘭教的相關敘述何者「錯誤」？



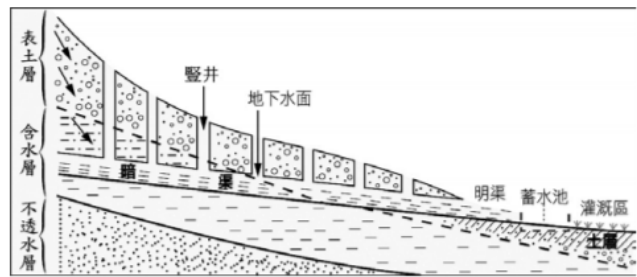
- 清真認證標誌以宗教起源地語言，阿拉伯文寫成
 (B)全球穆斯林一日內需對聖城麥加方向朝拜五次
 (C)中國的哈薩克族人與回族人多數為穆斯林
 (D)臺灣的清真認證餐廳可買到台式豬腳飯

- 各地為因應環境差異，而出現地方風俗與特色文化，下列有三種特色建築，請依據高溫濕熱氣候、乾燥少雨氣候與高緯低溫氣候的順序，找出排序為何？



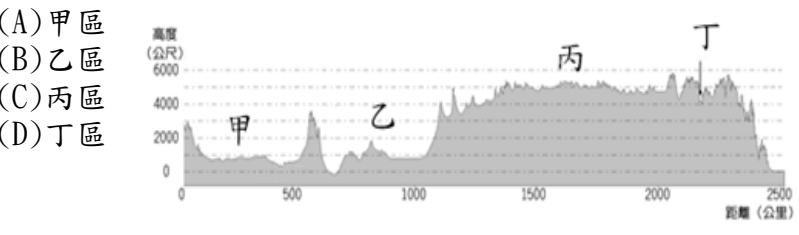
- 甲 乙 丙
 (A)甲乙丙 (B)乙甲丙 (C)丙乙甲 (D)丙甲乙

- 下圖為號稱為地下運河的坎兒井灌溉設施，請問下列有關敘述何者「錯誤」？



- (A)以天山山麓的吐魯番窪地坎兒井系統最為發達
 (B)西套平原使用坎兒井設施灌溉稻米，成為塞上江南
 (C)為避免太陽直射，減少水源蒸發，而建立地下河道引水
 (D)維吾爾族人多居於綠洲，以坎兒井引用高山夏季融雪發展農業

- 承上題，右圖為中國西部由新疆沿南北向延伸至青藏地區的地形剖面圖，請問坎兒井灌溉設施主要分布於右圖中何處？



題組：
 下圖為中國西部地區分布圖，請依圖中代號回答第 10~12 題

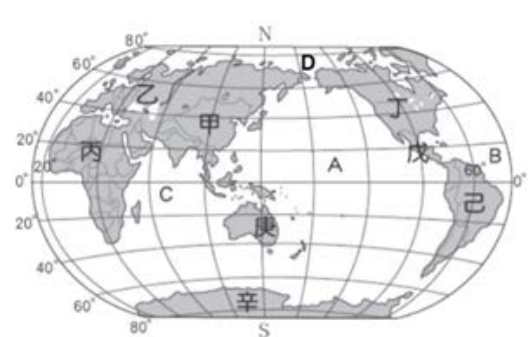


- 行腳節目體驗了中國少數民族的畜牧生活，請問下列各區的經驗描述何者「有誤」？
 (A)乙區的蒙古部落酋長帶著主持人在草原地騎馬、夜宿蒙古包觀賞銀河
 (B)丁區的沙漠民眾讓主持人騎著飼養的駱駝，參觀了敦煌的莫高窟藝術
 (C)戊區的哈薩克族婦女於崑崙山山麓的夏季牧場，烹煮酸奶招待主持人
 (D)庚區的藏民孩童領著主持人一起體驗為犏牛擠奶，並製作酥油茶享用
- 主持人在整個體驗行程中，最喜歡的時刻是「在日光城布達拉宮晨光下，邊觀賞江水邊一片綠油油且亮澄澄的青稞田，搭以當地民眾晨起轉轉經輪、誦讚佛法的靜謐景象，並享用著傳統美食糌粑與青稞餅的悠閒時光，真是歲月靜好呀！」請問此地最可能在圖中哪一區？
 (A)甲區 (B)丙區 (C)庚區 (D)辛區

班級： 座號： 姓名：

12. 當節目團隊由西寧搭乘青藏鐵路火車移動至鐵路終點——拉薩的過程中，發生許多特殊的事件，請問下列情境「並非」其團隊可能遇到的狀況？
- (A) 簡介上介紹穿越已區沙漠，是建造青藏鐵路最困難的事
- (B) 在壬區上車的返鄉民眾，多數穿著多層次、洋蔥狀的衣袍
- (C) 行經庚區時，看到窗外出現當地特有種藏羚羊奔騰經過遠方
- (D) 抵達辛區拉薩時，工作人員紛紛出現頭痛、嘔吐等身體不適症狀

題組：下圖為世界海陸分布圖，A~D 為海洋，甲~辛為各大洲，請依據圖中代號回答第 13~16 題



13. 中央氣象局發布預報：「太平洋近赤道處已形成一熱帶低氣壓系統，現以時速 20km/hr 往西北西方靠近臺灣，極可能成為今年襲臺第一號颱風，氣象局正密切觀測中，請臺灣民眾提前做好防颱準備。」請問侵襲臺灣的颱風多在圖中何處海域形成的？
- (A) A (B) B (C) C (D) D
14. 每到年末 12 月 25 日聖誕節，世界各地紛紛舉辦大型活動，小朋友們更引頸期盼聖誕老公公贈送聖誕禮物，請參照右圖景象，並依據當地氣候環境考量，請問穿著泳褲在海邊過節的聖誕老公公較可能出現在圖中那些地區？
- (A) 甲、乙 (B) 丁、辛 (C) 丁、庚 (D) 己、庚
15. 太空人出任務，由太空觀看地球，可見人口密集且經濟活絡的地方在夜間依然燈火璀璨，星光點點。請問在夜間由太空俯視地球，難以見到燈光亮點的是圖中何處？
- (A) 甲的東邊 (B) 乙的西邊 (C) 丁的東邊 (D) 辛的南邊



16. 世界地大物博，擁有多樣化的自然與人文特色，請問下列敘述何者「錯誤」？
- (A) 甲區印度人因牛為濕婆神座騎而視為神獸
- (B) 水半球中心紐西蘭，位於庚區，乃一環海島國
- (C) 丙區擁有多樣性的氣候，兼具熱、溫、寒帶氣候
- (D) 海洋明顯大於陸地，海洋大小排序應為 A>B>C>D
17. 阿赫與小理是一對非常相愛的戀人，他們倆決定要結婚成為夫妻；依照我國民法的規定，以下共有幾項是結婚要件？(甲)未成年者符合法定結婚年齡，仍須法定代理人同意(乙)要先訂婚才能辦理結婚(丙)需有公開儀式與二人證人之簽名(丁)雙方當事人向法院辦理登記
- (A) 一項 (B) 兩項 (C) 三項 (D) 四項

18. 新聞報導：「某位曾姓男子以『氣喘發作』為由叫救護車，醫護人員趕到現場，當事人卻說是要坐救護車到距離 200 公尺的醫院拿藥，儼然把救護車當成計程車，濫用醫療資源。」依據緊急醫療救護法，相關單位對該男子開罰 1,800 元；請問：依照法律責任的處罰類型，下列何者與上述不同？
- (A) 所得稅納稅義務人未依限繳納稅款，開罰 15,000 元
- (B) 散布或傳述足以毀損他人名譽之事，開罰 15,000 元
- (C) 夜間便利商店的門鈴聲干擾居民，開罰 30,000 元
- (D) 爸媽限制或妨礙孩子受國民教育，開罰 30,000 元

19. 年滿 20 歲且受監護宣告的湯姆與年滿 20 歲且被褫奪公權的傑利，下表為關於兩人的比較，何者正確？

	湯姆	傑利
(甲) 資格原由	違反刑法	違反行政法規
(乙) 選舉投票權	無	有
(丙) 宣告機關	法院	行政機關
(丁) 行為能力	無行為能力	完全行為能力

(A) 甲丙 (B) 甲丁 (C) 乙丙 (D) 乙丁

20. 民法是以保護私人利益為目的，國家不會任意的介入干涉；但是，若個人不法侵害他人權利或不履行義務時，就需負起民事責任。下列行為中有幾項是屬於民法規範的侵權行為？

- (甲) 不小心摔壞同學的手機
- (乙) 未按時繳納銀行貸款
- (丙) 打球時，未留意而打破他人的車窗
- (丁) 店內濕滑，造成顧客跌倒受傷
- (A) 一項 (B) 兩項 (C) 三項 (D) 四項

21. 右圖是小賴在開車時看到的一則交通標誌；請問若有民眾違反此規定的處罰與下列何者所須負擔的法律責任相同？



- (甲) 未按照規定繳納所得稅
- (乙) 未配合居家隔離在外趴趴走
- (丙) 故意毀損破壞他人汽車
- (丁) 散播不實謠言誹謗他人
- (A) 甲乙 (B) 甲丙 (C) 乙丁 (D) 丙丁

22. 六名新加坡遊客到士林夜市遊玩，在一間餐廳點了牛肉麵及小籠包，在未知價格的狀況下又加點了七杯西瓜汁，結帳時發現一杯西瓜汁單價竟然就要 250 元，是市價的 10 倍，讓遊客咋舌。雙方爭執後店家堅持不退費，因此遊客找上消保官申訴，該店家也因網友抵制而關門大吉。

上述新聞報導中的餐廳已違反民法的哪一項原則？

- (A) 契約自由原則
- (B) 誠實信用原則
- (C) 權利濫用禁止原則
- (D) 消滅時效原則

23. 下表為「罰金」及「罰鍰」的比較，下列何者正確？

選項	罰金	罰鍰
A. 目的	補償給受害者	繳交給政府
B. 行使機關	法院宣告	法院宣告
C. 金額高低	較高	較低
D. 舉例	髒話罵人	無照駕駛

班級： 座號： 姓名：

24. 下列何者是同時具有「完全行為能力人」與「完全責任能力人」兩種身分？
 (A)17 歲在就讀高中的迪西 (B)18 歲已依法結婚的拉拉
 (C)19 歲身心健康的堪吉 (D)20 歲受監護宣告的美芽
25. 國家會以刑罰來制裁犯罪行為人，下列為四位犯罪者的判決內容，何者符合刑罰的主刑與從刑之規定？
 (甲) 阿成因觸犯公共危險罪，處以無期徒刑
 (乙) 小豪因觸犯妨害性自主罪，處以十年有期徒刑
 (丙) 阿嘉因觸犯瀆職罪，處以褫奪公權八年
 (丁) 小岑因觸犯賭博罪，處以罰金三萬元。
 (A)甲乙丙 (B)甲乙丁 (C)甲丙丁 (D)乙丙丁
26. 14 歲的國中八年級學生阿瀚在學校與同學起口角、發肢體衝突，氣憤地將同學打傷，依據刑法的規定，其責任能力與下列何者相同？
 (甲)17 歲的阿頂盜取他人線上的遊戲寶物
 (乙)18 歲的欣欣幫忙朋友藏放贓物
 (丙)25 歲的瘡啞人小健騎腳踏車撞傷行人
 (丁)82 歲的老王搶奪路人的皮包
 (A)甲乙丙 (B)甲乙丁 (C)甲丙丁 (D)乙丙丁
27. 公園裡幾位好友在聊天，請將下列對話內容以民法規範的關係進行分類，選出何者與其他三者不同？
 (A)張老伯：天氣好熱，我來買冰涼飲料請大家喝
 (B)王大媽：好煩喔，鄰居之前跟我借錢一直沒還
 (C)李大嬸：真難過，家裡為了先生的遺產繼承吵翻天
 (D)吳叔叔：不能再拖了，這個月我一定要準時繳房租
28. 關於「行政處分」的敘述，下列共有幾項是正確的？
 (甲)行政處分是由行政機關做出的單方面行政行為
 (乙)行政處分包括駁回民眾更改名字的申請、徵收人民土地
 (丙)行政處分可能是對人民的處罰或是帶來利益的結果
 (丁)人民不服行政處分時，可依法先行提出訴訟
 (A)一項(B)兩項(C)三項(D)四項
29. 老劉在 109 年 2 月 1 日過世，身邊好友經過千辛萬苦終於在 109 年 4 月 1 日尋獲並告知他的兒子小劉為其繼承人。下表是老劉的遺產清單，若小劉選擇限定繼承，他應該用自己原有的財產償還多少元的負債？
- | 老劉的遺產清單 | |
|--------------|------------|
| 房屋價值 1,500 萬 | 車子價值 100 萬 |
| 存款 100 萬 | 負債 2,000 萬 |
- (A)2000 萬元 (B)1700 萬元 (C)300 萬元 (D)0 元
30. 承上題，若小劉後來決定選擇拋棄繼承，他必須在什麼時候之前向法院提出聲請？
 (A)109 年 5 月 1 日
 (B)109 年 6 月 1 日
 (C)109 年 7 月 1 日
 (D)109 年 8 月 1 日
31. 依據我國法律規定，就以下四名女生聊天的內容，由低至高排列出其目前年齡的順序。
芳茹：我今年開始是限制責任人，更要遵守法律的規定。
秀雅：我明年開始可以行使參政權中的公民投票。
恩淑：我明年開始就不需父母同意就可和房東簽約。
美姬：我明年就達到可以和男友結婚的年齡了。
 (A)秀雅、芳茹、恩淑、美姬(B)芳茹、美姬、秀雅、恩淑
 (C)美姬、恩淑、芳茹、秀雅(D)恩淑、秀雅、美姬、芳茹

32. 依據刑法規定，行為必須具有違法性才符合犯罪行為，但某些行為例外的法律所允許，而不加以處罰；下列何者不屬於此種例外的情況？
 (A)下豪雨的夜晚，因為視線不佳，不慎撞傷機車騎士
 (B)發生搶案時，為保護自己而搶奪歹徒的刀，造成對方受傷
 (C)醫生基於醫療需要，緊急為病人進行截肢手術
 (D)社區發生火災，打破鄰居家的窗戶緊急逃生
33. 台南市社會局進行稽查行動，發現北區某家托嬰中心違反收托比，另有 1 人竟然還冒名頂替合格人員的身分；社會局認為業者違反兒童及少年福利與權益保障法，判定屬情節嚴重，立即依法勒令停業半年。根據上述內容判斷，該業者的受罰種類與下列何者相同？
 (A)拘留 (B)罰金 (C)有期徒刑 (D)損害賠償

【題組】

34. 車銀優想參加以史蹟旅遊聞名的星辰旅行社所舉辦的行程。請根據以下描述的歷史事件發生地點(使用地圖中的代號)排列出車銀優的行程順序。第一天:此地乃清末保路運動最激烈的省份,第二天:此地乃是袁世凱就任第二任臨時大總統的城市, 第三天:此地乃是結束袁世凱稱帝的護國軍起義的地方。
 (A)丁-辛-丙 (B)己-辛-丁 (C)丙-辛-甲 (D)丙-乙-丁



35. 承上題，星辰旅行社規劃了下列地區的深度之旅並設計出一張宣傳廣告單，因價格實惠非常受到歡迎。請問:根據宣傳單上的描述此旅行團是要前往下列何處(請根據上圖的代號回答)?
 (A)乙 (B)庚 (C)辛 (D)己

00 深度之旅七日遊!!

破盤價:23000 元

- 此地乃六朝古都，風光明媚，歷史悠久
- 歷來有龍蟠虎踞石頭城之稱
- 是中華民國建立也是第一任臨時大總統的就職地

36. 星辰旅行社有一款長賣型的深度之旅行程，因行程豐富，充滿異國風情而大受歡迎。真祐無意中拿到此行程的宣傳單，宣傳單上的內容如下:歷史的饗宴--○○之旅 1. 甲午戰後此地成為某國的勢力範圍, 2. 第一次世界大戰時有外國進攻此處, 3. 這裡是清末義和團的起源地, 4. 五四運動就是因為此地的歸屬問題而引起。請問:這宣傳單上的○○及某國分別指的是誰？
 (A)福建, 日本(B)山東, 日本(C)東北, 俄國(D)山東, 德國

班級： 座號： 姓名：

37. 崔珉豪是今年在金馬獎嶄露頭角的一位新銳導演，因為他今年以電影【國父傳—孫中山】得到了最佳新人導演獎。對岸衝著他的名氣邀請他去拍攝最新宮廷劇【戲說慈禧】，為了不偏離史實，在編寫此劇的劇情時他應該將以下哪些劇情按順序編入劇中？（甲）慈禧發動戊戌政變，奪回政權（乙）慈禧成立責任內閣，卻被批評為「皇族內閣」（丙）慈禧向各國宣戰，引發八國聯軍（丁）慈禧推動庚子後新政
(A) 甲丙丁 (B) 甲丁丙 (C) 甲丙乙 (D) 甲丁乙

38. 民國初年將被毀棄的臨時約法恢復的人有誰？
(A) 袁世凱，段祺瑞 (B) 黎元洪，曹錕
(C) 黎元洪，段祺瑞 (D) 段祺瑞，曹錕



39. 請根據上圖回答：以上哪兩場戰爭（外力的刺激）分別造成「外國公使入駐北京」及「外國軍隊得以駐兵中國境內」的結果？
(A) 丁、甲 (B) 丙、乙 (C) 丁、乙 (D) 丙、甲
40. 文彬翻閱日曆想記錄重要日期時，特別注意到下列這張日曆，爺爺告訴他這些節日的由來都有其歷史故事。請問：圖中的節日如依歷史背景事件發生時間排序，先後順序正確者為何？
(A) 乙丙甲 (B) 甲乙丙 (C) 乙甲丙 (D) 丙乙甲。



41. 在不同的時空背景下，因為不同的事件會產生各式各樣有特色的口號，請問：以下事件與口號的對照，何者「錯誤」？
(A) 同盟會—驅除韃虜，恢復中華，創立民國，平均地權
(B) 義和團—反清復明
(C) 五四運動—外爭主權，內除國賊
(D) 新文化運動—不用文言，多用白話；提倡民主和科學
42. 清末民初，通商口岸是引進西方文明的主要窗口。請問：住在上海的產賀是清末民初當時的新知識份子，他「不可能會有下列何種生活經驗」？
(A) 產賀的生活非常舒適，已有自來水、電話、電燈等設施可以使用
(B) 產賀在新式女子學堂教書，很受女同學景仰
(C) 產賀的朋友大多剪下辮子，脫下長袍馬褂，穿起西裝
(D) 當時社會風氣保守，絕對不可以自由戀愛，產賀的婚姻必須遵守「父母之命、媒妁之言」

43. 「袁世凱暗殺元勳，弁髦（輕忽漠視）約法，擅借巨款……近復盛署興師，蹂躪贛省，以兵威劫天下，視吾民若寇讎，實屬有負國民之委託，我國民宜亟起自衛，與天下共擊之。」請問：上述文字的內容，是在呼籲國民從事哪一項行動？
(A) 雲南起義 (B) 二次革命 (C) 討伐復辟 (D) 辛亥革命。

44. 嘉爾前往國民黨黨史館參訪，他發現國民黨的名稱屢次改變（如附圖），其中在 1914 年時改名為中華革命黨的原因為何？

興中會	同盟會	國民黨	中華革命黨	中國國民黨
-----	-----	-----	-------	-------

- (A) 討伐袁世凱 (B) 對付段祺瑞
(C) 追悼孫中山逝世 (D) 推翻滿清勢力

45. 為了維護民國初年的民主共和體制，曾經出現過幾次討伐行動。下列有關討伐行動與被討伐者的配對何者「正確」？
(A) 辛亥革命—溥儀復辟
(B) 二次革命—段祺瑞毀棄約法
(C) 護法運動—曹錕賄選
(D) 護國軍起義—洪憲帝制

46. 『余不才，忝居政界數十年，向持穩健主義……顧中華民國者，四萬萬人之中華民國也。兄弟睦則家之肥，全國之人同心同德，則國必興。余以此祝我中華民國焉。』《中華民國第一任正式大總統宣言》請問：以上宣言應該是出自何人之口？
(A) 孫中山 (B) 袁世凱 (C) 黎元洪 (D) 曹錕

47. 下列何者不是八國聯軍帶來的相關事件或影響？
(A) 東南互保辦法的簽訂
(B) 庚子後新政的推展
(C) 巴黎和約的簽訂
(D) 造成北京門戶洞開，國防安全受到威脅

48. 『凡事總須研究，才會明白。古來時常吃人，我也還記得，可是不甚清楚。我翻開歷史一查，這歷史沒有年代，歪歪斜斜的每頁上都寫著“仁義道德”幾個字。我橫豎睡不著，仔細看了半夜，才從字縫裡看出字來，滿本都寫著兩個字是“吃人”！…。』以上內容被刊登在《新青年》雜誌中，請問：此作品的作者應該是誰？
(A) 魯迅 (B) 宋教仁 (C) 康有為 (D) 孫中山

49. 『現在日本在萬國和會要求併吞青島，管理山東一切權利，就要成功了！他們的外交大勝利了，我們的外交大失敗了！山東大勢一去，就是破壞中國的領土！……外爭主權，內除國賊，中國存亡，就在此一舉了！今與全國同胞立兩個信條道：中國的土地可以征服而不可以斷送！中國的人民可以殺戮而不可以低頭！國亡了！同胞起來呀！』《北京學界全體宣言》請問：此文章可能公布於何時？
(A) 庚子後新政 (B) 五四運動 (C) 義和團事變 (D) 辛亥革命

50. 下列因果關係何者錯誤？
(A) 巴黎和會對中國不公平→新文化運動
(B) 鐵路國有政策→四川保路運動
(C) 宋教仁被暗殺→二次革命
(D) 段祺瑞不遵守臨時約法→護法運動

新北市立新莊國民中學 108 學年度第 2 學期第 2 次段考 8 年級社會領域試題
解答

1	2	3	4	5	6	7	8	9	10
B	C	A	B	A	D	C	B	B	C
11	12	13	14	15	16	17	18	19	20
D	A	A	D	D	C	A	B	D	C
21	22	23	24	25	26	27	28	29	30
A	B	D	B	B	C	C	C	D	C
31	32	33	34	35	36	37	38	39	40
B	A	A	D	C	D	A	B	C	A
41	42	43	44	45	46	47	48	49	50
B	D	B	A	D	B	C	A	B	A

