

※ 選擇題：本試卷共 50 題，每題 2 分，總分為 100 分。

每一題均為單選題，請選出最適當答案。

※ 請用 2B 鉛筆在答案卡上相應的位置畫記。

- 下列何處屬古老陸塊，蘊藏豐富礦產？  
(A)洛磯山脈 (B)安地斯山脈  
(C)阿帕拉契山脈 (D)中美地峽
- 美國知名賭城拉斯維加斯距離海洋不算遙遠，但當地為沙漠氣候，原因為何？  
(A)位於東南信風背風側 (B)山脈阻擋西風  
(C)寒流流經 (D)暖流流經
- 美國東南部的邁阿密為夏雨型暖溫帶氣候，該氣候的降水與何因素最相關？  
(A)冷鋒 (B)季風  
(C)西風 (D)信風
- 下列城市中，何者位於板塊接觸帶，發生地震的機率最高？  
(A)洛杉磯 (B)紐約 (C)華盛頓 (D)芝加哥
- 參考附圖，何處被龍捲風侵襲的機率最高？  
(A)① (B)②  
(C)③ (D)④
- 美國的族群比例以歐洲裔白人為最高，第二高的族群為？  
(A)美洲原住民族 (B)亞裔  
(C)非裔黑人 (D)拉丁美洲裔
- 關於北美洲農業經營方式的特色，下列敘述何者錯誤？  
(A)高度機械化 (B)自給自足  
(C)耕作面積廣大 (D)總產量高
- 學校的營養午餐有時會提供進口的葡萄，原產地最可能為何處？  
(A)美國西南部 (B)美國西北部  
(C)美國東南部 (D)美國東北部
- 中南美洲許多城市位於海拔較高的地區，其原因為？  
(A)礦產豐富 (B)水源充足 (C)交通方便 (D)氣候涼爽
- 若想欣賞峽灣景觀，應該前往中南美洲的何國？  
(A)巴西 (B)智利 (C)墨西哥 (D)秘魯
- 位於赤道附近的安地斯山區土地利用方式呈現垂直分布，農作物與畜牧業包含①駱馬牧場②馬鈴薯③咖啡④小麥，海拔由低到高排列依序為？  
(A)①③②④ (B)①③④②  
(C)③④②① (D)④③①②
- 下列何者不是中南美洲城鄉發展的狀況？  
(A)都市化程度低 (B)鄉村地區基礎建設不足  
(C)土地掌握在大地主手中 (D)都市貧民窟環境不佳
- 以下何海運航線以經過巴拿馬運河較省時？  
(A)上海-孟買  
(B)高雄-紐約  
(C)東京-舊金山  
(D)里斯本-里約



【第 14 至 16 題為題組】參考附圖，回答第 14-16 題：


- 何處的氣候類型與美國西北部沿海地區相同？  
(A)戊 (B)己  
(C)庚 (D)辛
- 何處的氣候類型與南歐相同？  
(A)丁 (B)戊  
(C)庚 (D)辛
- 何處為有「地球之肺」之稱的亞馬孫盆地？  
(A)甲 (B)乙  
(C)丙 (D)丁
- 小文在網路商店特別依好友本人樣貌訂製一個人物公仔要送給好友，但收到商品後覺得不甚滿意。請問：下列何種說法較為適當？  
(A)只要是網購商品，皆有七天的猶豫期  
(B)依民法規定，東西無瑕疵，不能退換貨  
(C)依消費者保護法，此狀況為七天猶豫期的例外，無法退換貨  
(D)依誠實信用原則，店家應滿足消費者需求
- 我國於 2021 年開放美國豬肉進口，但是除了養豬戶不支持這項政策外，也引起部分消費者反彈的聲浪。有關政府的政策與因應之道，下列何者錯誤？  
(A)開放豬肉進口，會增加我國貿易收入  
(B)政府須確保公平競爭，提升本國產品競爭力  
(C)政府須要求進口商品清楚標示，完善法規確保食品安全  
(D)透過開放政策，建立互惠的國際貿易關係
- 「一日之所需，百工斯為備」無法驗證於下列何項說明？  
(A)個人從事機會成本較低的事務為自己及社會帶來好處  
(B)凡事自給自足能提升品質及效率  
(C)個人時間和能力有限，無法滿足所有日常所需  
(D)專業化分工再進行交易為生活帶來好處
- 經濟部國際貿易署統計今年九月主要出口貨品，以積體電路為最大宗，占 39.2%。積體電路可應用於智慧型手機、平板電腦、人工智慧、汽車電子的自動駕駛...。就出口的統計資料判斷，下列何者正確？  
(A)我國可以決定積體電路的價格  
(B)出口積體電路只有商品本身的生產成本  
(C)出口積體電路，本國資金會流向他國  
(D)我國在積體電路上具競爭優勢
- 公平交易委員會於今年通過台灣大哥大與台灣之星合併案。公平會表示電信產業具有高技術、高資本特性，透過結合進行資源整併，雖可改善經營效率及提升競爭力，但繼遠傳與亞太電信合併後，此合併案仍有市場集中度提高、價格上升的疑慮。  
公平會在綜合分析後，決議不禁止本結合案。認為此兩家業者整併有助於促進 5G 應用服務發展，減少機房、基站重複建置，落實節能減碳。整體經濟利益大於限制競爭之不利利益，但對於台灣大哥大仍是有附加負擔條件通過。  
請問：根據上述，公平會對於台台併的回應和理由為何？  
(A)接受，市占率不高不會影響市場競爭  
(B)接受，有助於整體經濟利益  
(C)不接受，市場集中度提高、有價格上升的疑慮  
(D)不接受，嚴重影響消費者權益
- 新聞報導：新北市消保官稽查 45 家桶裝瓦斯業者，發現有業者違規偷斤減兩，將 20 公斤裝的瓦斯桶少裝 820 公



克，消保官要求限期改善，否則開罰。請問：上述新聞案例所依據的法律為下列何者？

- (A)公平交易法 (B)消費者保護法  
(C)商品標示法 (D)食品安全衛生管理法

【第 28 至 29 題為題組】



28. 請問：依據上圖所示，最能呈現出下列何種概念？  
(A)全球貿易的經濟壟斷  
(B)價格競爭的行銷策略  
(C)跨國企業的國際分工  
(D)交通運輸的暢行無阻
29. 承上題，關於上述概念的最佳說明應為下列何者？  
(A)產品研發與設計會在開發中國家進行  
(B)將不同階段的生產活動分散在不同地區是為了增加銷售收入  
(C)在人才較多的國家從事大規模的生產製造  
(D)跨國企業為降低生產成本而選擇到海外設廠

【第 30 至 31 題為題組】

就讀九年級的阿誠聽見剛參加完國小畢業旅行回來的妹妹抱怨：「遊樂區的食物都好貴喔！跟夜市相同份量、口味差不多的鹹酥雞卻貴 20 元，跟便利商店一樣的飲料在遊樂區也貴 5 元。我的零用錢都快見底了！」才上完經濟課程的阿誠急忙為妹妹解釋。

30. 根據上述內容，阿誠的解釋應為下列何者較為正確？  
(A)遊樂區內品質及服務較好，故價格較高  
(B)遊樂區內的商店競爭程度高，故價格較高  
(C)遊樂區內的商店競爭程度低，消費者較缺乏選擇  
(D)全台灣遊樂區內的商品是所有遊樂區統一定價的
31. 請問：遊樂區內商品價格的形成與下列何者相似？  
(A)全民健康保險的費用  
(B)公費流感疫苗價格  
(C)航空公司的票價  
(D)參加國中教育會考報名費用

【第 32 至 33 題為題組】

根據新聞報導：

臺灣兩家電信業者台灣大哥大及中華電信，在 2018 年 10 月聯合取消通話費優惠。(甲)主管機關掌握兩大業者的高階主管，對於優惠方案取消有互通訊息，因此認定構成聯合行為。故分別處以中華電信 4000 萬元，台灣大哥大 3600 萬元(乙)罰款。

32. 根據上述，請問：(甲)(乙)的正確答案依序應為下列何者？  
(A)公平交易委員會，罰金  
(B)公平交易委員會，罰鍰  
(C)消費者保護處，罰金  
(D)消費者保護處，罰鍰
33. 請問：主管機關依法開罰的目的應為下列何者？  
(A)保障廠商與消費者競爭關係  
(B)保障廠商之間的合作關係  
(C)要求廠商建立企業形象，善盡社會責任  
(D)維護交易秩序與消費者權益

請繼續作答下一張試題

【第 23 至 25 題為題組】

摘錄自某商業周刊報導：

標題：蝦皮一年瓜分兩億個包裹 超商打物流、人流保衛戰

蝦皮線上購物平台近兩年推出可到店取貨，拉走了許多原本在便利商店取貨的消費者。兩大超商近期也推出線上開店搶攻客源。週刊整理兩超商線上平台與蝦皮優劣勢如下：

線上開店平台	相比蝦皮優勢	相比蝦皮劣勢
全家/好賣+	●可取件店數超過 4000 家 ●有多溫層物流服務 ●經常性提供更低優惠運費；免交易手續費	●商品數相對少 ●線上流量相對小
統一超/賣貨便	●可取件店數超過 6800 家 ●有多溫層物流服務 ●經常性提供更低優惠運費；免交易手續費	●平台功能相對陽春

註：多溫層物流是指依據貨品特性提供不同溫度的物流服務，有利貨品保存。

23. 請問：上文中進行交易的市場最主要為下列何者？  
(甲)有形市場(乙)無形市場(丙)商品市場(丁)勞動市場。  
(A)甲丙 (B)甲丁 (C)乙丙 (D)乙丁
24. 根據上文內容，下列何者正確？  
(A)全家/好賣+與統一超/賣貨便採取的策略只有價格競爭  
(B)薄利多銷是上述三家業者共同採取的策略  
(C)蝦皮占有取件店數多和商品數較多的優勢  
(D)全家與統一超投入線上開店，打開不同通路吸引消費者
25. 台灣的購物網站除了蝦皮，依大數據分析尚有 MOMO、淘寶、PChome、博客來共五大家超人氣購物平台。由此可知，網路購物的市場呈現出什麼樣的狀況？  
(A)廠商多，市場競爭程度高  
(B)對手少，市場競爭程度低  
(C)成本高，市場競爭程度低  
(D)廠商多，消費者選擇機會少

【第 26 至 27 題為題組】

根據新聞報導摘錄：

中華民國全國商業總會於今年 11 月初頒發等同於「奧司卡獎」的「金商獎」。

「優良外商」獲獎企業之一的美商亞洲美樂家用心耕耘臺灣市場，且投入環境永續、熱心公益以及關懷偏鄉地區等多項社會活動。

「優良商人」獎項今年的獲獎得主，除為台灣進出口創造出佳績，獲獎的製造業公司投入綠色循環製程或研發環保產品，為我企業永續發展樹立標竿典範。

「菁英老店」得獎企業，重視產品多元創新，著重員工培訓與成長，為老店注入新活力。

各家得獎企業在各自專業領域表現優異，將促進台灣經濟更澎湃發展。

26. 根據上述報導，媒體所下的標題「金商獎得主…」，「…」最為適當的應為下列何者？  
(A)經營卓越，善盡社會責任  
(B)獲利無數，堪為典範  
(C)行銷全球，台灣之光  
(D)價格競爭，創新多元
27. 關於「『優良商人』為台灣進出口創造出佳績」，下列敘述何者錯誤？  
(A)消費者可以有價格低廉且多元的選擇  
(B)生產者進口台灣不具備生產優勢的商品會蒙受損失  
(C)生產者出口具備生產優勢的商品賺取貿易收入  
(D)國際貿易亦是「一隻看不見的手」引導買賣雙方做出對自身最有利的選擇



【第 34-35 題為題組】請根據附圖回答第 34-35 題：




圖(一)



圖(二)

34. 上圖（一）描繪某一個宗教創立者受難的情形。請問：下列敘述何者正確？
- (A)此受難的情境在《舊約聖經》中有所記載
- (B)此宗教認為巴勒斯坦地區是「上帝應許之地」
- (C)此創立者最初在圖（二）甲區宣揚平等、博愛的思想
- (D)君士坦丁將此宗教定為羅馬帝國的國教
35. 佳侑參觀聖索菲亞大教堂（右圖三），對傑出的建築成就感到印象深刻，他回家搜尋相關資料做更深入的探索。請問：下列何者會出現在他找到的資料中？
- (A)教堂為拜占庭帝國皇帝查理曼所興建
- (B)教堂位於上圖（二）中的乙地
- (C)教堂興建時即有四座尖塔，功能為提醒民眾朝向聖地禮拜的時間
- (D)教堂內部有精緻的金色壁畫與鑲嵌藝術
36. 「那些教會人員宣稱：銀幣叮噠一聲響，一個靈魂便上了天堂。」這是 1517 年發布的《九十五條論綱》第 27 條的內容，指控教會販賣贖罪券的斂財行為，違背宗教最初的精神。請問：關於發表此言論者所創立的教派，下列何者正確？
- (A)將聖經翻譯成義大利文，有助於民眾對聖經的理解
- (B)認為羅馬天主教的教宗與教會的權威至上
- (C)認為人若想得救須以聖經為依歸並虔誠信仰上帝
- (D)清領後期到臺灣傳教的馬偕隸屬於此教派的分支



圖(三)

37. 歷史老師上課時請同學將中世紀西歐與拜占庭帝國的差異繪製成下表。請問：表格中只有哪一列寫對了？
- (A)甲 (B)乙 (C)丙 (D)丁

地區	中世紀西歐	拜占庭帝國
(甲)政治情況	中央集權，為統一的帝國	日耳曼人於各地建國，呈現分裂局面
(乙)通用文字	拉丁文	希臘文
(丙)政教關係	政教合一	政教分離、政教衝突
(丁)宗教領袖	皇帝	教宗

38. 宗教改革風起雲湧，使基督教世界再次分裂，也在歐洲政治、經濟、文化等方面造成餘波蕩漾。請問：下列何者為宗教改革的影響？
- (A)倡導民眾可對聖經直接閱讀，有助於識字率的提升
- (B)羅馬天主教會的影響力與日劇增，政教衝突愈演愈烈

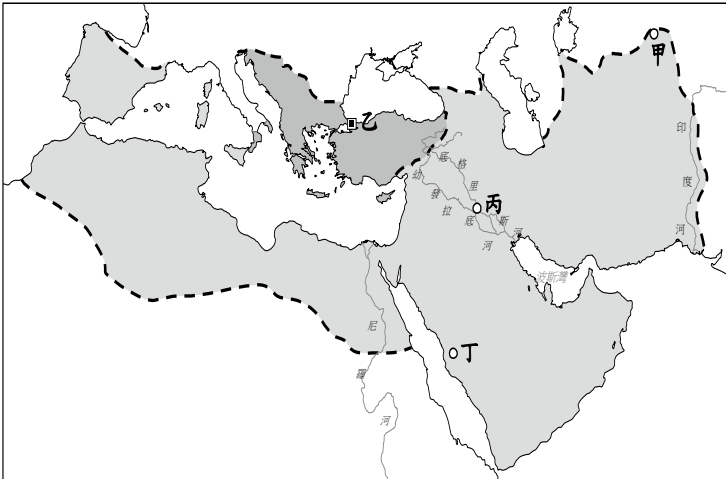
- (C)否定工作的價值，不利於歐洲經濟成長
- (D)宗教戰爭爆發後，各國逐漸制定法律來排擠不同理念的宗教

39. 右圖呈現 11 世紀歐洲宗教信仰的分布。請問：下列敘述何者正確？



- (A)11 世紀之後乙地區的主要信仰統稱為「基督教」
- (B)甲地區主要信奉羅馬公教
- (C)丙地區在中世紀信奉伊斯蘭教
- (D)乙地區以信奉東正教為主

【第 40 至 42 題為題組】請根據下圖回答第 40-42 題：

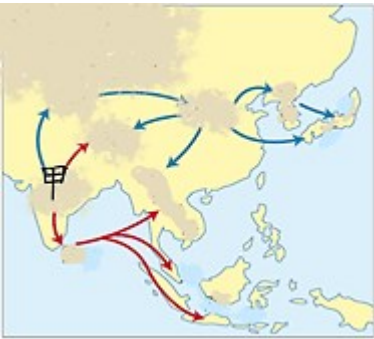


40. 8 世紀時出現了跨歐、亞、非三洲的帝國，不僅工商業發達、經濟繁榮，文化內涵也相當豐富多元。請問：下列敘述何者正確？
- (A)「阿拉丁與神燈」故事的舞台是位於圖中乙地
- (B)此帝國曾與唐朝在甲地發生戰爭，導致印刷術的西傳
- (C)此帝國為塞爾柱土耳其帝國
- (D)帝國的民眾翻譯古希臘、羅馬的典籍，有助於歐洲文藝復興運動的出現
41. 西元 2023 年沙烏地阿拉伯首度揮別疫情全面解封，超過 160 萬名穆斯林遠從全球各國來到這裡的大清真寺進行朝覲。6 月 26 日起為期 5 天的朝聖活動期間，大批人潮讓當地商家笑得合不攏嘴。他們提及：「頌讚真主，希望銷售營收增加，事事如意。」沙國同時也派駐大批警力，避免過去的踩踏意外再度發生。請問：下列敘述何者正確？
- (A)文中提到的「真主」是指耶和華
- (B)朝覲活動是在上圖丙地舉行
- (C)穆斯林除朝覲外，亦需遵守每日五次向真主的畫像膜拜等原則
- (D)各地穆斯林須以阿拉伯語誦讀古蘭經文
42. 西元 1095 年 9 月，教宗烏爾班二世在法國克萊芒 (Clermont) 郊外召開宗教會議並發表以下演說：「為大家所知，[ ] 已經入侵我們東方兄弟的國家，...他們一路攻到地中海...又侵占了我們的聖地...他們在大肆蹂躪上帝的國度，毀壞基督教堂...讓我們投入一場神聖的戰爭，一場為主而重獲聖地的偉大東征吧！」請問：下列何者符合教宗所提到「偉大東征」之史實？
- (A)中國的火藥技術透過此戰爭西傳至歐洲
- (B)使歐、亞間商旅往來增加，有助於歐洲商業復興
- (C)「聖地」指的是上圖丁地
- (D)[ ] 指的是鄂圖曼土耳其人



43. 佩脫拉克有「桂冠詩人」的美譽，文筆流暢細膩，他也曾表示：「我是個凡人，我只追求凡人的幸福。」請問：關於此人的敘述，下列何者正確？
- (A) 作品強調人們應克制慾望，過著貞潔的生活
  - (B) 用英國的方言寫作
  - (C) 作品體現人文主義精神，勇於表達個人情感
  - (D) 馬丁路德是與其同時期的著名文學家

44. 右圖呈現佛教傳播的路線。請問：關於佛教的發展與向外傳播，下列敘述何者正確？
- (A) 漢朝時日本派遣使者前來中國，佛教因而傳入日本
  - (B) 在圖中甲地創立後向外傳播，至今成為當地信仰人口最多的宗教
  - (C) 魏晉南北朝時玄奘求取並翻譯佛經，有助於佛教中國化
  - (D) 佛教往南傳播到今東南亞一帶，對當地造成深遠影響



45. 某教派主張：「上帝在創世以前即選擇了祂要拯救的人，被揀選者最終進入神的國，上帝不予拯救的其餘人將下地獄。『選民』會從他們自己的行為知道自己將會得救，所以這上帝預定的人在社會上必負擔重責大任，在工作上有傑出表現。」請問：下列何者為此教派的特色？
- (A) 以簡單樸素的風格設計教堂，崇尚節儉
  - (B) 創立者首度公開批評天主教腐敗，揭開宗教改革的序幕
  - (C) 認為對財富的追求為一種罪惡，人們應過清貧的生活
  - (D) 傳教士具備科學知識，利瑪竇即屬於此教派

46. 右圖描繪某一位國王的想法。請問：關於此人及其創立的教派，下列敘述何者正確？
- (A) 國王與教會領袖是不同的人
  - (B) 屬於政教合一的體制
  - (C) 這位國王是亨利四世
  - (D) 雖為新教，卻受羅馬公教的控制



47. 姿寧在電視上看到下圖（一）教堂的介紹，覺得和中世紀的建築風格大為不同。詢問老師之後，老師表示這座教堂是位於下圖（二）的甲地，此城市在 14 世紀時的歐洲具有舉足輕重的地位。請問：關於甲城市的敘述，下列何者正確？
- (A) 為文藝復興的搖籃，當時人們關注的中心由人轉向神
  - (B) 商業興盛，商人常贊助藝文活動
  - (C) 位於東西貿易要道，促成宗教改革的興起
  - (D) 教宗在此地辦公，宗教地位至高無上




圖（一）

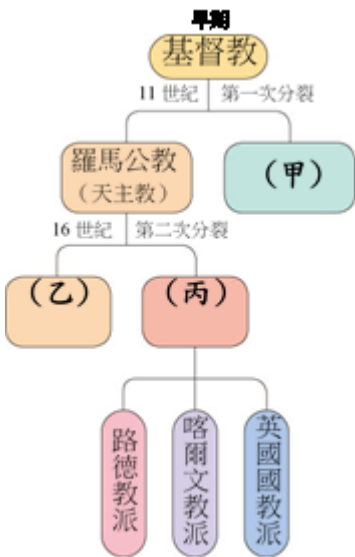


圖（二）

48. 下圖為文藝復興藝術三傑的代表作品。請問：關於圖中三幅畫作的作者，下列敘述何者「錯誤」？
- (A) (甲) 的人物神情嚴肅，展現神聖莊嚴的形象
  - (B) (乙) 的作者另有呈現人體肌肉線條之美的「大衛像」聞名於世
  - (C) (甲)、(乙)、(丙) 的作者均肯定人的價值並重視人的現世生活
  - (D) (丙) 的聖母形象溫柔和藹，和一般人感覺親近



49. 右圖顯示基督教的演變過程，請問下列敘述何者正確？
- (A) (丙) 被稱為「舊教」
  - (B) (乙) 認為無須經由神職人員的指導，民眾可以直接討論神學
  - (C) 羅耀拉強調教士自律及海外傳教而創立的教派，可歸類於(丙)之中
  - (D) (甲) 的出現源於分別以君士坦丁堡、羅馬為信仰中心的教會互爭領導權



50. 右圖為中世紀西歐的莊園。請問：關於中世紀西歐的生活情形，下列敘述何者正確？
- (A) 工商業發達，民眾致力於經商致富
  - (B) 中世紀是起自於東羅馬帝國被日耳曼人滅亡
  - (C) 圖中甲建築為人民生活的中心，從出生到婚喪儀式均由其主持
  - (D) 政治局勢和平安定，貴族效忠於國王並住在圖中乙建築



試題結束

新北市立新莊國民中學 112 學年度第 1 學期第 2 次段考

9 年級社會領域試題解答

1	2	3	4	5	6	7	8	9	10
<b>C</b>	<b>B</b>	<b>D</b>	<b>A</b>	<b>C</b>	<b>D</b>	<b>B</b>	<b>A</b>	<b>D</b>	<b>B</b>
11	12	13	14	15	16	17	18	19	20
<b>C</b>	<b>A</b>	<b>B</b>	<b>D</b>	<b>C</b>	<b>A</b>	<b>C</b>	<b>A</b>	<b>B</b>	<b>D</b>
21	22	23	24	25	26	27	28	29	30
<b>B</b>	<b>B</b>	<b>C</b>	<b>D</b>	<b>A</b>	<b>A</b>	<b>B</b>	<b>C</b>	<b>D</b>	<b>C</b>
31	32	33	34	35	36	37	38	39	40
<b>C</b>	<b>B</b>	<b>D</b>	<b>C</b>	<b>D</b>	<b>C</b>	<b>B</b>	<b>A</b>	<b>C</b>	<b>D</b>
41	42	43	44	45	46	47	48	49	50
<b>D</b>	<b>B</b>	<b>C</b>	<b>D</b>	<b>A</b>	<b>B</b>	<b>B</b>	<b>A</b>	<b>D</b>	<b>C</b>