

※ 選擇題：本試卷共 50 題，每題 2 分，總分為 100 分。
每一題均為單選題，請選出最適當答案。
※ 請用 2B 鉛筆在答案卡上相應的位置畫記。

【第 1~2 題為題組】自從 2020 年 6 月 6 日(甲)高雄市長韓國瑜被罷免成功之後，罷免權的行使一瞬間如雨後春筍般產生，罷免成功案例如下：

案例一	(乙)宜蘭縣員山鄉中華村，村長罷免成功。
案例二	(丙)桃園市第七選舉區王浩宇市議員。
案例三	(丁)臺中市第二選舉區陳柏惟立法委員。

- 就投票形式判斷，下列關於「罷免權」的敘述，何者正確？
(A)與複決權一樣是對「人」的投票
(B)行使罷免權也須遵循普通、平等、直接、無記名原則
(C)上述罷免權的行使均須設籍滿 6 個月以上
(D)行使罷免權與公民投票年齡相同
- 關於上述(甲)(乙)(丙)(丁)的各項敘述，何者正確？
(A)四者的地方自治層級均相等
(B)(甲)(丙)均歸屬於地方行政機關
(C)(丙)(丁)的身分均為地方民意代表
(D)(乙)(丙)(丁)的參選均須年滿 23 歲

【第 3~4 題為題組】達哥是設籍於南投縣政治世家的大家長，他們已經規劃在 2026 年九合一選舉中，家族將要推舉四名家族成員投入南投縣選戰，包含達哥的兒子參選縣議員、妻子參選鄉長、表弟參選市長、姪子參選縣長。若有空閒時間，達哥都會盡量幫忙家族候選人的競選活動，除了站台之外，也到各大傳統市場向鄉親們拜票，並鼓勵有投票權的人一定要去投票。
(註：「九合一選舉」是指中華民國地方九類選舉的統稱，具體是指縣市首長、縣市議員、鄉鎮市長、鄉鎮市民代表、村里長、直轄市市長、直轄市議員、直轄市山地原住民區區長、直轄市山地原住民區區民代表的選舉)





- 根據上文所述，達哥家族成員參選的職務，其年齡限制大小關係為何？
(A) 兒子 > 表弟 = 姪子 > 妻子
(B) 姪子 > 表弟 = 妻子 > 兒子
(C) 表弟 > 妻子 > 兒子 > 姪子
(D) 妻子 > 表弟 > 兒子 = 姪子
- 若達哥進入投開票所領取選票時，所遇到的狀況如下，何者正確？
(A)達哥為表示自己立場而亮票，違反平等原則
(B)達哥順利領到選票，他會拿到三張選票
(C)達哥因為弊案而遭褫奪公權，被剝奪投票資格
(D)達哥忘記帶印章，選務人員仍會發選票給他

【第 5~6 題為題組】2022 年九合一地方選舉落幕，原任立委順利轉戰地方首長的有台北市長當選人蔣萬安、新竹市長當選人高虹安、南投縣長當選人許淑華以及屏東縣長當選人周春米。除了高虹安、周春米分別是民眾黨、民進黨不分區立委，另外，蔣萬安、許淑華則為區域立委，其所屬選區必須進行補選，等同還有一場「延長賽」要打！台北市長當選人蔣萬安在選前就請辭立委，於 2023 年 1 月 8 日進行補選，最後由台北市議員王鴻薇擊敗民進黨對手吳怡農，成功接棒。

- 根據上文所述，以下敘述何者正確？
(A)王鴻薇的職位轉換是由地方民意代表轉變為中央民意代表
(B)立法委員和台北市議員選舉均為單一選區兩票制
(C)上文所述四個縣市的地方自治層級相同
(D)上文所述四個縣市首長參選年齡前兩者與後兩者不同

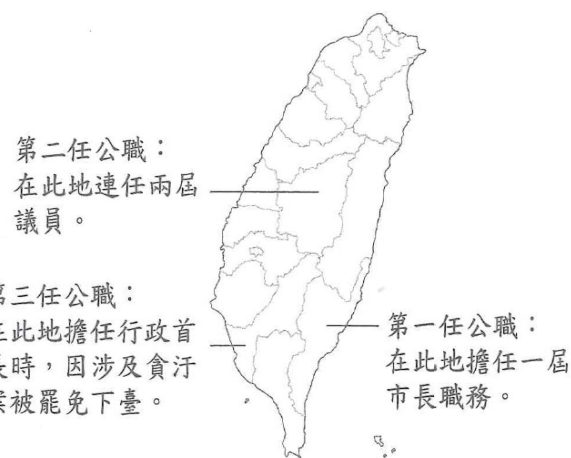
- 關於九合一選舉的流程與方式，下列敘述何者錯誤？
(A)公職候選人可於一定時間內向選務機關登記
(B)所有候選人及投票人都必須於選區設籍滿四個月
(C)年滿 30 歲的人無法投票也不能參選一定是被褫奪公權
(D)選舉流程為登記→競選→投票→開票→公布結果

- 帥穎正在做關於世界各國選舉權的報告，找到以下資料，請判斷一下，這篇報告的主題應該跟投票的哪一項原則相關？

 巴西	1988 年，給予文盲選舉權。
 南非	自 1930 年起，白人女性有選舉權。 1994 年舉行首次不分種族的選舉權。
 南韓	憲法保障兩性平等的選舉權。
 科威特	2010 年容許女性投票。

- (A)普通 (B)平等 (C)直接 (D)無記名

- 阿軒在回顧他擔任民選公職人員生涯時，將部分要點註記如右圖，根據我國現行法律規範及圖片中內容判斷，下列說明何者正確？



- (A)擔任第一任公職人員期間須至市民代表會接受質詢
(B)擔任第二任公職人員期間主要工作為執行上級政府委辦事項
(C)擔任第三任公職人員期間依法僅需使其負起政治責任
(D)三任公職人員任職的地點其地方政府層級均相同

- 右圖為小蓉為了做公民報告，上網查詢「地方政府公共建設招商」成績排名，以下敘述何者正確？

2020 年地方政府公共建設招商成績			
排名	地方政府	簽約件數	民間投資金額(億元)
1	新北市	19	224.20
2	台南市	2	114.20
3	新竹縣	1	65.10
4	台北市	12	40.80
5	台中市	9	38.00
6	屏東縣	1	15.20
7	桃園市	3	14.10
8	花蓮縣	1	6.00
9	高雄市	1	4.80
10	新竹市	5	0.45

資料來源：促參司

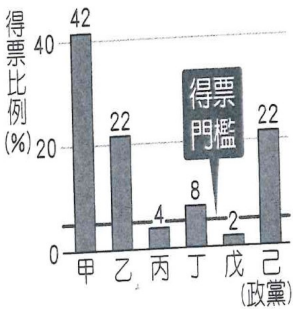
翁至威 / 製表

- (A)表中的政府皆設有區公所
(B)前五名就含有四個直轄市
(C)後五名包括有三個直轄市
(D)表中政府預算由立法院通過
- 新聞報導：「內政部表示，99 年 12 月 25 日(甲)部分行政區改制直轄市後，原屬山地鄉改制為區，依法不再實施自治。為落實保障原住民族政治參與的精神，並積極回應原住民社會意見，內政部提出地方制度法部分條文修正草案，待(乙)機關修法通過後，讓(丙)直轄市山地原住民區，具有實施自治的法源依據，以辦理其區長及區民代表選舉，並享有相關地方自治權限。」對於上述內容說明，下列何者正確？
(A)(甲)提到的行政區包括新竹市
(B)(乙)的修法機關為直轄市議會
(C)台南市、高雄市均含有(丙)
(D)(丙)的民意機關為區民代表會

背面尚有試題

11. 附圖為公民老師講解某一民選公職人員的產生方式，根據圖中所提供的訊息來看，關於此種選舉制度的敘述，下列何者正確？

- (A)此公職選舉將選出地方民意代表
(B)政黨可以分配席次的得票門檻是 3%
(C)此公職人員的職權之一是提出憲法修正案
(D)此公職人員的參選年齡為 23 歲，連選得連任一次



12. 下表關於台南市政府所推動的地方自治事務與事務類型的配對，何者正確？

自治事務	事務類型
(甲)推動台南捷運建設及鐵路立體化的進度	(一)安全衛生的進度
(乙)舉辦用母語介紹台南景點的「小小解說員」活動	(二)教育文化
(丙)「一戶一睦鄰」計畫媒合鄰近志工關懷獨居老人	(三)社會福利
(丁)加強防火演練提升民眾緊急狀況之應變能力	(四)經濟發展

- (A) (甲四)(乙三)(丙一)(丁二)
(B) (甲四)(乙一)(丙三)(丁二)
(C) (甲三)(乙二)(丙四)(丁一)
(D) (甲四)(乙二)(丙三)(丁一)

13. 民國 86 年修憲後，台灣省政府組織功能逐漸萎縮，省議會改設為省諮議會，業務與人員均逐漸移轉，省政府所在地中興新村的發展隨之停滯。行政院決定自 108 年起將省級機關預算歸零，員額與業務亦將自 107 年 7 月 1 日起移撥至國發會等相關部會承接。以下關於「省政府」的敘述何者正確？

- (A)省政府為地方自治團體
(B)省政府現在是立法院派出機關
(C)省級機關預算歸零與省「虛級化」有關
(D)地方政府改制為「六都」與省政府功能萎縮有關

14. 阿土伯今天要到新莊區公所辦理很多事情，兒子緩徵兵役、買房子做房屋登役、冬天到打流感疫苗、身分證遺失重新辦理、申報所得稅，可是阿土伯年紀有點大，右圖為公所各樓層簡介，如果你是公所志工，麻煩你依照他所說的業務順序，告訴他到正確的相關樓層去。

樓層簡介	
7F	稅捐稽徵處
6F	地政事務所
5F	衛生所
4F	戶政事務所
3F	役政防災課
2F	社會人文課
1F	警察局

- (A) 2F→4F→5F→6F→7F
(B) 3F→7F→5F→4F→6F
(C) 3F→6F→5F→4F→7F
(D) 1F→6F→2F→3F→7F

15. 勛勛在網路上看到網友分享的兩張圖片。請問圖(一)(二)中投票注意事項，依序是提醒投票人要遵守那些選舉的原則？

- (A)平等、無記名 (B)普通、無記名
(C)無記名、普通 (D)普通、直接



圖(一)



圖(二)

16. 第 16 任總統、副總統與第 11 屆立法委員選舉將於 2024 年 1 月 13 日星期六投開票，下表為四位跨縣市遷入臺中市第二選區的民眾，在不考量其他條件下，四人能夠領取的總統票及立委票的情況應為下列何者？

項目	年齡	狀況	國內設籍時間	第二選區設籍時間
阿閃	35	褫奪公權	35 年	滿 3 個月
小電	19	身心健全	19 年	滿 2 個月
大麥	28	肢體殘障	5 個月	滿 4 個月
坤哥	45	受監護宣告	2 年	滿 7 個月

- (A)阿閃可以領到總統選票但無法領到立委選票
(B)小電可以領到總統選票但無法領到立委選票
(C)大麥可以領到總統選票但無法領到立委選票
(D)坤哥可以領到總統選票但無法領到立委選票

17. 「圓明園」被稱為是東方凡爾賽，園內有中式園林的庭臺樓閣，也有充滿異國風情的西洋樓，但現在只能看到他的遺址，並且園內最具代表性的「十二獸首」，也都流失海外，這座富麗堂皇的皇室庭園，被大規模的破壞與掠奪，請問：跟哪兩場戰爭有關？(請按照順序)

- (A)日俄戰爭 英法聯軍 (B)鴉片戰爭 甲午戰爭
(C)八國聯軍 鴉片戰爭 (D)英法聯軍 八國聯軍

18. 台南市安平區有一間「德記洋行」，是 19 世紀時，英國商人所成立的，當時台灣開港通商，造成外國勢力逐漸進入，請問：這是因為中國哪一場戰爭戰敗？

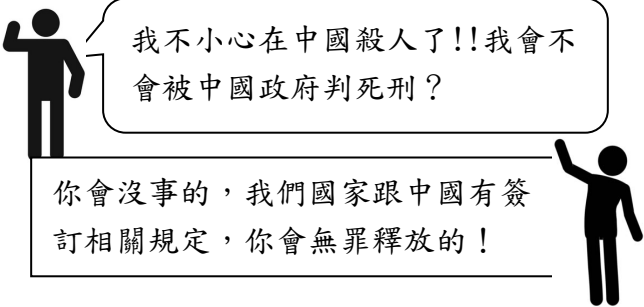
- (A)英法聯軍 (B)鴉片戰爭 (C)甲午戰爭 (D)八國聯軍

19. 「培里公園」位在日本的神奈川縣橫須賀市久里濱，裡面有個紀念碑，上面刻著：「北美合眾國水師提督培里上陸紀念碑」，在公園內部還有一間培里博物館，請問：在博物館內部會看到哪些相關事蹟？

- (A)日俄戰爭的相關影片 (B)黑船事件的介紹
(C)馬加爾尼的旅遊日記 (D)得到台灣的報導

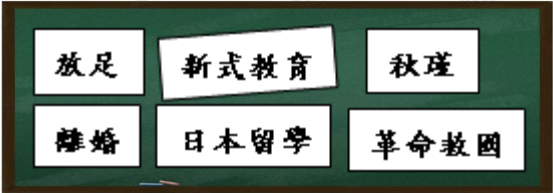
20. 根據下面的對話判斷，英國人在中國犯法，最後卻「無罪釋放」請問：這會發生在簽訂哪一個條約之後？

- (A)馬關條約之後 (B)庚子後新政實施後
(C)辛丑和約之後 (D)南京條約簽訂之後



21. 老師上課時，在黑板貼上字卡如(圖一)，請問：當節課在教什麼內容？

- (A)日本天皇「明治維新」的改革影響
(B)慈禧太后的改革，讓女性地位提高
(C)西方思想的傳入，女性角色的轉變
(D)義和團「仇洋反教」的社會狀況



(圖一)

【第 22~24 題為題組】

撈出 18 噸遺骸！甲午戰爭「亞洲第一巨艦」定遠艦關鍵證據找到了

中國大陸山東省 9 月 17 日打撈到一塊重達 18 噸，清朝甲午戰爭的戰艦遺骸。長約 2.86 米、寬 2.6 米、厚 0.33 米，是在北洋艦隊前基地附近的海底找到。水下考古研究人員表示，該鐵甲是北洋海軍鐵甲艦裝備的護防裝甲，也是目前中國大陸國內打撈到唯一一塊，在對照書面記錄後證實為定遠艦，是定遠鐵甲艦身份的關鍵證據。

以上出自 Yahoo 奇摩（國際通）2020/9/21

根據上面新聞，回答 22-24 題

22. 請問：中國打撈出來的戰艦遺骸，跟哪一場改革有關？
(A)自強運動 (B)庚子後新政 (C)戊戌變法 (D)立憲運動
23. 請問：上面提及的戰爭，為什麼會爆發？
(A)中國持續朝貢貿易，有許多通商限制
(B)黑船事件的影響，中國被迫開港通商
(C)義和團的興起，日本的外交官被殺害
(D)中國與日本因為朝鮮的問題爆發衝突
24. 戰爭過後，中國戰敗簽訂條約，請問：簽約後，會有哪
些狀況發生？
(甲)日本併吞越南 (乙)「台灣民主國」成立
(丙)朝鮮半島獨立 (丁)成立「責任內閣」
(A)甲丁 (B)甲乙 (C)乙丙 (D)乙丁

【第 25~26 題為題組】

維基百科寫道：「北京大學是『京師大學堂』的前身，建於 1898 年，由○○皇帝批准後成立的，是當時中國的最高學府……等」

根據上面內容，回答 25-26 題

25. 請問：根據維基百科的內容，當時皇帝在政治上會遇到什麼事情？
(A)康有為會時常與皇帝討論內容
(B)李鴻章與梁啟超大力支持改革
(C)改革層面以器物為主要的中心
(D)恭親王奕訢是推動變法的功臣
26. 請問：上面○○應該填入下列哪位皇帝？
(A)咸豐皇帝 (B)同治皇帝 (C)光緒皇帝 (D)宣統皇帝

【第 27~28 題為題組】

「德米特里·頓斯科伊」號明明是去打仗，為什麼要帶那麼多黃金？

近日，據韓國媒體報導，韓國「信一集團」宣布在韓國慶尚北道郁陵海底發現了一艘可能載滿黃金的裝甲巡洋艦，經考證是 113 年前沉沒的沙俄德米特里·頓斯科伊號巡洋艦。

這則消息過於震撼，引起了中俄日三國媒體的爭相轉載。由於日俄戰爭是 20 世紀初的戰爭……。

不少網友對這則消息的真實性均表示懷疑。有觀點認為，日俄戰爭時期，這艘戰艦沒理由拉著 200 噸金磚在海上與日軍交戰，這不合情理。

以上出自自由時報 2018/7/21

根據上面新聞，回答 27-28 題

27. 請問：當時日本與俄羅斯，為什麼會互相宣戰？
(A)八國聯軍後，分款金額喬不攏
(B)為了爭奪中國東北土地的權益
(C)雙方皆想擴大勢力到朝鮮半島
(D)日本持續鎖國，不願開港通商
28. 請問：這場戰爭結束之後，對中國造成什麼影響？
(A)開始立憲運動，組成「內閣」
(B)再次改革，以天朝體制為主
(C)日本開始鎖國，中日貿易中斷
(D)沈葆楨首任巡撫來到台灣治理


29. 下表是中國自強運動與日本明治維新的比較表格，請問：哪些項目是正確的？

項目	自強運動	明治維新
甲-提倡君主	宣統皇帝	明治天皇
乙-所受刺激	英法聯軍	黑船事件
丙-重要項目	總理各國事務衙門，統籌外交事務	將西方政治、經濟與軍事等制度引進日本
丁-結果	慈禧太后發動政變	改革成功，開始向外擴張


- (A)甲丁 (B)乙丁 (C)甲丙 (D)乙丙
30. 甲：我所居住的土地已經割給英國！
乙：我苦讀詩書，但科舉制度竟然被廢除了！
丙：我成功逃往海外，但聽說皇帝已被軟禁！
請問：關於上面三個人的敘述，下列哪個選項是正確的？
(A)甲-當時政府簽定了辛丑和約
(B)乙-生活年代在八國聯軍之後
(C)丙-身分為林則徐，協助變法
(D)甲乙丙時期的掌權者皆是慈禧
31. 19 世紀中期後，中國陸續開放通商口岸，外國人也進入到通商口岸居住，展開城市的建設與改造，像是在路上可以看到咖啡廳、西式餐館或是電影院，請問：當時中國最具代表性的是哪個城市？
(A)上海 (B)廣州 (C)廈門 (D)香港
32. 下表是清朝晚期，面對一連串戰爭挫敗的刺激，逐漸展開的回應與改革，請問：哪一個配對是正確的？

選項	刺激	影響
(A)	清法戰爭	劉銘傳來台灣治理
(B)	甲午戰爭	戊戌變法，廢除科舉
(C)	八國聯軍	學生開始去美國留學
(D)	鴉片戰爭	立憲運動，成立內閣


33. 請問：下面這三個人，分別住在哪裡？(請按照○○-△△-◎◎的順序)
(A)台灣-上海-東北 (B)琉球-廣州-山東
(C)台灣-廣州-山東 (D)琉球-上海-東北



我住在○○，最近被日本併吞了，都是原住民惹的禍。



我住在△△，在乾隆時期是唯一合法通商口岸，可以看到許多外商商館。



我住在◎◎，是民間宗教團體的發源地，他們的口號是「扶清滅洋」。

34. 南韓以稻作為主，石鍋拌飯、紫菜包飯等都是常見的主食，中國華北則以麥作為主。造成同緯度的上述地區農作差異的最主要原因為何？
(A)降水多寡 (B)地形起伏 (C)耕作技術 (D)土壤沃度
35. 根據外媒報導，北韓過去一年深陷「文字獄」，許多年輕人因使用南韓流行語因此遭到處罰，甚至嚴抓看南韓的電視劇與電影的人。北韓領導人金正恩過去曾表示，「K-pop 是可怕的癌症」，故以嚴刑峻法禁止，以防政權產生動搖。請問由上述可知南韓哪一項產業蓬勃發展連敵國都受到影響？
(A)高科技產業 (B)觀光遊憩業
(C)遊戲軟體業 (D)文化創意業
36. 朝鮮半島的人口集中在黃海沿岸，日本人口則主要集中在太平洋岸，兩地人口分布的差異與下列哪一個因素的關係最密切？
(A)緯度高低 (B)地勢高低 (C)降水多寡 (D)盛行風向

【第 37~39 題為題組】
全球最大晶圓代工製造商-台灣積體電路(簡稱台積電 TSMC)在日本投資的熊本廠，預計在 2024 年正式啟動生產。日本政府當初為了吸引台積電赴日設廠，補貼超過千億美元，接近廠房一半的興建成本，希望藉此跨國合作案，重振日本半導體榮光。畢竟在 1980 年代時，日本曾是全球半導體發展中心，至今也仍然掌握全球最先進的半導體製造設備與關鍵材料生產優勢，而熊本就是許多日本半導體業者的廠房所在地例如：知名半導體設備廠東京威力科創、SONY 生產感測器的廠房都在台積電熊本廠附近，形成專業生產聚落。請依據上文及參考附圖回答下列問題：



37. 台積電熊本廠設立在「日本矽島」，該島就有 31 所理工科專業大學，另外島上的福岡縣亦有一座大型工業區，更是台積電未來擴廠的據點選擇之一。請問上述所提工業區為下列何者？
(A)京濱工業區 (B)名古屋工業區
(C)阪神工業區 (D)北九州工業區
38. 根據上文及上題所述，台積電選擇在日本設廠，其考量的工業區位「不包括」下列何者？
(A)技術區位 (B)政策區位 (C)勞工區位 (D)動力區位
39. 日本政府極力促成此跨國合作案的主要目的「不包括」下列何者？
(A)促進企業國際化 (B)實施併購策略
(C)增加就業機會 (D)減少人才外流

【第 40~42 題為題組】
古代朝鮮王朝時期有所謂的「朝鮮八道」行政區(如右圖)，沿用至今仍是南北韓兩國的行政區劃分基礎。請回答下列問題：



40. 「有朝鮮半島面積最大的高原，目前全境為北韓所管轄」，上述位於圖中何地？
(A)黃海道 (B)江原道
(C)咸鏡道 (D)平安道
41. 上個月東北亞遭受強烈寒流侵襲，使京畿道氣溫下探零下 14 度，隔壁的江原道甚至出現體感零下 40 度的低溫，請問使江原道較京畿道低溫的主因應為下列何者？
(A)地形 (B)緯度 (C)洋流 (D)季風
42. 傳統上，朝鮮半島上的人在入冬前須製作大量泡菜以儲備食物，請問圖中何地最晚開始製作泡菜？
(A)全羅道 (B)咸鏡道 (C)江原道 (D)黃海道

【第 43~45 題為題組】

說到凱旋門，大家第一個印象一定是法國巴黎。可是你知道嗎？位於北韓首都的凱旋門規模才是世界之冠(見附圖)。該建築物總共用了一萬多塊的花崗石建造，在 4 根花崗石柱面上，刻有第一代領導人金日成的抗日事蹟，並且東面和西面的牆面上有中、韓國界山脈的浮雕，直接呈現該國的特色。請問：



43. 北韓的凱旋門在牆面上所雕刻出的山脈位於中、韓國界上，這座山脈為下列何者？
(A)中央山脈 (B)富士山 (C)太白山 (D)長白山

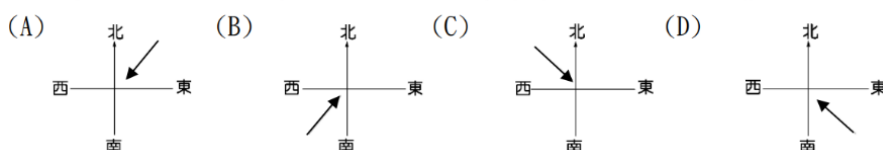
44. 根據上文的敘述判斷，我們若要使用衛星影像圖鳥瞰這座凱旋門，應該對準附圖中何處？
(A)甲 (B)乙 (C)丙 (D)丁



45. 凱旋門主要是北韓政府用以宣揚國力，給外人觀賞用的，但實際上北韓的民生經濟發展不佳，請問北韓發展工業較有利的區位條件為何？
(A)市場廣大 (B)勞工質優 (C)煤鐵豐富 (D)交通便利

46. 右表為日本某一年的天災死亡人數，請問造成此一災害與下列哪一個風向密切相關？

死亡原因	未滿65歲	65歲以上
雪崩死亡	3	1
在除雪作業中因除雪、落雪死亡	31	64
一般因落雪造成死亡	11	17
被困在倒塌房屋壓傷而死亡	0	1
其他	2	2
合計	47	85



47. 承上題，由表中數據亦可發現日本面臨哪一個社會問題？
(A)防災技術缺乏 (B)可耕地不足
(C)人口老化嚴重 (D)勞工薪資下跌

48. 右圖為亞洲某國常見的四種



地震、海嘯災害



風洪災害



火山災害



雪災


天然災害，因此該國特別重視防災工作，不管是防災演練或防災資訊網建置，甚至家家戶戶多備有防災箱或避難包。請問以上所指為何國？

- (A)北韓 (B)日本 (C)南韓 (D)菲律賓

49. 全世界新聞自由度倒數第一的北韓，「朝鮮中央通訊社」是該國唯一的新聞來源。下列哪一則消息最可能來自該通訊社？

- (A)我軍誓言發展核武，力抗萬惡美國
(B)加強捕捉泳渡黑龍江的叛逃者
(C)美國士兵闖越 36°N 停戰線已遭逮捕
(D)在偉大領導人祝福下，今年甘蔗田迎來豐收

50. 「曾有人指出在南韓從出生到死亡，只要使用一種品牌幾乎可以全包，因為三星集團不只賣手機，還賣尿布，也開學校，賣壽險，甚至還開棺材店，其事業版圖有如八爪章魚，早已深入並壟斷南韓各大、小產業，也讓南韓常被戲稱為【三星共和國】。」請問：由上述可以看出南韓的經濟發展有何特色？



新北市立新莊國民中學 112 學年度第 1 學期第 3 次段考

8 年級社會領域試題解答

1	2	3	4	5	6	7	8	9	10
B	D	B	D	A	C	A	A	B	D
11	12	13	14	15	16	17	18	19	20
C	D	C	C	B	A	D	A	B	D
21	22	23	24	25	26	27	28	29	30
C	A	D	C	A	C	B	A	D	B
31	32	33	34	35	36	37	38	39	40
A	A	B	A	D	B	D	D	B	C
41	42	43	44	45	46	47	48	49	50
A	A	D	B	C	C	C	B	A	C