

新北市立新莊國民中學 111 學年度第 1 學期第 1 次段考 9 年級社會領域試題卷

班級 座號 姓名

※ 選擇題：本試卷共 50 題，每題 2 分，總分為 100 分。
每一題均為單選題，請選出最適當答案。

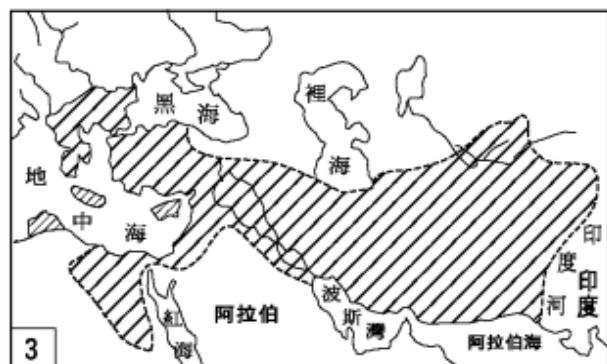
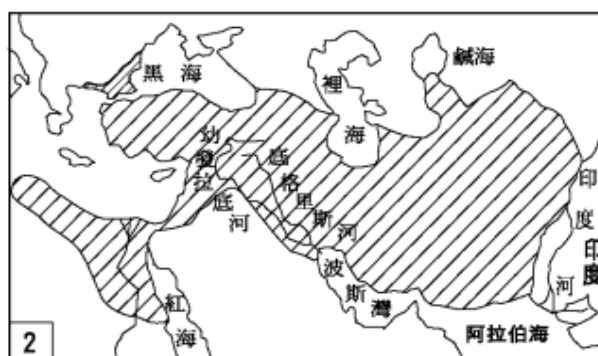
※ 請用 2B 鉛筆在答案卡上相應的位置畫記。

- 甲：我是太陽神的兒子，大家都要聽我的
乙：我是一神信仰，只信奉唯一真神「耶和華」
丙：我在全國豎立石柱，又向外宣揚佛教思想
請問：上面三個人，分別是什麼身分？
(A)甲：法老王、乙：波斯人、丙：阿育王
(B)甲：蘇美人、乙：阿育王、丙：波斯人
(C)甲：法老王、乙：猶太人、丙：阿育王
(D)甲：法老王、乙：猶太人、丙：波斯人
- 中國史中，北魏孝文帝提倡胡漢融合，實施「漢化政策」，在西洋史中，也有一位偉大的統治者，鼓勵民族通婚，讓希臘、西亞與埃及等地文化融合，請問：這位統治者是哪一個人？
(A)亞歷山大 (B)屋大維 (C)凱撒 (D)阿育王
- 導遊介紹○○地區時，說道：「這裡有許多歷史古蹟，前有『古羅馬劇院遺址』，後面有座老石橋，從鄂圖曼土耳其（15 世紀）保留到現在，附近有間『考古博物館』，外觀是希臘式建築，很奇特！如果看到有人販賣德蕾莎修女的紀念品，不要太驚訝，因為他老家遺址就在這裡。」
請問：○○應該是下列何地？
(A)英國 (B)馬其頓 (C)義大利 (D)法國
- 紹商：「聽說絲路可以通到大秦帝國」
玉城：「這名字我有聽過，他其實就是羅馬帝國」
雲澈：「據說這帝國享有兩百多年的安定與繁榮」
曉帆：「我還知道那段期間被稱為『羅馬和平』」
根據上面的敘述，請問：當時羅馬帝國的統治者是誰？
(A)狄奧多西 (B)亞歷山大 (C)漢摩拉比 (D)奧古斯都
- （表一）是佛教與婆羅門教的比較表，請問：哪項敘述是錯誤的？

項目	佛教	婆羅門教
(A)創立者	<u>釋迦牟尼</u>	<u>阿利安人</u>
(B)發源地	<u>中國</u>	<u>印度</u>
(C)主張	眾生平等	階級觀念
(D)特色	打破階級觀念	階級觀念重

（表一）
- 默鑫說：「我最近有許多重大事務要決議，執政官更是有許多事務來不及處理，同時國家的國防安全也需要注意！我們必須要積極擴張領土。」請問：默鑫是哪一個地區的人民？
(A)以民主政治聞名的雅典 (B)共和時期的羅馬
(C)與漢朝同期的羅馬帝國 (D)西亞的巴比倫人
- 亞歷山卓是埃及的第二大城市，也是一個重要的港口，現在靠著蘇伊士來的天然氣與石油管線，成為埃及重要的工業中心，請問：這個港口的名稱，跟征服埃及的哪一個國家有關？
(A)馬其頓王國 (B)波斯帝國
(C)巴比倫帝國 (D)羅馬帝國

- 玉顏是專門研究羅馬帝國時期的歷史學家，根據他考古的發現，請問：哪一項敘述不會出現在他的研究紀錄中？
(A)當時帝國老百姓是使用拉丁文
(B)圓形競技場常會舉辦武士格鬥
(C)有「法律之前人人平等」的觀念
(D)實施「陶片放逐法」，讓帝國穩定
- 下面是西洋史中，版圖都橫跨歐、亞、非三洲的帝國疆域圖，若按照時間先後順序排列，請問：哪個是「正確」選項？
(A)3-1-2 (B)1-2-3 (C)3-2-1 (D)2-3-1



- 若曦：「我們通常都將文字寫在泥板上」
曉吳：「此區的文字是表音符號與一些圖像構成」
峰則：「改良過後的文字，經由我們傳入到歐洲」
請問：上面三個人的敘述，下列選項何者「正確」？
(A)若曦應該是生活在印度河流域附近的老百姓
(B)峰則他們改良後的文字，被稱之為楔形文字
(C)曉吳所居住地區是在「美索布達米亞」一帶
(D)歐洲文字起源，跟曉吳的民族有很大的關係
- 「○○地區的宗教是多神信仰，常常舉辦敬神的祭典或是運動會取悅神明，同時哲學家在當時會著重討論倫理道德與人生意義……等」請問：在○○地區生活的人民，還會有什麼狀況？
(甲)此地區的神明跟人一樣，有喜怒哀樂情緒
(乙)此地區的城邦曾團結一致，抵抗波斯入侵
(丙)歐幾里德的幾何原本是此時期的科學代表
(丁)可以看到蘇格拉底與其他哲學家探討問題
(A)甲乙丙 (B)乙丙丁 (C)甲乙丁 (D)甲丙丁

背面尚有試題

【第 12 至 14 題為題組】請根據下面的(圖一)回答下列問題：

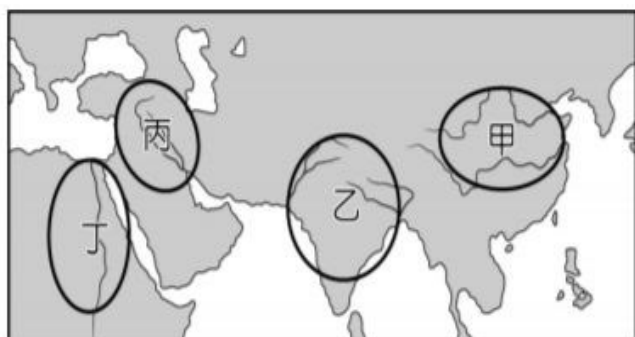


(圖一)

12. 古希臘人注重均衡、對稱、和諧的建築，最著名的代表是「帕德嫩神廟」，請問：神廟應該位於(圖一)的哪一個地點？
(A)甲 (B)乙 (C)丙 (D)丁
13. 希臘地區有許多城邦，各個特點都不同，其中有一個城邦，男性從小就要接受嚴格的軍事訓練，重視紀律與服從，請問：此城邦在(圖一)的哪一個位置？
(A)甲 (B)乙 (C)丙 (D)丁
14. 西元 1871 年，在古希臘地區發現了一個城邦，據說《荷馬史詩》中寫的特洛伊戰爭，就是在這城市中發生的，請問：這個新發現的城邦，應該位在(圖一)的哪一個區域？
(A)甲 (B)乙 (C)丙 (D)丁

【第 15 至 16 題為題組】

許多文明都誕生於大河流域，這些地區都有充足的水資源，地勢平坦，同時也利於農業的栽種，也因此孕育出來四大古文明(如下圖二)，請根據(圖二)回答下列問題：



(圖二)

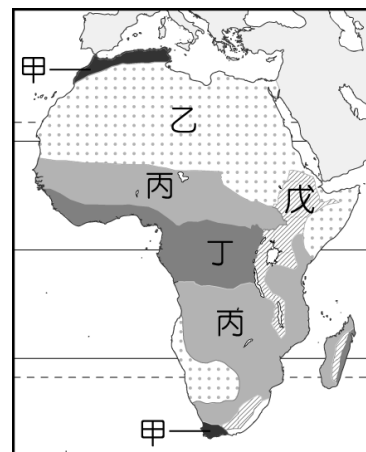
15. 這個民族雖然重視法律與契約，但是法典內容是「以牙還牙，以眼還眼」的報復原則為主，請問：這個民族在(圖二)中的哪一個地區？
(A)甲 (B)乙 (C)丙 (D)丁
16. 挖掘出來的摩亨佐達羅遺址，可以發現當時城市規劃非常的完善，請問：如果要去這個遺址，要去地圖上的哪一個區域？
(A)甲 (B)乙 (C)丙 (D)丁
17. 漠南非洲以何種地形為主體？
(A)平原 (B)丘陵 (C)山地 (D)高原
18. 下列何緯線並未通過非洲大陸？
(A)66.5°N (B)23.5°N (C)0° (D)23.5°S
19. 漠南非洲的海岸陡峭而平直，較少天然港灣，此種海岸特色與臺灣何處相似？
(A)北部 (B)南部 (C)東部 (D)西部
20. 世界最長的裂谷帶位於非洲，其大致位於非洲的何方位？
(A)東部 (B)西部 (C)南部 (D)北部

21. 非洲南部與北部皆有熱帶沙漠，其形成的主要原因為？
(A)距海遙遠 (B)副熱帶高壓籠罩
(C)四周高山環繞 (D)暖流流經

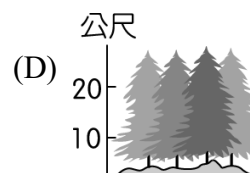
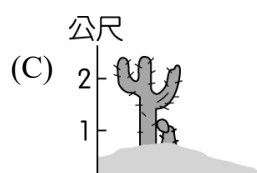
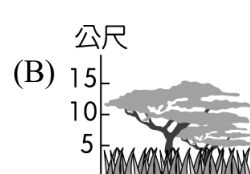
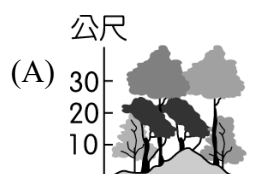
22. 非洲西南部有些許溫帶地中海型氣候區，該地何月份的降水量應該會最少？
(A)一月 (B)四月 (C)六月 (D)八月

23. 參考右圖，何種氣候區的降水量應為最多？

- (A)甲
(B)乙
(C)丙
(D)丁



24. 承上題，丙區應以何種自然景觀為主？



25. 參考右圖，哪條河川的水力蘊藏量最豐富？

- (A)甲
(B)乙
(C)丙
(D)丁



26. 下列何族群不是漠南非洲的主要族群？

- (A)黑人 (B)白人
(C)阿拉伯人 (D)馬來-玻里尼西亞人

27. 非洲何處的族群與臺灣原住民同屬南島語族？

- (A)撒哈拉沙漠 (B)剛果盆地
(C)馬達加斯加島 (D)東非高原

28. 非洲部分國家間存在接近直線的國界，其形成的原因最可能為何？

- (A)昔日歐洲殖民歷史影響 (B)兩國間關係友好
(C)多南北向山脈 (D)多東西向河川

29. 下列何國過去由少數的白人統治多數的黑人，施行種族隔離政策，造成國際輿論抨擊？

- (A)衣索比亞 (B)南非 (C)奈及利亞 (D)盧安達

30. 承上題，該國於 1994 年首次全民普選，選出第一位黑人總統，才結束長期由白人執政的歷史，該總統名為？

- (A)甘地 (B)譚德塞 (C)歐巴馬 (D)曼德拉

新北市立新莊國民中學 111 學年度第 1 學期第 1 次段考 9 年級社會領域試題卷

班級 座號 姓名

31. 下列何者屬於非洲熱帶栽培業的外銷農作物？
(A)小麥 (B)可可 (C)水稻 (D)玉米

32. 下列何者不是影響漠南非洲經濟發展的問題？
(A)電力設施未普及 (B)自來水建設緩慢
(C)缺乏天然資源 (D)道路建設不足

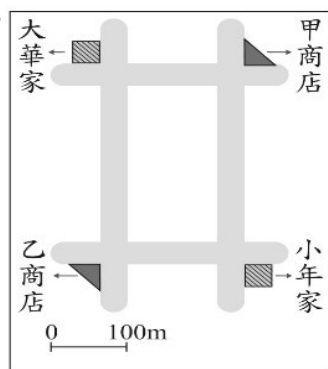
33. 非洲面臨糧食短缺的問題，與何種產業關係最大？
(A)觀光業 (B)游牧 (C)游耕 (D)熱帶栽培業

34. 世謙有四個年薪不同的工作機會，若世謙僅以薪資作為選擇工作的依據，在立法委員和入閣接任部長兩工作中，他會選擇立法委員，機會成本為 300 萬。他另將入閣接任部長、專業經理人兩工作與入閣接任部長、大學教授兩工作分別比較，結果整理如附表。根據表中資訊判斷，入閣接任部長、專業經理人、大學教授三項工作的薪資高低關係應為下列何者？

選擇比較的工作	最佳選擇的機會成本
入閣接任部長、專業經理人	300 萬
入閣接任部長、大學教授	120 萬

- (A)入閣接任部長>專業經理人>大學教授
(B)專業經理人>大學教授>入閣接任部長
(C)專業經理人>入閣接任部長>大學教授
(D)大學教授>入閣接任部長>專業經理人
35. 福利國的經濟及能源部長李大偉每月薪資 10 萬元，受到所屬政黨的徵召，決意辭職參選首都市長的選舉，登記參加市長選舉的保證金為 30 萬元，選舉的各項支出約為 100 萬元。請問：關於李大偉辭職參選的敘述下列何者正確？
(A)辭職參選的機會成本為 130 萬元
(B)辭職投入選戰隱藏在背後的代價為失去原本擔任部長每月 10 萬元的薪資
(C)辭職參選的機會成本只有金錢
(D)辭職參選是做機會成本最高的選擇

36. 圖為大華與小年住家附近的地圖，甲、乙二商店均販賣大華與小年想購買的某項商品，且該商品在甲商店的售價比乙商店高。若大華僅想就近買到商品，而小年卻只想以便宜的價格購買，則對此二人而言，到哪一間商店購物的機會成本較高？



- (A)大華：乙商店，小年：甲商店
(B)大華：甲商店，小年：乙商店
(C)皆為甲商店
(D)皆為乙商店

37. 為鼓勵民眾有效利用共享單車，同時避免民眾長久占用，台北市政府制定 YouBike 收費方式如下表，依據內容判斷，該收費方式所運用的經濟學原則，與下列何者最為類似？

使用時間	費率
4 小時以內	每半小時 10 元
4 小時～8 小時	每半小時 20 元
超過 8 小時	每半小時 40 元

- (A)客製化商品增加不同客源
(B)美式賣場好市多醞釀調高年費
(C)樂園提供不同套餐組合供消費者選擇
(D)夏季電價費率較高

38. 某遊戲公司舉辦電競錦標賽，冠軍可獲得日本來回機票和獎金三萬元。阿豪和娜娜組隊參加，阿豪想獨得獎金三萬元，娜娜想贏得日本來回機票，兩人一拍即合。下列何項解釋最為適當？

- (A)影響兩人是否參加比賽的誘因不同
(B)兩人對參加比賽所預期的報酬相同
(C)獎金有助於提高兩人參賽的誘因
(D)娜娜參加比賽的誘因比阿豪要高

39. 有關於資源的「稀少性」，就經濟學的定義，下列何者正確？

- (A)稀少等於貧窮，是指資源總數量很少
(B)在富有進步的國家不會有資源稀少的問題
(C)資源稀少是相對於人們的欲望
(D)全球首富馬斯克不會有資源稀少的問題

40. 敏敏班上上學遲到的問題很嚴重，導師公告四種方式，以期改善班上遲到的現象。下表是各項措施分別實施兩週後的遲到人次統計。根據下表判斷，何項敘述較為正確？

方式	遲到人次
甲：當天留校勞動服務	6
乙：累積三次，警告乙支	4
丙：當天每節下課不准離開位置	8
丁：整個月末遲到，嘉獎乙支	2

- (A)有兩種負向誘因
(B)對會遲到的同學而言，正向誘因大
(C)對會遲到同學而言，負向誘因大
(D)利益或損害不會帶來任何改變

41. 小明的媽媽拿著連鎖量販店的點數 48000 點，趕在兌換截止日兌換家電用品，下面為小明的媽媽手中的清單，請問：小明的媽媽最後選擇氣炸鍋的機會成本為何？

所需點數	商品內容	喜愛程度
50000	循環扇	★★★★
48000	氣炸鍋	★★★
45000	烘碗機	★★
42000	吸塵器	★

- (A)循環扇 (B)烘碗機
(C)吸塵器 (D)烘碗機和吸塵器

【第 42 至 43 題為題組】

Google 「免費」真的不用付出代價？

經由 Google 免費的服務所取得資訊：是經由手機、Gmail、搜尋紀錄與 Youtube 等所蒐集的資料，包括下面幾種類別：

裝置資訊：手機、電腦或平板的硬體型號、作業系統版本、裝置識別碼與電話號碼等等。

紀錄資訊：Google 的搜尋紀錄、電話紀錄、IP 位址、cookie 等等。

位置資訊：透過手機 GPS、IP 位址或 Wi-Fi 點所提供的使用者所在地地理資訊。

Google 使用資料主要用在「優化服務與產品」與「廣告投放」兩大部分，像使用搜尋紀錄與 Youtube 觀看紀錄拿來推送使用者。比起你的名字，他們更關心你的「行為」！你喜歡什麼、到了哪裡，然後再提供匹配的服務或廣告給你。

背面尚有試題

新北市立新莊國民中學 111 學年度第 1 學期第 1 次段考 9 年級社會領域試題卷

班級

座號

姓名

42. 閱讀完上面的文章，依據經濟學的概念來判斷，下列何者正確？(甲)使用 Google 免費的服務為自由財 (乙) Google 的服務隱含著機會成本的概念 (丙)使用者的代價為使用者的個資和相關資訊被蒐集 (丁)天下沒有白吃的午餐、有得必有失
(A)甲乙丙 (B)甲丙丁 (C)甲乙丁 (D)乙丙丁
43. 文中畫線的部分，隱含著何項生產的課題？
(A)生產什麼 (B)如何生產 (C)為誰生產 (D)生產利潤

【第 44 至 46 題為題組】

蕉農福伯感嘆：「近日香蕉價格崩跌，這裡的蕉農血本無歸，只能含恨把滿車滿車的香蕉當作飼料餵豬。」
阿嬌姨：「希望政府啟動行銷與多元利用等措施，趕快穩定香蕉的價格。」

44. 請問：上面兩人的對話，最有可能是什麼因素所造成的？
(A)生產方式 (B)生產數量 (C)消費數量 (D)銷售利潤
45. 請問：為避免血本無歸的狀況發生，在生產的何項課題上需要理性的評估？
(A)生產什麼 (B)如何生產 (C)為誰生產 (D)生產方式
46. 請問：關於上面對話，下列何者正確？
(甲)生產者可增加生產 (乙)生產者會改種植其他作物 (丙)消費者可增加消費 (丁)消費者改買其他商品
(A)甲丙 (B)乙丁 (C)乙丙 (D)甲丁

【第 47 至 49 題為題組】

2022 年公費流感疫苗施打 第一階段 10/1 開跑

◎公費流感疫苗施打第一階段的對象如下：

醫事及衛生防疫相關人員	65 歲以上長者
安養、養護、長期照顧（服務）等機構受照顧者及所屬工作人員	滿 6 個月以上至國小入學前幼兒
孕婦	具有潛在疾病之高風險慢性病人
BMI \geq 30 者與罕見疾病及重大傷病患者	國小至高中（職）/ 五專一至三年級學生
6 個月內嬰兒之父母	幼兒園托育人員及托育機構專業人員
禽畜業及動物防疫相關人員	

◎自費流感疫苗：（含掛號費、處置費、藥費、藥事服務費）
品牌：賽諾菲 1200 元 / 品牌：東洋 1650 元

47. 從公費流感疫苗第一階段施打的對象，可看見此項資源的分配最主要是考量到何項因素？
(A)抽籤 (B)使用者付費
(C)先占先贏 (D)公平正義
48. 關於公費流感疫苗的敘述，下列何者較為正確？
(A)消費者選擇機會較多
(B)高風險族群即使沒有錢還是被照顧到
(C)疫苗生產者的獲利相當可觀
(D)可依每個人需求挑選疫苗
49. 自費流感疫苗的價格應由何者決定？
(A)政府決定 (B)消費者決定
(C)生產者決定 (D)消費者與生產者共同決定

50. 某一診所的文宣如右圖，有關此文宣的說明何項正確？
(甲)享早鳥優惠價為正向的誘因
(乙)享早鳥優惠價和「換季大拍賣」一樣，以金錢作為選擇的誘因
(丙)花時間就有機會得到資源
(丁)資源充足得以選擇不同廠牌
(A)甲乙 (B)甲丙
(C)甲丁 (D)乙丁

2021自費進口四價流感疫苗
數量有限 預約開跑

疫苗品牌: 賽諾菲/巴斯德、GSK葛蘭素
預約日期: 110年09/01起至額滿為止
接種日期: 10月(藥廠送達時間為準)

預約登記 享早鳥優惠價

詳情請電洽(02)2275-1010
或親臨櫃檯諮詢 Thanks!

樂澄診所 lecheng13



試題結束

新北市立新莊國民中學 111 學年度第 1 學期第 1 次段考 9 年級社會領域試題
解答

1	2	3	4	5	6	7	8	9	10
C	A	B	D	B	B	A	D	D	D
11	12	13	14	15	16	17	18	19	20
C	A	B	C	C	B	D	A	C	A
21	22	23	24	25	26	27	28	29	30
B	A	D	B	B	C	C	A	B	D
31	32	33	34	35	36	37	38	39	40
B	C	D	C	B	A	D	A	C	B
41	42	43	44	45	46	47	48	49	50
B	D	C	B	A	C	D	B	D	A