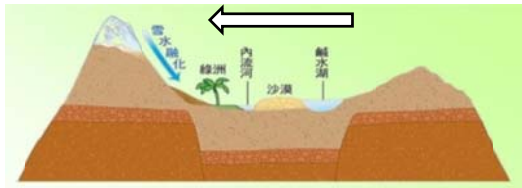


※ 選擇題：本試卷共 50 題，每題 2 分，總分為 100 分。
每一題均為單選題，請選出最適當答案。

※ 請用 2B 鉛筆在答案卡上相應的位置畫記。

1. 「北韓最高領導人金正恩的專用列車，已經於北韓時間 2 月 23 日晚間 10 時，通過北韓與中國邊境的『中朝友誼大橋』，正式越過口河進入中國丹東市，持續朝越南方向前進，下週將與美國總統川普於越南河內舉行第二次會談。」請問：上述新聞提及的口河最可能是哪條河川？
(A) 松花江 (B) 黑龍江 (C) 鴨綠江 (D) 遼河

2. 右圖為河西走廊地形剖面圖。請根據此圖判斷，圖中夏季融雪主要源自於下列哪座山脈？



- (A) 天山 (B) 阿爾泰山 (C) 崑崙山 (D) 祁連山

3. 承上題，附圖中「箭號」所指方位為何？
(A) 東方 (B) 西方 (C) 南方 (D) 北方

4. 柴達木盆地有「聚寶盆」之稱，是中國地勢最高的內陸盆地，擁有許多礦藏資源，當地人們用黃、黑、白三原色來形容當地的景觀。若黃色是形容風沙，請問「黑和白」應是形容什麼？

- (A) 犛牛和鉀肥 (B) 鐵礦和寒漠
(C) 煤礦和冰川 (D) 石油和池鹽

5. 黃河這條形似巨龍的中國第二長河是孕育中華文化的搖籃，但也是頻繁潰堤決口與改道的天下第一禍河。請依右圖回答：關於這條河的敘述及所在位置的組合何者正確？



- (A) 乙區：黃河斷流造成河面上成片沙堆，黃沙漫漫
(B) 丙區：黃河河床高於兩岸平原，形成地上懸河
(C) 戊區：南水北調西線計畫為該區黃河挹注長江水
(D) 己區：黃河百害，唯富一套，造就西部糧倉

6. 蘭新高鐵(如右圖)全長 1776 公里，古時候得花上一年半載才能橫越的絲綢之路，如今在高鐵的帶領下，十二小時就可從蘭州到達烏魯木齊。請問這條「鋼鐵絲路」途中會經過下列哪一地理區？



- (A) 藏北高原 (B) 河西走廊
(C) 河套平原 (D) 柴達木盆地

7. 根據報導，中國計畫打造全球最長的 1,000 公里引水隧道，好將河水從藏南縱谷引至塔里木盆地。這項工程將會引發下游國家印度與孟加拉的抗議，但與打造巨型水壩相較，挖掘地下引水隧道比較不會對西藏的自然景觀造成影響。請問報導中的引水隧道水源最可能引自下列哪一條河川？

- (A) 雅魯藏布江 (B) 黃河 (C) 長江 (D) 塔里木河

8. 承上題，此項工程所遭遇的挑戰「最不可能」是下列哪一項？

- (A) 空氣稀薄，工人易有高山症
(B) 資源缺乏，電力不足
(C) 高原凍土施工不易
(D) 野生動物棲息地保育困難

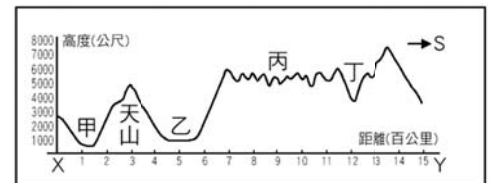
9. 近年來越來越多俄羅斯的老年人退休後移民至中國邊界城市，使得當地出現電視播放俄語新聞、商店和公共運輸同時使用俄中雙語標牌等特殊現象，請問上述現象最可能發生在下列何地？

- (A) 大連 (B) 喀什 (C) 哈爾濱 (D) 瀋陽

10. 中國新疆出現嚴重沙塵暴，其中烏魯木齊等地還降下「黃雪」。堆積在地面的「黃雪」，表面一層摻雜著淺咖色沙塵，裡面相對潔白，民眾苦中作樂把黃雪塑成「提拉米蘇蛋糕」。請問「黃雪」最可能在何時出現？

- (A) 秋末冬初 (B) 冬末春初
(C) 夏末秋初 (D) 春末夏初

11. 右圖是新疆及青藏地區的地形剖面圖。圖中有關四地的產業與主要族群的配對何者正確？



- (A) 甲—維吾爾族—游牧
(B) 乙—哈薩克族—綠洲農業
(C) 丙—蒙古族—放牧
(D) 丁—藏族—山牧季移與灌溉農業

12. 銀優根據華北地區的地形主體及黃土成因整理成下列比較表格，請問表格中何者正確表示出太行山東側的地形區？

	高原	平原
河流沖積黃土	(A)	(C)
風力堆積黃土	(B)	(D)

13. 由新疆杏子製成的千噸果醬分裝在 30 節鐵路車廂裡，向四千公里外的天津新港疾駛而去，預計銷往歐美及東南亞。新疆的瓜果格外香甜，這趟果醬鐵海聯運的甜蜜之旅將幫助新疆瓜果飄香海外。請問下列何項地理條件促成新疆瓜果外銷佳績？

- (A) 境內黑土遍布，土壤養分充足
(B) 農作收成時降雨少，糖分不易流失
(C) 夏季融雪幫助作物吸收糖分
(D) 日夜溫差大，利於糖分累積

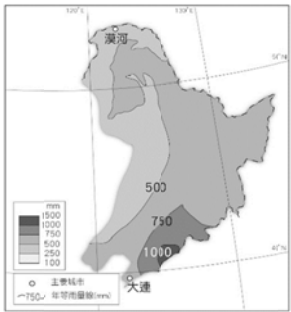
14. 黃河流域旱澇災害嚴重，流傳著「大雨大災、小雨小災，無雨旱災」的說法；而在乾季末期，易發生斷流現象。請問：以上現象的發生原因皆與下列何者相關？

- (A) 土質疏鬆、流水侵蝕
(B) 年雨量變率大、降雨季節不均
(C) 中國綠色長城、南水北調工程
(D) 中、下游多興建水庫

15. 附圖為中國東北地區年降水量分布圖。請問：東北地區降水量的分布狀況與下列哪項因素較「無關」？
- (A) 緯度位置

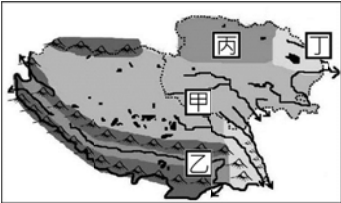
(B) 山脈走向

(C) 季風風向

(D) 距海遠近
- 
16. 可可西里這部電影由真實事件改編，講述當地由自願者組成的巡山保護隊和盜獵分子進行無數次浴血奮戰，兩任隊長先後犧牲震驚了各界及輿論，促使中國政府於 1997 年成立「可可西里國家級自然保護區」，珍貴野生動物藏羚羊得以喘息。請問可可西里位於青藏地區簡圖中何處？
- (A) 甲

(B) 乙

(C) 丙

(D) 丁
- 
17. 就讀 8 年級的姍姍未經爸媽同意而和班上同學約定，要以爸媽買給她的小提琴和同學交換手機。請問：她們的約定有無效力？原因為何？
- (A) 有效，因為是自己的東西，所以可以自行決定

(B) 有效，因為她們是同學，有一定的交情

(C) 無效，因為她們是限制行為能力人，未得到法定代理人的同意

(D) 無效，因為她們是無行為能力人，須由法定代理人代行法律行為
18. 民法是規範私人與私人間，財產與身分權利義務關係的法律。下列哪些屬於民法所規範的『身分』關係？
- (甲) 美瑩向娘家借錢投資股票

(乙) 明芬離婚爭取女兒的監護權

(丙) 晴雯向銀行貸款買了一部中古車

(丁) 清華死後留下一筆巨額遺產

(戊) 瑞昕和哥哥打棒球不小心砸破鄰居玻璃

(己) 家岑買蛋糕和禮物幫爺爺慶生

(庚) 爸爸媽媽對裕琪行使親權
- (A) 乙丁庚

(B) 乙丙己

(C) 甲乙庚

(D) 丙戊己
19. 根據下列四位人物的不同事件之敘述判斷其年齡，請按照年齡由高至低之順序排列。

曉春	租賃房屋需要父母的同意，契約才有效，如果不慎犯罪則須負完全刑事責任。
曉夏	日常生活行為都要由父母代理，在超商偷了一包牛奶糖，可以免除刑責。
曉秋	昨日與男友訂婚，其訂婚年紀剛好符合 <u>民法</u> 規定的最低年齡。
曉冬	再過一天就是限制責任能力人，得到了父母的同意，與廣告公司順利簽訂合約。

- (A) 曉春、曉夏、曉秋、曉冬
- (B) 曉春、曉秋、曉夏、曉冬
- (C) 曉春、曉秋、曉冬、曉夏
- (D) 曉春、曉冬、曉秋、曉夏

20. 當指控他人犯罪時，其行為必須符合犯罪構成要件，才能明確認定對方犯罪。下列何者「最」符合犯罪構成要件而受刑法處罰？
- (A) 太宇常常被同學欺負，因此想找人攻擊同學

(B) 下雨天視線不佳，小可在閃避其他車輛不及的情況下不小心撞壞路邊車子

(C) 承德手持美工刀故意刮傷路邊車輛，造成車子的損壞

(D) 發生搶案時，家輝為了保護家人的安危，在搶奪歹徒的刀械的過程中，造成對方的受傷
21. 嘉義市導明里劉姓里長利用職務之便，向環保局清潔隊駕駛員黃姓婦人詐取 20 萬元，嘉義地方法院依詐欺取財罪判他有期徒刑 2 年，且褫奪公權 4 年。請問下列何者是劉姓里長未來 4 年無法完成的生涯規劃？
- (A) 向銀行貸款 100 萬元

(B) 參選嘉義市議員

(C) 與愛情長跑十年的女友結婚

(D) 購買國產休旅車
22. 為嚴懲假消息，內政部部務會報通過「□□法部分條文修正草案」，明確定義假訊息須符合故意、虛假、危害三要素，若散布謠言、不實之事使公眾產生畏懼或恐慌者，依法可處三萬元以上、三十萬元以下罰鍰。請問：□□法是哪一個法律？
- (A) 民法

(B) 刑法

(C) 行政法

(D) 社會秩序維護法
23. 下列有關『罰金』與『罰鍰』的比較，正確的有幾項？
- (甲) 罰金的金額一定比罰鍰高

(乙) 罰金是行政處分之一，罰鍰則是刑罰從刑之一

(丙) 超速駕駛可能被處以罰金，公然侮辱可能被處以罰鍰

(丁) 罰金是由法院宣告，罰鍰是由行政機關依法科處

(戊) 罰金是處罰犯罪行為，罰鍰是強制履行其行政法規上的義務
- (A) 一項

(B) 二項

(C) 三項

(D) 四項

題組一

做臨時工的徐姓男子之前有五度酒駕被判刑的紀錄，被關出來才四個月，老毛病竟再犯，在檳榔攤喝完啤酒騎機車上路，被警攔下並移送法辦。由於徐男六度酒駕，台南地院以罔顧大眾行車安全將他判處有期徒刑 11 個月。

24. 酒醉駕車的行為，在民國 88 年 4 月以前，刑法沒有相關的規定，所以不會依刑法處罰酒醉駕車者，這可彰顯出何種法律原則？
- (A) 權利濫用禁止原則

(B) 誠實信用原則

(C) 契約自由原則

(D) 罪刑法定原則
25. 對於酒駕行為，過去僅能依道路交通管理處罰條例處以【甲】，直到立法院將酒醉駕車納入刑法後，酒醉駕車行為才能處以【乙】。請問：文中的【甲】、【乙】最有可能的答案依序為何？
- (A) 拘役、拘留

(B) 罰鍰、拘留

(C) 有期徒刑、罰鍰

(D) 罰鍰、有期徒刑

題組二

昭國與喬安是一對 19 歲的新婚夫妻，兩人購買了一棟透天厝，與建商簽定契約，就在他們正準備搬進去時，卻發現建商交給他們的竟然是漏水屋，因此向建商要求賠償，但建商卻置之不理，後來甚至避不見面，昭國與喬安於是決定向法院提出訴訟，要求建商負起法律上的責任。

26. 依據民法規定須符合哪些要件，昭國與喬安的婚姻才具有法律效力？(甲)兩人以上證人所簽名的結婚證書(乙)席開百桌宴請雙方親朋好友(丙)向法院辦理結婚登記(丁)須經過雙方家長的同意(戊)向戶政機關登記
(A) 甲丁戊 (B) 乙丙丁 (C) 甲丙戊 (D) 甲乙丁
27. 關於上述事件，下列敘述何者有「誤」？
(A) 口頭與書面約定都可成立契約
(B) 因為昭國與喬安未成年，所以與建商簽定的契約無效，建商不須負起民事責任
(C) 昭國與喬安可以向建商要求賠償，甚至可以解除契約
(D) 建商隱瞞房屋是漏水屋的訊息，違反誠實信用原則

題組三

台中某食品行涉嫌偷改製造日期、延長有效期限，衛生單位和警方稽查，當場查封 400 多包有問題的冬粉，現場還有一百多公斤的過期食品。經衛生局稽查後，要求商家停止營業，而檢警也帶回負責人和員工，依詐欺罪名偵辦。正皓因食用經商家塗改有效期限後再上架販售的冬粉而腹瀉不止送醫治療，他決定向商家提告，請求賠償。

28. 請問上述的商家應負那些責任？
(A) 民事責任、刑事責任
(B) 行政責任、刑事責任
(C) 行政責任、民事責任
(D) 民事責任、刑事責任、行政責任
29. 此商家的行為已違反民法上的何項原則？
(A) 消滅時效原則 (B) 誠實信用原則
(C) 契約自由原則 (D) 權利濫用禁止原則

題組四

志銘今年十九歲，他因工作壓力過大，常於晚間在住家附近假藉溜狗名義跟蹤女子，伺機猥褻及襲胸，而且還會裸奔侵入民宅。日前再犯時遭路過的家豪抓住，兩人扭打過程中都受了傷送往醫院就醫。

30. 關於志銘的刑事責任，下列敘述何者正確？
(A) 志銘為無責任能力人，不須受刑法的處罰
(B) 志銘的家長須負連帶的刑事責任
(C) 志銘為限制責任能力人，應可以減輕處罰
(D) 志銘為完全責任能力人，須接受刑罰制裁
31. 家豪和志銘扭打過程中，家豪把志銘推倒在地，導致志銘手部骨折。請問家豪的行為，是否構成違法？
(A) 違法，涉嫌觸犯刑法的侵權行為
(B) 違法，涉嫌觸犯刑法中的傷害罪
(C) 不違法，屬於逮捕現行犯的行為
(D) 不違法，屬於業務上的正當行為

題組五

天彥心情不好，昱晴前來安慰他，兩人對話如下：

天彥：我的父親過世了，我決定採取限定繼承的方式。
昱晴：那要記得在期限之內將遺產清冊陳報法院。

32. 天彥父親留下 200 萬元的銀行存款和 500 萬元的債務，若子女決定採取限定繼承，他們應該就繼承所得償還的金額是多少？
(A) 0 元 (B) 200 萬元 (C) 300 萬元 (D) 500 萬元
33. 若子女決定改採拋棄繼承，請問前往法院聲明的期限是多久呢？
(A) 自被繼承人死亡之時起一年之內
(B) 自被繼承人死亡之時起九個月內
(C) 自繼承人得知繼承之時起三個月內
(D) 自繼承人得知繼承之時起六個月內
34. 歷史老師要同學複習比較「英法聯軍」與「八國聯軍」兩件史事，並且舉出這兩件史事相同之處。請問，下列哪一位同學的回答正確？
(A) 英俊：時間均發生在 19 世紀
(B) 美麗：均使清廷割讓廣大國土
(C) 帥哥：均是清廷勇敢向列強宣戰
(D) 淑女：首都北京均遭受列強入侵
35. 十九世紀的最後一年，北京到處貼滿了通告，稱「男無倫，女鮮節，鬼子不是人所生。如不信，仔細看，鬼子眼睛都發藍。不下雨，地發乾，全是教堂止住天。」於是老佛爺認為其民氣可用，默認拳民可掃除教匪洋孽，引發各國抗議，但她不以為意，甚至頒發如右圖令牌，更因此加強她對列強宣戰之決心。結果，列強聯軍直攻首都，濫殺人民與劫掠中國文物，更被迫簽訂下列哪一喪權辱國條約？
(A) 辛丑和約 (B) 北京和約
(C) 馬關條約 (D) 天津條約



36. 右圖漫畫是在諷刺列強侵略中國的一場戰役。兩國為了爭奪中國東北權益爆發戰爭，清政府卻被逼迫宣布中立，甚至要為這場戰爭特別畫出一塊交戰區。請問：這應該是在描述哪一戰役的內容？
(A) 八國聯軍 (B) 甲午戰爭
(C) 日俄戰爭 (D) 中法戰爭



37. 老佛爺先扼殺改革，又引起讓自己和皇帝倉皇出奔的大禍，逼得她不得不宣布變法，但其中事項多與前次改革相似。官員張之洞曾失望地表示：「京朝門戶已成，廢弛如故，窮益加窮，弱益加弱。」請問：張之洞是針對哪一次變法結果表達失望之情？
(A) 立憲運動 (B) 庚子後新政
(C) 自強運動 (D) 戊戌政變

38. 如右附圖分為十個地區，用甲至癸表示。請問，清朝中國版圖與藩屬國曾遭日本侵犯的地方有哪些？

(A) 甲丙丁癸 (B) 乙丁己庚
(C) 甲乙戊癸 (D) 甲丙辛壬



39. 「七十二健兒，酣戰春雲湛碧血。四百兆國子，愁看秋雨溼黃花。」是黃興撰寫的一對輓聯，請問這是追悼哪一事件陣亡的烈士？

(A) 黃花崗之役 (B) 惠州之役
(C) 武昌起義 (D) 雲南起義

40. 甲午戰敗的刺激，讓中國激起一波波的救亡圖存革新，其中以下面附圖的兩派最為著名。請問：這兩派的代表人物分別為何人？

只有採用君主立憲，在體制內進行改革，才能避免中國的崩毀。

維新派



只有革命，徹底推翻滿清、建立民國，中國才有未來。

革命派



(A) 維新派：康有為；革命派：左宗棠
(B) 維新派：李鴻章；革命派：光緒帝
(C) 維新派：梁啟超；革命派：孫中山
(D) 維新派：張作霖；革命派：孫中山

41. 20 世紀初，中國某家報紙發表了一組專電，其部分內容為：「……傳聞當軍變時，統制張彪措手不及，已被各軍槍殺，協標統以下各官死者甚眾。」、「……聞起事時，新軍在內作應，革命黨由城外攻入，故能得手……。」分析電文內容，應該是指哪下列一件史事？【註：協、標、統，是清末新軍的單位名稱。】

(A) 二次革命 (B) 廣州黃花崗之役
(C) 廣州新軍起義 (D) 湖北武昌起義

42. 如下面附圖為某位歷史人物的生平，請問這位歷史人物可能為下列何人？



(A) 宋教仁 (B) 袁世凱 (C) 溥儀 (D) 黎元洪

43. 下列中國近代史事與主要相關地點配對，請問下列何者正確？

(A) 義和拳亂→山東 (B) 保路運動→雲南
(C) 五四運動→南京 (D) 護國軍起義→四川

44. 如右附圖是民國初年軍閥主要派系割據勢力圖，請問奉系軍閥張作霖的勢力範圍（根據地）是位於圖中何處？

(A) 丁 (B) 丙
(C) 乙 (D) 甲



45. 《中華民國臨時約法》簡稱「臨時約法」，是中華民國成立後，由南京的臨時參議院所制定，是正式行憲前的國家根本大法，但在民國初年先後被誰毀棄？

(A) 段祺瑞、張作霖 (B) 袁世凱、溥儀
(C) 黎元洪、曹錕 (D) 袁世凱、段祺瑞

46. 鴉片戰爭、英法聯軍以來，中國陸續被列強要求增加開放對外通商口岸；而通商口岸正是引進西方文明的主要窗口，不僅加速當時中國學習西方文明腳步，更是影響到人民的日常生活。下列關於清末民初的社會變遷，何者敘述正確？

(A) 還是依舊按照父母之命，媒妁之言來擇婚
(B) 新知識份子扮演傳播新知，批判社會角色
(C) 本土工商業獲得發展良機，賺取大量外匯
(D) 婦女仍要遵守三從四德，無法接受新教育

47. 民國初年的新知識份子認為，中國必須要進行思想文化的改革，才能成為現代化國家。請問，下列民國初年人物的貢獻何者錯誤？

(A) 蔡元培擔任北京大學校長時，提倡自由學風
(B) 陳獨秀主編新青年介紹西方文化，批評傳統
(C) 胡適認為要繼續使用文言文才符合傳統教育
(D) 作家魯迅發表第一篇白話文小說一狂人日記

48. 1917 年《新青年》第二卷第五號第一篇文章，提倡改良中國文學—《文學改良芻議》：「須言之有物，不摹仿古人，須講求文法，不作無病之呻吟，務去濫調套語，不用典，不講對仗，不避俗字俗語。」請問，上述資料應該是在何時出現？

(A) 立憲運動 (B) 自強運動
(C) 古文運動 (D) 新文化運動

49. 下面附圖為 1919 年的一場國際會議，中華民國代表團以第一次世界大戰戰勝國身分參加並且提案。由這個會議經過可以推測，後續引發了中國國內的哪一重要事件？



(A) 立憲運動 (B) 五四運動
(C) 溥儀復辟 (D) 新文化運動

50. 民國初年學術思想不再獨尊儒家，呈現了百家爭鳴的局面，是因為新知識份子引進當時西方流行的學說，其主要的口號是下列哪一組？

(A) 財經與經濟 (B) 民主與科學
(C) 軍事與國防 (D) 教育與哲學

新北市立新莊國民中學 107 學年度第 2 學期第 2 次段考 8 年級社會領域試題解答

1	2	3	4	5	6	7	8	9	10
C	D	C	D	A	B	A	B	C	B
11	12	13	14	15	16	17	18	19	20
D	C	D	B	A	A	C	A	C	C
21	22	23	24	25	26	27	28	29	30
B	D	B	D	D	A	B	D	B	D
31	32	33	34	35	36	37	38	39	40
C	B	C	D	A	C	B	C	A	C
41	42	43	44	45	46	47	48	49	50
D	B	A	A	D	B	C	D	B	B