

※ 選擇題：本試卷共 50 題，每題 2 分，總分為 100 分。

每一題均為單選題，請選出最適當答案。

※ 請用 2B 鉛筆在答案卡上相應的位置畫記。

1. 日治時期台灣總督府為了因應殖民的局勢，實施了許多政治、經濟方面的政策。請問：下列有關「背景—政策」的配對，何者**錯誤**？

(A)第一次世界大戰爆發—內地延長主義  
(B)實施南進政策—工業台灣，農業南洋  
(C)發展米糖經濟—工業日本，農業台灣  
(D)中日戰爭爆發—皇民化政策

2. 右表是 20 世紀初臺灣稻米生產量的統計資料。請問：下列何者是造成表中 1920~1930 年這段期間稻米產量變化的主要因素之一？

(A)西部縱貫鐵路開通，方便稻米運送  
(B)日月潭水力發電所的完工  
(C)台灣蓬萊米培植成功  
(D)耕者有其田政策徹底落實

年度	稻米生產量 (萬公石)
1910	755
1920	873
1930	1329
1938	1770

3. 右圖是臺灣的第一個現代化金融機構，在日治時期負責統一發行貨幣，請問：它應該是下列哪一間銀行？

(A)臺灣銀行  
(B)臺北銀行  
(C)土地銀行  
(D)農民銀行

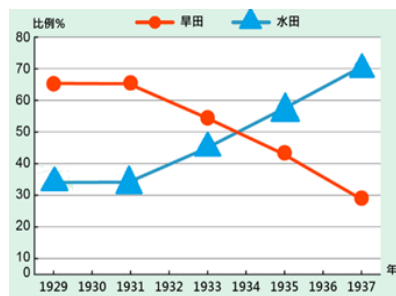


4. 行政命令不能超越法律，可是在台灣歷史上，某部法案的第一條卻規定：「台灣總督得於管轄區域內，公佈具有法律效力之命令。」請問：某部法案應是指下列何者？  
(A)法三號 (B)三一法 (C)台灣總督法 (D)六三法

5. 昭和十年（西元 1935 年），台灣總督府舉辦了始政四十週年紀念博覽會，在會場展示了台灣各地物產和日本人的建設成果，這場博覽會廣泛涉及政治經濟、文化社會、宣傳衛生等不同面向，無疑就是「台灣現代化過程」具體而深刻的演示。請問：博覽會中**較不可能**出現何種展示？  
(A)嘉南大圳照片 (B)台中港萬噸巨輪輸入港照片  
(C)西部縱貫鐵路路線圖 (D)日月潭水力發電所竣工圖

6. 右圖是某建設完成前後的水旱田比例變化表，請問：某建設應是指下列何者？


(A)土地調查  
(B)八堡圳  
(C)嘉南大圳  
(D)日月潭水力發電所



7. 崔珉豪今年暑假在臺灣進行環島旅行，他到台中玩時發現台中有逢甲大學，到台南玩又發現有永福國小，請問：逢甲大學和永福國小都是為了紀念下列哪一件史事中的特殊人物事蹟而命名的？

(A)西來庵事件 (B)台灣民主國  
(C)中法戰爭 (D)牡丹社事件

8. 下圖代表日本治台時期的政策轉變過程，請問：(丁，庚)應該各是指下列何事？



(A) (中法戰爭爆發後，中日戰爭結束後)  
(B) (第一次世界大戰結束後，中日戰爭爆發)  
(C) (甲午戰爭結束後，第一次世界大戰結束後)  
(D) (甲午戰爭結束後，中日戰爭結束後)

9. 承上題，日治時期，第一位文官總督田健治郎公布其施政方針：「…余以文官，初膺重任，殊感職責深重。……必先致推行教育，一方面啟發其知能、德操，一方面使我廷撫民精神與一視同仁之聖旨……與內地人在社會上觸無任何差別……」請問：上述第一任文官田健治郎的到任可能是在上圖中的哪一個時期？

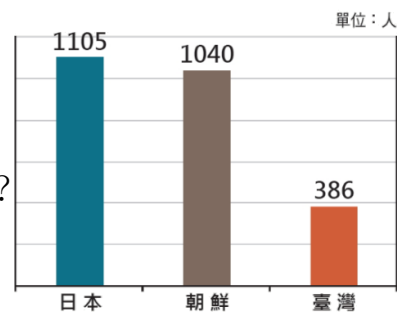
(A)甲時期 (B)乙時期  
(C)丙時期 (D)甲丙時期皆有可能

10. 下表為臺灣日治時期鐵路建設的部分整理表。根據此表內容判斷，請問：興建這些山線鐵路的原因為何？

興建單位	路線	起訖點	長度(公里)	建築時間
殖產局	阿里山線	嘉義—阿里山	71(包含支線共 113 公里)	西元 1908 年
	太平山線	羅東—太平山	37	西元 1924 年
	八仙山線	土牛—佳保臺	45	西元 1922 年

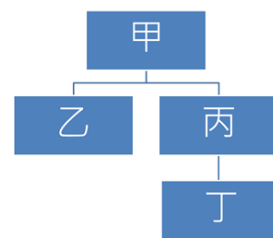
(A)進行山林資源的經濟榨取  
(B)推動臺灣的工業化發展  
(C)實施山區的專賣經營制度  
(D)強化西部鐵路交通的連接

11. 右表是 1924 年，日本、朝鮮與臺灣，每位警察管轄人數比較表。請問：由此圖可推斷出日本政府在台灣的這種警察比例配置是為了達到下列何種目的？  
(A)為了全面推動皇民化  
(B)為了落實日臺合一政策  
(C)為了防止西方歐美勢力入侵  
(D)為了鎮壓臺人武裝抗日



12. 右圖表示在日治時期甲運用乙配合地方上的丙及丁，達到嚴密控制台灣社會的目的。請問：關於甲乙丙丁的敘述何者**錯誤**？

(A)甲可以制定法律  
(B)乙可以逮捕犯人  
(C)丁需協助救災及鎮壓抗日分子  
(D)甲是指天皇，乙是指台灣總督，丙是指保甲，丁是指警察



13. (甲)我首先在西來庵籌劃抗日事宜，之後率眾襲擊派出所(乙)我率領賽德克族的同伴們突襲日本人，結果日本人反擊，使族人死傷慘重(丙)我率領軍隊在台南與日軍作戰，可惜作戰失利，只好內渡回中國。以上甲乙丙分別是三個發起抗日行動的領導者所做的事，請根據三個抗日行動發生的時間排列先後順序。  
(A)甲乙丙 (B)丙甲乙 (C)乙甲丙 (D)甲丙乙

14. 關於皇民化運動的推行情形，下列哪一個人的做法**不符合**？

(A)簡聖秋將自己的名字改成日本姓名「木村秋子」  
(B)逸敏家中改用榻榻米，飲食上也改吃壽司  
(C)忻怡穿著旗袍出門逛街  
(D)育慈常常到家裡附近的神社參拜



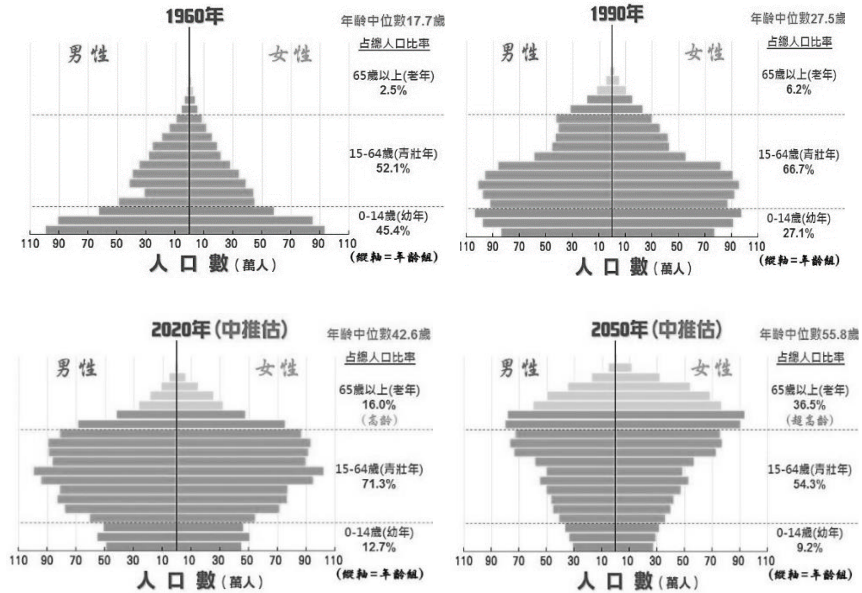
15. 下列表格內容是銀優曾經撰寫過的各劇本中的經典角色大綱，請問：下列哪一個角色是描寫日治時期的人物？  
(A)文彬 (B)產賀 (C)真祐 (D)敏赫

人物	角色設定
文彬	辛苦種植的甘蔗收購價格由會社決定，慘遭剝削。
產賀	加入糖郊，方便共同運送產品及制訂價格。
真祐	隨同軍隊一起開墾，自耕自食，寓兵於農。
敏赫	被東印度公司欺騙，前來台灣開墾土地。

16. 下列建設對於台灣的農業皆有很大的幫助，請根據建設的時間排列先後順序。  
(甲)八堡圳的興建完成 (乙)嘉南大圳的完工  
(丙)蓬萊米的培植成功  
(A)甲乙丙 (B)甲丙乙 (C)乙丙甲 (D)丙甲乙

【第 17 至 19 題為題組】

下圖甲、乙、丙、丁為台灣不同時期的人口金字塔，可依此圖推估不同時期的人口結構，並判斷人口政策是否適宜。請問：



17. 下列關於各年代的人口金字塔解讀，何者正確？  
(A)1960 年代的死亡率最低  
(B)1990 年代的移入率最低  
(C)2020 年代的移出率最低  
(D)2050 年代的出生率最低

18. 哪個時期的人口金字塔顯示，壯年人口的扶養負擔最沉重？  
(A)1960 年代 (B)1990 年代 (C)2020 年代 (D)2050 年代

19. 若由台灣人口金字塔的變化趨勢來看，政府應立即推廣下列哪項政策以因應未來需求？  
(A)提倡國人節育措施 (B)鼓勵國人提早退休  
(C)提升托老照護能量 (D)增設國中小學校舍

【第 20 至 22 題為題組】

下表為民國 95 年~民國 135 年的台灣人口結構預估統計表，請根據此表回答下列問題：

年別	男性 (千人)	女性 (千人)	占全國總人口之比例			總人口數 (千人)
			0-14 歲(%)	15-64 歲(%)	65 歲 以上(%)	
95 年	11,591	11,284	18.12	71.88	10.00	22,875
105 年	11,719	11,820	13.02	73.98	13.01	23,539
115 年	11,363	11,737	11.26	68.11	20.63	23,100
125 年	10,679	11,302	9.51	65.23	27.96	21,981
135 年	9,545	10,351	8.08	57.44	34.48	19,896

20. 由表中資訊判斷，關於民國 95 年~民國 135 年人口結構的性別組成，下列敘述何者正確？  
(A)民國 95 年的性別比為 91  
(B)民國 135 年的性別比為 92  
(C)女性人口愈來愈多  
(D)男性人口愈來愈多

21. 由表中資料判斷，下列關於民國 95 年~民國 135 年人口結構的年齡組成敘述，何者正確？  
(A)扶養比愈來愈高 (B)扶養比愈來愈低  
(C)扶養比先高後低 (D)扶養比先低後高

22. 由表中資料判斷，為因應台灣人口未來的發展趨勢，下列哪個政策較可行？  
(A)重視節育計畫，藉以提高人口素質  
(B)縮減移民業務，降低外籍人士比例  
(C)提高總生育率，促使人口合理成長  
(D)實施區域計畫，誘導人口均衡發展

【第 23 至 25 題為題組】

下表為台灣 6 個直轄市的人口統計數據，請根據此表回答下列問題：

年	自然增加率(‰)			社會增加率(‰)		
	107 年	108 年	109 年	107 年	108 年	109 年
台北市	1.9	1.3	0.7	-7.3	-10.2	-17.0
桃園市	4.4	4.3	3.7	10.5	8.3	5.1
台中市	2.0	1.4	0.8	4.0	2.7	1.2
台南市	-1.5	-1.9	-2.4	0.1	0.4	-0.8
高雄市	-0.5	-0.9	-1.0	-0.7	0.7	-1.6

23. 由表中的人口數據來看，關於直轄市的人口發展趨勢，何者正確？  
(A)台北市總人口數持續成長  
(B)桃園市總人口數持續減少  
(C)台南市總人口數持續成長  
(D)高雄市總人口數持續減少

24. 若由表中數據判斷，下列關於直轄市人口遷移的解釋，何者正確？  
(A)台北市教育資源充足，拉力大於推力，人口持續減少  
(B)高雄市生活機能便利，推力大於拉力，人口持續增加  
(C)桃園市工作機會豐富，拉力大於推力，人口持續增加  
(D)台中市交通位置便利，推力大於拉力，人口持續減少

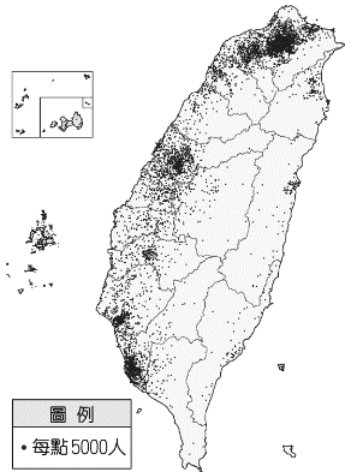
25. 直轄市政府根據其人口發展趨勢制定相關政策，下列各項政策中，何者符合當地的人口發展趨勢？  
(A)台北市：推動社會住宅政策，減少人口移入趨勢  
(B)桃園市：適時增加工作機會，減緩人口外移趨勢  
(C)台南市：提高房屋所得稅金，減少人口移入趨勢  
(D)高雄市：增加生育補助金額，提升婦女生育意願

【第 26 至 27 題為題組】

右圖為台灣人口分布圖，請根據此圖回答下列問題：

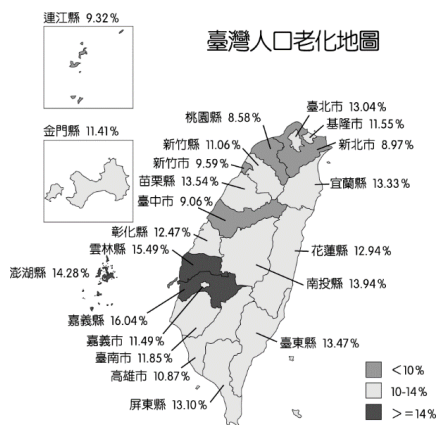
26. 此張地圖的主要功能是協助使用者理解何種人口資訊？  
(A)人口成長趨勢  
(B)人口密度高低  
(C)人口結構組成  
(D)人口素質強弱

27. 觀察此張地圖判斷，下列關於台灣人口分布之敘述，何者正確？  
(A)台灣人口分布均勻  
(B)都市人口分布較多  
(C)山地人口分布較多  
(D)東部人口分布較多

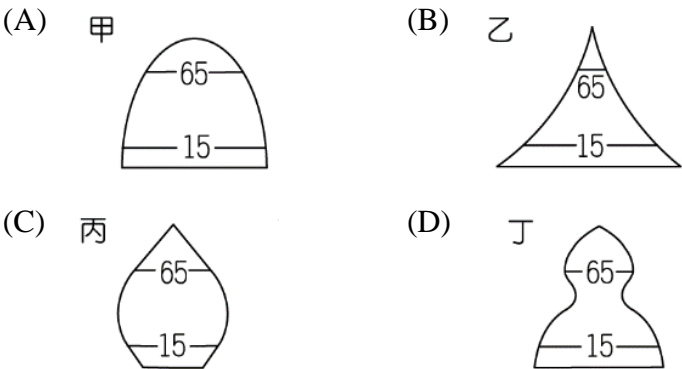




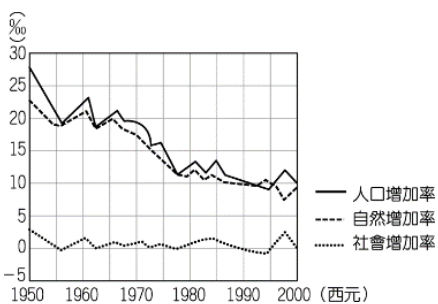
【第 28 至 29 題為題組】  
右圖為台灣人口老化地圖，由圖中資訊可知各地區老年人口占當地人口的比例，並從中判斷不同地區的人口老化差異。請問：



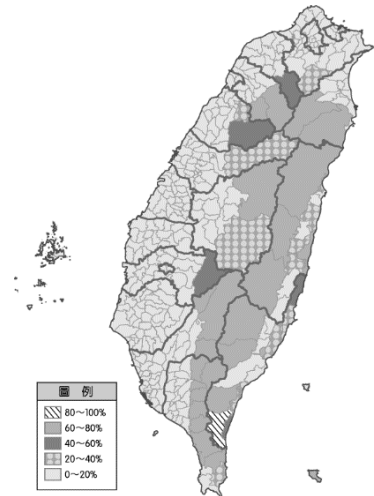
28. 圖中老年人口比例較高的地區，可能是受到下列哪項因素影響？  
(A)人口推力較高  
(B)生活步調悠閒  
(C)醫療衛生進步  
(D)工作機會較多
29. 圖中老年人口比例較高的地區，其人口金字塔可能是下列何者？



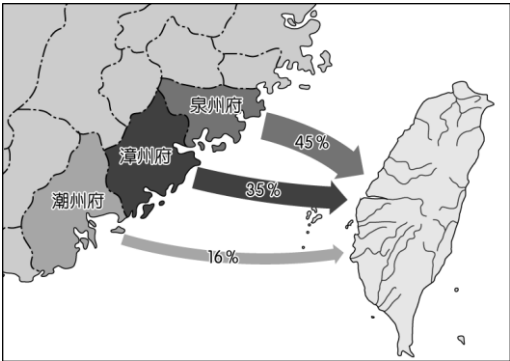
30. 右圖為某國近年來的人口指標，由圖中的指標判斷，關於此國的人口發展的敘述何者正確？  
(A)大量人口持續外移  
(B)當地人口持續成長  
(C)當地人口持續減少  
(D)幼兒出生人數增加



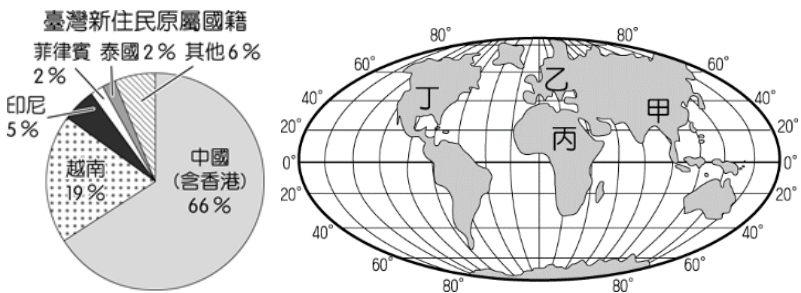
31. 「原住民族基本法」中明訂在原住民族傳統領域土地的開發案，需經過原住民部落同意方可通過，然而私人土地的開發是否比照辦理則引起了不小爭議。若以右圖台灣各鄉鎮原住民族比例圖來看，原住民族的傳統領域土地多分布於何種地形？  
(A)平原 (B)盆地  
(C)山地 (D)台地



32. 台灣的多元飲食特徵來自不同族群的原鄉文化，下圖為台灣某時期的人口移動示意圖，請根據此圖判斷，下列何種飲食文化與此圖有關？  
(A)客家擂茶 (B)越南春捲 (C)珍珠奶茶 (D)小米酒



33. 台灣的新住民人數約 54 萬餘人，其原屬國籍如下圖所示，除了中港外，多來自於圖中何處？  
(A)甲 (B)乙 (C)丙 (D)丁



34. 新聞報導：台灣是最歡迎韓流（韓國流行文化）的國家之一，在韓國最新發表的一份關於韓流的研究報告中指出，台灣的「韓流指數」全球排名第十一。所謂的「韓流指數」，指的是包含電視連續劇、綜藝節目、電影、音樂、動漫畫、線上與手機遊戲、時尚美容、飲食、圖書出版等各項韓國文化商品在該國受歡迎的程度。請問：關於韓流效應的評論，下列敘述何者正確？  
(A)我國若過度受韓流效應的影響，會產生我族中心主義  
(B)韓流效應無形中會傳遞韓國文化的價值觀  
(C)韓流文化已成為我國的主流文化  
(D)認同韓流文化才能促進文化發展
35. 下列是部分國家的婚禮習俗，依內容判斷，何者敘述錯誤？

印度：將薑黃糊狀物塗在新娘的臉部和身體上  
日本：家庭們聚在一起喝清酒  
奧地利：用槍響或鞭炮去吵醒婚禮當天的新娘  
義大利：避免在星期二或星期五結婚

- (A)各國都有婚禮習俗，是文化的普遍性  
(B)從各國不同的習俗可看出文化的高低優劣性  
(C)婚禮進行的方式對該國民眾是一種社會規範  
(D)各國婚禮方式不同說明文化的差異性
36. 新聞報導：立法院最新通過的「動物用藥殘留標準」行政命令，增加豬肉中萊克多巴胺含量限制的殘留容許量，分別為肌肉與脂肪、胃、心、腸、肺等內臟部分限量為 0.01ppm，肝及腎的限量則為 0.04ppm。若經稽查發現有違反規定的超標業者，可以處以新台幣 6 萬元以上 2 億元以下罰鍰。請問：文中畫線內容最能彰顯法律何項特徵？  
(A)國家可以強制力來處罰違反法律者  
(B)國家須依一定程序來制定法律  
(C)法律無法規範人民的內在真實想法  
(D)只有法律能規範人的外在行為
37. 新聞報導：丹麥正式加入禁止在公共場合穿戴面紗的行列，若違反該項規定，將可能被罰 1,000 丹麥克朗（約新台幣 4,883 元）；若是累犯，則最高可罰 10,000 丹麥克朗（約新台幣 48,830 元）。這項新法被認為有歧視穆斯林之嫌，數百名穆斯林女性不滿法令走上街頭、表達抗議。請問：上述內容顯示出哪兩種社會規範的衝突？  
(A)法律與倫理道德 (B)法律與風俗習慣  
(C)法律與宗教信仰 (D)宗教信仰與倫理道德

38. 下列有關「法律」和「倫理道德」兩種社會規範的比較，何者正確？

選項	法律	倫理道德
(A)產生方式	長期累積而成	依一定程序制定
(B)約束力	不具強制性	具有強制性
(C)處罰方式	國家以公權力處罰	良心譴責、輿論批評
(D)舉例說明	遵守交通規則	清明祭祖掃墓

背面尚有試題

39. 小美在網路看到一篇文章如下：「臺灣早期推行的國語運動，在公共場合禁說閩南語、客語或原住民各族的母語，使得這些族群不能在公開場合使用母語，產生文化當中語言不平等的現象。因為語言是傳達文化的工具，進而造成這些族群文化的流失。又如居於官方的統治者喜歡看「京戲」，京戲遂在政府的輔助下受到重視，而本土化的「歌仔戲」、「布袋戲」反而被忽視，這是一種【甲】的現象。」請問：文中【甲】應為下列何者？

- (A)文化衝突 (B)文化多元  
(C)文化創新 (D)文化位階

40. 「三月瘋媽祖」的俗語，深深表達媽祖信仰和信眾朝拜的盛況，而大甲媽祖繞境龐大的進香人潮和多天的長途跋涉，更是臺灣文化中相當特殊的現象。來自四面八方的香客以各式的交通工具進行進香儀式，而沿途各地迎接媽祖的信眾，會殺雞宰鴨招呼香客進用餐飲，這是「大甲媽祖」繞境最富人情味的特色之一。首次參加者，要穿新衣，表示對神明敬意，信徒隨香期間也要遵守禁酒的規定。根據上述文章內容判斷，下列敘述何者正確？

- (A)媽祖信仰來自自然神靈，因此不屬於文化的一部分  
(B)媽祖信仰會以戒律作為信徒的行為準則  
(C)每年的媽祖繞境展現出文化的普遍性  
(D)信徒未遵守進香規定，國家可用公權力處罰

【第 41 至 42 題為題組】

有一名日本人在 PTT 發文指出，來過臺灣一次覺得臺灣很落後、印象非常差。有一次去南部吃滷肉飯，看到地上蟑螂亂爬；逛夜市也覺得噁心，老闆拿食物跟找錢用同隻手、大聲叫賣噴口水等等，街道上機車比汽車多，感覺容易被撞。一名自稱日語導遊回文平反，關於日本人覺得台灣用餐髒亂的部分，他批評有些導遊偏要帶注重衛生的日本人去破舊又髒亂的店吃飯，就像日本人覺得八角臭，就偏要帶他們去吃加八角的牛肉麵，讓他們誤以為台灣牛肉麵噁心。他認為優秀的導遊知道日本人追求和注重什麼，帶團不是只推薦在地人覺得好的東西。再來談到機車，他會先跟遊客打預防針，台灣的交通要注意什麼部分，若事先宣導過，大部分日本觀光客也覺得還好，接著進一步跟他們解釋台灣機車為何盛行，即使不認同也是可以理解。

41. 下列何種概念最能說明發文日本人給予台灣負面形象的原因？

- (A)多元文化主義 (B)我族中心主義  
(C)文化相對主義 (D)文明低落主義

42. 由內容判斷，該名日本人欠缺何種精神？

- (A)肯定自我文化 (B)積極創新文化  
(C)包容文化差異 (D)擴展國際視野

【第 43 至 44 題為題組】

報導一：「因為 COVID-19，人們不得不在家隔離，與家裡的父母兄弟姐妹也要保持距離，以免相互感染，而且避免外出活動，傳染給他人。隨著人們外出減少，經濟蕭條，不少商家苦不堪言。對此，NASA 科學家卻帶來正面好消息：地球得到喘息，污染不斷下降，許多城市見到久違的寧靜與乾淨，這是從未見過的景象。」

報導二：「因應 COVID-19 防疫整備，中央流行疫情指揮中心宣布，自 12 月 1 日起，強制要求民眾進入「醫療照護、大眾運輸、生活消費、教育學習、觀展觀賽、休閒娛樂、宗教祭祀、洽公」等八大類場所應佩戴口罩。若未依規定佩戴口罩，經勸導不聽者，由地方政府裁罰新台幣 3000 元以上 15000 元以下罰鍰。」

43. 報導一內容未提及「倫理道德」的哪一範疇？

- (A)傳統五倫 (B)第六倫群己關係  
(C)環境倫理 (D)科技倫理

44. 報導二內容目的是要透過下列何者提醒民眾遵守社會規範？

- (A)公權力的制裁 (B)社會輿論的批評  
(C)內在良知的譴責 (D)超自然力量的約束

【第 45 至 46 題為題組】

網路世界瞬息萬變，流行語、網路用語也層出不窮，曾經紅極一時的傻眼貓咪、踹共與 8+9 早已跟不上流行，取而代之的是「當我塑膠」、「是在哈囉」、「別旋轉我」或是「不要講咖啡話」，有網友因看不懂而產生困惑甚至焦慮感！

45. 關於網路流行語文化的敘述，何者正確？

- (A)網友愛用流行語是一種文化傳承  
(B)流行語是次等文化的表現  
(C)與主流文化不一定互相排斥  
(D)相較於一般的語詞，流行語是多數人認同的文化

46. 文中畫線部分是指文化的何種現象？

- (A)多元文化 (B)文化位階 (C)文化認同 (D)文化衝擊

【第 47 至 48 題為題組】

小茵在旅遊雜誌上看到一篇文章如下：

一般而言，把拇指和食指連成圈狀，並將其餘三根手指舉起，做出「OK」手勢，代表「好」、「沒問題」；但這手勢亦可帶有負面意思——它在法國、比利時代表「零」或「一文不值」；在一些中東國家如科威特，它更象徵「惡魔之眼」。切記到國外不要亂比手勢，以免造成誤解與衝突。

47. 相同手勢在各國卻有不同的意義，顯示出文化何種特性？

- (A)差異性 (B)普遍性 (C)累積性 (D)制約性

48. 依內容判斷該文章主題最可能為下列何者？

- (A)社會變遷 (B)我族中心主義  
(C)入境隨俗 (D)文化融合

【第 49 至 50 題為題組】

報載：「每年元宵節，吸引海內外成千上萬的旅客到訪山城平溪，目睹上百盞天燈同時升空的壯觀景象。傳統天燈底座由鐵絲與竹片製成，今年有業者研發全由紙漿製作的永續天燈升空後整顆燒為灰燼，可防止天燈殘骸落入山林。也是平溪天燈節舉辦 20 年來，頭一次施放永續天燈，藉此回應民眾友善環境的訴求。」

49. 下列何者敘述與上述內容相呼應？

- (A)風俗習慣因受到民眾重視而被制定成法律  
(B)社會規範會因應時代的變遷而轉變  
(C)風俗習慣對個人行為有監督作用  
(D)每種社會規範都有存在的功能

50. 業者研發永續天燈以減少對環境的傷害，此作為最能彰顯何項社會規範的內涵？

- (A)法律 (B)風俗習慣 (C)宗教信仰 (D)倫理道德

試題結束

新北市立新莊國民中學 109 學年度第 2 學期第 1 次段考 7 年級社會領域試題  
解答

1	2	3	4	5	6	7	8	9	10
<b>A</b>	<b>C</b>	<b>A</b>	<b>D</b>	<b>B</b>	<b>C</b>	<b>B</b>	<b>D</b>	<b>B</b>	<b>A</b>
11	12	13	14	15	16	17	18	19	20
<b>D</b>	<b>D</b>	<b>B</b>	<b>C</b>	<b>A</b>	<b>B</b>	<b>D</b>	<b>A</b>	<b>C</b>	<b>B</b>
21	22	23	24	25	26	27	28	29	30
<b>D</b>	<b>C</b>	<b>D</b>	<b>C</b>	<b>D</b>	<b>B</b>	<b>B</b>	<b>A</b>	<b>D</b>	<b>B</b>
31	32	33	34	35	36	37	38	39	40
<b>C</b>	<b>A</b>	<b>A</b>	<b>B</b>	<b>B</b>	<b>A</b>	<b>C</b>	<b>C</b>	<b>D</b>	<b>B</b>
41	42	43	44	45	46	47	48	49	50
<b>B</b>	<b>C</b>	<b>D</b>	<b>A</b>	<b>C</b>	<b>D</b>	<b>A</b>	<b>C</b>	<b>B</b>	<b>D</b>