

新北市立新莊國民中學 109 學年度第 2 學期第 1 次段考 8 年級社會領域試題卷

班級 座號 姓名

- ※ 選擇題：本試卷共 50 題，每題 2 分，總分為 100 分。
每一題均為單選題，請選出最適當答案。
※ 請用 2B 鉛筆在答案卡上相應的位置畫記。

1. 右圖為出現在民初大公報上的外交報導及時事漫畫。請問：根據這兩張圖片的內容，下列敘述何者正確？

- (A)「歐洲和平大會」召開時為第二次世界大戰結束
(B)「21 條各案」是指民國 4 年孫中山接受日本對於山東特權的要求
(C)「巴黎專電」的內容傳回國內而引發以「外爭主權，內除國賊」為訴求的運動
(D)「國外情形勢將為此」是指德國向與會國施壓，拒絕將山東權利交還中國



2. 右圖是童趁記於 1910 年加入中華民國國民軍的憑票，可以用來證明他的黨員身分。請問：關於童趁記加入組織之敘述，下列何者正確？

- (A)光緒 20 年於夏威夷檀香山成立
(B)鼓吹立憲運動，希望清朝制定憲法、成立內閣
(C)入會的誓詞含有孫中山先生三民主義的思想
(D)發動雲南起義，逼使袁世凱撤銷帝制



3. 小明找到一枚爺爺收藏的古銀幣（如右圖），上面寫著「中華帝國 洪憲紀年」。小明查閱相關資料，發現發行的時代正值民國初年某位領導者在位時。請問：下列何者為此位領導者的事蹟？

- (A)國民黨發動二次革命成功而被迫退位
(B)制定採取內閣制的中華民國臨時約法
(C)民國元年被選為第一任的中華民國臨時大總統
(D)不願意南下就職，臨時政府只好遷往北京



4. 民初雜誌上有一篇文章寫道：「假使有人問：『何以要擁護德先生和賽先生便不能不反對國粹和舊文學呢？』答案自然是：『因為國粹和舊文學是同德賽兩位先生反對的』。又問：『何以凡德賽兩位先生反對的東西都該反對呢？』…新思潮的根本意義只是一種新態度。這種新態度可叫做『評判的態度』」。請問：下列何者與此篇文章刊登的時代背景「無關」？

- (A)讚揚民主與科學的價值
(B)鼓吹以文言文取代白話文
(C)批判傳統儒家思想的權威
(D)介紹西方的新思想、新學術

5. 「往昔的歐人對於孩子的誤解，是以為成人的預備；中國人的誤解，是以為縮小的成人。直到近來經過許多學者的研究，才知道孩子的世界，與成人截然不同；倘不先行理解，一味蠻做，便大礙於孩子的發達。所以一切設施，都應該以孩子為本位。」請問：上述理念最有可能是由何人所提出？

- (A)魯迅 (B)康有為 (C)蔡元培 (D)陳獨秀

6. 挪威戲劇家易卜生所創作的《玩偶之家》描述女主角娜拉看透丈夫的自私和夫妻間的不平等，不甘心做丈夫的玩偶，憤而離家出走。此劇上演時引起熱烈回響，並在民國初年透過雜誌被介紹到中國。請問：此劇引進中國時，下列何者「不是」新知識分子的觀念？

- (A)女性可關心社會、參與政治活動
(B)重視「女子無才便是德」
(C)女性身體自主，能選擇展現自己的方式
(D)提倡「男女平等」，女性進入就業市場

7. 「清廷原本同意川漢、粵漢鐵路由地方紳商興辦，卻於 1911 年強行收回民間的路權。政府僅發給四川省的投資者股票以補償其損失，引起紳商強烈不滿，甚至造成和政府間的流血衝突。」請問：上述事件有助於革命派人士在下圖何處發動武裝起事而成功？

- (A)甲 (B)乙 (C)丙 (D)丁



8. 民國 12 年報紙曾刊登廣告（如右圖）希望有人能夠提供解決中國戰爭頻仍、推動和平的方法。請問：當時中國面臨什麼樣的問題？

- (A)袁世凱製造恢復帝制的輿論，企圖稱帝
(B)宣統皇帝不願退位，民主共和的理想難以落實
(C)軍閥依附列強，企圖奪取政權，爭戰不休
(D)袁世凱解散國會，由總統獨攬大權



9. 右表為中華民國所制定的重要日子，請問：這些日期所發生的歷史事件，若按時間先後順序排列，下列何者正確？

	日期	節日
甲	5 月 9 日	國恥紀念日
乙	1 月 1 日	元旦
丙	3 月 29 日	青年節
丁	10 月 10 日	國慶日

- (A)甲乙丙丁 (B)丁乙丙甲 (C)丙丁乙甲 (D)乙甲丁丙。

10. 第一次世界大戰爆發，歐洲各國捲入戰火，遠在亞洲的中國亦無法置身事外。請問：下列何者與第一次世界大戰有關？

- (A)日本藉口對德國作戰，派兵佔領中國東北地區
(B)民國 6 年中國參戰，和德國同一陣營
(C)中國為戰敗國身分，戰後被迫接受對德和約
(D)中國派遣華工到歐洲戰場協助英、法等國

背面尚有試題

新北市立新莊國民中學 109 學年度第 2 學期第 1 次段考 8 年級社會領域試題卷

班級 座號 姓名

11. 民初一場抗議活動的標語為「還我青島，勢死力爭」，請問關於此運動的敘述，下列何者正確？

(A)政府鎮壓抗議的學生，運動宣告失敗
(B)南京各校學生發起遊行示威，各地也罷課響應
(C)僅學生參與活動，社會其他階層民眾並未加入
(D)加深民眾對於國家和民族的認同

12. 「吾以為今日而言文學改良，須從八事入手。八事者何？一曰，須言之有物。二曰，不摹倣古人。三曰，需講求文法。四曰，不作無病之呻吟。五曰，務去濫調套語。六曰，不用典。七曰，不講對仗。八曰，不避俗字俗語。」請問：上文最有可能是何人所言？

(A)梁啟超 (B)胡適 (C)李鴻章 (D)曾國藩

13. 鄭毓秀被任命為巴黎和會中國代表團成員，她以缺席的方式拒簽凡爾賽和約，山東問題因此成為懸案。她在中國積極推展女權運動，是歷史上第一位女性法院院長、獲得博士學位的女性律師，集諸多「第一」於一身的「新女性」。請問：鄭毓秀等人追求女性獨立自主的精神，最有可能是受下列何者影響？

(A)自強運動 (B)新文化運動
(C)戊戌變法 (D)庚子後新政

14. 陳獨秀在《新青年》中宣傳這種源自於西方的學說，隨後他開始設計黨綱，在各地組織小組，重視工人及黨員的教育，並將部分國人送往蘇聯接受訓練。1921年成立[]，第一次全國代表大會在上海召開。他成為首任總書記，是[]黨最高的領導人。請問：[]指的是下列何者？

(A)中華革命黨 (B)中國國民黨
(C)民主進步黨 (D)中國共產黨

15. 周作人的兒童雜事詩以兒童的觀點看待過新年的民俗活動（如右圖）。請問：該詩的創作背景，與下列何者「並無」關聯？



(A)兒童文學的創作風氣興起
(B)將兒童視為一個「完全的人」
(C)鼓勵兒童擁有專屬讀物
(D)認為兒童只是成人的附屬品

16. 資料（一）：大清皇帝統治大清帝國萬世一系，承永尊戴。君上神聖尊嚴不可侵犯，法律雖經議院議決而未奉詔令批准不能見諸實行。用人之權操之君上，而大臣輔弼之，議院不得干涉。

資料（二）：中華民國之主權屬於國民全體。中華民國人民一律平等，無種族、階級、宗教之區別。中華民國以參議院、臨時大總統、國務院、法院行使其統治權。中華民國之立法權以參議院行之。

根據資料（一）與資料（二）的內容，請問下列敘述何者正確？

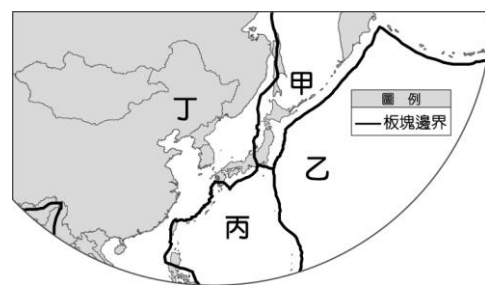
(A)資料（二）顯示中華民國採取君主立憲的體別
(B)從資料（一）可以看出清朝對於民主共和的重視
(C)從資料（二）得知代表人民的國會擁有中華民國的政治實權
(D)資料（一）的歷史背景是清朝應孫中山等人的要求而預備立憲

17. 臺灣位於亞洲的何區域？

(A)東北亞 (B)東南亞 (C)東亞 (D)南亞

18. 日本的地形山多平原少，第二大城市大阪位於哪塊平原上？
(A)關東平原 (B)關西平原 (C)濃尾平原 (D)近畿平原

19. 右圖為東北亞板塊分布圖，臺灣島的形成與哪兩個板塊有關？



(A)丙丁
(B)甲乙
(C)甲丁
(D)乙丙

20. 下列何者不是中國與北韓的國界？

(A)鴨綠江 (B)珠江 (C)圖們江 (D)白頭山脈

21. 下列何國不在環太平洋火山地震帶？

(A)印度 (B)日本 (C)紐西蘭 (D)美國

22. 朝鮮半島的地形，以何方位的地勢最低？

(A)東南 (B)西南 (C)東北 (D)西北

23. 東北亞的夏季季風風向為何？

(A)東南風 (B)西南風 (C)東北風 (D)西北風

24. 日本的四大島嶼中，何者的冬季最寒冷？

(A)九州 (B)本州 (C)北海道 (D)四國

25. 日本的冬季季風吹過何處，吸收水氣，在日本西岸造成降水？

(A)臺灣海峽 (B)南海 (C)太平洋 (D)日本海

26. 日本沖繩島那霸市的經緯度約為26°N, 127°E，位於臺灣本島的何方位？

(A)西北 (B)西南 (C)東北 (D)東南

27. 下列島嶼中，何處的櫻花應該會最早綻放？

(A)臺灣 (B)九州 (C)本州 (D)北海道

28. 下列何者不是日本的漁業優良條件？

(A)鄰近西北太平洋漁場 (B)海岸線曲折
(C)寒暖流交會 (D)沙灘廣布

29. 日本工業區的分布位置，與何種工業區位最有關係？

(A)原料 (B)交通 (C)動力 (D)市場

30. 第二次世界大戰後，朝鮮半島大致以北緯幾度為界線，分為北韓與南韓？

(A)30 (B)38 (C)45 (D)50

31. 2018年4月，南北韓的最高領導人於國界線上的何處舉行高峰會，大眾稱為「文金會」？

(A)板門店 (B)首爾 (C)釜山 (D)光州

32. 下表為南北韓的比較表，何項正確？

	北韓	南韓
國家體制	民主	共產
經濟制度	資本主義	共產主義
礦產資源	豐富	缺乏
農業發展	較好	較差

(A)國家體制 (B)經濟制度 (C)礦產資源 (D)農業發展

請繼續作答下張試卷

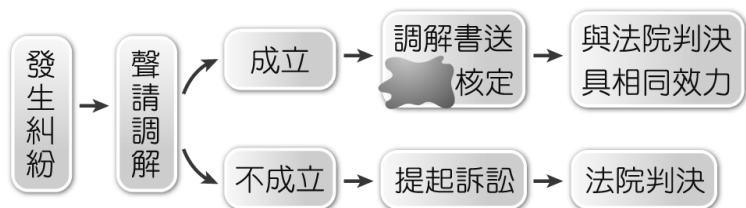
33. 下列何者不是南韓的大企業？

- (A)三星電子 (B)現代汽車
(C)樂金電子 (D)TOYOTA汽車

34. 位於屏東的財團法人東隆宮，配合迎王祭典的舉辦，開賣文創商品「小王馬」娃娃，每人限購2隻，開賣當天超過5千人在現場排隊購買。今年的新春文創商品「馬上牛轉」小王馬，因疫情關係改為預購，熱銷依舊。從《民法》檢視，何者正確？

- (A)小王馬受商標權保障
(B)限購是私人間財產上的權利義務關係
(C)限購為要式契約
(D)限購是借貸契約

35. 凱吉在製作調解流程圖時，不小心將附圖中幾個字沾上污漬，被汙漬遮住的幾個字應為下列何者？



- (A)法院 (B)調解委員會
(C)行政院法務部 (D)鄉、鎮、市、區公所

36. 「新北市立圖書館之規定：借閱圖書資料須於規定期限內歸還，如有逾期，即停止借閱及預約權利。逾期之圖書資料歸還後，俟停權日數期滿或繳清違約金方恢復借閱及預約權利。借閱資料請善盡保管責任，如有遺失、毀損、圈點、評註或缺頁等情事，請自購相同或較新版本之圖書或視聽資料、期刊、報紙以相同名稱、刊期及日期者為限，並向本館任一閱覽單位辦理賠償。」下列相關敘述，何者正確？

- (A)借閱書籍逾期未還要負起侵權行為的責任
(B)圖書毀損，若無法回復原狀，則以金錢賠償
(C)借閱圖書屬於我國《民法》中身分關係
(D)借閱書籍屬於我國《民法》中買賣行為

37. 關於下述兩人的「借款契約書」，依照《民法》之規定，下列敘述何者正確？

借款契約書

本人 陳柏霖 向 林添培 借款新台幣 180 萬元整，經雙方同意，特立此據。

甲人：陳柏霖

戶籍住所：新北市板橋區中山路一段 161 號

身分證字號：S123456789

乙人：林添培

戶籍住所：台中市西區民權路 99 號

身分證字號：F129173822

中華民國 109 年 05 月 26 日

- (A)本借貸契約之消滅時效為民國119年
(B)陳柏霖若未還款須負侵權行為責任
(C)如有法律糾紛限以提起民事訴訟的救濟方式
(D)甲應填入債務人，乙應填入債權人

38. 大明與美麗兩人今年剛滿18歲，美麗卻發現自己不小心懷孕了，和大明討論後決定結婚一起迎接小生命。沒想到婚後不久，大明遭未成年且無照駕駛的阿雄追撞重傷。從《民法》檢視，何者正確？

- (A)剛滿法定最低結婚年齡就可以自行同意結婚
(B)兩人結婚須到地政機關辦理登記
(C)阿雄及其父母可主張自己當時無識別能力，即不須負損害賠償責任
(D)此為傷害他人身體健康的侵權行為

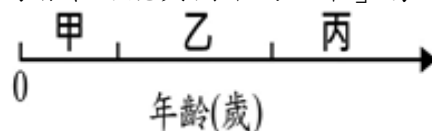
39. 謝媽媽在市場買菜時跟菜販討價還價，最後雙方以4把青菜50元附送一把蔥、二塊薑、一些小辣椒的條件完成買賣，請問：這是基於法律的哪一項原則？

- (A)誠實信用原則 (B)契約自由原則
(C)消滅時效 (D)禁止權利濫用

40. 是由當事人約定，互相讓步，以緩和紛爭的方法；特色是最為簡便，但欠缺與判決相同之效力。

- (A)調解 (B)民事訴訟
(C)訟訴上的和解 (D)私下和解

41. 下圖為《民法》中有關年齡、精神狀態與行為能力程度的示意圖，甲、乙、丙分別代表不同程度的行為能力。下列何者最可能與圖中的「甲」屬於相同程度的行為能力？



- (A)10歲因故仍未就學的俊佑
(B)受到法院輔助宣告的麗美
(C)遭到褫奪公權的宏宇
(D)受到法院宣告監護宣告的定一

42. 俊彥就讀於新莊國中八年級，下圖是他的記事本內容，請問：哪些事項在法律行為上是無效的？

- (甲) 2/03-和同學到西門町看電影
(乙) 2/23-到合作社買了1個麵包和2個飲料
(丙) 3/05-到電信公司申辦手機門號
(丁) 3/10-自己跟星探簽經紀約
(戊) 3/24-領取學校的獎學金

- (A)甲乙 (B)丙丁 (C)丁戊 (D)乙戊

43. 簡姓屋主找鄭姓師傅承包300萬的裝潢，鄭姓師傅收了100多萬的工程款，不過裝潢卻做半套就消失。請問，此事件，下列何項法律觀點錯誤？

- (A)簡姓屋主可向鄭姓師傅要求賠償損失
(B)簡姓屋主可向鄭姓師傅請求解除契約
(C)鄭姓師傅的行為符合民事上的侵權行為
(D)鄭姓師傅的行為符合民事上的契約不履行

44. 二十三歲李子維大學畢業後與二十歲的女朋友陳韻如為追求理想，向銀行借了一筆款項，共同成立一家「想見你」茶飲公司，但之後因李子維感情劈腿，陳韻如秉著相見不如懷念的心情，決定結束公司營運與李子維分道揚鑣。根據《民法》相關內涵，請問以下何者較為正確？

- (A)兩人因創業向銀行籌措資金，為租賃契約
(B)「想見你」茶飲公司的一系列品牌(logo)標識，是有形財產
(C)兩人是完全行為能力人，行為在法律上具完全效力
(D)兩人可主張因結束公司營運，與銀行之間「債」的關係變消滅

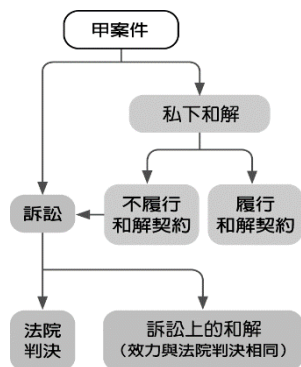
45. 下表有關「訴訟」與「調解」的比較，哪些是正確的？

	訴訟	調解
(甲)程序	當事人提出	當事人聲請
(乙)法律效力	法院判決確定， 可聲請強制執行	經法院核定的調解 書，可聲請強制執行
(丙)費用	需付出訴訟費用	需付出調解費用

- (A)甲乙 (B)甲丙 (C)乙丙 (D)甲乙丙

46. 依琳將甲案件的和解流程整理如右圖，根據圖示，此案件應為下列何者？

- (A)借貸糾紛
(B)詐欺案件
(C)竊盜案件
(D)殺人案件



47. 台北市衛生局進行火鍋業者現場菜單標示及實際使用食材查核卻發現，火鍋店的菜單標示內容與實際使用食材不一致的情形，依消費者立場而言，商家違反了我國《民法》所規定的哪項權利行使原則？

- (A)消滅時效原則 (B)權利濫用禁止原則
(C)誠實信用原則 (D)契約自由原則

48. 租賃房屋時簽訂書面契約，主要目的為何？

- (A)因書面契約的蓋章才具法律效力
(B)因書面契約的簽名才具法律效力
(C)因口頭的意見表示並不具備法律效力
(D)若日後有糾紛可作為舉證的證據，確保當事人權益

49. 我國《民法》規範的事項，「繼承」與下列何者同屬於身分關係？

- (A)買賣 (B)租賃 (C)借貸 (D)婚姻

50. 附表中關於「私下和解」與「訴訟上和解」的比較，哪一項正確？

項目	私下和解	訴訟上和解
(A)方式	在提起訴訟後 於法官面前做成和解	當事人間不提起訴訟 以訂立和解契約的方式
(B)主管機關	法院	無
(C)效力	等同契約 不具強制執行力	等同法院判決 具強制執行力
(D)得調解之 案件	所有民事、刑事案件	所有民事、刑事案件

試題結束

新北市立新莊國民中學 109 學年度第 2 學期第 1 次段考 8 年級社會領域試題
解答

1	2	3	4	5	6	7	8	9	10
C	C	D	B	A	B	A	C	C	D
11	12	13	14	15	16	17	18	19	20
D	B	B	D	D	C	C	D	A	B
21	22	23	24	25	26	27	28	29	30
A	B	A	C	D	C	A	D	B	B
31	32	33	34	35	36	37	38	39	40
A	C	D	B	A	B	D	D	B	D
41	42	43	44	45	46	47	48	49	50
D	B	C	C	A	A	C	D	D	C