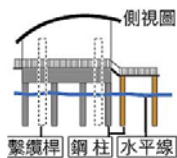


新北市立新莊國民中學 108 學年度第 1 學期第 2 次段考 9 年級社會領域試題卷

班 座號 姓名

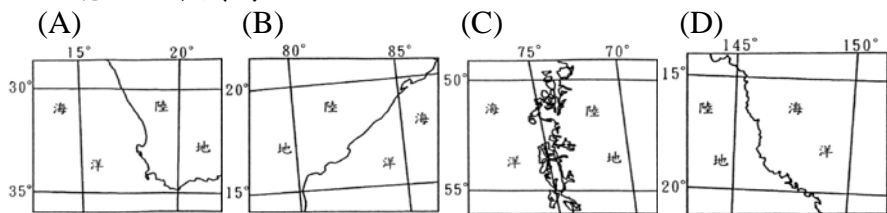
- ※ 選擇題：本試卷共 50 題，每題 2 分，總分為 100 分。
 每一題均為單選題，請選出最適當答案。
 ※ 請用 2B 鉛筆在答案卡上相應的位置畫記。

1. 建築師 Koen Olthuis 設計了「漂浮屋」，即使發生海水倒灌或大雨成災，都能浮在水上，免於被淹沒。請問：單就未來全球暖化海平面逐漸上升的趨勢來看，下列哪一個城市比較「不需要」此類型房屋？
 (A) 西班牙 馬德里 (B) 波蘭 格但斯克
 (C) 義大利 威尼斯 (D) 荷蘭 阿姆斯特丹



2. 西歐的河川大多發源於阿爾卑斯山，注入北海或大西洋，若要興建運河聯絡區域內的大河，則運河的走向大致會呈現何種方向？
 (A) 放射狀 (B) 東—西向 (C) 樹枝狀 (D) 南—北向

3. 「這個地區的河流都靠降雨來補給流量，冬季水流湍急，夏天河床則成為乾枯空曠的道路。」文中描述的地區最可能位於下列何地？



4. 「上個世紀的工業化發展，促使○
 ○河流域周邊國家的經濟突飛猛進成長，但也使得河川沿岸污染嚴重。因此由義大利、奧地利、列支敦士登、瑞士、法國、盧森堡、德國、比利時、荷蘭等 9 個沿岸國家成立流域共同委員會，協調該河從上游到下游的治理和保護工作，妥善整治污染。」請問上述河川位於右圖何處？
 (A) 甲 (B) 乙 (C) 丙 (D) 丁



5. 瑞士所生產的手錶是世界知名的產品，甚至是身分地位的象徵。請問他們致力於精密的鐘錶工業，與當地什麼地理限制有關？
 (A) 國土狹小，距海遙遠 (B) 勞力不足，素質低落
 (C) 地形多山，交通不便 (D) 政治不穩，缺乏投資



題組 1 「波羅的海之路」是發生於 1989 年 8 月 23 日的一次和平示威，這場抗議行動橫跨現今波羅的海沿岸三國(愛沙尼亞、拉脫維亞、立陶宛)，有 200 萬人加入這場活動，三國人民手牽著手，串成一個長度約 610 公里(約為台北—高雄來回距離)，南北縱貫三國的人鏈。「波羅的海之路」行動目的是希望全世界能夠關心三國被蘇聯強硬併吞國土的遭遇，顯示出人民的力量以及對於民主自由的渴望。請問：

6. 愛沙尼亞、拉脫維亞、立陶宛這三國位於歐洲哪一區？
 (A) 東歐 (B) 南歐 (C) 西歐 (D) 北歐
7. 同樣以民主自由為訴求的和平抗議行動--「連儂牆」則是指位於捷克首都一座廣場上的一道牆，1988 年開始，人們在牆上塗寫下生前鼓吹反戰爭理念的國際巨星(披頭四成員)約翰連儂所創作崇尚和平的歌詞，並張貼追求自由與民主的文宣，透過懷念逝世的巨星，間接表達對當時共產政權的極度不滿。請問這件史實發生於下列哪一座城市？
 (A) 基輔 (B) 莫斯科 (C) 華沙 (D) 布拉格
8. 相較波羅的海三小國及捷克已擺脫過去共產統治陰影，順利加入歐盟，經濟大為改善，下列何國則因國內親歐盟派與親俄派的意見分歧，導致政治分裂危機，社會動盪不安？
 (A) 波蘭 (B) 匈牙利 (C) 斯洛伐克 (D) 烏克蘭

題組 2 暎秀跟媽媽暑假時參加「北歐五國 15 天驚奇之旅」，走訪北歐各地美景。暎秀一路上在臉書打卡貼文，為自己留下旅程的美好回憶。下表是暎秀的臉書動態紀錄，請回答第 9~11 題。

10月4日	哥本哈根港邊的小美人魚銅像憂愁地望向大海，導遊說她已矗立有100年之久。
10月7日	桑拿房的煙燻烤得我們渾身發熱後又要出去跳到冰水湖裡，實在太刺激了!
10月9日	一路向北的過夜火車帶我們來到羅瓦涅米，這裡是聖誕老人的故鄉耶!
10月12日	今天我們去IKEA的發源地阿姆胡特小鎮，晚上還要住在IKEA的旅館裡呢!
10月14日	搭乘郵輪沿著蜿蜒的蓋倫格峽灣來到盡頭，壯麗的冰河谷映入眼簾，好震撼。
10月15日	這裡是「北角」，歐洲大陸最北端。終於在這看到「日不落」的永晝景象!
10月17日	最後一天我們來到首都最有名的景點「藍湖溫泉」，地熱發電廠就在不遠處。

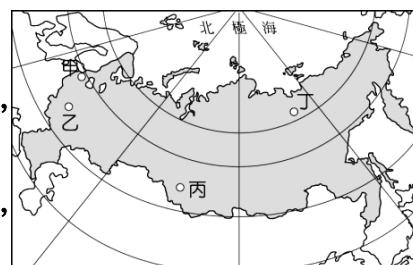
9. 根據動態貼文判斷，暎秀此次五國行程的路線，依據右圖造訪的國家順序應該如何排列？

- (A) 戊→乙→甲→丙→丁
 (B) 丁→甲→乙→丙→戊
 (C) 丙→丁→甲→乙→戊
 (D) 丁→乙→丙→甲→戊



10. 暎秀 10 月 15 日終於在「北角」看到「日不落」的永晝景象，此動態應該是在下列哪一個國家所發生？
 (A) 冰島 (B) 芬蘭 (C) 挪威 (D) 瑞典
11. 回臺灣前的最後一個國家在工業發展上具有下列哪一項產業發展優勢？
 (A) 礦產豐富 (B) 動力充足 (C) 交通便利 (D) 市場廣大

題組 3 在冰凍土分布的本區，早年常發生房子倒塌的意外。經分析後發現，由於夏季房屋內的熱氣會使房屋地基下的永凍土解凍，土層總體積減少，地表層下陷，進而引發房屋倒塌。幾經嘗試，工程師想出了加柱子墊高的方法，讓房屋地板下通風良好，熱度不致傳到地表層。於是高架式住屋成了人與環境調適下的居住建築景觀。請問：



12. 上述地點最可能位於圖中的何處？
 (A) 甲 (B) 乙 (C) 丙 (D) 丁
13. 關於此國的地理環境特色，下列敘述何者正確？
 (A) 西側大西洋沿岸海岸線綿長
 (B) 氣候嚴寒，全境皆為寒帶氣候
 (C) 人口分布不均，東密西疏
 (D) 多斯拉夫民族，信仰東正教

題組 4 每年的 3 月 17 日是西方國家重要節慶【聖派翠克節】，此節慶源自愛爾蘭對於傳教士聖派翠克的紀念，世界各地幾千萬愛爾蘭人後裔都會舉行盛大的年度聚會。美國早在 1737 年就開始用遊行來慶祝這個日子，英國、加拿大、澳大利亞等英語國家也都把這一天定為節日。參加聖派翠克節遊行慶典的人會穿著綠色服裝、領帶、髮飾及帽子，許多酒吧甚至會販賣綠色的啤酒及飲料！近年來全球各地著名地標也會點綴綠光一同歡慶。請問：

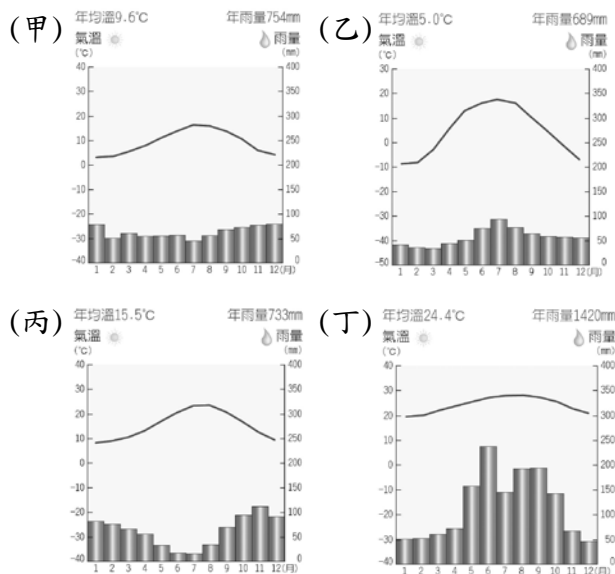
14. 今年的聖派翠克節，全球各地包括埃及金字塔、阿聯杜拜帆船旅館、中國萬里長城等多達 300 個以上著名地標同時打上綠光慶祝，歐洲也不例外，請問下列響應活動的地標與所在國家配對何者正確？
 (A) 義大利--帕德嫩神廟
 (B) 法國--聖家堂教堂
 (C) 莫斯科--聖巴希爾教堂
 (D) 英國--艾菲爾鐵塔

背面尚有試題

新北市立新莊國民中學 108 學年度第 1 學期第 2 次段考 9 年級社會領域試題卷

15. 依據右圖，請問愛爾蘭的氣候圖最可能為下列何者？

(A) 甲 (B) 乙 (C) 丙 (D) 丁



16. 1973 年愛爾蘭與英國、丹麥同時加入歐盟，當時貧窮的愛爾蘭曾被譏為歐盟裡的乞丐，加入歐盟多年後，Google、Apple、Yahoo、Facebook 等資訊科技公司都將歐洲總部設立在愛爾蘭，全球十大製藥廠有九家在愛爾蘭設立生產據點。請問愛爾蘭除了具備語言優勢(歐洲唯一說英語的國家)，經濟表現亮眼的原因應與下列何者有關？

- (A) 與盧森堡一樣採高稅率吸引外資
(B) 與德國一樣開放國界接受東歐廉價勞力
(C) 與丹麥一樣使用歐元便利國際貿易
(D) 與俄羅斯互相開放市場、免除關稅

17. 新莊國中的小恩興高采烈地要參加畢業旅行，(甲)到便利商店繳交了 5360 元的費用，(乙) 3000 元是自己存了好久的零用錢，(丙)其餘則是和父母親借，日後償還。小恩覺得很值得，認為(丁)三天兩夜的團體旅遊一定比和小家庭旅遊花費來得少。請問：依據上述內容配對貨幣的功能，下列何者正確？

- (A) 甲—價值儲存 (B) 乙—價值衡量
(C) 丙—交易媒介 (D) 丁—價值衡量

18. 畢業旅行的行程中，會遇到領有「職業大客車執照的遊覽車司機」、「訓練有素的領隊」、吃著領有「乙級中餐烹調技術士」料理的晚餐、暢遊「具有企業才能領導者」創立的義大世界。請問：「」內的角色各司其職，最能彰顯經濟學的哪一個概念？

- (A) 機會成本 (B) 需求法則
(C) 比較利益 (D) 供給法則

19. 某年春節中央銀行為因應民間習俗，除印製新鈔指定七大行庫及中華郵政開放提領外，並要求各金融機構備妥年節需求的資金，從平日 300 億元增加至 1200 億元，也派員監看各金融機構跨行資金流動的狀況。請問：這些措施反應了中央銀行的哪些職能？(甲)發行貨幣(乙)受理一般民眾存款、放款業務(丙)促進金融穩定(丁)控制貨幣數量

- (A) 甲乙丙 (B) 甲乙丁 (C) 乙丙丁 (D) 甲丙丁

20. 右圖為辛巴威發行過面額最大的紙鈔，不過當年 100 兆元辛幣只能買半條土司，當地的公廁甚至出現警告標語：「嚴禁將鈔票當衛生紙使用，以免阻塞...」。可見辛巴威當時面臨了什麼問題？

- (A) 儲蓄意願上升，減少消費
(B) 老闆大力推銷商品
(C) 貨幣價值下跌，搶購、囤積物資
(D) 對領固定薪資者，實質所得增加



21. 下表為麥子和珍珍分別製作蒸餃和小籠包的資料，依照比較利益法則進行專業化分工，下列何者正確？

	麥子		珍珍	
	分鐘	數量	分鐘	數量
蒸餃	3	30	4	36
小籠包	5	25	8	24

- (A) 麥子在製作蒸餃具有比較利益
(B) 珍珍在製作蒸餃具有絕對利益
(C) 麥子應專心做小籠包，珍珍應專心做蒸餃
(D) 麥子應專心做蒸餃，珍珍應專心做小籠包

22. 下表為 2019 年 1 月~8 月我國對部分國家(地區)的貿易情形：

	中國	東南亞 國協	日本	韓國	歐盟 28 國	美國	中東 14 國
出口	577.9	356.4	151.6	112.2	185.6	301.3	36.1
進口	366.3	223.6	279.5	114.6	192.3	228.4	169.4

請就上述資料判斷，下列何者正確？

單位：億美元

- (A) 台灣對三個國家呈現貿易順差狀況
(B) 台灣對四個國家呈現出超狀況
(C) 對中國呈現最多的入超
(D) 對韓國呈現最少的貿易順差

23. 下列敘述中，何者可以用來衡量一個國家貨幣價值的高低？

- (A) 此國 12 月底的外匯存底累增至 5800 億美元
(B) 此國 1000 元紙鈔約可買進 40 公升的無鉛汽油
(C) 此國的每人國民所得大約為 25000 美元
(D) 此國製造 100 元硬幣的材料成本價格大約為 10 元

24. 下表為小湘公民課隨堂小考的題目，請問：正確答案依序該填入什麼？

- (A) ○○xx (B) x○xx (C) ○○○○ (D) ○x○x

- () 1.人力銀行是無形的商品市場。
() 2.自由經濟制度容易產生分配不均的缺點。
() 3.各國會進口自己國家具比較利益的商品。
() 4.國際市場自由化下，增加代工他國品牌產品，才能使我國產品在國際市場上佔有一席之地。

25. 正義哥與公平姊兩位公民老師利用暑假合作準備 108 課綱的新教材，下表為他們兩位在一週內「編製講義」與「出考卷」分別的機會成本，在不考量其他因素的前提下，依照比較利益法則進行專業化分工，下列何者正確？

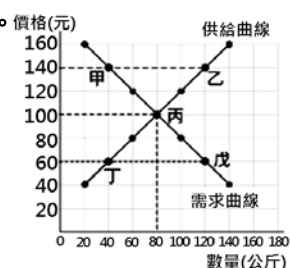
	編製講義	出考卷
正義哥	?	1/2 課講義
公平姊	3 課考卷	?

- (A) 公平姊在出考卷的機會成本為 2 課講義
(B) 正義哥在編製講義的機會成本為 1/3 課講義
(C) 正義哥在編製講義上具有絕對利益
(D) 公平姊在出考卷上具有比較利益

題組 5 右圖為某國市場上蘋果的供需圖。請依據右圖及題目回答第 26~27 題：

26. 請問：「丙」、「(甲-丙-乙)」區域、「(丁-丙-戊)」區域，依序分別代表市場上的何種狀況？

- (A) 供不應求、供需均衡、供過於求
(B) 供過於求、供需均衡、供不應求
(C) 供需均衡、供過於求、供不應求
(D) 供需均衡、供不應求、供過於求

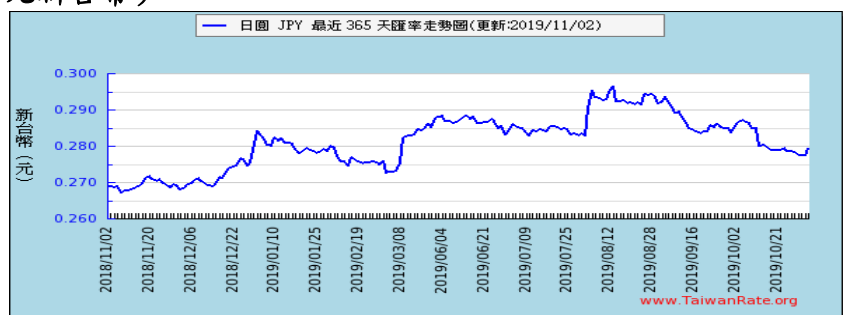


27. 關於下列敘述何者正確？

- (A) 當蘋果每公斤價格 120 元時，生產者會提高價格、增加供給量以達到市場均衡
(B) 蘋果市場的價格與水、電價格運作方式相同
(C) 蘋果市場的運作會造成生產效率低落
(D) 「無形的手」讓供需雙方做出最有利的選擇

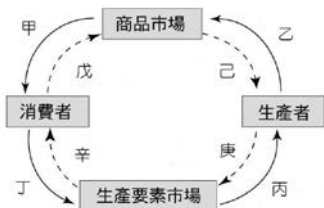
新北市立新莊國民中學 108 學年度第 1 學期第 2 次段考 9 年級社會領域試題卷

題組 6 哈妮是個哈日族，不定期上網查詢外匯匯率走勢情況。下圖是近一年來日圓兌換新台幣外匯匯率變化圖。請根據下圖及題目回答第 28~29 題：(2018/11/02 為 1 日圓可兌換約 0.269 元新台幣)



28. 何時應為哈妮兌換日圓赴日旅遊的最佳時機？
 (A) 2018/11/6 (B) 2019/3/8
 (C) 2019/8/12 (D) 2019/10/25
29. 請推估 2018 年 11 月至 2019 年 8 月 12 日這一段期間匯率的變化，可能會造成什麼影響？
 (A) 台灣進口日本商品的成本下降
 (B) 進口日系商品價格可能會上漲
 (C) 來台灣旅遊的日本人可能會減少
 (D) 日本業者進口台灣商品成本提高

題組 7 右圖為經濟活動循環簡圖。實線箭頭(→)為商品和生產要素的流向，虛線箭頭(→)為貨幣的流向。請依右圖及題目回答第 30~33 題：



經濟部配合擴大秋冬國民旅遊發放

「夜市 200 元抵用券」，使用條件為消費者參加交通部觀光局認可的旅宿業者，住宿不但享 1000 元抵用外，每房可拿到夜市 200 元抵用券。10 月份更開始推動商圈小型店家行動支付優惠，跟台灣 pay、街口支付、line pay、pi 錢包等合作，透過回饋活動，進一步刺激民眾消費，也帶動店家設備升級。

30. 請問：政府發放「夜市 200 元抵用券」會先使經濟活動循環簡圖的哪一個部分發生作用？
 (A) 戊 (B) 辛 (C) 庚 (D) 己
31. 請問：下列何者正確？(甲)消費者是商品市場的供給者 (乙)夜市店家是生產要素市場的需求者 (丙)消費者的消費支出為夜市店家的銷貨收入 (丁)夜市店家的生產成本為消費者的消費支出
 (A) 甲乙 (B) 甲丙 (C) 乙丙 (D) 乙丁
32. 夜市店家設備升級，以因應消費者的行動支付。請問：「夜市店家設備升級」應該發生在經濟活動循環簡圖的哪一部分？
 (A) 甲戊 (B) 乙己 (C) 丙庚 (D) 丁辛
33. 請問：關於「台灣 pay、街口支付、line pay、pi 錢包等行動支付」，下列何者正確？
 (A) 我國的法定貨幣
 (B) 具有清償債務的功能
 (C) 皆由政府所發行
 (D) 作為支付工具，促進交易的便利
34. 請你根據對於伊斯蘭教的瞭解，仔細閱讀以下關於開齋節的報導資料，判斷劃線的部分哪些是正確的用語？
 (A) 甲乙 (B) 乙丙 (C) 甲丙 (D) 乙丁

根據伊斯蘭教法規定，在齋戒月的期間，所有(甲)穆斯林在日出之後，日落之前，都必須遵守齋戒，停止一切飲食、房事等活動，也要戒除醜行、穢語。在白天，虔誠的教徒需處於不吃不喝、不抽煙不喝酒的狀態，甚至連吞口水都會盡量避免。不過當然也有例外，例如天亮前就出門旅行的人、病人、孕婦、哺乳的婦女、幼兒等，是比較能被允許正常飲食的。因為在伊斯蘭曆法中，每年的第九個月(齋戒月)，就是一年當中最重要，也是最光輝吉祥的月份，因為那是(乙)真主阿拉將(丙)聖經降給(丁)先知耶穌的月份。2019 年 6 月 5 日是伊斯蘭教的開齋節，開齋節顧名思義，就是慶祝長達一個月齋戒的結束，通常會維持 3 天，這期間就像是伊斯蘭世界的新年一樣，家家戶戶都會穿上新衣互相拜訪，彼此問候一聲 Eid Mubarak，也會烹煮各地的特色美食，盡情享受美食來慶祝他們完成 5 項基本功課中的齋戒。

35. 下列是對中世紀西歐的一段描述：「……伯爵詢問他是否願意臣屬於他，對方回答：『我願意』；雙手合十，夾在領主的手中，以親吻臉頰使他們連接在一起。行過臣服禮後，用下面幾句話，向伯爵宣誓：『以我的信譽，我答應將來應對伯爵忠信，完全遵守我對他的服從，對抗所有的人，忠心不渝。』接下來，他向聖人遺物宣誓。最後，伯爵執手杖，對臣服和宣誓的人，行授職禮。」上述的臣服禮儀式結束後，伯爵與臣服者即建立起領主與附庸的關係，請問：此種關係的建立是以何者為基礎？
 (A) 血緣 (B) 婚姻 (C) 信仰 (D) 土地


36. 下列有四段小說情節，其中哪一段最有可能是描寫「中世紀的騎士文化」？
 (A) 「看看時間差不多了，薩德朝參加方向進行今天第二次禮拜後，趕往城內清真寺與眾人會合，商討旅行貿易問題。」
 (B) 「十歲的約翰不斷重複同樣的工作，在機器轟隆隆的吵雜環境裡，他忽然思念起家鄉的祖母，抬頭仰望，卻只見排放陣陣廢氣的煙囪。」
 (C) 「路易走在街道上，聽到人們興奮地說：『今天下午，人獸格鬥賽將準時在圓形競技場內舉行！』」
 (D) 「麥斯心想，賜我土地的威廉伯爵受到他們的傷害，為了表現我的忠誠，並且報答伯爵的情義，我要為伯爵討回公道！」。

37. 右圖的聖索菲亞大教堂現今是個博物館，館內的收藏主要是東正教與伊斯蘭教的文物，為哪兩個政權的統治作見證？

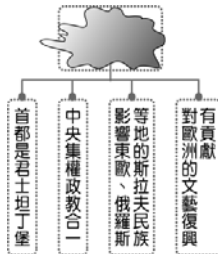


- (A) 羅馬帝國、阿拉伯帝國
 (B) 西羅馬帝國、東羅馬帝國
 (C) 東羅馬帝國、鄂圖曼帝國
 (D) 神聖羅馬帝國、鄂圖曼帝國

38. 豪哥到西歐旅行時為了這裡的中世紀建築感到醉心不已，尤其是莊嚴華麗的哥德式建築讓他印象深刻。過年期間，豪哥在臺灣四處遊玩拍了很多照片回家，其中也發現哥德式建築的蹤跡。請問：下列哪一個古蹟最接近哥德式風格？
 (A) (B) (C) (D)




39. 附圖是歷史課的組織圖，勻凱不小心打翻水把主題弄髒了。請問：根據圖中的內容提示，此主題應該為下列何者？



- (A) 法蘭克王國
 (B) 拜占庭帝國
 (C) 阿拉伯帝國
 (D) 鄂圖曼土耳其帝國

40. 附圖(一)是柏濤在旅遊歐洲的書籍中所看到的介紹，此處是聯合國教科文組織認定的世界遺產，根據內容判定，此古蹟最可能位於附圖(二)中的何處？
 (A) 甲 (B) 乙 (C) 丙 (D) 丁

阿罕布拉宮(即紅色城堡、紅宮)位於某國南部格拉納達摩爾王朝時期修建的古代清真寺—宮殿—城堡建築群。阿罕布拉宮最初的原址建有要塞稱為 Al-Andalus，宮殿為原格瑞納達摩爾人(北非的阿拉伯人)國王所建，現在則是一處穆斯林建築、文化博物館。



圖(二)

圖(一)

新北市立新莊國民中學 108 學年度第 1 學期第 2 次段考 9 年級社會領域試題卷

41. 哲銘對《世紀帝國》遊戲很著迷，該款系列遊戲以貫穿各時期的歷史事件為特色，他和朋友詠凱進到了以中世紀西歐為背景的時空，哲銘選擇騎士角色，詠凱則是選擇農人角色，來展開刺激的冒險遊戲，依照遊戲場景(附圖)來判斷，哲銘可能是生活在哪個帝國內？



- (A) 羅馬帝國 (B) 查理曼帝國
(C) 鄂圖曼土耳其帝國 (D) 阿拉伯帝國

42. 西元 1095 年教宗烏爾班二世作出以下宣告：「……與神隔絕的民族，猛烈地侵犯基督教的領域，燒殺擄掠當地的居民，他們將部份的俘虜帶回自己的國家，又以酷刑將其殺害。……但願你們先祖查理曼大帝和其餘君主光榮宏偉的功業激勵你們，但願那陷於不潔之民手中的我們救主的聖墓，以及那被玷汙的聖地喚醒你們。」下列相關敘述何者正確？

- (A) 「與神隔絕的民族」是指阿拉伯人
(B) 查理曼大帝為日耳曼人著名的君主
(C) 「被玷汙的聖地」位於巴基斯坦地區
(D) 在教宗的激勵下組成的十字軍，成功永久收復聖地耶路撒冷

43. 律碩將某一民族的事蹟，整理為右圖。請問：圖中的甲是指下列哪一個民族？

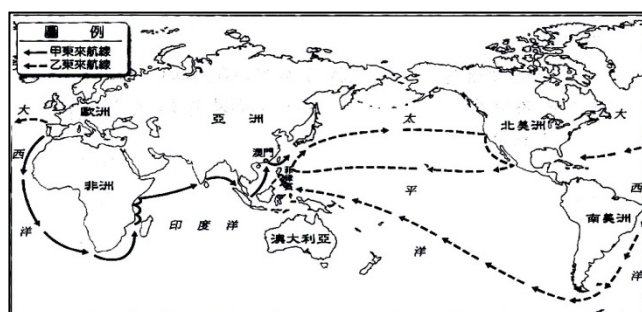


- (A) 土耳其人
(B) 日耳曼人
(C) 阿拉伯人
(D) 羅馬人

44. 文學家但丁在作品中描述他迷失於森林中，象徵淫欲、殘暴、貪婪的猛獸豹、獅、狼迎面撲來，古羅馬詩人維吉爾協助他脫離困境，並指引他遊歷地獄和煉獄，他愛慕的女子貝姬特麗絲則在天堂等待。但丁把貪圖名利的主教、教士等安排在煉獄的第四層接受懲罰，教宗朋尼法斯八世更被放在地獄第八層接受火刑，表達他對教會干涉世俗政治的不滿。請問：下列敘述何者錯誤？

- (A) 但丁為西班牙著名的作家
(B) 但丁在作品中對人性多所著墨
(C) 但丁藉此作品批判教士的腐敗及教會的控制
(D) 但丁的作品屬於文藝復興時期的方文學

45. 右圖是十六世紀的東西交通路線圖，下列關於採取甲、乙路線國家的敘述，何者正確？



- (A) 甲國是最早發現往亞洲航道的國家
(B) 乙國進入美洲後，導致馬雅帝國的滅亡
(C) 甲國在亞洲貿易的據點為菲律賓馬尼拉
(D) 乙國統治南台灣時，曾向平埔族傳播基督教，並發展出新港文字

46. 勁丞是一位十六世紀時住在瑞士地區的商人，平日靠借錢給有需求的人以賺取利息過活。他的借貸生意雖然很好，但卻時常得擔心死後會下地獄，因為他的教會說他賺的是不義之財。結果，小邑在某日無意間參加了一個新的教會禮拜，神職人員講道說：「只要努力勤奮工作賺錢，上帝都會肯定你的努力，賺錢不是罪惡。」小邑因而毅然決然地加入了此教派團體。請問，此教派應該是下列何者？

- (A) 天主教 (B) 路德教派
(C) 喀爾文教派 (D) 英國國教派

47. 四位不同國籍的留學生在課堂上介紹他們的國家。煜軒說：「我的國家最早展開尋找新航路。」士惟說：「我的國家是文藝復興的起源地。」于哲說：「我的國家是馬丁路德進行宗教改革的起源地。」詠竣說：「我的國家是由兩個王國聯姻合併的。」請問：煜軒、士惟、于哲、詠竣分別是哪些國家的人？

- (A) 西班牙、英國、法國、葡萄牙
(B) 西班牙、義大利、德國、葡萄牙
(C) 葡萄牙、義大利、德國、西班牙
(D) 葡萄牙、義大利、英國、西班牙

48. 「英軍將貞德交付宗教法庭審判，誣為女巫……在盧昂的廣場處以火刑，貞德在烈焰中堅貞不屈，大義凜然，臨刑前高呼：『你們一定會受到懲罰……』」就文中所言及你的歷史知識推論，下列何者說法正確？

- (A) 這場戰爭是十字軍東征
(B) 戰後英國逐漸走向民族國家的道路
(C) 文中的時代正值蒙古西征時期
(D) 這場戰爭最後的勝利者是英國

49. 新莊國中九年級同學正在參觀『真相·達文西』特展，此展覽帶來達文西史無前例的真跡畫作，也讓所有熱愛藝術的粉絲能一次飽覽文藝復興時期多位大師的珍貴藝術畫作。下列哪幅作品是達文西的創作？



(A) 創世紀



(B) 最後的晚餐



(C) 草地上的聖母



(D) 雅典學院

50. 美國聯邦政府原本將每年十月的第二個星期一，訂為「哥倫布日」，以紀念五百多年前「發現」美洲新大陸的義大利航海家哥倫布。但今年西雅圖市長則宣布：以後在西雅圖，當天將改為「原住民日」，以表達對於美國本地所有原住民部落的敬意。其實，站在美洲原住民的角度，哥倫布以及其後歐洲人對美洲的開拓史，應是一場災難，而非是一項值得慶祝的成就。因此，這樣的一種紀念日的改稱，也是對過往歷史傷害的一種致歉與反省。請問：下列關於地理大發現時期，歐洲人對美洲的海外拓殖的相關敘述，何者正確？

- (A) 十六世紀時，西班牙人以武力摧毀馬雅、阿茲提克文明，並帶來傳染病，造成當地原住民大量死亡
(B) 歐洲人將非洲人販賣至美洲成為黑奴，以補充開發殖民地所需的人力，此舉對非洲人造成嚴重的傷害
(C) 葡萄牙在美洲殖民，取得大量的土地與金銀礦產，建立橫越太平洋的海上絲路，獨攬東方的絲綢貿易
(D) 後起的荷蘭、英國、法國等國也到美洲開拓殖民，成功強奪西班牙、葡萄牙的南美殖民地，並在美洲大陸發生慘烈的破壞性戰爭

新北市立新莊國民中學 108 學年度第 1 學期第 2 次段考 9 年級社會領域試題
解答

1	2	3	4	5	6	7	8	9	10
A	B	A	C	C	A	D	D	B	C
11	12	13	14	15	16	17	18	19	20
B	D	D	C	A	B	D	C	D	C
21	22	23	24	25	26	27	28	29	30
C	A	B	B	D	C	D	A	B	A
31	32	33	34	35	36	37	38	39	40
C	C	D	A	D	D	C	A	B	D
41	42	43	44	45	46	47	48	49	50
B	B	C	A	A	C	C	B	B	B