

新北市立新莊國民中學 111 學年度第 1 學期第 1 次段考 7 年級社會領域試題卷

班級 座號 姓名

※ 選擇題：本試卷共 50 題，每題 2 分，總分為 100 分。
每一題均為單選題，請選出最適當答案。

※ 請用 2B 鉛筆在答案卡上相應的位置畫記。

1. 哆啦 A 夢是擁有未來道具的機器貓，其中最為人喜愛的道具就是時光機，小英有機會坐時光機去到西元 2100 年，她在操作時光機時，發現必須填完相關的紀年問題才能出發，但她因為著急有資料填錯，請幫她找出錯誤的選項，讓她可以順利出發到未來！

(A)西元 2100 年換算為民國 189 年
(B)西元 2100 年已進入二十二世紀
(C)西元紀年是因耶穌誕生算起
(D)100 年為一世紀

【第 2 至 4 題為題組】

請參閱右圖回答下列問題：

2. 西元 2012 年國立史前博物館典藏的四組史前玉器通過審議，列為國寶。其中一件人獸形玉器最廣為人知，請問該件玉製品是出自右圖哪處？

(A)甲 (B)丙
(C)戊 (D)丁

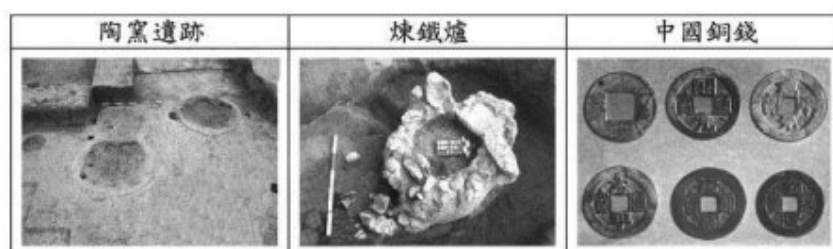


3. 考古學家在台灣挖掘出最早稻米化石，被稱為台灣第一米，可知台灣米食文化淵遠流長，請問上述台灣第一米是位在右圖何處？

(A)甲 (B)乙 (C)丙 (D)丁

4. 下圖(一)為臺灣某一史前文化遺址的圖片，根據其內容判斷，此一文化位於圖中何處？

(A)甲 (B)丙 (C)丁 (D)戊



圖(一)

5. 下圖是全球某語系分布圖。根據此圖判斷，下列選項哪一族群不屬於此語族？



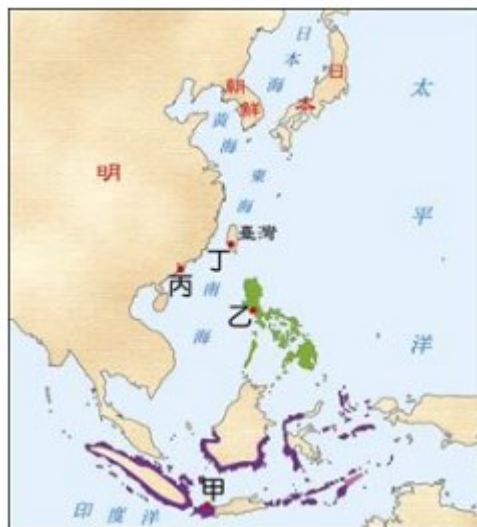
(A)臺灣原住民 (B)菲律賓原住民
(C)紐西蘭毛利人 (D)澳洲澳大利亞人

6. 清帝國康熙年間，郁永河奉命來台開採硫磺，他從鹿耳門登島，選擇最費時的陸路交通北上，將沿途所見所聞寫成《裨海紀遊》，並詳細記錄當時遇見的台灣南北各社平埔族原住民，最終歷經艱苦後終於抵達目的地—現今的台北市北投地區，他雇用當地原住民，讓原住民以獨木舟載運硫土到他的工寮換取布匹，再由漢人工人展開提煉硫磺工作。郁永河所雇用採集、運送硫土的原住民，應為下列何者？

(A)噶瑪蘭族 (B)阿美族 (C)西拉雅族 (D)凱達格蘭族

7. 十七世紀時，歐洲各國向海外進行殖民和侵略，紛紛來到亞洲進行貿易。右圖中甲、乙、丙、丁是各國在亞洲所建立的貿易據點，請選出和殖民者配對錯誤的選項。

(A)甲—英國
(B)乙—西班牙
(C)丙—葡萄牙
(D)丁—荷蘭



8. 雲林縣水林鄉水北村有一個園區稱為「開臺文化客廳」，當地居民透過整體營造方式，將整個社區規畫成觀光園區，當地號稱「開臺第一庄」，而雲林縣文化處還拍攝微電影來推廣當地。整個園區是紀念某位福建海商在荷蘭人占領臺灣之前，就曾招募漢人開墾雲林、嘉義一帶，並在當地落地生根留下許多文化資產，請問：這個園區紀念的海商應該是下列何者？

(A)鄭經 (B)鄭成功 (C)顏思齊 (D)郭懷一

9. 在澎湖的風櫃尾，有個古城的遺跡，上面的簡介如下：

「此建築的材料是從印尼巴達維亞運來，除了讓官兵居住於此，同時也是重要的貿易據點，後來城堡的興建者和明朝發生戰爭，於是將城堡的建材拆下，移到現在的臺南興建另一座城堡。」請問：這座城堡是那一個國家所建造？

(A)日本 (B)西班牙 (C)葡萄牙 (D)荷蘭

10. 以下是一段 17 世紀的文獻記載：

「西班牙人每年向該地的已婚原住民課徵二隻雞和三甘當米的稅，原住民感到無法忍受，所以襲擊該地的西班牙城堡，殺了三十個西班牙人。」此段記載最可能是描繪附圖中何處的情況？（註：甘當：一種量米的容器）

(A)甲 (B)乙
(C)丙 (D)丁



11. 右圖是 17 世紀某家貿易公司的旗幟，此家貿易公司在政府的支持下，壟斷東方貿易，並與臺灣歷史息息相關。請問：此旗應該會在下列何地出現？

(A)2022 年的安平古堡
(B)1683 年的赤崁樓
(C)1626 年的紅毛城
(D)1650 年的熱蘭遮城



12. 荷蘭駐台長官曾經說到：「台灣真是公司的一頭好乳牛」主因就是荷蘭曾將台灣作為貿易轉運站，透過轉口貿易賺取高額利潤。請問下列何者並非荷治時期賺取利潤的重要商品？

(A)蔗糖 (B)軍用品 (C)鹿皮 (D)稻米

背面尚有試題

13. 報紙新聞提到：「台江國家公園發現 8 艘荷蘭沉船，考古學者盼搶救古物……」請問根據下圖及新聞內容何者正確？



- (A) 荷蘭船隻應是在 19 世紀沉入台江內海
(B) 荷蘭當時是以「甲」堡作為商業市鎮
(C) 沉船的古物中可能有來自中國的瓷器
(D) 沉船地點「台江內海」應該是在淡水

14. 1661 年在台灣南部發生了一場戰爭，以下是雙方來往信件的內容：

甲方：「你們必須明白繼續佔領別人的土地是不對的，如果你們能用友好的談判方式讓出城堡，生命和財產安全將受到保障，否則，所有的人都將難以倖免。」

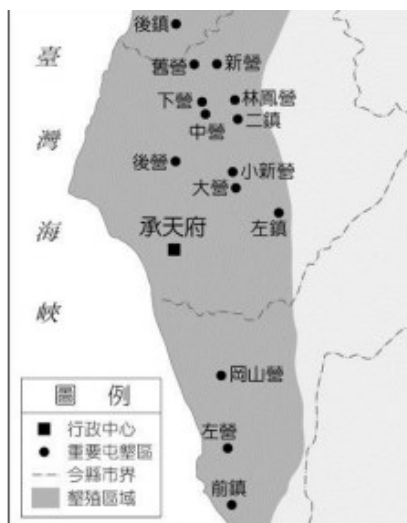
乙方：「公司曾與中國(明帝國)官員訂約，放棄澎湖而佔有台灣，國姓爺在台灣並無權利，應放棄或不再進攻，否則將抵抗到底。」

根據判斷，甲方、乙方分別是何者？

- (A) 鄭成功、西班牙長官 (B) 鄭芝龍、西班牙長官
(C) 鄭芝龍、荷蘭長官 (D) 鄭成功、荷蘭長官

15. 右圖為臺灣歷史上某一時期的土地開發據點圖，下列何者符合此時期的土地開墾情況？

- (A) 當時的土地拓墾範圍，主要分布在臺灣北部地區
(B) 為解決在臺軍民的糧食問題，實施寓兵於農政策
(C) 荷蘭人大量招募漢人來台開墾，並給予酬勞
(D) 土地皆屬荷蘭東印度公司所有，由其招募漢人開墾



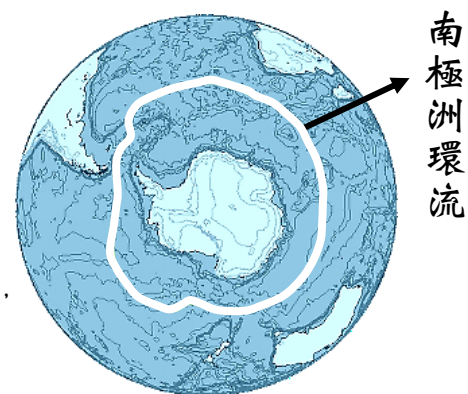
16. 右圖是鄭氏時期對外貿易關係圖：請問圖中乙、丙、丁三者均有的貿易商品最可能為何者？

- (A) 絲綢
(B) 蔗糖
(C) 香料
(D) 軍需品



【第 17 至 18 題為題組】

過去 100 多年來，美國國家地理學會將世界海洋分為四大洋，由大到小分別為太平洋、大西洋、印度洋跟北冰洋（又稱北極海），而南極洲周邊海域過去被視為大西洋、太平洋和印度洋的延伸，在 2021 年 6 月 8 日世界海洋日當天，美國國家地理學會正式宣布將南極洲周邊海域的南冰洋（如上圖所示），認證為世界五大洋之一。請問：



17. 下列何者「不是」南冰洋周圍的陸地之一？

- (A) 大洋洲 (B) 南美洲 (C) 非洲 (D) 歐洲

18. 南冰洋與其他大洋的不同之處在於：這片水域並非由周圍的陸地所定義，而是因「南極洲環流」洋流所定義，洋流範圍約在南緯□度（圓圈線）左右，這也是南冰洋分布的北界。請問□裡的數字應為下列何者？

- (A) 0 度 (B) 23.5 度 (C) 60 度 (D) 90 度

註：洋流亦稱海流，是具有穩定流向的大規模海水運動。「南極洲環流」是環繞南極洲固定流向的洋流。

【第 19 至 21 題為題組】

「2022 黑面琵鷺全球同步普查」的成果顯示：全球黑面琵鷺族群已來到 6,162 隻，其中在臺灣共記錄到 3,824 隻，再次創下歷史新高紀錄，佔全球 60% 的數量，是全世界最重要的黑面琵鷺度冬區。右圖為 2022 年臺灣黑面琵鷺普查分布圖（圓的面積越大代表觀測到的黑面琵鷺數量越多），請依據此圖回答下列問題：



19. 黑面琵鷺每年 10 月來台灣過冬，隔年 3 月返回北方繁殖地，增加了臺灣生態的豐富度。請問：臺灣成為黑面琵鷺冬季棲息地，與下列哪個因素最相關？

- (A) 位於大陸邊緣位置
(B) 位於時區轉換位置
(C) 位於溫、熱帶的交界位置
(D) 位於板塊接觸位置

20. 住在屏東的鳥友如果要前往黑面琵鷺觀察量最大地區擔任普查志工，應朝哪一方向出發？

- (A) 西北方 (B) 西南方 (C) 東北方 (D) 東南方

21. 一般鳥友如果在最多黑面琵鷺度冬的兩個縣市，沿著海岸線開車觀賞，大約要行駛幾公里？

- (A) 25 公里 (B) 50 公里 (C) 100 公里 (D) 150 公里

【第 22 至 24 題為題組】

臺灣領土範圍除了最大的本島之外，還包括 21 個附屬島嶼，每座島各有其特色。右表為臺灣某四個離島的經緯度，請根據表格回答下列問題：

	經度	緯度
甲島	123°E	25°N
乙島	119°E	26°N
丙島	118°E	24°N
丁島	114°E	10°N

繼續作答下張試卷

新北市立新莊國民中學 111 學年度第 1 學期第 1 次段考 7 年級社會領域試題卷

班級 座號 姓名

22. 具有主權爭議，因而與日本及菲律賓引起紛爭的島分別為下列哪兩個？

- (A)甲、丁 (B)乙、丙 (C)乙、丁 (D)甲、丙

23. 四座島之中最早迎接清晨第一道曙光的是下列何者？

- (A)甲 (B)乙 (C)丙 (D)丁

24. 唯一位於熱帶地區的島嶼為下列何者？

- (A)甲 (B)乙 (C)丙 (D)丁

25. 西元 2017 年有民眾在「公共政策網路參與平台」提議臺灣往東移一個時區，亦即與日、韓兩國同一時區，希望象徵性脫離中國的從屬，最後內政部回應：「更改時區沒辦法有效解決國土認同、國家定位的問題，反而在調整期間增加更動成本」，此提案因此作罷。請問下列何者為若實施此提案將帶來的變化？

- (A)時區的中央經線變更為 105°E
(B)冬季下班時間天色比較亮
(C)與日韓的季節時序相同
(D)手錶要往回撥慢一個小時

26. 「2022 年世界盃足球賽」將於卡達 (51°E)舉辦，預計在當地時間 11 月 20 日晚上七點揭開序幕，此項賽事每 4 年舉辦一次，為世界足壇規模最大、最具影響力的賽事。請問臺灣球迷如果要同步觀賞開幕戰，應於下列哪一個時段上線觀看網路直播？

- (A)11/20 下午兩點 (B)11/20 早上八點
(C)11/21 早上六點 (D)11/21 凌晨零點

27. 小禎在書局發現四張不同比例尺的新莊區地圖，她想買一張詳細標示新莊老街各個商家及美食的地圖給來訪的朋友參考。請問小禎應該購買下列哪一個比例尺的地圖內容才會是最詳盡的？

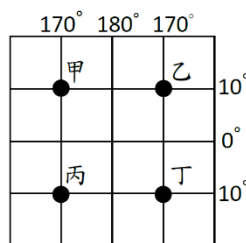
- (A)1:1,000 (B)1:5,000
(C)1:10,000 (D)1:50,000

28. 下列關於新莊國中位置的敘述中，何者採「絕對位置」方式說明？

- (A)新莊圖書館的南邊
(B)中正路和中華路一段的交叉口
(C)新莊區公所附近
(D)距離捷運新莊站約 1 分鐘路程

29. 根據右圖所示，關於甲~丁四個地點的敘述何者正確？

- (A)甲、乙兩地季節相反
(B)丁地的經緯度為 (170°W, 10°S)
(C)從甲地直接前往丙地會飛越南回歸線
(D)乙地直線穿過球心可到達丙地

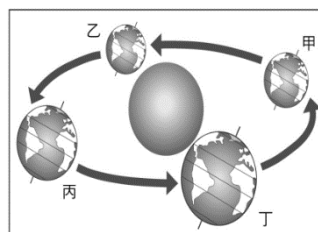


30. 關於地球上海洋及陸地的敘述，下列何者正確？

- (A)地球上海洋及陸地的面積比約為 3:7
(B)世界人口多集中在北半球
(C)北美洲是面積最大的洲
(D)北半球的陸地面積大於海洋

31. 右圖為地球公轉示意圖，當臺灣冬至吃湯圓的時候，地球的位置應位於圖中何處？

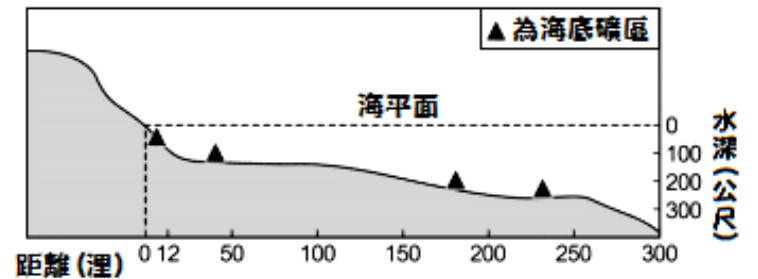
- (A)甲 (B)乙
(C)丙 (D)丁



32. 臺灣有許多物種原本是生活於亞洲大陸，但因為環境變遷，部分物種留在臺灣逐漸演變成臺灣特有種。請問：上述中的「環境變遷」所指為何？

- (A)火山爆發 (B)地殼變動
(C)海水面上升 (D)海水面上升

33. 依聯合國海洋公約法劃定，由海岸線向外延伸的經濟海域，該國家擁有漁、礦等開發利用與管理的權利。請根據下圖判斷，有幾座海底礦區在經濟海域的範圍內？



- (A)一座 (B)二座 (C)三座 (D)四座

34. 隔壁鄰居最近有一個小寶寶—軒軒誕生，軒軒的爸爸是台灣人，媽媽是菲律賓人，他在台灣出生，卻同時具有中華民國國籍及菲律賓國籍。由上述內容判斷，這兩個國家國籍取得方式，下列哪一項敘述正確？

- (A)兩國皆為出生地規則
(B)兩國皆為屬人原則
(C)前者為出生地規則，後者為血統規則
(D)前者為血統規則，後者為屬地原則

35. 動漫《鬼滅之刃》中，實力雄厚的「炎柱」煉獄杏壽郎，童年時母親告訴他的那句「強者的責任，就是用力量守護那些需要他保護的人」已經成為他新的人生目標，也是他對自身的期許、為自己訂下的道德法則。上述畫底線這句話，彰顯現代公民哪一種基本德性？

- (A)參與公共事務 (B)遵守法律規範
(C)和平尊重包容 (D)捍衛公平正義

36. 新聞報導：「荷蘭早於 2018 年開始已承認「第三性別」（即在男女二元以外的性別認同），從 2024 年起，荷蘭身分證上將把性別欄刪除。目前已有至少 10 個國家發放「第三性別」、標記為「X」的護照，包括澳洲、加拿大、日本、丹麥、德國、馬耳他、新西蘭、巴基斯坦、印度、愛爾蘭及尼泊爾。這對於每天都因為身分證上這些分類而遭遇困難的人來說，這真是個天大的好消息！」上述各國措施，應可以達到下列何項目的？

- (A)維護人性尊嚴 (B)促進政治參與
(C)提升婦女地位 (D)推動兩性平權

37. 脫北女孩朴研美著述《為了活下去：脫北女孩朴研美》一書，譜出了脫北者堅強又動人的故事。文中一段敘述，任何批評與懷疑金氏領袖的言論，透過人民自己的互相舉報機制，都逃不過政府佈下的眼線。除了思想受到箝制之外，人民連基本的溫飽也成了大問題。逃離北韓過程中，她卻被迫目睹蛇頭（幫助脫北的中國人）當著面性侵自己的母親。關於上文敘述，下列敘述何者正確？

- (A)北韓民眾由於性別刻板印象而使得國家經濟發展受到限制
(B)朴研美希望透過她的書籍可以改善國家性別刻板印象的情形
(C)朴研美的母親遭受性侵的情形在我國適用《性騷擾防治法》
(D)朴研美曾在生存條件上無法滿足而過著不具人性尊嚴的生活

背面尚有試題

新北市立新莊國民中學 111 學年度第 1 學期第 1 次段考 7 年級社會領域試題卷

班級 座號 姓名

38. 加拿大一向被稱為是移民國家，其地廣人稀，對移民比較開放。加拿大最新移民政策預計 2022 年，將有有 56% 的新移民通過「經濟類移民」也就是經濟投資達到特定門檻可以申請成為加拿大人。關於上述取得國籍的方式，下列敘述何者正確？
 (A)此為歸化方式取得國籍
 (B)此為屬地規則取得國籍
 (C)此為屬人規則取得國籍
 (D)取得國籍的方式是聯合國決定
39. 立法院會 111 年 3 月 25 日表決通過 18 歲公民權修憲案，年滿 18 歲的中華民國國民依法將有選舉、罷免、創制、複決、參與公民投票的權利。接下來將交由公民複決，而這也是台灣憲政史上首次進入公民複決程序的修憲案。根據上述內容，下列敘述何者**錯誤**？
 (A)國民和公民最大差別在於參政權的有無
 (B)參與公民投票年齡為 20 歲
 (C)依目前法律規定有選舉權年齡為 20 歲
 (D)修法之後，公民投票權及選舉權罷免權取得之年齡都是 18 歲
40. 小穎放假在家看一部影片《辛德勒名單》1993 年上映的美國黑白電影，它講述了一個德國商人奧斯卡·辛德勒拯救猶太人的故事。辛德勒目睹猶太人被殘忍屠殺，就將他們召集到他的工廠裡面幹活，幫他們避難，他的工廠成為當時猶太人的避難所。這部電影想傳達的理念與下列何者最貼切？
 (A)政府公權力介入，才得以確保人權
 (B)遵循適者生存道理，因應時代變遷
 (C)重視人權的保障，不受任意侵犯
 (D)雇主與勞工應該相互幫助，創造財富
41. 國中二年級學生小穎與爺爺(75 歲)、爸爸(45 歲)、媽媽(43 歲)、哥哥阿軒(21 歲)、姊姊阿雯(18 歲)同住。選舉前一天晚上，全家人一起討論 2022 年地方公職人員選舉和公民投票案的話題。請問：根據上文，原則上在此次選舉中，小穎一家人之中，有哪些人可以同時領到「地方公職人員選舉」和「公民投票案」的選票？
 (A)爺爺、爸爸、媽媽、小穎
 (B)爸爸、媽媽、阿軒、阿雯
 (C)爺爺、爸爸、媽媽、阿軒
 (D)爺爺、爸爸、阿軒、小穎
42. 英國喜劇演員和作家戴維·沃廉姆斯(David Walliams)的兒童故事書《穿裙子的男孩》(The Boy In The Dress)中文版，因家長擔心擔心這本書可能會混淆小學年齡學生的性別認同，台北龍安國小圖書館短暫下架，後來校方主張該書是為推動性別教育而採用的素材，故而恢復開放借閱，校方恢復借閱的做法是否符合現今法規之規定？
 (A)符合，根據《性別工作平等法》規定老師應該講授性別平等內容
 (B)符合，根據《性別平等教育法》校方可以規畫此課程
 (C)不符合，校方此作法強化學生性別認同之誤解
 (D)不符合，校方應該配合家庭教育尊重家長意見
43. 新莊國中七年 23 班正進行關於「刻板印象」的小組討論，下列哪一小組的論述內容**有誤**？
 (A)甲組：如果人們對於某些群體有先入為主的觀念，就會產生「刻板印象」
 (B)乙組：依據性別而產生的刻板看法即為「性別刻板印象」
 (C)丙組：「刻板印象」不會限制個人發展，不影響自由選擇的機會
 (D)丁組：因為刻板印象會產生偏見並逐漸形成歧視最後造成相互不信任
44. 現代醫學發達，很多癌末或昏迷的病人毫無意識，靠著機器維持生命，可能很痛苦地活著，立法委員楊玉欣及台大哲學系教授孫效智，極力宣導廣徵各界意見，推動《病人自主權利法》立法成功，該法強調病患在意識清醒時經過專業的醫療照護諮商服務後，所做出的自主選擇。請問：《病人自主權利法》立法最主要目的為下列何者？
 (A)促進國際醫療發展 (B)避免醫患糾紛的發生
 (C)提升醫護人員的素質 (D)維護病患的人性尊嚴
45. 今天舉行關於「人權」內容的公民課堂討論，以下討論內容哪些是正確的？
 (A)甲乙丁 (B)乙丙丁 (C)丙丁戊 (D)甲丙丁
- (甲) 人權是因人而異所應享有的權利。
 (乙) 人權適用於世界上每一個人，會因國籍、宗教等因素而有所不同。
 (丙) 人權具有普世、平等、不可剝奪三項特徵。
 (丁) 人性尊嚴是人權保障的核心價值。
 (戊) 現代民主國家多將基本人權的保障規範在「憲法」中。
- 【第 46 至 47 題為題組】
- 電影《無聲》(The Silent Forest) 2020 年 10 月 15 日在台上映，劇情描述失聰少年張誠轉到啟聰學校就讀，當他入學後，發現班上同學都在校車最後一排玩「遊戲」，但這個遊戲背後隱藏著性侵害及性霸凌事件。最令人驚悚的還不只是那些惡行，更令人憤怒難平的是，隱藏在事件背後，由校長、狼師、與施暴同學，多年下來所形成的集體共犯結構，被害人幾番反抗掙扎，卻求救無門。這部影片引領觀眾共同探討反思，台灣多年追求升學主義下的教育失衡，與隔代教養、父母與聾生之間的代溝，以及一般人長期以來對於聾人的誤解與忽視傷害等多元議題。
46. 上文中，在校車上發生的性侵害及性霸凌事件，應該依據下列哪部法律處理？
 (A)《民法》 (B)《性騷擾防治法》
 (C)《性別平等教育法》 (D)《性別工作平等法》
47. 文末提到，在資訊多元的社會中，這部影片引領觀眾共同探討反思多元議題。請問：這部電影有助於培養現代公民得哪一項基本德性？
 (A)理性思考批判 (B)和平尊重包容
 (C)參與公共事務 (D)遵守法律規範

尚有一張試卷

【第 48 至 50 題為題組】

2016 年作者趙南柱寫了《82 年生的金智英》一書，可追溯至 2014 年，當時韓國出現「媽蟲」這個全新的網路流行語，意思是家庭主婦都是一群「吸老公血的蟲」，對無辜的女性造成十分大的傷害。書中主角是一位出生於 1982 年名為「金智英」的女性，這是韓國女性的菜市場名，隨處可見。她的一生中在家庭、職場、生活上都飽受因性別而產生的差異。例如，小時候，在家裡弟弟的便當總比他的便當豐盛；高中時，回家路上被男學生跟蹤，卻被爸爸斥責裙子穿太短。進入職場後，發現自己薪資低於男同事，且被要求應酬時坐到男性部長的旁邊，聽著不堪入耳的黃色笑話。婚後，被認定照顧孩子就是她的責任。2019 年同名小說改編電影，相對原著更加溫柔，沒有聲嘶力竭的責罵，寫實而平淡道出亞洲都市女性的困局，身邊常見的人事。

48. 關於上述內容，以下敘述何者正確？

- (A) 女性被認定婚後就必須辭去工作在家相夫教子--性別刻板印象
- (B) 「媽蟲」一詞認定家庭主婦就是一群「吸老公血的蟲」--性別歧視
- (C) 進入職場後發現自己的薪資低於男同事--性別偏見
- (D) 在家裡弟弟的便當總比他的便當豐盛--性別意識

49. 「……被要求應酬時坐到男性部長的旁邊，聽著不堪入耳的黃色笑話。」根據這段話敘述，受害者要尋求權利救濟，下列哪一項法律最能提供他協助？

- (A) 《民法》
- (B) 《性騷擾防治法》
- (C) 《性別平等教育法》
- (D) 《性別工作平等法》

50. 根據上述內容，可以推論這部電影主要想表達哪一種訴求？

- (A) 南韓社會肯定家庭主婦所做的努力
- (B) 家庭主婦花老公的錢是不道德的事情
- (C) 女性長期以來受到性別不平等對待
- (D) 合理的差別對待以維護社會的公平

試題結束

新北市立新莊國民中學 111 學年度第 1 學期第 1 次段考 7 年級社會領域試題
解答

1	2	3	4	5	6	7	8	9	10
B	D	C	A	D	D	A	C	D	A
11	12	13	14	15	16	17	18	19	20
D	B	C	D	B	D	D	C	C	A
21	22	23	24	25	26	27	28	29	30
C	A	A	D	B	D	A	B	B	B
31	32	33	34	35	36	37	38	39	40
A	D	C	B	D	A	D	A	B	C
41	42	43	44	45	46	47	48	49	50
C	B	C	D	C	C	A	A	D	C