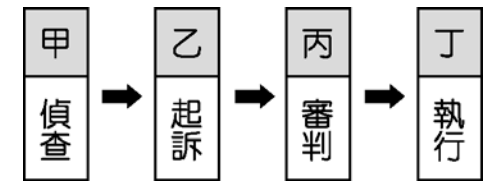


※ 選擇題：本試卷共 50 題，每題 2 分，總分為 100 分。
每一題均為單選題，請選出最適當答案。
※ 請用 2B 鉛筆在答案卡上相應的位置畫記。

1. 關於下圖刑事訴訟的流程敘述，何者正確？



- (A) 第三人提出的告發都由「甲」偵查
- (B) 刑事案件中「乙」決定不起訴後，案件會交由「丙」
- (C) 「丙」基於司法獨立，可由主刑或從刑擇一判決
- (D) 案件皆經三級三審後才會給「丁」

2. 公民課觀賞司法院的宣導短劇。劇中角色甲說：「庭上，本次我方所以代表國家起訴被告，是因為被告違反了刑事法律。」劇中角色乙立刻表示反對意見：「抗議！並沒有明確的證據足以證明我的當事人有罪。」問：文中角色「甲」及角色「乙」分別為

(A) 檢察官；法官 (B) 法官；律師
(C) 檢察官；律師 (D) 律師；檢察官

3. 公民老師要每位同學針對《兒童及少年福利與權利保障法》的內容進行報告，哪一位同學的報告並不符合老師的要求？

(A) 阿祐：「若父母縱容國中生吸菸，父母可能被處以罰鍰」
(B) 玉齊：「這項法律僅適用 12 歲以上未滿 18 歲的未成年人」
(C) 小蕊：「政府對於無謀生能力的兒童要給予必要的生活扶助」
(D) 安平：「這項法律禁止業者供應酒、檳榔給兒童及少年」

4. 張家跟樓上鄰居之間因為房屋漏水而產生糾紛，下列哪種方式不屬於此種糾紛應採行的解決機制？

(A) 雙方坐下來自行簽訂維修費用和解契約
(B) 到派出所報案請求警察調查並進行調解
(C) 至公所調解委員會由委員來進行調解
(D) 至地方法院在法庭由法官當庭進行和解

5. 十七歲丙男與十五歲丁女是高中同學，兩人於兩情相悅下發生性關係，丁女因而懷孕。關於丙男的法律責任，以下敘述何者正確？

(A) 兩人於兩情相悅下發生性關係，尚不構成犯罪
(B) 無論丁女同意與否，丙男即已構成犯罪
(C) 丙男若遭檢察官起訴，但與丁女家長達成民事賠償協議即無須負擔刑責
(D) 丙男雖未成年，但經檢察官起訴，即不得由少年法院處理

6. 十六歲的小陳經朋友介紹擔任詐欺車手，某日為了分紅，在自動櫃員機幫忙領錢時被警察逮捕，訊後小陳依【甲】移送【乙】審理，最後小陳被裁定保護管束三年。請問：上述文中的【甲】、【乙】應分別為何？

(A) 《刑法》、地方法院
(B) 《刑法》、少年法院（庭）
(C) 《少年事件處理法》、地方法院
(D) 《少年事件處理法》、少年法院（庭）

7. 露天燃燒稻草或雜草可能影響行車安全及人體健康，可依《空氣污染防治法》開罰五千元以上十萬元以下罰鍰。嘉義縣某農民因此被開罰五千元，農民若不服應如何提起救濟？

(A) 向當地調解委員會提出調解申請
(B) 向主管機關的上級單位提出訴願
(C) 直接向嘉義縣政府提出民事賠償
(D) 向嘉義地方法院提起刑事訴訟

8. 四位同學在課堂上扮演我國的公職人員，根據下表內各角色的職權判斷，下列何者的臺詞與角色相符？

姓名	角色	臺詞
(A)曉芳	檢察官	嫌犯罪證不足，我決定做出不起訴處分
(B)以娟	大法官	犯人罪行重大，我做出無期徒刑的判決
(C)太華	監察委員	國家元首違法失職，我將對他提出彈劾
(D)義倫	少年保護官	裁定犯罪少年入感化教育處所，施以隔離式的矯治教育

9. 報載：「《甲》定的 15 歲以上未滿 16 歲為「童工」，調查 335 位童工中，仍有高達 25%表示曾每日工作超過 8 小時，超過 20%表示有超過晚上八點工作的經驗。顯見青少年打工族勞動權益無法彰顯與徹底落實，被違法剝削情況依舊嚴重。」請問：文中《甲》應為哪一部法律？

(A) 勞動基準法 (B) 少年事件處理法
(C) 刑法 (D) 兒童及少年福利與權利保障法

10. 小宇開車不慎撞到路上的機車騎士，機車騎士住院數日後傷重不治，小宇因此遭檢察官提起公訴，再加上高額賠償金的問題，為此小宇向律師尋求法律諮詢。請問：針對車禍衍生的民事、刑事訴訟，律師「最不可能」提供小宇下列哪一項建議？

(A) 醫療所需費用可與被害者家屬進行和解
(B) 車輛維修費用可與被害者家屬進行調解
(C) 此刑事訴訟程序可因在法庭上和解而終止
(D) 此民事訴訟案件可向調解委員會聲請調解

11. 右圖為我國某地區在一段期間內發生的各類訴訟案件統計結果。根據圖中資料判斷，下列哪一項推論最合理？

(A) 提起公訴的案件可能為 45 件
(B) 可以調解的案件可能為 90 件
(C) 提起公訴的案件可能為 50 件
(D) 可以調解的案件可能為 130 件

各類訴訟案件統計結果
1.民事案件 105 件
2.刑事案件 43 件
3.行政案件 10 件

12. 節目主持人小武邀請少年法院張法官，針對《少年事件處理法》的規定進行訪談。下列節錄的內容，何者最不符合該次訪談的主題？

(A) 小武：「請談談日前發生的二十歲學生校園恐嚇事件。」
(B) 張法官：「我們經常會透過保護處分來代替刑事處罰。」
(C) 小武：「除感化教育外，請法官說明其他的處理方式。」
(D) 張法官：「訓誡、保護管束都是我們可能採取的作法。」

13. 公民老師在課堂講述「無罪推定原則」時，請同學舉例說明，下列何者的舉例最為適當？
- (A) 甲：「小偉因開車超速遭處罰鍰，所以他是**有罪**的」
- (B) 乙：「宜靜因涉嫌販毒遭警察逮捕，所以她是**有罪**的」
- (C) 丙：「阿娟雖因辱罵他人遭處罰金，但仍不能認定她有罪」
- (D) 丁：「胖虎雖因恐嚇鄰居遭起訴，但仍不能認定他有罪」

14. 就讀國中八年級的小庭趁體育課偷走同學留在書包中的手機，行竊時被返回班上的同學撞見，受害學生家長獲知後決定報警處理。根據內容判斷，小庭最可能受到下列何種處分？
- (A) 拘役 20 日 (B) 罰鍰 2000 元
- (C) 假日生活輔導六次 (D) 有期徒刑一年

15. 我國行政訴訟為三級二審制，下列哪項案件屬於地方法院行政訴訟庭審理？
- (A) 交通違規申訴後，不服的交通裁決事件
- (B) 小孩監護權紛爭的訴訟案件
- (C) 個人資料遭私人醫院盜賣給不法集團
- (D) 畫作借給美術館展覽卻不慎受損

16. 四位同學討論公民作業時，對於「縱火案的訴訟程序」產生疑惑。請問：下列何人的說法最正確？
- (A) 小政：「此案需經檢察官提起公訴後才能夠審判」
- (B) 小佑：「只要被告經法院告發後，就可適用此程序」
- (C) 庭庭：「此案屬於告訴乃論罪無法自行提起訴訟」
- (D) 筱宇：「原告可直接委任律師向法院提起訴訟」

17. 曾老師在課堂上要同學以「八年抗戰」（西元 1937～1945 年）的歷史為背景，進行角色扮演。下列哪一位同學應是扮演當時日本政府官員的角色？
- (A) 產賀：「為了結束戰爭，我們不得不在當地投下原子彈。」
- (B) 文彬：「我們利用對外戰爭壯大了勢力，最後終於取得中國的政權。」
- (C) 真祐：「這次戰爭使我們控制東亞的夢想破滅，傷亡慘重，最後宣布投降。」
- (D) 明俊：「這戰爭使我們與各國另訂平等新約，解除百年來不平等條約的束縛。」

18. 歷史老師出了一個「古人如果也有 facebook」的作業。敏赫打算幫「張學良」開一個 facebook 帳號，個人簡介必須是符合「張學良」的史實。請問：在「張學良」的 facebook 簡介中敏赫不應該提到下列哪一件事？
- (A) 參與清黨 (B) 發動西安事變
- (C) 和日本有殺父之仇 (D) 宣布東北歸順中央

19. 下列表格為孫中山成立的組織或政黨及其所發動之大事。請問：哪一格的敘述正確？

組織名稱	興中會	同盟會	國民黨	中華革命黨	中國國民黨
成立時間	1894	1905	1912	1914	(A) 1918
大事	孫中山創立的第一個革命組織	黃花崗之役、武昌起義	(B) 發動三次革命	(C) 發起五四運動	(D) 北伐

20. 民國 14 到 16 年，國民政府遷移的順序，下列何者**正確**？
- (A) 南京→武漢→北京 (B) 廣州→武漢→南京
- (C) 廣州→南京→北京 (D) 南京→廣州→北京

21. 下列哪一個事件的發生地點並不在「丙」城市？

- (A) 一二八事變
- (B) 淞滬會戰
- (C) 清黨
- (D) 九一八事變



22. 自中英「南京條約」簽訂以來，中國即飽受不平等條約的束縛達百年之久，請問：關稅自主權、領事裁判權這兩大特權，政府分別在**何時**收回？
- (A) 十年建設期間；八年抗戰期間
- (B) 北伐期間；十年建設期間
- (C) 開羅會議期間；雅爾達會議期間
- (D) 五四運動期間；八年抗戰期間

23. 十年建設期間，日本曾發動下列哪些侵犯行動？(甲)成立「滿洲國」；(乙)提出「二十一條要求」；(丙)發動「五三慘案」；(丁)發動九一八事變；(戊)扶植汪精衛成立南京國民政府；(己)一二八事變
- (A) 甲丙戊 (B) 乙丙丁 (C) 丁戊己 (D) 甲丁己。

24. 國共合作曾出現兩次，分別開始於**何時**？
- (A) 黃金十年、七七事變 (B) 聯俄容共、七七事變
- (C) 五四運動、聯俄容共 (D) 聯俄容共、黃金十年

25. 有位歷史學家說：「(甲)救了國民黨，(乙)救了共產黨。」請問：(甲)、(乙)各應填入下列何者較為**適當**？
- (A) 國共內戰、西安事變 (B) 八年抗戰、九一八事變
- (C) 韓戰、西安事變 (D) 韓戰、一二八事變

26. 在不同的時空背景下，配合不同的事件總是會有不同的訴求、口號產生。請問：以下的訴求及口號配對何者**錯誤**？
- (A) 革命無罪，造反有理-文化大革命
- (B) 抗美援朝-國共內戰
- (C) 停止內戰，一致抗日-西安事變
- (D) 超英趕美大躍進

27. 請問：以下關於中華民國總統的敘述，何者**有誤**？
- (A) 中華民國第一任人民直選總統-陳水扁
- (B) 中華民國第一任臨時大總統-孫中山
- (C) 中華民國第一任正式大總統-袁世凱
- (D) 中華民國行憲後第一任總統-蔣中正

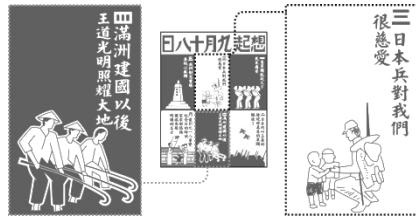
28. 在某本以近現代中國為背景的小說中寫到：「最近，國家開始實施新政策，由政府指定中央、交通、中國這幾家銀行發行法幣。我想，此政策若真能好好實行，改善過去幣制混亂的情況，買賣交易就比較好做了。」這段話所呈現的最可能是中國處於下列何種局勢下的情況？
- (A) 國共內戰結束後，中共推動經濟改革
- (B) 軍閥統治期間，由北京中央政府推動用以方便收稅
- (C) 八年抗戰後期，政府籌措資金抗日
- (D) 十年建設期間，政府致力財政改革

29. 「某年，美國空軍飛臨敵區臺灣進行偵查空照，並於年底開始對臺灣各地的市街、車站、糖廠進行轟炸，臺灣西部縱貫公路與鐵路受創嚴重。」請問：上述情況的發生，與下列何者關係最密切？

- (A) 韓戰 (B) 珍珠港事變
(C) 美國與中華民國斷交 (D) 盧溝橋事變

30. 附圖是一幅宣傳海報，此宣傳海報最早可能在下列何時何地傳布？

- (A) 1919~1930 年的臺北
(B) 1949~1960 年的上海
(C) 1932~1945 年的瀋陽
(D) 1916~1928 年的北京



31. 中共在 1979 年 7 月試辦出口特區，接著又在 1980 年 5 月正式稱深圳、廈門、珠海、汕頭 4 個出口特區為經濟特區。希望透過經濟特區來吸引外商投資，促進經濟的迅速發展。請問：中華人民共和國設置經濟特區與下列哪一位中共領導人的政策有關？

- (A) 鄧小平 (B) 毛澤東 (C) 習近平 (D) 江澤民

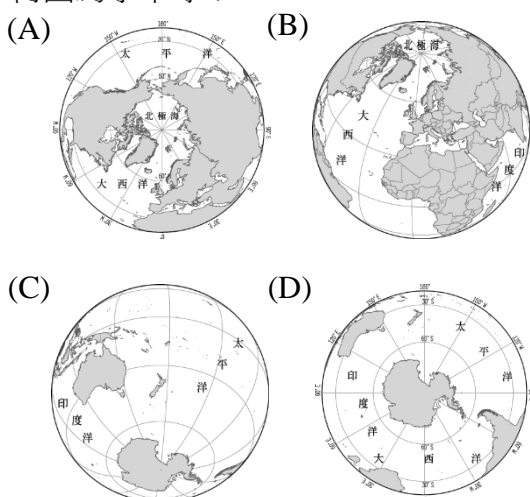
32. 有段時間，中國陷入一種瘋狂的造神運動，學生放下書本、農民放下鋤頭，工廠也長期停止生產，人人手拿「小紅書」，走上街頭遊行，向偉大的主席致敬！這場 1960 年代開始的群眾運動，許多親身參與者，現今仍健在。下列何者的訪談內容可能錯誤？

- (A) 曾館長：當時我在博物館任職，只見民眾像發瘋似的衝進來爭搶文物，再把東西燒得一乾二淨
(B) 李奶奶：小紅書就是《毛語錄》，直到江青下臺我們才敢把書「收起來，否則就犯了大忌
(C) 吳大媽：當時流行「打倒走資派」、「爹親娘親不如毛主席親」、「破四舊，立四新」，常常都要去天安門廣場聽演講
(D) 車教授：我的學術專長是四書五經、孔孟學說，當時很受群眾歡迎，國家也邀請我四處去演講

33. 中國傳統的儒家文化，曾在下列哪幾個時期遭受嚴重的破壞：(甲)秦始皇統治期間；(乙)西漢武帝時；(丙)太平天國時；(丁)新文化運動期間；(戊)文化大革命期間？

- (A) (甲)(乙)(丙)(丁)(戊) (B) (甲)(丙)(丁)(戊)
(C) (甲)(乙)(丙)(丁) (D) (乙)(丙)(丁)(戊)

34. 何圖為水半球？

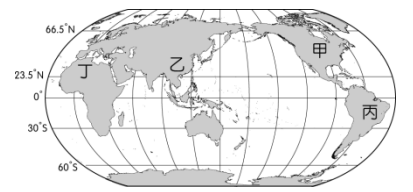


35. 亞洲的人口數約佔全球的 60%，人口次多的為何洲？

- (A) 非洲 (B) 大洋洲 (C) 歐洲 (D) 北美洲

36. 參考附圖，何者最接近陸半球的中心？

- (A) 甲 (B) 乙
(C) 丙 (D) 丁



37. 承上題，何者最接近全球人口最稠密的地區？

- (A) 甲 (B) 乙 (C) 丙 (D) 丁

38. 下列何者不屬於全球七大洲之一？

- (A) 歐洲 (B) 中南美洲 (C) 澳洲 (D) 南極洲

39. 干欄式建築（高腳屋）較常出現在何種氣候的地區？

- (A) 乾冷 (B) 濕冷 (C) 乾熱 (D) 濕熱

40. 若要在印度開設麥當勞，考量當地最主要的宗教信仰，可將哪種漢堡從菜單刪除？

- (A) 雙層牛肉吉士堡 (B) 麥香魚
(C) 麥香雞 (D) 豬肉滿福堡

41. 身在臺灣的伊斯蘭教教徒，每天需朝哪個方向朝拜五次？

- (A) 東 (B) 西 (C) 南 (D) 北

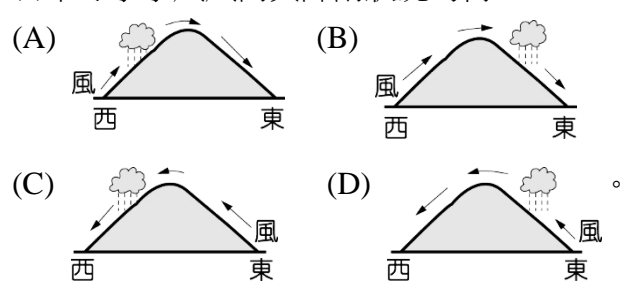
42. 日本的四大島嶼中，緯度最低的是？

- (A) 四國 (B) 本州 (C) 北海道 (D) 九州

43. 假設海拔高度相同，何處的櫻花應該會最晚綻放？

- (A) 海南島 (B) 北海道 (C) 臺灣 (D) 琉球

44. 日本冬季季風風向與降雨狀況為何？



45. 日本的工業區多分布在沿海地區，原因為何？

- (A) 開發較早 (B) 礦產豐富
(C) 方便出口產品 (D) 方便取得工業用水

46. 小明暑假前往日本關西地區旅遊，先前往關西地區第一大城市逛街，再前往日本的千年古都看古蹟，小明前往的是哪兩個城市？

- (A) 東京、名古屋 (B) 大阪、京都
(C) 神戶、長崎 (D) 札幌、青森

47. 朝鮮半島東側的山脈名稱為何？

- (A) 太白山脈 (B) 長白山脈 (C) 太行山脈 (D) 南嶺

48. 第二次世界大戰後，朝鮮半島大致以北緯幾度為界線，分為北韓、南韓？

- (A) 23.5 (B) 35 (C) 38 (D) 45

49. 承上題，何處最接近此界線？

- (A) 新義州 (B) 板門店 (C) 光州 (D) 大邱

50. 何城市為南韓第一大港口？

- (A) 平壤 (B) 首爾 (C) 仁川 (D) 釜山

新北市立新莊國民中學 107 學年度第 2 學期第 3 次段考 8 年級社會領域試題解答

1	2	3	4	5	6	7	8	9	10
A	C	B	B	B	D	B	A	A	C
11	12	13	14	15	16	17	18	19	20
D	A	D	C	A	D	C	A	D	B
21	22	23	24	25	26	27	28	29	30
D	A	D	B	C	B	A	D	B	C
31	32	33	34	35	36	37	38	39	40
A	D	B	C	A	D	B	C	D	A
41	42	43	44	45	46	47	48	49	50
B	D	B	A	C	B	A	C	B	D