

新北市立新莊國民中學 111 學年度第 1 學期第 1 次段考 8 年級社會領域試題卷

班級 座號 姓名

※ 選擇題：本試卷共 50 題，每題 2 分，總分為 100 分。
每一題均為單選題，請選出最適當答案。

※ 請用 2B 鉛筆在答案卡上相應的位置畫記。

- 台灣在日治時期總督府會定期人口普查，而中國在東周時秦國變法也有將人民編列戶籍，請問：東周秦國這種編列戶籍的作法目的可能是下列何者？
(A)掌握人力以作為徵集賦稅和建造公共工程時服勞役的依據
(B)為了推行封建制度並強化對諸侯的統治
(C)了解人口社會增加比率以調節國界的管控
(D)為了配合選拔人才的措施，促進社會的流動

- 「歷史事實」與「歷史解釋」的區別，在於歷史事實是客觀呈現過去發生的事件；而歷史解釋則是後人運用歷史資料，對相關歷史事件進行的詮釋與評價。下列敘述中，何者最適合歸類為「歷史解釋」？
(甲)西晉末年北方的戰亂使大批漢人遷往南方，(乙)帶來農耕技術與充沛人力，(丙)加速對南方的開發，(丁)對於日後中國經濟文化重心的南移有重要影響。
(A)甲 (B)乙 (C)丙 (D)丁

- 下面是三句與任官有關的俗語，請問：這些俗語與它形成的背景若按時代排序，應為下列何者？
甲、上品無寒門，下品無世族
乙、遺子黃金滿屋，不如教子一經
丙、十年寒窗無人問，一舉成名天下知
(A)甲乙丙 (B)甲丙乙 (C)乙甲丙 (D)乙丙甲

- 下列哪一項的傳播與絲路造成的文化交流無直接關係？
(A)琵琶 (B)造紙術 (C)佛教 (D)葡萄

- 從文學作品中的內容可以看出一個時代的文化風尚，請問：從下列三個作品中，可以看出唐朝的哪一種文化風貌？

白居易〈寄胡麻餅與楊萬州〉：「胡麻餅樣學京都，面脆油香新出爐。」
岑參〈白雪歌送武判官歸京〉：「中軍置酒飲歸客，胡琴琵琶與羌笛。」
元稹〈法曲〉：「女為胡婦學胡妝，伎進胡音務胡樂。」

- (A)民眾生活很奢侈，時常邊喝酒邊看人表演
(B)女為悅己者容，很愛打扮
(C)覺得外國文化優於大唐文化，想要變成外國人
(D)民族文化交流頻繁，社會呈現一種兼容並蓄的風貌
- 西元 869 年（唐貞觀十一年），年僅 12 歲的○○人崔致遠奉父親之命到中國留學，以期考上中國的科舉。結果來到中國的第六年，他果然不負所望一舉及第，此後於中國任官。他在 28 歲時歸國，受到○○朝廷的重用。崔致遠是來自當時有「君子國」之稱的國家，請問：他應該是來自下列哪一個國家？
(A)新羅 (B)吐蕃 (C)越南 (D)日本

- 統治者透過分封儀式，將土地、人民、財物授予貴族，要求他們透過武裝征伐，建立據點以護衛王朝。簡單來說，此制度就是透過土地的分割達到權力的分化，各級貴族按身分等級受封土地與爵位。請問此制度指的是西周的哪項制度？
(A)郡縣制度 (B)封建制度 (C)戶籍制度 (D)禮樂制度

- “我要出頭天”遊戲是一個角色扮演手遊，必須要熟知各個不同朝代的選拔人才制度才有辦法通過層層關卡，底下問題是手遊的關卡之一，請幫助罪罪通關。關卡問題：下列哪一個人能夠在漢武帝時出頭天呢？
(甲)沈墨：我乃進士科考試出身，平日喜好飲酒、音樂、彈奏琵琶，並曾遊歷中國西北地區，擅長邊塞詩創作。
(乙)陸辰：我是經過地方長官從轄區內考察、選拔出來被推薦為「孝順親長、廉能正直」的官員。
(丙)謝臨：我是經由中正官以簿世（譜牒家世）、行狀（才幹、道德）、鄉品（中正鑑定）查訪後評選而出的官員。
(丁)陳湛：天子冊封土地給我的父親，我家世代代皆效忠於天子並恪守禮樂制度。
(A)甲 (B)乙 (C)丙 (D)丁

- 承上題，假設以上四個人皆順利在他的時代出頭天，得到朝廷重用，請問：這四個人生活的時代先後排序為何？
(A)甲乙丙丁 (B)乙丁甲丙 (C)丁乙丙甲 (D)丙丁乙甲

- (甲)他協助秦國變法，厲行法治，按軍功授予爵位，並編列戶籍，使平民納稅和服勞役，為日後秦國統一奠下基礎。
(乙)他設立「太學」，專門教授儒學，成績優異者可以任官。
(丙)他將首都從平城（今山西大同）南遷到洛陽，要求胡人說漢語，改漢姓，穿漢服，並鼓勵胡漢通婚。
(丁)他是第一位使用「皇帝」稱號的君主，推行郡縣制度，強化中央集權，但卻興建宮殿及陵墓等耗費大量民力，引起民眾揭竿起義。

上述甲、乙、丙、丁為歷史上四位有名人物，請依照上述四位人物出現先後順序加以排列。

- (A)甲乙丙丁 (B)丁甲丙乙 (C)甲丙乙丁 (D)甲丁乙丙

- 大臣：「陛下，近來大食頻頻侵略西域地區，當地諸國皆不堪其擾，派遣使節來懇請陛下出兵征討！」
君主：「嗯，前一陣子從西域有許多來歸順的百姓，看來情況的確不妙，那麼就以我國軍隊為主，再徵調西域各國的軍隊，合擊大食！」請問：以上君臣之間的對話後所發生的戰爭應該發生在下列哪一個朝代？
(A)秦朝 (B)漢朝 (C)魏晉南北朝 (D)唐朝

- 關於佛教的敘述，下列何者「錯誤」？
(A)唐朝興建雲岡石窟雕刻大型佛像，象徵佛教在唐朝達到巔峰
(B)魏晉南北朝時期政權更迭頻繁，社會動盪不安，宗教成為精神寄託，佛教隨之盛行
(C)玄奘去印度取經，回國後大量翻譯佛經，進一步促進佛教中國化
(D)佛教藉由絲路從西域傳入中國

- 「秦築○○城已催，漢武北上單于台，古來征戰虜不盡，今日還復天兵來。」此首詩中的○○代表的是農耕文化與草原文化的分界線。請問：詩中的○○指的是下列何者？
(A)黃河 (B)絲路 (C)長城 (D)長江

- 請問：右圖中所呈現的現象會出現在下列哪一個皇帝的事蹟中？

- (A)秦始皇
(B)漢武帝
(C)北魏孝文帝
(D)唐太宗



背面尚有試題

15. 下列哪一件事並不是發生在唐太宗時期？

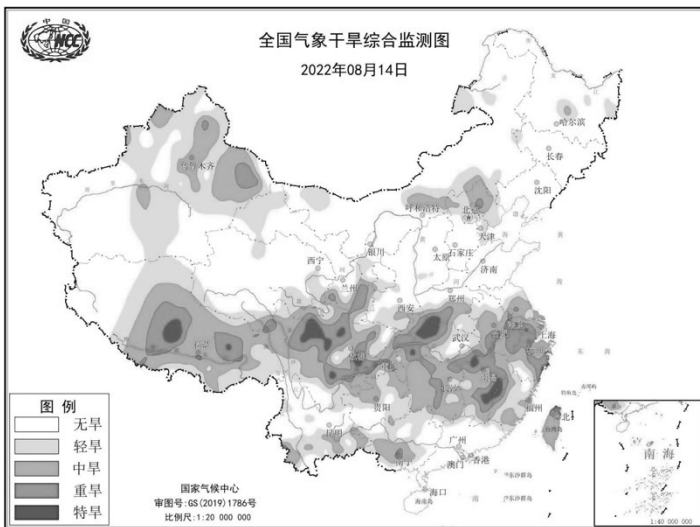
- (A)玄奘到印度取經
(B)設立太學
(C)將文成公主嫁到吐蕃
(D)滅東突厥，被稱為「天可汗」

16. 曲媽在電視上看到一部有關於隋唐時期，東亞不同民族文化交流的紀錄片，請問：下列選項中哪一句旁白才符合史實？

- (A)越南北部以唐代制度為藍本進行「大化革新」
(B)新羅模仿漢字創造自己的文字「片假名」和「平假名」
(C)文成公主嫁到吐蕃將佛教及農業技術帶入此地
(D)日本因為戰爭失敗而派使者向唐代求親，造成中國的造紙術東傳

【第 17 至 19 題為題組】

2022 年世界氣候異常，許多國家的溫度與降水都與多年的氣候狀態有極大差異，中國也有類似狀況。下圖為中國 2022 年的乾旱監測圖，顏色愈深表示旱災愈嚴重，請根據此圖回答下列問題：



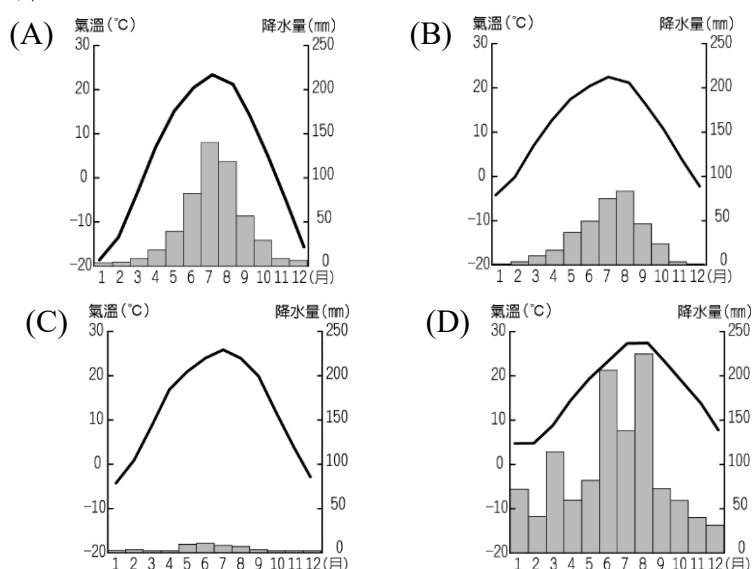
17. 根據圖中乾旱監測圖判斷，下列哪個地形區最需要制定相關政策應對旱情？

- (A)東北平原 (B)塔里木盆地
(C)內蒙古高原 (D)四川盆地

18. 因受到乾旱影響，灌溉水源缺乏，導致農作物或畜牧產品歉收，將影響未來農產品的價格。下列哪項農牧產品未來可能會因產量不足而有漲價危機？

- (A)水稻 (B)小麥 (C)高粱 (D)牛奶

19. 若要針對旱災最嚴重的區域進行研究，並比對過去的氣候狀態以評估補償方案，則下列哪張氣候圖是不可或缺的資料？



【第 20 至 21 題為題組】

下兩張為中國不同時期的人口標語照片，請根據這些標語判斷下列問題：



20. 上左照片的存在是為了解決哪項中國人口問題？

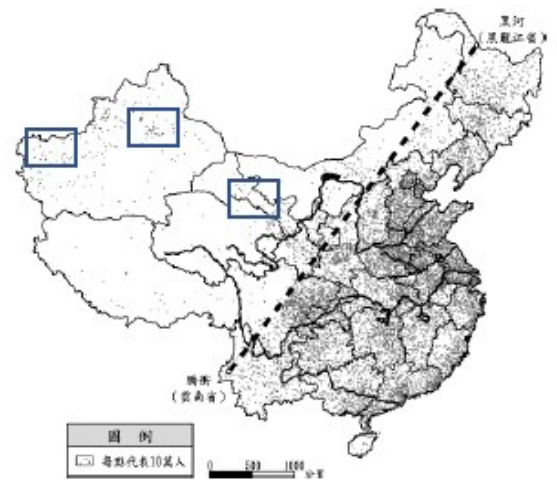
- (A)人口數愈來愈多 (B)出生率愈來愈低
(C)性別比愈來愈大 (D)扶養比愈來愈高

21. 上右照片的人口標語是為了達成下列甚麼目的而推行？

- (A)增加環境負載力 (B)降低人口總數
(C)提高人口素質 (D)減緩人口老化

【第 22 至 23 題為題組】

中國的人口分布與各地環境負載力的高低，大致與地形、氣候等自然環境及經濟發展程度有關，下圖為理解中國人口分布的重要工具，請根據此圖回答下列問題：



22. 若要根據上圖解釋各地環境負載力的高低，下列何者正確？


- (A)平原比例愈高，環境負載力愈低
(B)盆地比例愈高，環境負載力愈高
(C)年降水量愈少，環境負載力愈低
(D)年均溫度愈低，環境負載力愈高

23. 上圖中的西部人口分布零星，但仍有部分地區(方框處)的人口高於週邊，關於此現象的解釋，下列何者正確？

- (A)多屬平原丘陵區 (B)有綠洲河谷分布
(C)氣候終年溫暖潮濕 (D)經濟發展程度較高

【第 24 至 25 題為題組】

自然環境會影響人類的居住型態，造成了不同地區的住宅樣式各有特色，下圖為中國境內常見的傳統建築樣式，請根據此圖回答下列問題：



24. 因開發歷史悠久，歷經戰亂、盲目開荒與亂砍濫伐，導致高原的植被遭到嚴重破壞，加上土質疏鬆，水土流失嚴重，形成千溝萬壑。為了適應當地的環境限制，居民多以圖中何種型態為主要建築？

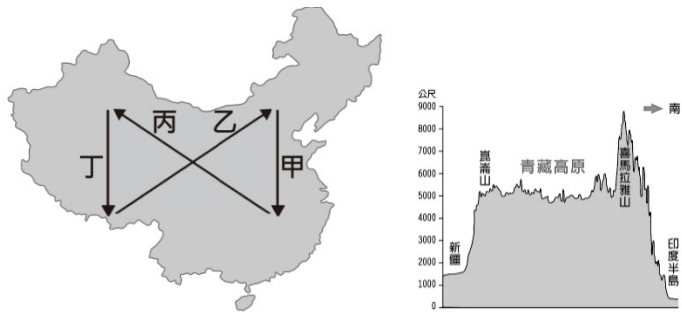
- (A)甲 (B)乙 (C)丙 (D)丁

25. 若要設計丁建築樣式的暑假旅遊行程，則下列何者的文案較符合當地事實？

- (A)受西南季風影響，時常降雨，需攜帶雨具
(B)受高氣壓籠罩影響，風沙漫天，需自備口罩
(C)因距海較遠，溫差較大，需備早晚保暖衣物
(D)受地勢較高影響，常年低溫，需備禦寒衣物

【第 26 至 27 題為題組】

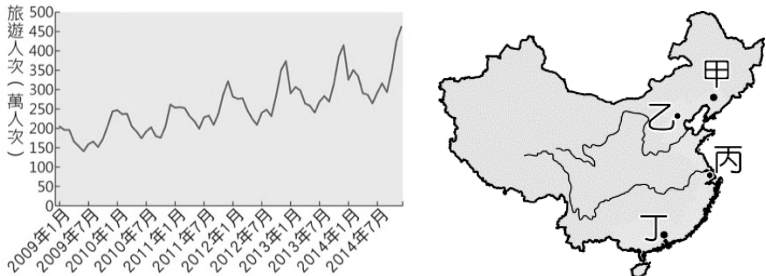
下圖為橫越中國的四條切線，請根據這四條切線的特性回答下列問題：



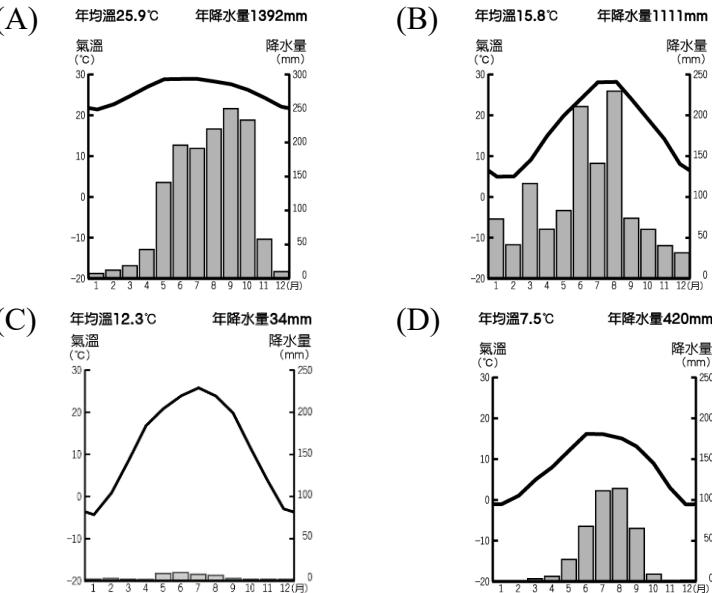
26. 中國面積廣大，氣候受地形、緯度、距海遠近與季風風向等因素影響，在空間的分布上具有差異性。圖中甲、乙、丙、丁四條路線中，哪一條路線的空間變化趨勢在夏季有明顯的「由濕熱轉變為乾熱」？
 (A)甲 (B)乙 (C)丙 (D)丁
27. 上右圖為沿著上左圖中的某一條切線所繪製的地形剖面圖，請根據此地形剖面圖判斷，此條剖面線應為下列何者？
 (A)甲 (B)乙 (C)丙 (D)丁

【第 28 至 29 題為題組】

下左圖為中國某旅遊景區 2009 年至 2014 年接待的國內旅遊人次統計。下右圖為中國四個旅遊景區的位置分布圖，請根據下圖回答問題：



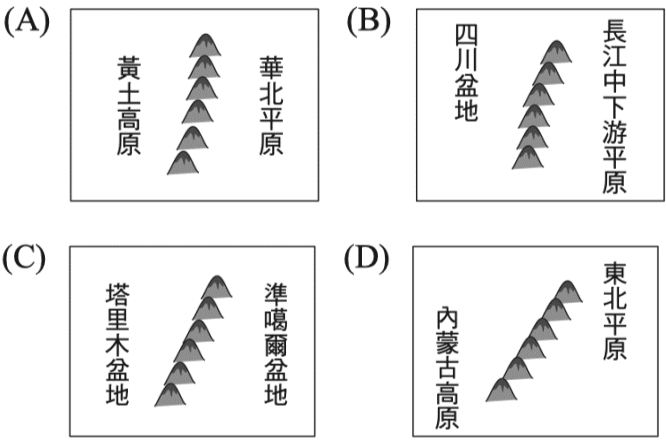
28. 若根據旅客夏季會傾向至避暑勝地，冬季則到避寒勝地的旅遊特性來看，由人次統計圖判斷，此旅遊景區可能在圖中何處？
 (A)甲 (B)乙 (C)丙 (D)丁
29. 此旅遊景區的氣候圖，可能是下列何者？



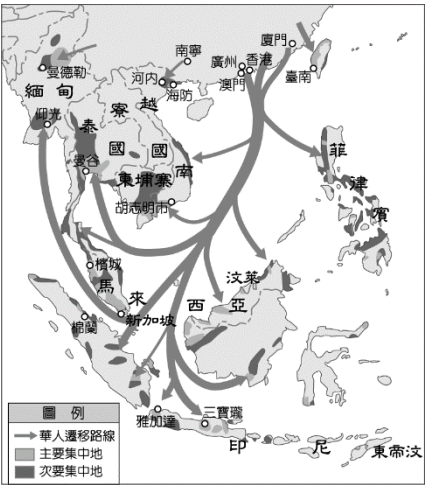
30. 右圖為中國綜合多種自然與人文的數據所繪製而成的重要分界線，此數據可能引用下列何者？
 (A)氣候：熱帶季風與副熱帶季風
 (B)作物：小麥與稻米
 (C)產業：農業區與畜牧區
 (D)地形：中階梯與低階梯



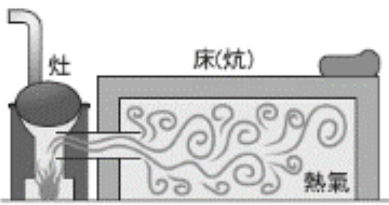
31. 下圖為四張中國重要地形與山脈的相對位置圖，若要幫這些圖片標示方位，下列何者的右方方位標示為北方？



32. 中國因人口眾多且資源分布不均，快速增加的人口可能造成糧食不足的窘境，促使中國人不斷向外遷移，尋找更多可耕地或工作機會，僅於逢年過節返回中國探親。右圖為華人遷移圖，請根據此圖判斷，明清時期的華人，若要返鄉回中國探親，應該順著下列哪個風向回去？
 (A)西北季風 (B)東北季風
 (C)西南季風 (D)東南季風



33. 「炕」是中國滿族人發明的一種可以燒火取暖的臥具（如右圖），其利用煮飯的灶口燒柴，並把餘熱導引至床（炕）下，最後從煙口將煙排除，人的生活作息皆在炕上進行，白天於炕上吃飯聊天，晚上則睡在炕上，此等結構除了煮飯外，更能為冰寒地凍的冬日帶來不少暖意。若調查不同地區住宅中有「炕」的比例，則下列何者可能最高？
 (A)四川盆地 (B)東北平原
 (C)長江三角洲 (D)珠江三角洲



34. 下表有關「國家」與「政府」的敘述，哪一選項是正確的？

選項	國 家	政 府
(A)	具備人民、領土、國旗、政府四項要素	國家構成要素之一
(B)	對內具有最高性	對外具有獨立性
(C)	隨政權移轉而被取代	具有穩定性與持續性
(D)	依賴政府職權運作才能發揮國家功能	是國家的決策單位

35. 附圖為我國廣義的法律位階示意圖，圖中灰色區塊所代表的法律類型，具有下列何項特色？
 (A)由立法院制定，總統公布
 (B)只做原則性規範，具體事項由法律加以補充
 (C)由行政機關提案，選舉人投票複決
 (D)由行政機關制定，以補充法律的不足



新北市立新莊國民中學 111 學年度第 1 學期第 1 次段考 8 年級社會領域試題卷

班級 座號 姓名

36. 報載：「阿根廷總統艾柏托下令開除衛生部長賈西亞，理由是賈西亞讓他的朋友們插隊優先施打 COVID-19 疫苗。賈西亞強調是他不在辦公室時發生的混亂，才導致有人不依正常順序施打疫苗。但艾柏托仍要求賈西亞辭職下台，並由衛生副部長維佐蒂接任。」文中阿根廷總統的做法，最符合民主政治的何項內涵？
(A)法治政治 (B)政黨政治 (C)責任政治 (D)民意政治

37. 若僅根據表中內容判斷，下列何者最可能不曾具有我國國籍？

姓名	出生地	出生時 父母的國籍	現況
(A)大仁	東京	中華民國	擔任立法委員
(B)小潔	洛杉磯	中華民國	在美國留學
(C)詩涵	臺北	澳洲	擔任台中市議員
(D)小賢	臺南	美國	在印尼工作

【第 38 至 39 題為題組】

報載：「由於台南殺警案引發外界討論相關法令修法可能，其中已經在（甲）初審完成近 2 年的《警械使用條例》修正草案，內容包括放寬員警使用輔助工具作為警械、成立警械使用調查小組，刪除補償定額制，回歸國家賠償，並擴大補償對象。日前朝野協商已經決定優先完成三讀。」

38. 文中（甲）機關應為下列何者？
(A)立法院 (B)行政院 (C)大法官 (D)法務部
39. 關於《警械使用條例》之位階敘述，下列何者符合其內涵？
(A)屬於《憲法》位階，任何法律與之牴觸則無效
(B)屬於法律位階，由行政機關制定
(C)屬於法律位階，依據《憲法》精神制定
(D)屬於命令位階，補充法律不足

【第 40 至 41 題為題組】

報載：「【職權機關】在朝野政黨支持下，三讀通過 18 歲公民權修憲案，明定年滿 18 歲中華民國國民，依法有選舉、罷免、創制、複決、參加公投及被選舉權，全案公告半年後將交由公民複決，這也是中華民國歷史首次交付公民複決的修憲案。以 2020 年總統大選的選舉人數換算，有效同意票要超過 965 萬票才算通過，外界視為超高門檻。」

40. 關於文中【職權機關】之敘述，下列何者錯誤？
(A)屬於政府的國家要素
(B)三讀修憲案為其權力之行使
(C)具有國家最高權力的主權
(D)修憲目的是為保障人民權利
41. 文中畫線部分說明《憲法》何項特性？
(A)原則性 (B)固定性 (C)最高性 (D)優越性

【第 42 至 43 題為題組】

法國南太平洋屬地新喀里多尼亞，島上不到 27 萬的人口，除了最大宗的卡納克原住民（佔 39%），以法國為主的歐洲殖民者後裔為第二大族群（27%）。支持獨立的卡納克原住民認為，法國殖民時代遺留下來權力資源不對等依然存在；反對獨立派認為，脫離法國恐失去每年來自巴黎 13 億歐元的預算，將對新喀經濟造成嚴重衝擊。2020 年 10 月 4 日新喀里多尼亞舉行獨立公投，開票結果有 53.3%反對脫離法國獨立。法國總統馬克宏深表感激，歡迎選民這項決定。

42. 新喀里多尼亞舉辦獨立公投，此作法具有下列何種意義？
(A)落實主權在民 (B)人民定期選舉
(C)政府合法輪替 (D)國家公平競爭

43. 法國政府會依據人民公投結果，決定新喀里多尼亞是否獨立，此作法符合何種民主原則的展現？
(A)民意政治、法治政治 (B)法治政治、責任政治
(C)法治政治、政黨政治 (D)政黨政治、民意政治

【第 44 至 45 題為題組】

2019 年《長期照顧服務法》修法後，長照體系邁入 2.0 新里程，內容包含家庭照顧者支持、交通接送、失智照護、輔具租借、住宿機構服務等項目，實現在地老化，提供從支持家庭、居家、社區到住宿式照顧之多元連續服務。

44. 文中敘述是政府積極推動何項功能的展現？
(A)保衛國家安全 (B)維持社會秩序
(C)重視教育文化 (D)發展社會福利
45. 關於《長期照顧服務法》之敘述，下列何者符合其內涵？
(A)由衛福部三讀通過
(B)必須經由總統公布施行
(C)與《身心障礙者生活補助費發給辦法》的法律位階相同
(D)修改必須經公民投票複決

【第 46 至 48 題為題組】

報載：「車禍肇事者若拒絕吐氣酒測，依《道路交通管理處罰條例》可以送到醫院進行強制抽血，【甲】今做出憲法訴訟第一號判決，認定該規定牴觸《憲法》保障的人身自由、身體權及資訊隱私權，判決違憲，主文公告屆滿 2 年時該規定失效。修法過渡期間，若駕駛拒絕或無法酒測，警方仍認為有抽血檢驗必要，應報請檢察官核發許可書。情況急迫時，警方可先將駕駛移由醫療機構抽血，廿四小時內陳報檢察官許可，檢方不准許，應三日內撤銷。對於如何修法，交通部表示會檢討並視需要提出修正草案移送立法院審議。2022/2/25」

46. 文中【甲】應為下列何者？
(A)行政院 (B)立法委員 (C)大法官 (D)檢察官
47. 《道路交通管理處罰條例》不可牴觸《憲法》，顯示《憲法》具有何種特性？
(A)固定性 (B)原則性 (C)最高性 (D)獨立性
48. 警察須依法進行酒測，不得侵害人民權利，此做法是實行下列何種政治概念的表現？
(A)獨裁政治制度 (B)法治國家精神
(C)人治社會制度 (D)主權獨立精神

【第 49 至 50 題為題組】

南韓為東亞朝鮮半島南部的共和制國家，（甲）首都首爾特別市是經濟、科技、文化中心。（乙）韓國國土三面環海，總面積約 10 萬平方公里，一年四季分明，春、秋兩季較短；夏季炎熱潮濕；冬季寒冷乾燥。（丙）人口約 5182.9 萬。總統作為國家元首，有權任命國務總理等政府官員，（丁）國會負責審理各項法案與具有財政審查權。韓國生產的記憶體、液晶顯示器、電漿顯示器及行動電話都在世界市場中具領導地位。今年總統選舉結果出爐，在野的國民力量黨候選人尹錫悅以微弱優勢擊敗執政的共同民主黨候選人李在明，當選下一屆韓國總統。此次韓國大選吸引了超過四分之三的合格選民投票，兩名候選人的得票率最終相差不到 1%，這也是南韓在野陣營時隔多年再度重返執政。

49. 文中哪一項敘述與國家組成要素無關？
(A)（甲） (B)（乙） (C)（丙） (D)（丁）
50. 關於文中南韓總統大選之敘述，何者錯誤？
(A)此大選出現政黨輪替現象
(B)大選後的共同民主黨將負責組織政府、執行政策
(C)政黨可透過公平選舉取得執政權
(D)此選舉展現了政黨政治的內涵

新北市立新莊國民中學 111 學年度第 1 學期第 1 次段考 8 年級社會領域試題
解答

1	2	3	4	5	6	7	8	9	10
A	D	C	B	D	A	B	B	C	D
11	12	13	14	15	16	17	18	19	20
D	A	C	A	B	C	D	A	D	A
21	22	23	24	25	26	27	28	29	30
D	C	B	B	A	C	D	D	A	B
31	32	33	34	35	36	37	38	39	40
C	C	B	D	D	C	D	A	C	C
41	42	43	44	45	46	47	48	49	50
B	A	A	D	B	C	C	B	A	B