

- ※ 選擇題：本試卷共 50 題，每題 2 分，總分為 100 分。  
每一題均為單選題，請選出最適當答案。  
※ 請用 2B 鉛筆在答案卡上相應的位置畫記。

1. 1895 年清朝與日本發生「甲午戰爭」清朝戰敗遂有「乙未割臺」，臺灣「紳民奔相走告，聚哭於市」，因而成立「臺灣民主國」抗日，右圖為臺灣民主國集資為軍餉所需的股份票，具公債性質。請問：關於臺灣民主國敘述何者正確？



- (A) 唐景崧為倡議者，推舉丘逢甲為總統  
(B) 臺灣民主國抗日活動失敗後，臺人即不再抗日  
(C) 年號「永明」  
(D) 以「藍地黃虎旗」為國旗。

2. 右圖為 1896 年日本國會發布的「法律第六十三號」的示意圖，此一法律的頒布對日治時期的臺灣造成何種影響？

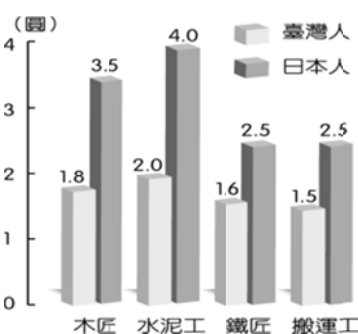


3. 日本統治臺灣期間實施典型的「警察政治」。右表是警察人數的演變，透過資料的演變，請問日本的目的為何？

年度	在臺警察人數
1895 年 9 月	759 人
1895 年 12 月	3296 人
1901 年 12 月	5675 人


- (A) 補足軍人人數的不足 (B) 減少失業率  
(C) 加強對臺灣的控制 (D) 收買臺人

4. 右表是 1927 年上半年臺北市臺人、日人每天工資比較表，從表中的數據看來，可知下列何事？



- (A) 臺人停止抗日，積極從事工業  
(B) 推行工業臺灣，農業南洋政策  
(C) 臺灣人在就業上受到不平等待遇  
(D) 臺灣人在就業上多勞工階級為主

5. 下圖代表日本治台時期的政策演變過程。請問：圖中甲→乙→丙三個時期應如何表示？



- (A) 特別統治時期→皇民化運動→內地延長主義  
(B) 特別統治時期→內地延長主義→皇民化運動  
(C) 皇民化運動→特別統治時期→內地延長主義  
(D) 內地延長主義→特別統治時期→皇民化運動

6. 日治時期，第一位文官總督田健治郎公布其施政方針：「…余以文官，初膺重任，殊感職責深重。……必先致推行教育，一方面啟發其知能、德操，一方面使我廷撫民精神與一視同仁之聖旨……與內地人在社會上觸無任何差別……」上述方針的公布與下列何者有關？

- (A) 總督專制體制的建立 (B) 對六三法進一步說明  
(C) 中日戰爭的爆發 (D) 民族自決思潮的盛行

7. 資料一：昭和 12 年（1937 年），臺北州開始推行「國語家庭」，只要家中成員皆講日語，經官方認可後，政府會頒發「國語家庭」認定證書，並可獲得較好的待遇。

資料二：昭和 15 年（1940 年），臺灣總督府公布《改姓名法令》，宣布「恩准」臺灣人改用日本式姓名，如姓張改姓長本、林改姓小林、呂改姓宮本等。

根據你對日治時期臺灣統治政策演變的了解，當時臺灣正處於哪一個時期？

- (A) 漸進主義時期 (B) 內地延長主義時期  
(C) 皇民化運動時期 (D) 無方針主義時期

8. 1899 年至 1918 年，張麗俊先生擔任台中州豐原地區保正，他的作品《水居主人日記》是臺灣目前唯一由保正當事人所留下的資料，歷史價值豐富。請問：若要更詳細瞭解日治時期保甲制度，下列哪一項是可參考的內容？

- (A) 此為日治時期才發展出的一種地方組織  
(B) 保正甲長直接聽命總督，具有很大權威  
(C) 一家或一人犯罪，同保甲民眾會受連坐處分  
(D) 保甲取代警察，成為日治最重要的地方組織

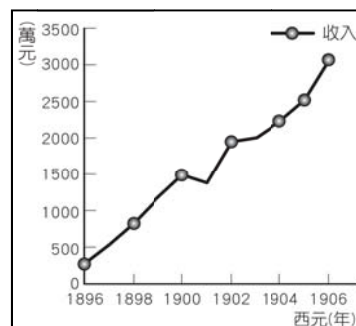
9. 原住民積年累月的被壓迫剝削，強制勞役、遲發工錢，加上日本警察誘姦山地婦女後再把其遺棄等……在當天早晨群起對統治者起義。分隊襲擊附近的警察分駐所十三處，同時進襲警察分室、學校、郵政局、日本人官舍等，砍殺了各地警察及公學校舉行秋季運動會的日本人一百三十六名（其中有二人是著日人服裝的臺灣人被誤殺），又殺傷了二百十五人，替同胞洩憤。……能引發原住民同胞全體一致對日本人實施屠殺，必然是長年來的受辱怨氣，見有人發難則全體不計後果大加報復。請問：上文中所敘述的是什麼事件？

- (A) 霧社事件 (B) 西來庵事件  
(C) 郭懷一事件 (D) 加禮宛事件。

10. 西元 1890 年，春花正好 20 歲，她在市場工作時接觸到各種不同的錢幣，當時丈量用的工具也沒什麼標準，常出現不公平的情形。到了她 30 歲時，一切都改觀了，不僅有了統一的紙幣，丈量的單位也有統一的規範。這種變化最可能與下列何者有關？

- (A) 臺灣建省 (B) 日本統治臺灣  
(C) 臺灣民主國的統治 (D) 二次大戰時的配給政策。

11. 右圖是西元 1896 到 1906 年臺灣財政收入圖，從圖中可發現臺灣財政收入逐年增加。請問：財政狀況的改善與下列哪個政策有關係？



- (A) 發展國防工業  
(B) 實行配給制度  
(C) 推行保甲制度  
(D) 實施專賣制度。



# 新北市立新莊國民中學 108 學年度第 2 學期第 1 次段考 7 級社會領域試題

12. 日治時期，政府曾頒布《改姓名法令》，並發行《改姓名讀本—撰名手續不求人》鼓勵人民更改姓氏。不過一開始響應的民眾並不多，後來採用利誘和高壓手段，改姓名的人數才多了起來。請問：政府展開上述政策的背景為何？



- (A) 後藤新平為調查臺灣的法律、產業、族群、風俗習慣，成立舊慣調查會之際  
(B) 總督府強調日臺一視同仁政策之時  
(C) 總督府將臺灣建設成前進南洋的工業基地時  
(D) 美國總統威爾遜提出民族自決之際。

13. 台灣行政長官後藤新平來臺上任之初，曾針對如何建設台灣，提出了自己的看法。他用比目魚和鯛魚來作比喻，認為比目魚的眼睛長在頭的同一邊，而鯛魚的眼睛則長在頭的兩邊，人沒有辦法用比目魚的眼睛來取代鯛魚的眼睛。如果將這種觀念運用在政治上，就是不能用日本國內的法治立刻取代台灣舊有的制度與習慣，一旦貿然進行，勢必會帶來許多無謂的誤解與衝突。請問：後藤新平的比目魚與鯛魚理論，對治臺政策有何影響？

- (A) 把日本內地的法則應用在台灣  
(B) 公布六三法賦予總督大權  
(C) 在台灣進行各項調查作為施政參考  
(D) 開始推動內地延長主義。

14. 他是臺灣總督府的技師，他以水利工程專家身分長期獻身臺灣水利工程之調查、設計及建造工作，他倡議以「半水成填充式」的工程法建造烏山頭水庫的大壩，並提倡「三年輪作制」以改良嘉南平原，都順利成功，贏得當時人們的肯定與讚賞。請問：上文中的「他」是指何人？

- (A) 後藤新平 (B) 唐景崧 (C) 磯永吉 (D) 八田與一

15. 附圖是日治時期的農民運動事件領袖日記的讀書會，該讀書會討論了事件發生的導火線與當時農民的窘境，根據史實，以下何者的言論最不合理？



- (A) 朴實劍：政府刻意壓低收購價格，是為了保障會社的利益確實合情合理  
(B) 崔振赫：「第一慙，種甘蔗乎會社磅」這句俗諺反映出蔗農對蔗價的不滿  
(C) 李瑞鎮：在會社長期壓榨下，蔗農開始對蔗價進行抗爭  
(D) 尹均相：新式糖廠建立後台灣成為糖業王國

16. 觀察右圖，日本意圖向哪一區擴張，因此開啟了「工業臺灣」的經濟政策？



- (A) 甲 (B) 乙 (C) 丙 (D) 丁。

## 【題組】

下表為四國的人口統計資料，請依據表格回答第 17~23 題

國家	甲國	乙國	丙國	丁國
出生率(‰)	18	4	4	25
死亡率(‰)	9	8	2	21
社會增加率(‰)	-7	1	8	-2
幼年人口比例(%)	15	18	13	20
老年人口比例(%)	10	5	16	3
性別比	75	114	95	100
總人口數(萬人)	100	500	200	300
土地面積(平方公里)	20000	50000	40000	10000

17. 人口密度最高的是哪一國呢？

- (A) 甲國 (B) 乙國 (C) 丙國 (D) 丁國

18. 扶養比最高的是哪一國呢？

- (A) 甲國 (B) 乙國 (C) 丙國 (D) 丁國

19. 性別比失衡最嚴重，明顯男少於女的是哪一國呢？

- (A) 甲國 (B) 乙國 (C) 丙國 (D) 丁國

20. 人口呈現負成長，人口數量在減少的是哪一國呢？

- (A) 甲國 (B) 乙國 (C) 丙國 (D) 丁國

21. 國家推力強，使得人口外移情形最嚴重的是哪一國呢？

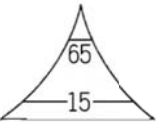
- (A) 甲國 (B) 乙國 (C) 丙國 (D) 丁國

22. 經濟發展程度最高的是哪一國呢？

- (A) 甲國 (B) 乙國 (C) 丙國 (D) 丁國

23. 人口金字塔圖最接近右方的「低金字塔型」人口結構的是哪一國呢？

- (A) 甲國 (B) 乙國 (C) 丙國 (D) 丁國



24. 右圖為臺灣人口分布圖，明顯可知臺灣人口分布不均，請問下列相關推測何者「有誤」？

- (A) 直轄市六都因工商業發達，吸引大量人口移入  
(B) 東部原住民需要大量獵場狩獵，人口密度較低  
(C) 五大山脈地勢高聳陡峭，不利移動而人煙稀少  
(D) 漢人較早開發臺灣西部，使得西部人口較稠密



25. 尚無解藥與疫苗的新型病毒 COVID-19 於 2019 年年末出現，於 2020 年短短兩、三個月已造成全球大流行，全世界逾百國家皆受影響，多國紛紛採取邊境管制限制境外人士入境，並要求來自疫區的人們隔離檢疫，甚至採取封城、鎖國的強力措施，造成經濟極大衝擊。請問病毒在短時間內能快速傳播全世界與何種條件有關？

- (A) 跨國婚姻多，人口增加快  
(B) 透過共通語言，跨國界快速傳遞  
(C) 世界猶如地球村，人口移動往來頻繁  
(D) 世界各國皆已邁入高齡化，老年人口傳播速率較快

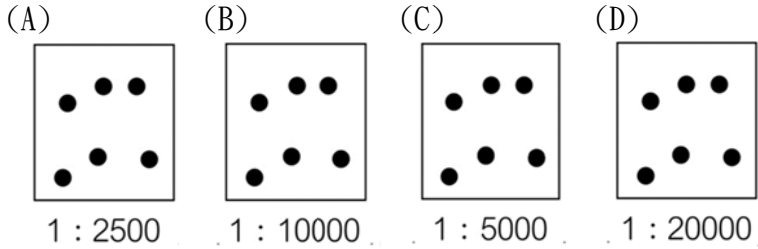
26. 臺灣具備多元文化特質，例如大甲媽祖每年吸引百萬人口參與進香，各地亦可見土地公廟、地藏庵、觀音祠，尚有西式教堂與異國清真寺等各式宗教建築，另外語言的多樣性也展現了臺灣文化的多元性，不同族群文化融入形成台式文化。請問下列選項中，何者「不符合」臺灣的文化多元性？

- (A) 搭乘捷運系統，可聽到多種語言廣播  
(B) 可在東南亞餐廳，品嚐多樣的酸辣異國料理  
(C) 臺灣早期為推行國語，強制實施「不得說閩南語」的政策  
(D) 各地土地神祇，閩南人稱之土地公，客家人稱為伯公，具顯著地方特色



# 新北市立新莊國民中學 108 學年度第 2 學期第 1 次段考 7 級社會領域試題

27. 下列四個地區中每一個點代表著一萬人，請問下列四區中人口密度最低的應是哪一個呢？



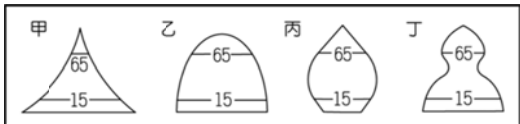
28. 社會住宅指的是為因應部分城市因人口密集導致房價飆漲與社會所得分配不均問題，強調由政府興建房屋，以只租不賣的精神，用低於市場租金或免費出租給低所得家庭或弱勢對象的住宅。請問下列各行政區較迫切需要興建社會住宅的有哪些地區呢？

- (甲)臺北市 (乙)屏東縣 (丙)花蓮縣 (丁)臺中市  
(戊)南投縣 (己)澎湖縣 (庚)新北市 (辛)嘉義市  
(A)甲乙辛 (B)甲丁庚 (C)丙戊己 (D)丁庚辛

29. 臺灣政府近年積極推動長照 2.0，例如建置老人安養中心、給予看護補助、發放老年年金、增加老人居家服務與外傭看護等策略，顯示臺灣社會面臨的困境為何？

- (A)新住民日亦增加  
(B)高齡化趨勢明顯  
(C)人口分布不均  
(D)勞動力已短缺

30. 臺灣的城鄉差異大，甚至在鄉村形成了壯年人口外流，僅剩老人與孩童留在原鄉生活，因而出現許多隔代教養以及高齡化問題，請問鄉村的人口金字塔圖較可能形成下圖中何種型態？



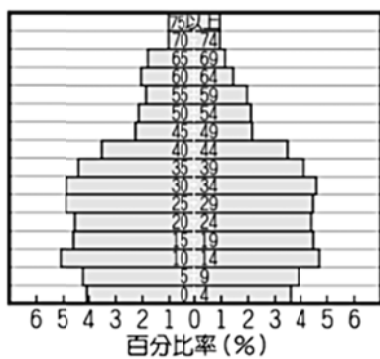
- (A) 甲 (B) 乙  
(C) 丙 (D) 丁

31. 縱觀臺灣歷史可知，臺灣在不同時代有不同的族群進入，帶來許多外來文化，亦形成現今多元豐富的融合文化，請問下列哪些族群目前仍為臺灣社會的主要族群？

- (甲)原住民 (乙)客家人 (丙)荷蘭人 (丁)西班牙人  
(戊)新住民 (己)日本人 (庚)閩南人 (辛)葡萄牙人  
(A)甲乙戊庚 (B)甲丙丁己 (C)乙己庚辛 (D)丙丁戊辛

32. 透過觀測一地的人口金字塔圖，我們可以判斷或推估其人口結構以及人口問題，請問下列何者選項是無法從右圖得知的訊息？

- (A)人口總數增加  
(B)幼年男多於女  
(C)推算出扶養比  
(D)經濟發展程度



33. 臺灣的多元飲食文化由多元族群帶入各地飲食特色融合而成，例如由閩南、客家族群帶入中國南方以\_\_ (甲) \_\_為主糧的米食文化與戰後移民帶入中國北方以\_\_ (乙) \_\_為主食的麵食文化，亦有\_\_ (丙) \_\_的傳統美食如竹筒飯、小米酒；\_\_ (丁) \_\_帶入的米線、生春捲；受西式文化影響，出現牛排、漢堡、三明治等西式飲食，匯聚多元飲食特色的台式飲食，更獨創出新式小吃與飲品，如\_\_ (戊) \_\_風靡全球、聞名國際。請問上文代碼位置宜填入什麼呢？

- (A)甲-小米 乙-小麥 丙-原住民 丁-歐洲人 戊-大腸包小腸  
(B)甲-小麥 乙-小米 丙-新住民 丁-印度人 戊-雞翅包飯  
(C)甲-水稻 乙-小麥 丙-原住民 丁-新住民 戊-珍珠奶茶  
(D)甲-水稻 乙-玉米 丙-平埔族 丁-客家人 戊-珍珠奶茶

教儀式、各種禁忌等共同的文化要素。請問：上述是在說明文化具有下列哪一項特徵？

- (A)能夠代代相傳且持續進步  
(B)具有約束人類行為的功能  
(C)差異性  
(D)普遍性。

35. 傳統台灣民眾對身後事向來強調「入土為安」，而今各種殯葬方式，如火葬、海葬、花葬、樹葬等也逐漸被國人所接受，這是屬於何種社會規範的改變？

- (A)法律規範 (B)倫理道德 (C)風俗習慣 (D)宗教信仰。

36. 為阻絕非洲豬瘟藉由入境旅客違規攜帶肉品入侵，政府規範民眾禁止攜帶肉品入境，並於 2018 年底修正《動物傳染病防治條例》，加重罰則，將罰鍰提高到 1 萬元以上 100 萬元以下，農委會也對全國民眾發布國家級警報。請問：上述的內容和下列何者是相同的社會規範？

- (A)阿水嬸因為生病而未到大甲鎮瀾宮拜媽祖  
(B)家偉在捷運坐博愛座不讓位給孕婦  
(C)春嬌在總統與立委投票時亮票給他人看  
(D)住在台北的信雄在清明節時未返鄉祭拜祖先

37. 在社會生活中，各種社會規範對每個人的約束力不相同，個人行為會受到內在心理及外在環境的影響，有關「社會規範」的觀念說明，何者正確？

- (A)倫理道德是人際之間互不侵犯的最低標準  
(B)風俗習慣是長期累積、最早發展出來  
(C)違反法律規定只會受到社會輿論批評  
(D)環境倫理強調超自然力量的獎善罰惡。

38. 一些社會福利團體或基金會的義工維護舊衣回收箱周邊清潔工作，確保環境衛生。這種作法最符合下列哪一種類型的社會規範？

- (A)法律規範 (B)倫理道德 (C)風俗習慣 (D)宗教信仰。

39. 古時候的人們在除夕夜時，會把火爐放在餐桌下，並在爐邊放一些銅錢，象徵人丁旺財運旺。現在雖然不會放置火爐，但在外的遊子都會在除夕夜趕回家吃年夜飯，即俗稱的「圍爐」，象徵團圓之意。請問：關於上述除夕圍爐的介紹，最能代表下列哪一項風俗習慣的特性？

- (A)是最早出現的社會規範  
(B)內容會隨著時代而變遷  
(C)不同社會的風俗習慣會有很大的差異  
(D)包含各種生命儀式、年節習俗。

40. 社會規範是社會成員所共同遵守的行為準則，關於社會規範，下列何者正確？

- (A)社會規範是一成不變的  
(B)傳統中華文化的五倫是屬於法律的範疇  
(C)法律是透過政府的強制力來約束行為  
(D)宗教信仰是人類生活中，最早發展出來的社會規範。

41. 傳統的結婚儀式會經過繁複的禮俗，但現代已簡化許多，甚至只要到戶政事務所辦理登記即完成結婚。上述現象說明下列何事？

- (A)風俗習慣無法約束個人外在行為  
(B)風俗習慣會隨著時代變遷而改變  
(C)風俗習慣不具公權力  
(D)違反風俗習慣會受到輿論的批評。

42. 不管姓什麼，好姻緣本是天注定，但因為姓氏的諧音，真的鬧出很多笑話，例如：姓宋跟姓鍾的結婚，聽起來像「送終」；姓吳跟姓賴的結婚，唸起來就是「無賴」；姜府和施府大喜之日，變成「僵屍」。其實男女雙方相愛最重要，姓氏的忌諱輕鬆帶過笑笑就好。上述姓氏的忌諱與何種社會規範最相關？

- (A)法律規範 (B)倫理道德 (C)風俗習慣 (D)宗教信仰。

34. 在不同的社會中，都有語言、家庭體系、婚姻制度、宗

## 新北市立新莊國民中學 108 學年度第 2 學期第 1 次段考 7 級社會領域試題

43. 有學者在闡述某一文化理論的主張：「在一個社會中被認定是道德的行為，若在另一個社會中為之，可能會被認為是不道德的。因為沒有一致的道德標準，故沒有人有權批判其他社會文化中的習俗。」根據內容判斷，該理論應為下列何者？
- (A)文化位階 (B)文化衝突  
(C)我族中心主義 (D)文化相對主義

【題組】，請閱讀完文章後回答題目 44 到 46 題

台北艋舺龍山寺建寺 281 年，傳統宗教活動多需焚燒金紙，不過，研究指出，焚香燒金造成的懸浮微粒等空氣汙染物，對人體健康有影響。近年寺方考量減少空氣汙染、維護民眾健康，開始禁止信徒自帶香枝來燒香參拜，今年 3 月起改為全年由寺方代表信徒在正殿廣場觀音爐插一炷大香，提供平安符過爐等信仰需求；龍山寺黃董事長受訪說，心裡虔誠多做好事，比有形的香火重要。信徒則各有看法，莊姓信徒說，不能持香，只能雙手合十拜拜的感覺怪怪的，覺得有香比較好，有在修道的人都知道請神必須用香，用香跟神明溝通，神明才會從天庭下來凡間聆聽。簡姓信徒說，政府提倡環保，廟方就做什麼，認為心誠則靈，以後就雙手合十拜拜就好。而 91 歲的黃老太太由女兒陪同到觀音爐，展開雙臂將爐內大香的香煙撥往自身，希望獲得庇佑身心，她提及心臟有裝支架，寺裡沒有燒香，對她的呼吸、心臟「卡輕鬆」。

44. 根據上文所述，廟方要求信徒改變祭祀的方式，這樣的做法，以下列何者解釋最為適宜？
- (A)宗教儀式可隨時代而變遷  
(B)宗教具有安定人心的功用  
(C)違反者會受到公權力制裁  
(D)風俗習慣依照政府法規改變
45. 宗教信仰出現在人類社會中，已有數千年時間。下列關於「宗教信仰」的相關敘述，何者正確？
- (A)是相沿成習的生活習慣  
(B)是強制力最高的社會規範  
(C)以超自然力量約束人們的行為  
(D)是人類最早發展出來的一種社會規範
46. 每年農曆 7 月 15 日，是祭祀孤魂野鬼的大節日，各地廟宇都會舉辦「普渡」活動。請問：普渡活動是受到下列哪些社會規範的約束與影響？
- (A)風俗習慣、倫理道德  
(B)風俗習慣、宗教信仰  
(C)法律、倫理道德  
(D)宗教信仰、法律

【題組】，請閱讀完文章後回答題目第 47 到 50 題

當年以「星星知我心」橫掃國際市場的導演林福地，八十三歲執導電視戲劇《四月望雨》在台播出。劇情描繪臺灣從日據時代、228 事件到近代眷村的斷代史。以臺灣音樂巨擘鄧雨賢老師經典歌曲為名，同時也是臺灣民間耳熟能詳的《四季紅》、《月夜愁》、《望春風》、《雨夜花》四首歌謠為創作依據，將百年來的臺灣，有層次的傳達出每個時代的臺灣特殊環境變遷。30 年代作曲家鄧雨賢是桃園龍潭客家人，畢生創作近百首曲，被譽為台灣歌謠之父，台灣的舒伯特。用音樂來詮釋歷史，以不同的曲風來反應每個年代台灣人的心情故事。《四月望雨》戲劇首映會上，國寶級演員梅芳也說「我已經演了 50 幾年，現在打開電視都是大陸劇、韓劇，臺劇漸漸少了。」時代造就了人們的情感，也造就了文化。戲劇外，近來政府保障原住民族及本土語言推廣，留下這片土地族群融合的記錄。

47. 日治時代末期，隨著 1937 年新任台灣總督上任，因實行皇民化運動所有漢文歌曲全遭禁唱。《望春風》、《雨夜花》等歌皆被強迫改編成日本軍歌。日本曾經長期殖民台灣，對於台灣人民在教育、就業、薪資及刑罰上，都採取差別待遇的政策，使得台灣人民處境不利。上述現象與下列哪一個概念的內涵相符？
- (A)文化位階(B)文化多元(C)文化交流(D)文化衝突。
48. 過去政府於 1946 年設立台灣省國語推行委員會，在強力推行之後，多數人都開始講國語，但有些人可能因為口音不同，或是遭受嘲笑與歧視，而不敢說在地的方言，這將使得「在地方言」成為何種類型的文化？
- (A)弱勢文化(B)主流文化(C)流行文化(D)強勢文化。
49. 《國家語言發展法》定義「國家語言」範疇是指台灣各固有族群使用的自然語言及手語。國家語言一律平等，國民使用國家語言不受歧視或限制。上述《國家語言發展法》制定的主要目的，應為下列何者？
- (A)維護我國國家的主體性  
(B)增加我國政府的收入  
(C)維護我國語言文化的多樣性  
(D)改善我國少數族群的生活條件。
50. 我國政府為保障原住民族的基本權益，於 2005 年制定並施行《原住民族基本法》，這是屬於下列何種主張的具體表現？
- (A)我族中心主義 (B)多元文化  
(C)文化創新 (D)文化位階。

新北市立新莊國民中學 108 學年度第 2 學期第 1 次段考 7 年級社會領域試題  
解答

1	2	3	4	5	6	7	8	9	10
<b>D</b>	<b>D</b>	<b>C</b>	<b>C</b>	<b>B</b>	<b>D</b>	<b>C</b>	<b>C</b>	<b>A</b>	<b>B</b>
11	12	13	14	15	16	17	18	19	20
<b>D</b>	<b>C</b>	<b>C</b>	<b>D</b>	<b>A</b>	<b>D</b>	<b>D</b>	<b>C</b>	<b>A</b>	<b>B</b>
21	22	23	24	25	26	27	28	29	30
<b>A</b>	<b>C</b>	<b>D</b>	<b>B</b>	<b>C</b>	<b>C</b>	<b>D</b>	<b>B</b>	<b>B</b>	<b>D</b>
31	32	33	34	35	36	37	38	39	40
<b>A</b>	<b>A</b>	<b>C</b>	<b>D</b>	<b>C</b>	<b>C</b>	<b>B</b>	<b>B</b>	<b>B</b>	<b>C</b>
41	42	43	44	45	46	47	48	49	50
<b>B</b>	<b>C</b>	<b>D</b>	<b>A</b>	<b>C</b>	<b>B</b>	<b>A</b>	<b>A</b>	<b>C</b>	<b>B</b>