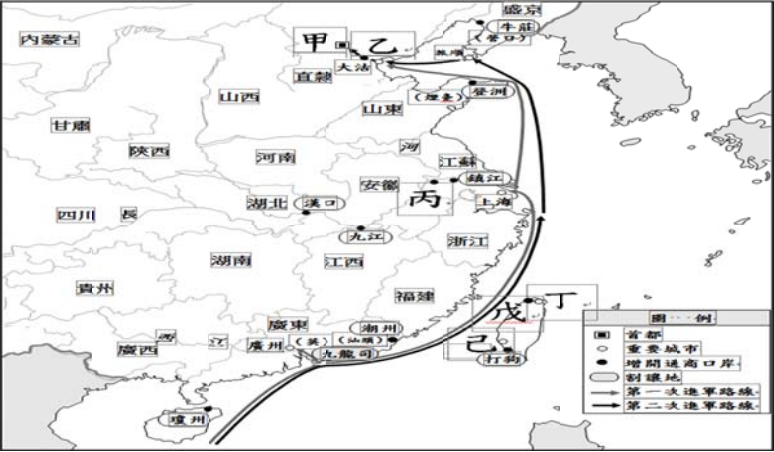


※ 選擇題：本試卷共 50 題，每題 2 分，總分為 100 分。
 每一題均為單選題，請選出最適當答案。
 ※ 請用 2B 鉛筆在答案卡上相應的位置畫記。

【題組】根據下圖認識英法聯軍相關史事回答第 1~2 題：

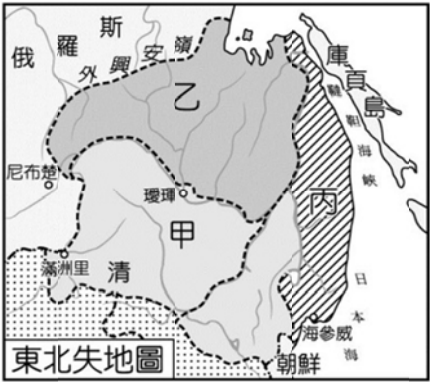


1. 第一次英法聯軍是因為英法兩國的得寸進尺而開戰，但是最後清廷求和。在咸豐8年簽訂的條約中，臺灣也開放了通商口岸；隨後傳教士馬偕來到臺灣傳教。請問：馬偕牧師來到臺灣後，是以哪一個地方作為傳教的根據地？
 (A)乙 (B)丙 (C)丁 (D)戊
2. 幾位忍術學園的同學在討論關於英法聯軍的相關史實。請問下列哪一位同學的敘述才是正確的？
 (A) 亂太郎：聯軍的出兵藉口是因為，英國—亞羅船事件和法國—西林教案
 (B) 霧丸：戰火直攻甲地，圓明園被破壞盜取，慈禧太后帶著光緒帝倉皇逃難
 (C) 新兵衛：聯軍事後開始在中國境內畫定租界居住
 (D) 阿繁：臺灣因此遭到戰火的波及，促使臺灣被提高層級而建省

3. 下圖中朕（皇帝）與欽差大臣的對話，請問，下列哪一組配對正確？



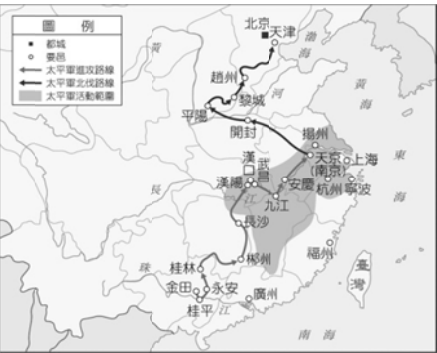
- (A) 乾隆皇帝；林則徐 (B) 嘉慶皇帝；李鴻章
 (C) 道光皇帝；林則徐 (D) 咸豐皇帝；李鴻章
4. 右圖—東北失地圖，是俄羅斯帝國於英法聯軍侵略中國之際，聲稱調停中英法衝突有功而趁火打劫，要求重畫東北邊界。當時清朝廷為了息事寧人，只能忍痛與俄簽訂條約，割讓圖中丙區。請問，當時簽訂的是下列哪一項條約？
 (A) 《中英法北京條約》
 (B) 《中俄北京條約》
 (C) 《中俄璦琿條約》
 (D) 《中英法天津條約》



【題組】根據右圖認識太平天國相關史事回答第 5~6 題：

5. 右圖是太平天國活動的範圍。

在這場歷經 14 年的內亂民變，請問此事件造成的影響，下列何者錯誤？

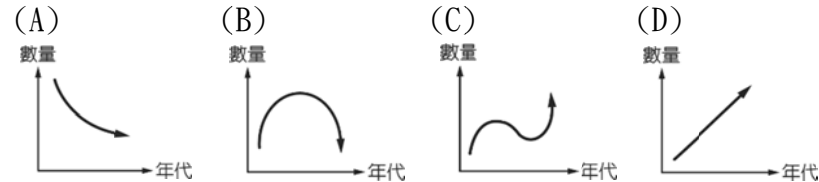


- (A)曾國藩與李鴻章的功績卓著，使得漢人地位提高
 (B)黃河中下游一帶富庶之地受到嚴重破壞
 (C)清廷平亂之際，受到英、法外人協助，見識到西方武器精良，決定推動改革
 (D)清廷決定推動的改革名稱為：自強運動

6. 關於此內亂民變的相關事件敘述，請問下列哪一項錯誤？

- (A) 此內亂時間經歷了道光—咸豐—同治三位皇帝
 (B) 太平天國的口號：天下一家，共享太平
 (C) 太平天國的首都：天京就是指北京
 (D) 太平天國是個政教合一的政權

7. 請問下列哪一個圖例，最可以顯示出 18 世紀末至 19 世紀中，英國人為了平衡貿易，不讓中國從其賺取過多白銀，於是開始走私大量鴉片，使得中國民生經濟大受影響，也讓當時多數中國人民變成了形貌枯槁的鴉片鬼。



8. 「東方明珠」—香港，曾是全球首屈一指安全、經濟發達、生活富足、最適合居住及最具競爭力的國際大都會；但是從 2019 年 6 月開始的「反對逃犯條例修訂草案運動」，之後演變成「光復香港，時代革命」為口號的一連串社會運動，至今未停息。請問，香港最早是在清朝哪一個條約被割讓給哪一國？

- (A) 《中英南京條約》；英國
 (B) 《中英法北京條約》；法國
 (C) 《中英法天津條約》；法國
 (D) 《中英璦琿條約》；英國

9. 清朝末年第一個改革運動雖然偏重器物層面，但是也有注意推展新式教育，來改進傳統中國文化。請問，關於當時的新式教育敘述，下列何者正確？

- (A) 第一所官方成立的洋務學堂是：南京同文館
 (B) 京師大學堂在此時期順利成立
 (C) 總理各國事務衙門等同於現在的教育部
 (D) 同治 11 年起官方陸續選派幼童赴美留學

10. 清光緒年間，列強持續侵略中國並占領中國的藩屬國，請將下列被占領的藩屬國，按照喪失時間先後排列。

- (甲)越南 (乙)緬甸 (丙)琉球
 (A) 甲乙丙 (B) 乙甲丙 (C) 丙甲乙 (D) 丙乙甲

11. 如右圖漫畫，畫中裡面的人物似乎正在開會討論某件事情，請從圖中兩位人名判斷，他們召開會議是因為哪一場戰爭的關係？



- (A) 甲午戰爭 (B) 日俄戰爭
 (C) 英法聯軍 (D) 鴉片戰爭

新北市立新莊國民中學 108 學年度第 2 學期第 1 次段考 8 年級社會領域試題卷

12. 臺灣曾經被日本殖民統治了五十年之久，有許多的文化與語言習慣都深受日本文化的影響，像是「便當」、「歐吉桑」、「歐兜麥」…等，就是沿用日治時期的稱呼而來。請問，臺灣之所以會被日本殖民統治是因為下列哪一條約的簽訂有關？
- (A) 《北京條約》 (B) 《馬關條約》
(C) 《南京條約》 (D) 《天津條約》

13. 下圖是清朝末年，列強在中國畫分勢力範圍分布圖。請問關於圖中各區的敘述，何者錯誤？
- (A) 甲區—此列強曾不滿日本，所以做出三國干涉還遼之事
(B) 乙區—此區列強是指：美國
(C) 丙區—此列強還擁有九龍司與緬甸
(D) 丁區—此列強還擁有越南，並租借廣州灣



14. 日治時期的臺灣知識份子林獻堂，他選擇採取和平的社會運動方式，是因為他曾經在日本與梁啟超相遇對談；梁啟超跟他說，中國在短期內還無法有能力將臺灣收回，只有臺灣採取議會政治，臺灣人民才有機會擺脫被殖民的痛苦。那時梁啟超還曾經參與過下列哪一事件要救中國？
- (A) 擔任駐外使節 (B) 促使門戶開放
(C) 推動戊戌變法 (D) 發動戊戌政變
15. 清末政局雖然有同治皇帝與光緒皇帝的親政，但是實際上最後的決定者是葉赫那拉氏-慈禧太后。請問，慈禧太后曾經與守舊派發動何事，軟禁光緒皇帝？
- (A) 戊戌政變 (B) 百日維新
(C) 教育改革 (D) 廢八股文

16. 「戊戌變法」只推動 103 天便宣告失敗，參與的人士不是被逮捕，便是被迫逃往海外。請問：導致新政失敗的原因下列何者**錯誤**？
- (A) 廢除八股文，引起準備科舉考試之人強力反彈
(B) 光緒皇帝貴為一國之君，但是沒有實際權力
(C) 改革措施只有留下成立京師大學堂
(D) 慈禧太后聯合列強勢力推翻光緒皇帝

17. 根據附圖及下表的資料判斷，有關於香港與澳門兩個特別行政區的敘述何者**有誤**？


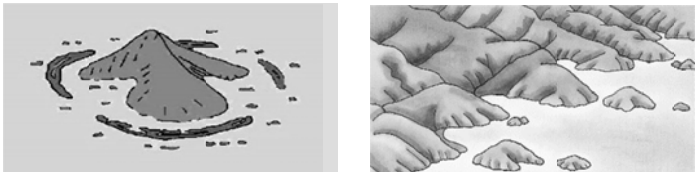


| 行政區 | (A) 位置 | (B) 殖民歷史 | (C) 經濟重心 | (D) 鄰近經濟特區 |
|-----|--------|----------|----------|------------|
| 香港 | 勺地 | 英國 | 轉口貿易 | 丙地 |
| 澳門 | 叉地 | 葡萄牙 | 博弈觀光 | 乙地 |

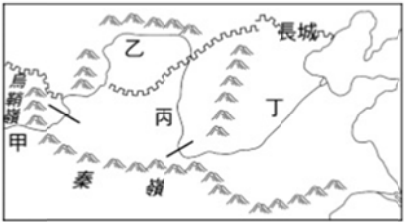
18. 中國政府在華南設立經濟特區的原因是當地具有哪些優勢？
(I) 勞工眾多 (II) 礦產豐富 (III) 海運便利 (IV) 動力充足 (V) 僑鄉背景。正確的有：
- (A) I、II、III (B) I、III、IV
(C) I、III、V (D) II、III、V。
19. 華南地區因為山多平原少、人口壓力大、糧食不足等因素使得大批人口外移，在附圖中哪兩省成為中國著名的「僑鄉」？
(A) 甲乙 (B) 丙丁 (C) 丁戊 (D) 戊己。



20. 承上題，當地居民因為何種海岸類型，得以出海便利，移居到臺灣和東南亞等地生活？
(A) (B)



21. 附圖為黃河流域簡圖，下列關於黃河從上游到下游的特徵敘述何者正確？
- (A) 黃河因流經甲處，泥沙含量大增
(B) 乙處為防洪修築河堤，形成「地上懸河」
(C) 丙處高原成因為河流沖積而成，土壤肥沃
(D) 南水北調工程能改善丁處乾季末期的斷流現象



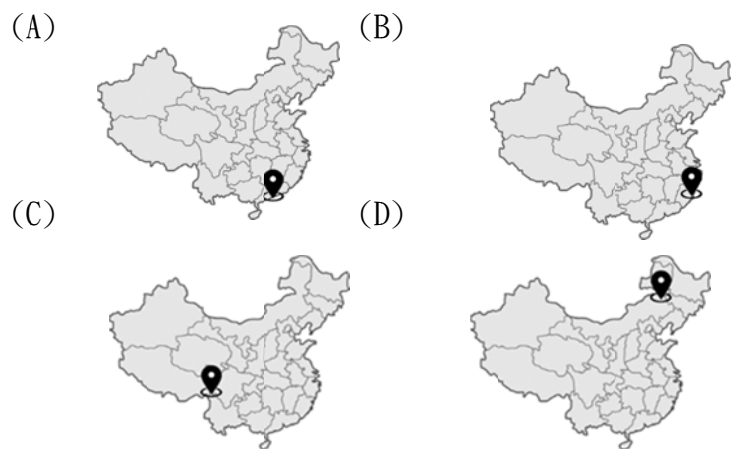
22. 承上題，附圖為黃河流域某河段的示意圖，其主要發生於黃河流域簡圖中的哪個河段？
(A) 甲 (B) 乙 (C) 丙 (D) 丁。



23. 王小明前往中國南部地區旅行，附圖是他在旅程中所見到當地居民驚險又神奇的渡河景象，他立即拍照上傳臉書，吸引許多人按讚。請問：朋友在臉書上，可看到王小明拍照當下的打卡地點位於下列何處？



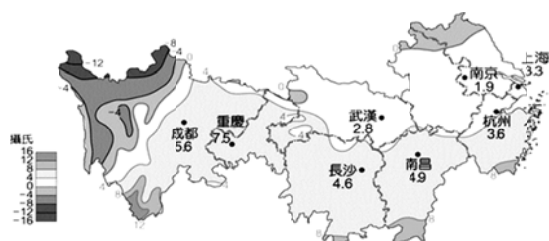
新北市立新莊國民中學 108 學年度第 2 學期第 1 次段考 8 年級社會領域試題卷



24. 附圖為中國長江流域簡圖，在長江三峽大壩建成之後，杜甫所描述的「風急天高猿嘯哀，渚清沙白鳥飛回。無邊落木蕭蕭下，不盡長江滾滾來。…」的場景再也無法看到了，曾經的激流險灘轉變為如今的高峽平湖。關於三峽大壩的敘述，何者正確？



- (A) 主要功能有防洪、發電、航運、蓄水
(B) 大壩落成後，未破壞生態環境
(C) 使上海至北京的航運更加便利
(D) 大壩壩址位於附圖中的「甲」地。
25. 附圖為華中地區一月等溫線分布圖，由圖中得知重慶市的一月月均溫比其他都市高，造成此現象的主要因素為何？



- (A) 所在緯度低 (B) 北有高山屏障
(C) 距海較遙遠 (D) 地勢較低平。
26. 中國北部的發展歷史較長，形成各地不同的都市機能及產業結構。請問：下列關於中國北部的都市發展及產業特色，何者錯誤？
(A) 哈爾濱充滿俄式建築 (B) 青島煤礦產量最高
(C) 瀋陽重工業原料充足 (D) 北京有中國矽谷之稱。
27. 武漢肺炎重災區湖北省，2019 年 GDP 達 4.6 萬億元人民幣，排名全國第七，更是中國四大汽車生產基地之一，2019 年汽車產量達到了 224 萬輛，銷售收入更達 3,000 億元人民幣，國際知名大品牌都在武漢設廠，關於武漢的描述下列何者錯誤？
(A) 重要水陸運交會點
(B) 東部經濟帶的核心都市
(C) 區域劃分上歸屬於華中
(D) 氣候類型為副熱帶季風氣候。

28. 南部區域自然環境優越，對於區內各地理區的景觀描述或稱號，何者錯誤？
(A) 四川盆地—天府之國
(B) 橫斷山脈—魚米之鄉
(C) 海南島—中國夏威夷
(D) 雲貴高原、廣西丘陵—石灰岩景觀。

29. 下列關於中國南部石灰岩地形的敘述，何者錯誤？
(A) 「峰林」為火山噴發所形成
(B) 石灰岩洞的「伏流」又稱地下河
(C) 特殊的風景利於發展觀光旅遊
(D) 「壩子」是人口聚集的精華區。

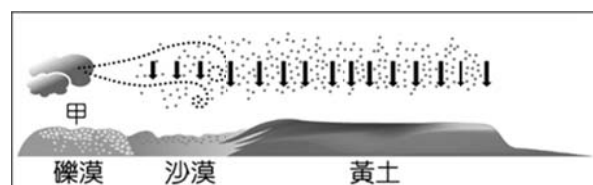
30. 中國南部地區有「T 字型水道」，北部地區有「T 字型鐵道」，有關兩地區交通的敘述何者錯誤？
(A) 南部 T 字型水道的中心為上海
(B) 北部的 T 字型鐵道的中心為北京
(C) 南部因終年氣溫常高於 0℃，故水運發達
(D) 北部冬季氣溫常低於 0℃，陸運較為發達。

31. 下列關於生活方式與中國地理區的配對，何者有誤？

| (A) 東南丘陵 | (B) 黃土高原 | (C) 珠江三角洲 | (D) 西雙版納 |
|-------------|-------------|--------------|-------------|
| | | | |

32. 「脫北者」是指透過非正常管道離開北韓的人，由於北韓的生活條件不佳，引起許多人民以偷渡的方式離開北韓。通常脫北者是向北穿越_____江，前往韓國（南韓）駐瀋陽領事館尋求庇護。請問：敘述中的河川是下列哪一條河川？
(A) 鴨綠江 (B) 黑龍江 (C) 烏蘇里江 (D) 嫩江。

33. 附圖為蒙古高原及黃土高原的地形作用示意圖，請參考圖中資料，判斷甲處冬季會有哪一種外營力？



- (A) 風蝕 (B) 風積 (C) 河蝕 (D) 河積。

34. 平等權所追求的實質平等，是立足點或起跑點的平等。請問以下案例中，何者違反了平等權的真意？

- (A) 公共場合中，男女廁的數量相同
(B) 不論性別，同工同酬
(C) 因生理上的差異，體適能測驗，男女標準不同
(D) 教育部專案補助偏遠地區學校學生的交通津貼

35. 請問：性別工作平等法可展現法律哪些功能？甲、保障人民權利 乙、維護社會秩序 丙、促進社會進步
(A) 甲乙 (B) 乙丙 (C) 甲丙 (D) 甲乙丙

36. 以下有關法律的敘述，何者正確？
(A) 法律可定名為法、律、條例、準則
(B) 新北市立新莊國民中學教師輔導與管教學生辦法不屬於廣義的法律
(C) 司法院大法官具有發佈緊急命令的權力
(D) 國民教育法施行細則可用來補充法律規定的不足

37. 傳染病防治法規定，可對媒介傳染病之動物予以撲殺、銷毀。請問：是根據憲法第 23 條當中何種理由？
(A) 防止妨礙他人自由
(B) 避免緊急危難
(C) 維護社會秩序
(D) 增進公共利益

新北市立新莊國民中學 108 學年度第 2 學期第 1 次段考 8 年級社會領域試題卷

38. 行政院日前所通過的紓困條例(簡稱)，定名嚴重特殊傳染性肺炎防治及紓困振興特別條例草案，包括「防疫醫事人員補貼、被隔離者請假補助、徵用物資補償、企業紓困振興」，特別預算規模上限高達 600 億，將移用去年 360 億的歲計賸餘，其餘舉債支應，預計施行到明年 6 月底，送立法院審議。請問上述的紓困條例是欲在落實憲法中所保障人民的何種權利？

(A)平等權 (B)自由權 (C)受益權 (D)受健康照顧權

39. 承上題，請問關於紓困條例的敘述何者正確？

(A)效力低於憲法與法律
(B)由行政機關所公布
(C)與全民健保法的位階相同
(D)抵觸憲法時，由司法院法官解釋

40. 小騰認為自己所屬選區內的民意代表，違背了競選時所提出的政見，於是發動連署提案罷免該位民意代表。上述小騰行使的人民基本權利類型與下列何者最類似？

(A)對於政府行政處分提出訴願
(B)報考公務人員考試
(C)依照個人意願，參加街頭示威活動
(D)接受法律規定依法納稅

41. 對於具有歷史意義的建築，有些專家會向政府提報列為古蹟，經被列為古蹟後，依法不得擅自裝修，導致部分仍住在古蹟內的居民，可能因建材腐朽影響居住安全而感到不滿。關於上述內容，從我國對於人民權利保障與限制的角度判斷，下列何者最適當？

(A)居民認為隱私權受到侵害
(B)居民認為遷徙自由受到侵害
(C)專家的目的是為了維持社會秩序
(D)專家的目的是為了增進公共利益

42. 阿棠借錢給友人世昕，屢次催討世昕皆置之不理，阿棠在朋友的建議下，透過律師向地方法院提起民事訴訟，請求世昕還錢以保障自己的權益。請問阿棠的行為是憲法保障人民哪一項基本的權利？

(A)自由權 (B)平等權 (C)受益權 (D)訴願權

43. 「根據土石流防災疏散避難作業規定，某地區實際降雨已達土石流警戒基準值時，由農委會發布該地區為土石流紅色警戒，地方機關應勸告或強制其撤離，並作適當之安置。在沒有得到人民同意之下，除非法律已經有明確授權，否則行政機關仍然必須嚴守法律保留原則，不得於毫無法源的前提下，強制或限制人民之行動。」請問根據以上的敘述，可呈現法律的何種特徵？

(A)對於違法者，國家會以強制力加以處罰
(B)為保障人民權利，政府也需依法行政
(C)法律是維持人與人之間互不侵犯的最低標準
(D)法律會與時俱進

44. 透過民意代表代替人民行使權力的制度，有時可能無法充分反應人民的意見，所以國家會採取某些措施來彌補該項缺失，進而達成主權在民的目標。請問憲法所賦予人民的權利中，何者最能達成上述目標？

(A)結社自由權 (B)創制複決權
(C)訴願訴訟權 (D)意見自由權

45. 中華民國憲法增修條文第 10 條提到：「國家應依民族意願，保障原住民族之地位及政治參與，並對其教育文化、交通水利、衛生醫療、經濟土地及社會福利事業予以保障扶助並促其發展，其辦法另以法律定之。」請問根據以上的敘述可呈現出憲法的何種特徵？

(A)最高性 (B)固定性 (C)原則性 (D)歷史性

46. 以下是阿榮上課做的筆記，請問他哪裡寫錯了？

| | 請願 | 訴願 |
|---------|-----------|------------|
| (A)提起人 | 任何人 | 限於權益受損的當事人 |
| (B)受理機關 | 原處分上級機關 | 各級法院 |
| (C)次數 | 無次數限制 | 一次為限 |
| (D)舉例 | 向政府提出增設路燈 | 向警方撤銷誤植的罰單 |

47. 在法治國家中，警方偵辦犯罪往往需依法行政。請問以下情況中，所可能涉及妨礙人民的權利，何者配對正確？

(A)警方強制驅離合法集會的民眾—結社自由
(B)警方未持拘票即逮捕嫌疑犯—居住自由
(C)警方未持搜索票即進入民宅搜查槍械—人身自由
(D)警方未取得監聽票即調閱民眾通聯記錄—秘密通訊自由

48. 網紅谷阿莫遭片商及串流平台提告未授權使用影片，消息一出引發正反兩方的議論。曾是多位藝人的委任律師舉出《著作權法》第 65 條以及 94 年刑事判決案例，「除非他的影片對國家有幫助」不然打贏官司機率很低，而谷阿莫無論是否是盜版影片散布者，只要「下載電影全片」已是觸法的行為。請問片商欲對谷阿莫提出告訴，是因為認為谷阿莫侵犯了他們的何種權利？

(A)自由權 (B)隱私權 (C)勞動權 (D)受益權

49. 右圖是關於我國《憲法》中人民基本權利的分類，阿中聽完老師的講解後，在課本上加了甲、乙、丙、丁四個註解，下列何者最適合作為「乙」註解的內容？

(A)參加法輪功的練習
(B)參加航空公司的徵才活動
(C)民眾可參加政府開辦的職業訓練
(D)投入鄉民代表的改選



50. 我國《憲法》規定人民有服兵役的義務，但我國徵兵制將走入歷史。國防部公布開始預備推動「全募兵制」，而從 2017 年起，臺灣將實施「募兵制」，選擇不參加募兵的男性，必須接受 3~4 個月的軍事訓練，但在此計畫實施之前仍必須修正《兵役法》，並且爭取足夠的預算，落實各項配套措施才能達成。請問：關於《兵役法》的修正步驟如下，請找出哪個環節出錯了？

甲：行政院提出《兵役法修正草案》→
乙：司法院大法官審議 →
丙：立法院三讀通過 →
丁：總統公布

(A)甲 (B)乙 (C)丙 (D)丁

新北市立新莊國民中學 108 學年度第 2 學期第 1 次段考 8 年級社會領域試題
解答

| | | | | | | | | | |
|----------|----------|----------|----------|----------|----------|----------|----------|----------|----------|
| 1 | 2 | 3 | 4 | 5 | 6 | 7 | 8 | 9 | 10 |
| D | A | C | B | B | C | D | A | D | C |
| 11 | 12 | 13 | 14 | 15 | 16 | 17 | 18 | 19 | 20 |
| A | B | B | C | A | D | D | C | C | B |
| 21 | 22 | 23 | 24 | 25 | 26 | 27 | 28 | 29 | 30 |
| D | D | C | A | B | B | B | B | A | B |
| 31 | 32 | 33 | 34 | 35 | 36 | 37 | 38 | 39 | 40 |
| C | A | A | A | D | D | B | C | C | B |
| 41 | 42 | 43 | 44 | 45 | 46 | 47 | 48 | 49 | 50 |
| D | C | B | B | C | B | D | D | A | B |