

- ※ 選擇題：本試卷共 50 題，每題 2 分，總分為 100 分。
每一題均為單選題，請選出最適當答案。
※ 請用 2B 鉛筆在答案卡上相應的位置畫記。

- 靜香：現在法律很嚴苛，大家都遵守秩序
技安：我今年一定要考上科舉，獲得官位
大雄：我們家不是世族，當官的機率很低
小夫：我剛聽說皇帝下令要「焚書坑儒」
根據上面四個人的說法，請問：哪兩個人生活在同一個朝代？
(A)靜香、技安 (B)大雄、小夫
(C)技安、大雄 (D)靜香、小夫
 - 秦國最後兼併六國，統一天下，請問：戰國時期是誰實施變法，奠定了秦國強大的基礎？
(A)嬴政 (B)張騫
(C)商鞅 (D)玄奘
 - 在韓國的古裝劇中，可以看到不少片段出現中國字，甚至有些劇情會看到韓國君主，正在讀熟中國的儒家經典，請問：會有這些劇情的出現，主要是跟下列哪一項歷史事件有關？
(A)韓國曾有唐化運動，史稱「大化革新」
(B)中國文成公主嫁到新羅，促成文化交流
(C)曾戰敗於漢武帝，造成造紙術傳入韓國
(D)新羅被稱為「君子國」，曾全力模仿中國
 - 根據黑板上的字卡，請問：歷史課今天上課的主題，應該是下列何者？
(A)東突厥開始歸順中國
(B)胡漢融合的隋唐政權
(C)北魏政權的漢化政策
(D)漢朝聯絡西域的影響
- 禁胡服

改漢姓

禁胡語
- 商朝跟西周都有封建制度，但是在實施的過程有些許的不同，請問：關於兩個朝代的封建制度，下列敘述何者正確？
(甲)西周與各地諸侯關係較為緊密
(乙)商朝的封建制度比西周更完備
(丙)商朝的宗法制度，強化對諸侯的控制
(丁)西周的貴族是按照身分等級受封土地
(A)甲丁 (B)甲丙 (C)丙丁 (D)乙丙
 - 導遊說：「在唐朝的時候，佛教達到鼎盛，○○在這個時期，曾去印度取經，而帶回來的佛教經典與文物，都放在我們身後這座大雁塔裡面」根據導遊的講解，請問：○○最有可能是下列何人？
(A)商鞅 (B)文成 (C)玄奘 (D)張騫
 - 「兒阿！想當年你的祖祖父輩皆是官員，有些人根本沒有念過幾本書，也可以當官，但是你現在必須要報名參加考試，考上才獲得當官的資格，真是辛苦啊！」請問：上面這段對話，最有可能出現在哪一個時期？
(A)曹魏時期 (B)隋唐時期
(C)西周時期 (D)東周時期
 - 我們原本是北方草原地區的霸主，但是沒想到被這個皇帝擊滅，而且西北各族君長陸續歸順，並給他「天可汗」的稱號，請問：上面的敘述是指哪一個皇帝？
(A)秦孝公 (B)唐太宗
(C)齊桓公 (D)漢武帝

- 早期中國大部分是以黃河流域為中心，但是後來漢人被迫往南方遷移，長江流域才有充沛的人力與耕作技術，請問：當時中國發生什麼事件，造成這樣的情況？
(A)永嘉之禍後，北方草原民族入主中原
(B)秦國實施變法，人民避難而逃往南方
(C)編戶齊民後，百姓為了逃稅而搬到南方
(D)封建制度的瓦解，人民被迫往南方開墾
- 白居易〈寄胡麻餅與楊萬州〉：「胡麻餅樣學京都，面脆油香新出爐。」此為唐朝詩人的作品，請問：從唐詩中，可以看到當時唐代呈現什麼樣的社會風氣？
(A)長江流域經濟的開發
(B)胡漢融合的社會景象
(C)草原民族政權的建立
(D)漢化政策的民族互動
- 絲綢之路簡稱為「絲路」，主要是因為以前中國輸往西方的物品為絲織品，才得到這個名稱，當時商品可以遠銷到大秦（羅馬帝國），促進東西文化交流，請問：關於這條貿易道路的敘述，下列何者正確？
(甲)佛教經由這裡傳入中國
(乙)張騫開通這條貿易道路
(丙)當初開通的目的是為了做貿易
(丁)造紙技術也從這條路傳入西方
(A)甲乙 (B)甲丙 (C)甲丁 (D)乙丙
- 世族以前不僅掌握政治權力，在經濟上亦擁有大片土地，並享有減免賦稅的特權，請問：這樣的情況，主要與哪一種人才選拔的方式有關？
(A)推舉孝廉
(B)貴族世襲的作法
(C)科舉制度
(D)九品任官的作法

【第 13 至 14 題為題組】

下方(圖一)為戰國時期形式圖，請根據圖片回答下列問題：



(圖一)

- 請問：最後是由哪一個國家，在西元前三世紀，統一天下？
(A)甲 (B)乙 (C)丙 (D)丁
- 根據圖片判斷，請問：哪一個國家的君主在春秋時期，提出「尊王攘夷」的稱號？
(A)甲 (B)乙 (C)丙 (D)丁

背面尚有試題

【第 15 至 16 題為題組】

請根據下列三個皇帝的台詞回答問題：



15. 請問：這三個皇帝出現在歷史的先後順序，下列哪一個是正確選項？

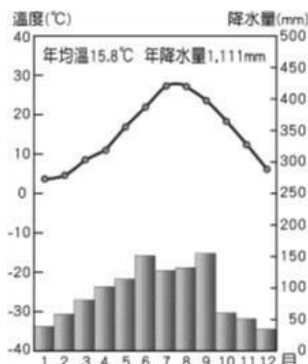
- (A)甲-乙-丙 (B)乙-丙-甲 (C)甲-丙-乙 (D)丙-乙-甲

16. 請問：甲、乙、丙三位皇帝，分別實行哪些學說？（請按照順序排列）

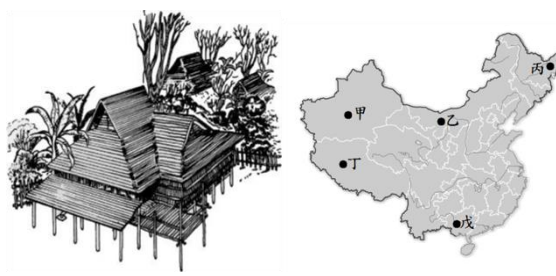
- (A)甲：道家、乙：法家、丙：儒家
(B)甲：儒家、乙：法家、丙：法家
(C)甲：法家、乙：道家、丙：儒家
(D)甲：法家、乙：儒家、丙：道家

17. 由右圖的七月均溫、一月均溫及年降雨量判斷該氣候圖最可能是屬於哪種氣候類型？

- (A)高地氣候
(B)溫帶草原氣候
(C)溫帶季風氣候
(D)副熱帶季風氣候



18. 右圖為中國某一少數民族的住屋形式，主要是以防潮濕與防蚊蟲為主（房屋底部架高），從其建築形式判斷，該民族最可能分布在地圖中哪一位置？



- (A)乙 (B)丙 (C)丁 (D)戊

19. 這裡有青山綠水，大量的森林，這裡緯度較高，紫外線不強，被譽為22度C的夏天，冬天的冰雪也可以吸引遊客滑雪，甚至有室外冰雕展，未來將透過交通建設，將各式產品，經由鄰國俄羅斯運往歐洲市場，根據上述文章得知這個地方最可能是上題附圖中何地特色？

- (A)甲 (B)乙 (C)丙 (D)丁

20. 『中國某行政區的南部位於農業區與畜牧區交界附近，因氣候較乾燥少雨些、且經中華文化長期發展，植被稀少且環境脆弱、水土流失嚴重，大量黃土被帶入河流中，因此聯合國認為是最不適宜人類生存的地區之一，因此當地政府對人民實施搬遷計畫。』上述行政區最可能是右圖中何者？



- (A)甲 (B)乙 (C)丙 (D)丁

21. 中國的人口分布大致以黑河與騰衝連線為界，其東、西兩側的人口分布特性大不相同。請問：下列有關中國人口分布的描述何者正確？

- (A)該線以西人口成長較快 (B)該線以西人口分布密集
(C)該線以東人口密度較小 (D)該線以東人口總數較多

22. 右圖為中國某一氣候資料的等值線分布圖，圖中甲<乙<丙<丁，則該氣候資料應為下列何者？



- (A)一月均溫
(B)七月均溫
(C)年雨量
(D)年溫差

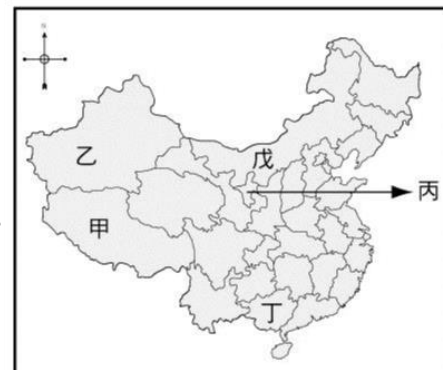
23. 中學生報導指出：『中國經過41年的生育限制，在今年五月底表示將放寬限制，所有夫婦可生三個孩子，而不是只能兩個……專家認為放寬生子限制後，情況不會有太大變化。其實中國在2015年就放寬生育限制了，但出生率卻持續穩定下降……』。從上述報導猜測可能是為了緩和哪項人口問題？

- (A)高齡比例遽升 (B)人口數量減少
(C)人口分布不均 (D)性別比降低

24. 上完地理課，納豆老師請同學將中國各地氣候的特色稍作整理，下列哪一位同學的說法正確？

- (A)李真：「塔里木盆地地處內陸，降水量少，大多為乾燥氣候」
(B)綾蓁：「珠江三角洲夏天吹東南季風」
(C)勝堯：「華北平原位於北回歸線以南，屬於副熱帶季風氣候」
(D)赫浩：「青藏高原原因居高緯度地區，故終年氣溫偏低」

25. 「去年8月，內蒙古自治區發佈政策命令：蒙古族中小學的三門科目在9月開學後轉用『漢語』進行教學，但當地蒙古族家長和學生百般不願……」。請問內蒙古自治區位在右圖中何處？



- (A)甲 (B)丙 (C)丁 (D)戊

請繼續作答下張試卷

26. 一年一度的雙11狂歡購物節又要來了，雙11節日的發展典故是「光棍」的意思，也就是現下流行用語「單身狗」，這起源於中國一群男大學生找不到交往對象而自我解嘲。如果從節日流行的背景原因思考，此現象和下列何者關係最低？

- (A)實施一胎化 (B)傳統觀念重男輕女
(C)性別比>100 (D)壯年人口比例提高

27. 中國幅員廣大，地形複雜，下列關於地形的敘述，何者錯誤？

- (A)西半部山脈大多成東北—西南走向
(B)中國地形以山地、高原為主體
(C)地勢西高東低，主要河川由西向東流
(D)平原、丘陵集中於東部，是人口稠密區

28. 季風影響中國氣候甚為深遠，請問：亞洲東部之所以會有高氣壓、低氣壓位置變化，並形成季風現象的原因，與下列何者相關？

- (A)境內地勢高低落差大
(B)受河流、湖泊分布影響
(C)面積廣大，地跨熱、溫、寒三帶
(D)因大範圍海陸性質差異

29. 中國某個少數民族有一首古歌謠，歌詞裡傳唱著「祖公的地盤好比一條船，人太多了要翻船；一棵樹上一窩雀，多了一窩就挨餓。」請問：其涵義最接近下列哪一種選項？

- (A)人口遷移 (B)環境負載力
(C)扶養比 (D)性別比

30. 文化擴散是指人口發生國內或國外遷移，使移民者將原鄉文化帶到移居地，下列何者並非受華人遷移影響？

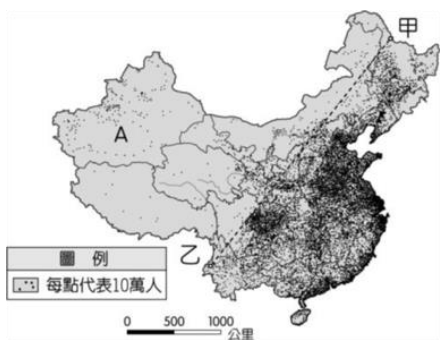
- (A)台南鹿耳門的天后宮 (B)泰國曼谷的唐人街
(C)花蓮的阿美族豐年祭 (D)台北的牛肉麵節

31. 中國地形複雜，下列哪一個地形區為世界最高的高原，有「世界屋脊」之稱？

- (A)雲貴高原 (B)黃土高原 (C)青藏高原 (D)內蒙古高原

32. 由右圖判斷，下列中國哪個地形區的人口分布較為稀疏？

- (A)珠江三角洲
(B)長江中下游平原
(C)華北平原
(D)東北平原



33. 中國目前的人口數約為全世界人口的1/5，因此各項人口相關問題成了急需解決的課題，但不包括下列何者？

- (A)性別比失衡 (B)人口老化
(C)人口分布不均 (D)勞動人口不足

34. 「振興五倍券政策轉彎：行政院原先堅持，民眾換購五倍券要先付1000元才能領取五倍券，但在輿論壓力及立委一面倒，呼籲應免付1000元，行政院長開會討論後表示，可評估全部由中央政府來吸收負擔，他請相關部會朝此方向規畫，將於下週一聽取執政黨立委意見後，做最後定案。」請問：以上新聞的敘述，符合以下哪個名詞的概念？

- (A)民意政治 (B)權責相符 (C)政黨政治 (D)依法行政

35. 中央選舉委員會於近日舉行委員會議決議，原定8月28日舉行全國性公民投票案第17案至第20案投票，因受COVID-19疫情影響，改定於110年12月18日辦理。而8月28日公投日原預定有「重啟核四、珍愛藻礁、反萊豬、公投綁大選」等4案進行投票、開票。請問「公投」是法律所保障人民的何種權利？

- (A)自由權 (B)應考試權 (C)受益權 (D)參政權

36. 以下有關國家構成要素的敘述，何者有誤？

- (A)領海範圍為領陸向外延伸12海哩
(B)我國取得國籍的方式屬於屬人原則及歸化
(C)政府是管理人民的機構
(D)我國因受他國干預，而無法參與東京奧林匹克運動會

37. 民國106年上路的《政黨法》規定，人民可以基於共同的政治理念組織政黨。未來政黨若連續四年未依法推薦候選人參加公職人員選舉、連續四年未召開黨員大會，經主管機關限期召開而不召開、備案後一年未完成法人登記，將廢止備案，也就是將遭到解散。根據文中畫線處判斷，下列敘述何者正確？

- (A)屬於《憲法》規定的基本義務
(B)屬於《憲法》所保障的自由權
(C)屬於《憲法》所保障的參政權
(D)凡台灣的人民皆可享受該項權利

38. 以下對於國家主權的敘述，何者正確？

- (A)拒絕新冠肺炎疫情嚴重的國家人民入境，是主權的展現
(B)主權會隨著政權的轉移而隨之改變
(C)主權是國家最高的權利
(D)國家主權屬於國家元首

39. 我國《憲法》規定：「中華民國國民年滿20歲者，有依法選舉之權。」繼日本完成修法將選舉權下修至18歲後，我國成為少數投票年齡為20歲的民主國家。請問：若我國要將投票年齡下修至18歲，應該以何種方式完成修憲？

- (A)由立法院三讀通過
(B)由行政機關發布修正
(C)由司法院大法官解釋後修正
(D)由立法院提出修憲案，再交由公民投票複決

40. 國家的存在有著許多的功能，以下有關我國社會現況與國家存在功能的配對，何者有誤？

- (A)社會住宅的推動與興建，讓有需求並符合資格者，能有棲身之所：福利
(B)面對我國邦交國逐漸遞減，外交部應更努力地拓展我國與他國的邦誼：安全
(C)設置新竹科學園區，吸引資金進駐：文化
(D)對不遵守防疫規定的人民，予以開罰：秩序

41. 小軒上課時聽到老師說「王子犯法與庶民同罪」，請問老師可能是在講述哪一個主題？

- (A)人治時代進步到法治社會的過程
(B)憲法是國家的根本大法
(C)法律的內涵會與時俱進
(D)法律是經一定程序所制訂的

背面尚有試題

42. 請問以下何者為我國《憲法》所保障的受益權範圍？
 (A)規劃設置桃園觀新藻礁生態系野生動物保護區
 (B)電話call-in至政論節目，評論政府政策
 (C)保障人民可信奉各種宗教
 (D)提供非自願失業民眾失業給付
43. 「中央流行疫情指揮中心宣布自109年3月19日起，所有自外國入境民眾皆須配合居家檢疫14天；若為確診個案的接觸者，則須配合居家隔離14天。」請問根據以上內容判斷，下列敘述何者正確？
 (A)此防疫措施限制了人民的結社自由
 (B)此防疫措施限制了人民的經濟財產
 (C)限制理由主要是為了妨礙他人自由
 (D)限制理由是為了社會秩序公共利益
44. 美國前總統川普曾實施「零容忍」的移民政策，使許多中南美洲非法入境的成年移民在被關押時，相關單位會將孩子帶走，因此每天皆有將近70個家庭遭拆散。請問：此議題所涉及的國家組成要素和下列何者最不相關？
 (A)25人施打到未經稀釋的BNT疫苗，醫院主管出面道歉
 (B)和俊達結婚的美國女子，取得我國身份證
 (C)日本致贈我國AZ疫苗，總統府發文感謝
 (D)波蘭捐贈台灣的40萬劑疫苗後，中國軍機升空干擾我國
45. 2018年年金改革方案上路前，軍公教退休人員雖然可以依法進行權利救濟，但聲請釋憲，必須耗費漫長時間，需歷經訴願、行政訴訟到最高行政法院敗訴後，才能聲請釋憲，因此，將由市政府代為聲請釋憲。請問：釋憲的目的是在發揮憲法的何種特性？
 (A)原則性 (B)最高性 (C)固定性 (D)穩定性
46. 承上題，釋憲的機構應為以下何者？
 (A)立法院大法官 (B)司法院大法官
 (C)司法院法官 (D)行政院法務部
47. 先前國內最大流量網站「楓林網」，網站上有各種戲劇可供觀賞，遭到片商檢舉提告涉嫌侵權，架設網站負責人為高學歷具科技背景的負責人，遭移送法辦。請問：該網站負責人侵害了他人的何種權利？
 (A)隱私權 (B)自由權 (C)受益權 (D)平等權
48. 《役男出境處理辦法》規定役男於19歲前取得教育部認證的國外大學入學許可並就學，可申請緩徵，在畢業或未在學時再返台履行兵役義務。請問該項法規的位階和下列何者相同？
 (A)立法院所制訂的法律 (B)制憲國民大會制訂的憲法
 (C)行政機關所公布的命令 (D)我國與他國所簽訂的條文
49. 外媒報導北韓人民議會代表選舉的投票機制，選票上只有一位候選人的名字，人民只有贊成與不贊成的選擇，因此面臨莫大壓力。請問根據以上敘述，北韓是否為民主國家，原因為何？
 (A)是，因已開放選舉投票
 (B)是，因有贊成與不贊成二種選擇
 (C)否，因選舉為同額參選，無其他選擇
 (D)否，因北韓領導人採世襲方式

50. 金曲創作歌王的吳青峰遭前老闆林暉哲控告違反著作權法，因未經授權即演唱《歌頌者》等歌曲一事，台北地方法院在一審時結果揭曉，吳青峰與哈里坤的狂歡公司均無罪。青峰表示，自己與林暉哲合作十多年，無條件信任對方，始終以新人和林續約，2014年起一年復一年續約4年，他努力創作累積500件作品，沒日沒夜地懷抱熱情，「作品都是歷經傷痛創作出來的」，林卻以提假處分、刑、民事訴訟奪他的創作。林更提議要希望青峰在5年內不能參與蘇打綠，這點也誇張得讓青峰表示無法接受。青峰表示「林暉哲已不再是我認識的那個人了」，更盼望以後不要再有創作人遭受如此待遇；引藝文界、粉絲與眾親友力挺。請問以上引述之新聞，「老闆林暉哲控告青峰、青峰表示作品都是歷經傷痛所創作的」，分別是憲法所保障的何種權利？

(A)受益權／自由權

(B)自由權／自由權

(C)自由權／受益權

(D)平等權／自由權

試題結束

新北市立新莊國民中學 110 學年度第 1 學期第 1 次段考 8 年級社會領域試題
解答

1	2	3	4	5	6	7	8	9	10
D	C	D	C	A	C	B	B	A	B
11	12	13	14	15	16	17	18	19	20
A	D	D	B	A	C	D	D	C	B
21	22	23	24	25	26	27	28	29	30
D	C	A	A	D	D	A	D	B	C
31	32	33	34	35	36	37	38	39	40
C	D	D	A	D	D	B	A	D	C
41	42	43	44	45	46	47	48	49	50
A	D	D	A	B	B	C	C	C	A