

新北市立新莊國民中學 110 學年度第 1 學期第 1 次段考 9 年級社會領域試題卷

※ 選擇題：本試卷共 50 題，每題 2 分，總分為 100 分。
每一題均為單選題，請選出最適當答案。

※ 請用 2B 鉛筆在答案卡上相應的位置畫記。

1. 某人向跟隨的百姓宣示：「你們要遵守我的誠命，不可與要去地方的居民妥協。相反的，你們要摧毀他們的祭壇，砍倒他們的神柱和神像。在這世界上，只有一種信仰是真的，只有我們民族會得救。」請問：這段敘述應是來自下列何本書籍內容？

(A)《亞歷山大的征服》 (B)《羅馬戰記》
(C)《希伯來人的歷史》 (D)《埃及人的驕傲》

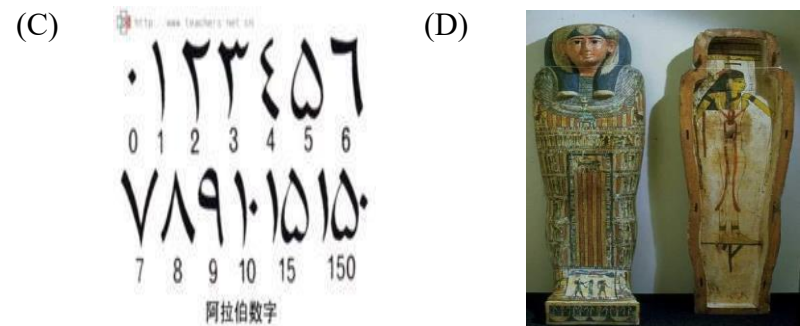
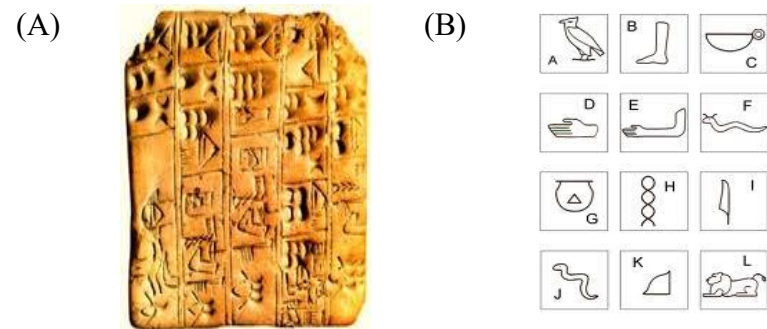
2. 在摩亨佐達羅遺址中，城市的街道垂直相交，住家都有格局類似的起居室、廚房、浴室、排水溝等城市規劃，為一高度發展文明。請問此一古印度河文明的滅亡，可能是因為下列哪一民族的入侵所導致？

(A)巴比倫人 (B)波斯人 (C)阿利安人 (D)亞述人

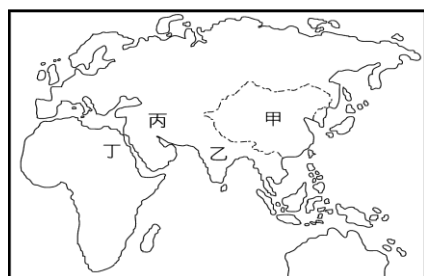
3. <吠陀經>中記載：「祭司是婆羅門神頭部的肉所創，貴族與武士是兩手肌肉所創，平民為兩足，而奴隸則是腳底板的肉所創，汙穢不堪。」因而人們必須遵從階級分明的種姓制度。請問：<吠陀經>應是何宗教經典？

(A)猶太教 (B)婆羅門教 (C)佛教 (D)印度教

4. 歷史博物館舉辦「美索不達米亞文物展」，可以看到下列何項文物？



5. 某文獻記載：「當時的學生用切斷的蘆葦桿，在柔軟的泥板上刻字，並用六十進位法行記算，等泥版曬乾後，作業就完成了。」上文所描述的應是右圖上古時代哪一地區學生的上課情形？



(A)甲 (B)乙 (C)丙 (D)丁

6. 下述是從《漢摩拉比法典》中所節錄的法律條文。條文第 196 條：「兩個自由人打架，傷害他人之眼，被傷害者亦得傷害其眼」。條文第 199 條：「如果一個人毀了某一奴隸的眼睛，他得賠償這個奴隸身價的一半」。下列哪一選項符合對當時歷史情境的解釋？

(A)因為實行種姓制度所以階級不平等
(B)當時法律已有重視人權觀念
(C)當時法律觀念富有報復精神
(D)當時已有法律之前人人平等的觀念

班級

座號


姓名

7. 右方二張圖片是西元前 3 世紀時古印度人奉君主之命，在國內各地興建寺廟，弘揚佛法，並豎立石柱來宣揚其治國原則的想像圖。上述史實應是哪一君主在位時之盛況？



(A)亞歷山大 (B)阿育王 (C)漢摩拉比 (D)釋迦牟尼

8. 貴為天神之尊的「宙斯」(如右圖)手持閃電威風凜凜，但他卻非常好色，以致於風流韻事不斷，天后赫拉則到處找宙斯的小三小四小五小六...進行報復。請問這是下列哪一民族的神話特色？



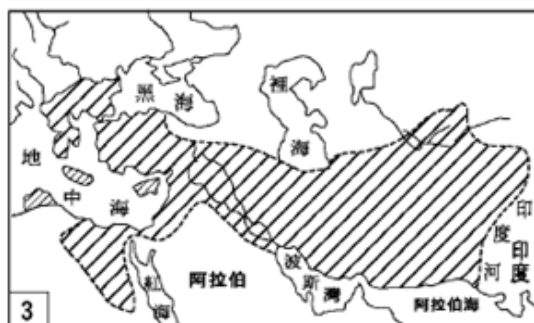
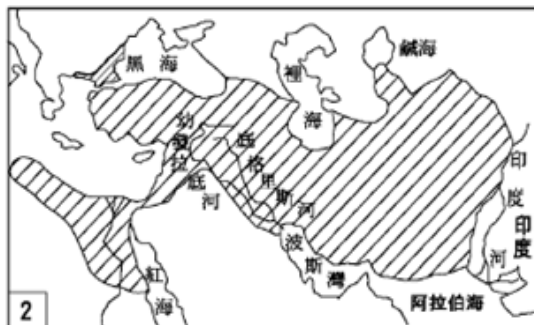
(A)埃及 (B)希臘
(C)印度 (D)波斯

9. 那美想利用假期進行一場地中海歷史文化之旅，第一站要參觀羅馬競技場，第二站到雅典欣賞帕德嫩神廟，第三站到全世界最早發明文字的地區參觀，最後一站則要參觀偉大的金字塔。請根據下圖，協助她按照參觀順序規畫出路線圖。



(A)甲丙丁戊 (B)丙丁庚辛
(C)丙丁己辛 (D)甲丙戊辛

10. 下列三張圖片由上至下分別是哪幾個帝國的疆域圖？



(A)波斯、羅馬、亞歷山大 (B)波斯、亞歷山大、羅馬
(C)羅馬、亞歷山大、波斯 (D)羅馬、波斯、亞歷山大

背面尚有試題

新北市立新莊國民中學 110 學年度第 1 學期第 1 次段考 9 年級社會領域試題卷

11. 右圖漫畫所描述的景象，最有可能出現在古羅馬的那一個時期？

(A)城邦
(B)王政
(C)共和
(D)帝國



12. 電影【300 壯士：斯巴達的逆襲】是描寫斯巴達國王李奧尼達，在明知不可為而為之的情況下，親自率領了 300 名斯巴達勇士，誓死浴血頑強抵抗來自伊朗高原的東方民族，最後壯烈犧牲的過程。片中所描述的史實與哪一場戰爭有關？

(A)羅馬內戰 (B)波希戰爭 (C)希臘內戰 (D)亞歷山大東征

13. 右圖是古代希臘地圖，圖中哪一個地區是《荷馬史詩》中「木馬屠城記」故事的發生地？

(A)甲 (B)乙
(C)丙 (D)丁



14. 右圖是玲玲在書上看到的漫畫，這幅畫最可能是介紹下列哪一古文明？

(A)波斯
(B)雅典
(C)蘇美
(D)埃及



15. 李安導演如果想要籌拍一部以古羅馬時代為背景的紀錄片，請問：下列哪一項資料的內容，可以被列入這部紀錄片中？

(A)為方便政令的傳達及軍隊的調度，羅馬人特別重視道路的建築，以平坦筆直的馬路連貫帝國
(B)羅馬人善用圓頂、拱門，製造出壯觀的大型建築物，例如帕德嫩神廟
(C)羅馬文化融合希臘文化、希臘化文化，使用希臘文
(D)羅馬文明影響後世最大的首推法律，著名的《漢摩拉比法典》是羅馬最早的成文法

16. 2020 年的奧林匹克運動會因為新冠肺炎疫情延後到 2021 年才在日本東京舉行，請問奧林匹克運動會起源於右圖中何處？

(A)甲 (B)己
(C)庚 (D)癸



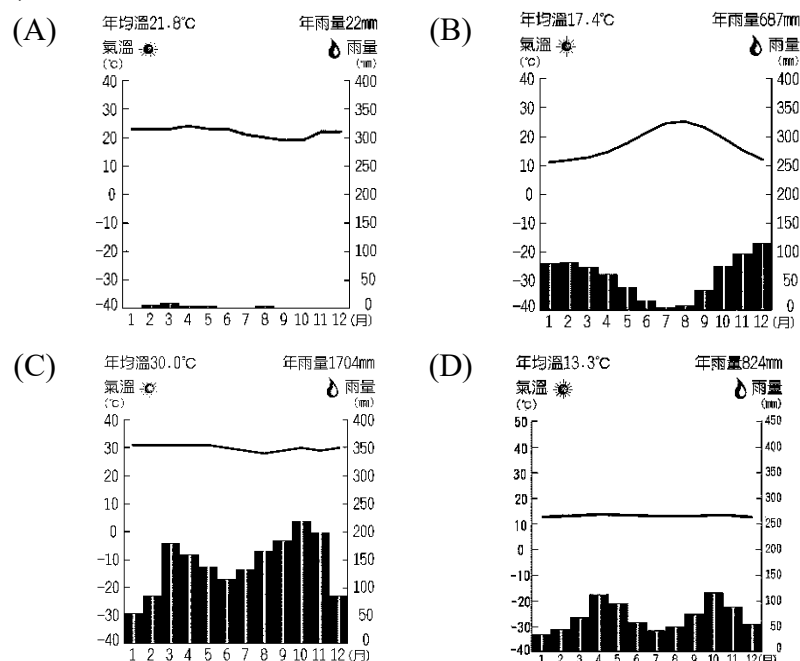
17. 非洲三分之一的面積是荒蕪沙漠，北部有撒哈拉沙漠，南部有喀拉哈里沙漠。請問這些沙漠形成的共同原因為何？

(A)深居內陸，水氣難以進入 (B)副熱帶高壓籠罩
(C)蒸發微弱水氣太少 (D)位於盛行風的背風處

18. 2019 年非洲各地紛紛爆發族群衝突：剛果境內的農耕民族與游牧民族互相殘殺；南蘇丹則是政府與反政府軍的對戰，造成幾百萬人被迫逃離家園。請問非洲族群衝突頻繁的根本原因為何？

(A)生態旅遊興起，爭奪野生動物資源
(B)各種疾病肆虐，人心不穩定
(C)自然增加率低，競爭人力資源
(D)殖民時期，列強以經緯度劃分國界

19. 由於赤道橫貫非洲中部，故非洲的氣候大致呈現南北對稱的特性，但是下列哪種氣候類型「沒有」呈現南北對稱現象？



20. 肯亞的 M-Pesa 是全球最成功的行動支付，只靠低階手機就可運作，提供在各個電信門市提款、存款、付帳、匯錢等服務，讓即使在銀行沒有戶頭的人，也能享受到立即、快速的電子化支付服務，不須特別舟車勞頓跑到城市裡的銀行排隊，節省的時間可用在經濟生產活動上。請問造成肯亞行動支付盛行的原因為何？

(A)戰爭內亂不斷 (B)基礎建設不足
(C)識字率難提升 (D)經濟停滯不前

21. 媒體報導指出：「西非地區近期因氣候良好，讓可可豆的供給過剩，導致期貨價下滑，而象牙海岸及迦納為全球可可豆主要的出口國，占全球供給逾三分之二，大量可可豆囤積於港口，兩國經濟深受影響。」上述報導突顯此種殖民地式經濟的何種問題？

(A)依賴單一經濟作物 (B)過度種植破壞生態
(C)港口運輸條件不足 (D)勞動力過剩經濟停滯

22. 承上題，可可樹所屬的農業類型，具備下列何種特色？

(A)屬於市場導向 (B)屬於粗放式農業
(C)單位面積產量低 (D)屬於糧食作物

【第 23 至 26 題為題組】

2019 年末爆發的新冠肺炎疫情改變你的生活，也大大影響非洲的發展。目前非洲只有 1500 萬人接種了兩劑疫苗，占非洲人口 1.2%，如果國際間不伸出援手，疫情將永遠無法結束。右圖為非洲行政區圖，請根據地圖回答下列問題：



23. 非洲在這次新冠肺炎大流行中成為疫苗孤兒，需透過世界衛生組織來獲贈疫苗，但卻傳出剛果民主共和國在收到疫苗後又返還，理由竟然是人民更關心「伊波拉」或「瘧疾」等傳染性疾病，反倒對新冠肺炎病毒超無感！請問該國位於圖中何地？

(A)C (B)D (C)E (D)F

24. 國際知名藥商輝瑞/BNT 與位於開普敦的 Biovac 研究機構合作，在當地生產新冠肺炎疫苗，以紓解非洲疫苗短缺的問題，該機構是非洲少數的在地製藥廠之一，其所在國家因盛產黃金、鑽石，成為發展製藥工業重要的資金來源。請問 Biovac 製藥廠位於圖中何地？

(A)A (B)D (C)F (D)H

請繼續作答下張試卷

新北市立新莊國民中學 110 學年度第 1 學期第 1 次段考 9 年級社會領域試題卷

班級 座號 姓名

25. 全球電影產業在新冠肺炎疫情衝擊之下，受到不小影響，偏偏美國和印度又是全世界染疫人口的前兩名，讓電影工業的兩大龍頭--好萊塢和寶萊塢失色不少。近年來非洲奈及利亞急起直追，該國發達的電影工業不僅成了窮人翻身的管道，更在國際間贏得了矚目、以及「奈萊塢」的美譽。請問奈及利亞位於圖中何地？
(A)D (B)F (C)G (D)H

26. 肯亞原本生態旅遊業興盛，富有的國際遊客來此進行豪華的野生動物觀賞之旅，帶來高額收入、促進經濟發展、創造就業機會、幫助支付保育工作費用並抑制盜獵行為。為了防止新冠肺炎病毒蔓延，肯亞政府實施了嚴格的封鎖措施，但同時也使得數百萬人面臨失業和飢餓的困境，現在他們正在狩獵瀕臨滅絕的動物以求生存。請問上述悲劇正在圖中何地上演？
(A)D (B)E (C)F (D)G

【第 27 至 30 題為題組】

貫穿衣索比亞與吉布地兩國的亞吉鐵路終於在 2016 年 10 月 5 日宣告正式通車！它是非洲第一條跨國標準軌電氣化鐵路，讓衣索比亞此內陸國家借道吉布地港口至紅海，再通往蘇伊士運河，連結至歐洲，如此擴散效應，讓亞吉鐵路被非洲媒體稱為是「非洲經濟發展新引擎」。請依據上文內容回答下列問題：



27. 請問亞吉鐵路位於非洲簡圖中的哪一區？
(A)乙 (B)丙 (C)丁 (D)戊
28. 亞吉鐵路興建過程中，卻因當地環境特色而遭遇施工困難，最後終於克服難關。請問亞吉鐵路在興建中遇到的環境難題最有可能是下列何者？
(A)隨季節凍融的地表凍土層
(B)火山噴發鬆軟的火山灰土
(C)崎嶇不平的石灰岩層
(D)光線昏暗、地面泥濘的茂密雨林
29. 亞吉鐵路通車後，兩地路程可望從 3 天縮短為 12 個小時，將有助於衣索比亞出口大增。請問衣索比亞主要出口品最有可能是下列何者？
(A)咖啡 (B)象牙 (C)葡萄 (D)石油
30. 其實早在通車之前，2015 年 11 月「亞吉鐵路」便緊急運輸物資至衣索比亞饑荒地區，首發列車共運送了 3000 噸穀物，可見其效益。請問導致非洲糧食不足的原因，除了氣候變遷外，下列何者也是影響主因？
(A)古老地塊土壤過度貧瘠 (B)殖民地劃分勢力範圍
(C)大規模發展熱帶栽培業 (D)游耕焚林造成地力枯竭

【第 31 至 33 題為題組】

台灣紡織大廠「宏遠」在東非投資興建成衣廠，負責生產迪卡儂、Uniqlo、H&M 等國際知名品牌客戶的訂單。台商選擇在非洲設廠的一大誘因為美國於 2000 年簽署的「非洲成長暨機會法案」(AGOA)，這紙貿易協定讓多數撒哈拉沙漠以南的非洲國家，享有出口紡織品等特定商品到美國的免關稅權利。根據上述內容回答下列問題：

31. 請問台商選擇到非洲設立紡織廠所考量的主要工業區位「不包括」下列何者？
(A)勞工區位 (B)政策區位 (C)原料區位 (D)技術區位
32. 台商在東非的廠房設置有先進的指紋打卡報到機，卻沒有裝設冷氣空調設備，請問與下列哪一個因素密切相關？
(A)資金不足 (B)地勢偏高 (C)技術缺乏 (D)人權不彰

33. 台商聘請四位不同語言的翻譯人員協助廠務推動與工人管理，由此可知當地族群文化複雜，請問關於非洲族群文化的敘述何者正確？
(A)歐洲裔白人主要分布於北非地中海沿岸
(B)阿拉伯人分布於撒哈拉沙漠以南
(C)迦納肯特布最初發源於南非地區
(D)馬達加斯加人多屬南島語族

【第 34 至 36 題為題組】

戴資穎代言麥當勞，麥當勞也幾次在戴資穎的奪牌光榮時刻，祭出優惠歡慶台灣之光世界球后戴資穎載譽歸來，犒賞小戴迷每日辛苦追賽事集氣加油。2018 年，戴資穎在亞運上奪下金牌，推出「大麥克買一送一優惠」。2021 年，戴資穎奪得奧運銀牌，推出在 Uber Eats 上點購麥當勞「來點大麥克蜜腿餐」即享一份免費中薯的優惠。參與活動的民眾超乎預期，有的人花了 3、4 個小時排隊，造成搶購，甚至有些人沒有買到。

34. 推出「大麥克買一送一優惠」以及「來點大麥克蜜腿餐」即享一份免費中薯的優惠，都造成許多民眾搶購。請問，影響民眾消費的因素為下列何者？
(A)所得 (B)商品價格
(C)時間因素 (D)個人偏好
35. 「...有的人花了 3、4 個小時排隊...」。請問：民眾此舉是輕忽了經濟學中哪一個概念？
(A)價格高減少消費的需求法則
(B)因追隨流行而購買的個人偏好因素
(C)時間也應該列入考量的機會成本
(D)收入增加就可以增加消費的所得因素
36. 參與活動的民眾超乎預期的多，甚至有些人沒有買到。請問：此情況符合下列哪一項概念？
(A)供給法則 (B)機會成本
(C)資源稀少性 (D)公平正義

37. 冠宇、溢正、禹勳三人，大學畢業後決定一起前往樂樂企業和天天公司應徵工作。下表為三人前去應徵的薪資。由於樂樂企業的薪資皆高於天天公司因此三人都決定在樂樂企業工作。請問：下表中的甲、乙、丙、丁由高至低應如何安排？

項目	冠宇	溢正	禹勳
樂樂企業	36000 元	乙	39000 元
天天公司	35000 元	39000 元	38000 元
機會成本	甲	丙	丁

- (A)乙、丙、丁、甲 (B)乙、丁、丙、甲
(C)丙、丁、乙、甲 (D)丁、乙、丙、甲

38. 小軒在人力銀行投遞履歷應徵工作，最後有四個比較合適的工作機會，他將每一份工作的薪水（四份工作薪水均不同）及其機會成本整理如下表，希望藉此做出選擇。但小軒在吃飯的時候卻不小心把表格弄髒了。根據表格內容判斷，下列何者最可能是表中被汙損的數字？

公司	薪水(元)	機會成本(元)
甲	44000	46000
乙		
丙	40000	46000
丁		45000

- (A)丁的薪水為 46000 元，乙的機會成本為 45000 元
(B)乙的薪水為 45000 元，乙的機會成本為 46000 元
(C)乙的薪水為 46000 元，乙的機會成本為 45000 元
(D)丁的薪水為 45000 元，乙的機會成本為 46000 元

背面尚有試題

新北市立新莊國民中學 110 學年度第 1 學期第 1 次段考 9 年級社會領域試題卷

班級 _____ 座號 _____ 姓名 _____

39. 「許多民眾普遍認為大醫院的醫療品質較好，常常只因小感冒就到大醫院門診掛號就醫，導致許多大醫院出現看診壅塞的情形，讓已明顯不足的醫護人力更加吃緊，也造成醫療資源浪費的問題。」若老師上課討論以上現象，並要同學運用「金錢誘因」的概念提出因應對策，下列何者最適當？

(A)限制各大醫院每日看診人數
(B)加強醫護待遇補足醫療人力
(C)補助小型診所購買醫療設備
(D)提高各大醫院門診掛號費用

40. 資源有限，所以會出現資源分配的問題，資源分配的方法有很多種，這節課老師讓同學們討論關於「資源分配」的問題，哪些組別的討論內容是正確的？

第一組	預約登記的分配方式，優點是可以節省時間、減少糾紛
第二組	有時分配資源不只是追求最有效利用，還要考慮公平正義
第三組	輪流使用的分配方式，缺點是不需努力，全憑運氣
第四組	先占先贏的分配方式，缺點是輪到的人不一定需要
第五組	社會資源分配會因為主政者、時空背景因素而有不同分配方式

(A)第一、三、五組 (B)第二、三、四組
(C)第二、四、五組 (D)第一、二、五組

【第 41 至 43 題為題組】

2019 年新冠肺炎疫情持續擴大，民眾搶買口罩，為確保口罩供應國內所需及保障國人健康，行政院長下令暫停出口醫療用外科口罩和 N95 口罩，優先提供國內防疫使用。時至今日，口罩生產量充足可供應實名制通路銷售所需，再加上進口口罩管理措施已建立且已有執行成效，因此雙鋼印口罩全面徵用提前於 2020 年 10 月 15 日起恢復定額徵用，其餘產能供應自由市場滿足民眾需求。

41. 依文中畫底線的部分，是以政府的力量管制生產者的哪一種課題？

(A)生產什麼 (B)如何生產 (C)為誰生產 (D)何時生產

42. 防疫期間，口罩選擇出口或優先供應給國人，這是哪一種經濟概念的運用？

(A)機會成本 (B)需求法則 (C)供給法則 (D)公平正義

43. 時至今日，口罩政策除了定額徵用口罩數量之外，其餘口罩均回歸市場自由交易，此時市面上口罩價格應由何者決定？

(A)政府決定 (B)消費者決定
(C)生產者決定 (D)消費者與生產者共同決定

44. 資源有限且具備多種用途，因此我們做選擇，選擇即為分配資源，而選擇所考慮的因素中，最常用來作為衡量標準的是「金錢誘因」，以下關於「金錢」（價格）影響資源分配的敘述，何者錯誤？

(A)平日時段飯店住房率低，所以飯店提出優惠方案，此符合供給法則
(B)政府希望民眾能節約用電，所以提高尖峰時段電價，此符合需求法則
(C)柳丁價格一斤飆漲 30 元，果農趁此時多生產 4 成的柳丁，此符合供給法則
(D)購買來回車票可以打八折，以增加民眾的購買意願，此符合需求法則

45. 公民老師上課時，在黑板上畫出蘋果價格影響資源分配的圖表，關於老師所畫出的圖表，請仔細觀察，哪一處不合理？

價格 (每公斤/元)	消費者購買量 (公斤)	生產者生產量 (公斤)
10	70	50
20	60	40
30	50	70

(A)價格 10 元，購買量 70 公斤
(B)價格 20 元，購買量 60 公斤
(C)價格 20 元，生產量 40 公斤
(D)價格 10 元，生產量 50 公斤

46. 「誘因」是指誘發或抑制特定行為的報酬或懲罰。經濟學認為透過誘因也可以改變人們選擇。請問下列何者是透過誘因來達成改善環境，以達永續發展的做法？

(A)高速公路全面免收通行費
(B)垃圾處理費採隨垃圾袋徵收
(C)政府規定搭乘大眾運輸工具須佩戴口罩
(D)政府買下電視廣告呼籲全民防疫

47. 小穎為了參加兩個月後的英文檢定考試，而報名了每個月 15,000 元的線上英語課程，又繳了英文檢定考試的費用 5,000 元，為了一定要通過考試，小穎還放棄每個月 20,000 元的打工機會，請問：小穎為了英文檢定考試，這兩個月的機會成本總共是多少？

(A)40,000 元 (B)20,000 元
(C)75,000 元 (D)80,000 元

48. 雪隧通車後改變蘭陽平原地景，外地人、投資客一窩蜂搶進，到宜蘭買農地「種房子」。宜蘭農舍總數一萬二千幢，雪隧通車後平均年增七百幢，甚至出現億元豪華「農舍」。仲介業者發現，宜蘭約七成農舍取得建照後，半年內就轉手賣出，買家多是外地人。眼見良田流失，濫建農舍數量高居全國之冠，宜蘭縣府自 2015 年開始，暫停核發農舍建照，制定辦法規定農民才能蓋農舍，且基地位置須「靠路、靠邊」，杜絕豪華農舍炒作。請問下列敘述何者正確？

(A)宜蘭地廣人稀，興建農舍有助經濟發展，資源並非是有限的
(B)將農地賣給建商蓋別墅，是因為地主想要達到環保理念
(C)雪隧通車是為了下一代的生活與發展，符合供給法則
(D)縣政府制定辦法管理農舍，因為農地是一種經濟財，而且具備稀少性

49. 小蓉的學校提供了 5 種畢業旅行方案供學生選擇，附表為她對此 5 種方案的偏好順序。根據表中內容判斷，小蓉時間上只能於 2 月 5 日出發，且最後她選擇前往沙巴戲水，請問她的機會成本為下列何者？

方案	行程	偏好順位	出團時間
甲	日本購物行	第一喜歡	2/1
乙	沙巴戲水樂	第二喜歡	2/5
丙	韓國滑雪行	第四喜歡	2/1
丁	臺東單車行	第五喜歡	2/5
戊	泰國文化行	第三喜歡	2/5

(A)日本購物行 (B)韓國滑雪行
(C)臺東單車行 (D)泰國文化行

50. 2016 年，中華職棒史上第一位本土自由球員轉隊成功的案例出現了，Lamigo 桃猿明星球員大師兄林智勝以 3 年複數年約總值 4,500 萬加盟中信兄弟，刷破中華職棒史上本土球員最高薪的紀錄。球員轉隊後能吸收到新球隊的球迷支持，也可能損失長久以來支持老東家隊伍的球迷，並背上負心漢的名號不被鐵粉（指忠心耿耿的粉絲）諒解。在球員經理性思考後，仍決定轉隊，請問：上述符合下列哪一項經濟學原理？

(A)永續發展 (B)公平正義 (C)機會成本 (D)資源分配

試題結束

新北市立新莊國民中學 110 學年度第 1 學期第 1 次段考 9 年級社會領域試題
解答

1	2	3	4	5	6	7	8	9	10
C	C	B	A	C	C	B	B	C	D
11	12	13	14	15	16	17	18	19	20
C	B	D	B	A	B	B	D	D	B
21	22	23	24	25	26	27	28	29	30
A	A	C	D	A	C	C	B	A	C
31	32	33	34	35	36	37	38	39	40
D	B	D	B	C	C	A	B	D	D
41	42	43	44	45	46	47	48	49	50
C	A	D	A	C	B	C	D	D	C