

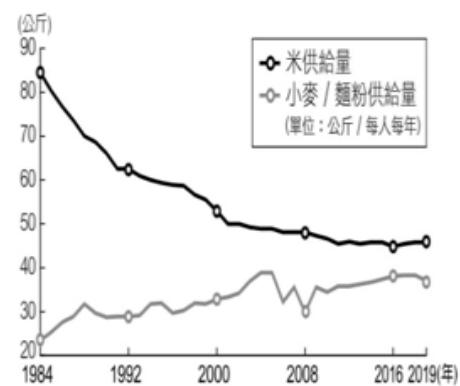
※ 選擇題：本試卷共 50 題，每題 2 分，總分為 100 分。
每一題均為單選題，請選出最適當答案。

※ 請用 2B 鉛筆在答案卡上相應的位置畫記。


- 雖然臺灣四季皆產高麗菜，但客家人會將每季豐收的高麗菜製作成高麗菜乾，用高麗菜乾變化出多種美食，如高麗菜乾扣肉。請問：昔日人們多以下列何種加工方式，讓過剩的食材可以不被浪費？
(A)基因改造 (B)真空包裝 (C)醃製加工 (D)冷鏈技術
- 民國 91 年，我國加入世界貿易組織，對我國第一級產業造成非常大的衝擊，在當年甚至造成農民上街抗議包圍總統府的事件。然而多年後的今天，我國的第一級產業並未被淘汰，農民透過許多轉型對策，降低了外國農產競爭所帶來的衝擊。上文的轉型對策，並『未』包含以下何者？
(A)結合觀光活動，發展休閒農業
(B)降低單位面積產量，採粗放經營模式
(C)推動稻田轉作高經濟價值作物
(D)品種改良，發展精緻農業
- 西螺果菜市場是全臺最大的蔬果集散中心，交易量占全臺灣的三分之一。此市場之所以發達，除了雲林縣是臺灣的農業大縣外，還歸功於下列何種運輸系統的幫助，讓此集貨市場一枝獨秀？
(A)臺灣高鐵 (B)臺灣鐵路
(C)桃園國際機場 (D)中山高速公路
- 新中的孩子即將於六月初畢業，為了感謝勞苦功高的老師們，在班會課討論後決定由全班同學共同準備營養又省錢的謝師宴，且為響應節能減碳、降低污染的環保政策，決定以食物里程來選用食材。若只考量運送距離，下列哪一項食材因產地離台灣最遠，選用的機率最低？
(A)韓國的煎餅 (B)香港的叉燒肉
(C)紐西蘭的奇異果 (D)日本的味噌湯
- 臺中大雅每年三月份小麥成熟，金黃麥田淳樸唯美，還能聞到陣陣麥香，今年以『寵愛麥鄉舞浪花』為活動主軸，活動結合多元族群，歡迎民眾攜帶寶貝毛小孩到場寵物健診、打卡，在麥田感受麥浪風情，還有限量專屬紀念品可領取，大家快把握機會來此拍照打卡吧！』上述活動可帶來哪一效益？
(A)提升農業的附加價值 (B)強化農產出口競爭力
(C)增加單位面積產量 (D)推動低碳排飲食
- 目前臺灣最主要是由於下列何者因素的影響，導致農地多由傳統的稻作改種蔬果等作物為主？
(A)開放國外稻米進口 (B)資訊科技發達
(C)氣候變遷因素 (D)人口老化嚴重
- 「冷鏈為一種嚴格控制溫度的供應鏈，從原物料供應、生產、儲存到配送的過程，皆維持在低溫的狀態，以確保產品不受環境影響而變質，通常用於生鮮蔬果、加工食品與醫藥產品等行業。請問：若能加強臺灣的冷鏈物流體系，對農民而言，可增加下列何種效益？
(A)減少運輸成本 (B)減少農藥使用
(C)擴大運銷範圍 (D)減少勞力投入
- 去年 7 月實施的包裝蜂蜜標示規定，將產品內『蜂蜜含量是否達 60%』作為品名標示依據，監察院本月調查報告認為此規範太過寬鬆，有誤導消費者嫌疑，食藥署回應：針對蜂蜜產品標示規定是參考日本，對蜂蜜含量 60% 以上的產品，就可用『蜂蜜』2 字，添加物也應於品名標示，如『加糖蜂蜜』、『調味蜂蜜』等；蜂蜜含量未達 60%，應標示為『蜂蜜口味』、『蜂蜜風味』，讓消費者可以自主性且合理的去做選擇。針對以上相關產品，消費者可以透過下列何項資訊來了解生產過程做出選擇？
(A)食材來源 (B)保存期限 (C)生產履歷 (D)食物里程
- 『老鷹紅豆』這項產品，每年幫農友創下破億營收，已有超過上百位農民加入老鷹紅豆契作，面積達 220 公頃，

成為結合『在地生態保育』『農友穩定收入』『通路品牌推廣』三贏的成功案例，現在很多農民不噴灑農藥與落葉劑，種出品質一等一的紅豆並打響名號。關於此作法，何者敘述正確？

- (A)屬一般傳統農法的概念 (B)有效降低農地汙染
(C)可以降低食物里程 (D)大幅提高紅豆產量
- 北投的某社區有數十位農民合作舉辦農民市集活動，市集內販售許多來自附近耕種的新鮮蔬果，希望推廣農產品健康生產的觀念。上述較符合哪一項概念？
(A)全球化貿易 (B)地產地消
(C)作物單一化 (D)有機農業
- 近日各縣市衛生局稽查出多家知名食品公司，包含維力食品、八方雲集、海底撈等檢出蘇丹紅色素，檢出不合格的產品包含各式辣椒粉、辣椒油、咖哩粉、胡椒鹽、黑／白胡椒粉、沙茶醬、雞心粉、蝦味先（香辣口味）、菜脯餅、香辣豬肉乾等，波及整個餐飲業，導致人心惶惶，上述食安事件導因於加工過程出現何種問題？
(A)保存期限過短 (B)使用基因改造原料
(C)運送過程不當 (D)使用工業添加物
- 某大賣場新聞稿如下：高雄金鑽鳳梨口感細緻香甜，大賣場今、明兩天舉辦『金鑽榮耀』試吃活動及搶鮮特賣會，強力推銷當季高雄大樹產銷履歷小王子鳳梨、台農 17 號金鑽鳳梨。市府表示：在鳳梨產季期間打造出的『金鑽榮耀』已經眾口皆碑，民眾上高雄首選平台消費，同享優惠也可以安心吃。上述新聞稿所提到我國近期農業發展的方式，下列何者有『誤』？
(A)利用冷鏈技術且採大規模機械化耕作，讓產量提升
(B)提供產銷履歷資訊，增加民眾對食安的信心
(C)塑造品牌形象，提升農產品在市場上的能見度
(D)結合電商平台，增加農產銷售通路
- 阿維去大賣場買炸豆皮時，在比較不同品牌的產品時，有特別標示強調以『非基改黃豆』製成，價格特別貴，但阿維仍選擇購買貴上不少的『非基改』產品。請問：基因改造食物造成消費者有疑慮的原因為何？
(A)對身體健康影響程度 (B)耗費過多水資源
(C)殘留過量毒素 (D)食用口感較不佳
- 附圖為臺灣歷年米和小麥的供給量。從圖中可發現米供給量減少，而小麥／麵粉供給量增加，這種變化與下列哪項因素有關？
(A)小麥的價格較低
(B)小麥的蛋白質較高
(C)稻米的農藥含量高
(D)國人飲食習慣改變
- 阿緯到某量販店購買玉米，看到上面貼有產銷履歷的標章（如附圖），什麼是農產品產銷履歷？
(A)具有冷鏈技術運送保存行銷的證明書
(B)使用天然素材，不使用化合物的有機食品標章
(C)食品從國外進口通關檢疫的歷程紀錄
(D)在生產、加工、流通、銷售各階段所經的歷程



16. 附圖為產品碳足跡標籤，此標籤的主要訴求應為下列何者？



- (A)降低身體健康的負擔
(B)減緩全球暖化的速度
(C)增加國際貿易的規模
(D)增加貨物運送的距離
17. 據統計，2020 年澳大利亞農業缺工嚴重，導致部分農產品無人收成、處理，以致許多農產品價格高漲。形成此一現象的原因之一，為澳大利亞因應新冠肺炎而進行邊境管制，使過去占農場勞力來源高達八成的國外背包打工客，在 2020 年來澳人數大減。若僅針對上述澳大利亞的農業發展、農產價格與背包打工客的關係，擬定相關全球化議題進行探究，下列哪個議題最為合適？
(A)全球化與交通革新 (B)全球化與區域結盟
(C)全球化的貢獻與挑戰 (D)全球化與多元文化
18. 位於環太平洋的甲國，長期向乙國輸出太陽能電池板，但近年遭乙國增收高額的反傾銷關稅。甲國因而向區域性的國際組織丙提出申訴，最後獲得丙的裁決，允許甲國對乙國輸入該國的商品加徵關稅。依題文資訊，丙最有可能為下列何者？
(A)東南亞國協 (B)世界貿易組織
(C)歐盟 (D)亞太經濟合作會議
19. 《全球塑膠公約》被譽為自《巴黎氣候協定》以來最重要的國際環境協議。2022 年 175 個國家及地區領袖於肯亞首都通過此決議，將制定具法律約束力，涵蓋塑膠從生產、消費到棄置整個週期的條約。這個公約可望使世界邁向「零塑膠」的未來，但這將取決於談判代表們是否能確保實現承諾。請問：下列敘述何者正確？
(A)此公約的簽署通過為經濟全球化的面向
(B)透過國際合作解決單一國家無法解決的問題
(C)台灣若無法成為締約國即無遵循公約的必要
(D)減塑行動也是世界衛生組織關注的重要課題
20. 公平貿易指的是在農產品產銷過程中，確保生產者獲得公平報酬、勞動者獲得應有保障、環境可以得到保護的一種制度。請問：根據上述，下列何者最可以彰顯公平貿易的精神？
(A)環境永續、社會正義 (B)自由競爭、降低成本
(C)正向誘因、技術提升 (D)跨國合作、尊重多元

新聞報導摘錄：

美國「作家協會」代表一群知名美國作家，在曼哈頓聯邦法院對人工智慧公司 OpenAI 提出告訴，指控這家公司濫用他們的著作來訓練人工智慧(AI)驅動的熱門聊天機器人 ChatGPT。

OpenAI 和其他人工智慧被告表示，他們從網路上抓取的訓練資料，符合美國版權法律規定下的合理使用。OpenAI 發言人表示，他們公司尊重作者的權利，並「正在與世界各地的許多創作者進行富有成效的對話，包括作家協會」。

此案中的告訴指出，ChatGPT 在提示時，會產生作者書籍的準確摘要，表示他們的著作內容已被收納在其資料庫中。未來著作人可能會被諸如 ChatGPT 等系統取代，「產生低品質的電子書、冒充作者並取代人類撰寫的書籍」。

21. 關於上面敘述，若發生在台灣，下列敘述何者正確？
(A)此訴訟為關於專利權的爭議
(B)不論侵權情節的輕重，此爭議判決只會有民事賠償責任
(C)此項智慧財產權的保障是為維護市場公平競爭
(D)利用者超過合理使用規範，又未徵求著作權人同意即可能侵犯其權益

【第 22 至 23 題為題組】

烏克蘭危機加速我們餐桌食材變貴，全球更有 8.28 億人陷入飢餓；氣候變遷使台灣缺水與酷暑益發平常，而過去 8 年，是地球史上最熱的 8 年。此刻，遠方危機不再是遙遠的故事，更是需要你我共同搶救的未來，加入第 34 屆飢餓三十，透過飢餓體驗和慈善捐款，從翻轉孩子的危飢開始，創造世界的轉機！

22. 請問：上述資訊，最有可能出現在下列哪個組織的官網上？
(A)世界展望會 (B)國際反地雷組織
(C)無國界醫生組織 (D)臺灣國際搜救隊
23. 請問：上述資訊，提及到下列哪些議題？
(A)難民問題、基本人權 (B)環境議題、基本人權
(C)跨國犯罪、文化衝突 (D)跨國疾病、貧富差距

【第 24 至 25 題為題組】

某國政府擬推動全民換發數位身分證，整合戶口、醫療、租稅等資訊，提供人民更便捷的政府服務。認同此計畫的支持者期望藉此實現「數位國家」願景；但有公民團體質疑政府缺乏審慎規劃，擔憂該政策將導致人民喪失個人資訊的控制力，主張必須先制定特別法律，明定授權範圍、加密機制、跨部門讀取資訊的條件與監督機制。因爭議過大，該國政府最後放棄換發計畫。某國中生瀏覽相關議題，心生疑惑：「新冠肺炎疫情期間，民間團體利用政府資訊製作疫苗數位地圖，協助民眾查找疫苗施打場所，廣受社會稱許，為何數位身分證卻飽受質疑？」

24. 請問：該國中生的疑惑，從資訊利用行為和個人權利的角度來看，下列何種見解最為合理？
(A)疫苗地圖增強人民行動自由，數位身分證增強人民知的權利
(B)疫苗地圖增強人民知的權利，數位身分證削弱人民的隱私權
(C)疫苗地圖削弱人民的隱私權，數位身分證增強人民人身自由
(D)疫苗地圖削弱人民人身自由，數位身分證削弱人民行動自由
25. 下列何者是該國政府放棄換發數位身分證的機會成本？
(A)政府整合戶口、醫療、租稅等資訊，提供人民更便捷的服務
(B)政府為保護民眾個人資料所投入的資源建置
(C)政府制定特別法律的程序與監督機制的建立
(D)人民喪失個人資訊的控制力

【第 26 至 27 題為題組】

在 2020 東京奧運賽前，全國性公投出現以「東奧正名」為主題一案，其內容為「是否同意，以『臺灣』」為全名申請參加所有國際運動賽事及 2020 年東京奧運？最終公投結果否決了該提案。

26. 請問：下列敘述，正確的有幾項？(甲)假使東奧正名公投通過，可能影響台灣運動員參賽權益(乙)無法以「臺灣」名義參加運動賽事與中國的干預和國際局勢有關(丙)國際奧林匹克委員會為官方的國際組織，故不利於我國參與(丁)透過奧運的體育競賽增進國際合作
(A)4 (B)3 (C)2 (D)1 項
27. 我國目前以「中華台北」名義參加 2024 巴黎奧運。請問：我國同樣也是以「中華台北」的名義參加下列哪個國際組織？
(A)世界衛生組織 (B)亞太經濟合作會議
(C)世界貿易組織 (D)聯合國

請繼續作答下一張試題

【第 28 至 30 題為題組】

鑒於數位科技發展迅速，針對被害人性影像外流導致難以挽回的心理傷害，政府近期修法提高罰則以期完善性暴力防護，杜絕性影像散布。《刑法》特增訂「妨害性隱私及不實性影像罪」專章。製作或散布他人不實性影像(深偽)罪，最重處五年有期徒刑。

28. 下列何者與此次修法內容所需負起的責任相同？
 (A)未依契約規定完成施工
 (B)失控車輛不慎撞進超商
 (C)餐廳未通過消防安檢勒令停業
 (D)酒後駕車造成公共危險
29. 關於文中畫線的部分，下列何者正確？
 (A)立法的速度往往慢於科技的發展
 (B)科技發展加快訊息傳遞的速度
 (C)資訊氾濫造成內容真偽難辨
 (D)科技發展造成人際互動方式的轉變
30. 關於上面敘述，針對數位科技迅速發展，我們應以何種態度面對？
 (A)重視智慧財產權的保障
 (B)加強媒體的資訊倫理
 (C)加強個人查證能力的培養
 (D)增進媒體教育文化的功能

【第 31 至 33 題為題組】

國際刑警組織為聯合國以外，世界規模第二大的國際組織。每年預算逾一億歐元，其運作資金由成員國撥付。主要責任為調查恐怖活動、毒品、軍火走私、洗錢、兒童色情、科技犯罪等大型嚴重跨國罪案。

美 71 位議員曾進行連署呼籲美方協助台灣成為觀察員，但仍頻頻被拒於門外。該連署中也提及，俄羅斯、白俄羅斯等獨裁國家，近來濫用國際刑警組織的「紅色通緝令」，以騷擾威脅到其政權的異議分子。

31. 關於上面敘述，下列何者正確？
 (A)此組織透國國際援助打擊違法行為
 (B)台灣可能無法即時獲得跨國犯罪情報
 (C)國際組織的成立減少區域衝突
 (D)台灣不受政治全球化的影響
32. 國際刑警組織依其成員的性質與下列何者相同？
 (A)國際特赦組織 (B)國際反地雷組織
 (C)國際奧林匹克委員會 (D)世界貿易組織。
33. 文中畫線的部分，可能也是下列哪一個組織所關切的議題？
 (A)國際特赦組織 (B)國際反地雷組織
 (C)國際綠色和平組織 (D)無國界醫生組織

34. 恩恩和軒軒報名了右圖中的「20 世紀初時光之旅」活動，回到歷史上的 1917 年。關於這次旅行的經歷，下列敘述何者正確？

- (A)到處都有群眾高喊「列寧萬歲！」
 (B)見證末代沙皇路易十六退位
 (C)體驗史達林計劃經濟的奇蹟
 (D)報紙頭條寫著：布爾什維克黨發動七月革命

35. 右圖是一張 1930 年德國總理大選的競選文宣，競選人是希特勒，在這張文宣中，下列哪項政見不會是他所提倡的？

- (A)反對《凡爾賽條約》
 (B)收復領土
 (C)打擊納粹黨
 (D)反對共產黨

時光旅行社
 20世紀初時光之旅！
 跳躍至關鍵的1917年，感受戰鬥民族布爾什維克革命！
 即刻報名，4人團報優惠
 NT\$1,000,000!
 TIME TRAVELER



36. 右圖為楊果根據 1920 至 1941 年間美國國內某種現象所繪出的圖表。圖中的曲線應是代表何種意義？

- (A)美國進口貨物的變化
 (B)美國出口貨物的變化
 (C)美國銀行倒閉的數目
 (D)美國大量借款的情形



37. 一位美國商人自述：家中原本頗有積蓄，曾擁有一家運輸公司。但在大戰後，各國紛紛提高關稅，使得國際間貨物無法暢通，形成了可怕的「經濟危機」。我永遠記得「那一天」，因為股市狂跌，使我的家產全部化為烏有。我和許多朋友因無法繳付房貸，住家遭銀行查封，只得跟許多人一起在公園搭帳棚，領失業救濟金。但當時「有個國家」竟然因實施計畫經濟，而幾乎不受經濟危機的影響。除了羨慕外，也只能繼續期待政府推動的「新政」能解決我們的困境了。請問：上文中美國商人所說的「有個國家」最可能是？

- (A)法國 (B)蘇聯 (C)德國 (D)英國

38. 右圖的政治漫畫，在諷刺當時的西歐國家為了避免戰爭一味忍讓德國，反而成為希特勒擴大實力的墊腳石，最終還是引爆了第二次世界大戰。請問，當時西歐國家應是奉行哪種思想？

- (A)門羅主義 (B)孤立主義 (C)帝國主義 (D)姑息主義




39. 下圖中甲、乙、丙三張照片，分別與某戰爭中的三個重要事件有關，若依這些事件發生的時間先後順序排列，下列何者正確？

- (A)乙甲丙 (B)乙丙甲 (C)丙甲乙 (D)丙乙甲



甲、長崎原子彈爆炸遺跡



乙、珍珠港事變紀念館



丙、諾曼第登陸陣亡將士紀念碑

40. 維尼在查閱歷史新聞時，看到一則 2016 年的新聞報導：「七十多年前那『最長一天』，被稱為 D-day，以美國與英國為主，會同加拿大、自由法國、波蘭、澳大利亞、比利時、紐西蘭、荷蘭、挪威、捷克自由軍以及希臘各國，開始對法國進行大規模的登陸行動。」根據你所學，下列敘述何者與前述新聞報導的內容毫不相關？

- (A)該報導是指第二次世界大戰中的一場戰役
 (B)該報導中的多國部隊為同盟國陣營
 (C)該報導的軍事行動被稱為閃電戰
 (D)該報導的登陸行動最終重創敵軍

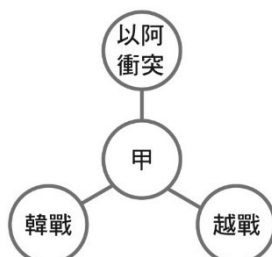
背面尚有試題

41. 右表是某時期官方所播放的時事宣傳影片，根據內容判斷，這些影片最可能在下列何時何地播放？

影片名稱
德國空軍與英國艦隊壯烈的交戰
日德義同盟
納粹德國國防軍的活躍
慶祝滿洲建國十週年
夏威夷大空襲

- (A) 第一次世界大戰期間的北京
(B) 第一次世界大戰期間的東京
(C) 第二次世界大戰期間的臺北
(D) 第二次世界大戰期間的重慶

42. 右圖是一幅示意圖，圖中的「甲」是其他三個事件的主題，此主題為何？

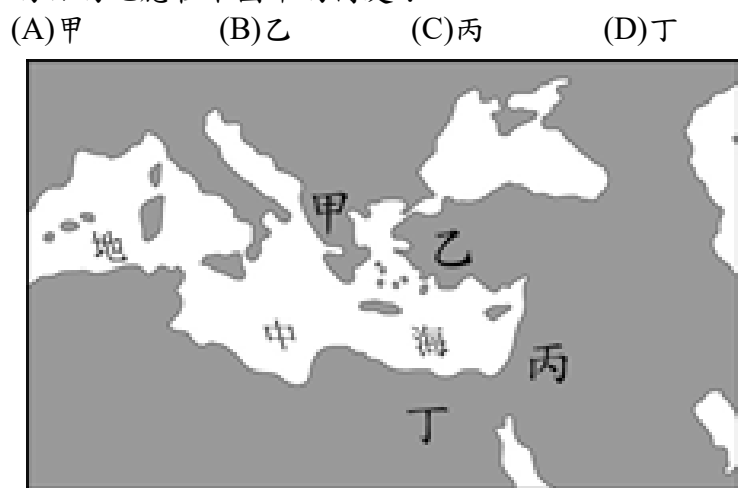


- (A) 一次大戰前的軍事衝突
(B) 蘇聯解體後的多元衝突
(C) 二次大戰期間的反恐行動
(D) 冷戰期間的區域衝突

43. 「6 月 24 日，蘇聯全面切斷該區的水陸交通及貨運，只保留三條走廊通道。6 月 29 日，美國派出大批飛機來到該區，對此區 200 多萬居民運送糧食及物資。空運飛行次數在一年內超過 20 多萬次。」請問：上述文字描寫的事件發生在下圖中的何處？



44. 豪敬是電視臺的記者，最近因為以色列和阿拉伯國家的衝突再起，電視臺於是派他到當地實地採訪。請問：他的目的地應在下圖中的何處？



45. 《世界現代史圖集》裡有如右圖的漫畫，由圖中的內容判斷，其發言人可能是下列哪一國人？

- (A) 英國 (B) 北韓
(C) 古巴 (D) 印尼



46. 右圖是 1949 年至 1990 年間歐洲部分地圖，圖中深灰色的區域曾屬同一國家，但在此期間卻依虛線為界，分屬不同政權。此長期分裂情況發生的原因，主要與下列何者有關？



- (A) 第三世界的出現
(B) 種族隔離的實施
(C) 宗教信仰的差異
(D) 冷戰局勢的發展

47. 「第三世界」是第二次世界大戰後一股新興勢力，他們不願向美蘇靠攏而互相結盟，下圖中何者不是第三世界國家分布的範圍？

- (A) 甲 (B) 乙 (C) 丙 (D) 丁



48. 美國的國防安全曾遭受嚴重的威脅，如右圖所示。請問：對這種局勢的描述，下列何者正確？



- (A) 古巴同意北韓在古巴境內架設飛彈基地
(B) 美國隨即對古巴展開攻擊
(C) 古巴危機為美蘇間冷戰的開始

- (D) 美蘇間建立溝通管道使冷戰關係和緩

49. 2022 年 2 月 24 日俄羅斯入侵烏克蘭，烏克蘭曾經是前蘇聯一部分，對於蘇聯和烏克蘭的敘述，何者正確？

- (A) 1917 年，沙俄君主制在史達林的革命下，建立蘇聯共產政權
(B) 戈巴契夫的改革導致蘇聯解體，冷戰開始

- (C) 1991 年蘇聯解體後，俄羅斯和烏克蘭一樣成為各自獨立國家
(D) 俄羅斯和烏克蘭都是北太平洋公約的組成會員國

50. 附圖深色部分是某個區域性組織成員的分布圖。從圖中的內容判斷，這個組織最可能為下列何者？



- (A) 歐洲聯盟
(B) 東南亞國協
(C) 東南亞公約組織
(D) 亞太經濟合作會議

試題結束