

※ 選擇題：本試卷共 50 題，每題 2 分，總分為 100 分。
每一題均為單選題，請選出最適當答案。

※ 請用 2B 鉛筆在答案卡上相應的位置畫記。

1. 國家若長期且持續的發生下圖的現象，請問以下對社會中產生的影響，何者正確？



- (A)流通在市場的貨物數量大幅增加
(B)物價持續下降，導致景氣不佳
(C)民眾紛紛將貨幣轉換成物資
(D)人民將貨幣儲存進金融機構
2. 先前某網路書店遭爆以「假承攬真僱傭」的方式剝削清潔員工，工作 20 年遭資遣的婦人發現無退休金可領的事件。台北市勞動局認定該網路書店違法，將開罰最低 6 萬元、最高 300 萬元。有關此則新聞的描述，應屬於何種法律的規範與涉及之責任為何？

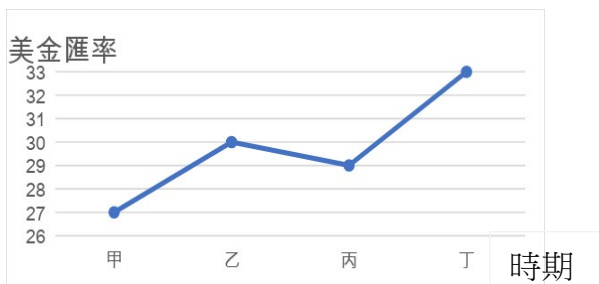
- (A)勞動基準法、民事責任 (B)就業保險法、刑事責任
(C)勞動基準法、行政責任 (D)就業保險法、行政責任

3. 右列是甲國某學者針對該國現況所提出的看法。根據文中內容判斷，甲國就業市場受到影響的原因應是下列何者？

……許多人失業的同時，也有大量職缺在等人應徵。……所以，給予失業者的福利愈多，往往會導致更高的失業率，並拉長他們的求職時間，對就業市場造成影響。

- (A)勞工願意接受更低的工資
(B)勞工願意盡速投入勞動市場
(C)勞工選擇就業的機會成本提高
(D)勞工選擇較重要性的家務勞動
4. 甲國的國際貿易進、出口與我國類似，由於該國長期處於經濟景氣低迷的情況，因此甲國政府強力主導該國貨幣貶值，冀望能藉此刺激國家經濟發展，進而帶動景氣復甦。上述甲國政府的作法，主要是期望產生下列何種效果？
- (A)進口商品成本降低 (B)避免生產成本提高
(C)出口商品售價降低 (D)避免造成通貨膨脹

5. 右圖是波波國在甲乙丙丁四個時期，一美金兌換波波幣的匯率變化圖。根據波波幣與美國的貿易關係，判斷乙到丙時期的匯率走勢，下列對波波幣的推論，何者正確？



- (A)波波幣相對美金升值，將使波波國的美國進口商獲利增加
(B)波波幣相對美金升值，有利該國廠商出口商品至美國
(C)波波幣相對美金貶值，因成本提高，將使波波國內的物價上升
(D)波波幣相對美金貶值，廠商可用較便宜的價格出口至美國
6. 小玉是旅遊愛好者，因此特別關注日圓匯率變化，下表是某年 1-4 月份日幣兌換新台幣的匯率變動情形。請根據表中資料，選出正確的敘述？

月份	1	2	3	4
新台幣	0.2711	0.2652	0.2603	0.2518
日幣	1	1	1	1

- (A)小玉若要將新台幣兌換成日幣，可至中央銀行辦理
(B)相較於 1 月，小玉在 4 月可換到較多的日幣
(C)3 月相較 1 月，新台幣兌日幣升值，有利於我國出口至日本

(D)對日本來台的交換學生而言，4 月來台較 1 月有利

7. 小王和朋友到大賣場購物，排隊結帳時討論要用何種方式付款，下表是他們的對話，請問何者的說法是正確的？

(A)小新 (B)莊仔 (C)阿國 (D)阿中

小新：我要使用現金付款，普遍被店家接受，因此為商品貨幣

莊仔：我有這家賣場的禮物儲值卡，事先存入現金可享優惠，顯示卡片有價值衡量的功用

阿國：我要使用信用卡付款，可分期付款，因為其具有先付款後消費的特性

阿中：我使用手機電子支付，最終仍須以法定貨幣付款

8. 今年暑假期間，高二學生阿雯到附近的便利商店打工，以下是他某日與已婚老闆的對話部分內容：

阿雯：請問老闆，為何我的薪水比男性同事薪水低？還比基本時薪少了 10 元，也沒有勞健保

老闆：如果你願意跟我交往，我可以把你薪水調高，並晉升為管理職務

(A)阿雯因屬於童工，因此不受勞動基準法的保障

(B)民法因具有契約自由原則，故阿雯與老闆私人的口頭約定可成立

(C)阿雯可依性騷擾防治法，對老闆進行申訴

(D)阿雯的薪水較男性為低，已侵害了憲法所保障的平等權

9. 我國政府為了因應 Covid-19，曾推出振興五倍券，相關說明如下圖所示，請根據圖中的說明使用方式，選出正確的敘述？



(A)振興五倍券能用於清償債務，亦有價值儲存的功能

(B)不得找零是為了避免產生價值衡量的功能

(C)紙本五倍券可綁訂行動支付、電子票證、信用卡，因此具備交易媒介的功能

(D)五倍券本身具有一定的價值，故可稱作商品貨幣

10. 根據財政部公布的「性別統計年報」，觀察年度綜和所得稅資料，男性平均每人所得 64.1 萬元，是女性平均所得 41.4 萬的 1.6 倍。男女在職場上同工不同酬情況雖較過去已有改善，但仍有所差距。請根據上述內容，下列哪一項的說法最為恰當？

(A)性別偏見導致女性承受更多的異樣眼光

(B)女性對家庭的貢獻度低於男性

(C)家務分工存在著性別刻板印象

(D)性別歧視導致女性在工作上所分配的利益不平等

11. 我國政府曾邀請日本知名藝人為臺灣拍攝觀光宣傳短片，希望吸引日本人來臺旅遊，但在宣傳活動的某段期間，因匯率劇烈波動，反而導致當時日本人來臺旅遊人次呈現負成長。上述觀光局作法所希望影響的消費行為因素，與該段期間匯率變化的情況，最可能為下列何項組合？

(A)商品價格、新臺幣相對日幣升值

(B)個人偏好、新臺幣相對日幣升值

(C)個人偏好、新臺幣相對日幣貶值

(D)預期心理、新臺幣相對日幣貶值

12. 所謂「一日之所需，百工斯為備」，請問享受人們的勞動成果，其中那些屬於勞務？(甲)便利商店販售的商品 (乙)醫療院所拔牙 (丙)網路訂購的新手機 (丁)韓星開演唱會
- (A)甲乙 (B)甲丙 (C)乙丙 (D)乙丁

13. 以下是一對夫妻的對話，分析對話內容，下列哪一個結論較為適當？

要不是我每天努力工作累得像條狗，哪能讓你閒在家享清福……

妻子：我每天要接送孩子上下學，還有做不完的家事。不然我也出去上班，你請個人來家裡洗衣服、打掃、做飯、帶孩子……

- (A)家務勞動的價值明顯被低估
- (B)太太身在福中不知福
- (C)丈夫對家庭的貢獻比太太低
- (D)應該換先生在家改由太太出去工作
14. 「零工經濟」描述的是愈來愈多「零散化工作」興起的趨勢。企業正在削減全職工作，以便更精準配置人力，正職工作會被零散的「差事」取代。隨著網路時代來臨，外送平臺等業者興起，強調自由接案的工作型態，逐漸受到歡迎。

另一方面，這類工作經常面臨收入不穩，甚至不斷失業的問題。許多青年迫於低薪，或想增加收入而接案，但除考量金錢收入，更需要評估對個人技能、職業生涯發展的幫助。例如：接單送餐看起來自由，不受到時間、地點的限制，但這對職業生涯不見得有加分。

但這種工作方式的改變，其實也衝擊既有的僱傭關係。平臺與雇主間的角色差異，讓零工經濟工作者無法享有全職員工的保障與福利，這類現象特別容易出現在較弱勢的低階勞動者身上。

請根據上述短文，選出正確的敘述？

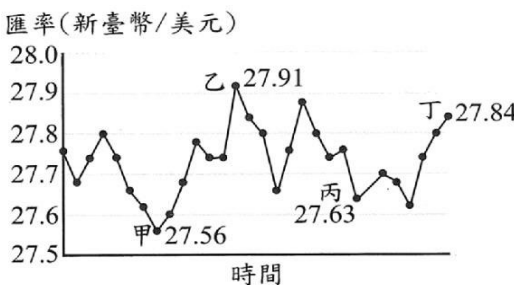
- (A)零工經濟屬於非市場勞動
- (B)畫雙底線處所提供的產品型態與房屋仲介相同
- (C)又稱做家務勞動市場化
- (D)全職員工的福利規定在《就業保險法》中

【第 15~16 題為題組】

經濟全球化是指經濟活動跨越國界，產生互相關連與依存的現象。但隨之而來的，則是跨國貿易中可能隱含的公平正義議題。像是導致部分地區貧富差距、環境問題，或是在生產過程中忽略的人權保障。為此，某民間團體公布兩種暢銷巧克力的生產資料，希望相關議題獲得社會大眾的注意。

廠牌	甲企業	乙企業
生產特性	提供友善工作環境與合理的薪水，曾獲得公平貿易標籤	主打物美價廉依靠低廉價格佔領市場
機會成本	生產成本較高，產品價格貴	遭揭露曾雇用廉價童工品牌形象受到重創
銷售客群	認同公平貿易理念的消費者	以價格為主要考量的消費者

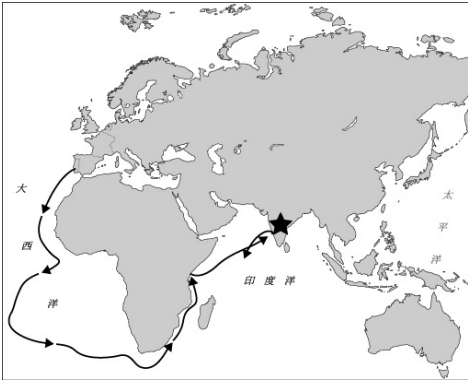
15. 甲企業設立於美國，以臺灣為主要目標市場。我國連鎖賣場相當支持該企業的經營理念，想要大量進口該企業的產品銷售。請問，該連鎖賣場在下列哪一個時間點簽訂購買契約，機會成本會最低？
- (A)甲 (B)乙 (C)丙 (D)丁



16. 乙企業的做法，最可能導致什麼樣的後果？
- (A)降低企業的行銷利潤
- (B)讓消費者能獲得工作的機會
- (C)生產過程忽略人權的保障
- (D)有助於區域經濟的整合發展
17. 他是歷史上第一位從歐洲航海繞過好望角到附圖中「★」貿易的人，為日後葡萄牙對外殖民擴張鋪設道路，是葡

牙成為殖民帝國的功臣之一。請問：他是何人？

- (A)哥倫布
- (B)達伽馬
- (C)麥哲倫
- (D)狄亞士



18. 歷史老師上課拿出了一張地圖(如附圖)，試問當天老師的課程內容可能是什麼？

- (A)十九世紀的日不落帝國
- (B)大航海時代的西班牙帝國
- (C)宗教改革後新教在美洲的勢力範圍
- (D)十六世紀葡萄牙的殖民地



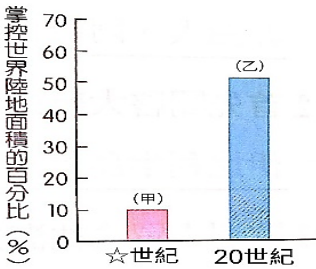
19. 附圖為十八世紀時歐洲興起的城市，這些城市的興起與下列何事的關係最為密切？

- (A)文藝復興
- (B)宗教改革
- (C)海外的拓展
- (D)啟蒙運動



20. 右圖是歐洲在某段時間因經濟軍事力量的增強，掌控的世界陸地面積比例的變化。圖中(甲)部分正是歐洲開始向外擴張的時期，所以☆指的是哪個世紀？

- (A)八
- (B)十
- (C)十四
- (D)十六



21. 16 世紀因西班牙人的殖民入侵，導致右圖中哪些美洲古文明加速滅亡？

- (A)甲乙
- (B)乙丙
- (C)甲丙
- (D)甲乙丙



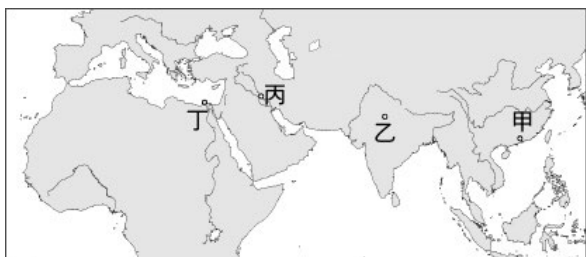
22. 印尼首都雅加達，在十五世紀的中國文書譯為「噶喇吧」，十六世紀時，萬丹王國占領此地，並將這座城市命名為查雅加達 Jayakarta，意思為勝利之城，到了十七世紀，西方人占領此處，並以母國的羅馬拼音法，將這座城市命名為 Batavia，直到印尼獨立後，才根據當地的爪哇語 Jakarta，將名字改為昔日的勝利之城——雅加達。請問：當初將雅加達命名為 Batavia 的外國勢力為附圖何者？
- (A)甲 (B)乙 (C)丙 (D)丁



23. 西元 1505 年，里斯本香料的市場價格僅僅是某地區價格的 1/5，某地區的商人只能絕望的用低於成本的價格拋售貨物。原本亞洲香料是從印度經由地中海東岸或埃及而來，由某地區的商人轉運至歐洲各地，但這條新航路的出現，宣告某地區的商業沒落了。自此以後，葡萄牙人迅速建立

獨佔的市場，每年由里斯本出發東航的船隻多達十數艘。
請問：文中所述，某地區的商人指的是哪裡的商人？
(A)澳門 (B)阿姆斯特丹 (C)印度 (D)威尼斯

24. 巴拉爾某日午後，聽著祖父回憶以前國家輝煌的歷史。祖父說道：「過去我們帝國，出身於中亞的游牧民族，



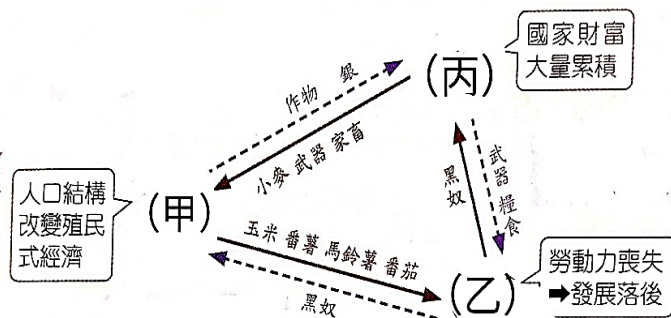
以成吉思汗的後裔自居，創建帝國霸業，建立發達的內部貿易網絡和通用的稅收政策，使城市蓬勃發展。帝國人口的 15% 居住在城市，高於當時的歐洲城市人口比例，且歐洲早期對此帝國的香料、胡椒、靛藍、絲綢、硝石和棉花有大量需求。偉大的君主阿克巴在位時，逐步擴張帝國疆域，經濟一度十分繁榮。雖然我們信奉伊斯蘭教，但阿克巴平等對待帝國內不同信仰。可惜之後，帝國勢力漸衰，最後淪為英國殖民統治。」請問：巴拉爾最有可能來自於圖中的何處？

- (A)甲 (B)乙 (C)丙 (D)丁

25. 高齡 96 歲的英國女王伊莉莎白二世於 2022 年逝世，澳洲當地除了政府表示哀悼之外，部份人士提出趁此機會脫離大英國協，與英國徹底劃清界線的主張：「我們當然對女王和其家人表示哀悼，但澳洲必須向前看，要更重視本地原住民，我們也應該轉變為真正的共和國！」。請問這些人士會有這種與英國劃清界線的論點，以歷史背景來分析正確的是？

- (A)女王在位期間英國政府宣佈正式占領澳洲，無視原住民的權益
(B)英國政府同意讓大批本國移民前往當地開採白銀，使原住民經濟受損
(C)英國政府運送大量原住民前往美洲為奴讓澳洲人民不滿
(D)澳洲原住民因為英國移民的進駐而失去生命和土地，傳統習俗也受到侵害

26. 右圖是大航海時代形成的貿易網路圖，請問甲、乙、丙三區分別指的是？



- (A)歐洲、美洲、非洲 (B)非洲、亞洲、美洲
(C)美洲、非洲、歐洲 (D)美洲、非洲、亞洲

27. 英國皇家海軍上校詹姆斯·庫克，曾經三度奉命出海前往太平洋。雖未找到傳說中「未知的南方大陸」，但他帶領的船員成為首批登陸夏威夷群島的歐洲人，也創下歐洲船隻首次環繞紐西蘭航行的紀錄。以往長時間的航海中，水手容易身患壞血病而身亡，但庫克船長在第一次的探索旅程中，無一人因為壞血病而喪命。這是因為庫克在旅途中給船員提供充足的新鮮食物，尤其是檸檬等含豐富維生素 C 的蔬果。庫克當時先從個別船員觀察實驗狀況，分析得出結論後，推廣到全體船員，並且將實驗結果回報給皇家科學院做大規模的推廣。根據上文，庫克使用的觀察法屬於哪一種科學方法？

- (A)歸根法 (B)演繹法 (C)歸納法 (D)演算法

28. 1530 年，哥白尼完成了他的著作，是一本叫做《小註解》的短文，雖未曾出版，手稿卻在歐洲學者間四處傳閱。任教於威汀堡大學的數學教授雷替克斯閱讀哥白尼的短文深受感動，親自到哥白尼住處拜訪，並一起討論了兩年，在 1543 年出版了手稿，當時立刻轟動整個歐洲。請問該這份

手稿對當時歐洲有何影響？

- (A)其中的「三大運動定律」奠定了近代物理學基礎
(B)提出「日心說」挑戰天主教教會傳統的「地心說」
(C)開啟了歐洲各國積極向海外探險的「大航海時代」
(D)促使人們重新認識並復興古希臘羅馬的知識文化

29. 愛因斯坦是 20 世紀重要的科學家，他曾提出〈相對論〉，其中的理論認為：「時間沒有絕對值。」這個理論最初提出時，受到眾多科學家的抨擊，其中以英國科學家最為激烈，因為這挑戰一位十七世紀英國科學家提出的：「(宇宙中)速度永遠不變，如上帝戒命。」愛因斯坦對此表示：「在一般的情況下，運動力學的確如□□所說，穩定不變，但當速度趨近於光速，時間將會是相對的。」請問：從以上資訊判斷，受到愛因斯坦挑戰的科學家應該是哪位？

- (A)培根 (B)伽利略 (C)哥白尼 (D)牛頓

30. 小佑、小曲、小雯、小瑜四人討論啟蒙時代的思想，哪一個人的說法最接近盧梭的理論？

- (A)小佑：「政府的行政權、立法權和司法權應該分立，發揮彼此制衡的功能，以避免專制獨裁的發生。」
(B)小曲：「人生而自由，人民是國家的主體，政府必須替大眾謀福利，以『公共意志』作為立法的依據。」
(C)小雯：「人生而平等，生命、自由、財產是不可被剝奪的權利，如果政府非法破壞人民權利，人民可以起而反抗。」
(D)小瑜：「質疑教會的權威，抨擊教會的腐敗與迷信，主張宗教寬容及言論自由。」

31. 一位學者說道：「古代的皇帝以至地方官員均集立法、執法(行政)、司法三大權於一身，權力至高無上，無人能挑戰。現代民主國家則將立法、徵稅的權力掌握在代表民意的議會中，將司法權獨立，以防止執法機構(行政權)濫權，美國便在獨立後採取這樣的政府組織型態。」由學者提出的言論可知，此種國家的政府組織型態發揮權力彼此制衡功用。請問：這應該是採納何人提出的論點？

- (A)洛克 (B)盧梭 (C)伏爾泰 (D)孟德斯鳩

32. 詹姆斯·瓦特

(James Watt) 是皇家學會院士，愛丁堡皇家學會院士，也是著名的發明家和機械工程師。瓦特小時候便對一直跳動的水壺蓋感到好奇，長大後，接受格拉斯哥大學的



委託，修理一臺紐科門式蒸汽機的模型，由此開啟瓦特改良蒸汽機的研究之路。他發展出馬力的概念，而今功率的國際標準單位一瓦特亦是以他名字命名。瓦特改良蒸汽機，使地圖中哪一國家成為最早工業化的地區？

- (A)甲 (B)乙 (C)丙 (D)丁

33. 有本書的內容提及：「棉織工廠都是大型建築，工廠主人為了充分利用空間，各樓層都盡量壓低高度……工廠往往晝夜開工，夜間照明須燃燒大量的蠟燭，但幾乎沒有通風設備。因此，在新鮮空氣不足的情況下，工廠裡瀰漫著工人身上的汗臭味以及機油、棉絮、蠟燭等發出的惡濁氣味。……這種惡劣的工作環境導致這個地區傳染病流行，並且造成許多人的死亡。」請問下列哪一學說的出現，曾對上述的現象提出批評，期盼能改善此種情形？

- (A)人文主義 (B)理性主義 (C)社會主義 (D)主權在民

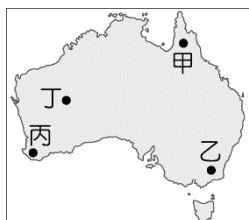
34. 人口數與台灣相當的澳洲，在 2021 年的人均收入高達 6 萬美金，位居全球第九，高於許多富裕的歐洲國家。若要整理出澳洲的經濟發展優勢，下列敘述何者正確？

- (A)鄰近主要市場，產品出口方便
(B)勞工素質極高，研發人才眾多
(C)擁有豐富原料，可成工業發展基礎
(D)位居交通要衝，轉口貿易發達

【第 35~38 題為題組】台灣與紐西蘭不僅在自然環境上有許多相似之處，連文化發展也有相似的族群歷史脈絡，近年兩國更簽署台紐經濟合作協定(ANZTEC)，於諸多領域展開合作。台紐間的產業不僅互補，紐西蘭更有許多強項可供台灣學習。試問：

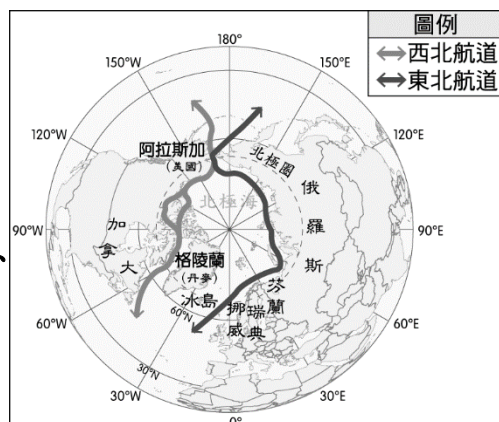
35. 台灣與紐西蘭自然環境的比較，下列敘述何者正確？
 (A)皆位於板塊接觸帶 (B)皆受季風更替影響
 (C)皆位於熱帶氣候區 (D)皆受西風終年吹拂
36. 紐西蘭善於利用自身的環境優勢進行發電，是南半球綠電發展大國，其再生能源運用已達 85%，且大幅降低對石化燃料的依賴。若以紐西蘭的自然環境判斷，下列哪種再生能源於紐西蘭的發電成效最低？
 (A)太陽能發電 (B)風力發電
 (C)地熱發電 (D)水力發電
37. 台灣與紐西蘭因產業互補，簽署的貿易協定對兩國商品往來有極大的幫助，下列紐西蘭出口至台灣的商品中，何者較具競爭力？
 (A)半導體零件 (B)畜牧乳製品
 (C)熱帶水果 (D)油礦原料
38. 台灣與紐西蘭的文化發展有相似的族群歷史脈絡，下列何者最適合用來證明這個說法？
 (A)位重要交通樞紐，同為各國必爭之地
 (B)原住民同為南島語族，語言、建築文化相似
 (C)位於濕潤氣候，擁有相同米食文化
 (D)祖先皆來自鄰近的陸地大國

【第 39~41 題為題組】澳洲是台灣年輕人打工度假的首選之地，每年高達上萬人到澳洲賺取費用，並體會當地的生活與文化。附圖為澳洲簡圖，請根據此圖回答下列問題：



39. 以新鮮海產為主食，搭配蔬果並淋上橄欖油烹調的地中海飲食法，因使用營養價值極高的橄欖油，且能促進新陳代謝與保持血管健康，成為近年來蔚為風潮的飲食文化。若要在澳洲推廣此文化，圖中那個地方最適合？
 (A)甲 (B)乙 (C)丙 (D)丁
40. 餐飲系畢業的年輕人如果想到澳洲打工度假，並計劃開設多家連鎖飲料店，圖中何處的潛在消費市場大，最值得投資？
 (A)甲 (B)乙 (C)丙 (D)丁
41. 圖中甲處是澳洲淡水鱷魚的棲息地，請根據此圖判斷，鱷魚的居住環境何者為真？
 (A)性喜乾燥少雨的荒野灌木叢
 (B)能適應乾濕季節的沼澤水位變化
 (C)生活於終年涼濕多雨的溫帶森林
 (D)常見於高溫多雨的熱帶雨林裡

【第 42~43 題為題組】為能加速貨物點對點之間的傳輸，建造能打通瓶頸的運河是極為有效的手段，但近年來有愈來愈多國家選擇以北極海的東北航道、西北航道為最新的遠航路線規劃。其路線如附圖所示，請問：



42. 這兩條航道的開通，可能與下列何者有關？
 (A)海水平面下降 (B)跨國合作建造
 (C)導航技術進步 (D)溫室效應增強
43. 今年以巴衝突，致使紅海附近的葉門恐怖組織揚言要對往來蘇伊士運河的商船進行炸彈攻擊，促使許多航商只能繞道行駛。若你是航商路線規劃者，為避免衝擊，你會建議下列哪條路線改走東北航道？
 (A)南韓→英國 (B)日本→南非
 (C)巴西→法國 (D)中國→沙烏地阿拉伯

44. 當船隻 6 月行駛於東北航道期間，有機會看到下列哪種動物？
 (A)企鵝 (B)袋鼠 (C)北極熊 (D)珊瑚

45. 自工業革命以來，人類活動已成為影響氣候的主要因素，且造成地球有些年代的溫度較高，更使短時間氣候劇烈變化並顯著的影響地球各國。附圖為世界各國易受氣候變遷的影響程度高低統計分布圖，由圖中資料顯示，易受氣候變遷影響的國家，普遍具有下列項問題？
 (A)人口老化問題嚴重(B)沙漠面積逐漸擴大
 (C)勞工薪資成本較高(D)經濟發展程度不佳

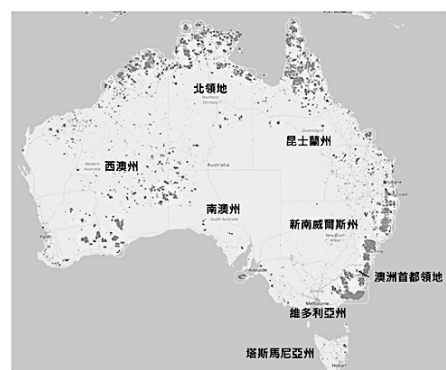


46. 下圖為 2001~2017 的熱帶樹木覆蓋面積的損失統計表，由此可表見熱帶雨林的變化趨勢，此趨勢與下列何者同時期的變化趨勢最為相似？




- (A)全球冰川融化損失面積
 (B)高緯度地區永凍土面積
 (C)全球動植物總量
 (D)全球可利用水資源噸數
47. 東加海底火山(175°W,20°S)於 2022 年 1 月爆發，其爆炸震波不僅傳遍全球，所引發的海嘯更讓許多國家擔憂造成損傷。關於這場火山爆發所造成的影響，下列敘述何者正確？
 (A)爆發地點位於密克羅尼西亞
 (B)珊瑚礁島國易受到海嘯波及
 (C)火山島國農業發展可能嚴重受創
 (D)澳洲地質年輕易發生連鎖地震

48. 右圖為 2019 年 9 月~2020 年 2 月的澳洲野火(圖中灰點)的焚燒範圍，若以圖中資訊與野火日期判斷，下列推論何者正確？



- (A)因降雨較少，野火主要發生於澳洲冬季
 (B)野火在地中海型氣候區分布最廣
 (C)夏雨型暖溫帶的降雨未能減緩野火擴散
 (D)熱帶草原的野火擴散最嚴重
49. 薩摩亞群島為了與紐澳大國經貿往來更即時，於 2011 年宣布更改其國際標準時間的計算標準，讓薩摩亞從全世界每天最後結束的國家，變成每天最早開始的國家之一。試問：薩摩亞之所以可以更改時間計算標準，是因為其鄰近下列哪條重要的經緯線？
 (A)0 度經線 (B)北緯 23.5 度線
 (C)南緯 23.5 度線 (D)180 度經線

50. 附圖是利用 CharGPT 人工 AI 所繪製的一張示意圖。繪製過程需先給予多組關鍵字當提示，以產出所需要的圖示。請問：根據下圖判斷，產出這張示意圖的關鍵字，可能是下列何者？



- (A)珊瑚礁島國—溫室效應
 (B)火山爆發—岩漿肆虐
 (C)過度開發—工業污染
 (D)過度捕撈—魚群匱乏

新北市立新莊國民中學 112 學年度第 1 學期第 3 次段考

9 年級社會領域試題解答

1	2	3	4	5	6	7	8	9	10
C	C	C	C	A	B	D	D	C	D
11	12	13	14	15	16	17	18	19	20
B	D	A	B	A	C	B	B	C	D
21	22	23	24	25	26	27	28	29	30
C	A	D	B	D	C	C	B	D	B
31	32	33	34	35	36	37	38	39	40
D	A	C	C	A	A	B	B	C	B
41	42	43	44	45	46	47	48	49	50
B	D	A	C	D	A	B	C	D	A