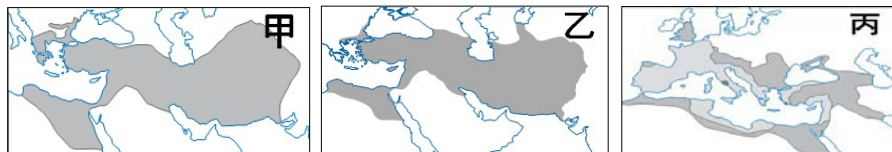


# 新北市立新莊國民中學 108 學年度第 1 學期第 1 次段考 9 年級社會領域試題卷

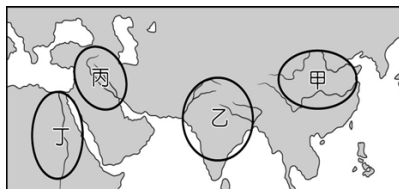
\_\_\_\_班 座號\_\_\_\_ 姓名\_\_\_\_

- ※ 選擇題：本試卷共 50 題，每題 2 分，總分為 100 分。  
 每一題均為單選題，請選出最適當答案。  
 ※ 請用 2B 鉛筆在答案卡上相應的位置畫記。

1. 以下圖片為世界史上曾出現過的三個政權疆域圖，三者的疆域皆曾橫跨歐、亞、非三洲。請問：圖中那一個帝國最後並未走向分裂？  
 (A) 甲 (B) 乙 (C) 丙 (D) 皆走向分裂



2. 怪盜基德重出江湖，在今年於各地博物館先後得手一些重要珍寶，下面那一物件是出自【圖一】的「丁」區？  
 (A) 法老王的黃金面具  
 (B) 乾隆朝的青花瓷  
 (C) 刻有楔形文字的商業契約  
 (D) 濕婆神的雕像



【圖一】

3. 閃亮旅行團來到傳說祖先是被母狼用乳汁餵養長大的羅馬城。一邊聽傳說故事，一邊了解羅馬發展的歷史。有關於以下旅行團員對羅馬的認識，誰的說法「錯誤」？  
 (A) 銀優：我曾經看過法國及西班牙的「水道橋」照片，與羅馬拱門形狀的引水道很相似，可以證明這兩個地方曾被羅馬帝國統治過。  
 (B) 產賀：屋大維被元老院尊稱為「奧古斯都」後，在他和繼承者的努力下，締造了兩百多年的「羅馬和平」。  
 (C) 真祐：狄奧多西皇帝因為帝國版圖太大管理不易，正式將帝國分為東西兩部，沒想到這兩個分裂的帝國先後被外族所滅。  
 (D) 文彬：羅馬在凱撒的領導下，遠征高盧、不列顛，開創羅馬的版圖，使他成為羅馬第一位皇帝；但因獨裁專制，被好友布魯特斯等人暗殺
4. 泰民曾在中國的史書上看到一段記載：「張騫的開通西域(約西元前二世紀)，首開東西接觸之橋樑，使東方的大漢帝國與西方文明得以展開接觸和交往。繼張騫之後，班超(約西元一世紀末)也曾派使者出訪古羅馬，但因種種因素而折返。」若依羅馬歷史的演進，班超派出使者之時，正是羅馬哪個時期？  
 (A) 王政時期 (B) 共和時期  
 (C) 羅馬和平時期 (D) 羅馬帝國末期

5. 「最神聖的部位是嘴巴，食物從此進入，還可以讚頌經典，從神的口中出生的就是「婆羅門」；嘴巴下是強壯的雙臂，他們負責戰役，或是治理國家，也就是「刹帝利」；再下來就是腿的部分，這不是很好的部位，因為要支撐身體，所以「吠舍」要認真工作；最底下的是腳，每天都與泥巴髒污在一起，「首陀羅」就只能從事低下的工作。而在四個階級之外還有「旃荼羅」，也就是俗稱的「賤民」。不同種姓的男女所生的子女會被看成是賤民，賤民不包括在四個種姓之內，最受鄙視，他們從事清潔穢物的工作，譬如洗衣，清掃街道與廁所，搬運垃圾，火化屍體，清理動物的死屍以及由此衍生而來的製革，製鞋，在婚喪中擊鼓等。」根據上文中描述，該制度的形成與特色，何者說法有誤？  
 (A) 一個人出生於何種階級，生來是幸福或是痛苦，乃是前世的行為所決定，而文中的「刹帝利」是指祭司階級  
 (B) 種姓制度階級分明，低的階級要為高的階級服務，不同階級不可以通婚  
 (C) 不同階級的身分、職業是世襲的，不可改變  
 (D) 此制度是阿利安人為了保持純正血統與統治地位而設立的

6. 亞歷山大大帝允許被征服民族繼續保持他們的宗教和風俗習慣。而他也鼓勵士兵與當地女子結婚，自己則娶了波斯公主。請問：在中國歷史上也有統治者推行類似亞歷山大大帝的政策鼓勵通婚，促進民族文化的融合。下列何人可為代表？  
 (A) 漢武帝 (B) 明成祖 (C) 宋太祖 (D) 北魏孝文帝

## 【題組一】(請回答 7-10 題)



【圖二】

7. 歷史老師在課堂上提到：「當時的學生用切斷的蘆葦桿，在柔軟的泥板上刻字，等泥板曬乾後，作業就完成了。」請問：歷史老師所描述的是【圖二】中哪個地區學生的上課情形？  
 (A) ㄅ (B) ㄆ (C) ㄇ (D) ㄏ
8. 在猶太教的經書中提到一塊上帝答應要賜給猶太人的土地，請問這土地在【圖二】中的何處？  
 (A) ㄆ (B) ㄇ (C) ㄏ (D) ㄏ
9. 根據【圖二】回答此題，提示一：這部法典雕刻在石碑上，總共有 282 條條文，全文可分為序言、正文和結語三部分。頒布法典的君王稱此法典是由太陽神傳授給他，所以在法典的序言中聲明：「天神叫道：『○○，值得讚美的人君，諸神的虔敬者，你當使正義廣被四方，你當除滅邪惡，你當教化萬民，你當增進萬民福祉。...』。」提示二：法典第 196 條提到：「如果某人傷害他人之眼，被傷害者，亦得傷害其眼！」。請問：此法典位於圖中何處？  
 (A) ㄆ (B) ㄇ (C) ㄏ (D) ㄏ
10. ㄅ地區的宗教曾經被先知摩尼將此宗教融合了基督教和佛教，後由中亞間接傳入中國，因此被稱為摩尼教。請問：摩尼教是在哪一個朝代傳入中國？  
 (A) 西漢末 (B) 北魏 (C) 唐朝 (D) 元朝

## 【題組二】

泰亨、枉國、碩珍及智旻聚在一起玩卡牌遊戲：「猜猜我是誰？」打發時間。根據遊戲規則每人須輪流抽出提示牌答出正確人物，答錯或未答扣 2 分，答對的話是依照提示牌所給予的提示難易程度給予不同程度之配分，六輪之後根據分數多寡決定勝利者。(請回答 11-14 題)

11. 泰亨抽出以下提示牌，請你協助他答題。提示一：希臘各城邦為爭奪領導權而彼此征戰，最後使得北方的王國興起。提示二：此王國繼承人 20 歲便繼位為國王，上任後他不斷對外征戰，向波斯進軍，又陸續征服了小亞細亞、地中海東岸、埃及、美索不達米亞等地，建立起一個橫跨歐、亞、非三洲的大帝國。請問：文中描述的為下列何人？  
 (A) 凱撒 (B) 屋大維 (C) 亞歷山大 (D) 君士坦丁
12. 輪到枉國答題，他所拿到的提示牌內容如下：提示一：被視為歐洲古代傑出的數學家、物理學家，發現了槓桿、浮力等原理。提示二：其名言為：「給我一個支點，我就能舉起地球。」請問：上述內容是描寫下列何人？  
 (A) 歐幾里德 (B) 亞里斯多德  
 (C) 希羅多德 (D) 阿基米德






# 新北市立新莊國民中學 108 學年度第 1 學期第 1 次段考 9 年級社會領域試題卷

13. 換碩珍抽牌，他拿到的提示牌內容如下：提示一：這位君王在拜占庭建立東都，提示二：他在睡夢中見到空中浮現象徵基督教的十字架，同時有「以此記號征戰」的字樣；於是他帶著飾有十字架的旗幟及盾牌上戰場，終於贏得戰爭，隨後，他頒布米蘭敕令使基督教成為合法宗教。請問：上述內容是描寫下列何人？  
(A) 君士坦丁 (B) 屋大維 (C) 凱撒 (D) 狄奧多西

14. 最後輪到智旻答題，他拿到的提示牌內容如下：提示一：他原是印度北部小國的王子，在 29 歲時出家修行。提示二：因對種姓制度不滿而改革婆羅門教創立了佛教。請問：上述內容是描寫下列何人？  
(A) 摩西 (B) 阿育王 (C) 耶穌 (D) 釋迦牟尼

## 【題組三】

曾老師的學生畢業後，奉行「讀萬卷書更要行萬里路」的宗旨，不忘在旅行途中寄來明信片或 line 照片給她，與她分享旅遊的學習與心情。(請回答 15-16 題)

志豪		老師，這張明信片是荷魯斯之眼及圖坦卡門的黃金面具，是我參觀開羅博物館時買的。猶記得之前最期待上歷史課，特別是世界史，您總是會講很多有趣的故事，至今我都還記得。在您介紹過古埃及的歷史後，我就想前往這神祕的國度探險了，……
詩弦		老師，還記得您告訴我們，羅馬有太多的古蹟值得細細品味，來一次是不夠的，當我也踏上這歷史悠久的古蹟之城後，真的理解到您說的。在來之前我還特別看了奧黛麗赫本主演的《羅馬假期》，跟著電影的場景走過聖天使橋、特雷維噴泉、萬神殿、圓形競技場、真理之口……等。我記得您上課時曾給我們看過您與圓形競技場的合照，所以決定買這張明信片送您。(ps. 老師，排隊進場真的排好久喔！)
佳欣		老師，今年暑假我們全家到希臘旅行，第一站就是首都。在烈日下參觀古蹟真的腦子都變鈍了。看著部分仍在整修的帕德嫩神殿，想起您上課時的介紹，那完美比例所呈現出來的美感，真是建築師的巧思啊。 (巧巧，其實我記得最多的還是您講到神話故事的部分。)
祥恩		老師，我終於鼓起勇氣去乘坐熱氣球了！當清晨熱氣球飛翔在尼羅河上空，飛過河流、稻田、神廟，山谷...，整個底比斯遺跡就在我的腳下時，我的內心超激動的，真的想大叫，但我怕嚇到我旁邊的人。…… (ps. 老師，我太緊張了，這張照片是我家人拍的)

15. 下面敘述何者有誤？

- (A) 志豪和祥恩其實都在同一地旅行，他們應該都會安排一天去古薩參觀三大金字塔，一解金字塔建造的千古之謎。  
(B) 志豪和祥恩猶記得歷史課本上那張死後審判圖，只有通過審判者的靈魂，來到掌管陰間的太陽神跟前，才能獲得復活。  
(C) 祥恩坐熱氣球一覽尼羅河風光後，聽到導遊敘述當地農民因尼羅河定期氾濫，帶來淤泥，使埃及人得以發展出高度的農業文明。  
(D) 志豪明信片上的圖坦卡門黃金面具，其實就是法老死後製成木乃伊，帶著以其生前容貌打造的黃金面具，再安置於人形棺內。而荷魯斯之眼則演變成為法老的守護神。

16. 有關佳欣家旅行的敘述，何者有誤？

- (A) 佳欣一家旅行的第一站是雅典，而帕德嫩神廟所供奉的正是該城的守護神—智慧女神雅典娜。該神廟的建築樣式，展現了均衡、對稱的美感；至今仍屹立不搖的巨大廊柱，總能吸引遊客的目光。  
(B) 佳欣到斯巴達參觀博物館時，看到陶片上有刻字，問了導遊才知道，那是當時此地男性公民採取的「陶片放逐法」—以陶片投票，表決要流放海外十年的危害城邦者。  
(C) 佳欣最有印象的一則希臘神話故事是取自荷馬的史詩伊里亞德，內容講述一顆刻著「獻給最美麗的女神」的金蘋果，因為三位女神的爭奪與特洛伊王子帕里斯的裁判，最後掀起了特洛伊戰爭。在這則神話故事中可以看出，希臘神明和人一樣具有七情六欲，也會爭風吃醋。  
(D) 佳欣在書店看到希羅多德寫的歷史這本書，書中介紹「波希戰爭」之所以能擊敗強敵波斯，靠的就是雅典城邦的領導跟希臘眾城邦的團結。

17. 中南半島的人口主要集中於何種地形？

- (A) 盆地 (B) 臺地 (C) 沖積扇 (D) 三角洲

18. 下列哪個城市的氣候特色與中南半島最為相似？

- (A) 上海 (B) 新加坡 (C) 高雄 (D) 臺北

19. 印尼是台灣外籍勞工的主要來源國之一，該國主要的宗教信仰為何？

- (A) 伊斯蘭教 (B) 天主教 (C) 佛教 (D) 印度教

20. 「東南亞國協」的會員國鄰近臺灣，與臺灣的經貿往來日漸增多，該組織的英文縮寫為何？

- (A) EU (B) ASEAN (C) OPEC (D) APEC

21. 面積狹小的新加坡能成為經濟繁榮的國家，因其位於何海峽出入口的位置？

- (A) 荷莫茲海峽 (B) 博斯普魯斯海峽  
(C) 達達尼爾海峽 (D) 麻六甲海峽

22. 南亞地勢較為低平，人口最多的地區為何處？

- (A) 北部 (B) 中部 (C) 南部 (D) 外島

23. 小明前往南亞旅遊時，覺得天氣又乾又熱又沒有風，很不舒服，小明最有可能是幾月去南亞旅遊？

- (A) 四月 (B) 六月 (C) 八月 (D) 十月

24. 飲料店常見的「錫蘭紅茶」是何國的名產？

- (A) 印度 (B) 孟加拉 (C) 斯里蘭卡 (D) 馬爾地夫

25. 全球電影工業重鎮「寶萊塢」位於何城市？

- (A) 新德里 (B) 孟買 (C) 邦加羅爾 (D) 加爾各答

26. 西亞的地形主體為何？

- (A) 高原 (B) 平原 (C) 盆地 (D) 山地

27. 哪個城市為基督教、猶太教、伊斯蘭教的聖地，宗教地位非凡，但也帶來許多紛爭？

- (A) 耶路撒冷 (B) 麥加 (C) 麥地那 (D) 伊斯坦堡

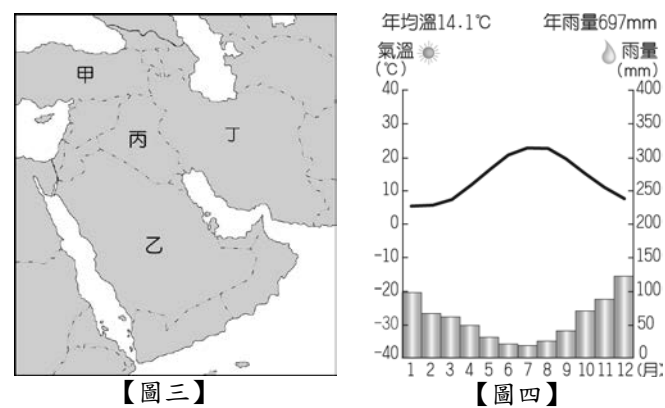
28. 中亞的重要河川錫爾河、阿母河皆流入何處？

- (A) 裏海 (B) 鹹海 (C) 黑海 (D) 紅海

新北市立新莊國民中學 108 學年度第 1 學期第 1 次段考 9 年級社會領域試題卷

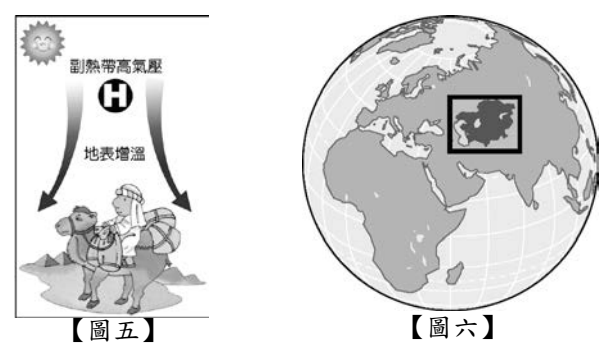
29. 參考【圖三】，何處可見到與中國新疆相似的坎井灌溉設施？

- (A) 甲 (B) 乙 (C) 丙 (D) 丁



30. 【圖四】最有可能是何城市的氣候圖？

- (A) 新德里 (B) 麥加 (C) 伊斯坦堡 (D) 邦加羅爾



31. 【圖五】為某種沙漠的形成原因，何國的沙漠成因不是如此？

- (A) 巴基斯坦 (B) 印度 (C) 伊拉克 (D) 哈薩克

32. 參考【圖六】，此區面臨最嚴重的環境問題為何？

- (A) 地層下陷 (B) 水土流失  
(C) 冰河消融 (D) 土壤鹽鹼化。

33. 承上題，該環境問題與何種農作物的種植密切相關？

- (A) 咖啡 (B) 可可 (C) 棉花 (D) 黃麻。

34. 下列有關「資源稀少」的敘述，何者正確？

- (A) 富裕的人，不會有資源稀少的問題  
(B) 乾淨的水及空氣是無限的  
(C) 資源稀少是相對於人類欲望無窮而言，並不是指總數量的多寡  
(D) 因為資源稀少，所以選擇時不須付出代價

35. 兩名大學生想創業，突發奇想為寵物製作生日蛋糕，並在網路上販售，結果訂單源源不絕。他們在接受訪問時說：「我們兩個人自己接單、製作，所以沒什麼成本，利潤還不錯。」請問：下列敘述何者錯誤？

- (A) 利潤的定義是指銷貨收入扣除生產成本  
(B) 利用網路招攬生意，可以降低地租等生產成本  
(C) 兩人自己製作蛋糕，也要把個人薪資算入生產成本  
(D) 兩人為了創業而喪失的讀書時間，不屬於機會成本

36. 下方表格為志明分析四個工作的機會成本，但有一格被咖啡污漬擋住了，請問格子裡的數字不可能是？

- (A) 40000 (B) 42000 (C) 44000 (D) 46000

工作機會	薪水	機會成本
醫療管理	45000	50000
企劃行銷	43000	50000
科技公司	50000	45000
保險業務	?	50000

37. 立法院針對豪宅、遊艇、精品珠寶等開徵奢侈稅，原本相關業者擔心買氣會遭受影響，然而這些價格令一般人望之卻步的商品，高所得者仍爭相購買，這個現象與下列哪個經濟學上的概念相符？

- (A) 機會成本 (B) 外部效果  
(C) 需求法則的例外 (D) 供給法則的例外

38. 今年年初觀光局推出了春遊專案，9 月開始「擴大秋冬國民旅遊計畫」，透過補助國內旅遊，希望能帶動台灣地方觀光，各地方飯店業者紛紛推出優惠方案，搶補助商機大餅。下表是某飯店房價資料，根據表中資料，若不考慮其他條件，哪一個時段在飯店推出優惠方案前的住房率最低？

- (A) 甲 (B) 乙 (C) 丙 (D) 丁

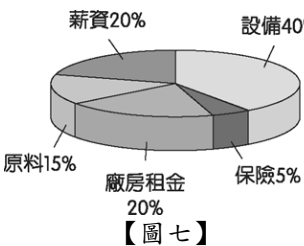
時段	原本房價(元)	優惠房價(元)
甲	4000	2800
乙	4000	2000
丙	4000	3600
丁	4000	3000

39. 專賣特色背包的店家最近推出不同的宣傳口號和促銷手法，請問：下列哪段敘述運用了需求法則的概念？

- (A) 『擁有這款型男包，讓你走在時尚的尖端』  
(B) 『年終獎金即將入袋，何不趁此時好好犒賞自己一番』  
(C) 『避免在路上經常與人「撞包」的窘境，趕快搶購本店專屬訂製款』  
(D) 『選購第二項商品現打八折，讓你行頭美、荷包也美』

40. 【圖七】是一家棉襪工廠各項生產成本的比例圓餅圖。請問：在圖中生產成本的比例中，可以發現其中哪一項生產要素支出比例最高？

- (A) 資本  
(B) 人力資源  
(C) 自然資源  
(D) 企業才能



41. 新莊國中即將舉辦九年級畢業旅行，由旅行社承辦學校畢業旅行相關事宜。三天兩夜的行程大致上有劍湖山樂園、台江國家公園、十鼓文化園區、義大遊樂園，並住宿王子飯店以及義大飯店。針對這次的畢業旅行，下列何者的身分符合經濟學上的『生產者』？

- (A) 義大飯店的餐廳廚師 (B) 遊覽車司機  
(C) 飯店的董事長 (D) 旅行社團輔

42. 【甲】發布新聞稿表示，107 年 11 月南部地區出現短暫砂石短缺，5 家業者於 12 月中旬發布通知書給下游業者，通知書上均記載自 108 年 1 月 1 日起調漲預拌混凝土售價每立方公尺 200 元至 280 元，不僅調漲日期相同、調漲數額及漲幅相當、通知調漲時間相近，此一致性很難由 5 家業者各自調整價格行為所形成，不具經濟合理性。5 家業者聯合調漲價格的行為違法，國產、台泥各罰新台幣 2000 萬元，5 家合計罰 6000 萬元。請問：開罰的【甲】單位應為下列何者？

- (A) 消費者服務中心 (B) 公平交易委員會  
(C) 消費者保護處 (D) 消費者文教基金會

新北市立新莊國民中學 108 學年度第 1 學期第 1 次段考 9 年級社會領域試題卷

43. 罐頭工廠可以生產四種產品，但同一時間只能生產一種產品。下表是該工廠製造豬肉、牛肉、羊肉、雞肉四種罐頭產品的產能與獲利評估分析，若只考慮獲利情形，應該生產哪一種產品為佳？
- (A) 豬肉罐頭 (B) 牛肉罐頭 (C) 羊肉罐頭 (D) 雞肉罐頭

產品	產量(打/小時)	成本(元/個)	售價(元/個)
豬肉罐頭	12	10	30
牛肉罐頭	10	15	50
羊肉罐頭	20	40	80
雞肉罐頭	15	28	70

【題組四】

知名直播主連千毅近來涉入恐嚇、砸場等案件，掀起高雄治安風暴遭逮捕到案。過去他以黑色幽默或嗆辣的語調直播競標，例如：要求得標者「馬上私訊、馬上匯款、馬上出貨、不可棄標...，曾創下千萬保時捷在 59 秒賣出紀錄，就連直昇機或遊艇也都賣過。這股直播拍賣熱潮，大多是透過名人網紅以「降價出清」、「零元競標」、「下殺半價僅限今天」等策略吸引消費者購買，然而民間團體檢視多家直播拍賣業者，發現超過七成商家註明賣出商品不得退貨，明顯違反法律的七天退換貨規定，民間團體呼籲中央主管機關應成立專案，稽查直播現場的網頁標示內容、商品品質等項目進行調查與取締，以導正網路歪風。(請回答 44-46 題)

44. 文中指的法律最有可能是下列何者？  
 (A) 憲法 (B) 民法 (C) 公平交易法 (D) 消費者保護法
45. 文中民間團體所呼籲的中央主管機關最有可能是下列何者？  
 (A) 消費者服務中心 (B) 消費者保護處  
 (C) 消費者文教基金會 (D) 公平交易委員會
46. 若真遇到消費糾紛，消費者可撥打 1950 服務專線尋求協助，系統將依其所在地，轉接至直轄市、縣(市)政府附屬的何處？  
 (A) 消費者服務中心 (B) 消費者保護處  
 (C) 消費者文教基金會 (D) 公平交易委員會

【題組五】

善心國中舉辦校慶慈善園遊會，九年甲班經班會表決，決定販售炒泡麵及乾冰汽水，並捐出利潤的 50% 作公益，其餘留做班費。總務股長在活動結束後，列出收支明細表如下。(請回答 47-48 題)

採買項目	價格	販售項目	單價	賣出量
食物材料費	3000 元	炒泡麵	30 元/碗	150 碗
杯碗餐具費	300 元	乾冰汽水	25 元/杯	200 杯
場地布置費	200 元			

47. 九年甲班在此次園遊會後，將捐出多少善款？  
 (A) 3000 元 (B) 4000 元 (C) 5000 元 (D) 6000 元
48. 隔壁九年乙班決定賣紅茶及奶茶，已知紅茶每杯成本 10 元，售價 20 元，銷售 300 杯；奶茶每杯成本 15 元，銷售 150 杯。如果九年乙班希望和九年甲班有相同的利潤，請問奶茶每杯應賣多少錢？  
 (A) 25 元 (B) 30 元 (C) 35 元 (D) 40 元

【題組六】

有火鍋界 LV 之稱的「橘色涮涮屋」，除了是第一個請國際級日本設計師裝潢餐廳，第一家全面採用高檔肉品與活水海鮮為火鍋涮料，第一家代客剝蝦蟹去殼外，「橘色涮涮屋」也是第一個在客人吃完了火鍋後，利用鍋中剩下湯頭煮粥的鍋物餐廳，這些市場創舉讓「橘色涮涮屋」成了頂級精品火鍋領導品牌。袁姓老闆在經營之初即鎖定頂級客群，因為這些人人脈廣、見識多，透過優質服務，讓名人熟客一再光顧，因此每月的營業額可破八、九百萬元，保守估計年營業額破億，今年更跳脫街邊店的經營模式，正式進駐人潮眾多的信義商圈，提供美食饕客們更多優質時尚聚餐場所的選擇。(請回答 49-50 題)

49. 依文章所述，這是說明生產者在生產時考慮的何種課題？  
 (A) 如何生產 (B) 為誰生產 (C) 何時生產 (D) 生產什麼
50. 依文章所述，每月八、九百萬元高營業額在經濟學上的意涵為？  
 (A) 高生產成本 (B) 高利潤  
 (C) 高投資金額 (D) 高銷貨收入

新北市立新莊國民中學 108 學年度第 1 學期第 1 次段考 9 年級社會領域試題  
解答

1	2	3	4	5	6	7	8	9	10
<b>B</b>	<b>A</b>	<b>D</b>	<b>C</b>	<b>A</b>	<b>D</b>	<b>B</b>	<b>C</b>	<b>A</b>	<b>C</b>
11	12	13	14	15	16	17	18	19	20
<b>C</b>	<b>D</b>	<b>A</b>	<b>D</b>	<b>B</b>	<b>B</b>	<b>D</b>	<b>C</b>	<b>A</b>	<b>B</b>
21	22	23	24	25	26	27	28	29	30
<b>D</b>	<b>B</b>	<b>A</b>	<b>C</b>	<b>B</b>	<b>A</b>	<b>A</b>	<b>B</b>	<b>D</b>	<b>C</b>
31	32	33	34	35	36	37	38	39	40
<b>D</b>	<b>D</b>	<b>C</b>	<b>C</b>	<b>D</b>	<b>D</b>	<b>C</b>	<b>B</b>	<b>D</b>	<b>A</b>
41	42	43	44	45	46	47	48	49	50
<b>C</b>	<b>B</b>	<b>C</b>	<b>D</b>	<b>B</b>	<b>A</b>	<b>A</b>	<b>C</b>	<b>B</b>	<b>D</b>