

新北市立新莊國民中學 110 學年度第 1 學期第 2 次段考 7 年級社會領域試題卷

班級 座號 姓名

※ 選擇題：本試卷共 50 題，每題 2 分，總分為 100 分。
每一題均為單選題，請選出最適當答案。

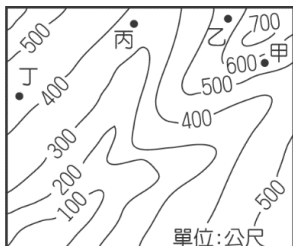
※ 請用 2B 鉛筆在答案卡上相應的位置畫記。

1. 世界主要地形中，臺灣缺乏何者？
(A)山地 (B)丘陵 (C)平原 (D)高原

2. 鄰近新莊的林口地勢較高，以何種地形為主？
(A)平原 (B)丘陵 (C)台地 (D)盆地

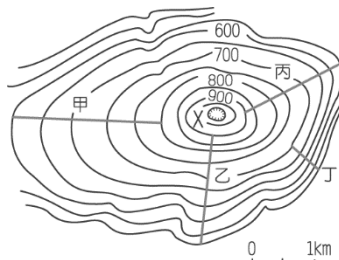
3. 臺灣的離島中，何者的成因為外營力？
(A)琉球嶼 (B)澎湖 (C)龜山島 (D)綠島

4. 參考右圖，何處的地勢最低？
(A)甲
(B)乙
(C)丙
(D)丁



5. 承上題，若地圖中有河川且地圖上方為北方，河川的流向為？
(A)東北 (B)東南 (C)西北 (D)西南

6. 參考右圖，若要修築登山步道，何路線的坡度最平緩？
(A)甲
(B)乙
(C)丙
(D)丁



7. 位於臺北市、新北市南方的山脈為何？
(A)中央山脈 (B)雪山山脈
(C)海岸山脈 (D)阿里山山脈

8. 下列何處位於平原地形？
(A)臺北 (B)高雄 (C)基隆 (D)埔里

9. 下列關於岩岸的敘述，何者錯誤？
(A)適合曬鹽 (B)海岸平原較窄
(C)海水較深 (D)適合興建港口

10. 下列港口中，何者是利用岬灣海岸地形興建而成？
(A)臺中港 (B)花蓮港 (C)基隆港 (D)高雄港

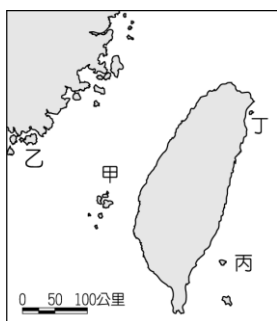
11. 右圖為位於臺南，現已不存的臺江內海，其位於何種海岸？
(A)岬灣海岸
(B)沙岸
(C)珊瑚礁海岸
(D)斷層海岸



12. 蘇花公路、清水斷崖附近風景壯闊，為知名觀光景點，該處的山地為何山脈？
(A)中央山脈 (B)海岸山脈 (C)雪山山脈 (D)玉山山脈

13. 蚵仔是臺灣常見的海產，蚵仔煎、蚵仔麵線都是美味的小吃，蚵仔主要養殖於何種海岸？
(A)珊瑚礁海岸 (B)斷層海岸 (C)岬灣海岸 (D)沙岸

14. 參考右圖，四個離島中何者為大陸島？
(A)甲 (B)乙
(C)丙 (D)丁



15. 承上題，何者為綠島？
(A)甲 (B)乙
(C)丙 (D)丁

16. 下列離島中，何者的緯度最低？

(A)龜山島 (B)蘭嶼 (C)東沙島 (D)太平島

17. 七年甲班的同學正在複習第二次段考公民科的重要概念，下列幾位同學分別提出一個重要概念並舉例。請問：下列哪一個選項是正確的？

丁丁	社會化	歐美學界擔心學生模仿韓國魷魚遊戲的暴力情境，禁止學生扮演劇中角色慶祝萬聖節。
小蘭	社會性別	生物老師說：每個人出生時，因為染色體的差異，會被區分為男性和女性兩種性別。
阿燁	高齡化社會	臺灣已邁入高齡化社會，65 歲以上人口(老年人口)占總人數 14% 以上。
美涵	保護令	禁止家庭暴力加害人繼續施暴、不得靠近及騷擾被害人等。

(A)丁丁、美涵 (B)小蘭、阿燁
(C)阿燁、美涵 (D)小蘭、美涵

- 18.

下面是某私人公司中兩名員工對話的內容：

小羅：我老婆生完一對雙胞胎寶貝，目前正在坐月子，她產假完想回職場工作。我老婆賺得比我多，請保姆或托嬰的費用比我薪水還高。已經在公司工作五年了，我考慮是否自己來體驗當奶爸的樂趣。
李姊：最近我公公身體不太好正在住院，我和我先生及小叔打算輪流照顧，勢必也要向公司請個假。

請問：根據上述兩人的對話內容，下列相關敘述何者正確？

- (A)小羅和李姊現階段皆可請家庭照顧假
(B)小羅在孩子 2 歲前可請育嬰假
(C)小羅和李姊皆可依《性別工作平等法》的規定滿足自己請假的需求
(D)李姊應負擔較多家庭照顧的責任

19. 根據新聞報導：一名老翁指控自己收養的一雙子女不肯支付每月的孝親費，任自己生活陷入困境，因而向法院提告。但最後判決結果出爐，判決老翁敗訴，兒女不需支付孝親費用。依據《民法》的相關規定研判，下列何者最為可能？
(A)老翁與子女無血緣關係，故子女不需負擔孝親費用
(B)老翁的妻子應負擔照顧配偶的責任
(C)老翁年輕時可能未善盡為人父親的責任
(D)子女可能未約定從父姓

20. 下圖為家庭暴力行為的樣態，受害的家庭成員可依【甲】的規定，向【乙】聲請保護令的核發。對於經常使用暴力的父母，依據【丙】的規定，【丁】可以宣告限制或禁止父母行使親權。請問：【甲】【乙】【丙】【丁】依序為下列何者？



- (A)家庭暴力防治法、法院、家庭暴力防治法、法院
(B)家庭暴力防治法、法院、民法、法院
(C)民法、法院、家庭暴力防治法、法院
(D)家庭暴力防治法、警察單位、民法、社會局

背面尚有試題

21. 侑侑在公民課時書寫習作，題目是民法修正前後的比較表，參考理由為(甲)基於性別平權(乙)考量兒童人權，若依題號順序填入正確答案，侑侑得到了滿分。下列何者為其所書寫的答案？

修正理由	項目	有關民法親屬編修正	
		修正前規定	修正後規定
1.	生活費	由夫負責	各依其經濟能力共同分擔
2.	子女姓氏	子女從父姓	由父母雙方協議之
3.	未成年子女親權	由父行使之	由父母共同行使負擔
4.	當父母親對教養子女之間意見不一致時，以子女最佳利益為考量		

- (A)甲甲甲乙 (B)甲甲(甲和乙)甲
(C)甲乙乙乙 (D)甲甲(甲和乙)乙

22. 2020 年政府發放振興三倍券，兒童福利聯盟發現兒童及少年和父母對於振興券的使用有些衝突。當時調查發現，85%的青少年對於振興券的使用已經有一些想法，最多的是購買生活用品(45.4%)，其次是娛樂消費(13.9%)，可能和父母親的規畫不同。為避免這類衝突的出現，兒童福利聯盟建議家長可以跟孩子做進一步的討論，如消費觀念、財務規劃等概念的建立，是相當好的時機。請問：兒童福利聯盟的建議是家庭何項功能的發揮？
(A)經濟 (B)教育 (C)保護與照顧 (D)養育

23.

新冠肺炎全球大流行，多數民眾因為隔離或在家工作，造就了所謂「新冠離婚」的高峰。主因是即使男性在家時間變長，多數女性仍承擔疫情期間沉重而瑣碎的家庭事務和照顧責任，紛紛選擇與自己的丈夫分道揚鑣。

請問：根據上述，何者最不可能為導致「新冠離婚」的原因？

- (A)家務勞動分配不均
(B)雙薪家庭所面臨的挑戰
(C)家務勞動應該是有價值的
(D)職場為學習性別平權的重要場所

【第 24 至 25 題為題組】

妮妮在日記中寫道：小時候爸媽因為工作的關係將她留在鄉下和爺爺奶奶一起生活。

等到家中經濟好轉，爸媽把她和爺爺奶奶一起接到都市生活。

學校舉辦著祖父母節相關的活動，讓她想起在鄉下那段和祖父母相伴悠閒愜意的童年時光。



24. 請問：妮妮所經歷的家庭模式依序為何？

- (A)兩地家庭、主幹家庭
(B)隔代教養家庭、主幹家庭
(C)兩地家庭、折衷家庭
(D)隔代教養家庭、核心家庭

25. 妮妮思索著，哪些方式能讓大家的祖父母，除了節日外也能安心過生活？

- (甲)完善長期照護制度的落實 (乙)鼓勵三代同鄰
(丙)修改延後退休的年齡 (丁)提供到宅服務或日間照顧
(A)甲乙丙 (B)甲乙丁 (C)乙丙丁 (D)甲丙丁

【第 26 至 27 題為題組】

新聞報導一則摘錄：

「同志收養要平權！」

民團籲修法釋憲：收養家庭「不分異同」

臺灣在 2019 年通過同婚專法，第 20 條限制同性配偶只能收養配偶之「親生子女」，因此已婚同志無法一起收養無血緣子女，民間團體籲修法釋憲，期待大法官可以針對同婚專法的相關規定，追求憲法上的平等權、家庭權與收養自由，依據兒童最佳利益作出解釋。

說明：同性伴侶成為配偶，是依據俗稱「同性婚姻專法」的《司法院釋字第 748 號解釋施行法》進行登記。

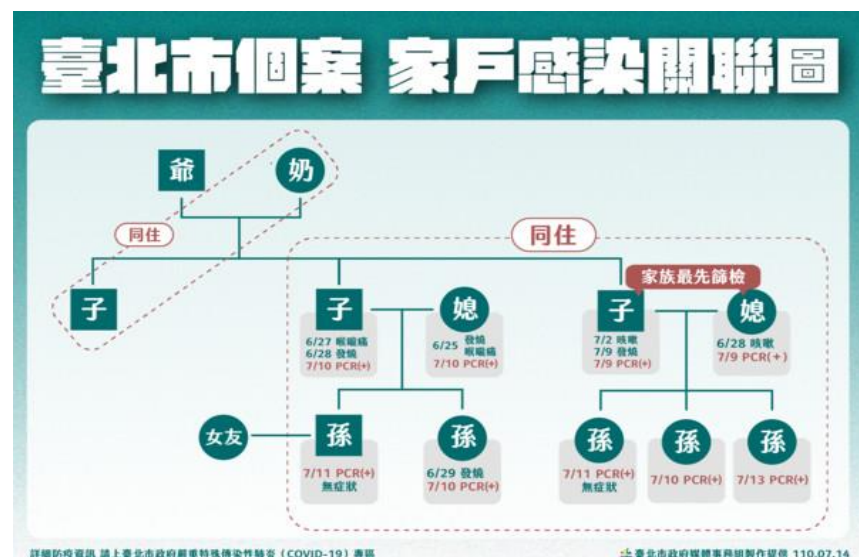
26. 同志團體要求和異性配偶擁有同樣收養的權益，請問：關於異性配偶收養的說明，下列何者正確？

- (甲)又稱為擬制血親，在法律關係上仍有別於自然血親
(乙)為養父母與養子女的關係
(丙)必須向法院提出聲請
(丁)透過法律程序建立的親子關係
(A)甲乙丙 (B)甲乙丁 (C)乙丙丁 (D)甲乙丙丁

27. 根據同婚專法第 20 條限制同性配偶任何一方只能收養他方配偶之「親生子女」，意指同志家庭可能成為下列哪一種家庭模式？

- (甲)重組家庭 (乙)繼親家庭 (丙)兩地家庭 (丁)擴展家庭
(A)甲乙 (B)甲丙 (C)乙丙 (D)乙丁

【第 28 至 29 題為題組】



28. 上圖是臺北市某日新冠肺炎疫情家戶感染的狀況。依照上圖所有的親屬，就有女友的孫子來看，與他有直系血親、旁系血親、姻親關係的親屬依序各有幾人？

- (A) 3、4、2 (B) 4、6、1
(C) 2、1、2 (D) 4、4、0

29. 請問：在上圖中，就這個家族而言，媳婦的稱謂除了妻子和母親外，最有可能為下列何者？而其與母親稱謂的關係為何？

- (A)伯母、妯娌 (B)阿姨、連襟
(C)孀孀、法定血親 (D)姑姑、妯娌

繼續作答下張試卷

新北市立新莊國民中學 110 學年度第 1 學期第 2 次段考 7 年級社會領域試題卷

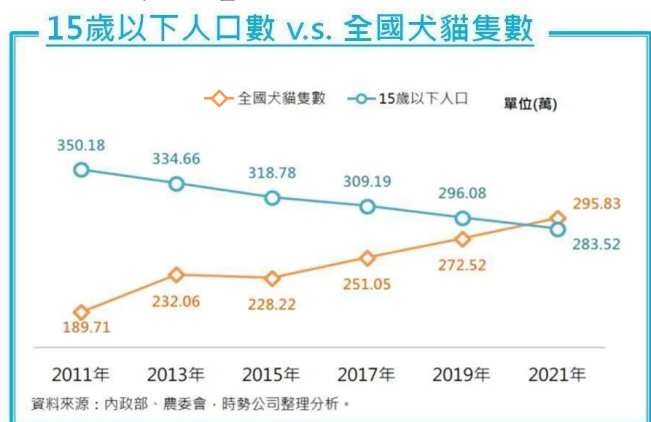
班級 _____ 座號 _____ 姓名 _____

【第 30 至 31 題為題組】



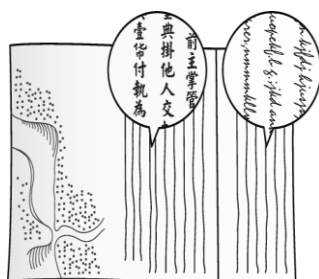
30. 2020 年臺北市一名婦人因婆媳長期失和，疑在不堪言語暴力之下，在個人臉書留下一封〈我的婆婆殺了我〉的控訴文並尋短見，進而引發社會關注。有民眾便於上圖所示的公共政策網路參與平臺提案。請問：依據我國法律相關規定判斷，婆婆對媳婦的言語暴力，下列敘述何者正確？
 (A)依《民法》規定，婆婆的行為可能濫用親權
 (B)身體上的傷害才會構成家庭暴力
 (C)言語暴力也會構成精神上的傷害也可能構成家庭暴力
 (D)婆婆的身分不屬於家庭暴力的規範對象。
31. 請問：關於公共政策網路參與平臺所提案的《姻親專法》，下列何者符合提案所規範的對象？
 (甲)岳父 (乙)親家 (丙)孀孀 (丁)堂姊
 (A)甲乙 (B)甲丙 (C)乙丙 (D)乙丁

【第 32 至 33 題為題組】



32. 請問：根據上圖最能說明下列哪一個現象？
 (A)社會救助的迫切 (B)家庭功能的變化
 (C)社會變遷的緩慢 (D)人口外移的快速
33. 請問：若要改變此現象繼續發展下去的趨勢，下列何項作為較為適宜？
 (A)禁止犬貓飼養的數量
 (B)鼓勵男性參與家務勞動的比率
 (C)開辦長期照護人才的培訓
 (D)營造有利的生育、養育與教育的環境
34. 17 世紀某個國家的人來到臺灣南部，在各社設立教堂及學校，從原住民學校作息表中，發現他們的學科活動包含由副校長用「原住民語言」講授教義，在用餐前由學生輪流擔任祈禱者輪讀聖經。根據 17 世紀臺灣原住民與西方人相處情況，下列敘述何者正確？
 (A)上述提及的「原住民語言」是指凱達格蘭族語
 (B)禱告的聖經內容是用羅馬字母拼寫而成
 (C)此處的外國人為西班牙人
 (D)講授教義，教義是指天主教的教義

35. 阿妙是清領時期來臺的漢人，他和當地原住民買賣土地，土地契約如附圖所示，他發現圖中右側原住民的文字不是漢字，而是像外國人一樣橫式書寫。請問：與阿妙買賣土地的原住民，可能居住在下列何處？



- (A)臺東 (B)宜蘭
 (C)澎湖 (D)臺南

36. 熱蘭遮城日誌曾記載：「公司依例舉行儀式，士兵先以步槍對空鳴槍三次，繼由赤崁城、熱蘭遮城、臺江內海的一艘快艇，以大炮鳴放禮炮，以壯聲威；南路 88 個村舍的長老依序入座，……之後，照例宣讀公司的重要規定、長老職責、權杖意涵等等。」根據上述內容，請問：內容中提及的「公司」應是由誰管理？
 (A)鄭氏政權 (B)清帝國政府 (C)西班牙人 (D)荷蘭人

37. 資料一：清代《番俗六考》
 「沙轆（今臺中市沙鹿區的舊稱）番，原有數百人，為最盛，後為劉國軒（鄭氏將領）殺戮殆盡，只餘六人，潛匿海口。」
 資料二：清代郁永河《裨海紀遊》
 「鄭氏繼至，立法尤嚴，誅夷不遺妻子……。今大肚、牛罵（今臺中市清水區的舊稱）、大甲、竹塹（今新竹地區的舊稱）諸社，林莽荒穢不見一人……。」
 請問：根據上述兩則記載原住民族與統治政權的史料，下列敘述何者錯誤？
 (A)上述衝突造成原住民大量傷亡
 (B)大肚王在當地統轄跨部落聯盟
 (C)此文章可看出鄭氏政權採武力鎮壓處理
 (D)鄭氏強調不可侵占原住民土地成效極佳

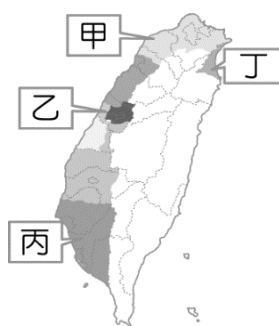
38. 蒲特曼斯（Hans Putmans）是第四任的荷蘭臺灣長官，他曾親率 500 名士兵分成七隊及 500 名○○社原住民攻打麻豆社，並下令燒毀所有住家，房子全燬，麻豆社終於投降，並簽訂《麻豆協約》。請問文中「○○社」應填入？
 (A)牡丹社 (B)大肚社 (C)新港社 (D)霧社

39. 清朝文人筆記中記載了一段臺灣平埔族人的觀感：「紅毛強，犯之無噍類，鄭氏來，紅毛畏之逃去，今鄭氏又為皇帝剿滅，盡為臣虜，皇帝真天威矣。」原住民口中的皇帝和代天行威的人物分別為何者？
 (A)順治皇帝、鄭成功 (B)康熙皇帝、施琅
 (C)康熙皇帝、吳三桂 (D)萬曆皇帝、沈有容

40. 在西班牙神父耶士基佛提出的報告中曾提到：「這群人不耕種也不收穫，生活得更像游牧民族或生意人；行走於一個村子到另一個村子之間，為村人修理房子、弓箭、衣服和手斧。因為不耕種，所以他們到各個村落去購買稻米、玉米作為食物。……而不像其他土著一般種植。」請問：耶士基佛觀察到的族群最有可能出現於附圖中何處？
 (A)甲 (B)乙 (C)丙 (D)丁



41. 臺灣部分原住民曾一度發展出跨越部落的「準王國」組織，其中最受重視的是某平埔族所建立的「準王國」，該「王國」在荷據時期與明鄭時期都曾以武力的方式反抗執政當局。請問這個「王國」位於右圖中何處？
 (A)甲 (B)乙
 (C)丙 (D)丁



42. 清嘉慶年間，福州將軍來臺平定海盜蔡牽，他擔憂「該地」若無設官治理，將遭到海盜侵占，於是向皇帝報告「該處膏腴為蔡逆（即蔡牽）窺伺。」嘉慶 14 年，閩浙總督也奏請將「該地」納入版圖，至嘉慶 17 年正式核定設廳。請問：以上敘述應是臺灣哪個行政區劃設立的過程？
 (A)淡水廳 (B)澎湖廳 (C)卑南廳 (D)噶瑪蘭廳

背面尚有試題

新北市立新莊國民中學 110 學年度第 1 學期第 2 次段考 7 年級社會領域試題卷

班級 座號 姓名

43. 重修臺灣縣志記載：「客頭夥同不肖船家，用溼漏小船載運數百人，並讓他們全擠入艙中，將艙蓋封釘，不讓這些人出來。船隻乘著黑夜出洋，若遇到大風浪，可能會船翻人亡。快到岸時，擔心被人發覺，因此靠近沙岸時，就會將人群趕下船，稱為『放生』」。請問：上述這段情境的發生與下列何者最為相關？
 (A)渡臺禁令 (B)劃界封山 (C)開山撫番 (D)牡丹社事件

44.



苓雅國中的學生想研究清帝國時期臺灣所實施的措施，於是找到了一張臺灣建設示意圖，如上圖所示，由圖中的內容加以判斷，當時實施此種建設的目的為何？
 (A)促進西部交通的順暢 (B)達到開山撫番的效果
 (C)強化臺灣的軍事防務 (D)增加在臺的財政收入

45. 西元 18 世紀時，有一位歐洲貴族乘船漂流至臺灣某地區，發現清廷並未在該地區設置廳、縣治理，因此當他返回歐洲後，大力遊說各國派兵來此區建立殖民地。上述「未設置廳、縣治理」的地區，最可能是圖中甲、乙、丙、丁何處？
 (A)甲 (B)乙
 (C)丙 (D)丁



46. 歷史博物館展出某一政權派員繪製的臺灣地圖。圖中特別用紅線標界，地圖上方標明群山名稱與生番各部落的位置。請問：派員繪製此圖的統治者，最有可能是臺灣史上哪一時期的統治者？



- (A)鄭氏時期 (B)荷西時期的西班牙
 (C)荷西時期的荷蘭 (D)清帝國時期

47. 台中市石岡區「土牛民番地界碑」是全臺唯一保存的土牛線紀念物。因具見證臺灣開發史意義重大，今年 6 月獲文化部古物審議會審議通過指定為「重要古物」，未來可獲中央較多維護及維修經費。碑體陰刻「奉憲勘定地界」，共堆土牛一十九個。每土牛長二丈(約 6.6 公尺)，底闊一丈(約 3.3 公尺)，高八尺(約 2.7 公尺)，頂寬六尺(約 2 公尺)。每溝長一十五丈(約 50 公尺)，闊一丈二尺(約 4 公尺)，深六尺(約 2 公尺)。目前此碑置放在石岡區土牛國小內。關於上述報導中的名詞「土牛」及「土牛溝」的敘述，以下何者正確？
 (A)土牛溝是荷蘭治臺時期為了隔離漢人和原住民，方便政府統治管理所挖掘的
 (B)土牛溝挖掘後，有效保護了原住民的生活區域
 (C)土牛溝的挖掘有不斷向山區移動的現象
 (D)土牛溝的挖掘是因為清朝實施渡臺禁令

48. (中央社新聞報載)『淡海輕軌第一期藍海線於 15 日通車，新增設台北海洋大學站、沙崙站與淡水漁人碼頭站，行經■■■■戰爭滬尾古戰場城岸遺跡，以博物館為概念，透過柱體、畫作及鏤雕等設計，出、入口還藏有「船舶」、「砲彈」等圖樣小巧思，呈現當年激烈戰況。依各站與歷史場景相對關係而各有主題，「台北海洋大學站是戰事整備、沙崙站是戰爭、漁人碼頭是封鎖線」，3 站體總計 15 幅畫，可單獨看也具連續性敘事。』請問，上述新聞報導中的■■■■戰爭是指？
 (A)牡丹社事件 (B)施琅攻臺
 (C)英法聯軍 (D)清法戰爭

49. 請問行政區劃分由左圖轉變為右圖，是在下列何種情況後形成的？



- (A)施琅攻臺 (B)臺灣發生民變
 (C)清朝將臺灣納入版圖 (D)吳沙帶領漢人開墾

50. 佑恩挑戰臺灣桌遊闖關遊戲，要將下面四張卡片按照時間先後順序擺放，請問下列何者正確？

(甲)牡丹社事件	(乙)台灣建省
(丙)開港通商	(丁)增設噶瑪蘭廳

- (A)甲乙丙丁 (B)丁丙甲乙 (C)丙甲丁乙 (D)丙丁乙甲

試題結束

新北市立新莊國民中學 110 學年度第 1 學期第 2 次段考 7 年級社會領域試題
解答

1	2	3	4	5	6	7	8	9	10
D	C	A	C	D	A	B	B	A	C
11	12	13	14	15	16	17	18	19	20
B	A	D	B	C	D	A	C	C	B
21	22	23	24	25	26	27	28	29	30
A、D	B	D	B	B	C	A	B	A	C
31	32	33	34	35	36	37	38	39	40
B	B	D	B	D	D	D	C	B	A
41	42	43	44	45	46	47	48	49	50
B	D	A	B	D	D	C	D	B	B