

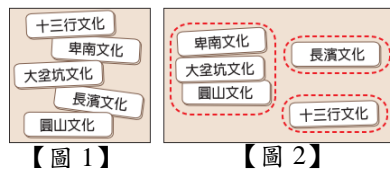
新北市立新莊國民中學 108 學年度第 1 學期第 1 次段考 7 年級社會領域試題卷

班 座 號

姓名


- ※ 選擇題：本試卷共 50 題，每題 2 分，總分為 100 分。
每一題均為單選題，請選出最適當答案。
※ 請用 2B 鉛筆在答案卡上相應的位置畫記。

1. 秋萍將【圖 1】中的五張卡片分為【圖 2】中的三類，其分類的依據最可能是下列何者？



- (A) 製作器物的技術 (B) 文字發展的程度
(C) 居住區域的位置 (D) 使用貨幣的類型

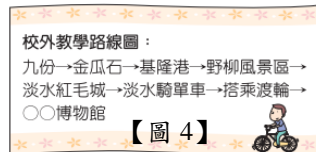
2. 【圖 3】的現象最早出現在下列哪一時期？



【圖 3】

- (A) 舊石器時代 (B) 新石器時代
(C) 金屬器時代 (D) 歷史時代

3. 【圖 4】是翰林國中校外教學的行程，最後一站同學參觀發現煉鐵遺跡的博物館，館中應該是展示哪一文化的遺跡？



- (A) 圓山文化 (B) 卑南文化
(C) 十三行文化 (D) 大坌坑文化

4. 「祖先原來住在阿里山，也有人說是住在臺南府城附近。一日，族人打獵時，發現了一隻肥碩的大白鹿，一路翻山越嶺地追逐，追了好幾天，正當大家精疲力盡時，看到眼前竟然出現一片湖光水色，不但景色優美怡人，而且湖中有取之不盡的魚類，從此便在這日月潭定居下來。」上述最有可能是哪個原住民族的傳說？

- (A) 卑南族 (B) 邵族 (C) 阿美族 (D) 賽夏族

5. 【圖 5】為某一語系的分布圖，下列相關敘述何者正確？



【圖 5】

- (A) 語系分布的最東端是紐西蘭
(B) 語系分布的最北端是菲律賓
(C) 臺灣的原住民即屬於此語族
(D) 大西洋上的許多島嶼涵蓋在這個語系內

6. 2018 年臺中世界花卉博覽會(Taichung World Flora EXPO 簡稱：臺中花博)於展出期間特別在后里森林園區打造原住民族專區—「原生祕境」，重現原住民族之傳統文化內涵，並透過不同的民族植物及工序展示分享原民祖先所傳承的耕種、染織、狩獵等山林智慧，學習與大自然建立和諧相處的生活態度。下列哪一原住民的活動範圍最接近台中后里？

- (A) 西拉雅族 (B) 達悟族 (C) 凱達格蘭族 (D) 泰雅族

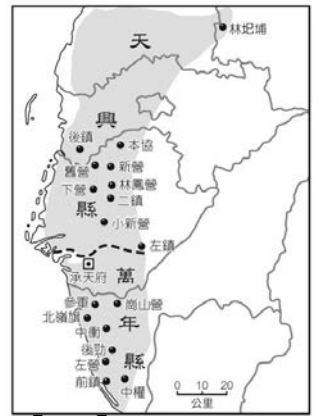
7. 阿威的外國朋友亨利到臺灣旅遊。第一天他們來到某地遊覽後，亨利在日記裡寫著：「阿威說這裡是臺灣最會下雨的地方之一，參觀此地有特別意義，因為我的國家曾經在這裡趕走西班牙人，走訪紅毛城時，似乎可感受到我國的文化。」請問：亨利應是何國人？

- (A) 日本 (B) 西班牙 (C) 荷蘭 (D) 葡萄牙

8. 鄭成功寫給某國的勸降書，信中內容寫到：「執事率數百之眾，困守城中，何足以抗我軍？……執事若知不敵，獻城降，則余當以誠意相待。……然臺灣者，中國之土地也，久為貴國所踞。今余既來索，則地當歸我……。」依內容判斷，這應是寫給下列何者的勸降書？

- (A) 西班牙 (B) 葡萄牙 (C) 清朝 (D) 荷蘭

9. 【圖 6】為臺灣歷史上某一時期的土地開發據點圖，下列何者符合此時期的土地開墾情況？



【圖 6】

- (A) 當時的土地拓墾範圍，主要分布在臺灣北部地區
(B) 為解決在臺軍民的糧食問題，實施寓兵於農政策
(C) 荷蘭人大量招募漢人來台開墾，並給予酬勞
(D) 土地皆屬荷蘭東印度公司所有，由其招募漢人開墾

10. 南島語族是指活躍在亞洲大陸南方島嶼群上，屬於南島語系的族群，是今日世界各民族中分布最廣的一支，有關南島語族的起源與擴散說法眾多，早期有源自大洋洲、中國南方、中南半島等說法，也有人主張臺灣是南島語族的發源地，請問：下列何者不是台灣被認為是南島語族起源地或向外擴張地點的原因？

- (A) 台灣是南島語族語言最多元、分歧的地區
(B) 台灣是太平洋構樹的起源地
(C) 在南島語族的分布區常發現台灣玉所製的玉製品
(D) 台灣是離歐亞大陸最近的分佈區

11. 【圖 7】是 1636 年的北臺灣古地圖，由地圖年代與圖中各城堡的分布和名稱判斷，這張古地圖應為哪一國人所繪製？



【圖 7】

- (A) 荷蘭 (B) 西班牙
(C) 葡萄牙 (D) 日本

12. 明初與清初的統治者，都面臨來自東南沿海的威脅。明代初年，東南沿海一帶海盜為患；而清代初期，則有臺灣島上鄭氏政權抗清的行動。兩者面對的問題雖有差異，但明朝與清朝統治者都選擇了相同的處理方式。此一「處理方式」應為下列何者？

- (A) 招降海盜首領 (B) 與其通商貿易
(C) 聯合外國勢力發動攻擊 (D) 實施海禁

13. 自從新航路發現以來，由於戰略地位重要，臺灣的歷史地位逐漸由邊陲邁向核心，成為各方勢力角逐的場所，也因此歷經了許多政權的統治。先後在此開發者還有荷蘭人及鄭成功父子。其中鄭氏父子可以立足臺灣與清政權抗衡的重要憑藉，是下列何項因素？

- (A) 獲得原住民擁戴 (B) 軍事實力堅強
(C) 清朝將領的暗助 (D) 發展國際貿易

14. 「據報去年春天從海上來的漢人大海盜，已攻下城池並改名東都。強大的歐洲人竟然已投降，被驅趕出大員！這群海盜開始沿著海岸進入內陸攻占村社，宣稱所有土地皆屬海盜王所有，必須立即繳稅納貢服勞役，不服從者一律格殺！」對此段資料的解讀，下列何者正確？

- (A) 資料中的「漢人大海盜」是指鄭芝龍
(B) 文中被攻占的村社應屬於噶瑪蘭族
(C) 文中的「歐洲人」指的是「荷蘭人」
(D) 資料在說明施琅征服鄭氏政權的過程

15. 台江國家公園管理處委託研究人員進行水下調查，發現臺江範圍內，有 8 艘 17 世紀時期的沉船，其中 4 艘幾乎可以確定就在鹽水溪畔，但至今文化部仍沒有進一步的動作，引起文史學者的關注。在 17 世紀大航海時代，臺灣是東亞海上貿易的重要據點，當時哪一國人曾在臺江當地築城殖民？

- (A) 西班牙 (B) 葡萄牙 (C) 日本 (D) 荷蘭

請翻面繼續作答

16. 17 世紀初期，臺灣歷史進入國際競爭時期，是西太平洋南來北往的交通要地，澎湖及臺灣因而成為各方勢力角逐的據點。其中荷蘭人來到遠東活動，曾經企圖占領【圖 8】中何地，但被明朝守將逼退？
 (A) 甲 (B) 乙 (C) 戊 (D) 己



17. 地表座標系統是由經線緯線構成，關於兩者的比較，附表中的敘述何者『錯誤』？
- | | (A)方向 | (B)長度 | (C)度數 | (D)影響 |
|----|-------|----------|-----------|-------|
| 經線 | 南北向 | 均等長 | 東西各 180 度 | 氣候 |
| 緯線 | 東西向 | 由赤道向兩極縮短 | 南北各 90 度 | 時間 |

18. 附表是有關於相同紙張的大、小比例尺地圖的比較，表中何者『錯誤』？
- | | (A)比例尺 | (B)內容 | (C)實際範圍 | (D)實例 |
|--------|----------|-------|---------|-----------|
| 大比例尺地圖 | 1：100 | 較詳盡 | 較小 | 台灣全圖 |
| 小比例尺地圖 | 1：100000 | 較簡略 | 較大 | 新莊國中校園平面圖 |

19. 【圖 9】是總統某次出訪友邦的路線圖，下列敘述何者『正確』？
-
- 【甲】某次出訪國家皆位於太平洋上
 【乙】專機的航行往返方向依序為東南—西北向
 【丙】第一站關島的絕對位置在臺灣的東南方
 【丁】吉里巴斯共和國在臺灣的西北方
 (A) 甲乙 (B) 乙丙 (C) 丙丁 (D) 甲丁

20. 下列是四張假想的島嶼位置圖，請問何者與臺灣最靠近？
- (A) (B) (C) (D)
-

21. 2016 年 4 月 26 日，臺灣琉球籍漁船「東聖吉 16」在日本「沖之鳥礁」北方海域捕魚，卻遭日本保安廳巡防艇以侵犯「日本對該地的資源使用權」為理由進行扣押，漁民不得不付錢贖回人船。依照聯合國海洋法公約規定，此資源使用權是指一個國家的何種海域範圍？
 (A) 領海基線向外推移 12 浬的經濟海域
 (B) 領海基線向外推移 12 浬的領海
 (C) 領海基線向外推移 200 浬的經濟海域
 (D) 領海基線向外推移 200 浬的領海
22. 太平島是南沙群島中最大的天然島嶼，太平島主權問題一直是爭議的焦點，目前除了臺灣，許多周邊國家都聲稱自己擁有太平島的主權。請問：太平島所在的海域名稱為何？
 (A) 東海 (B) 巴士海峽 (C) 臺灣海峽 (D) 南海

23. 將地表畫分為東半球、西半球和北半球、南半球的依據，是下列哪組經緯線？
 (A) 本初經線、北回歸線 (B) 南回歸線、赤道
 (C) 北回歸線、南回歸線 (D) 本初經線、赤道

24. 臺灣的面積不大，但物種數量的平均值卻是世界平均值的 100 倍，而海洋生物的物種數量更是世界平均值的 400 倍，可見臺灣生物種類之多。臺灣生物具多樣性的原因和下列何者無關？
 (A) 溫暖溼潤的氣候 (B) 位於溫帶、寒帶交界
 (C) 位於海陸交會帶 (D) 地形起伏大

25. 育岑想要繪製新莊國中的週邊美食地圖，製作前她實際踏查美食餐廳並測量實際距離，回家後開始繪製地圖。此張地圖的比例尺設定為五千分之一，當天測量「蟹堡王餐廳」距離「新莊國中」約 300 公尺，請問育岑應在地圖上畫幾公分才能正確表示餐廳與國中的距離？
 (A) 2 公分 (B) 4 公分 (C) 6 公分 (D) 8 公分

26. Google Maps 為大家日常生活中常用的電子地圖，請問：何者『不是』電子地圖優於傳統地圖的優點？
 (A) 可依需求放大、縮小
 (B) 更新較緩慢
 (C) 配合手機可以定位與導航
 (D) 資料搜尋快速

27. 【圖 10】為老王規畫環遊世界各大洲路線圖。老王從台灣出發，按照甲乙丙丁戊的順序回到台灣，過程中玩遍了許多國家。請問老王沒有經過哪些洲？
 (A) 亞洲、非洲
 (B) 大洋洲、歐洲
 (C) 北美洲、南極洲
 (D) 中南美洲、南極洲

- 【題組 1】【圖 11】為地球的經緯座標簡圖，觀察 A~D 地，回答 28~30 題：
28. 根據圖中判斷，下列敘述何者『正確』？
 【甲】 B、C、D 地位於北半球
 【乙】 A 地位於東、北半球
 【丙】 氣候帶由熱帶至寒帶依序為 B、C、D
 【丁】 時間以 C 地時間最早
 【戊】 D 地與英國屬於同一時區
 (A) 甲乙丙 (B) 乙丙丁 (C) 甲丁戊 (D) 丙丁戊

29. 當圖中 C 地的時間為 10 月 15 日早上九點，則 D 地時間為何？
 (A) 10 月 14 日晚上八點
 (B) 10 月 15 日凌晨一點
 (C) 10 月 15 日下午五點
 (D) 10 月 15 日晚上七點


30. 【圖 12】為地球公轉的示意圖，當地球轉到 ㄅ 處時，北半球為春季。請問：當 C 地居民於冬至吃湯圓的時候，地球的位置應位在何處？
 (A) ㄅ (B) ㄆ
 (C) ㄏ (D) ㄏ

- 【題組 2】恰吉 為了放鬆身心，想要規劃一趟環島旅行。因此他到板橋火車站的旅客服務中心拿了一張全國行政區圖【圖 13】。回答 31~33 題：
31. 恰吉 仔細閱讀全國行政區圖後，眼尖的他發現少了一樣地圖要素。請問，此圖 缺少 何種要素？
 (A) 圖名 (B) 圖例
 (C) 方向標 (D) 比例尺

32. 恰吉 想要參加直轄市的旅遊集章活動，下列何者不是他的目的地？
 (A) 甲 (B) 乙 (C) 丙 (D) 戊

新北市立新莊國民中學 108 學年度第 1 學期第 1 次段考 7 年級社會領域試題卷

33. 怡吉 發現這張全國行政區圖竟然缺少了兩個縣，請問是哪兩個縣市？
 (A) 綠島縣、蘭嶼縣 (B) 金門縣、馬祖縣
 (C) 澎湖縣、琉球縣 (D) 金門縣、連江縣
34. 台灣聖心文教基金會 發起幸福列車活動，將全台灣善心人士捐贈的二手物品（文具、書本、衣物、娃娃等…）透過遊戲的方式，讓偏鄉國小的兒童可以去挑選他們喜歡的東西，用需求式關懷，真正瞭解他們需要什麼，藉此協助他們。問：上述基金會依照各種不同狀況的兒童做最適當的關懷，最有可能是為了實踐下列何者？
 (A) 追求社會正義 (B) 培養倫理道德
 (C) 促進經濟發展 (D) 重視環境保護
35. 班會是學生培養民主素養的重要學習活動，若依據《會議規範》判斷，下列四位同學提出自己對班會進行過程的看法，何者有誤？
 (A) 康康：若因地震導致會議無法進行，應向主席提出權宜問題
 (B) 至玲：與提案無關的議題，應該在討論事項後提出臨時動議
 (C) 安琪：若有人喧鬧違反會場秩序時，應向主席提出秩序問題
 (D) 小眉：在討論過後進行表決時，主席原則上不參與表決
36. 小芳 是我國國民，她與美國籍男子結婚後在台生下一女，對於女兒國籍的認定感到疑惑，因此發文尋求協助，下列為四位網友的回覆，何者正確？
 (A) 女兒必須經過歸化手續，才能取得我國國籍
 (B) 母親具有我國國籍，因此女兒也會具有我國國籍
 (C) 必須先確定女兒的出生地，才能確定女兒是否具有我國國籍
 (D) 因為父親是美國籍，所以女兒也會具有我國國籍
37. 現今網際網路的發達，謠言能夠及時快速且大量傳遞。例如：習近平 下令宣布台灣戒嚴，將全日衛星監控凱道活動。事後查證為謠言杜撰的文章，因此民眾應該多查證內容的真實性，讓謠言止於智者。問：依文中所述，此時我們應具備下列何者能力？
 (A) 公民參政能力 (B) 學習創新能力
 (C) 媒體識讀能力 (D) 公共參與能力
38. 下列有關「權力」與「權利」的敘述，何者正確？
 (A) 要求男子服兵役是政府的權利
 (B) 權利是由上而下支配的力量
 (C) 政府的權利來自人民的授權
 (D) 言論自由是人民享有的權利
39. 台灣少年權益與福利促進聯盟 首創提供夢想資助金，讓經濟弱勢的青少年透過免費的學習課程，學習到課堂以外的技術與專業知識，讓忙於打工而影響學習成績或學習成績落後的青少年，也能獲得相同的機會。問：根據上述內容判斷，此聯盟的作法最主要在保障青少年的何種人權？
 (A) 健康照顧權 (B) 公平受教權
 (C) 文化休閒權 (D) 社會參與權
40. 性騷擾是指對他人有意圖的身體碰觸，或有性別歧視或性含意的言詞或行為。問：下列何位同學的行為，可能涉及性騷擾？
 (A) 阿成 未經同意翻看同學的日記
 (B) 小漢 不小心走錯進入了女廁
 (C) 光彥 擅自拿走同學的文具
 (D) 小莓 經常對男同學講黃色笑話
41. 承上題，學生遇到性騷擾要尋求協助，可以向「甲」提出檢舉，依「乙」的規定，交由性別平等教育委員會調查處理。問：文中「甲」、「乙」依序為？
 (A) 學務處；性別平等教育法
 (B) 輔導處；少年事件處理法
 (C) 輔導處；性別平等教育法

- (D) 學務處；少年事件處理法
42. 獲得 2014 年諾貝爾和平獎的巴基斯坦人權鬥士 瑪拉拉，曾經在國際女性會議中呼籲：「今天我代表一億三千萬名無法上學的女孩說話，如果要所有女孩發光發亮，各國領袖必須投資女性教育。」請問：瑪拉拉 主要在為女童向各國政府爭取下列何種權利？
 (A) 發展權 (B) 參與權 (C) 生存權 (D) 受保護權
43. 珊珊 在校園中看到【圖 14】標誌。問：下列何者敘述與該標誌的出現有關？
 (A) 學生應透過學生自治表達意見，培養參與公共事務的能力
 (B) 長期受到同學在精神或生理方面的損害，會影響學習活動的進行
 (C) 未經同意任意翻閱他人信件或物品，會侵犯人格權
 (D) 無法找到合適的學習方法，會降低個人適應未來生活的能力
- 
- 【圖 14】
- 題組 3 下表為我國在 107 年 11 月 24 日進行公民投票第 8 案，對於「是否同意確立停止新建、擴建任何燃煤發電廠或發電機組（包括深澳電廠擴建）之能源政策？」的相關票數統計資料。而依據《公民投票法》的規定，有效同意票數必須多於不同意票，且有效同意票達投票權人總數四分之一以上，即為通過。而 107 年公投投票權人總數為 1975 萬 7067 人。
- | | 票數 | 比例 |
|--------|-------|-------|
| 有效同意票 | 759 萬 | 70.5% |
| 有效不同意票 | 234 萬 | 21.8% |
| 無效票 | 82 萬 | 7.7% |
44. 依我國《公民投票法》規定，下列何人最不可能參與此次投票？
 (A) 成為立委候選人的 宜芳
 (B) 可以參加國家考試的 小美
 (C) 就讀新莊國中三年級的學生 泰嘉
 (D) 就讀政治大學四年級的學生 小睿
45. 依文中所述，人民投票是否同意反對深澳電廠擴建案，展現出人民的何種權益？
 (A) 平等權 (B) 自由權 (C) 受益權 (D) 參政權
46. 據報載投票當日大排長龍，選民們仍願意參與投票的行為，是具備現代公民何種基本德性？
 (A) 捍衛公平正義 (B) 和平尊重包容
 (C) 參與公共事務 (D) 理性思考批判
47. 依表中結果判斷，下列關於公投案的敘述何者正確？
 (A) 投票結果是同意持續新建、擴建燃煤電廠或機組
 (B) 投票結果是不同意持續新建、擴建燃煤電廠或機組
 (C) 有效同意票少於有效不同意票
 (D) 有效同意票低於投票權人總數四分之一
- 題組 4 七年甲班召開班會，導師要班上討論寒假班遊地點，由 花輪 擔任主席，小九子 擔任司儀，野口 擔任記錄。小玉 提議到淡水參訪紅毛城並到士林夜市遊覽，小玉 一提議完，花輪 主席隨即進行討論，在全班討論過程中，濱崎 和 美環 一言不和大打出手……
48. 關於 小玉 一提議完，花輪 主席隨即進行討論，下列敘述何者正確？
 (A) 正確，提議後直接討論，再表決
 (B) 錯誤，應先討論，再提議，後表決
 (C) 錯誤，提議完還需要經過附議程序，才可進行討論
 (D) 正確，由主席決定會議的流程
49. 關於開會過程中，濱崎 和 美環 大打出手，同學們可提出何者，中斷會議待處理後，再進行會議的討論？
 (A) 秩序問題 (B) 權宜問題
 (C) 程序問題 (D) 臨時動議
50. 關於開會角色職權說明，何者錯誤？
 (A) 導師：僅適時地提示議事規則，不參與議案表決
 (B) 主席：主持會議外並可直接裁決權宜問題
 (C) 司儀：負責維持會議秩序，並宣達會議程序
 (D) 紀錄：詳實紀錄表決方法、票數及結果

新北市立新莊國民中學 108 學年度第 1 學期第 1 次段考 7 年級社會領域試題
解答

1	2	3	4	5	6	7	8	9	10
A	B	C	B	C	D	C	D	B	D
11	12	13	14	15	16	17	18	19	20
B	D	D	C	D	D	D	D	A	B
21	22	23	24	25	26	27	28	29	30
C	D	D	B	C	B	D	C	B	D
31	32	33	34	35	36	37	38	39	40
B	C	D	A	C	B	C	D	B	D
41	42	43	44	45	46	47	48	49	50
A	A	B	C	D	C	B	C	B	C