

※ 選擇題：本試卷共 50 題，每題 2 分，總分為 100 分。

每一題均為單選題，請選出最適當答案。

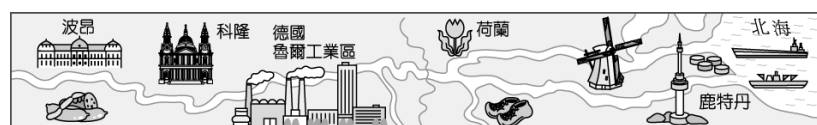
※ 請用 2B 鉛筆在答案卡上相應的位置畫記。

1. 小天計畫暑假到歐盟成員國自助旅行，並在出發前夕蒐集相關資訊，以利旅程順利。下列關於歐盟資訊，何種具有參考價值？

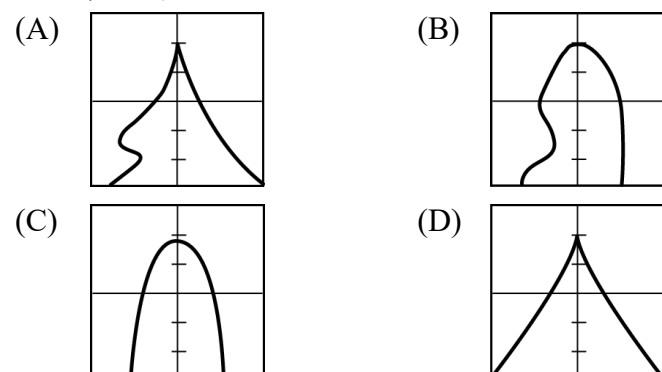
(A) 僅須兌換歐元即可暢遊歐盟  
(B) 須攜帶萬國轉接插頭，適應不同國家規格  
(C) 歐盟使用英文為單一官方語言  
(D) 辦理申根簽證可於歐盟境內自由通行

2. 西歐為歐洲各區中發展較佳的區域，更為歐洲的核心區，其區內的交通區位優勢可以下圖示說明。請問：這條河流應為下列何者？

(A) 多瑙河 (B) 泰晤士河 (C) 塞納河 (D) 萊茵河



3. 北歐為全球社會福利制度最完善的國家，但其人口組成結構趨勢，迫使其開始思考是否要針對稅賦制度進行修正。若要討論北歐的人口結構趨勢，應選用下列哪張人口金字塔圖？



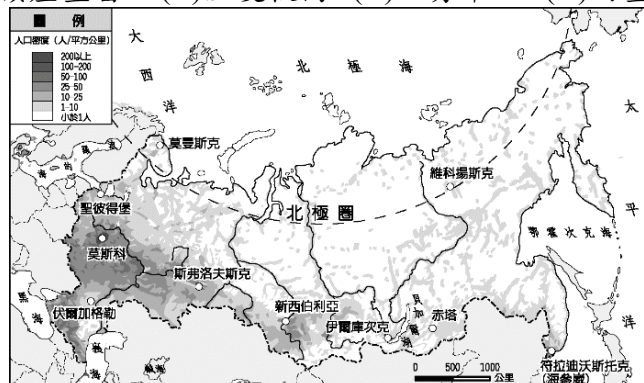
4. Discover 頻道計畫推出『航拍俄羅斯』，以固定高度拍攝俄羅斯境內的地景，航拍機與地表的距離愈近，則所拍攝地景的愈大，反之則愈小。圖中四條路線中，哪條路線航拍機拍攝的地景會愈來愈小？

(A) 甲 (B) 乙 (C) 丙 (D) 丁



5. 下圖為俄羅斯的人口分布圖，由圖中可知西伯利亞的人口多分布於南部，此與下列何者關係密切？

(A) 礦產豐富 (B) 溫度較高 (C) 地勢平坦 (D) 雨量較多



6. 近年全球暖化帶來極端的氣候災害，使其成為各國關心的重大議題，但卻有部分地區可能受益於暖化帶來的好處，而對此議題漠不關心。試問：下列哪個地區最可能於全球暖化的現象中受益？

(A) 西伯利亞 (B) 阿拉伯半島  
(C) 歐洲大平原 (D) 伊比利半島

【第 7 至 10 題為題組】

俄羅斯 2014 年出兵佔領原屬烏克蘭的克里米亞半島後，更於 2022 年俄羅斯發起對烏克蘭的全面侵略特別軍事行動，震驚全球。俄羅斯以中古世紀的基輔羅斯帝國疆域包含今日之烏克蘭、白俄羅斯與俄羅斯局部地區，聲稱擁有共同血緣與歷史為由發起軍事行動，但多數國家皆不認同俄國的侵略，進而發起制裁。請問：



7. 上文提及俄羅斯與烏克蘭有共同的血緣與歷史，可能是下列何者？

(A) 都曾為歐盟會員國 (B) 都是斯拉夫語族  
(C) 皆使用歐元 (D) 都橫跨歐亞兩洲

8. 軍事專家指出，俄羅斯佔領克里米亞半島的目的是為了控制某海域的通行權，請問：此海域可能為下列何者？

(A) 黑海 (B) 地中海 (C) 北海 (D) 波羅地海

9. 歐美國家若以經濟制裁方式，限制與俄國的進出口貿易，則下列何者效果最佳？

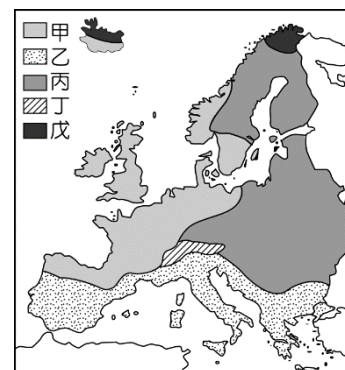
(A) 禁止俄羅斯出口石油  
(B) 禁止俄羅斯進口天然氣  
(C) 禁止俄羅斯出口高科技產品  
(D) 禁止俄羅斯進口木材

10. 受到俄烏戰爭影響，歐洲面臨嚴重的能源危機，如何提高再生能源自給自足比率成為各國的重要課題。下列關於各國提高再生能源自給率的方法，何者較為可行？

(A) 北歐—提高太陽能發電比率  
(B) 西歐—提高風力發電比例  
(C) 南歐—提高火力發電比例  
(D) 東歐—提高地熱發電比例

【第 11 至 14 題為題組】

右圖為歐洲的分區圖，請根據此圖回答下列問題：



11. 因作物的生長季節與雨季無法配合，需大量灌溉才能發展的農業型態，可能出現在圖中何處？

(A) 甲 (B) 乙  
(C) 丙 (D) 丁


12. 圖中甲區不論降水、冬天均溫都比同緯度地區的亞洲來的高，關於此現象的解釋何者正確？

(A) 終年季風吹拂，暖流經過影響  
(B) 終年信風吹拂，寒流經過影響  
(C) 終年西風吹拂，暖流經過影響  
(D) 終年東風吹拂，寒流經過影響

13. 圖中丁區地勢高聳，應為歐洲南北往來的交通阻礙，但因下列何種地形遍布，反而有利於交通建設？

(A) 多 V 型谷地 (B) 多峽灣地形  
(C) 多 U 型谷地 (D) 多谷灣地形

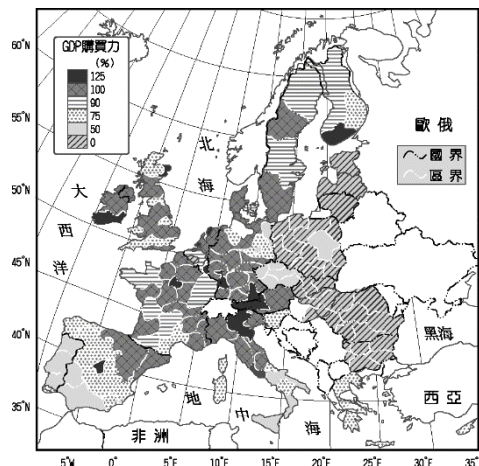
14. 圖中乙區受益於當地海岸地形，自古航運發達，若要說明此區域的海岸地形特色，應選用下列哪張概念圖？





【第 15 至 16 題為題組】

圖為歐洲各國的 GDP 購買力分布圖，可由此判斷各國的消費能力與經濟狀況。請根據此圖回答下列問題：



15. 根據此圖判斷，下列哪個地區的國家購買力最低？

- (A)北歐 (B)南歐  
(C)西歐 (D)東歐

16. 若圖中購買力較低的國家，能吸引許多外國企業投資，可能是看上其何種區位優勢？

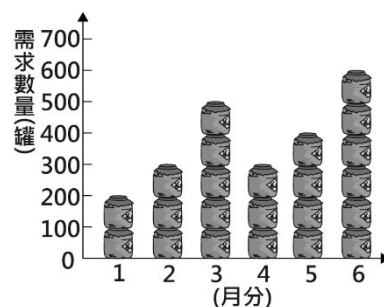
- (A)交通區位 (B)原料區位 (C)勞力區位 (D)資金區位

17. 某科技公司為了讓其產品「LED 省電燈泡」的銷售量增加，在各大雜誌內頁刊登廣告，內容如圖所示。根據圖中內容判斷，該公司最可能是採取下列何種方式來達成目標？



- (A)降低成本 (B)建立品牌形象  
(C)價格競爭 (D)延長營業時間

18. 小健家每個月第一天自製 300 罐醬菜販售，且為保持產品品質，當月沒賣完的產品就會銷毀，絕不在下個月販售。右圖為上半年消費者對小健家自製醬菜的需求數量圖。根據圖中資料判斷，小健家的醬菜上半年銷售總量為多少罐？



- (A)2000 (B)1800 (C)1700 (D)1500

19. 確保市場競爭，可以保障消費者的權益。下列關於「確保市場競爭」的概念，哪一項正確？

- (A)制定《消費者保護法》會減少市場競爭的動力  
(B)所有的實體消費，都不能向店家要求更換售出商品  
(C)所有的網購消費，都應有「七天猶豫期」  
(D)制定《公平交易法》，可以確保市場公平競爭

20. 吳主任帶著全校到義大世界畢業旅行，聽到了同學們的對話如下：

阿妮：「我事先已經買好了三天份的零食、飲料跟泡麵去吃」  
阿婷：「為何不在遊樂園裡買就好？」  
阿妮：「觀光區裡的東西都會比市場上來得貴，這樣比較省錢」

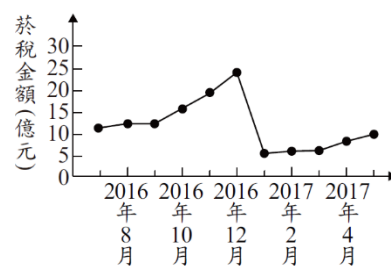
請問關於以上對話的敘述，下列何者對觀光區的解釋較為適當？

- (A)市場競爭程度高 (B)產品內容多樣  
(C)消費選擇較少 (D)廠商數量眾多

21. 從經濟學的角度觀察，下列哪一個現象是受「看不見的手」所影響？

- (A)萬物皆漲，中油宣布凍漲油價  
(B)經濟逐漸復甦，行政院宣布明年考慮為軍公教人員加薪  
(C)民眾以健保卡實名制購買快篩試劑  
(D)萊豬進口即將成為事實，許多店家宣稱，若使用國產豬肉將造成便當成本增加，因此要漲價

22. 某國為了降低國內吸菸人口，針對每包菸品課徵售價 30% 的菸稅，而自 2017 年起更提高至 60%。右圖是新制上路前後，國內菸稅金額的變化情況，根據圖中資訊判斷，下列何者最適合用來說明 2016 年底時所發生的變化？



- (A)使用者付費 (B)預期心理 (C)需求法則 (D)受益原則

23. 某公司評估三種營運策略的收支情況，如右表所示。若僅考量利潤，該工廠的最佳選擇是「維持現狀」，且此選擇的機會成本是「增產 B 產品」。根據上述內容判斷，表中「☆」處的數值，最可能為下列何者？


	銷貨收入	成本
增產 A 產品	100	50
增產 B 產品	120	60
維持現狀	110	☆

- (A) 70 (B) 60 (C) 50 (D) 40

24. 從過去的自給自足轉變為現代人的交易模式，請問以下何者不是其中的因素？

- (A)個人的時間精力有限  
(B)因轉變為交易模式品質可能較粗糙  
(C)因轉變為交易模式可使成本較低  
(D)專業化分工更有利

25. 某工廠擁有三條生產線，分別生產甲、乙、丙三項產品，上半年的銷售成果如圖所示。近日廠長決定停止生產其中一項產品，並把該生產線轉為生產其他二項產品中的其中一種，期望增加工廠的利潤。在考量各生產線上半年獲利的狀況下，根據圖中資訊判斷，下列四個方案中，何者最能達成廠長的目標？



- (A)停止生產丙，增加生產甲 (B)停止生產乙，增加生產甲  
(C)停止生產甲，增加生產乙 (D)停止生產丙，增加生產乙

26. 日前，阿菁因感染新冠肺炎，須在家隔離，於是她立刻電話預約了診所(甲)視訊看診，隨後，再請親友(乙)送了三餐與日常生活用品到家中。解除隔離後，便先到(丙)按摩店按摩腳底，再到故宮博物院(丁)聽取導覽人員對文物的介紹。請問：以上底線，哪一種產品類型和其他三項不同？

- (A)甲 (B)乙 (C)丙 (D)丁

27. 早在 2017 年年底，工商時報便報導國際紙價恐將要連續漲三個月。2018 年，其他新聞媒體相繼報導稱某量販通路接獲各家用衛生紙大廠發出的正式通知，衛生紙價格「確定」將調漲，漲幅最高更達 3 成，造成民眾的恐慌。於是政府相關部門開始進行著手調查，指向該量販通路不當行銷，該部門審議此案，以違反《○法》第 25 條，遭處新台幣 350 萬元罰鍰。請問：搶購衛生紙的民眾是基於下列何種因素？

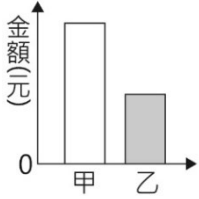
- (A)商品價格 (B)個人需求 (C)預期心理 (D)所得收入

28. 承上題，《○法》應是以下何者？

- (A)消費者保護法 (B)公平交易法  
(C)民法 (D)憲法



29. 右圖為某班園遊會擺設雞排攤的營收結果，其中甲代表銷貨收入，乙代表生產成本。若後來發現生產成本中重複列入了租借攤位的費用，請問更正之後，圖中甲、乙最可能出現的情況為下列何者？
- (A)甲不變，乙不變 (B)甲下降，乙不變  
(C)甲不變，乙下降 (D)甲下降，乙下降



30. 台灣某連鎖鞋店由於商品價格親民又耐用，加上無壓力的自助選購模式，深受許多消費者青睞，在這波疫情中屹立不搖。旅居加拿大的作家在臉書發文，點出該連鎖店其實還提供一項暖心服務，讓她可以順利替大小不同的兩隻腳，分開買到合適的鞋子穿，其他網友看了紛紛讚嘆「很令人感動的服務」。她每次回台灣都一定會到該連鎖店買鞋，由於小兒麻痺患者通常雙腳大小不一，像她就是右腳比左腳小半號，相當不好買鞋，不過憑著鄭豐喜基金會發的「單腳銀行卡」，就可以在該連鎖店買到，兩腳不一樣大小的鞋子，「我說給加拿大朋友聽，沒有人敢相信，非常羨慕」。請問：文章中的競爭方式和以下何者相同？
- (A)買一送一，吸引顧客上門 (B)偷工減料，降低生產成本  
(C)提升品質，善盡企業責任 (D)區位因素，增加銷售數量
31. 複合式書店—在資訊快速流動的時代，許多書店紛紛轉型，讓書店不只是賣書，而是能享用美食咖啡、舉辦講座的多元空間，餐飲是為了增加顧客來店率。在營運上，複合模式有很多種可能。或許是全部自營，也可能互相投資，甚至是以專櫃型態招商。請問：複合式書店的競爭方式和以下何者不同？
- (A)壽星生日當天到店用餐，打折之外，幾歲再送幾支雞翅  
(B)壽星當月來店消費，服務人員全體獻唱生日快樂  
(C)便利商店可代收學雜費  
(D)和三麗鷗明星聯名發行周邊商品

近兩年受疫情衝擊，客運業載客量雪崩式下滑，即便近期國內疫情趨緩，但國道、一般公路客運路線停駛、收攤消息仍不斷，尤其一般公路客運最嚴重。客運業公會理事長則說，國道客運長年來因面對雙鐵挑戰刻意壓低票價，又被國道路況差拖垮，加上少子化、高齡化以及駕駛人力短缺等結構性因素，這兩年又遇疫情，整體營運慘淡，就算是調高票價也只會更削弱競爭力。

32. 根據上文，請問畫線處的削弱競爭力是指未來可能發生何種情形？
- (A)銷售數量下滑 (B)生產成本增加  
(C)營運成本降低 (D)營業收入增加





速食店推出「沒有華堡的一天」

商業戰場會沒有「朋友」嗎？阿根廷的速食店與競爭對手竟然做「一日朋友」？原來是該速食店正在進行一項公益活動，只要消費者購買大麥克，就會捐出 2 塊美元（約新臺幣 60 元）給兒童癌症機構。競爭對手為了讓消費者可以「做善事」，他們停止賣自家最受歡迎的華堡，推出「沒有華堡的一天」，希望顧客去購買對手的大麥克，幫助癌症兒童，這項特別的活動，受網友一致好評。

這個案例讓我們看到，在面對競爭時，懂得利用行銷手法化敵為友、適時進退，有時反而能為自己和對手創造出雙贏的局面。

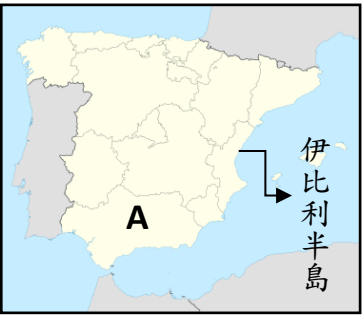
33. 請根據上文，選出不正確的選項？
- (A)沒有華堡的一天可提升企業形象  
(B)沒有華堡的一天可製造宣傳話題、達到行銷目的  
(C)沒有華堡的當天，漢堡市場競爭程度將降低  
(D)該活動當天可增加漢堡王的銷貨收入

34. 西元 313 年，羅馬帝國某位君王公布了《米蘭詔令》，承認基督教合法。此位君王在位期間大力扶持基督教，公開鼓勵國民成為基督徒，並免去基督教神職人員的稅務和兵役；還在傳說中耶穌誕生地興建「伯利恆聖誕教堂」，但是他本人卻在臨終之前才正式受洗為基督徒。請問上述「君王」是指下列哪一位？
- (A)狄奧多西 (B)屋大維 (C)君士坦丁 (D)凱撒

35. 傳理修士生於中世紀西歐，他的日常生活必須遵照教會規定，請問下列哪一項不是他的日常？
- (A)  (B)   
(C)  (D) 

36. 比較下列世界三大普世宗教-「基督教、伊斯蘭教與佛教」，請問哪一項整理有錯？
- |         | 基督教      | 伊斯蘭教     | 佛教         |
|---------|----------|----------|------------|
| 甲. 創立者  | 耶穌       | 穆罕默德     | 釋迦牟尼       |
| 乙. 創立時間 | 1 世紀     | 7 世紀     | 西元前 6 世紀   |
| 丙. 宗教特色 | 耶和華為唯一真神 | 信奉唯一真神阿拉 | 與中國文化融合→禪宗 |
| 丁. 起源地  | 歐洲       | 亞洲       | 亞洲         |
- (A)甲 (B)乙 (C)丙 (D)丁

37. 如右附圖 A 點有一座曾經是基督教與伊斯蘭教共存的教堂-「哥多華主教座堂」，這座已被列入世界文化遺產的教堂，外觀是修道院，內部還是存有清真寺之特色，請問此區會有清真寺建築存在，是與下列哪一個帝國有關？
- (A)塞爾柱土耳其帝國 (B)阿拉伯帝國  
(C)鄂圖曼土耳其帝國 (D)亞歷山大帝國



38. 2022 年 9 月 8 日，英國白金漢宮無預警發布一項訊息-女王伊莉莎白二世身體狀況堪憂，重要皇室成員紛紛即刻趕往女王所在地巴摩拉城堡；當日下午 15:10 分，伊莉莎白女王逝世，享壽 96 歲。英國政府隨即啟動「倫敦橋行動」，並於 9 月 19 日，於西敏寺大教堂舉行國葬，結束女王一生。女王的宗教信仰屬英格蘭教會(英國國教)，首創為英王亨利八世，請問關於此宗教下列何者為是？
- (A)英國國王兼任教會領袖-「政教合一」  
(B)亨利八世是因為財產問題與羅馬教會決裂  
(C)此教派的分支-清教徒與長老教會  
(D)主張信仰應該以「聖經」為依歸

背面尚有試題



39. 16 世紀宗教改革開始，這個教會更加注重神學教育、對教會忠誠度與向青年傳教，加入之後必須發願守貞、安貧、對聖座命令絕對服從。傳教士們興辦過許多大學、高中，也從事社工慈善，拯救貧窮，更積極向海外世界傳教。自身除了取得神學學位，還需要有另一個世俗科目的大學學士畢業文憑。請問上述是指下列哪一個教派？

(A)喀爾文教派 (B)路德教派  
(C)耶穌會 (D)希臘正教

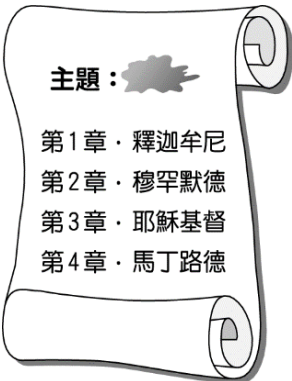
【第 40 至 41 題為題組】

在希臘文，殉道士(Martyr)的字義是「見證人」(Witness)，基督教採用這個詞彙用來描述因為懷抱信仰而受到苦難死亡之人。關於基督教歷史發展，可知從西元 1~3 世紀間，基督徒殉教者數量極多，而在西元 4 世紀初卻開始驟降，至 4 世紀末甚至信徒人數開始暴增。

40. 請問 4 世紀末，信徒暴增的可能原因，下列何者正確？
- (A)君士坦丁承認基督教合法  
(B)耶穌在羅馬帝國境內傳教  
(C)基督教世界第一次分裂  
(D)狄奧多西宣布基督教成為國教
41. 請問下列哪些是基督教曾經經歷過的事件？
- (甲) 16 世紀基督教世界第一次分裂  
(乙) 耶穌被羅馬政府釘死在十字架上  
(丙) 基督教徒拒絕膜拜羅馬皇帝畫像  
(丁) 狄奧多西宣布基督教成為羅馬國教
- (A)甲乙丙 (B)乙丙丁 (C)甲丙丁 (D)甲乙丁

42. 如右附圖是關於歷史上重要人物報告首頁，若依據各章名稱來判斷，請問這份歷史報告主題名稱應該要選下列哪一個較為適當？

(A)航向世界的冒險家  
(B)堅定改革的政治家  
(C)改變信仰的宗教家  
(D)秉筆直書的歷史家



43. 如右附圖是 12 世紀阿拉伯的世界地圖，中心「甲」區位於肥沃月彎中部，底格里斯河流經其市區，是伊斯蘭世界政治、宗教、經濟、商業、交通中心；《天方夜譚》故事背景多為此區，請問「甲」是指下列哪一座城市？

(A)巴格達 (B)麥加  
(C)君士坦丁堡 (D)開羅



44. 2022-08-12 聯合新聞網綜合報導  
柬埔寨掏金成無名屍.....台商曝當地無政府慘況，三百罐骨灰仍回不了家.....  
一名在柬埔寨經商 3 年的台灣人表示，近日看到許多台灣人被高薪誘騙到當地從事詐騙工作的新聞，讓他覺得非常不可思議，因為若想在當地月入 8~10 萬，除非是來設廠的台商或幹部，一般人想賺到 1 萬台幣根本是天方夜譚，他再三奉勸懷有柬埔寨掏金夢的人，別再異想天開，會傷透家人的心.....

上述柬埔寨是目前世界上最低度開發國家之一，雖然引發如此國際爭議事件，但是著名的世界文化遺產-吳哥窟，成為該國重要旅遊業經濟來源之一，來自世界各地的觀光客持續增加，只想一睹「微笑高棉」（如右附圖）的真面目。請問柬埔寨的主要信仰是下列哪一宗教？



- (A)回教 (B)佛教 (C)基督教 (D)天主教

45. 西元 1095 年教宗烏爾班二世召開宗教大會，希望藉著「東征」結束羅馬與君士坦丁教會的分裂，更因為教徒與異教徒打仗，是為主而行的神聖戰爭。請問關於「東征」之事下列敘述何者正確？

(A)異教徒是指「鄂圖曼土耳其」  
(B)被侵占的聖地名為「麥地那」  
(C)教宗是代表「東正教」領袖  
(D)教宗此號召為「十字軍東征」

46. 甲、乙、丙、丁是歷史上橫跨歐、亞、非版圖大帝國，請依照各帝國建立的歷史時間先後順序排列。



- (A)甲乙丁丙 (B)丙丁乙甲 (C)丁乙甲丙 (D)丙甲乙丁
47. 阿拉伯世界是指分布於西亞和北非，以阿拉伯語為主要語言，以伊斯蘭教為主要信仰的國家和地區。

請問下列有關阿拉伯文明的敘述，哪一項有誤？

(A)發明阿拉伯數字與誦讀新約聖經  
(B)將中國指南針與造紙術傳到各地  
(C)翻譯古希臘與羅馬典籍保存遺產  
(D)曾在恒羅斯打敗唐軍帶回造紙匠

48. 高寶為了更清楚瞭解新教教派，所以整理了一份資料，請問資料表格中哪一項整理有錯誤？

	(A) 路德教派	(B) 喀爾文教派	(C) 英國國教	(D) 耶穌會
發起人	馬丁路德	喀爾文	亨利八世	羅耀拉
主張	以聖經為依據（因信得救）	勤儉、努力工作以榮耀上帝	國王兼任教會領袖	教士們自律、嚴格遵守紀律
派別	新教	新教	新教	新教

49. 小新想利用寒假期間研究文藝復興時期的文學與藝術作品，請問下列哪一個作品不需要列入？

(A)莎士比亞戲劇劇本 (B)《亞當的誕生》  
(C)荷馬史詩-《伊里亞德》 (D)《蒙娜麗莎》

50. 如右附圖是 15 世紀文藝復興重鎮。請問圖中城市興起並發展出文藝復興運動的原因與下列哪一項無關？

(A)有城市富商的支持  
(B)出現考古遺址挖掘  
(C)位在東西貿易要道  
(D)保存傳統古典文化



試題結束

新北市立新莊國民中學 111 學年度第 1 學期第 2 次段考 9 年級社會領域試題  
解答

1	2	3	4	5	6	7	8	9	10
<b>B</b>	<b>D</b>	<b>C</b>	<b>D</b>	<b>B</b>	<b>A</b>	<b>B</b>	<b>A</b>	<b>A</b>	<b>B</b>
11	12	13	14	15	16	17	18	19	20
<b>B</b>	<b>C</b>	<b>C</b>	<b>D</b>	<b>D</b>	<b>C</b>	<b>C</b>	<b>C</b>	<b>D</b>	<b>C</b>
21	22	23	24	25	26	27	28	29	30
<b>D</b>	<b>B</b>	<b>D</b>	<b>C</b>	<b>A</b>	<b>B</b>	<b>C</b>	<b>B</b>	<b>C</b>	<b>C</b>
31	32	33	34	35	36	37	38	39	40
<b>A</b>	<b>A</b>	<b>D</b>	<b>C</b>	<b>A</b>	<b>D</b>	<b>B</b>	<b>A</b>	<b>C</b>	<b>D</b>
41	42	43	44	45	46	47	48	49	50
<b>B</b>	<b>C</b>	<b>A</b>	<b>B</b>	<b>D</b>	<b>D</b>	<b>A</b>	<b>D</b>	<b>C</b>	<b>B</b>