




※ 選擇題：本試卷共 50 題，每題 2 分，總分為 100 分。
每一題均為單選題，請選出最適當答案。

※ 請用 2B 鉛筆在答案卡上相應的位置畫記。

1. 附圖為美國歷史上曾使用過的旗幟。請問：下列敘述何者正確？
(A)這三面旗幟出現順序是：乙→丙→甲
(B)乙圖的出現和「獨立宣言」的發表有關，顯示當地民眾欲脫離殖民母國的控制
(C)美國獨立後不斷向東擴張以取得新的州，而有甲圖的出現
(D)丙圖呈現北美 13 州與法國的關係

甲	乙	丙
		

2. 位於美國紐約的自由女神像（右圖），是法國人民送給美國的禮物。身穿長袍的女子，代表羅馬神話中的自主神，右手高舉火炬，左手的冊子上用羅馬數字寫著美國「獨立宣言」的簽署日期。請問：下列敘述何者正確？
(A)自由女神像左手冊子上的羅馬數字應為 1789 年 7 月 14 日
(B)「獨立宣言」發表之後，爆發波士頓茶葉事件而使戰爭一觸即發
(C)美國憲法採取盧梭三權分立的理論，權力互相制衡以避免專制
(D)法國曾於美國獨立戰爭時提供協助，自由女神像象徵兩國友好關係



3. 電影「凡爾賽拜金女」講述奧地利公主瑪麗安東尼嫁給法國國王，她孤獨並渴望得到愛，只能靠物質揮霍來麻痹自己，最終導致了被送上斷頭台的悲劇。她最著名的軼事為法國人民沒有糧食可以吃時，竟說：「沒麵包吃？讓他們吃蛋糕啊！」對當時的人來說，她是造成法國大革命的根源之一。請問：下列敘述何者正確？
(A)瑪麗安東尼是嫁給國王路易十四
(B)教士和貴族須負擔大多數的賦稅與勞役造成社會不公，埋下革命的種子
(C)法國大革命爆發後新政府改行共和，並處死瑪麗安東尼和她的老公
(D)國民組成三級會議發表「人權宣言」，其內容深受啟蒙運動影響

4. 在某人崛起時，貝多芬十分敬佩他對法國大革命的貢獻，為了表示對他的敬意，貝多芬於 1803 年編寫一首「英雄交響曲」。但是 1804 年此人稱帝的消息傳來，使貝多芬氣憤不已，並且把寫到一半的曲子撕毀。不過後來貝多芬還是將曲子完成，只是將曲風改為送葬的悲悽感，以表達對此人的不滿。請問：關於「英雄交響曲」原先讚頌的對象之敘述，下列何者正確？
(A)在遠征德國的戰役中慘遭敗績，聲勢一落千丈
(B)滑鐵盧之役被反法聯軍打敗後，旋即東山再起、重掌政權
(C)1814 年召開的維也納會議，強調從前被此人征服的地區此後開始實行民主政治
(D)法國大革命的精神隨此人散布至歐洲各地，激發當地民族意識

5. 此人出生於委內瑞拉，成立秘密組織進行獨立運動，並驅逐殖民當地的歐洲人總督。他曾指出：「三百年的等待還不夠？難道還要再等三百年嗎？」以鼓動民眾勇於爭取國家獨立自主。在他持續努力下，終於玻利維亞共和國成立，其國名以他命名，並尊其為總統。他在南美五國（哥倫比亞、委內瑞拉、厄瓜多、秘魯和玻利維亞）獨立過程中功勳卓著，因此被稱為「南美的華盛頓」。請問：下列敘述何者正確？
(A)此人希望祖國可以從葡萄牙獨立出來
(B)此人揭竿而起的時機，適逢拿破崙征服歐洲各地
(C)由於此人的推動，南美各國於 18 世紀陸續獨立
(D)英國曾發表「門羅宣言」，支持南美各國獨立運動

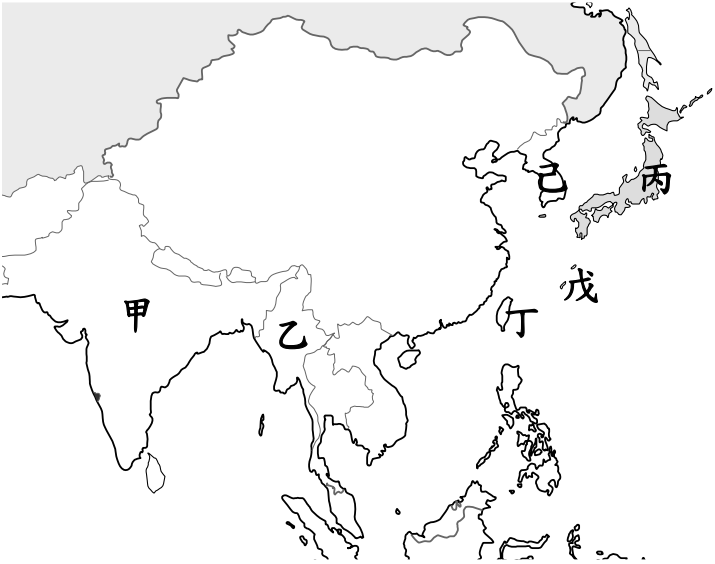
6. 1862 年某人對國會演說：「我們並不想使日耳曼問題變得更複雜，不過，這看起來是不得不然了。...必須整軍備武，以待來日之大用，不能再蹉跎下去。...高談闊論或所謂多數決議都不能解決問題。...解決問題的關鍵乃在鐵和血。」他的目的在於說服國會同意國王所提出的軍隊重整議案，不過國會並不為所動，他決定逕行增稅擴軍。請問：下列敘述何者正確？
(A)此人擔任右圖甲國的首相
(B)文中提到的「國王」是指伊曼紐二世
(C)此人所屬的國家在打敗右圖乙國後，建立德意志帝國、完成統一
(D)此人主導關稅同盟的建立，使日耳曼地區達到政治上的統一



7. 關於德國和義大利的統一運動過程的比較，下列敘述何者「錯誤」？
(A)中世紀以來，均為小國林立的局面
(B)均有核心國家的君主及首相來領導統一運動的進行
(C)皆受民族主義思潮的刺激，追求國家統一
(D)影響統一的外國勢力皆為俄國和法國
8. 1860 年 4 月初他集結了大約一千名志願者，稱作「千人隊」，乘坐兩艘分別叫作「皮埃蒙特號」（Piemonte）和「倫巴第人號」（Lombardo）的船離開熱那亞，在西西里島最西端的馬爾薩拉登陸。他率領 800 名志願兵戰勝了卡拉塔菲米山上的 1500 人的敵軍。他曾說：「我們在這裡要麼成就義大利，要麼就死。」他贏得非凡的勝利，得到遍及全球的名望和義大利人們的恭維。征服了西西里島之後，他越過墨西拿海峽，並向北進軍。請問：上文所提到的人物應是哪一位？
(A)馬志尼 (B)加富爾 (C)加里波底 (D)俾斯麥

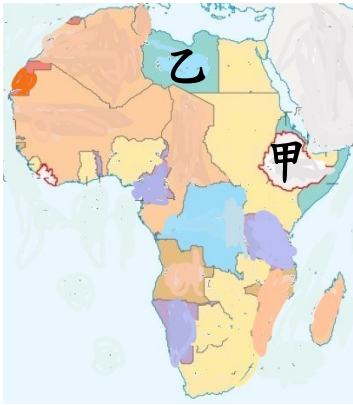
9. 諸帝國擁有工業化實力，遠非他國所能抵抗，軍事行動常被稱為「砲艦政策」（gunboat policy），表示入侵者以砲擊登陸之法即可輕易取勝。機關槍、大砲、汽船、電報等，使列強得以迅速占領殖民地，也顯示帝國主義是西方現代化的產物。列強常以「銀行與鐵路的征服政策」（policy of conquest by bank and railway）遂其目的，這種新的征服模式與經濟剝削行為，也可說是與古代（強調武力與領土占據）最大的差異。請問：關於文中提到的帝國主義國家，下列敘述何者正確？
(A)與 16 到 18 世紀大航海時代海上霸權的建立有關
(B)日本在大化革新後成為工業強國，對中國侵略腳步未曾停歇
(C)西班牙在此時占領菲律賓作為殖民地
(D)「社會達爾文主義」、「白種人的負擔」成為列強合理化其侵略行為的藉口

10. 帝國主義國家利用其強勢的政治、軍事力量，對其他國家進行經濟剝削或占領土地，19 世紀時的亞洲即成為列強的俎上肉。請問：根據下圖，下列敘述何者正確？
- (A) 丁、戊兩地均被丙國所統治
- (B) 法國利用清法戰爭占領右圖乙國
- (C) 1894 年己國發生內亂，英國趁機出兵以干涉內政
- (D) 法國將甲國作為殖民地

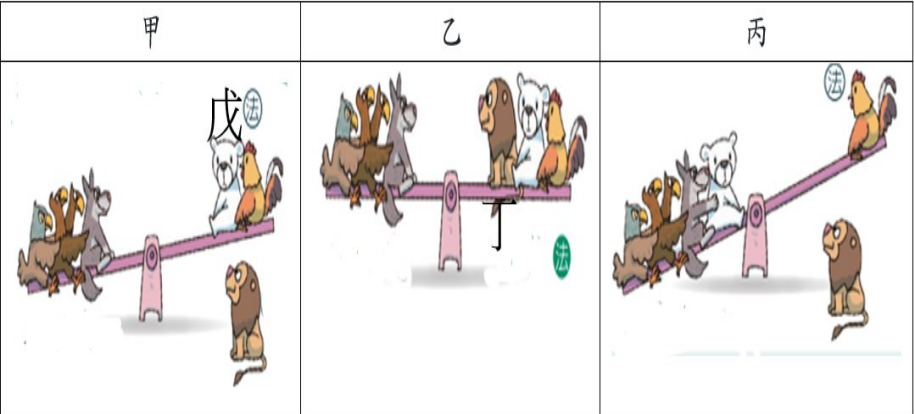


11. 非洲以往被西方人視為「黑暗大陸」，直至 19 世紀探險家深入非洲內陸並發現豐富的物產及礦產，遂引起列強瓜分非洲的興趣。請問：下列敘述何者正確？

- (A) 大航海時代荷蘭至非洲運黑奴至美洲以填補勞動力的缺口
- (B) 19 世紀瓜分非洲的列強中，以美國獲得的土地最多
- (C) 列強殖民非洲時強行劃定國界，導致日後非洲各國產生領土與民族的糾紛
- (D) 19 世紀末時僅有附圖甲、乙兩國維持獨立，其餘均被列強瓜分



12. 以下甲、乙、丙圖呈現「三國同盟」與「三國協約」形成的過程。請問：下列敘述何者正確？
- (A) 三圖按時間順序排列為：乙→甲→丙
- (B) 乙圖中的丁國坐到蹺蹺板的右邊，是因為俄國積極發展海軍對其產生威脅
- (C) 甲圖中的戊國對德國提出的「大斯拉夫主義」不滿，而與法國結盟
- (D) 丙圖中坐在蹺蹺板左邊的是德、俄、奧、義四個國家



【第 13~15 題為題組】請根據下圖，回答問題：



13. 巴爾幹半島在因當地民眾與統治者民族、宗教差異甚大，再加上列強干預，19 世紀後即使各國相繼獨立，仍隨時可能引燃戰火，而有「歐洲火藥庫」之稱。請問：下列敘述何者正確？

- (A) 巴爾幹半島自 15 世紀起為拜占庭帝國統治，但當地民眾多為信仰伊斯蘭教的斯拉夫民族
- (B) 1914 年斐迪南大公夫婦在右圖甲地被刺殺，成為第一次世界大戰的導火線
- (C) 右圖乙國靠攏同為斯拉夫民族的丙國以對抗丁國
- (D) 乙、丁兩國為 19 世紀起對巴爾幹半島干預最嚴重的國家

14. 第一次世界大戰的規模史無前例，大量新式戰術、科技與武器被初次運用在戰爭中，導致最後各國損失的程度超過了之前所有的軍事衝突。請問：關於一戰的敘述，下列何者正確？

- (A) 壕溝戰形成後協約國大有斬獲，迅速在各地取得勝利
- (B) 美國因右圖丙國實施無限制潛艇政策而參與同盟國陣營
- (C) 右圖丁國因國內爆發兩次革命，中途退出戰場
- (D) 原為協約國陣營的戊國，在戰爭初期改投同盟國的懷抱

15. 關於第一次世界大戰後的國際情勢，下列敘述何者正確？

- (A) 右圖丙國瓦解後出現捷克、奧地利、匈牙利等國
- (B) 原來統治圖中己地的帝國面臨瓦解
- (C) 美國積極參與國際事務，致力解決國際衝突
- (D) 1920 年聯合國成立，但因缺乏武力而成效不彰

16. 這個和會於 1918 年 11 月召開，目的解決大戰所造成的問題及商討參戰國戰後事宜。由於戰敗國和中立國均未獲邀請參加，所以這是勝利國舉行的和會，而勝利國又有大小之分別，它又是個大國操縱的和會。請問：關於文中提到的「和會」，下列敘述何者正確？

- (A) 由法國總理克里蒙梭、奧國首相梅特涅、美國總統威爾遜所主導
- (B) 日治時期的知識分子受到「十四點原則」的「民族自決」影響，在台灣推動政治社會運動
- (C) 同意讓日本接收中國東北的權利，導致五四運動的發生
- (D) 德國被迫簽訂喪權辱國的條約，從此一蹶不振而無法參與任何國際戰爭

17. 最早於地圖或文獻中以「臺灣」或音近之字稱呼的地區位於何處？

- (A) 臺南 (B) 基隆 (C) 花蓮 (D) 屏東

18. 承上題，該處為何種海岸類型？

- (A) 沙岸 (B) 岬灣海岸 (C) 斷層海岸 (D) 珊瑚礁海岸

19. 臺灣的海邊有許多以「鯤鯓」為名的地名，其原意為鯨魚，「鯤鯓」是指何種海岸地形？

- (A) 岬角 (B) 灣澳 (C) 珊瑚礁 (D) 沙洲

20. 臺灣的縣市名稱中，何者與當地自然環境特色較相關？

- (A) 新北 (B) 屏東 (C) 花蓮 (D) 高雄

新北市立新莊國民中學 112 學年度第 2 學期第 1 次段考 9 年級社會領域試題卷

班級 座號 姓名

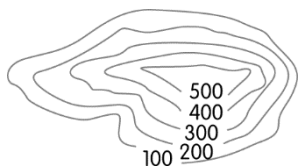
21. 臺灣的縣市名稱中，何者與原住民族較相關？
(A)桃園 (B)宜蘭 (C)臺東 (D)澎湖

22. 參考附圖，何處的縣市名稱與歷史事件較相關？
(A)甲 (B)乙 (C)丙 (D)丁

23. 承上題，何處的縣市名稱於日治時期更改？
(A)甲 (B)乙 (C)丙 (D)丁

24. 下列何者 不是 中華民國政府更改的地名？
(A)仁愛 (B)信義 (C)吉安 (D)彰化

25. 附圖中的地形最可能出現何種地名？
(A)崎 (B)茄苳
(C)寮 (D)尾



26. 出現何字的地名帶有「旁邊」的意思？
(A)埔 (B)墘 (C)腳 (D)角

27. 出現何字的地名帶有「市集」的意思？
(A)屋 (B)墟 (C)厝 (D)坑

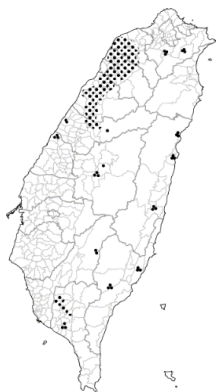
28. 下列何縣市最可能出現「蚵寮」地名？
(A)雲林 (B)基隆 (C)花蓮 (D)臺東

29. 高雄市的澄清湖位於鳥松區，該區名的由來與何者有關？
(A)地形 (B)氣候 (C)植物 (D)漁業

30. 「凍頂烏龍茶」一詞原意指「凍頂山種的烏龍茶」，凍頂山位於南投縣鹿谷鄉，「凍頂」一詞源自何族群的語言？
(A)荷蘭人 (B)原住民族 (C)閩南人 (D)客家人

31. 墾丁的鵝鑾鼻風景秀麗，「鼻」字指物體突出部分，「鵝鑾」與何族群的語言有關？
(A)荷蘭人 (B)原住民族
(C)閩南人 (D)客家人

32. 附圖為臺灣某族群的分布圖，該族群主要分布的地區，含有何字的地名可能會較多？
(A)鼻 (B)厝
(C)窩 (D)埔



33. 下列何者 不是 早年漢人移民從原鄉帶來的地名？
(A)東石 (B)南靖 (C)潮州 (D)三重

34. 南韓將自 3 月 29 日起開始實施，客房數在 50 間以上的住宿場所不得免費提供牙刷等一次性盥洗用品。另外，團體食堂、餐飲營業場所原則上禁止免費提供一次性餐具與用品。外帶、外送餐點部分，無論是透過 APP 或自助服務機等都必须提供「免用一次性餐具」的選項，供消費者自行選擇。關於南韓政府的作法，下列敘述何者正確？
(A)透過制度規範日常行為以維護永續發展
(B)與國際合作以解決貿易利潤分配不公的問題
(C)透過制度規範以減少跨國疾病傳播的問題
(D)透過國際合作縮短貧富差距問題

35. 台灣企業台積電宣布投入 1000 億美元佈局全球，與日本索尼半導體製造合資成立 JASM。2023 年 12 月台積電日本熊本廠完工，預計將直接創造 3400 個高科技人才就業機會，2024 年年底預計開始量產晶片。問：在不同國家進行商業活動，是屬於何種形式的全球化？
(A)政治全球化 (B)經濟全球化
(C)文化全球化 (D)科技全球化

36. 慈善救援組織樂施會 (Oxfam) 將 2020 年的年度報告標題，設定為《不平等病毒》。報告中提到光是全球前 10 大富豪在疫情中獲益的「災難財富」，就足以弭平全球的疫後貧困問題，並負擔全球 70 億人口「全人類接種疫苗」的費用。根據文中內容判斷，何項敘述最合理？
(A)生產技術進步加大國際差距
(B)全球呈現財富分配嚴重不均
(C)國際組織合力解決全球問題
(D)跨國企業加速國際專業分工

【第 37~38 題為題組】

中國大陸一艘快艇日前越界遭海巡署追緝翻覆後，近期網路流傳許多不實資訊，包含中國漁船包圍金門示威等影片，經台灣事實查核中心查證，為拼湊無關影像的錯誤訊息。台灣事實查核中心依循專業、透明、公正的原則，執行公共事務相關訊息之事實查核，期能抑制不實資訊的負面影響，提升公眾的資訊素養，裨益台灣的民主發展。

37. 由文中可知台灣事實查核中心成立宗旨最貼近下列何者？
(A)增加資訊傳遞的速度 (B)抑制假訊息的影響力
(C)推廣政府的公共政策 (D)主導社會輿論的走向
38. 文中提升公眾的資訊素養，是指民眾應強化何種能力？
(A)資訊分享 (B)網路教學 (C)媒體識讀 (D)製播新聞

【第 39~40 題為題組】

「臉書改變世界」 網路促成阿拉伯之春
21 世紀阿拉伯之春讓世人看到，推翻極權的武器，不是槍砲彈藥，而是網路和手機，突尼西亞一名青年攤販的自焚，最後竟然推翻獨裁政權，靠的就是臉書，當地新聞媒體被政府控管，民眾決定自己當記者，拍下抗爭畫面 PO 上臉書，靠社群網站動員，也把血腥鎮壓的過程透過網路傳到全世界，總統班阿里在民怨沸騰和國際譴責下，逃亡海外；埃及和利比亞也借助網路力量推倒極權骨牌。阿拉伯網路世代，年輕人突破極權政府的防火牆，向世界吶喊，更從社群網站獲得改變世界的力量。

39. 人民透過臉書讓總統下台是基於何項科技所賜？
(A)資訊科技 (B)生物科技 (C)能源科技 (D)環境科技
40. 網路促成阿拉伯之春最可能說明下列何者的重要性？
(A)運輸工具縮短旅行各國的路程
(B)工業革命帶動生產技術的轉變
(C)科技發展加速訊息傳播的速度
(D)政黨政治落實民主政治的精神

背面尚有試題

【第 41~42 題為題組】

一代巨星梅艷芳過世多年，經典歌曲「親密愛人」仍傳唱至今，代理版權的中華音樂著作權協會發現基隆某家卡拉OK店伴唱機內的「親密愛人」等六首歌曲授權失效兩個月，提起違反【甲】告訴，附帶民事求償，卡拉OK店陳姓負責人被基隆地院【乙】判罰金十萬元，另賠償十八萬元，還須負擔全數訴訟費用。近年則常見網拍賣家擅自使用原廠商品圖片、臉友重製他人影片等行為，都有可能觸犯【丙】。但法務部統計也發現，【丁】偵結的案件，有將近七成都是不起訴或緩起訴處分。民間不免質疑：「需要使用多少司法資源在刑責化這件事情上頭呢？」

41. 文中【甲】應為：
(A)著作權 (B)專利權 (C)商標權 (D)隱私權
42. 文中【乙】、【丁】分別應為：
(A)檢察官、法官 (B)法官、檢察官
(C)法官、法官 (D)檢察官、檢察官
43. 關於文中敘述何者正確？
(A)罰金十萬元屬於刑罰 (B)賠償十八萬元屬於行政罰
(C)丙應為智慧財產權法 (D)所有智慧財產一定要申請審查

【第 44~45 題為題組】

俄烏戰爭持續至今，隨著俄羅斯轉移戰略重心，許多當初逃離首都基輔的烏克蘭民眾，慢慢的回到原先的家園著手重建，但更多的是持續流離失所的人，據聯合國統計，不論是離開原先住所或離開烏克蘭，【甲】的數字來到了 1200 萬人之多。歐盟已經授予烏克蘭人在其 27 個成員國中居留和工作的權利，最長時間為三年。若不能與親友住在一起，他們會被安置在中心，提供食物和醫療，以及有關繼續旅行移動的訊息。他們也有權申請獲得社會福利金，並獲得住房、醫療和就學。至今，波蘭是接收烏克蘭人數最多的國家之一。

44. 上述文中【甲】應為：
(A)合法移民 (B)移民 (C)非法移民 (D)難民
45. 文中烏克蘭人的移入，最可能對波蘭造成何種影響？
(A)擴大國內的貧富差距 (B)帶動當地的流行文化
(C)降低當地文化多樣性 (D)造成公共資源的負擔

【第 46~48 題為題組】

孟加拉首都達卡一幢 8 層高的製衣工廠 2013 年 4 月底倒塌前，已有傳媒指大樓出現裂縫，但製衣廠老闆無視警告，仍要求工人進入大樓工作。1,134 人在大樓倒塌中失去生命。八年過後，依然有許多工人在血汗工廠工作時喪生，這說明了這期間製衣工人的人身安全、薪資與權利仍舊未受到合理保障。在成衣工廠大樓倒塌的慘劇發生後，包括 H&M、Zara 的母公司 Inditex 與愛迪達 Adidas 在內的 200 多個全球品牌都簽署了 2013 年的《防火及建築安全協議 Fire and Building Safety agreement》，這是一份具有法律約束力的協議，以確保孟加拉的製衣工人們擁有一個安全的工作環境。

46. 國際知名品牌選擇孟加拉工廠進行代工，其主要的考量在於下列何者？
(A)追求經濟上最大的利潤
(B)改變國際上貧富差距的現況
(C)為開發中國家爭取就業機會
(D)分擔已開發國家的工作壓力
47. 文中孟加拉代工廠產生血汗工廠的問題並造成嚴重傷害，主要是下列何項原因？
(A)過高的繳稅壓力 (B)不合理的物價水準
(C)低安全的工作環境 (D)高標準的工作要求
48. 由文中可知，下列何項政策可防止這類悲劇發生？
(A)減少對國際貿易進出口的依賴
(B)完全拒絕已開發國家的代工要求
(C)爭取將勞動人權與貿易、法規結合
(D)致力於減少商業上資源的浪費

【第 49~50 題為題組】

韓流現象的開始，可追溯到上世紀 90 年代末，但如今滲透到全球流行文化中。串流媒體平台上充斥著韓劇，防彈少年團的音樂總是從我們的耳機裡流竄出來，BLACKPINK 又奪走了我們的目光。《寄生上流》成了奧斯卡第一部獲得最佳影片獎的外語電影，甚至成為西班牙票房冠軍。《魷魚遊戲》已經成為全球 Netflix 史上最多收看次數的影集，首映當月就吸引了 1.11 億人觀看，Netflix 如今下重本大量支持韓劇開拍。當然我們承認，家裡的冰箱還有些韓國泡菜或韓式炸雞還沒吃完。

49. 上述現象可能造成的影響，用下列何項敘述來詮釋最貼切？
(A)跨國企業影響各地休閒生活型態
(B)全球文化與本土文化的共存融合
(C)韓國傳統文化成為全球主流文化
(D)全球化可能促使文化趨向單一化
50. 關於文中韓流文化的敘述，何者錯誤？
(A)展現了文化全球化特色 (B)呈現出文化交流的內涵
(C)受益於交通工具的革新 (D)受益於傳播媒體的發展

試題結束

新北市立新莊國民中學 112 學年度第 2 學期第 1 次段考

9 年級社會領域試題解答

1	2	3	4	5	6	7	8	9	10
B	D	C	D	B	A	D	C	D	A
11	12	13	14	15	16	17	18	19	20
C	D	D	C	B	B	A	A	D	C
21	22	23	24	25	26	27	28	29	30
B	A	C	D	A	B	B	A	C	D
31	32	33	34	35	36	37	38	39	40
B	C	D	A	B	B	B	C	A	C
41	42	43	44	45	46	47	48	49	50
A	B	A	D	D	A	C	C	D	C