

※ 選擇題：本試卷共 50 題，每題 2 分，總分為 100 分。

每一題均為單選題，請選出最適當答案劃記於答案卡。

【題組一】圖一 是文化層形成想像圖。請根據此圖，回答第 1-2 題：

1. 關於乙、丙兩時代人類生活特色的比較，下列何者正確？

- (A) 乙時代石器採用打製；丙時代則用磨製
- (B) 乙時代人們居住在洞穴中；丙時代則有住屋建築
- (C) 乙時代有農業的出現；丙時代人們以採集為生
- (D) 乙時代人們只知追捕野獸；丙時代則飼養家畜作為食物來源

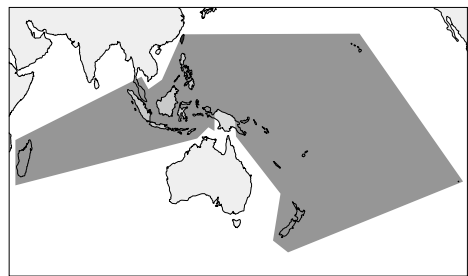
2. 關於甲時代的敘述，下列何者為「非」？

- (A) 代表文化位於新北市八里區
- (B) 較乙、丙時代距離現今時間較久遠
- (C) 人們與其他地區有貿易往來
- (D) 遺址曾出土玻璃手環、瑪瑙珠飾等物品

3. 台灣某一史前文化遺址出土人獸形玉質耳飾，為當時人們的裝飾品，過世後則當作隨葬品。石板棺與地上建築物的座向相同，均朝向聖山—都蘭山。請問：下列何者為該文化遺址的特色？

- (A) 分布在圖二甲處
- (B) 與圖二乙處的文化遺址同屬於舊石器時代晚期
- (C) 距今約五萬至五千年前
- (D) 當時人們已有審美及宗教觀念

4. 圖三 為某一族群的分布圖。請問：關於此族群的敘述，下列何者正確？



圖三

- (A) 臺灣位於分布範圍中的最南端
- (B) 臺灣原住民與澳大利亞原住民屬於同一語系
- (C) 漢人亦包含在此族群之中
- (D) 分布在太平洋與印度洋島嶼上

5. 老師在課堂上將不同時期對於原住民的稱呼整理成下列表格，並請同學解釋相關內容，請問哪一位同學說「錯」了？

時代	清領時期	日治時期	中華民國時期	
			修憲前	修憲後
稱呼	甲	高砂族	高山族（山地同胞）	原住民
	熟番	乙		

- (A) 小明：「甲族群有向政府納稅及服勞役，被視為清朝的子民。」
- (B) 小花：「乙族群大多子女、財產歸女方所有，實施贅婚制。」

(C) 小華：「甲族群漢化較淺，多保留其傳統文化。」

(D) 小安：「乙族群主要分布臺灣西部及東北部的平原、丘陵地。」

【題組二】圖四 為臺灣原住民分布圖。請根據此圖，回答第 6-8 題：

6. 「漁團成員在飛魚祭前一個月就集體生活，一起造船及結網捕魚，其間飲食、生活都有一定的規範，四個月後等飛魚汛期結束後方可解散返家，漁獲則由成員平分。」請問：以上是在描述圖中哪一族群的組織？

- (A) 甲 (B) 乙 (C) 丙 (D) 丁

7. 「族人分為大頭目、貴族、士、平民，只有頭目家才可以在住屋的入口簷桁上雕刻蛇、鹿、人頭等花紋。

平民從事漁獵或耕作時須向貴族承租土地，族內所有土地均為貴族所有。」請問：以上是在描述圖中哪一族群的社會階層？

- (A) 甲 (B) 丙 (C) 丁 (D) 己

8. 「阿立祖的信仰沒有塑像、神位，而是祭拜壺、甕等物，來作為祖靈的象徵。容器內裝水並插上草葉以反映祖先靈魂的力量，也代表祖靈洗淨休憩之所。壺甕底下鋪香蕉葉墊底，以米酒、檳榔作為祭品。」請問：以上是在描述圖中哪一族群的宗教信仰？

- (A) 丙 (B) 丁 (C) 戊 (D) 己

9. 小萱到澎湖旅遊，參觀古色古香的天后宮。她聽當地民眾解說澎湖的歷史演變，卻發現其中有與史實不符合的地方。請問：下列哪一敘述是「錯誤」的？

- (A) 澎湖天后宮是臺澎地區歷史最悠久的媽祖廟
- (B) 明朝政府曾派兵進駐澎湖，使海商轉向臺灣活動
- (C) 日本人稱澎湖為「高砂」或「高山國」
- (D) 元朝曾在澎湖設置巡檢司，為官方設立機構之始

【題組三】圖五 為十七世紀歐洲人在東亞的重要貿易據點。請根據此圖，回答第 10-11 題：

10. 「該公司以

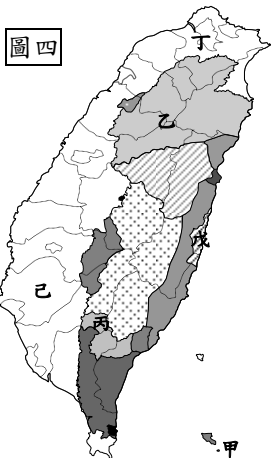


為標誌，建立於 17 世紀大航海時代。國家議會授權該公司具有貿易壟斷權，是第一家可以自組傭兵、發行貨幣的股份有限公司。該公司被獲准與其他國家簽訂正式的條約，並有實行殖民與統治的權力。」請問：上述公司的總部位於圖中何處？

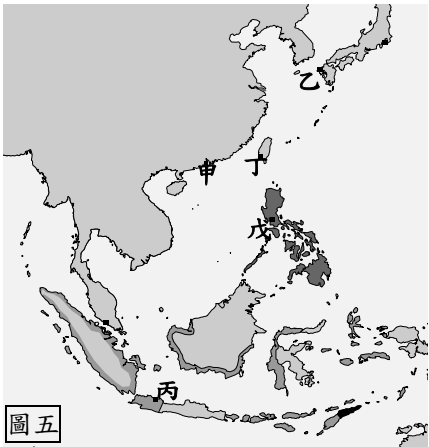
- (A) 甲 (B) 乙 (C) 丙 (D) 丁

11. 關於在圖中戊地建立貿易據點的國家下列敘述何者正確？

- (A) 常劫掠中國東南沿海，被稱為「倭寇」
- (B) 商隊曾占領澎湖，但被明將沈有容逼退
- (C) 為最先占領臺灣南部的歐洲國家
- (D) 因日本實施鎖國政策而貿易受挫，減少駐臺守軍



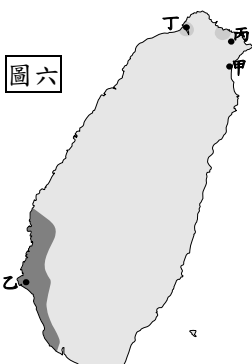
圖四



圖五

【題組四】請根據圖六回答第 12-13 題：

12. 小靜參加古蹟之旅，導遊介紹：「這座城堡最早建於 1624 年，原名奧倫治城（Orange）、熱蘭遮城（Zeelandia）。建築格局分為方形內城與長方形外城，日治時期內城建築全毀，日人建造西式平房作為海關宿舍。今日殘存七十多公尺長的外城南牆殘壁，見證 300 多年來的滄桑。」請問：小靜是到圖中何處旅遊？



圖六

- (A) 甲 (B) 乙 (C) 丙 (D) 丁
13. 「此國曾於 1626 年進攻臺灣，在臺統治的時間為 16 年，建立聖薩爾瓦多城與聖多明哥城，並積極傳播天主教。」請問：上述國家曾占領圖中哪些地方？

- (A) 甲乙丙 (B) 乙丙丁 (C) 甲乙丁 (D) 甲丙丁

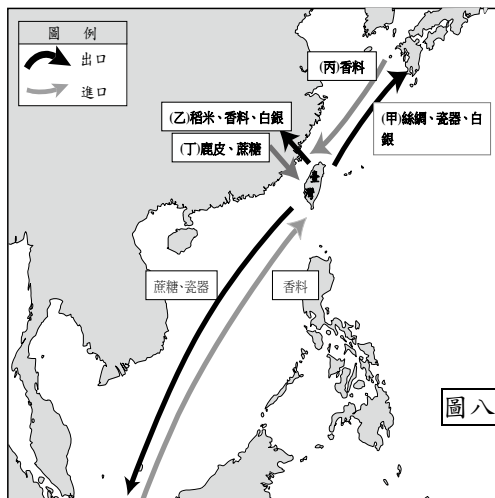
14. 圖七為某國文字與新港文對照的新約聖經馬太福音，該國傳教士曾教導臺灣原住民拼寫語言，因而留下如圖七的文字呈現。請問：關於此國統治臺灣原住民的方式，下列何者「錯誤」？



圖七

- (A) 教導噶瑪蘭族新港社原住民利用羅馬字母拼寫語言，稱為「新港文」
- (B) 授予各社原住民選出的長老維持村落秩序的權力
- (C) 先以武力征服，再實施行政控制與宗教教化
- (D) 以「臺灣長官」為統治臺灣的最高行政官員，加強控制原住民。

15. 荷蘭人將臺灣作為國際貿易的轉運站，輸出臺灣的特產，並利用臺灣轉運貨品，進行與中國、日本、南洋等地的貿易。圖八顯示荷治時期臺灣的對外貿易，請問圖中那一項是正確的？



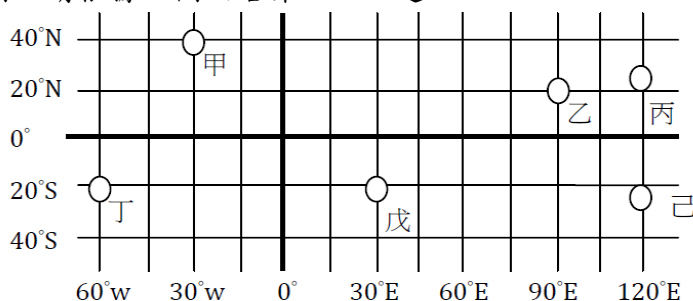
圖八

- (A) 甲 (B) 乙 (C) 丙 (D) 丁

16. 「1652 年一位漢人因不滿荷蘭人的多年壓榨，憤而領導民眾反抗，這場抗荷事件持續 14 天，荷蘭人屠殺不少漢人，甚至連婦女、小孩也不放過，導致於漢人對荷蘭人更加痛恨。」請問：以上是在描述哪一位的事蹟？

- (A) 顏思齊 (B) 鄭成功 (C) 郭懷一 (D) 鄭芝龍

【題組五】2017 世界大學夏季運動會於台北舉辦，來自 140 多國家的運動選手齊聚台北街頭，在不同的運動項目較競，為自己的國家爭取榮譽。圖九為六個參加世大運國家的位置圖，請根據此圖回答第 17-19 題：



圖九

17. 「2017 年世界大學夏季運動會」是在圖中何處舉辦？

- (A) 甲 (B) 丙 (C) 戊 (D) 己

18. 中華台北 VS 巴西的排球賽事於 8/22 20:00 台灣網路直播，巴西球迷可於 8/22 早上 8:00 利用手機看直播為巴西加油。請問：圖中何處應為巴西？

- (A) 甲 (B) 乙 (C) 丁 (D) 戊

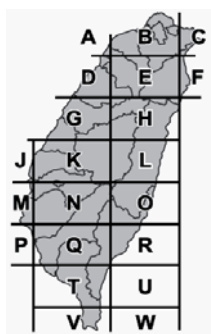
19. 「世界大學夏季運動會」歷年舉辦日期皆為 7-9 月，若以季節與氣候條件來看，下列何者適合成為申辦城市？

- (A) 乙 (B) 丁 (C) 戊 (D) 己

【題組六】台灣的電線桿或配電箱，大多標有英文字母和數字組成的雙排編號，共 9 碼或 11 碼，此編號為「電力坐標」，如圖十所示。坐標中的英文字母和數字乃根據固定的規則編碼，例如第一個英文字母代表分區坐標區碼，對照圖十一即可大略知道位於台灣何處。電力坐標經過簡單的換算，可以轉換成台灣常用的坐標系統。因此民眾只要向救難單位報出電力坐標，救難人員即可依此坐標精確確認地點。請問：



圖十



圖十一

20. 位置的表示方法可分為絕對位置和相對位置。上文介紹電線桿上的編號與下列何者的表示法相同？

- (A) 新莊國中位於新莊捷運站西南方
- (B) 新莊國中位在新莊區中正路 211 號
- (C) 新莊國中距離新月橋僅有 800 公尺
- (D) 新莊國中位於新莊消防局對面

21. 圖十電線桿上的編號，對照圖十一判斷，它最有可能位於下列哪個縣市？

- (A) 宜蘭縣 (B) 彰化縣 (C) 屏東縣 (D) 南投縣

【題組七】圖十二是認識新莊國中的重要工具，請根據此工具回答下列問題：



圖十二

22. 此張地圖看似完整卻難以判讀重要資訊，有可能是因為缺乏下列何項地圖要素？

- (A) 圖名 (B) 圖例 (C) 比例尺 (D) 方向標

23. 慈祐宮為新莊區的重要信仰中心，如果要在新莊捷運站擺放慈祐宮的最短距離指引，下列何者最接近其距離標示？

- (A) 40 公尺 (B) 200 公尺 (C) 2000 公尺 (D) 40000 公尺

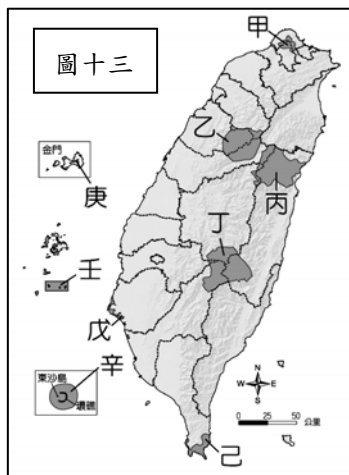
24. 新莊國中學生若要到操場司令台上體育課，應往哪個方向移動？

- (A) 西南方 (B) 東南方 (C) 西北方 (D) 東北方

25. 圖中「甲」為電子地圖可見的重要按鈕，按【+】則比例尺變大，按【-】則比例尺變小，關於此按鈕的變化，下列何者正確？

- (A) 按【+】地圖涵蓋範圍變大
(B) 按【-】地圖涵蓋面積變大
(C) 按【+】地圖內容較為簡略
(D) 按【-】地圖內容較為詳細

【題組八】圖十三為台灣的國家公園分布圖，請根據此圖回答下列問題：



26. 圖十四是介紹某種礦產的海報，這張海報最有可能展示於圖十三的哪個國家公園遊客中心？

- (A) 甲 (B) 乙 (C) 丙 (D) 丁

27. 多數人以為國家公園僅針對自然景觀或物種進行保育，殊不知也針對特殊的人文景觀進行保護。圖十三哪三個國家公園可見人文景觀的保護成果？

- (A) 甲丙己 (B) 乙丁辛 (C) 丙己辛 (D) 戊庚壬

28. 珊瑚除了是海洋的重要生物資源外，更是用來研究溫室效應與海洋環境的重要指標。若環境學家想利用珊瑚來研究氣候變遷，則圖十三哪兩個國家公園是最好的選擇？

- (A) 甲丙 (B) 乙丁 (C) 己辛 (D) 庚壬

【題組九】台灣的生態相當豐富，種類多元與珍貴程度舉世聞名，可以說是北半球重要的生物研究典範，不論是動植物、海岸生態、海洋環境等，都有許多國內外學者到訪進行研究。請問：

29. 「台灣特有亞種動植物」指的是：與亞洲地區的其他物種有血緣關係，卻在演化的過程中展現自己的獨特性，如台灣獼猴、台灣黑熊皆屬於台灣獨有的特有亞種動物。試問：台灣獼猴、黑熊是受到下列哪項因素而獨立演化？

- (A) 冰河作用 (B) 海水阻隔 (C) 陸地上升 (D) 海水下降

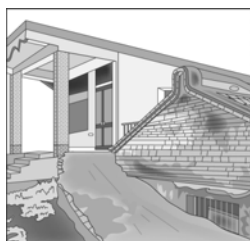
30. 阿里山森林鐵道是許多國外植物學家極感興趣的一條研究路線，短短的一個小時便可見熱帶、副熱帶、溫帶等不同氣候帶的植物。試問：此條鐵道所以能有這麼多豐富的氣候帶與下列何者關係最密切？

- (A) 冬夏季風風向轉換 (B) 火山爆發形成島嶼
(C) 地表侵蝕與堆積旺盛 (D) 板塊擠壓使地形急遽抬升

【題組十】台灣人口密度排名世界第二，在開發或利用自然環境時，常會破壞生態，進而產生許多環境問題或災害。若以台灣永續發展為宗旨，則找出問題成因並加以解決，才是最好的途徑。請問：

31. 圖十五為台灣西南沿海地區常見的建築景觀，當地民居常有下沉現象，每到颱風季節更要擔心淹水問題。請問：此種現象的成因與下列何者有關？

- (A) 山坡地濫墾濫伐
(B) 養殖業超抽地下水



圖十五

- (C) 工廠任意排放廢水
(D) 溫室效應造成海岸侵蝕

32. 圖十六為台灣河川污染分布圖，顏色愈深線條表示河川汙染愈嚴重，若由圖中河川汙染的分布狀況來看，汙染的程度與下列何者關係較為密切？

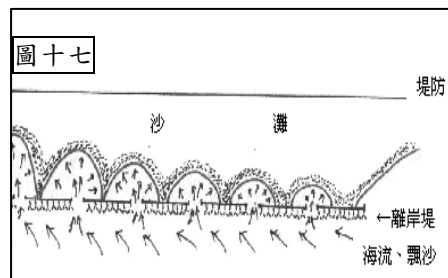
- (A) 降雨多寡
(B) 緯度高低
(C) 人口多寡
(D) 氣溫高低



圖十六

33. 圖十七為台灣茄苳鄉為解決某種嚴重環境問題所做的補救措施，雖然投入大量資金，卻難以解決問題。請問：茄苳鄉面臨何種環境問題？

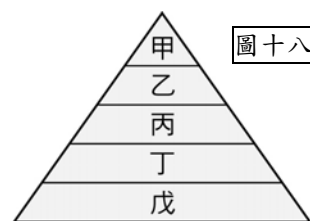
- (A) 珊瑚白化
(B) 海岸侵蝕
(C) 土石流頻繁
(D) 河川汙染



圖十七

34. 根據圖十八需求層次理論判斷，下列敘述何者正確？

- (A) 奉獻自己，從事志工服務為丙需求的滿足
(B) 乙又稱為「社會需求」
(C) 戊需求獲得滿足後，會尋求更高一層次的滿足
(D) 甲到丁為物質的需求



圖十八

35. 下列選項中，何者與其他三者的性別概念不同？

	男生	女生
(A)	愛看動作片	喜歡偶像劇
(B)	擅長理工、機械	擅長語文、商科
(C)	性染色體為 XY	性染色體 XX
(D)	好動有體力	文靜心思細膩

36. 網路和電視是現代人休閒活動的首要選擇，請問：下列哪一項媒體訊息會增強大眾的性別刻板印象？

- (A) 好媳婦藝人代言洗衣機 (B) 知名男性大廚推薦鍋具
(C) 女歌手拍攝衛生棉廣告 (D) 偶像劇男主角代言按摩椅

37. 2013 年美國紀錄片《黑鯨》記載一隻虎鯨，於冰島被捕獲，輾轉販售至各水族館供人觀賞，36 年的生命有將近 2/3 在水族館渡過。虎鯨生性需要大型的活動空間，於是不斷衝撞堅硬的玻璃牆，讓自己遍體鱗傷，水族館更以藥物加以控制。紐約州和加州紛紛立法禁止虎鯨的圈養。請問：圈養虎鯨的行為凸顯人們缺乏何種觀念？(甲)尊重生命(乙)體驗生命(丙)享受生命(丁)生命平等。

- (A) 甲乙 (B) 甲丙 (C) 甲丁 (D) 乙丙

38. 東晉文學家陶淵明曾留下「...『盛年不重來，一日難再晨』，及時當勉勵，歲月不待人」的名句。請問：『』中的句子最能呈現出生命的何種特性？

- (A) 獨特性 (B) 無常性 (C) 有限性 (D) 不可回逆性

39. 承上題，針對上述生命的特性，我們應該抱持下列何種態度？

- (A) 站在半路，比走到目標更辛苦
(B) 活在當下，珍惜生命中的每一刻
(C) 明天是世上增值最快的一塊土地，因它充滿了希望
(D) 幸福不在得到的多，而在計較的少

40. (甲)從越南嫁來臺灣的阿桃，很受夫家的疼愛(乙)臺灣標槍好手鄭兆村奪下世大運金牌，打破亞洲紀錄為台灣爭光(丙)阿瑋父母依照阿瑋的決定，選擇他想要學習的才藝(丁)北市將為學童配戴防身警報器(戊)臺灣寶島行善義工團倡導普渡供品捐助弱勢，打造「無飢餓社會」。若依照馬斯洛的需求層次分類，上面五項敘述分別代表五種需求，由最低層次到最高層次的排列順序依序應為下列何者？

- (A) 甲乙丙丁戊 (B) 戊丁丙甲乙
(C) 丁乙丙戊甲 (D) 戊丁甲丙乙

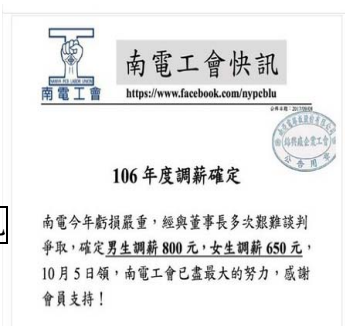
41. 在醫學院，有一群很特別的「師資」，用一種非常獨特的方式來傳道、授業、解惑，他們給學生的，是貨真價實的「身教」，我們稱他們為「大體老師」，又尊稱他們為「無語良師」。這群老師們在他們生命終了之後，遺愛人間，提供他們的軀體，讓醫學生解剖下刀，以做好將來行醫的準備。請問：這群「無語良師」，最能彰顯生命的何種態度？

- (A) 充實生命的內涵 (B) 延續生命的價值
(C) 肯定生命的尊嚴 (D) 享受生命的樂趣

42. 新聞報導：亞電路板(股)公司錦興廠企業工會於 9 月 8 日在粉絲頁上公布調薪計劃如圖十九，引發_____之爭議。請問：_____中應填入下列何者概念？

- (A) 性別角色
(B) 性別刻板印象
(C) 性別偏見
(D) 性別歧視

圖十九



43. 承上題，若經查證，此篇報導若為屬實，有可能違反下列哪一項法律規定？

- (A) 民法 (B) 性別平等教育法
(C) 性別工作平等法 (D) 性騷擾防治法

44. 小筠和阿燦這對小夫妻初嘗喜獲麟兒的喜悅，夫妻倆準備替孩子命名並申報戶口，阿燦表示跟從父姓理所當然。請問：小筠可拿出哪一個法律和丈夫互相溝通協調？

- (A) 民法 (B) 性別平等教育法
(C) 性別工作平等法 (D) 性騷擾防治法

45. 承上題，下列何者符合此項法律規定的主要意旨？

- (A) 健全兒童福利制度 (B) 促進婚姻關係和諧
(C) 落實性別平等權利 (D) 強化社會規範效力

46. 日本樂壇天后濱崎步於 90 年代紅極一時，豈料原來看似美好的前程卻在幾年後逐漸幻滅。2000 年，開始出現耳疾症狀的她，因為身體失衡，彩排時不慎從 1.5 米高的舞臺摔落，加速左耳機能惡化。到了 2008 年，濱崎步突然對外宣告左耳聽力完全喪失，震驚了全亞洲。濱崎步表示：「就算快聽不到了，我就聽到聲為止；就算快跑不動了，我就動到極限為止。憐憫或同情什麼的，謝謝你，我不要，因為我闖到極限也要昂首挺胸的走下去。」請問：下列何項敘述最能符合濱崎步面對生命的態度？

- (A) 生命有限、改變自我 (B) 面對挑戰、珍視生命
(C) 生命無常、延續生命價值 (D) 生命無常、尊重生命

47. 郝聰明在做公民課本上的隨堂練習，下列哪一個選項，代表他的概念完全正確？

1.遭到性騷擾的人，因為自己言行舉止過於輕浮，穿著太暴露。
2.性騷擾通常都發生在異性之間，通常都是男性對女性。
3.性騷擾的界定標準是依據被性騷擾者的感受為準。
4.男女朋友間也必須尊重對方，否則仍可能構成性騷擾。
5.性騷擾只發生在陌生人間。
6.同學間的黃色笑話、身體碰觸，無傷大雅，是正常的人際互動。

- (A) ○○○XXX (B) XX○○XX
(C) ○○○X○X (D) X○○X○X。

48. 近年來，校園性騷擾、性侵害事件頻傳，下列敘述何者正確？(甲)被害人或檢舉人可向學務處申訴(乙)交由性別平等教育委員會調查、輔導(丙)將公開處理相關案件，以示公正(丁)對於加害人施以性別平等輔導課程(戊)依據性騷擾防治法規定處理。

- (A) 甲乙丁 (B) 甲乙丙 (C) 甲丙戊 (D) 乙丙戊。

49. 小芯最近要作公民報告，有關多元智慧理論，下表中的選項何者有誤？

	(A)	(B)	(C)	(D)
潛在能力	肢體動覺智慧	邏輯數學智慧	空間智慧	人際智慧
擅長領域或從事職業	運動員	數學家	畫家	宗教家
代表人物	林書豪	牛頓	楊思典	證嚴法師

50. 下面同學在討論公民課相關的課題，何者所提及的觀念較不適當？

- (A) 丁丁：「護理系不限性別，我要當個最有愛心的『男』丁格爾。」
(B) 阿丹：「人類的智慧多元且相輔相成，我們要用心探索自己的潛能。」
(C) 佩慈：「每個生命都具有獨特性，我們要接納自己、欣賞他人」
(D) 安琪：「爸爸說：『我是一家之主，財產都應該由我管理，也不准家中女生讀汽修科』。」

作答結束

新北市立新莊國民中學 106 學年度第 1 學期第 1 次段考 7 年級社會領域試題

解答

1	2	3	4	5	6	7	8	9	10
C	B	D	D	A	A	B	D	C	C
11	12	13	14	15	16	17	18	19	20
D	B	D	A	B	C	B	C	A	B
21	22	23	24	25	26	27	28	29	30
A	B	B	A	B	A	D	C	B	D
31	32	33	34	35	36	37	38	39	40
B	C	B	C	C	A	C	D	B	D
41	42	43	44	45	46	47	48	49	50
B	D	C	A	C	B	B	A	D	D