

- ※ 選擇題：本試卷共 50 題，每題 2 分，總分為 100 分。  
 ※ 每一題均為單選題，請選出最適當答案。  
 ※ 請用 2B 鉛筆在答案卡上相應的位置畫記。

【第 1~2 題為題組】

網站寫道：「中國湖北省武漢市武昌區，在 1911 年 10 月建立湖北軍政府，1981 年紀念革命 70 周年時，在舊址建立了紀念館，當時宋慶齡名譽主席親筆題寫了館名。館內有許多當年革命的文物與歷史照片……等。」

以上出自中國新聞網

- 請問：館內可以看到哪項歷史文物？  
 (A)國民黨贏得國會大選的報導  
 (B)辛亥革命歷史的文物與遺跡  
 (C)袁世凱就任總統的報紙  
 (D)梁啟超立憲運動的文宣
- 請問：短文中提到的革命，最後能一舉成功，跟下面哪個歷史事件有關？  
 (A)護法運動 (B)廣州黃花岡之役  
 (C)保路運動 (D)中國同盟會成立

【第 3~4 題為題組】

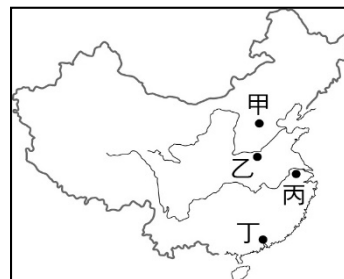
經 NGC 認證的中國硬幣預計將在斯賓克拍賣會上以逾 10 萬美元的價格成交

在即將舉行的斯賓克 (Spink) 拍賣會上，數百枚經 Numismatic Guaranty Company (NGC) 認證的硬幣將悉數亮相，本場拍賣會上其中最為備受矚目的是中國一枚洪憲元年 (1916 年)『飛龍銀幣』(沖天冠)，其評級等級為 NGC AU 58 (場次 CSS86A，拍品號 425)，估價為 100 萬至 150 萬港元 (折合約 12.8 萬至 19.2 萬美元)。

以上出自 NGC 公司(2022/12/23)

- 請問：文章中備受矚目的中國硬幣，會看到誰的頭像？  
 (A)段祺瑞 (B)宣統皇帝 (C)孫中山 (D)袁世凱
- 請問：這枚硬幣的發行，可以見證中國經歷哪個事件？  
 (A)軍閥割據的時期 (B)南北政府的分裂  
 (C)二次革命的過程 (D)中華帝國的實施
- 中國東北瀋陽有間「大帥府」，是民國初年某位軍閥的官邸，據說他崇信關羽，在房外蓋一座關帝廟，但大樓最著名的房間為「虎廳」，裡面有兩隻東北虎的標本(現在是道具虎)，請問：這是哪位軍閥的住所？  
 (A)段祺瑞 (B)張作霖 (C)宋教仁 (D)蔡元培
- 民國初年某任外交官回憶道：「當年學生不斷高喊『打倒賣國賊』、『還我青島』，甚至最後還衝進我家，還好我反應快，躲到房間的箱子裡，但沒想到學生最後還放火……」請問：根據上面的回憶，當時中國發生什麼事件？  
 (A)五四運動的爆發，學生抗議和會的決定  
 (B)段祺瑞控制住北京政府，另立新的國會  
 (C)學生走上街頭遊行抗議，軍閥因此結束  
 (D)反對袁世凱控制政權，要求他立刻下台
- 中國新知識份子將西方新思想與流行學說介紹到中國，其中「德先生」與「賽先生」被視為西方進步的表徵，請問：「德先生」與「賽先生」分別是指什麼？(請按照順序)  
 (A)自由 民主 (B)改革 開放  
 (C)民主 科學 (D)科學 民主
- 中國山東「迎賓館」建於 1907 年，整體建築擁有歐洲皇家風格，德國古堡樣式的裝飾，十分華麗典雅，但在 1914 年後，成為為日本守備軍司令官邸。請問：「迎賓館」會有這樣的轉變，跟哪件事情有關？  
 (A)第二次世界大戰的結束，日本得到山東  
 (B)張作霖與日本一起共用山東地區的資源  
 (C)二十一條要求的簽署，日本得到山東特權  
 (D)清帝國的退位，德國與日本趁機佔領山東

- 3 月 29 日是青年節，為紀念黃花岡之役犧牲的人，當時參與者皆是青年，壯烈的犧牲震撼當時的社會，請問：這場革命發生的地點在(圖一)中的何處？  
 (A)甲 (B)乙  
 (C)丙 (D)丁



(圖一)

- 2023 年 8 月 8 日夏威夷一場致命的野火讓茂宜島滿目瘡痍，島上的和興博物館也遭受波及，博物館內有孫中山革命的文物與生平介紹，據說國父當時在檀香山成立第一個革命團體後，和興會館(和興博物館前身)曾為革命提供支持，但日前存活的員工哭訴：「已經燒沒了」，請問：和興會館曾為哪個革命團體提供金援？  
 (A)興中會 (B)同盟會 (C)共產黨 (D)蒙養院
- 「我」的出現是為了限制總統職權，但日後被廢止，新的掌權者上台後，也拒絕讓「我」重出江湖，「我」被認為遭到毀棄，有人號召部分國會議員南下維護「我」，請問：關於「我」的敘述，下列何者正確？  
 (甲)「我」是內閣制，由內閣掌握行政大權  
 (乙)第一次廢止「我」的人是大總統段祺瑞  
 (丙)孫中山號召部分國會議員南下維護「我」  
 (丁)袁世凱毀棄「我」，造就之後的護法運動  
 (A)甲丙 (B)甲丁 (C)乙丁 (D)丙丁
- 一號：我擔任北大校長時，提倡自由學風  
 二號：通俗易懂的白話文要取代文言文才行  
 三號：我讓宣統退位，獲得臨時大總統職位  
 四號：我對德宣戰，加入了第一次世界大戰  
 請問：下列對一號到四號的敘述何者正確？  
 (甲)一號的學校以前是京師大學堂  
 (乙)二號與陳獨秀有相同的觀點  
 (丙)四號在以前曾是三號的部屬  
 (丁)一號與二號一起編輯新青年  
 (A)甲乙丙 (B)乙丙丁 (C)甲乙丁 (D)甲丙丁
- 新文化運動強調個人獨立自主精神，使婦女與兒童地位提升，請問：清末民初會有哪些現象？  
 (甲)堅持「男女授受不親」的觀念  
 (乙)幼稚園的出現，並培育專門師資  
 (丙)女性積極爭取參與政治的權利  
 (丁)政府提倡「女子無才便是德」  
 (A)甲乙 (B)甲丙 (C)乙丁 (D)乙丙
- 當時的老百姓說到：「中華民國已經建立，我以為我們可以過上太平日子，怎麼才民國兩年，又要開始革命...」，請問：百姓們說的「又要開始革命」是指哪件事情的爆發？  
 (A)張作霖奪取北京政府，人民不滿發動革命  
 (B)袁世凱恢復帝制，孫中山再一次發動革命  
 (C)國民黨與袁世凱衝突升高，造成二次革命  
 (D)同盟會的成立，孫中山捲土重來持續革命
- 劇本台詞寫到：「我背後有其他國家當靠山，只要在政治上有不合我意的事情發生，就直接用武力來解決，我的目標是搶到象徵中央的北京政府」，請問：這個劇本是在描述中國哪個時期？  
 (A)袁世凱執政時期 (B)軍閥混亂時期  
 (C)孫中山革命時期 (D)洪憲帝制時期

16. 民國 4 年，青年雜誌的創刊，揭開「新文化運動」的序幕，中國開始進行思想文化的改造，請問：當時社會上不可能看到哪些情形？

- (A) 學生們開始使用新式標點符號  
(B) 儒家思想的權威，仍無法撼動  
(C) 共產主義的思想已經進入中國  
(D) 魯迅發表白話文小說狂人日記

【第 17~18 題為題組】



印尼雅加達是全球最擁擠的城市之一，人口超過 1000 萬，為了解決地層下陷和交通汙染等問題，印尼政府預計 2024 年開始分階段搬遷到新首都「努山塔拉」(如附圖)。努山塔拉位於婆羅洲的東加里曼丹省，自然災害風險最小，其次它位於印尼中心點，有助於管理國家，且平衡區域發展。政府雖承諾把開發新首都造成的衝擊降到最低，仍造成與原住民和生態爭地的疑慮。請依上文回答下列問題：

17. 努山塔拉的座標為(1°S, 116°E)，請問下列何者應為原首都雅加達的座標？

- (A) (6°S, 106°E) (B) (6°N, 106°E)  
(C) (6°N, 120°E) (D) (6°S, 120°E)

18. 印尼政府選擇「努山塔拉」為新首都的理由之一為「自然災害風險最小」，請問下列何者「不是」印尼常見的自然災害？

- (A) 地震 (B) 火山噴發 (C) 洪患 (D) 乾旱

【第 19~20 題為題組】

自去年十月以巴衝突升溫後，馬來西亞算是除了阿拉伯世界以外，相當積極支持巴勒斯坦的國家，國內先後舉辦多場聲援巴勒斯坦的集會，被認為與以色列有關的企業更是持續遭到抵制，馬來西亞的星巴克就是深受其害的業者之一。雖然星巴克透過臉書 (Facebook) 聲明：「星巴克是上市公司需照顧股東權益，所以不會用利潤資助任何國家的政府或軍事行動」，但改善抵制的效果仍有限，門市業績大受影響。依據上文請回答下列問題：

19. 馬來西亞社運團體聲稱支持巴勒斯坦並不僅僅是出於共同的宗教信仰，也是出於人道因素。他們認為巴勒斯坦人長久以來都沒有受到人道對待，尤其婦女與孩童無端遭到殺害。請問馬來西亞與巴勒斯坦人民一樣以下列哪一種宗教為主要信仰？

- (A) 印度教 (B) 基督教 (C) 佛教 (D) 伊斯蘭教

20. 同樣遭受抵制的美國連鎖企業除了星巴克還有麥當勞、肯德基，請問這些跨國連鎖企業到東南亞展店是看中當地哪一方面的發展潛力？

- (A) 廉價勞力充足 (B) 工業技術進步  
(C) 自然資源豐富 (D) 消費市場廣大

【第 21~23 題為題組】



「珍珠鏈戰略」是一項由印度政治界提出的概念，意指中國在印度洋地區所進行的軍事、民用設施布局，藉由將其各點串聯起來類似珍珠項鍊對印度產生封鎖效應。此外，被印度視為「世仇」的巴基斯坦與中國關係緊密，中國甚至計畫在巴基斯坦瓜達爾港設立海軍基地(如附圖)，都被印度視作眼中釘。大量印度的評論家認為，「珍珠鏈戰略」和中巴合作會威脅到印度的國家安全。依據上文請回答下列各題：

21. 珍珠鏈戰略涵蓋國家「不包括」下列何國？

- (A) 緬甸 (B) 斯里蘭卡 (C) 巴基斯坦 (D) 菲律賓

22. 巴基斯坦與印度成為世仇的主因為下列何者？

- (A) 宗教差異 (B) 種姓制度 (C) 貿易競爭 (D) 種族歧視

23. 負責建設瓜達爾港的中國工程人員在當地生活時可能會遇到下列哪一種問題？

- (A) 皮膚過度乾燥 (B) 吃不到牛肉料理  
(C) 木橋腐壞無法通行 (D) 穿不慣黃麻織品

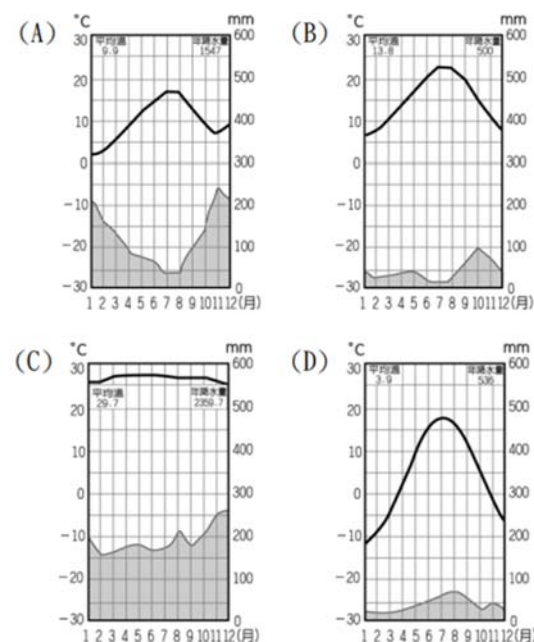
【第 24~26 題為題組】

2022 年因應烏俄戰爭導致全球市場面臨葵花油短缺，替代的棕櫚油和大豆油的價格隨之飆升。在劇烈的食用油價波動中，各大油業財團卻仍以出口國際市場獲利優先，導致全球最大棕櫚油出口國與生產國印尼國內食用油價格飆漲買不到食用油的民生困境，最終逼使印尼總統為穩定價格宣布限制出口禁令。依據上文請回答下列各題：

24. 由上文可知，印尼種植油棕樹生產棕櫚油，該產業活動具有下列哪一項特色？

- (A) 生產糧食作物 (B) 作物自給為主  
(C) 大量生產外銷 (D) 高度機械化

25. 下列哪一張氣候圖最符合油棕樹生長地區的氣候？



26. 油棕的種植在部分地區已造成生態環境破壞，因此歐洲國家預計在西元 2030 年不再使用棕櫚油做為生質能源的來源，希望減緩此環境問題的惡化。上述所指的环境破壞問題可能是指下列何者？

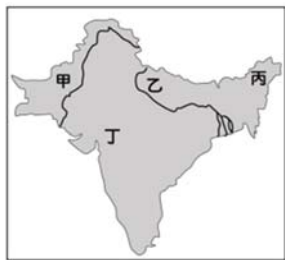
- (A) 土地鹽鹼化 (B) 冰河消退  
(C) 雨林大幅消失 (D) 水源耗損過多



27. 下表為中南半島與印度半島的整理資料，請選出正確的選項。

地區	(A)位置	(B)地形	(C)氣候	(D)農業
中南半島	北為橫斷山脈與中國相鄰	北高南低	熱帶季風	棉花、茶葉
印度半島	北為喜馬拉雅山與中國相隔	環太平洋火山地震帶	熱帶雨林	熱帶栽培業

28. 漫步在印度大街小巷，經常可以聞到濃郁的瑪薩拉茶香（Masala Chai，印度香料奶茶），對印度人而言也算是居家必備的百寶藥，因為瑪薩拉茶以紅茶為底，結合健脾的豆蔻、驅寒的薑、活血的肉桂等香料，再加上牛奶和糖，更有安眠、減壓的作用。請問瑪薩拉茶裡的紅茶與糖其產地分別位於印度何地？



- (A)甲、乙 (B)丙、乙 (C)丙、甲 (D)丁、甲
29. 去年夏天是人類氣象觀測史上最酷熱的夏天，亞洲各國遭遇歷史性高溫，印度就發生連續數天超過攝氏 45 度的極端氣溫，不僅有學校被迫停課一週，甚至發生上百人被熱死的悲劇。請問印度去年一波接一波的熱浪最可能從幾月開始肆虐？
- (A)二月 (B)四月 (C)六月 (D)八月
30. 某國紙鈔貨幣正面為已故國王年輕時出家的頭像，背面為一座佛寺和一尊佛像，剛發行時還因為紙鈔上的佛像惹來不少爭議。部分人民認為將佛像印在鈔票上有藐視佛祖的意味，因為：「我們有時把鈔票放在褲袋裡，有時候掉在地上等等。我們非常尊敬佛祖，不能用佛祖來交易。」請問上述最有可能是指下列哪一國發行的貨幣？
- (A)菲律賓 (B)孟加拉 (C)柬埔寨 (D)汶萊
31. 東協十國涵蓋基督教文明、儒家文明、伊斯蘭文明、印度教徒、佛教徒；在政治體制上，則有軍事獨裁國家、半民主國家、共產國家、王國。彼此有著許多差異的國家竟然可以組成世界上第二大的區域組織，一路走來跌破眾人眼鏡。細究東協能有效推動區域整合的主要原因是願意採取開放的自由化經濟政策，其中尤以下列哪一項決策至關重要？
- (A)使用共同貨幣 (B)制定關稅優惠  
(C)降低薪資水準 (D)採取計畫經濟
32. 印度自古實施種姓制度，也因此國內造成許多社會問題，更受到國際人權組織所垢病，請問上述是指種姓制度的哪些規範？(甲)種姓制度是依佛教所衍生的，有禁食豬肉的戒律(乙)出生時即決定社會階級與職業(丙)將人民共分成祭司、貴族、武士、平民四個階級(丁)存在不同種姓間不通婚的習俗。正確的是：
- (A)乙丁 (B)乙丙 (C)丙丁 (D)甲乙
33. 「每到春耕時節，常見到南亞某地的農民望著土地發呆興嘆、不知如何是好，這個現象一年比一年嚴重，土地表面遍布著白霜，但這並不是真正的白霜，而是因為蒸發後土壤裡被析出的某種結晶，這些『白霜』使得農民愈是努力耕作，卻收穫愈少……」請問上述現象最可能在下述何地發生？
- (A)恆河三角洲(B)印度河流域 (C)喜馬拉雅山 (D)錫蘭島
34. 民法是最生活化的法律，跟人民生活息息相關。請問下列何者即屬於民法規定的範疇？
- (A)到鄉鎮市區公所申請老人年金 (B)在鐵路上擺放石頭  
(C)在馬路上搶奪財物 (D)在網站上刷卡購物

35. 小夫在某知名購物網站看到下列購買說明，請根據你所學的知識判斷，該圖是在說明什麼概念？
- (A)消滅時效 (B)誠實信用 (C)權利濫用禁止 (D)契約自由



NG 商品特價出清！

NG商品說明

商品在製造、運送、存放時可能會產生的瑕疵問題，例如：微髒汙、小破損、少零件等問題的商品，為了避免浪費、愛惜地球，在不影響使用的情況下的商品將會已超優惠的價格進行出清，因每個商品瑕疵部位跟情況都不同，請務必慎重考慮能接受瑕疵商品再下單，不定期更新出清商品，數量有限，售完為止。

注意事項

●此區商品不適用七天鑑賞期 ●售出後不接受任何理由退換貨

36. 右圖為民法修訂後有關年齡會使法律行為能力程度效力不同的示意圖，甲、乙、丙分別代表不同程度的行為能力。下列何者與圖中的甲屬於相同的行為能力？
- (A)遭到褫奪公權的小均 (B)8 歲仍未就學的小櫻  
(C)13 歲父母雙亡的阿鈞 (D)受監護宣告的老柯

37. 承上題，請問處於乙階段的人，以下何者法律行為是有效的？
- (A)申辦手機門號 (B)獲取獎助學金  
(C)購買高價生日禮物 (D)簽署結婚書約

38. 電影「威尼斯之約(The Merchant of Venic)」

故事的背景是在威尼斯，當時有位正直商人安東尼奧，與放高利貸的猶太商人夏洛克是水火不相容的超級死對頭，平常也是井水不犯河水的。

直到有一天安東尼奧的好朋友巴薩尼奧想向美麗又聰明的富家女鮑西亞求婚，但追求鮑西亞的人太多了，而巴薩尼奧又是個窮小子，為了要在眾多追求者中脫穎而出，在鮑西亞面前爭取表現，卻苦無雄厚資本，只好厚著臉面向好友安東尼奧求助，安東尼奧是一位正直又善良的人，為了好朋友不惜尊嚴向夏洛克借了一大筆錢，但夏洛克與安東尼奧之前早就互看對方不順眼，夏洛克當然不會放過這次機會，便伺機報復，夏洛克就先利用開玩笑的名義，解除安東尼奧的戒心，要求他簽下一份若借款不能如期歸還就要割下一磅肉的契約，不疑有他的安東尼奧就這樣簽下了契約。

不料，天有不測風雲，安東尼奧的商船在海上觸礁，延誤了歸期，迫使不能如期還款，心腸歹毒的夏洛克殷殷企盼的時機終於到來了，期限日一到，立刻把安東尼奧告上法庭，還準備好了刀和秤，準備要從安東尼奧身上割下一磅肉來。

請問以上的故事若發生在今日，此份借貸契約的效力為何？

- (A)有效，因雙方已告上法庭  
(B)有效，因此份契約意思表示一致即生效  
(C)無效，因內容違反公序良俗  
(D)無效，因內容違反誠實信用原則
39. 阿斌下班後租借公共自行車，卻因天雨路滑不慎將自行車撞壞，而無法依約將自行車如期完好歸還，請問阿斌需承擔的責任為何？
- (A)侵權行為 (B)債務不履行 (C)債權不履行 (D)強制執行

背面尚有試題

40. 小政的公民課堂報告上，準備研究「近年民眾採取訴訟外解決民事糾紛的情況。」請問以下相關題目何者是他可以參考的資料文獻？

- (A)近年全國各法院核定調解書的數量
- (B)近年懲戒法院審理的案件數量
- (C)近年侵權行為的損害賠償判賠金額變化
- (D)近年民眾發生車禍後，警局公告的肇事逃逸數量統計

41. 莊仔在電視上看到政府的下列宣導資訊如右圖。請根據右圖判斷，該宣達事項在向民眾傳達何項意涵？

- (A)鼓勵民眾可用私下和解的方式處理糾紛
- (B)說明訴訟具免費與強制力的優勢
- (C)鼓勵人民可以透過調解處理紛爭
- (D)說明採行訴訟上的和解的處理過程

．．．．．委員會由各鄉鎮市內具有法律及有名望的公正人士組成，免費為聲請的民眾處理糾紛。討論結果成立後，送交法院核定，其效力等同法院判決，若其中一方不履行義務，即可向法院聲請強制執行。

42. 附圖是小強在網路上張貼的問題及四位網友的回答，根據圖中內容判斷，下列何者的回答可以給小強適當的協助？

- (A)哆啦A夢：可查詢性別平等教育法相關規定
- (B)大雄：若不願上法院，可聲請調解
- (C)靜香：這種事，找書記官幫忙就對了
- (D)小夫：請法官介入調查並靜待司法判決

知識家

提問區

小強：同學在教室裡惡作劇把椅子拉開，害我跌倒手腳擦傷，我該怎麼要求賠償？

43. 16 歲的偉成在教室嬉鬧，不小心把教室電腦的螢幕撞壞，學校請偉成支付一筆修繕費用，請根據你所學的知識，分析以下何種情形最為可能？

- (A)該項行為是屬於侵權行為
- (B)偉成的法定代理人無須負連帶賠償責任
- (C)賠償的方式是以金錢賠償為原則
- (D)因為是過失行為，所以無需承擔責任

44. 請問根據我國法律規定結婚要件，需要具備以下那些才會生效？甲、以書面為之 乙、需有 2 個以上證人簽名 丙、需先訂婚 丁、至法院公證 戊、至戶政事務所登記 己、需有公開儀式

- (A)甲乙戊 (B)乙丙丁 (C)乙丙戊 (D)甲乙戊己

45. 右圖顯示「權利救濟管道」的三項途徑，但是最後的法律效力不全然相同，請將圖中「與法院最終判決具有同等效力」的途徑，區塊塗上灰底，請問著色後的選項，應是下列何者？

訴訟上的和解	私下和解
調解	

- (A) 

訴訟上的和解	私下和解
調解	

- (B) 

訴訟上的和解	私下和解
調解	

- (C) 

訴訟上的和解	私下和解
調解	

- (D) 

訴訟上的和解	私下和解
調解	

46. 公民課堂上，老師請同學透過演戲模擬在糾紛解決中不同的角色。下列何人的臺詞內容最正確？

- (A)肇事者小新：「我是不小心的，法官一定會同情我的遭遇，根本不用賠償對方。」
- (B)被害人莊仔：「我已經跟對方私下和解，就算對方耍賴，我也可以向法院聲請強制執行。」
- (C)律師阿國：「若選擇調解，調解委員會向聲請人收一大筆錢，不如花錢請律師幫忙提訴訟。」
- (D)調解委員阿中：「其實民事糾紛透過調解委員會進行調解，不但省時省錢，還具有與判決同等的效力呢！」

47. 黃男被吳女開車撞傷，提出民事損害賠償訴訟，列出許多與車禍無關的醫療、生活用品、營養品支出單據，求償新臺幣近 2 千萬元。吳女認為，求償金額太高，且黃男未依規定行走於行人穿越道上，應負過失責任，賠償金額應為 2 萬 4 千元。

法院審理後指出，「損害賠償」並非當事人主觀上對於權利行使的一種想像，而任意主張許多與本件侵權事實沒有因果關係的請求。因此，法院判決吳女僅須賠 1 萬 6 千元，並表示損害賠償不是中樂透，不能將生活成本要求對方負責。

法院審理後的判決，與黃男所請求的賠償金額差異甚大，這是因為「損害賠償」的目的，應在於下列何者？

- (A)全數回復原狀 (B)懲罰侵權行為
- (C)彌補當事人損失 (D)要求他人履行契約

48. 請根據右則新聞標題，判斷此起爭奪遺產事件是屬於民法的哪一範疇？

- (A)財產關係：遺產繼承
- (B)財產關係：書面契約
- (C)身分關係：遺產繼承
- (D)身分關係：口頭契約

冷血妹不聞不問、親哥死後跳出爭奪遺產

49. 有關民法所規範的內容，請問下列何者不正確？

- (A)子女的姓氏，由夫妻雙方共同約定
- (B)親屬關係包括血親、姻親、配偶
- (C)契約成立指意思表示一致即可生效
- (D)有效書面契約須雙方簽名與蓋章

50. 17 歲的阿華想利用暑假打工，結果經老闆面試錄取之後，此時阿華跟老闆之間的僱傭契約屬於效力未定的狀態。請問上述契約尚需經過哪一程序才能生效？

- (A)須簽訂書面契約 (B)須法定代理人同意
- (C)須以特定方式簽署 (D)須簽名或蓋章完成契約內容

試題結束

新北市立新莊國民中學 112 學年度第 2 學期第 1 次段考

8 年級社會領域試題解答

1	2	3	4	5	6	7	8	9	10
<b>B</b>	<b>C</b>	<b>D</b>	<b>D</b>	<b>B</b>	<b>A</b>	<b>C</b>	<b>C</b>	<b>D</b>	<b>A</b>
11	12	13	14	15	16	17	18	19	20
<b>A</b>	<b>A</b>	<b>D</b>	<b>C</b>	<b>B</b>	<b>B</b>	<b>A</b>	<b>D</b>	<b>D</b>	<b>D</b>
21	22	23	24	25	26	27	28	29	30
<b>D</b>	<b>A</b>	<b>A</b>	<b>C</b>	<b>C</b>	<b>C</b>	<b>A</b>	<b>B</b>	<b>B</b>	<b>C</b>
31	32	33	34	35	36	37	38	39	40
<b>B</b>	<b>A</b>	<b>B</b>	<b>D</b>	<b>B</b>	<b>D</b>	<b>B</b>	<b>C</b>	<b>B</b>	<b>A</b>
41	42	43	44	45	46	47	48	49	50
<b>C</b>	<b>B</b>	<b>A</b>	<b>A</b>	<b>B</b>	<b>D</b>	<b>C</b>	<b>C</b>	<b>D</b>	<b>B</b>