


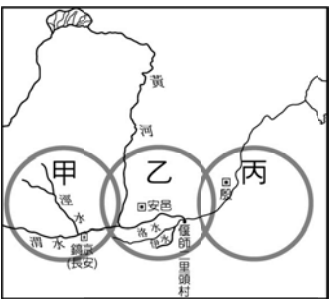
※ 選擇題：本試卷共 50 題，每題 2 分，總分為 100 分。
每一題均為單選題，請選出最適當答案。

1.下列是小禎在歷史作業中所繪製的「史前人類生活想像圖」。請問：哪一張圖最能表現出「新石器時代」文明的特色？



2.史前時代的建宏對於他種植的小米收成不佳，心情沮喪拿著裝酒的彩陶瓶到黃河邊散心，遇到宗翰趕著羊群回家，宗翰建議他改用黑陶瓶裝，建宏心情差由不得人跟他說教，馬上鑽進半穴居住屋，堵住耳朵不想聽宗翰囉唆～從上文我們可以推測建宏和宗翰應該是那一史前文化的人類？
(A) 北京人 (B) 大坌坑文化 (C) 河姆渡文化 (D) 龍山文化

3.夏朝是中國第一個朝代，又與之後的商朝、周朝合稱為「三代」，請參考右圖，找出關於「三代」的敘述何者正確？



- (A) 三代都是用禪讓制度
- (B) 甲是商朝、乙是夏朝、丙是周朝
- (C) 三代位置以長江流域為主
- (D) 都有使用青銅器

4.右圖是中國以河南安陽殷墟出土的文字所做成的 12 生肖郵票。因為這套文字的出土與解讀，同時也讓中國的歷史時代再往前推了數百年之久。請問：如果要更進一步的了解這種文字，可以參考下列哪一本書籍？



- (A) 《三皇五帝的傳說》
- (B) 《夏朝文明的起源》
- (C) 《商代的青銅文化》
- (D) 《周朝的封建制度》

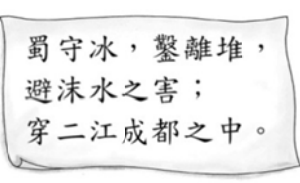
5.魯夫、娜美、喬巴、香吉士在船上討論中國西周的政治社會，請問四人中，那一位說法正確？
(A) 魯夫：王位繼承由年齡最大的兒子繼承
(B) 娜美：利用禮樂制度來規範不同的身份階級
(C) 喬巴：平民可以擁有私人土地，但必須向貴族繳稅、服勞役
(D) 香吉士：在封建制度下，社會分成諸侯、平民、奴隸三大階級，身份世襲不可改變

6.歷史老師上課時，列出下表以講述中國某段時期(甲→乙)變遷的特色。請問：老師講述的是哪一時段？

項目/時代	甲	乙
(甲)社會	天子為天下共主	諸侯爭霸、僭越稱王
(乙)社會	封建制度，階級森嚴	貴族沒落，平民崛起
(丙)文化	只有貴族有受教權	國君用人唯才，形成百家爭鳴的盛況

- (A) 夏朝到商朝 (B) 商朝到西周
 - (C) 西周到東周 (D) 東周到秦朝
- 7.從春秋時代到戰國時代，先秦歷史發展的趨勢是下列何者？
(A) 國家數目愈來愈多，國君權力愈來愈大
(B) 國家數目愈來愈少，國君權力愈來愈小
(C) 國家數目愈來愈多，國君權力愈來愈小
(D) 國家數目愈來愈少，國君權力愈來愈大

8.附圖為《史記·河渠書》中記載戰國時期著名的水利工程興建過程。請問：圖中文字應與下列哪個水利工程的興建有關？



- (A) 都江堰 (B) 嘉南大圳 (C) 曹公圳 (D) 八堡圳
- 9.慈帛在做歷史作業時整理出一個概念構圖如下，由圖表的內容研判，她正在整理哪一位歷史人物的資料？



- (A) 莊子 (B) 荀子 (C) 孟子 (D) 孔子
- 10.春秋戰國時代有一位著名學者的妻子死了，但是他不但傷心，還敲打瓦盆唱歌，旁人問為何妻子過世他不哭卻反而唱歌，他回答：「一開始人本來沒有生命，在自然的變化中有了氣，氣變化成形體，形體變化成生命。現在我的太太過世，就和四季變化一樣自然，所以我用不著哭。」請問：這位學者屬於哪一學派？
(A) 墨家 (B) 法家 (C) 儒家 (D) 道家

11.«瑯邪臺刻石»為宰相李斯所作：「維廿八年，皇帝作始。端平法度，萬物之紀。……上農除末，黔首是富。普天之下，搏心揖志。器械一量，同書文字。日月所照，舟輿所載。皆終其命，莫不得意。……」請問：上述這段文字是在歌頌統一文物為哪位皇帝？
(A) 秦始皇 (B) 漢武帝 (C) 漢高祖 (D) 周武王

12.附表是阿坤在上課時所整理的表格，但其中哪個項目的內容是錯誤的？

項 目	西 漢	東 漢
(A)建國者	劉 邦	劉 秀
(B)首 都	長 安	洛 陽
(C)特 色	平民皇帝	光復漢室
(D)滅亡之因	群雄割據	外戚奪權

13. 小白看到大陸一則報導絲路的新聞，澳門與甘肅省旅遊局簽署《旅遊合作備忘錄》，推廣陝甘與港澳的旅遊交流合作活動，這讓小白極為驚訝，原來歷史課本上所教的「絲路」，時至今日竟還存在！請問，下列關於這條橫貫亞洲、連接歐亞大陸的著名古代陸上商貿通道——「絲路」的敘述，何者有誤？

(A) 中國輸往西方的物品主要是絲綢
(B) 其路線為：長安→敦煌→西域→中亞→西亞→大秦
(C) 西域的音樂、繪畫、雜技等經由此路線傳入中國
(D) 東漢時期被派遣再次開通絲路的使者為張騫

14. 董仲舒曾提出：「國家應當表彰六經，非孔子思想的諸多學術，一切予以罷廢，勿使諸多學術同時並進。」他的建議後來得到下列何人的支持？

(A) 東漢光武帝 (B) 秦始皇 (C) 漢武帝 (D) 漢高祖

15. 西漢著名的史學家，因挺身為李陵將軍辯護，而得罪當時皇帝，並遭受「宮刑」（男子去勢），本想一死了之，但思考到死有重於泰山，也有輕於鴻毛，決定忍受屈辱，堅強活下來，完全偉大歷史學著作。請問這位歷史學家是誰，他的著作是是哪一本？

(A) 司馬遷、史記 (B) 班固、漢書
(C) 司馬光、資治通鑑 (D) 呂不韋、呂氏春秋

16. 有一位漢朝醫家，在其著作的序論中說道：「余宗族素多，向餘二百，建安紀年以來，猶未十稔，其死亡者，三分有二，傷寒十居其七。感往昔之淪喪，傷橫夭之莫救，乃勤求古訓，博采眾方，撰用《素問》……并平脈辨證，為《傷寒雜病論》合十六卷。」請問：此位醫學家為下列何人？

(A) 張儀 (B) 華佗 (C) 張衡 (D) 張機

17. 中國的三大緣海中，位置最北方的是？

(A) 東海 (B) 南海 (C) 黃海 (D) 北海

18. 附圖為「新絲路」鐵路路線，該鐵路可行駛至何處？

(A) 歐洲 (B) 北美洲
(C) 南美洲 (D) 大洋洲



19. 中國沒有何種氣候？

(A) 熱帶 (B) 副熱帶 (C) 溫帶 (D) 寒帶

20. 五月天於 21:00 結束上海（31°N, 121°E）演唱會後，搭機前往烏魯木齊（43°N, 87°E）準備下一場演唱會，航程需六小時，抵達烏魯木齊的當地時間為？

(A) 1:00 (B) 3:00 (C) 4:00 (D) 5:00

21. 下列何國的面積比中國小？

(A) 巴西 (B) 加拿大 (C) 俄羅斯 (D) 美國

22. 下列何族未成立自治區？

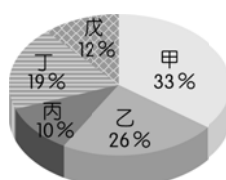
(A) 蒙古族 (B) 維吾爾族 (C) 藏族 (D) 滿族

23. 澳門因曾被何國統治 400 多年，因此成立特別行政區？

(A) 西班牙 (B) 葡萄牙 (C) 英國 (D) 法國

24. 附圖為中國五大地形面積比例圖，甲、乙各為何種地形？

(A) 平原、丘陵 (B) 丘陵、臺地
(C) 山地、高原 (D) 臺地、盆地



25. 參考附圖，中國西半部的山脈多為東-西走向，與何板塊的推擠有關？

(A) 2
(B) 3
(C) 4
(D) 5



26. 中國大致以何處為沙岸與岩岸的分界？

(A) 山東半島 (B) 遼東半島 (C) 杭州灣 (D) 珠江三角洲

27. 下列何地形區的海岸以岩岸為主？

(A) 長江三角洲 (B) 東南丘陵 (C) 四川盆地 (D) 黃土高原

28. 京杭大運河沒有連接哪條河川？

(A) 海河 (B) 淮河 (C) 錢塘江 (D) 珠江

【題組一】參考附圖，回答第 29-30 題

29. 附圖是以何種分類標準來劃分地理區？

(A) 行政區
(B) 三大地區
(C) 三大經濟帶
(D) 地勢三級階梯



30. 中國的哪個直轄市不位於甲區？

(A) 北京 (B) 天津 (C) 上海 (D) 重慶

【題組二】參考附圖，回答第 31-33 題

31. 世界地勢最高的青藏高原位於何區？

(A) 甲 (B) 乙
(C) 戊 (D) 己



32. 石灰岩地形發達的雲貴高原位於何區？

(A) 己 (B) 丁
(C) 乙 (D) 丙

33. 長江三角洲的上海位於何區？

(A) 乙 (B) 丁 (C) 丙 (D) 己

34. 依據我國《國籍法》的規定，下列哪一位除非歸化，否則無法取得我國國籍？

(A) 臺灣阿誠的外籍配偶在回印尼娘家時所生下的小美
(B) 美國夫婦來臺遊玩，在台大醫院生下的大衛
(C) 嘉義阿傑夫婦去留學在美國當地生下的小傑
(D) 出生就被遺棄在台北國父紀念館，到現在仍不曉得父母是誰的小敏

35. 札記中同學整理三條新聞重點：(1)李世光因全台大停電請辭了經濟部長職位(2)台北世大運圓滿落幕，市長柯文哲的民調支持率上升至76%(3)交通部將公布《汽車運輸業管理規則》修正草案，規範四歲以上乘客，搭乘大客車行駛高、快速道路，必須使用安全帶。請問：這三條新聞重點，分別體現何種民主政治的基本原則？

(A) 責任政治、法治政治、民意政治
(B) 政黨政治、責任政治、民意政治
(C) 責任政治、民意政治、法治政治
(D) 責任政治、政黨政治、民意政治

- 36.報載：「(甲)機關調查發現，部分政風人員未能清楚辨別政風職權本質屬於行政調查權，近來傳出政風人員實施測謊、調閱記者通聯等調查手段，逾越權限且侵害人民權益，甚至傷害新聞自由，通過糾正法務部，要求確實檢討改善。」問：文中(甲)機關應為
(A) 行政院 (B) 立法院 (C) 司法院 (D) 監察院
- 37.報載：「朴槿惠將成為韓國史上第一位被彈劾下台的總統，除了面臨司法調查外，也將失去南韓國家領導人的身分及刑事豁免權。韓國的民主政治也將迎來動盪與機會並行的全新時代。」問：由文中可知，何者的國家類型與南韓最為相似？
(A) 北韓 (B) 日本 (C) 沙烏地阿拉伯 (D) 中華民國
- 38.承上題，以我國而言，若總統在不受人民信賴的情況下，可採取何種措施使其去職？
(A) 立法院提出罷免案，交由公民投票複決
(B) 由監察院提出彈劾案，交由憲法法庭審理
(C) 由立法院提出彈劾案，交由公務員懲戒委員會審理
(D) 由人民發動連署，直接罷免
- 39.下列關於我國中央政府互動關係之敘述，何者正確？
(A) 立法院可以行使對行政院院長的同意權
(B) 監察院院長是由立法院直接任命
(C) 立法院可以對大法官提名人選行使同意權
(D) 司法院可以彈劾違法的立法委員
- 40.(甲)編列中央政府總預算→交付(乙)審查→(甲)執行預算，做成決算→(丙)審核決算後→赴(乙)提出決算審核報告。問(甲)(乙)(丙)分別為下列何者？
(A) 行政院、立法院、審計部
(B) 總統、立法院、審計部
(C) 立法院、行政院、審計部
(D) 行政院、立法院、司法院
- 41.報載：「吉里巴斯和吐瓦魯等大洋洲國家，隨著海平面上升，這些海拔僅數公尺的國家恐面臨滅頂命運。」若如上文所說，這些國家將因全球暖化而消失，是因為欠缺下列哪一項國家組成要素？
(A) 政府 (B) 人民 (C) 領土 (D) 主權
- 42.報載：「同婚釋憲案，(甲)做出釋字第 748 號解釋，認為現行法令未保障同性婚姻違憲，要求主管機關在公告後二年內，修改相關法律。獲知消息的挺同團體在立法院外聚集歡呼。」問：文中(甲)應為
(A) 立法委員 (B) 法官 (C) 大法官 (D) 法務部長
- 43.報載：今年「戴奧辛毒蛋」一波未平，接著「芬普尼毒蛋」一波又起。衛福部聲稱「未驗出」毒蛋，過不久農委會驗出毒蛋，直接打臉食藥署。消基會呼籲政府該落實跨部會勾稽查核，並納入第三方檢驗機制，才能有效阻絕食安問題。問：文中政府應為
(A) 行政院 (B) 立法院 (C) 司法院 (D) 監察院

- 44.下列哪位我國政府首長的主張，最符合其身分？
(A) 立法院院長：「我要為國家爭取進入聯合國。」
(B) 行政院院長：「我要求全國警察機關，全力改善國內治安。」
(C) 考試院院長：「我會鼓勵委員主動調查是否有公務人員違法，而予以彈劾。」
(D) 司法院院長：「我希望將來可以推動租稅法案的修訂。」
- 45.我國行政與立法機關各有權力制衡彼此，有關權力運作的敘述，何者正確？
(A) 立法院對政府施政不滿，可發動委員連署提出倒閣案
(B) 立法院針對行政院不妥之決議事項，可移請行政院覆議
(C) 立法委員基於施政弊案，發動調查權彈劾失職官員
(D) 行政院若認為立法院問政品質不佳，可以提出不信任案
- 46.2016年總統大選，我國產生了第一位女性國家元首。問：關於我國總統職權敘述，何者錯誤？
(A) 對外代表國家，統帥三軍
(B) 發布緊急命令
(C) 在行政院院長呈請下，解散立法院
(D) 提名行政、司法及考試院等官員，經立法院同意後任命
- 47.志玲在我國官網找到一段資料如下：

……銓敘部肩負公務人員人事政策的規劃與研議重任，在(甲)領導下，積極進行文官制度的興革，以有效提升公務人員素質，進而建立廉能、專業及有效率的政府……

問：文中(甲)應為

- (A) 行政院 (B) 考試院 (C) 司法院 (D) 監察院
- 48.承上題，有關該組織與職權的敘述，何者正確？
(A) 院長由立法院提名，請總統任命
(B) 負責糾舉違法的公務人員
(C) 依法審議失職的公務員懲戒案件
(D) 掌理公務人員的撫卹、退休、任免等事項

【題組三】參考下列資料，回答第 49-50 題

蘇格蘭是英國下屬的組成國之一，其國家元首是現任的英國女王伊莉莎白二世，對於蘇格蘭王權的正當性毋庸置疑。2014年蘇格蘭舉行首場獨立公投，讓蘇格蘭選民決定是否從英國獨立，但開票結果顯示44.7%支持，55.3%反對。前蘇格蘭首席大臣薩孟德接受專訪時指出，舉辦第二次蘇格蘭獨立公投勢在必行，現在只是時間點的問題。

- 49.下列哪一個國家與英國是相同類型的國家？
(A) 汶萊 (B) 美國 (C) 荷蘭 (D) 德國
- 50.蘇格蘭舉行獨立公投是要爭取國家的何項組成要素？
(A) 政府 (B) 主權 (C) 人民 (D) 領土

新北市立新莊國民中學 106 學年度第 1 學期第 1 次段考 8 年級社會領域試題

解答

1	2	3	4	5	6	7	8	9	10
B	D	D	C	B	C	D	A	C	D
11	12	13	14	15	16	17	18	19	20
A	D	D	C	A	D	C	A	D	B
21	22	23	24	25	26	27	28	29	30
A	D	B	C	C	C	B	D	C	D
31	32	33	34	35	36	37	38	39	40
A	A	B	B	C	D	D	A	C	A
41	42	43	44	45	46	47	48	49	50
C	C	A	B	A	D	B	D	C	B