

※ 選擇題：本試卷共 50 題，每題 2 分，總分為 100 分。
每一題均為單選題，請選出最適當答案。

※ 請用 2B 鉛筆在答案卡上相應的位置畫記。

1. 洪攀桂，字月樵，壯年遭遇祖國割臺一事，後改名繻，字棄生，他是日治時期重要的文學家，經常針貶時事，曾有見臺灣保甲連坐法感題序言如下：「是時再編立保甲法五十餘條，皆是輕微事項而罰金數十以上、數百以下。一家犯法，罪及一甲十餘家。其法是由日本人捏造，而強令百姓蓋印，說是民間自治法。」（資料來源：洪棄生，寄鶴齋詩集）請問：根據以上敘述洪攀桂有所感言的保甲連坐法應是日治時期哪一個時期就開始使用的方法？

(A)殖民地特殊統治時期 (B)皇民化運動時期
(C)非武裝政治社會運動時期 (D)內地延長主義時期

2. 臺灣目前僅有兩條高山森林鐵路仍處於營運狀態，一條是太平山森林鐵路，另一條是阿里山森林鐵路。其中阿里山森林鐵路完工於 1914 年，興建時主要用途是輸送阿里山林場產出的木材。1963 年林場砍伐業務結束後，客運與觀光成為該鐵路的主要功能。以歷史背景而言，阿里山森林鐵路的修築，是為了配合當時殖民政府的哪一項政策？

(A)南進政策 (B)工業日本，農業臺灣
(C)基礎建設 (D)工業臺灣，農業南洋

3. 歷史事實與歷史解釋不同，最大的差別在於歷史事實是呈現客觀的事實本身；而歷史解釋則是史學家對史實的詮釋。就日治時期警察制度而言，下列哪一項敘述屬於歷史解釋？

(A)地方行政以日人組成的警察為中心
(B)幾乎所有事務都由警察介入，臺灣被稱為典型的「警察政治」地區
(C)臺灣的警察比例高於日本國內
(D)日人在台灣各地設立派出所

4. 《臺灣日日新報》是日治時期臺灣發行人量最大的報紙，請問：1930 年代的《臺灣日日新報》，可能刊登下列哪一個訊息？

(A)蓬萊米研發成功記者會
(B)慶賀西部縱貫鐵路通車
(C)西來庵事件的經過報導
(D)日月潭發電所機械故障，造成全島大停電

5. 洋子是日治時期的臺灣人，她 1935 年前往臺北參觀「始政四十年博覽會」，主要展示總督府四十年來殖民臺灣的成果。博覽會中分別有下列三個展館：「工業日本—農業臺灣館」、「基礎建設館」、「工業臺灣—農業南洋館」，並看到下列展出內容：(甲)桃太郎接電話 (乙)阿里山森林鐵道 (丙)第一套臺灣銀行券 (丁)石化工業 (戊)嘉南大圳 (己)新式糖廠 (庚)菲律賓物產 (辛)蓬萊米 (壬)現代造船技術。請問：若洋子她去參觀「工業日本—農業臺灣館」，她可以看見下列哪些展出內容？

(A)甲乙丙 (B)戊己辛 (C)乙己辛 (D)丁庚壬

6. 承上題，洋子在會場休息片刻後，她又前往「工業臺灣—農業南洋館」，請問：她「不」可能看見下列哪一項展出內容？

(A)庚 (B)丁 (C)丙 (D)壬

7. 水源的充足有助於農耕發展，下列為清領時期及日治時期的重要水圳：(甲)嘉南大圳；(乙)瑠公圳；(丙)八堡圳；(丁)貓霧揀圳。請問：上述水圳若依照地理位置由北向南排列，其正確順序應為何者？

(A)甲乙丙丁 (B)乙丙甲丁 (C)乙丁丙甲 (D)丁丙乙甲

8. 臺灣遺留許多日治時期的歷史痕跡，老師要求同學依照附圖地圖分組進行踏查，並完成所附學習單。請問：關於同學前往踏查之各機構建築，在日治當時所代表的意義，下列敘述何者錯誤？



(A)乙之成果使人民可以用便宜划算的價格購買民生用品
(B)甲為臺灣最高的統治機關
(C)戊屬基礎建設，有助加強台灣各地間的通訊聯絡
(D)丁設立的目的，有助整頓台灣的金融

9. 承上題，附圖中何處機構，並不是日治時期才首次在臺灣出現？

(A)甲 (B)乙 (C)丁 (D)戊

10. 以下為一份歷史性的文件，其內容如下：「日寇強橫，欲併臺灣……。臺灣同胞，勢不服倭，與其事敵，寧願戰死。爰經大會議決，臺灣自主，改建民主國。」兩天後這個政權正式宣布成立，請問：下列哪一個敘述是接下來會發生的事情？

(A)臺灣民主國很快瓦解，台灣進入日本殖民統治時期
(B)日本出兵攻牡丹社，為琉球人民「懲辦兇手」
(C)余清芳與唐景崧密謀，想驅逐日本人卻失敗
(D)日本總督率軍從澳底登陸，成功擒獲丘逢甲

11. 以下為日治時期對某個職位的規定：「1.由地方上 17-47 歲的男子組成 2.為了鎮壓「匪徒」及防範天災」請問這個職位是？


(A)保正 (B)志願兵 (C)壯丁團 (D)甲長

12. 戶籍是官府管理社會的重要憑藉。某個時期的戶籍制度普及至每一個人，而戶籍資料裡除了姓名、年齡、居住或遷移等紀錄外，也記錄著與本人有關的各項記事，諸如「本籍與族稱、屬於哪個保甲、是否吸食鴉片」。這份戶籍資料最可能出現在何時、何地？

(A)1930 年，廈門 (B)1870 年，上海
(C)1890 年，臺北 (D)1920 年，高雄

13. 請根據右圖中的四面旗幟出現在台灣的時間先後做出排序，請問：下列何者是正確排序？

(A)甲乙丙丁
(B)丙丁乙甲
(C)乙丁丙甲
(D)丙乙丁甲



背面尚有試題

14. 同學們在表演藝術課中學習編寫話劇劇本，經過討論後，他們決定以日治時期為時代背景，編一部短劇，劇情中出現的對話如下：
- 甲說：「為了響應政府推行的政策，我們全家改了日姓，穿上和服，前往神社參拜。」
- 乙說：「今年過年時我終於可以直接搭火車從台北前往高雄奶奶家過年，不像以前只能搭到新竹就要換其他交通工具。」
- 丙說：「歐洲戰爭終於結束了，日本政府決定將台灣的武官總督換成文官總督。」
- 依據上述甲乙丙三人說話的內容，他們扮演的角色生活在日治時期的先後順序為何？
- (A)乙丙甲 (B)乙甲丙 (C)丙乙甲 (D)丙甲乙

【第 15~16 題為題組】

下列有四份資料：【請依據資料回答 15~16 題。】

資料甲：在漢番交界處設置土牛、土牛溝、界碑等，使漢人不得越界侵擾原住民的區域。

資料乙：某件事情發生後，總督府的理蕃課推出了「理蕃警察改善綱要」，理蕃課認為警察等官員在與蕃人接觸上行為失當，因此需要改善。

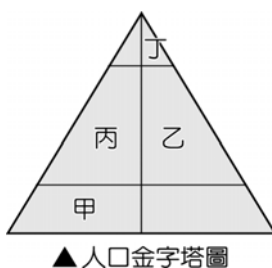
資料丙：臺灣總督認為，對待原住民應該以安撫為主，如果臺灣原住民在心中懷有對日本人的惡感，將無法挽回原住民的心，兩百年來原住民仇視、反抗漢人，就是最好的證明。

資料丁：總督設置了類似武裝警察的軍隊指揮中心，並向原住民部落提出繳交武器和歸順的要求，若原住民部落不願意，就以武力攻擊或派兵佔領，逼迫部落投降歸順。

15. 資料乙中提到，某件事情發生後，理蕃課提出「理蕃警察改善綱要」。「某件事情」最可能所指為何？
- (A)大甲西社事件 (B)霧社事件
- (C)西來庵事件 (D)中日戰爭
16. 西元 1910 年總督府推動「五年理蕃計畫」，從以上四份資料中，何者描述與「五年理蕃計畫」內容最為相關？
- (A)資料甲 (B)資料乙 (C)資料丙 (D)資料丁

17. 農曆 3 月 23 日媽祖生日前後，各地媽祖廟都會舉辦慶祝活動，最近以白沙屯拱天宮進香報名人數破 15 萬人規模最大，已不僅是宗教盛事，也代表台灣在地文化的重要活動，吸引不少國際旅客來台體驗，被 Discovery 列為「世界三大宗教盛事」。請問此類的宗教活動主要是哪一族群的重大慶典？
- (A)原住民 (B)漢人 (C)穆斯林 (D)新住民

18. 根據移民署於 2024 年初的統計報告顯示，目前全臺新住民人口有近 60 萬人，其中以中國來臺的配偶最多，其次為東南亞國家。早年多以「中國新娘」、「越南新娘」來稱呼，後來改以「新住民」統稱來臺結婚的外籍人士。請問：若根據上文敘述判斷，這些新住民將直接影響附圖中的哪一個部分？



- (A)甲 (B)乙 (C)丙 (D)丁
19. 2024 年初臺灣國際移工的總數來到 75 萬人，其中四成為印尼籍，其次是越南、菲律賓及泰國。移工人數以桃園市最多，其次是新北市、臺中市。男性移工多從事漁工、農務、進入工地或工廠；而女性移工則大多進入醫院或家庭擔任看護、幫傭。依照上文所述，下列對於臺灣國際移工的人口遷移敘述，何者正確？
- (A)大部分的移工屬於暫時的國內遷移
- (B)臺灣對移工來說具有獲取更好生活的拉力
- (C)移工的存在可大幅增加出生率
- (D)移工為提升台灣社會增加率的主因

20. 人口組成的結構成為臺灣媒體關心的國安議題，附表為某國的人口統計資料。綜合資料來分析，何者可能是媒體會下的新聞標題？
- (A)超強拉力!移出人口創新高
- (B)就愛女孩!新生兒性別比低於 100
- (C)生不如死!自然增加率為負值
- (D)低扶養比!壯年人口負擔小

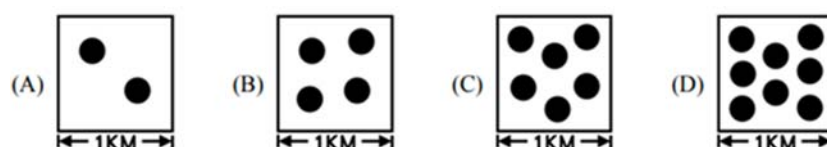
| 類別 | 人數(萬人) |
|---------|--------|
| 出生人數 | 16.1 |
| 男性出生人口數 | 8.4 |
| 女性出生人口數 | 7.7 |
| 死亡人數 | 18.3 |
| 移入人數 | 2.7 |
| 移出人數 | 18.3 |

21. 下表為臺灣六都平均年齡及三階段年齡層的人口比例，透過資訊判斷各縣市的敘述何者正確？

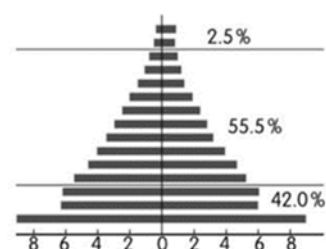
| 6都平均年齡及3階段年齡組人口比例比較表 | | | | | | |
|----------------------|--------------------|--------------------|--------------------|--------------------|--------------------|--------------------|
| | 桃園市 | 台北市 | 新北市 | 台中市 | 台南市 | 高雄市 |
| 平均年齡 | 38.3 歲 | 41.9 歲 | 40.4 歲 | 38.8 歲 | 41.3 歲 | 41.2 歲 |
| 幼年人口及比例 | 329,307 15.3% | 375,128 13.9% | 507,423 12.8% | 409,212 14.8% | 236,571 12.5% | 343,793 12.4% |
| 青壯年人口及比例 | 1,599,031 74.5% | 1,901,446 70.5% | 3,005,876 75.5% | 2,056,123 74.3% | 1,389,761 73.7% | 2,061,974 74.2% |
| 老年人口及比例 | 219,425 10.2% | 419,130 15.6% | 465,909 11.7% | 301,904 10.9% | 259,701 13.8% | 373,604 13.4% |

資料來源：桃園市政府主計處 製表：記者謝武雄

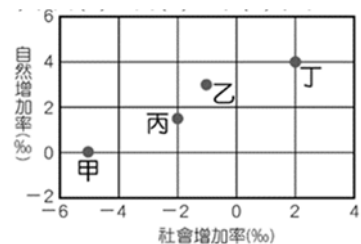
- (A)桃園市平均年齡最小，青壯年人口最多
- (B)高雄市 0-18 歲人口比例最低，少子化現象最嚴重
- (C)台北市的扶養比最高，壯年負擔最大
- (D)臺南市人口增加率 > 0
22. 新北市與鄰近的臺北市、基隆市組成臺灣最大的都會生活圈，其中新北市土地面積有 2052 平方公里，人口數約 4041869 人，為全台人數最多的縣市。根據上述資料，新北市的人口密度較接近哪個示意圖？(說明：每點代表 1000 人)



23. 人口金字塔圖由一國人口的年齡及性別組成，反映其人口結構及社會發展的特色。附圖為某國的人口金字塔結構，由圖中資料可知，該國『受扶養人口』的比例大約為何？
- (A)2.5% (B)42.0%
- (C)44.5% (D)5.5%



24. 附圖是甲、乙、丙、丁四個國家某年的人口自然增加率與社會增加率。其中哪兩個國家還能維持人口的增長？
- (A)甲、丙 (B)甲、丁
- (C)乙、丙 (D)乙、丁

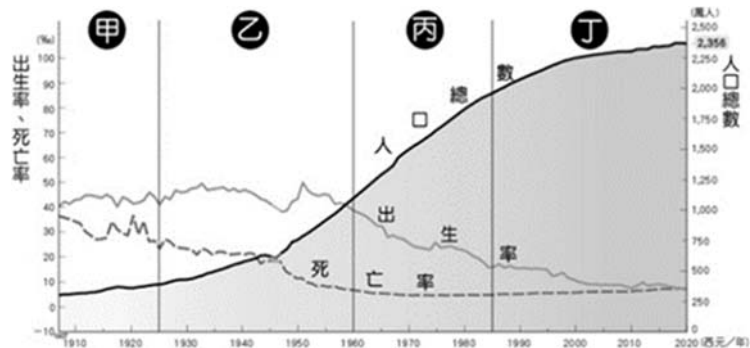


25. 附圖為臺灣人口分布圖，下列哪一事實可由此圖判斷？
- (A)台灣壯年人口比例高，勞力資源豐富
- (B)台灣人口約 2300 萬人
- (C)台灣的發展方向是由南向北
- (D)台灣人口分布西密東疏

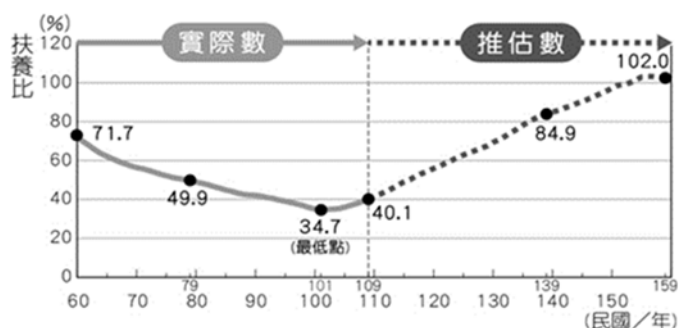


請繼續作答下一頁

26. 附圖為臺灣人口成長變化圖，由圖判斷哪兩個時期的出生率、死亡率差距小，導致人口成長緩慢或停滯？
(A)甲、乙 (B)甲、丁 (C)乙、丙 (D)丙、丁



27. 附圖為臺灣的扶養比變化圖，由圖可知哪一年的人口結構最有利於經濟發展，理由為何？
(A)101 年，被扶養人口比例最高
(B)159 年，扶養負擔最小
(C)159 年，扶養比最高
(D)101 年，壯年人口比例最高



28. 臺灣近年來可在各賣場商品發現附圖標章，這起源於伊斯蘭教律法，針對穆斯林日常生活必須符合伊斯蘭教義，即為「清真(Halal)」，例如避免碰觸不潔之物，例如：豬、酒精等。仔細思考臺灣近年來出現這些產品的原因與下列何者最相關？

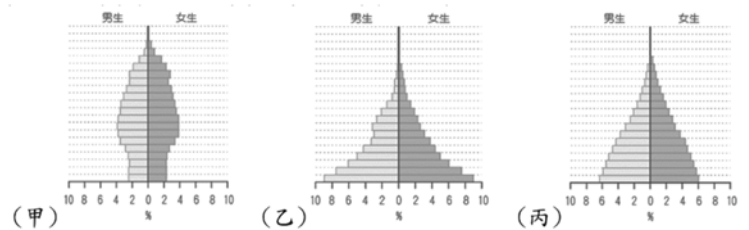


- (A)新住民人數增加 (B)倡導且保護原住民文化
(C)國家經濟快速成長 (D)國民教育水準提升
29. 新北市是外來人口首要的聚集地，新北市吸引外來人口移入的主要是下列哪種拉力？
(A)就業機會高 (B)空氣清新 (C)治安良好 (D)水質乾淨
30. 臺灣人口負成長趨勢確定，而房價最高的臺北市面臨「脫北風潮」，2024 年初人口降到 251 萬人，總人口數創下 25 年來最低。根據資料，臺北市總人口從 2016 年開始減少，連續多個月「社會增加呈負成長」，反觀鄰近的桃園市，在自然增加及社會增加上都是六都之冠，出現『北客桃移』的輕移民風。根據上文臺北市的社會增加呈負成長，代表著什麼意義？
(A)人口移出大於移入 (B)人口移入大於移出
(C)人口出生大於死亡 (D)人口死亡大於出生
31. 地理老師到某鄉間踏察遊玩時，發現許多標示「伯公廟」的廟宇，請問這些伯公廟最可能分布在哪个族群為主的聚落？
(A)閩南人 (B)客家人 (C)原住民族 (D)穆斯林

32. 附表為某地的人口組成結構及土地面積資料，其幼年人口性別比應如何呈現？
(A) 83 : 100 (B) 100 : 83 (C) 120 : 100 (D) 100 : 120

| 0~14 歲(人) | | 15~64 歲(人) | | 65 歲以上(人) | | 土地面積 |
|-----------|-----|------------|------|-----------|-----|----------|
| 男 | 女 | 男 | 女 | 男 | 女 | |
| 270 | 225 | 3250 | 3750 | 450 | 495 | |
| | | | | | | 918 平方公里 |

33. 人口金字塔除了顯示一地區的人口結構，也能反映該區的經濟發展條件，附圖為三個型態的人口金字塔圖，若以大多數國家的發展過程排列，其先後的順序為何？
(A)甲乙丙 (B)甲丙乙 (C)乙甲丙 (D)乙丙甲



34. 傳統社會強調「五倫」，隨著社會變遷，現代社會則強調「第六倫」。「第六倫」是指在原有的「五倫」之外，培養足以規範「群己關係」的各種行為準則。請問：下列何者是「第六倫」的展現？
(A)清明返鄉祭祖，追思先人
(B)上室外課時，離開教室隨手關燈
(C)遵守網站的規章，尊重智慧財產權
(D)搭乘捷運時，後背包改用手提
35. 上公民課時，老師分享一篇文章段落如下：「…現在臺灣年輕人喜歡吃炸雞、漢堡和喝可樂，上班族則是人手一杯咖啡，以往這些都是美國電影裡經常出現的場景，但不知道從何時開始，已經成為臺灣人生活的日常。」請問：這篇文章主要在討論什麼議題？
(A)弱勢文化對文化位階的抵抗
(B)強勢文化透由商品與媒體傳播的影響
(C)台灣在地傳統飲食文化的復興
(D)政經優勢國家透過殖民方式的文化擴展運動
36. 農曆正月初九「天公生」，也就是玉皇大帝的生日，自古以來，各朝代都有祭祀玉皇大帝的祭禮，而且由於玉皇大帝在百姓心目中是地位最崇高的神明，因此祭祀儀式也特別隆重。請問：「初九拜天公」的活動包含哪兩種社會規範？
(A)風俗習慣、宗教信仰 (B)倫理道德、宗教信仰
(C)法律、風俗習慣 (D)風俗習慣、倫理道德
37. 修女身著罩頭長袍，西方社會少有異樣眼光，但法國卻禁止穆斯林婦女在公眾場合蒙面。……有回晨跑時，遇上身著禮拜服、罩住頭與脖子的穆斯林女子同向而行，法國老太太迎著我們兩人面而來，先用毫無憐憫的眼神上下打量穆斯林女子，隨後用法語叨唸「別看起來像個笨蛋」，我聽了傻眼，但沒能來得及回神問老太太，「妳會這麼跟修女說話嗎？」根據上述文意判斷，下列說明何者正確？
(A)宗教文化的交流，將導致弱勢文化逐漸式微
(B)強調自身文化的優越感，有助於本土文化的傳承
(C)法國立法禁止穆斯林婦女蒙面，屬於文化位階帶來的不平等現象
(D)法國老太太應以西方文化觀點出發，才能避免不同文化間的衝突
38. 臺灣語言達 40 多種，其中原住民的語言有多種面臨滅絕的危機。2010 年代，政府與民間已認識到台語、客家語等亦屬瀕危語言，年輕人皆以國語作為主要語言，可能在幾十年後再也沒有人能夠全用自己族群的傳承語言流利交談。因此，2018 年立法院三讀通過《國家語言發展法》，立法保障各族群語言與國語擁有平等的地位，促進各族語言的傳承與發展。請問：我國政府的作法，主要目的為下列何者？(甲)保障台灣各族群的語言傳承，維護語言文化多樣性(乙)與西方政治經濟強權國家的語言對抗(丙)強化我國各族群對自我文化的認同(丁)透過法律規範，建立我國官方語言的合法性
(A)甲乙丙 (B)乙丙丁 (C)甲丙 (D)甲丁

39. 俗稱潑水節的「宋干節」(Songkran)是東南亞地區最盛大的慶典之一，從泰國、寮國、緬甸到柬埔寨等國都有過節傳統，大家用純淨的清水相互潑灑，祈求洗去過去一年的不順，新的一年重新出發。每年四月初開始，台灣各縣市政府多地也都陸續舉辦五花八門的慶祝活動，包含祈福儀式、趣味競賽、藤球比賽、美食園遊會等，除慰勞外籍朋友外，也鼓勵一般民眾參加。請問：當我們面對異國文化時，應該持有的態度為下列何者？(甲)突顯我國文化優越地位，排斥他國文化(乙)文化交流時，也保有對自身文化的認同(丙)理解文化差異，並全盤接受外來文化(丁)包容欣賞與尊重外來文化
(A)甲乙 (B)乙丙 (C)丙丁 (D)乙丁
40. 在社會生活中，各種社會規範對每個人的約束力不相同，個人行為會受到內在心理及外在環境的影響。有關社會規範的說明，下列選項何者完全正確？(甲)風俗習慣是人際之間互不侵犯的最低標準，例如：中秋佳節人團圓(乙)倫理道德是長期累積、最早發展出來的社會規範，例如：父慈子孝(丙)宗教信仰強調超自然力量的獎善罰惡，例如：人在做，天在看(丁)法律是維持社會秩序的唯一手段，例如：交通法規
(A)甲丙 (B)乙丙丁 (C)甲乙 (D)丙
41. 台灣電子音樂先驅、有「電音教授」之稱的 fish.the (黃凱宇) 逝世的消息傳出，不少音樂人聞訊後都發文哀悼。他曾和友人合著《電子舞曲聖經》，隨後共組「流體音樂工作室」，也曾拿下第 38 屆金馬獎最佳原創電影音樂獎。近年還和製作人組成「三牲獻藝」，(甲)將源自西方的電子音樂結合台灣傳統廟宇慶典音樂，玩出新滋味。fish.the 的弟弟表示「希望他的朋友們能夠記得他的某場表演、某段旋律、某個畫面、某句言語……。」團員則感性表示，(乙)「台灣電子先鋒，長不大的中年中二，總是一起弄沒人聽的電子音樂，辦啦！大家會記得你。」請問：針對上述內容，下列說明何者正確？
(A)畫線(甲)部分在說明中西方文化的融合與創新發展
(B)畫線(乙)部分在說明電子音樂是屬於台灣的主流文化
(C)畫線(乙)部分在說明次文化與主流文化相互排斥競爭，無法共存
(D)電子音樂是少數人喜好的獨特文化，屬較次等的文化

【第 42~44 題為題組】

- 清明節將至，政府為減少因祭祀活動造成的環境污染問題，持續推動「以米代金」、「以功代金」，減少焚燒金紙產生之空氣污染；提供免費環保禮炮車借用，避免環境、空氣污染及噪音問題；推動網路線上祭祀，減少燃燒香支及金紙；推動紙錢集中燒，減少紙錢露天燒化的空氣污染。藉此呼籲民眾只要誠心表達祭祀的敬意，就能兼顧宗教與居住環境品質。
- 民俗專家表示，燒金紙會製造空氣污染，將金紙拿到焚化爐集中燒，減量燒紙錢，甚至「以功代金」做善事，是很好的作法。就像金錢交易，現在不是只有實體紙鈔而已，用信用卡、電子行動支付都是取代紙鈔交易的方法之一。以台北行天宮來說，就算幾 10 年來不燒香、不燒金紙，香火一樣鼎盛。他認為隨著時代變遷，宗教活動也要循序漸進改變，而不是墨守成規，紙錢減量甚至省下這筆費用捐錢做善事，非常值得推廣。宗教最主要的目的是安撫人心、安頓人心，能夠得到心靈的安逸，不因馨香或紙錢多寡，而失去給人精神寄託的意義。
42. 民眾在清明祭祀祖先時，若改採「以功代金」、「以米代金」、「紙錢集中燒」的做法，是遵循何種社會規範？
(A)風俗習慣 (B)倫理道德 (C)宗教信仰 (D)法律
43. 下列敘述何者符合文章所要表達的內容？
(A)宗教信仰透過經典和戒律約束信徒的行為
(B)風俗習慣會因為時間與空間而產生變動
(C)政府透過法律修正，以強制力維護民眾生活與居住品質
(D)倫理道德僅能約束民眾的外在行為，是政府推行新政策的一種手段

44. 「就像金錢交易，現在不是只有實體紙鈔而已，用信用卡、電子行動支付都是取代紙鈔交易的方法之一。」請問：上述顯示出文化的何種特性？
(A)普遍性 (B)差異性 (C)累積性 (D)制約性

【第 45~46 題為題組】

- 新北環保局與民間開發亂丟垃圾包行為辨識 AI 系統，在垃圾丟包熱點架設監視系統，精準揪出違規民眾。新北市環保局指出，環境衛生是近年民眾陳情案件前三名，依《廢棄物清理法》規定，亂丟垃圾可罰 1200 到 6000 元，但新北市加重罰責，初犯罰款調高至 3600 元，希望能遏止違規者，也提醒民眾勿以身試法。
45. 新北市環保局立法規範的作法，可以說明下列哪項內容？
(A)遵守法律是人民的權利
(B)政府的公權力是人民賦予的
(C)法律是由立法機關依一定的程序所制定
(D)違反法律者將以強制力處罰
46. 民眾如果因為貪圖一時個人方便，任意丟棄垃圾，除了會遭受處罰之外，也會造成生活環境的髒亂。請問：隨意棄置垃圾的民眾，會違反那些社會規範？(甲)風俗習慣(乙)倫理道德(丙)宗教信仰(丁)法律
(A)甲乙丁 (B)甲丙 (C)乙丁 (D)丁

【第 47~50 題為題組】

- 慶祝新年到來，世界各國皆會舉辦慶祝活動。丹麥人會將全新的或沒有損壞的碗盤保存下來，在新年時，到朋友家砸碗盤，以此獲得整年好運。智利人會在新年時到墓園過夜，陪著已逝親人一起慶祝新年，並希望能為死去的靈魂帶來和平。愛爾蘭人會在新年時準備麵包，並用麵包捶打牆壁，希望藉此擺脫邪惡的靈魂以及壞運氣。瑞士人每年都會故意把冰淇淋丟到地上，以此獲得好運和繁榮。土耳其人認為穿上紅內衣，能為家人帶來好運，所以每到新年臨近的時候，路上都能看到許多店家在販售紅色內衣。西班牙人則是大家圍在一起吃葡萄，而且傳統上每人要一次吃 12 顆葡萄，接著就能獲得一整年的好運。
47. 過年時華人有吃年夜飯的傳統習俗，又稱為圍爐；在西班牙則是大家圍在一起吃葡萄；在丹麥把東西打碎慶祝新年，在亞洲習俗來看不吉利，卻是丹麥人認為能獲得好運的一種方式。請問：以上顯示出文化的何種特性？
(A)普遍性 (B)差異性 (C)累積性 (D)制約性
48. 在台灣農曆新年的節慶儀式很多，包括吃年夜飯、守歲、貼春聯、發壓歲錢、搶頭香和走春拜拜等。此外，還有不少有趣的禁忌，像是吃魚要剩，代表著年年有餘；年節期間忌打掃，免得將福氣掃出去；初二回娘家禮品紅包都要雙數，代表著夫妻圓滿等。請問：上述主要是在說明台灣的何種社會規範？
(A)風俗習慣 (B)倫理道德 (C)宗教信仰 (D)法律
49. 承上題所述，「吃魚要剩」、「年節期間忌打掃」、「初二回娘家禮品紅包都要雙數」請問：這顯示出文化的何種特性？
(A)普遍性 (B)差異性 (C)累積性 (D)制約性
50. 在中國，傣族在潑水節用純淨的清水相互潑灑，祈求洗去過去一年的不順，新的一年重新出發。藏族慶祝藏曆新年會喝青稞酒，並前往附近寺廟，僧侶會舉行傳統的儀式來驅逐邪惡。在各地每個國家、不同族群都有隆重的節慶儀式。請問：這顯示出文化的何種特性？
(A)普遍性 (B)差異性 (C)累積性 (D)制約性

試題結束

新北市立新莊國民中學 112 學年度第 2 學期第 1 次段考

7 年級社會領域試題解答

| | | | | | | | | | |
|----------|----------|----------|----------|----------|----------|----------|----------|----------|----------|
| 1 | 2 | 3 | 4 | 5 | 6 | 7 | 8 | 9 | 10 |
| A | C | B | D | B | C | C | A | D | A |
| 11 | 12 | 13 | 14 | 15 | 16 | 17 | 18 | 19 | 20 |
| C | D | B | A | B | D | B | B | B | C |
| 21 | 22 | 23 | 24 | 25 | 26 | 27 | 28 | 29 | 30 |
| C | A | C | D | D | B | D | A | A | A |
| 31 | 32 | 33 | 34 | 35 | 36 | 37 | 38 | 39 | 40 |
| B | C | D | D | B | A | C | C | D | D |
| 41 | 42 | 43 | 44 | 45 | 46 | 47 | 48 | 49 | 50 |
| A | B | B | C | D | C | B | A | D | A |