

新北市立新莊國民中學 106 學年度第 1 學期第 1 次段考 9 年級社會領域試題卷

班 座號 姓名

※ 選擇題：本試卷共 50 題，每題 2 分，總分為 100 分。

每一題均為單選題，請選出最適當答案。

1. 請問下列史實哪幾項與波斯人有關？

- (甲) 西元六世紀征服埃及後，建立史上第一個橫跨歐、亞、非大帝國
- (乙) 信仰瑣羅亞斯德創立的祆教；崇拜火與光明；屬於善惡二元信仰
- (丙) 首都：波斯波利斯
- (丁) 編定漢摩拉比法典
- (戊) 居住在伊朗高原

(A) 甲乙丙 (B) 甲丁戊 (C) 乙丙戊 (D) 丙丁戊

2. 請選出下列關於西亞古文明地區，各民族生活與其文化特色之正確配對。

- (甲) 加爾底亞人－善長觀天象與占星術
- (乙) 腓尼基人－最早使用鐵器，首都：尼尼微
- (丙) 西臺人－創立一神信仰的猶太教
- (丁) 希伯來人－相信巴勒斯坦是上帝賜予的應許之地
- (戊) 巴比倫人－武力強大，好戰
- (己) 蘇美人－發明楔形文字、六十進位法

(A) 乙丁戊 (B) 甲丁己 (C) 甲戊己 (D) 丙戊己

3. 萬寶看到右圖就回想去年前往旅遊的神祕國度--埃及。跟著導遊，親自踏上由巨大石塊堆砌而成的金字塔、靜靜守在外面的獅身人面像；博物館裡依舊沉睡的MUMMY、死神阿努比斯、年輕俊美的圖坦卡門黃金面具、.....眾多的古埃及文物讓喜愛歷史的他，旅遊回國後依然回味不已。請問：下列關於古埃及文明的敘述何者正確？



- (A) 金字塔是讓一般民眾避難時的避難場所
- (B) 由太陽神審判死者能否復活重生
- (C) 死者死後的審判是用心臟和代表真理的羽毛一起秤重
- (D) MUMMY 的製作是因為古埃及人相信因果輪迴

4. 右圖的文字特色是由一些圖像與表音符號所組成，因為較難書寫，經由哪一族人改良之後傳至西方國家，成為歐洲國家拼音文字的基礎？



- (A) 巴比倫人 (B) 亞述人
- (C) 猶太人 (D) 腓尼基人

5. 俊言比較蘇美人與古埃及人在文化上的成就，發現兩者有下列哪些相同的貢獻？(甲) 發明文字 (乙) 數學使用六十進位法 (丙) 醫學知識進步 (丁) 制定曆法

(A) 甲丁 (B) 乙丙 (C) 甲丙 (D) 乙丁

6. 最近，國際時事新聞不時出現中、印邊境衝突快速升溫。而兩國之間的問題，似乎因為印度國內無法解決工人罷工潮的問題，所以對中國外交上示弱，暫時解決雙方對峙將近兩個月的緊張情勢。印度擁有全世界第二大人口的優勢，但是因為傳統階級區分，即使印度政府早已明文禁止種姓制度，但是身在 21 世紀的現代，其國內傳統觀念依舊普遍存在。請問，關於印度「種姓制度」的敘述，下列何者錯誤？

- (A) 階級之間可以互相通婚
- (B) 依照阿利安人的安排，身分與職業是世襲制
- (C) 地位最高的是婆羅門
- (D) 由上往下排列：祭司－貴族與武士－平民－奴隸

7. 最近國內新聞時常報導，關於某宗教團體創辦人，因為接受信徒供養名車引發社會議論，各家媒體與社群網站也開始討論各“宗教”對於人們的意義。其實，無論哪一種宗教，都是個人信仰自由與心靈支柱。請問：我們現階段所學，發源於亞洲印度的宗教是下列哪幾項？

- (甲) 猶太教 (乙) 婆羅門教 (丙) 基督教
- (丁) 印度教 (戊) 佛教

(A) 甲乙丙 (B) 乙丙丁 (C) 甲丙戊 (D) 乙丁戊

8. 西元四世紀，是笈多王朝的黃金時代。除了國王本身大力提倡、經濟繁榮、社會安定有關，最重要的是當時教育發達，每一個鄉村都有公立學校，甚至已經有幾間著名大學，各有專精，所以當時人才輩出，文化輝煌。現在世界通用的「阿拉伯數字」(0~9)就是在此王朝時發明。請問，以上敘述是在指哪一個民族？

- (A) 巴比倫人 (B) 印度人 (C) 阿拉伯人 (D) 猶太人

9. 去年，2016 年，正逢本校 70 周年校慶，故舉辦紫錐花反毒越野路跑比賽，雖然只有沿著大漢溪河濱車道 3.5 公里的路程，但是，全校師生一同藉此戶外運動，宣誓反毒決心，跑出屬於自己的健康人生。而近幾年來，世界各國也都會舉辦 Marathon 長跑比賽(42.195 公里)，這是一項可以考驗自己心志耐力的運動。請問，這項運動的名稱是源自於希臘時代，雅典和斯巴達兩大城邦，曾經聯合一起對抗下列哪一民族的侵略？

- (A) 埃及 (B) 亞歷山大 (C) 羅馬 (D) 波斯

10. 如果你有機會回到古希臘城邦，請問，你會遇到下列哪些人事物呢？

- (甲) 在雅典看到以均衡、對稱為名的帕德嫩神廟
- (乙) 遇到蘇格拉底在街上與人說明，「只有明白認清自己是一無所知、毫無智慧的時候，才是人走向智慧的開始。」
- (丙) 在斯巴達看到著名的放逐法陶片，斯巴達城邦以此保護大多數良善人民
- (丁) 剛好遇到奧林匹亞，每四年舉辦一次的取悅神明運動競賽

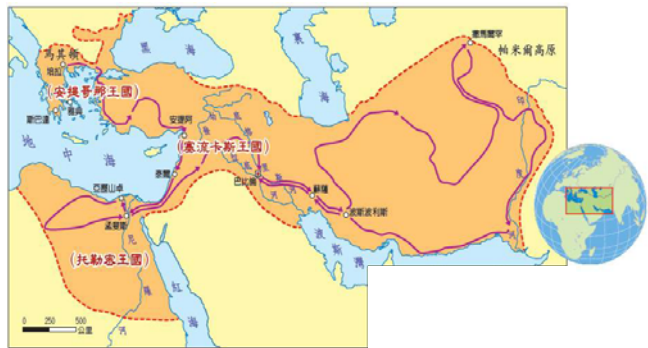
(A) 甲乙丙 (B) 甲乙丁 (C) 甲丙丁 (D) 乙丙丁

11. 請問，右圖是羅馬帝國在哪一時期的積極擴張，建立了橫跨歐、亞、非大帝國，所以將?之海成為羅馬的海？



- (A) 共和時期；地中海
- (B) 帝國時期；裏海
- (C) 共和時期；黑海
- (D) 帝國時期；紅海

12. 關於下圖版圖的帝國與君王，請問下列哪一項敘述正確？



- (A) 此位君王和中國元太祖成吉思汗一樣，都曾經西征
(B) 此帝國發源於希臘愛琴海的克里特島
(C) 統治政策和中國唐朝「胡漢融合，兼容並蓄」一樣
(D) 雖然此位君王年紀輕輕就過世，但是其版圖在後代經營之下更加擴張，國力也更加富強

13. 資料一：明朝末年官員徐光啟與傳教士利瑪竇曾中譯前半部內容，讓當時的中國人第一次認識西方科學專書。

資料二：這本著作是希臘化時期的科學巨著，是後代幾何學的重要教材，也是世界上使用最久的教科書。

請問，以上敘述是指下列哪一本著作？

- (A) 柏拉圖《理想國》 (B) 歐幾里德《幾何原本》
(C) 阿基米德《論浮體》 (D) 亞里斯多德《物理學》

14. 民寶要將這次段考所上過的帝國按照建立先後順序排列，請問下列何者正確？

- (甲) 波斯帝國 (乙) 亞歷山大帝國
(丙) 埃及新王國 (丁) 羅馬帝國

- (A) 甲乙丙丁 (B) 乙丙丁甲 (C) 丁丙乙甲 (D) 丙甲乙丁

15. 西元 313 年羅馬君王終於發布《米蘭詔書》(或《米蘭敕令》)，承認基督教為合法宗教，在帝國境內人民均有信仰基督教的自由，並且歸還原本被沒收的教會財產，讓受苦已久的基督徒，可以光明正大繼續宣傳基督耶穌的理念。請問，是由哪一位君王發布詔令，讓基督徒免於信仰的恐懼？

- (A) 君士坦丁 (B) 狄奧多西 (C) 屋大維 (D) 凱撒

16. 人非常務實，他們吸收希臘化文化的各項知識，並應用在帝國各處建築工程上，例如：輸送泉水的加爾橋、觀賞格鬥活動的圓形競技場、Bath 公共浴室(溫泉浴場)。他們也有一部完善的法律條文法，成為歐洲各國制定法律參考的基礎。請問以上空格應該要填入下列哪一正確選項？

- (A) 羅馬；漢摩拉比法 (B) 希臘；陶片放逐法
(C) 羅馬；十二銅表法 (D) 希臘；查士丁尼法

17. 孟加拉是全世界最貧窮、擁擠的國家之一，其國土大部分由沖積平原構成，多數的人以漁撈和農耕維生；頻仍的洪水常帶來慘重的災情，卻也供養大量魚類並保持土壤肥沃，特別是在沿海一帶。請問：下列關於文中沖積平原之敘述，何者正確？

- (A) 由印度河沖積而成 (B) 位於印度大平原之東段
(C) 屬山麓沖積扇地形 (D) 稻米、茶葉為主要作物

18. 大約 550 萬人口的新加坡，官方語言為英語，國家由佔 74% 的華裔領導，許多弱勢族裔如馬來裔、印度裔缺乏發展機會，因此 2016 年新加坡議會通過憲法修正案，如果某個族裔連續 30 年沒有人當選總統，下屆選舉就會限定由該族裔者參選。於是今年出現了半世紀以來第二位馬來裔也是有史以來第一位女性總統——哈莉瑪(Halimah Yacob)。請問新加坡族群與文化多元的現象與下列何者「無關」？

- (A) 開採石油及國家建設所需引進外國勞工
(B) 十字路口的特殊地理位置
(C) 曾受西方殖民歷史影響
(D) 跨國企業蓬勃發展吸引各國人才

19. 年僅 15 歲的女孩馬拉拉 (Malala Yousafzai) 因極力倡導女性受教權而在巴基斯坦家鄉遭激進組織塔利班士兵開槍射擊頭部重傷，緊急送往英國治療後幸運存活，兩年後成為最年輕的諾貝爾和平獎得主和聯合國和平大使。請問因仍有被暗殺的疑慮而無法回去她摯愛的家鄉——開伯爾-普什圖省(巴基斯坦與阿富汗邊界省分)位於附圖中哪一地區？



- (A) 甲 (B) 乙 (C) 丙 (D) 丁

20. 承上題，下列何者最有可能出現在馬拉拉的宗教生活中？

- (A) 平日靜坐禪修，期望經由苦行，超脫輪迴
(B) 週末假日固定上教堂，讀《聖經》、做禮拜
(C) 到寺廟膜拜神像，相信經由奉獻能獲得庇佑
(D) 遵奉《古蘭經》，每日定時向聖地方向朝拜

21. 印度半島有北回歸線橫貫，副熱帶高壓籠罩大部分地區，卻能有相當的降水量。請問這種現象的產生，和下列何者最有關係？

- (A) 終年有颱風侵襲 (B) 季風的吹拂
(C) 半島三面環海 (D) 暖流全年流經

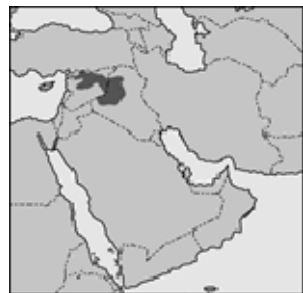
22. 根據經濟部投資業務處調查：「該國天主教徒佔 83%，和東帝汶是亞洲僅有的兩個天主教國家，天主教會不鼓勵節育，全國人口約 1 億 400 萬人，其中 25 歲以下人口高達 54%，勞動力強盛，為全球最大勞工輸出國。目前技術勞力尚稱低廉，加上英語相當普及，吸引眾多國際電子大廠前往設廠，近年來已經取代農業成為該國出口創匯產業。」請問該國最可能是下列何者？

- (A) 印度 (B) 馬來西亞 (C) 菲律賓 (D) 緬甸

23. 「這是古代猶太王國的首都；這是耶穌傳教、犧牲、復活的地方；這是穆罕默德登天聆聽真主阿拉祝福和啟示的聖域... 三大宗教都把自己的精神重心集中到這裡，它實在超重的氣喘吁吁了。」由以上敘述判斷此地為下列哪一個城市？

- (A) 麥加 (B) 大馬士革 (C) 伊斯坦堡 (D) 耶路撒冷

24. 宗教激進組織伊斯蘭國(簡稱 IS)近年來竄起，其暴力行徑令全球陷入恐懼，例如：將西方人質及基督徒以公開斬首的方式處決、綁架日本商人及記者的勒贖事件等，圖中深色區塊為 IS 的主要分布範圍。請問：IS 分布區和下列哪一個國家的位置最靠近，威脅其邊境安全最嚴重？



- (A) 沙烏地阿拉伯 (B) 伊朗 (C) 伊拉克 (D) 阿富汗

25. 緬甸最西邊與孟加拉交界的若開邦居住著一群洛興雅人，緬甸政府認定他們是來自孟加拉的非法移民，拒絕給予公民身分，儘管許多洛興雅人表示，他們的祖先從好幾代前就住在緬甸。近年來此地不斷發生種族衝突造成傷亡，許多洛興雅難民漂流海上進退不得。請問這些紛爭主要歸咎於兩國之間何種的宗教差異？

- (A) 佛教、天主教 (B) 印度教、伊斯蘭教
(C) 佛教、伊斯蘭教 (D) 佛教、印度教

26. 東南亞的範圍包括中南半島及南洋群島，下列關於兩地的敘述何者正確？

- (A) 馬來西亞同時跨越兩區 (B) 皆位於北半球
(C) 中南半島地勢南高北低 (D) 南洋群島皆屬熱帶雨林氣候

27. 沙烏地阿拉伯每人每天平均用水量約 280 公升，僅次於美國及加拿大，排名全球第三。該國政府為了提高淡水供應，大力推動海水淡化工程，而成為世界最大的海水淡化生產國。請問：沙烏地阿拉伯淡水水源不足，高達 46% 的水源仰賴淡化海水，是受下列何種因素的影響？

- (A) 位於盛行風的背風坡 (B) 副熱帶高氣壓籠罩
(C) 位處內陸且距海遙遠 (D) 地勢崎嶇河水快速入海

28. 根據 2016 年某月份的新聞報導：「印度遭逢強烈熱浪襲擊，日前在西部小鎮瓦爾薩德測到高溫颯破攝氏 51 度，創下當地新紀錄，連柏油路都承受不住高溫而融化，路人經過，拖鞋都被黏在馬路上。」請問如果前往印度旅遊時不想遭遇如此乾熱的天氣，應該避免何時前往印度？

- (A) 8 月 (B) 6 月 (C) 5 月 (D) 2 月

29. 哈薩克近年靠著西部豐饒的天然資源支撐起國內七成以上的經濟，成為中亞發展最佳的國家。阿斯塔納為哈薩克首都，原本僅是哈薩克北方的一片荒地，曾被戲稱為「白色墳墓」，在投資超過 5000 億台幣建設後，造就目前高度現代化的首都，並於 2017 年主辦世界博覽會。關於哈薩克的敘述，下列何者正確？

- (A) 首都原為荒地的原因是副熱帶高壓籠罩，降雨量稀少
(B) 大量種植棉花使得裏海湖水逐漸枯竭
(C) 油田主要分布於鹹海的北側及東側
(D) 石油多藉由輸油管向東輸往中國

30. 小明將西亞各個地理區的特色整理成下列表格。請問：表格中資料何者完全正確？

- (A) 甲 (B) 乙 (C) 丙 (D) 丁

| | 地形名稱 | 成因 | 灌溉方式 |
|---|----------|------|------|
| 甲 | 安納托利亞高原 | 板塊擠壓 | 渠道 |
| 乙 | 伊朗高原 | 河流沖積 | 渠道 |
| 丙 | 美索不達米亞平原 | 古老陸塊 | 地下水井 |
| 丁 | 阿拉伯高原 | 板塊擠壓 | 坎井 |

31. 以色列建國以來和周圍國家不斷發生暴力衝突。下列對當地衝突原因的敘述，何者正確？

- (A) 以色列蘊藏豐富的石油，引起各國爭奪
(B) 以色列面臨大西洋，位於海運交通要衝
(C) 境內的庫德族常因獨立運動，與政府發生衝突
(D) 與鄰國信仰不同，爭奪領土及水源引發許多仇恨

32. 石油輸出國家組織 (OPEC) 成立宗旨是維護產油國利益，並維持原油價格及產量水準，許多西亞國家是 OPEC 的會員國。請問下列關於會員國的敘述何者最正確？

- (A) OPEC 的西亞會員國都是阿拉伯人，彼此交易免關稅
(B) 因紅海沿岸有豐富的石油，爆發能源爭奪戰
(C) 因開採石油引進外勞，使杜拜成為人口移入區
(D) 因石油產量豐富，造就巴勒斯坦國的繁榮

33. 今日許多伊斯蘭教盛行的國家將星月標誌(如小圖)放在國旗上，而這個傳統源自於有「歐亞陸橋」之稱的土耳其，請問土耳其位於圖中何地？



- (A) 甲 (B) 乙 (C) 丙 (D) 丁

34. 下列有關影響需求因素的說明，何者敘述是正確的？

- (A) 需求法則是指在其他條件不變下，商品需求量與其價格呈現同向變動的關係
(B) 當所得增加時，消費能力增加，家庭用於生活必需品的比例會普遍提高
(C) 國際紙漿價格攀升，國內民眾將衛生紙搶購一空，是因消費者受到預期心理影響
(D) 天團演唱會門票秒殺是由於該商品為炫耀性財貨

35. 國內經濟不景氣且水電漲價使民眾生活大受影響，下列四人對於經濟與選擇的說法，請問誰的說法最正確？

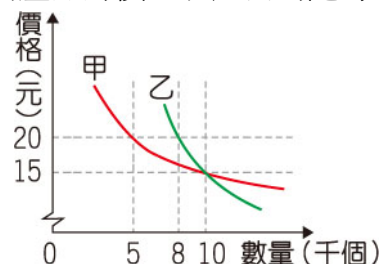
- (A) 小新：將資源做最能增值的使用，才能使欲望獲得最大的滿足
(B) 莊仔：除了水電以外，對於都市的居民，新鮮的空氣也要付出代價，因為其具有稀少性
(C) 阿寬：選擇生產時仍必須考慮到放棄最高的部分就是外部成本
(D) 大霏：水電對於人們屬於自由財

36. 台明計畫在美國開設分公司，經相關人員做出下表各種方案的價格評估，依據內容判斷，哪個方案的花費在「資本」上的成本最低？

- (A) 甲 (B) 乙 (C) 丙 (D) 丁

| 方案 | 工資 | 地租 | 辦公室 | 倉庫 | 設備 |
|----|----|----|-----|----|----|
| 甲 | 35 | 20 | 50 | 20 | 30 |
| 乙 | 20 | 25 | 60 | 25 | 35 |
| 丙 | 30 | 30 | 55 | 20 | 20 |
| 丁 | 40 | 35 | 70 | 10 | 25 |

37. 右圖是根據市場調查結果所繪製出的需求曲線圖，某公司打算藉此結果為甲、乙二種不同產品訂價。若此公司隨時有足夠產品可供應市場所需，則依圖中內容判斷，該公司採用下列何種價格組合的銷貨收入最低？



- (A) 甲、乙產品皆為 15 元
(B) 甲、乙產品皆為 20 元
(C) 甲產品 15 元，乙產品 20 元
(D) 甲產品 20 元，乙產品 15 元

38. 剛從大學畢業的小文，在求職中遇到四個工作機會，他將四項工作整理如右表，其中以宏海公司的月薪最高，請根據表中內容判斷，紅達公司的月薪及機會成本最可能是下列何者？

| 公司 | 月薪 | 機會成本 |
|----|-------|-------|
| 宏海 | 52000 | 50000 |
| 紅達 | ? | ? |
| 台雅 | 46000 | 52000 |
| 連發 | 50000 | 52000 |

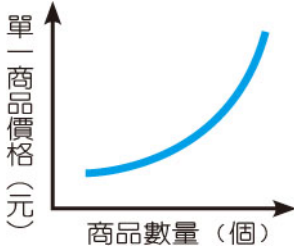
- (A) 月薪 51000 元，機會成本 46000 元
(B) 月薪 53000 元，機會成本 46000 元
(C) 月薪 50000 元，機會成本 50000 元
(D) 月薪 48000 元，機會成本 52000 元

39. 下圖為小江在面臨新工作機會時的選擇情況，若小江僅依薪資高低選擇薪資最高的工作，根據圖中內容判斷，甲、乙、丙工作的薪資高低關係為下列何者？



- (A) 甲>乙>丙 (B) 甲>丙>乙
(C) 丙>甲>乙 (D) 丙>乙>甲
40. 請問下列何者的敘述，最能說明該圖形的意義？

- (A) 中秋佳節將至，商家促銷烤肉用品
(B) 薑母鴨冬季價格看漲，各家業者延長營業時間
(C) 流感季節到來，防治疫苗大缺貨
(D) 傳有芬普尼雞蛋，各大賣場紛紛下架



41. 佑威暑假本來預計去打工，時薪 150 元，後來應好友曉薇的邀請一起去新莊觀賞世大運桌球賽，因為天氣炎熱，排隊時佑威買了 40 元的手搖飲料請曉薇，觀賞了 3 小時的精彩賽事，曉薇在賽後也花了 200 元和佑威一起吃了宵夜。請問：佑威此行的機會成本為多少錢？

- (A) 490 (B) 150 (C) 390 (D) 190

42. 「天下沒有白吃的午餐」、「有得必有失」、「一石二鳥」、「捨生取義」、「不能腳踏兩條船」、「羊毛出在羊身上」、「魚與熊掌不可兼得」、「邊走邊吃」；請問以上敘述，有幾項含有機會成本的概念？

- (A) 4 (B) 5 (C) 6 (D) 7

43. 下圖是某知名百貨各樓層所推出的銷售計畫。請問圖中都是生產者希望藉由何種方法增加利潤？

| |
|-------------------|
| 1F 化妝品：滿 2 千送 2 百 |
| 2F 國際精品：滿萬送千 |
| 3F 服飾：七折起 |
| 4F 美食天地：四人同行、壽星免費 |
| 全館延長營業時間一小時 |

- (A) 降低生產成本 (B) 增加銷售數量
(C) 增加投資生產 (D) 提高產品售價
44. 小夫豆漿店的謝老闆選擇自己研磨豆漿，而放棄加盟總公司統一配送豆漿。請問以上敘述是在考量哪一個生產課題？
- (A) 生產什麼 (B) 為誰生產 (C) 如何生產 (D) 生產數量

45. 附表是某間遊樂園業者針對不同時段園區使用狀況，若甲乙丙三個時段的票價都是相同的，業者為了要增加整體業績，請問行銷部門應該如何訂定價格？

| 時段 | 使用率 |
|----|-----|
| 甲 | 70% |
| 乙 | 40% |
| 丙 | 90% |

- (A)

| 時段 | 票價 |
|----|-----|
| 甲 | 450 |
| 乙 | 250 |
| 丙 | 600 |

 (B)

| 時段 | 票價 |
|----|-----|
| 甲 | 450 |
| 乙 | 600 |
| 丙 | 250 |
- (C)

| 時段 | 票價 |
|----|-----|
| 甲 | 250 |
| 乙 | 600 |
| 丙 | 450 |

 (D)

| 時段 | 票價 |
|----|-----|
| 甲 | 250 |
| 乙 | 450 |
| 丙 | 600 |

46. 八月份，尼莎與海棠颱風接連來襲，消費地菜價因而大漲。颱風過後，中部和雲嘉地區的主要蔬菜產區，以青蔥受損最嚴重，市場人士分析，菜價後續漲跌與否，必須看整體農損災情而定。使得產地與消費市場的蔬菜行情提前浮現菜價上漲的預期心理，發布警報後，產地菜價平均上漲約三成，民眾抱怨連連。而颱風過後已有一段時間，但蔬果價格依然貴得離譜，政府相關單位已著手進行調查，是否有菜蟲藉機囤積、哄抬菜價，請問相關單位應該是下列何者？

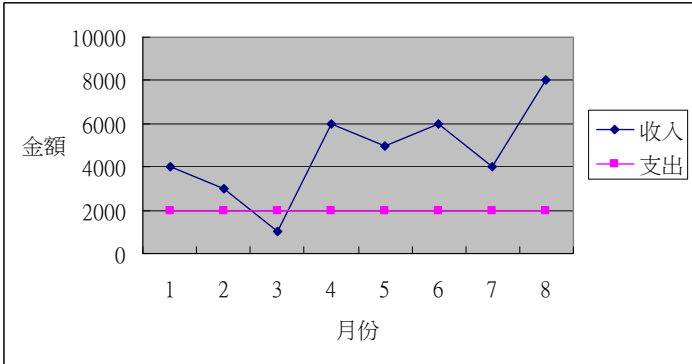
- (A) 消費者文教基金會 (B) 公平交易委員會
(C) 金融監督管理委員會 (D) 中央銀行

47. 請問以下何者屬於生產者生產勞務？

- (A) 爸爸耕種自家農田 (B) 美髮店店員設計髮型
(C) 雞排攤老闆販賣雞排 (D) 銀行借錢給年輕人創業

48. 蔡媽媽準備經營雞排店，以七千元購買相關器材，下圖是她營業八個月以來的收入與支出情形。請問：若不考慮其他因素，蔡媽媽回收當初購買器材的成本後並開始有盈餘，應該是從幾月份開始？

- (A) 3 (B) 4 (C) 5 (D) 6

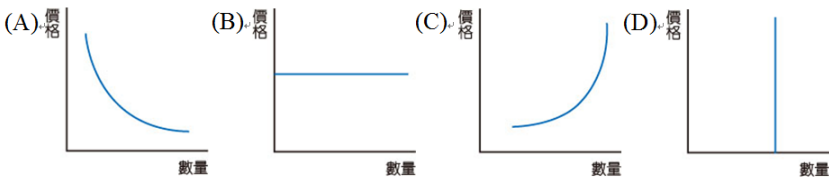


49. 台鐵便當店每天僅製作 500 份便當，每份成本 50 元，售價 70 元，為了保持品質，當天沒賣完的便當會全部丟棄，附表為近日消費者對該店便當的需求狀況。請問根據表中狀況判斷下列何者正確？

| 日期 | 需求數量 |
|-----------|------|
| 10 月 7 日 | 550 |
| 10 月 8 日 | 450 |
| 10 月 9 日 | 500 |
| 10 月 10 日 | 600 |

- (A) 四天連假總共售出 2100 份便當
(B) 10 月 7 日獲利 11000 元
(C) 總收入為 136500 元
(D) 總生產成本為 105000 元

50. 右圖是一種被稱作為鑽石級的貝魯嘉魚子醬，據說主要產自於 80 歲以上的大白鱈，是當今世上最珍貴的魚卵，而由它所製作成的魚子醬要說有多珍貴就有多珍貴，再搭配 24K 金盒裝，更讓它一整個貴氣四射，價格直衝天際，一罐要價 25,000 美金。根據以上敘述，可用下列哪個需求曲線圖來說明此類型商品的消費行為？



新北市立新莊國民中學 106 學年度第 1 學期第 1 次段考 9 年級社會領域試題

解答

| | | | | | | | | | |
|----------|----------|----------|----------|----------|----------|----------|----------|----------|----------|
| 1 | 2 | 3 | 4 | 5 | 6 | 7 | 8 | 9 | 10 |
| C | B | C | D | A | A | D | B | D | B |
| 11 | 12 | 13 | 14 | 15 | 16 | 17 | 18 | 19 | 20 |
| A | C | B | D | A | C | B | A | B | D |
| 21 | 22 | 23 | 24 | 25 | 26 | 27 | 28 | 29 | 30 |
| B | C | D | C | C | A | B | C | D | A |
| 31 | 32 | 33 | 34 | 35 | 36 | 37 | 38 | 39 | 40 |
| D | C | A | C | B | C | D | D | B | B |
| 41 | 42 | 43 | 44 | 45 | 46 | 47 | 48 | 49 | 50 |
| A | C | B | C | A | B | D | C | C | C |