

※ 選擇題：本試卷共 50 題，每題 2 分，總分為 100 分。
每一題均為單選題，請選出最適當答案。

※ 請用 2B 鉛筆在答案卡上相應的位置畫記。

1. 為抑制全球暖化問題，各國積極提升再生能源比例，取代現行主要使用的化石燃料，其中水力發電原理乃是利用水的重力作用推動水輪機，再驅動發電設備。而台灣除了降水量多的氣候條件，還有「某種自然環境特色」，有利於往建置小型水力發電廠提升綠色能源的方向發展。請問上文指的某種自然環境特色為何？

(A)山脈多為南北走向 (B)珊瑚礁海岸廣闊
(C)地勢高低落差大 (D)曲折多彎的海岸線

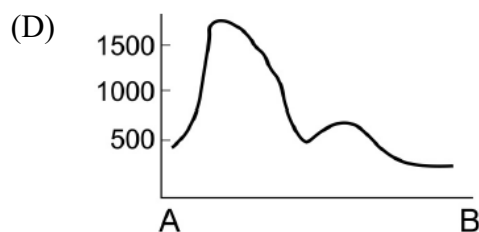
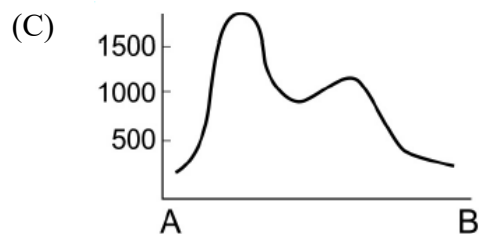
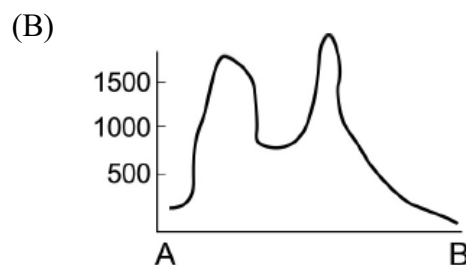
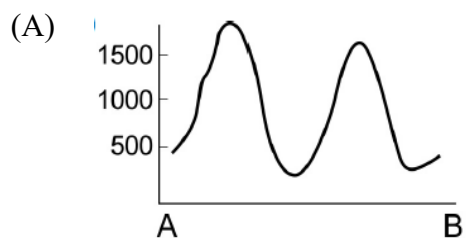
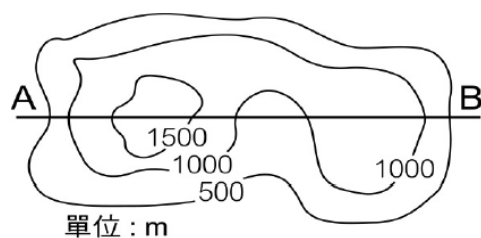
2. 下表為小臣的上課筆記，請幫忙找出筆記中的哪個部份記錄「錯誤」了？

選項	沙岸	岩岸	珊瑚礁海岸
(A)海水深度	淺	深	淺
(B)海岸特徵	多沙洲、潟湖	崎嶇不平的礁岩遍布	岬角、海灣相間
(C)特色產業	曬鹽、養殖漁業興盛	航運、捕撈漁業發達	觀光旅遊業為主
(D)形成原因	堆積作用盛行	侵蝕作用為主	生物作用形成

3. 請問下列何者的地形作用力與其他三者不同呢？

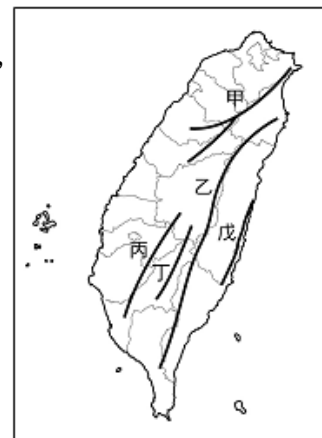
(A)陽明山的小油坑 (B)墾丁的珊瑚礁海岸
(C)野柳的女王頭 (D)清水的高美濕地

4. 參照右側的等高線地形圖，請找出 AB 剖面線的地形剖面圖應為何者？



5. 為改善宜蘭的對外交通，台灣建造了全台最長的公路隧道—坪林隧道，簡稱雪隧，全長達 12.9 公里，但每逢連續假期還是面臨車流壅塞、窒礙難行的狀況。請問此隧道穿越的是圖中哪一座山脈？

(A)甲 (B)乙
(C)丁 (D)戊



6. 台灣玉里大橋是世界唯二跨越不同板塊的橋樑，另一座位於冰島，因受到板塊擠壓推升，每年約會長高 2~3 公分，當地政府須實施整平工作。請問此橋位於台灣何區？

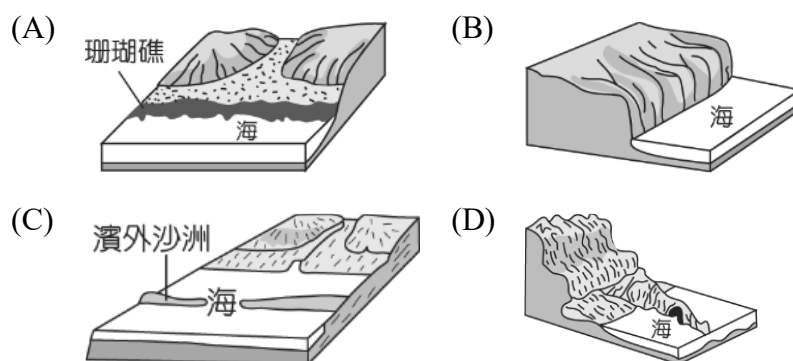
(A)中央山脈 (B)宜蘭平原
(C)埔里盆地 (D)花東縱谷平原

7. 此區因當地開闢魚塭大量養殖虱目魚，成為地方特產，繼而設計出結合地方產業特色的吉祥物—「虱目魚小子」，以推廣虱目魚產品，但因其奇特的外觀，屢屢登上國際媒體版面而引發熱議，如右圖所示。請問此吉祥物最可能出現在台灣哪個地方？



(A)花蓮縣瑞穗鄉 (B)屏東縣恆春鎮
(C)新竹縣竹北市 (D)台南市北門區

8. 承上題，養殖漁業特別興盛的海岸類型接近下列何者環境呢？

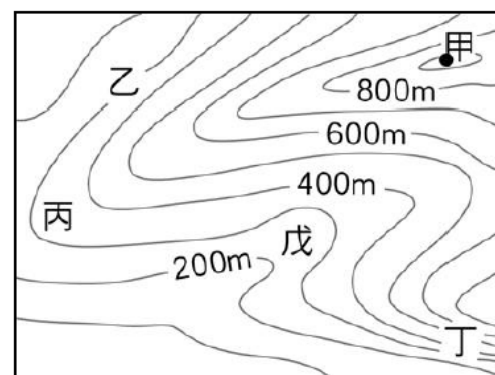


【第 9 至 11 題為題組】

右圖為某一地的等高線地形圖，請依照圖中資訊進行判讀，回答下列問題：

9. 請問此區最高峰的高度最可能為哪一個選項？

(A) 867m
(B) 935m
(C) 1059m
(D) 1083m



10. 請問圖中何地坡度最為陡峭難行？

(A)乙 (B)丙 (C)丁 (D)戊

11. 請問圖中何地最可能有河流經過？

(A)甲 (B)丙 (C)丁 (D)戊

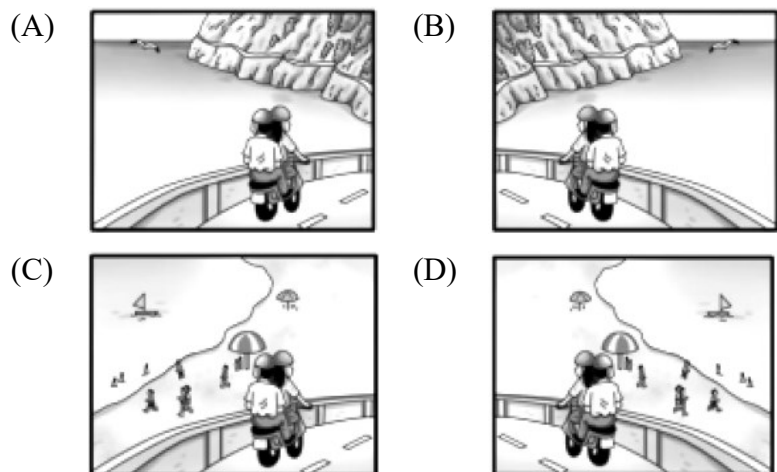
背面尚有試題

【第 12 至 14 題為題組】

小珊在暑假與爸爸一起騎摩托車環島，由基隆港出發，一路順時針前行，行經阿里山時，改搭乘小火車登頂賞日出，最終繞行台灣一圈，回到原點完成旅程。請依據上文所述，回答下列問題：

12. 請依照時間序排列出小珊會看到的海岸景觀大致為何？
 (甲)岬灣海岸 (乙)珊瑚礁海岸 (丙)斷層海岸 (丁)沙岸
 (A)甲丙乙丁甲 (B)甲丁乙丙甲
 (C)乙丁甲丙乙 (D)丁丙乙甲丁

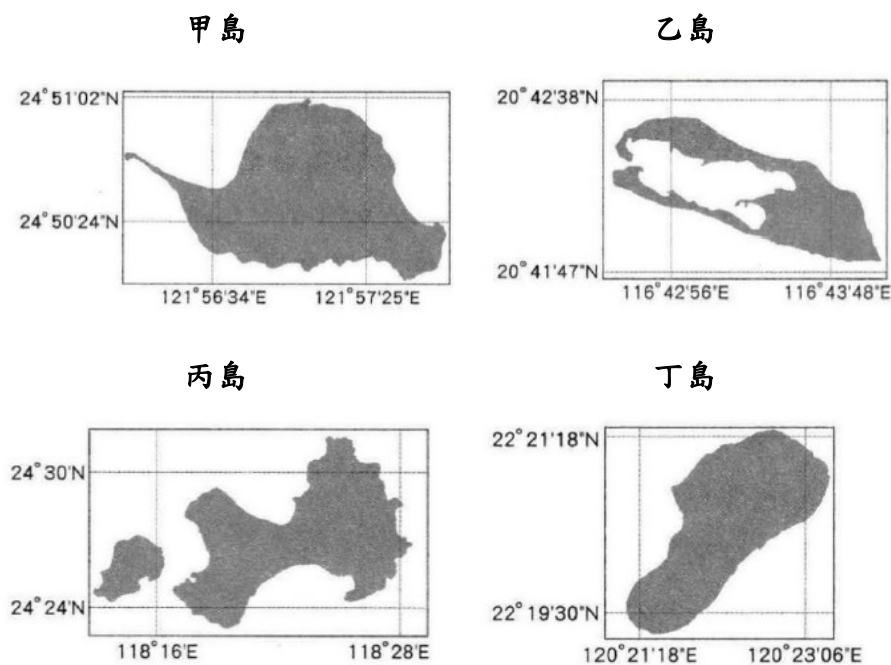
13. 小珊與爸爸騎行至東部，在宜蘭蘇澳穿行中央山脈最北側到達花蓮的過程，被周遭海岸景觀驚艷不已，請依據當時的行程方向判斷其看到的景觀接近哪張圖片呢？



14. 小珊在阿里山登頂觀賞日出，乃是嘉義十分有名的觀光行程，請就相對位置進行判斷，小珊在阿里山上觀賞到的日出應是從何座山脈升起呢？
 (A)雪山山脈 (B)中央山脈 (C)海岸山脈 (D)玉山山脈

【第 15 至 16 題為題組】

下圖為台灣周邊的四個離島，請依據四島位置，回答下列問題：



15. 請問下列島嶼類型的配對組合中，哪一個「寫錯」了？
 (A)甲島—火山島 (B)乙島—火山島
 (C)丙島—大陸島 (D)丁島—珊瑚礁島

16. 請問因地緣政治因素考量，或因戰略位置特別重要，有可能面臨周邊國家軍事威脅的島嶼應是下列何者？
 (A)甲島與乙島 (B)乙島與丙島
 (C)丙島與丁島 (D)丁島與甲島

17. 現今社會的隔代教養家庭，多是因家庭結構變動所致，例如：父母離異、死亡、工作型態、入獄服刑等因素。尤其在南部地區，隔代教養的現象十分頻繁，主因為缺乏就業機會，使得父母必須到外縣市討生活，而將其子女托育給孩子的祖父母。根據上文判斷，隔代教養家庭出現的原因可能有下列哪些？
 甲、家庭成員減少 乙、工作環境轉變
 丙、婚姻觀念的轉變 丁、家庭勞動力的改變
 (A)甲乙 (B)乙丙 (C)丙丁 (D)甲丁

18. 把孩子安置在電視機前偷閒放鬆一下，對下班回家的爸媽來說，是一種方便育兒的手段。但如果孩子變成電視兒童，占用了跟爸媽相處，以及跟其他小朋友互動的機會，孩子就會沉迷於電視節目的聲光刺激，並且在廣告和媒體的影響之下，學會不當的言語和行為，對孩子的行為和社交能力將產生負面的影響。即使是教育性節目，也要分齡挑選，這樣電視才能成為好的教具。根據上文內容敘述，下列選項何者有誤？

- (A)在社會變遷之下，家庭功能已經產生轉變
 (B)現代家庭的教育功能，也可以由傳播媒體來輔助
 (C)電視兒童減少與同儕間的互動，恐不利孩子融入社會生活
 (D)傳播媒體取代父母，成為孩子第一個社會化的學習對象

19. 臺灣人口快速老化，推估至 115 年將邁入超高齡社會，使得長期照顧需求人數隨之增加。又因家庭的照顧功能逐漸式微，個人與家庭的照顧壓力日重，進而衍生社會與經濟問題。因此，建立完善的長照體制，已成為完備我國社會安全體系的關鍵之一。請問：政府推動的各項措施中，下列何項無法解決高齡社會所帶來的家庭困境？

- (A)成立家庭教育中心 (B)增設公共托老中心
 (C)推廣三代同鄰的觀念 (D)提供到宅服務、居家護理

20. 一名王姓男子遭控對妻子和未成年小孩家暴，妻子因此向(甲)單位申請保護令，經(甲)單位裁定核發保護令後，王男不得對妻小實施身體或精神上不法傷害。但他仍涉嫌多次傳訊息騷擾、飆罵髒話等語，又在一處公車站牌私下接走小孩丟包路口。經地檢署偵結，依多次違反保護令罪嫌將其起訴。請問：(甲)單位指的應是下列何者？

- (A)社會局 (B)警察局
 (C)地方法院 (D)家庭暴力防治中心

21. 承上題，根據我國(甲)法規規定，父母若對小孩有家暴或不當管教的行為，(乙)單位可以宣告限制或禁止父母行使親權。請問：甲與乙正確選項分別為何？

- (A)家庭暴力防治法、社會局
 (B)民法、警察局
 (C)家庭暴力防治法、法院
 (D)民法、法院

22. 即將邁入婚姻的四位準新人，在聚餐中暢談彼此對家庭生活的想法。下列何人的發言不符合平權家庭的新面貌？
 (A)阿嬌：婚後擁有相等的經濟自主權，財產可以各自管理
 (B)阿玲：當夫妻對小孩管教意見不一致時，要聽從小孩的意見
 (C)阿榮：婚後小孩的姓氏，由夫妻共同協調決定
 (D)阿財：從事家務勞動者，也有使用家庭收入的權利

繼續作答下張試卷

23. 杰倫生日當天，家庭成員齊聚送禮祝賀，下表是當日出席的成員名單以及對應的親屬關係，下列選項，何者完全正確？

甲	大姨丈和爸爸	姻親-連襟
乙	媽媽和姑姑	姻親-妯娌
丙	爺爺和外婆	姻親
丁	杰倫和舅媽	血親-旁系血親
戊	伯父和奶奶	血親-直系血親

(A)甲乙丙 (B)乙丙丁 (C)乙丁戊 (D)甲戊

24. 現行民法親屬間權利與義務關係的規定，下列何者**錯誤**？

(A)夫妻若離婚，子女監護權的取得，要尊重子女意願
(B)家庭生活開銷，夫妻依經濟能力共同分擔
(C)子女如被父母家暴或遺棄，可免除或減輕扶養義務
(D)夫妻婚後住所，以丈夫現在住所為優先

25. 童話故事灰姑娘女主角仙杜瑞拉，因母親過世，父親再娶，她有一位惡毒的繼母與兩位心地不好的繼姐。但自從她的父親過世之後，她便經常受到繼母與兩位姐姐的欺負，被逼著去做粗重的工作，經常弄得全身滿是灰塵，因此被戲稱為「灰姑娘」。請問：根據劃線的部分描述，當時仙杜瑞拉的家庭型態應該為何？

(A)重組家庭 (B)新住民家庭 (C)大家庭 (D)折衷家庭

26. 戲劇俗女養成記女主角陳嘉玲，出身於台南純樸的鄉下，三代同堂，全靠阿公開的中藥行維生。爸爸是中藥行繼承人，順從父母怕老婆，奶奶是出名的八卦收集站，媽媽是一位聽話媳婦，爺爺是家裡的大家長，嚴肅正經。唯一的弟弟，對姊姊百依百順，是名同性戀。請問：陳嘉玲的家庭型態是屬於下列何種？

(A)核心家庭 (B)主幹家庭 (C)擴展家庭 (D)頂客家庭

【第 27 至 29 題為題組】

0-2 歲嬰幼兒階段，在生理、心智的發展與安全感的建立都是重要關鍵，此時亟需陪伴照顧與細心呵護。但因現代社會，小家庭及雙薪模式居多，若沒人幫忙照顧，就得仰賴托嬰中心或保母的支持。由於公共托嬰中心的價格相對較低廉，民眾大多喜歡將孩子送到公托，造成公托名額供不應求。為了讓年輕人願生敢養，近年來公托數量持續增加，同時政府力推平價生養，生育津貼額度也跟著加碼，大大減輕年輕父母負擔。

27. 形成雙薪家庭的現代家庭生活型態，主要是受到下列何種因素影響？

(A)家庭成員減少 (B)工作環境轉變
(C)婚姻觀念的轉變 (D)家庭勞動力的改變

28. 公托數量增多，除了減輕家庭經濟負擔，還有助於發揮家庭的哪項功能？

(A)生育功能 (B)保護與照顧功能
(C)教育功能 (D)經濟功能

29. 政府增加公托數量，提高生育津貼，目的是希望解決社會變遷帶來的什麼問題？

(A)家庭暴力 (B)高齡化 (C)少子化 (D)離婚率上升

【第 30 至 31 題為題組】

衛福部最新統計顯示，2021 年家庭暴力事件通報被害人相較於前一年增加 4151 人。雖然女性家暴被害人仍是多數，但兩性占比越來越接近。過去典型的家暴案件會停留在父權文化的觀念上，然而暴力形式不僅是身體的傷害，多數男性被害者承受的是精神暴力，隨著性別平權意識抬頭，兩性受暴佔比逐漸縮減，但這並非好現象，基於性別平權，兩性間

應有更多尊重與理性溝通。

進一步觀察家暴案件類型，2021 年以「婚姻、離婚或同居關係暴力」占 45.1% 居多，其次為「兒少保護」占 17.6%。「卑親屬虐待尊親屬」的部分，除了與人口老化、照顧議題相關，又因疫情下學校改採線上教學，但孩子沒有上課卻沉迷於線上遊戲，進而引發親子衝突。

30. 根據上文敘述，下列何者**為非**？

(A)男性家暴受害人數增加，顯示男性較容易成為受害者
(B)男性受害人大多是承受無形的精神暴力
(C)有別於過往，家暴受害人比較敢於公開家暴事件
(D)家庭成員彼此尊重與溝通，才能減少家暴事件發生

31. 有關家庭暴力的相關知識，下列哪些訊息正確？

(A)甲乙丙 (B)乙丙丁 (C)甲乙丁 (D)甲乙丙丁

甲	家暴的被害人僅包含有親屬關係的同住家人
乙	家暴包含對家庭成員生理和心理上的傷害
丙	家暴通報根據家庭暴力防治法處理
丁	子女對長輩的虐待與棄養也屬於家暴範圍。

【第 32 至 33 題為題組】

台灣女性 20 年來勞動參與率創新高，突破五成，近五年更是以 35-39 歲女性增加比例最多，這個年紀以往被視為養兒育女的黃金時期。女性勞動參與率的增加，與新時代女性單身不婚、婚後未生育有關；另一部份，男性育兒態度抬頭，逐漸打破傳統「男主外、女主內」的框架，可能也是原因之一。勞動部數據顯示，申請育嬰假的女性雖然仍是多數，但逐年下降。反之，男性申請比例雖不多但緩慢上升中，顯示愈來愈多爸爸願意放下工作、拿起奶瓶，共同分擔育兒責任。

32. 女性勞動參與率的增加，申請育嬰假的女性逐年下降，已婚男性投入育兒工作的比例逐漸上升，顯示出現代家庭的什麼面貌？

(A)家庭成員減少 (B)家庭勞動力的改變
(C)工作環境轉變 (D)婚姻觀念的轉變

33. 政府為了鼓勵生育，提供育嬰假的申請。請問：關於育嬰假的相關規定，下列何者正確？

(A)有助於發揮家庭的教育功能
(B)在子女滿 2 歲前皆可以提出申請
(C)根據性別工作平等法規定辦理
(D)由任職滿 6 個月的女性優先申請

34. 在台南市的永康科技園區，附近有個「○○○紀念公園」，據說當時因為不滿荷蘭人強制徵稅，漢人拿起鐮刀反抗，但最終以失敗收場，請問：上述的公園是在紀念哪一場事件？

(A)郭懷一 (B)朱一貴 (C)大肚王 (D)麻豆社

35. 如藝：哇！台灣這裡竟然有鐵路耶！

李玉：渡台禁令被廢除，終於可以來台灣

雲撒：荷蘭人管好嚴，早知道就不來台灣

請問：上面三個人來台灣的先後順序，下面哪一個是正確選項？

(A)如藝 李玉 雲撒 (B)雲撒 李玉 如藝
(C)李玉 雲撒 如藝 (D)雲撒 如藝 李玉

36. 石牌捷運站的一號出口，有一個漢番界碑(如圖一)，請問：這個石碑會出現，跟什麼政策有關？

(A)開山撫番 (B)劃界封山
(C)台灣建省 (D)台灣開港



(圖一)

背面尚有試題

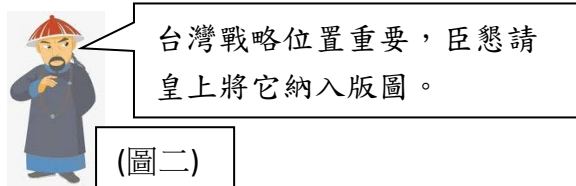
新北市立新莊國民中學 111 學年度第 1 學期第 2 次段考 7 年級社會領域試題卷

班級 座號 姓名

37. 台灣有一段時間，男女人口比例失衡，男性人口暴增，出現一批單身且無固定職業的「羅漢腳」，請問：造成這種狀況，跟下面哪個選項有關？
 (A)台灣開港通商，許多漢人來台做生意
 (B)台灣建省，治安變穩定，移民者增加
 (C)渡台禁令的頒布，禁止攜帶家眷來台
 (D)台灣的首任巡撫，招募漢人來台開墾

38. 下(圖二)是清帝國某位大臣，希望皇帝將台灣收歸版圖，請問：這位大臣應是下列何人？

(A)劉銘傳 (B)鄭經 (C)沈葆楨 (D)施琅



39. 高雄內門區有一座雕像，告示牌上寫道：「鴨母王紀念碑」，旁邊還有個養鴨的池塘，據說這是三大民變中，時間最早的一場，請問：這是誰的雕像？

(A)朱一貴 (B)林爽文 (C)戴潮春 (D)沈葆楨

40. 在清帝國時期，台灣常常有械鬥與民變的情況，社會治安非常不好，請問：「民變」的發生跟哪一件事情最相關？

(A)人民之間時常發生打群架的情況
 (B)吏治的不良，人民起身反抗官府
 (C)台灣的開港，外國勢力進入台灣
 (D)原住民為了土地，與漢人起衝突

41. 二砂灣炮台又叫做「海門天險」，坐落在基隆市二沙灣上，這個炮台經歷過鴉片戰爭、清法戰爭與甲午戰爭，非常具有歷史價值，請問：此炮台的重整修建，跟誰最有關？

(A)劉銘傳 (B)沈葆楨 (C)林爽文 (D)施琅

42. 明蘭去日本長崎旅遊時，發現幾座石碑，上面文字已經呈現黑色，難以辨認，只能看出上頭寫著：「台灣役戰歿之碑」、「徵台軍人墓碑」、「牡丹鄉之賊…」等等字樣，請問：上面石碑是在闡述哪一個歷史事件？

(A)清法戰爭時，日軍出兵攻打台灣的基隆
 (B)日本為琉球船民，攻打台灣南部原住民
 (C)英法聯軍之役，遭受到迫害的日本居民
 (D)麻豆社之役，日軍攻打台灣南部的部落

43. 清帝國在西元 1861 年，開始推動以國防、軍事為中心的西化改革，史稱「自強運動」，當時在台灣的官員，也陸續推動現代化建設，請問：下面選項有哪些是當時所做的建設？(甲)億載金城炮台 (乙)基隆到台北的鐵路 (丙)增設噶瑪蘭廳 (丁)架設電報線與郵局

(A)甲乙丙 (B)乙丙丁 (C)甲丙丁 (D)甲乙丁

44. 「長官都高坐於亭中，其他原住民長老被安排於低矮的椅子上，同時前方還有要賦予各族長老的權杖，象徵權位與榮耀」，請問：根據上面的敘述，這是哪個時期的台灣圖片？

(A)1630 年荷蘭人定期舉辦的地方會議
 (B)1626 年西班牙人登陸北台灣的慶典
 (C)1665 年鄭成功正跟原住民解釋軍屯
 (D)1684 年原住民決定要歸順清朝政府

45. 新港文晝是用羅馬字母拼寫而成，因為新港社留下這種文獻最多，才有這個稱呼，請問：這種文字的出現，跟什麼情況有關？

(A)西班牙人傳遞天主教 (B)鄭成功傳遞儒家思想
 (C)阿拉伯傳播回教教義 (D)荷蘭傳播基督教思想

46. 基隆和平島上，有個「諸聖教堂遺址」，是台灣近期重要歷史遺跡發掘成果，2022 年基隆市博覽會，有對外向民眾展示考古的成果，請問：這個遺址能證明什麼事情？

(A)荷蘭人曾在南方建立過政權
 (B)鄭氏政權實施過軍屯的政策
 (C)英國曾經與鄭氏貿易的證據
 (D)西班牙曾經控制過台灣北方

47. 新莊國中的學生正在準備歷史話劇，目前劇本是以台灣史為主，請問：下面人物的台詞，哪句話編劇寫錯了？

(A)沈葆楨：我推行「開山撫番」的政策
 (B)劉銘傳：我可是把鐵路一路蓋到新竹
 (C)康熙皇帝：我把台灣納入清朝的版圖
 (D)馬賽人：我通曉漢語也會用貨幣貿易

【第 48 至 50 題為題組】

下面為台灣行政區域演變圖，請根據圖片回答下列問題：



48. 請問：從(甲圖)演變成(乙圖)是發生什麼事件？

(A)郭懷一事件 (B)朱一貴事件
 (C)林爽文事件 (D)戴潮春事件

49. 請問：從(乙圖)演變成(丙圖)是發生什麼事件？

(A)郭懷一事件 (B)朱一貴事件
 (C)林爽文事件 (D)戴潮春事件

50. 請問：生活在(丙圖)時期的老百姓，會有什麼樣的生活經驗？

(甲)北部某區被海盜侵擾，多增加了行政區
 (乙)哇！現在有郵局了，傳遞訊息速度變快
 (丙)聽說首任巡撫劉銘傳，即將要來到台灣
 (丁)皇帝更變我居住的縣市名，感覺好光榮
 (A)甲乙 (B)乙丙 (C)甲丁 (D)甲丙

試題結束

新北市立新莊國民中學 111 學年度第 1 學期第 2 次段考 7 年級社會領域試題
解答

1	2	3	4	5	6	7	8	9	10
C	B	A	C	A	D	D	C	B	C
11	12	13	14	15	16	17	18	19	20
D	A	A	D	B	B	B	D	A	C
21	22	23	24	25	26	27	28	29	30
D	B	D	D	A	B	D	B	C	A
31	32	33	34	35	36	37	38	39	40
B	B	C	A	B	B	C	D	A	B
41	42	43	44	45	46	47	48	49	50
A	B	D	A	D	D	B	B	C	C