

※ 選擇題：本試卷共 50 題，每題 2 分，總分為 100 分。  
每一題均為單選題，請選出最適當答案。

1. 「If I have seen further it is by standing on the shoulders of giants. (如果我可以看得更遠，那是因為我站在巨人們的肩膀上。)」--Isaac Newton (艾薩克·牛頓)。無庸置疑，他是史上最偉大的科學家。他提出的定律，能應用在所有地球表面上物體的運動。請問，下列哪一項並非他的研究成就？  
(A) 運動定律 (B) 萬有引力理論  
(C) 反作用定律 (D) 太陽中心說
2. 請問，關於科學革命時期重要科學家與其學說，下列哪一項配對正確？  
(A) 伽利略-改進望遠鏡，支持哥白尼的日心說  
(B) 笛卡兒-從一系列具體的事例，歸納出普遍的原則  
(C) 培根-從普遍公認的原則，經嚴格論證來確認其他具體的事例  
(D) 哥白尼-提出地球為宇宙中心說

【題組一：第 3~4 題】

❖ 下列兩圖是 1979 年被列入《世界文化遺產名錄》的巴黎凡爾賽宮。在 18 世紀初成為歐洲最雄偉豪華的建築，也是當時法國國力富強的象徵；著名的鏡廳（Galerie des glaces）更宣示著當年太陽王統治時的巨大經濟成就。



3. 請問，上述“太陽王”是指法國哪一位君王？  
(A) 亨利四世 (B) 路易十三 (C) 路易十四 (D) 路易十六
4. 凡爾賽宮的建築風格引起當時各國君主的羨慕與仿效，其中當時俄國彼得大帝，就在聖彼得堡郊外修建夏宮。請問，上述太陽王與俄國彼得大帝，都是屬於哪一類型的君王代表？  
(A) 主權在民 (B) 君權神授 (C) 自由民主 (D) 開明專制
5. 西元 1777 年，有一位歐洲君王親自寫了一封致司法部部長之信，信件內容：「我很不高興，那些在柏林吃上官司的窮人，處境是如此艱難。……我想清楚的告訴你們，在我的眼中，一個窮困的農民和一個最顯赫的公爵或一個最有錢的貴族沒有絲毫高低之別。法律之前人人平等。」請問此位君主是誰？  
(A) 路易十四 (B) 凱薩琳二世 (C) 彼得大帝 (D) 腓特烈二世
6. 「主張市場供需雙方會各自做出對自己最有利的選擇，使資源更有效率的分配與運用，所以政府不用過度干預人民的經濟活動。政府的任務是對外抵抗侵略，對內維持社會秩序就好。」請問，上述是何人的主張？  
(A) 狄德羅 (B) 馬基維利 (C) 亞當斯密 (D) 伏爾泰
7. 中華民國的五院制，是將何人理論再分出考試院與監察院所形成？  
(A) 洛克《天賦人權》 (B) 孟德斯鳩《法意》  
(C) 盧梭《民約論》 (D) 伏爾泰《言論自由》

【題組二：第 8~9 題】

- ❖ 《Oliver Twist》孤雛淚、《Tale of Two Cities》雙城記，是一位英國作家查爾斯·狄更斯（Charles Dickens）著名的作品。他是維多利亞時期最偉大的作家，作品一貫表現懲惡揚善的人道主義精神，反映現實生活。
8. 《Oliver Twist》孤雛淚是描述揭露倫敦在某一時期，童工受虐、幫派吸收貧窮青少年參與犯罪，藉此希望喚起大眾的注意，拯救無辜的孩童。而且此時代的資本家往往不顧勞工福祉，貧富差距擴大，形成嚴重的社會問題。請問，以上情況的背景是指哪一時期？  
(A) 科學革命 (B) 宗教改革 (C) 文藝復興 (D) 工業革命
  9. 《Tale of Two Cities》雙城記是描述 18 世紀末發生於巴黎和倫敦的故事。書的開卷語：「It was the best of times, it was the worst of times.」（這是個最美好的時代，也是一個最糟糕的時代。）小說裡描寫巴黎貴族如何殘害百姓，人民累積已久的憤怒仇恨終究導致不可避免的流血抗爭；但是書中的中心思想，其實是為了愛而自我犧牲。上述“導致不可避免的流血抗爭”是指什麼事情？  
(A) 法國大革命 (B) 法國二月革命  
(C) 法國光榮革命 (D) 法國七月革命

【題組三：第 10~12 題】

- ❖ 「民主」(Democracy)：人民的權力、主權在民、人民是國家的主人。與傳統「專制」對立。是中國新文化運動時期重要的口號-「德先生」。而關於民主議會政治發展最早的英國，更是成為君主立憲政治典範。請問：
10. 英國在 13 世紀初，就有一份限制王權的法案，替民主奠下根基，而且這份法案被視為英國憲法的起源。請問是指哪一份法案？  
(A) 大憲章 (B) 獨立宣言 (C) 人權宣言 (D) 權利法案
  11. 確立英國國會成為最高立法機構，議員們在國會享有言論自由，確立議會的權力是指 1688 年「光榮革命」後通過哪一份法案？  
(A) 人權宣言 (B) 權利法案 (C) 大憲章 (D) 獨立宣言
  12. 17 世紀，有大批英國移民因為反對當時的宗教壓迫，移民至北美十三洲追求自由。但是到了 18 世紀中期，他們被迫要協助解決英國本土的財政負擔，激起在北美人們的抗爭，於 1773 年在波士頓港口爆發了衝突，公開反抗英國政府。並於 1776 年 7 月 4 日宣布成立美利堅合眾國，脫離英國統治。請問當時發表的是下列哪一份文件？  
(A) 權利法案 (B) 人權宣言 (C) 獨立宣言 (D) 大憲章
  13. 美國獨立成功後，制定出世界上第一部民主成文憲法，成立世界上第一個實施三權分立互相制衡的政府；第一任總統華盛頓還立下總統只連任一次的民主風範，成為各民主共和國仿效對象。請問，美國獨立與建國的政治學說是受到何時期的影響？  
(A) 啟蒙運動時期 (B) 宗教改革時期  
(C) 文藝復興時期 (D) 科學革命時期
  14. 樂聖-貝多芬在 19 世紀初創作了《英雄交響曲》，原本是要獻給當時帶領法國擊敗反法聯盟，並維護共和、捍衛革命的一位代表。只是，1804 年五月法蘭西第一帝國成立，讓貝多芬非常失望，於是改了原先的名稱。請問這位代表是指下列何人？  
(A) 林肯 (B) 路易十六 (C) 拿破崙 (D) 拿破崙三世



# 新北市立新莊國民中學 106 學年度第 1 學期第 3 次段考 9 年級社會領域試題卷

班 座號 姓名

15. 請將下列法國事件依照發生時間先後順序排列。

- (甲) 改行共和進行恐怖統治 (乙) 民族英雄兵敗滑鐵盧  
(丙) 巴士底監獄被攻陷 (丁) 路易拿破崙恢復帝制

(A) 甲乙丙丁 (B) 丙丁乙甲 (C) 丙甲乙丁 (D) 甲丙丁乙

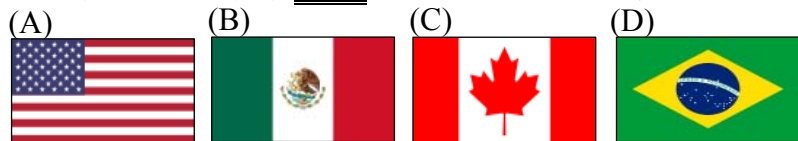
16. 歐洲各國為了重整政治秩序，由奧國主導在 1814-1815 年召開了「維也納會議」。請問關於此會議的內容，下列何者為非？

- (A) 歐洲各國恢復王室統治 (B) 維護了法國大革命精神  
(C) 維持各國勢力均衡發展 (D) 謀求歐洲的安定與和平

17. 世界必看重要博物館之一是位於巴黎的羅浮宮，館內收藏不少中國文物。但是位於法國北部法蘭西島的楓丹白露宮，被稱為另一個「圓明園」。因為法國經由戰爭掠奪的藏品為數不少，尤其是關於中國文物，在此被拿破崙三世帝后收藏有上千件；法國能有如此館藏是因為下列哪一戰爭導致？

- (A) 鴉片戰爭 (B) 甲午戰爭 (C) 中法戰爭 (D) 英法聯軍

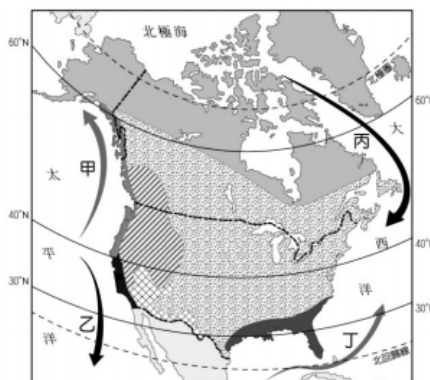
18. 北美自由貿易協定(NAFTA)於 1994 年成立，擁有 4.5 億人口，其經濟實力和市場規模都與歐洲聯盟(EU)並駕齊驅。請問下列四國旗何者並非 NAFTA 經濟組織的成員國？



19. 美國國會於 2017 年 12 月 20 日通過美國川普總統提出的節稅法案，將調降美國公司稅金由 35% 降至 21%，並對個人暫時性的減稅。針對此項稅改案，美國內部仍有許多大相逕庭的意見與討論。請問在現今全球化時代，這項法案的實施可能對美國造成重大的經濟改變，以下選項何者是最不可能發生的？

- (A) 可能使美國社會貧富差距愈形擴大  
(B) 可能讓美國政府財政稅收明顯短少  
(C) 可能會由商業性農牧業轉向自給性  
(D) 可能吸引國際資金回流美國的產業

20. 右圖為北美洲洋流分布圖，洋流性質深深影響沿岸的氣候環境，請問下列敘述何者正確？



- (A) 甲洋流是北大西洋暖流，它讓港口冬不結冰，沿岸為全年有雨的溫帶海洋性氣候  
(B) 乙洋流是阿拉斯加暖流，帶來溫暖潮濕的氣候  
(C) 丙洋流是拉布拉多寒流，使東岸沿岸氣候較西岸寒冷  
(D) 丁洋流是加利福尼亞暖流，讓邁阿密成為美國最暖的城市

21. 下表中關於三種農業類型的特徵比較，下列何者正確？

農業類型	商業性農業	自給性農業	熱帶栽培業
(甲)耕地面積	大	大	小
(乙)耕作方式	粗放	集約	集約
(丙)機械化程度	高	低	低
(丁)種植總產量	低	高	高
(戊)種植目的	市場導向	自給自足	市場導向
(己)作物種類	單一	多樣	多樣
(庚)代表國家	美國、日本	中國、印度	阿根廷、宏都拉斯

- (A) 甲丁庚 (B) 乙丙戊 (C) 乙戊己 (D) 丙己庚

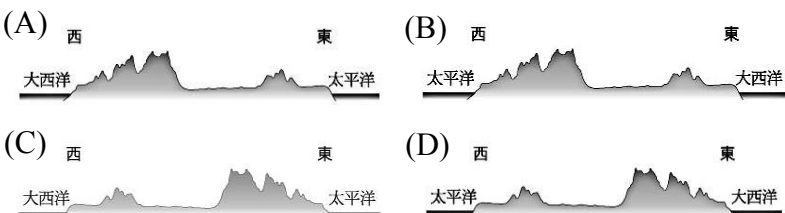
22. 冬冬一家打算移民，選擇定居於美國西南沿海加利福利尼亞州的舊金山。請問以下何者敘述是他可能面臨的生活？

- (A) 臨太平洋岸，每到夏、秋兩季容易遭受颶風災害襲擊  
(B) 是個文化合成區，隨處可見歐印混血民族在表演森巴舞  
(C) 可見到波音飛機製造廠總部與觀賞 NBA 活塞隊的主籃球賽  
(D) 夏乾冬雨特徵盛產地中海型農業水果，但夏季常遇乾旱與森林大火

23. 北美洲與中南美洲土地相接，具有共同的特色，以下何者正確？

- (A) 東側皆位於太平洋火環帶，易遇火山噴發與地震災害  
(B) 多數國家人口皆選擇住於都市地區，都市化程度明顯偏高  
(C) 當地原住民皆以因紐特人為主，創建了許多古文明與特色文化  
(D) 皆曾淪為歐洲殖民地，受拉丁文化影響，以西班牙語為官方語言

24. 歐洲白人殖民者由東岸登陸北美洲大陸後，大致由東往西開發拓墾土地。請問北美洲的地形側剖面圖應該是什麼樣子？



25. 下列有關美洲產業活動的敘述何者錯誤？

- (甲) 哈得孫灣區盛產石油，成為美國主要石化工業帶  
(乙) 墨西哥高原盛產白銀，銀飾產業發達，墨西哥因而被喻為白銀帝國  
(丙) 世界最長山脈安地斯山盛產銅礦，古巴成為世界出口最多銅礦的國家  
(丁) 阿帕拉契山為舊褶曲山脈，盛產煤礦，成為早期英國殖民地根據地與開發區  
(戊) 拉布拉他平原為古老地盾地形，盛產鐵礦，加拿大成為世界出口最多鐵礦的國家  
(己) 委內瑞拉馬拉開波湖蘊含豐富石油，為世界石油儲量最多的國家，亦為 OPEC 組織成員國  
(A) 甲丙戊 (B) 乙丁己 (C) 甲乙己 (D) 丙丁戊

26. 中南美洲各國普遍都市化程度很高，例如烏拉圭都市化程度 95%、阿根廷都市化程度 92%、智利都市化程度 90%，請問造成中南美洲都市化程度高的原因為何？

- (A) 土地集中大地主，城鄉發展失衡，鄉村貧窮人口大量移居都市  
(B) 氣候變遷導致鄉村水土流失嚴重，所以鄉村人口遷往都市居住  
(C) 都市地區工商業發達，創造大量工作機會，經濟發展程度較高  
(D) 政府大力推行鼓勵人口移入都市的戶籍政策，以平衡區域落差

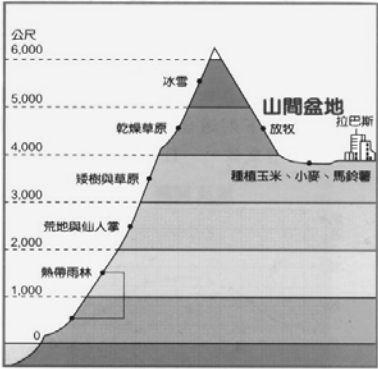
27. 2017 年 6 月 13 日中美洲國家巴拿馬宣布與我中華民國斷交後，根據中華民國外交部資料統計，全世界我國僅剩 20 個邦交國，其中 11 個友邦國位於拉丁美洲。請問下列有關我中華民國中美洲友邦國環境的敘述何者正確？

- (A) 赤道經過，多屬於高溫多雨的熱帶雨林氣候為主  
(B) 巴拿馬運河東臨太平洋，西接大西洋，是世界唯一聯洋運河  
(C) 墨西哥曾出現印地安古文明—馬雅帝國，現成為當地重要觀光資源  
(D) 東印度群島多位於加勒比海上，是世界第二大群島，夏季多龍捲風侵襲



28. 右下圖山地隨著地勢高度出現不同植被與土地利用方式的垂直分層特色，以及都市聚落多居於高山地區的景觀，最易出現在下列何種地區？

- (A) 洛磯山脈，可見美洲野牛覓食蹤跡
- (B) 巴西高原，莽原景觀可見獅群獵捕
- (C) 安地斯山，板塊交界帶多地震災害
- (D) 巴塔哥尼亞高原，沙漠仙人掌廣布



29. 美洲乾燥沙漠不少，關於熱帶沙漠氣候與溫帶沙漠氣候的差異，何者正確？

氣候類型	熱帶沙漠氣候	溫帶沙漠氣候
(甲)分布	溫帶	副熱帶
(乙)成因	副熱帶高氣壓帶全年籠罩	距海遙遠、西風背風側或高山阻擋水氣
(丙)特徵	乾燥少雨，年溫差小，日溫差大	乾燥少雨，年溫差大，日溫差大
(丁)代表地區	美國賭城、墨西哥沙漠、秘魯沙漠、智利沙漠	阿根廷巴塔哥尼亞沙漠、中國塔克拉瑪干沙漠

(A) 甲乙 (B) 丙丁 (C) 乙丁 (D) 乙丙

30. 右圖為美國十分商業化且專業化的大農作帶，請問下列敘述何者有誤？

- (A) 甲區為酪農業，因產品時效性短，鄰近五大湖人口稠密區，具明確市場導向
- (B) 乙區為棉花帶，利用乾燥氣候與大量人力開採棉花，與黑奴歷史息息相關
- (C) 丙區與丁區為小麥帶，大規模商業性的生產單一作物，小麥大量傾銷歐洲
- (D) 壬區為地中海型農業，夏乾冬雨降雨特徵使當地盛產葡萄、櫻桃等水果



31. 夏夏與朋友計畫利用暑假期間去一趟拉丁美洲之行，計畫如下：

「因(甲)巴西當地氣候炎熱，預計輕裝出發攜帶短袖衣褲搭機至(乙)巴西首都里約熱內盧，利用當地(丙)官方語言葡萄牙語尋找當地最大的(丁)天主教耶穌像，再搭船航行於(戊)世界流量最豐富的亞馬孫河，探究世界最大熱帶雨林豐富的生態系統後，飛至世界肚臍稱號的秘魯，體驗天竺鼠大餐並參觀由當地(己)傳統原住民印地安人，創造的阿茲特克帝國庫斯科高山古城，再選擇騎乘(庚)安地斯山特有種駱馬和羊駝至天空之城馬丘比丘許願。」

請依據上文內容，試著找出以上行程的錯誤之處？

- (A) 甲丙丁 (B) 甲乙己 (C) 乙戊庚 (D) 丙丁庚

32. 中南美洲各地自然環境差異大，因此人口分布不均。該地區境內人口密集的分布區中不包括下列何處？

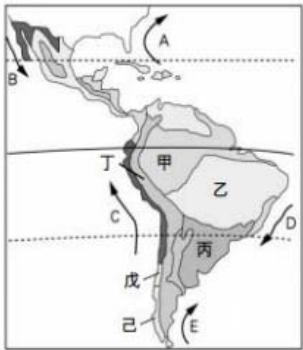
- (A) 加勒比海上的島嶼群
- (B) 南美洲的東南部沿海
- (C) 安地斯山脈北段山區
- (D) 低緯地區的平原盆地

【題組四：第 33~34 題】

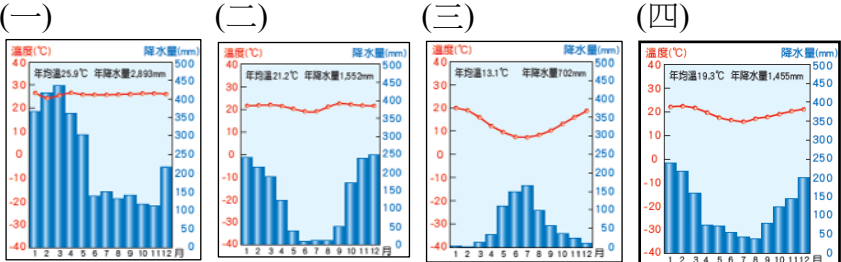
✦右圖為中南美洲氣候分布圖，請回答下列 33~34 題：

33. 洋流性質深深影響沿岸的氣候與生態，請問下列敘述何者錯誤？

- (A) B 為墨西哥灣暖流，墨西哥西南沿海因此夏而暖濕，冬無酷寒
- (B) C 為秘魯涼流，湧升流帶來豐富深海養分，成為東南太平洋重要漁場
- (C) D 為巴西暖流，使巴西與阿根廷沿岸暖濕成為兩國人口精華區
- (D) E 為福克蘭寒流，使阿根廷南部特別乾燥少雨，罕無人煙



34. 下列四張氣候圖資料，請對應中南美洲氣候分布圖，依照(一)至(四)的氣候圖順序判讀配對組合？



- (A) 甲乙戊丙 (B) 甲戊丙己 (C) 丙丁己乙 (D) 丁戊乙甲

35. 下列哪些同學的工作觀較符合職業倫理？

- 阿健:我是飯店櫃檯人員，不隨便洩漏客人個資、訂房資料
- 阿康:為了得到上司肯定，我工作全力以赴
- 小美:偶爾遲到早退，只要沒影響到工作有什麼關係
- 小滿:長江後浪推前浪，不斷充實新知並保有工作熱忱
- (A) 阿健、阿康、小美 (B) 阿健、阿康、小滿
- (C) 阿康、小美、小滿 (D) 以上皆是

36. 下列屬於失業者，共有幾人？

- 甲：退休在家，含飴弄孫的老張
- 乙：剛從研究所畢業正四處投履歷的大明
- 丙：一心想打工幫助家計的國一生小龍
- 丁：經濟不景氣而遭到裁員的單身熟女美華
- 戊：騎驢找馬想轉換跑道的低薪菜鳥業務員阿方
- (A) 5 (B) 4 (C) 3 (D) 2 人

【題組五：第 37~38 題】

多年前高速公路收費方式採用收費站，以人工方式收費(現金或回數票)，但隨科技的進步對人力需求下降，尤其是對非技術性勞工的需求下降，薪資也下滑，高速公路採電子收費系統(ETC)向用路人收費，國道收費員因此失業了，這種機器搶人類工作的現象在許多國家製造業...也持續增加中。

37. 上述人員的失業可歸於下列哪一型失業？

- (A) 摩擦性失業 (B) 結構性失業
- (C) 循環性失業 (D) 自願性失業

38. 承上文，為了協助上述類型的失業者早日再就業，下列哪一項方法較直接有效？

- 甲：政府設置職訓所，重視勞工終身職能訓練，並推動中高齡勞工再就業，勞工平日積極培養第二專長
- 乙：政府提出方案讓經濟復甦
- 丙：加強就業輔導機構，充分提供就業資訊
- 丁：輔導本國企業引進更多外籍勞工，積極打造友善工作環境
- (A) 甲 (B) 乙 (C) 丙 (D) 丁

39. 有關於家庭經濟規劃，下列哪一項說明**不恰當**？

- (A) 人不理財，財不理人，為了家庭經濟生活無後顧之憂，理財應積極並趁早，開源節流並重
- (B) 面對隨時可能未知的風險，人人應學會妥善理財及因應移轉風險的能力
- (C) 要強迫自己年輕就存有第一桶金，最佳方式為收入扣去定額儲蓄後，再作消費分配
- (D) 高報酬高風險，為了杜絕風險，早日儲存充足退休養老金，最佳理財方式為將錢全部放在金融機構

40. 面對人類嚴重的存亡危機—氣候變遷，每個國家、每個人要用更積極的行動來阻止地球災難性的氣候變遷。日常生活中，許多事物與活動都會產生二氧化碳，稱為碳足跡，下列哪一位的作為和減少碳足跡**較無直接關聯**？

- (A) 小品：多吃蔬食少吃肉、自備杯筷帕與袋
- (B) 小欣：每周一天不開車、鐵馬步行兼保健
- (C) 小晴：隨手關燈拔插頭、綠色採購看標章
- (D) 小雨：拒吃燕窩和魚翅，維護生物多樣性

41. 下列是積極經濟規劃的曾珮近期的四項理財投資說明。請問：曾珮的理財工具中，投資報酬率最高的是下列哪一項？

- (A) 英鎊兌台幣 1：40 時買進 1 萬元英鎊，後以 1：41 時賣出 1 萬元英鎊
- (B) 以台幣 1200 萬元買進套房一間，一年後以 1300 多萬元賣出，獲利 100 萬元
- (C) 在股價 100 元時買入 10 張股票，並於股價 105 元時全數賣出
- (D) 把 400 萬元台幣放在銀行定存一年，年利率 1.07%

42. 下列各位理財者的想法和其提出的理財工具的配對，哪一位出現**錯誤**？

- (A) 小東：利息相對高些，幾乎沒有倒閉的風險，也是愛國的表現~**政府公債**
- (B) 小西：幾乎天天盯著螢幕紅紅綠綠行情表，隨時低買高賣賺差價，或可以當股東年終分紅~**外匯**
- (C) 小南：沒空親自操作理財工具，願意和他人共享利潤，共擔風險，願意給專業機構管理費~**共同基金**
- (D) 小北：有土斯有財，我想當包租公，每月收租金~**房地產**

43. 根據下述資料，該國目前失業率最可能為下列哪一項？

全國總人口數：約 3000 萬人  
非勞動力人口數：約 1000 萬人  
勞動力人口數：約 1500 萬人  
就業人口數：1350 萬人  
失業但未請領失業給付人口數：約 30 萬人  
有請領失業給付人口數：約 120 萬人

- (A) 10.0% (B) 11.1% (C) 6.0% (D) 2.0%

44. 企業為了增加利潤會進行各種投資行為，不僅可提供新產品，也能提升產品品質，並增加就業機會也有助於國家經濟發展。下列哪一項**不屬於**投資行為？

- (A) 美國電子商務龍頭亞馬遜成立自駕技術研發小組，以提高自行送貨比重
- (B) 便利商店塑膠袋(明年起)必須付費才能提供
- (C) 因應全台各地普遍空氣品質不佳，生產能透過手機 APP 定位偵測空氣品質的藍芽偵測器
- (D) 台灣隱形眼鏡業者投入 50 億新台幣，技術再提升，年產值、量也大大提升，行銷日本、馬來西亞多國

【題組六：第 45~47 題】

2016.11 月復興航空在毫無預警下宣布停航解散，在國內引發一連串震盪。依一般法令，興航有解散的權利，就像多數私人企業一樣興航乃一[甲]，除非受限於其他法令，否則其責任僅限於投注的資本。媒體報導，興航是在找不到買主，現有股東又不願意增資的情況下，決定停止營業。

45. 文中的[甲]是下列哪一項？

- (A) 獨資 (B) 合夥 (C) 股份有限公司 (D) BOT

46. 興航解散後，導致許多空服人員、地勤人員...頓時失去工作，這多數員工家中有老、有小、有房貸、有車貸，突然家庭收入短少，對家庭產生很大的衝擊，依下列哪一項法規對於符合一定條件的這些員工可以請求失業給付？

- (A) 全民健康保險法 (B) 就業保險法
- (C) 社會救助法 (D) 勞動基準法

47. 企業多半站在自利的立場，希望能追求最大利潤，就像個人之於馬斯洛金字塔理論，自我實現的先決條件是要能生存。但興航的作為讓消費者行程受阻，多次勞資協商破裂，員工失業影響家庭生計...，社會大眾道德層面上也大加撻伐。很明顯的大多數人的期許和復興航空的下列哪一項是有很大的差距的？

- (A) 社會責任 (B) 工作倫理 (C) 職業道德 (D) 企業才能

48. 一個真正的企業，在追求利潤的同時，也兼顧了員工、消費者、來往廠商、社會等相關的利益。下列敘述總共有幾項是企業呼應上述的表現？甲：某公司全額給付員工在職進修補習費。乙：企業自費為弱勢團體翻修老舊建物，並鼓勵員工參與。丙：只要公司有需要，盡量叫員工加班也是給員工賺錢的機會。丁：顧客至上，24 小時 line 員工，提供客戶最佳服務至上。戊：超商回收民眾廢棄電池並可抵扣消費金額

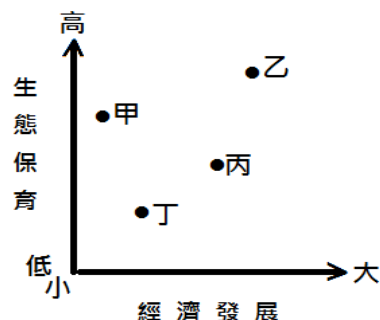
- (A) 5 (B) 4 (C) 3 (D) 2 項

49. 端午節快到了，超商、量販店推出各式各樣粽子的預購目錄，從目錄內容可推知這些超商、量販店在發揮哪一項經營原則？

端午名店賞  
劉家北部如意粽  
高雄海味鮑魚海鮮如魷粽  
水蛙師古早味南部粽、郭元益冰粽  
指定商品任選兩件 95 折  
預購期間 106/3/29~106/5/20

- (A) 研發新產品 (B) 內部人事考核管理
- (C) 市場風險評估管控 (D) 企業合作

50. 2016.11.16 星巴克、宜家...等 300 多家公司向歐巴馬總統及總統當選人川普、國會及各國領導人發送聯合公開信，信中重申企業致力於透過實施巴黎氣候協定因應氣候變遷的堅定承諾，將全球升溫控制在 2 度 c 以下。內容並提及如果沒有建立低碳經濟，美國繁榮將面臨風險，但現在正確的行動將會創造就業機會，並提高美國競爭力...。上文中企業的觀點可用下圖中哪一點來表示？



- (A) 甲 (B) 乙 (C) 丙 (D) 丁

新北市立新莊國民中學 106 學年度第 1 學期第 3 次段考 9 年級社會領域試題

解答

1	2	3	4	5	6	7	8	9	10
<b>D</b>	<b>A</b>	<b>C</b>	<b>B</b>	<b>D</b>	<b>C</b>	<b>B</b>	<b>D</b>	<b>A</b>	<b>A</b>
11	12	13	14	15	16	17	18	19	20
<b>B</b>	<b>C</b>	<b>A</b>	<b>C</b>	<b>C</b>	<b>B</b>	<b>D</b>	<b>D</b>	<b>C</b>	<b>C</b>
21	22	23	24	25	26	27	28	29	30
<b>B</b>	<b>D</b>	<b>B</b>	<b>B</b>	<b>A</b>	<b>A</b>	<b>C</b>	<b>C</b>	<b>D</b>	<b>B</b>
31	32	33	34	35	36	37	38	39	40
<b>B</b>	<b>D</b>	<b>A</b>	<b>A</b>	<b>B</b>	<b>D</b>	<b>B</b>	<b>A</b>	<b>D</b>	<b>D</b>
41	42	43	44	45	46	47	48	49	50
<b>B</b>	<b>B</b>	<b>A</b>	<b>B</b>	<b>C</b>	<b>B</b>	<b>A</b>	<b>C</b>	<b>D</b>	<b>B</b>