

※ 選擇題：本試卷共 50 題，每題 2 分，總分為 100 分。  
 每一題均為單選題，請選出最適當答案。  
 ※ 請用 2B 鉛筆在答案卡上相應的位置畫記。

1. 右表為 政軒 2019 年 10 月的財務紀錄。根據表中資料判斷，政軒該月的投資報酬率，可以透過哪兩項紀錄內容得知？

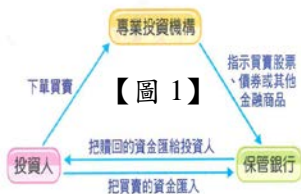
2019 年 10 月的財務紀錄	
甲	共有積蓄 50 萬元
乙	拿出 40 萬元現金進行投資
丙	投資結果獲利 10 萬元
丁	現今因獲利後增加為 60 萬元

(A) 甲、丙 (B) 甲、丁 (C) 乙、丙 (D) 丙、丁

2. 政穎 放學回家和家人分享今天在學校學的理財知識，請判斷他說的內容，何者正確？

- (A) 選擇銀行存款來理財，可以不必擔心任何風險
- (B) 理財應該把握「比較利益原則」挑選最好的理財工具
- (C) 資產較多者可以同時選擇股票、基金、債券分散風險
- (D) 債券相較於股票，屬於低報酬高風險的理財工具

3. 【圖 1】為財經專家在介紹某一種理財工具時的示意圖，請根據該圖判斷此理財工具為何？



- (A) 外幣 (B) 股票
- (C) 債券 (D) 共同基金

4. 下表為 李老師 所書寫的有關「失業」的學習單，請你判斷下列哪一位同學的答案完全正確(答案按照題號排列)？

- (A) 溢正：××○○○ (B) 寅倫：×○○××
- (C) 健富：○○×× (D) 智堯：○×○○○

- 說明一對的畫○，錯的畫×
- 1.( )失業是指具備找工作的意願、能力、態度之要件後仍找不到工作者。
- 2.( )依照勞動基準法之規定，失業勞工可以申請失業給付。
- 3.( )失業者過多不僅會影響家庭經濟，還會造成國家經濟衰退。
- 4.( )產業結構改變或是經濟不景氣都可能是造成失業的原因。

5. 根據失業的定義，下列哪個人是失業者？

- (A) 請育嬰假在家帶小孩的步美
- (B) 大學畢業將出國攻讀研究所的柯南
- (C) 退休在家含飴弄孫偶爾去當志工的元太
- (D) 被公司資遣正在進行職業訓練的光彥

6. 2018 年 1 月 30 日，澳洲航空公司一架從洛杉磯起飛的客機降落在墨爾本，成為澳洲飛美國首個使用生物燃料動力飛行的航班。這架波音 787-9 型客機，使用 90%標準航油和 10%的生物燃料，生物燃料提取自一種非食用芥菜籽。在整個生命週期中，使用芥菜籽生物燃料能比傳統燃料減少 80%的碳排放量。請問：根據上述判斷，使用生物燃料動力飛行其主要目的為何？

- (A) 賺取最大利潤 (B) 節省生產成本
- (C) 落實綠色經濟 (D) 促進產業轉型

7. 行政院主計總處 10 月 22 日公布 9 月失業率，較 8 月下降 0.09 百分點，主因暑期結束，應屆畢業生陸續找到工作。主計總處表示，目前失業情勢仍穩定。根據表列數字推算 9 月份「失業率」大約為多少？

總人口	2100 萬
非勞動人口	800 萬
勞動人口	1000 萬
失業人口	37.8 萬

- (A) 4.725% (B) 3.8% (C) 1.8% (D) 2.1%

8. 關於失業的類型說明，下列敘述何者正確？

- (A) 剛畢業的學生暫時找不到工作為「結構型失業」
- (B) 賣羊肉爐的店家夏天生意極差而頂讓為「循環型失業」
- (C) 經濟不景氣因工廠倒閉而失業為「循環型失業」
- (D) 機器取代人力而導致失業為「摩擦型失業」

9. 兒福聯盟公布「幼兒媽媽育兒感受及需求調查」結果，幼兒媽媽的最大困境是「職場不友善」，其次才是「育兒支援服務不足」、「育兒支出負擔沉重」。因此，有人在公共政策網路參與平台發起「檢請政府立即修改企業托兒法規」，建立明確法規，督促企業設立托兒相關設施，提供職場親職友善環境，提升台灣生育率。上述內容最可能是在討論與企業有關的哪一議題？

- (A) 社會責任 (B) 綠色經濟
- (C) 行銷技巧 (D) 風險管理

10. 附表為 俊秀 針對三種不同企業經營型態的整理表格，根據表中資料判斷，何者敘述正確？

企業名稱	出資型態	債務清償責任
統二企業	獨資	乙
富榜企業	兩人合夥	丙
樂蒂股份有限公司	甲	丁

- (A) 甲均為股東
- (B) 乙以企業資金為限來清償債務
- (C) 丙不須以自身財產清償債務
- (D) 丁出資人須以私人財產來清償債務

11. 附表為 林立 一年來投資理財分析表，依投資報酬率高低依序分別為：股票、基金、黃金，根據內容判斷，表中的甲和乙最可能為下列何者？

投資工具	股票	基金	黃金
原始投入金額(萬元)	20	20	乙
最後收回金額(萬元)	甲	23	22

- (A) 甲：18，乙：30
- (B) 甲：21，乙：20
- (C) 甲：22，乙：18
- (D) 甲：24，乙：20

12. 「開源節流」是家庭經濟規劃的一項重要概念，請問：下表家庭成員中有幾個人屬於「開源」？

- (A) 2 (B) 3 (C) 4 (D) 5

爸爸	平常除上班工作，還會進行投資理財。
媽媽	當用則用，當省則省。
哥哥	白天上學，晚上開直播接業配，賺廣告費。
姊姊	現在唸研究所，偶爾寫文章投稿有稿費。
弟弟	隨手關燈，節約用電。
妹妹	去跳蚤市場選購二手衣。

13. 關於企業的型態與投資經營原則，下列敘述何者正確？

- (A) 企業要注意風險管理主要原因是為了要提高利潤
- (B) 企業透過投資，可以擴充生產規模、提升產品品質、提高生產利潤
- (C) 企業可以透過與其他企業合作來增加生產成本
- (D) 生產者使用各種生產要素所支付的代價就是「投資」



# 新北市立新莊國民中學 108 學年度第 1 學期第 3 次段考 9 年級社會領域試題卷

**題組 1** 四位好朋友正在討論關於他們投資的工具及獲利狀況（投資的時間均為相同），根據下表回答第 14~16 題：

項目	泓育	晨威	禹勳	子鵬
理財工具	甲	乙	丙	丁
特徵	資金交由管理人管理，投資人須交付管理費。	是一種有價證券，事先約定借款期限與利率。	是一種有價證券，投資人可成為該公司股東。	安全保本，可賺利息，可分為活期與定期。
投資金額	100000 元	60000 元	30000 元	40000 元
領回金額	125000 元	72000 元	42000 元	44000 元

14. 依據判斷泓育的投資報酬率為何？

- (A) 10% (B) 20% (C) 25% (D) 40%

15. 依據上表判斷，哪一個人所進行的投資理財工具為「銀行存款」？

- (A) 泓育 (B) 晨威 (C) 禹勳 (D) 子鵬

16. 依據上表判斷，關於四個人的投資工具風險排列由高至低，何者正確？

- (A) 丙甲乙丁 (B) 丙丁甲乙 (C) 甲丙丁乙 (D) 丁乙甲丙

17. 請問，下列關於 17 世紀科學革命時代的理論，哪一項敘述正確？

- (A) 支持「日心說」並證實「自由落體定律」的是牛頓  
(B) 主張「大膽的懷疑，小心的求證！」和「我思故我在！」的是笛卡兒  
(C) 提倡「演繹法」，認為知識必須經過嚴格的論證才能確立的是培根  
(D) 提出「萬有引力定律」，科學革命集大成者是伽利略

18. 【圖 2】紙幣上的肖像，是 17 世紀波蘭一位重要科學家，他曾經出版一本書《天體運行論》，內容揭示，地球是一顆圍繞太陽運轉的普通行星。此一說法根本否定了當時教廷「地球是上帝特別安排在宇宙中心」的傳統言論。請問，上述是指哪一位科學家？



【圖 2】

- (A) 達文西 (B) 伽利略 (C) 哥白尼 (D) 馬基維利

19. 孟子曰：「民為貴，社稷次之，君為輕」。這種民貴君輕的觀念，在 18 世紀的歐洲國家，也有人主張！「國家的主權來自人民，不能分割與轉讓。而政府的成立和享有權力是基於每位公民自願簽訂的契約，所以人民有權利任命、罷免、監督行政首領之權。」請問這種主權在民的理念，是哪一位學者的主張？

- (A) 盧梭 (B) 伏爾泰 (C) 洛克 (D) 孟德斯鳩

20. 18 世紀英國著名經濟學家，有「經濟學之父」之稱的亞當斯密主張「整個經濟體系，冥冥中受到一隻看不見的手，指揮運作著。」所以政府不需要過度干涉人民的經濟活動，因為每一個人都是他自己經濟事務的最佳裁判者，自由競爭和致富慾望，可以讓整個社會財富增加。請問上述是出自他的哪一本著作？

- (A) 《法意》 (B) 《民約論》  
(C) 《國富論》 (D) 《百科全書》

21. 2011 年，國立故宮博物院曾舉辦盛清康熙皇帝與法王路易十四特展。如【圖 3】這兩位東西方君主的主生平事蹟，竟有著驚人的相似之處！他們兩位都是幼年繼位，一由祖母、一由母后養育，將他們培育成允文允武、仁民愛物、喜好藝文的全能君主。他們親政前各有權臣主政，親政後盡力於國政事務，並各自鞏固了愛新覺羅家族與波旁王室的帝王權力。請問法王路易十四是屬於下列哪一種類型的君王代表？




【圖 3】

- (A) 自由民主 (B) 主權在民  
(C) 開明專制 (D) 君權神授


22. 凱薩琳二世，是俄羅斯帝國史上在位時間最長的女皇；她從普魯士嫁給俄羅斯皇儲彼得三世，但是她發動政變廢黜其夫，即位成為俄羅斯女皇。她在位時期熱心支持啟蒙時代哲士，如伏爾泰、孟德斯鳩，對內更是注重高等教育，對外則是擴張疆土。請問，她是屬於下列哪一種類型的君主？

- (A) 自由民主 (B) 主權在民  
(C) 開明專制 (D) 絕對專制

**題組 2** 請參考【圖 4】、【圖 5】回答第 23~24 題：



【圖 4】



【圖 5】

23. 在 19 世紀，婦女與兒童因為性格較為溫順，被認為容易管理。兒童又因為體型較為瘦小，所以常被雇用於清掃大型機器或是深入礦坑工作（如【圖 4】）；如，雨果作品《悲慘世界》中所描述：「……貧窮使男子潦倒、飢餓使婦女墮落、黑暗使兒童羸弱……」請問，造成這些弱勢者處境的是因為下列哪一事件？

- (A) 工業革命 (B) 啟蒙運動  
(C) 科學革命 (D) 光榮革命

24. 【承上第 23 題】「需要為發明之母」，因為此一事件，所以改變了人類的生活。（如【圖 5】）一連串的效應造成許多對人類的重大影響，如：交通革命、各行業技術改良、工廠制度出現……等等。但是，最嚴重的問題是，因為貧富差距越來越大，形成資本家與工人之間的對立，所以出現了哪一種主義，要來解決當時的社會問題？

- (A) 資本主義 (B) 民主主義  
(C) 社會主義 (D) 自由主義

25. 他是 19 世紀的一位學者，認為資本家是剝削工人的剩餘價值而獲得財富！資方可以享受奢華度日的生活，工人們卻只能得到維持基本生活的工資，這樣的情況並不公平！所以，他提出必須以暴力的手段建立無產階級革命，由無產階級者執政，實現平等、自由的社會。就以上敘述，請問他的主張被稱為下列哪一項主義？

- (A) 民生主義 (B) 共產主義  
(C) 民權主義 (D) 資本主義



# 新北市立新莊國民中學 108 學年度第 1 學期第 3 次段考 9 年級社會領域試題卷

**題組 3** 西元 17、18 世紀，歐洲各國普遍實行專制王權，但是如【圖 6】中甲國，卻有著不一樣的发展；不但王權逐漸被消滅，還確立了該國議會的權力，並使得此國的國會成為最高立法機構。請根據【圖 6】回答第 26~27 題：



【圖 6】

26. 請問，依照以上敘述，甲國是因為在 17 世紀時候通過哪一項法案，使得該國國會成為最高立法機構？

- (A) 獨立宣言 (B) 人權宣言  
(C) 大憲章 (D) 權利法案

27. 請問，甲國通過該法案之後，逐漸發展出哪些制度？

- (甲) 兩黨政治 (乙) 責任內閣制 (丙) 議會政治 (丁) 獨裁政治  
(A) 甲乙丙 (B) 乙丙丁 (C) 甲丙丁 (D) 甲乙丁

28. 茶葉是中國傳統的飲品之一。唐代時期，茶葉就已經成為中國重要的國內商品，之後因為歐亞之間的貿易往來，逐漸影響到歐洲人民的日常。而在 1773 年底，美東波士頓港口，有兩艘載著茶葉的船隻，被反對英國的激進派人士故意喬裝成印地安人襲擊，將茶葉箱全部丟入海中。請問，他們的行動成為哪一場戰爭的導火線？

- (A) 光榮革命 (B) 南北戰爭  
(C) 法國大革命 (D) 美國獨立

29. 法國小說家 大仲馬 在西元 1847 年寫了一封信給美國南方的民主黨人士：「先生：我媽媽是一位黑人，但我不會羞於表白自己的黑人血統……有一件事情阻擋我……我被告知我的非洲血緣在你的國家造成不便，而根據現有的法令，我可能遭到逮捕，甚至被賣掉。」請問，信件裡面的狀況，應該在什麼事情之後會有改善？

- (A) 南北戰爭後  
(B) 清教徒革命後  
(C) 獨立戰爭後  
(D) 波士頓茶葉事件後

30. 【圖 7】是美國著名的總統山（位於南達科他州附近的拉什莫爾山國家紀念公園）。上面雕刻的是美國歷史最著名且最偉大的 4 位總統。根據下列兩項資料，請選出正確答案。



【圖 7】

資料一：他是美國首任總統，連任

一次之後，拒絕再次連任，毅然退休。為之後美國總統選舉樹立良好的民主楷模。

資料二：他曾說：「一棟分裂的房屋無法存在，一半奴役與一半自由的政府也無法存在。」

請問資料一和資料二各是下列何人？

- (A) 資料一：傑佛遜；資料二：林肯  
(B) 資料一：華盛頓；資料二：林肯  
(C) 資料一：華盛頓；資料二：老羅斯福  
(D) 資料一：老羅斯福；資料二：華盛頓

31. 有一位法國君王在主政期間，致力發展工商業、擴張海外殖民地，使法國成為歐陸強國；對外聯合英國組成英法聯軍，侵略中國。請問，這位君王是下列何人？

- (A) 路易拿破崙 (B) 拿破崙  
(C) 路易十六 (D) 梅特涅

32. 法國大革命前後政局不穩，在內憂外患的混亂局勢中，百姓們希望恢復穩定的社會秩序，而此時也有強人得到興起的機會。請將當時所發生的事件，按照時間先後順序排列：

- (甲) 拿破崙稱帝  
(乙) 改行共和開始恐怖統治  
(丙) 法王路易十六徵稅  
(丁) 民眾攻入巴士底監獄  
(戊) 滑鐵盧之役  
(己) 發表人權宣言

- (A) 丙戊己丁乙甲 (B) 丙丁己乙甲戊  
(C) 甲乙丙丁戊己 (D) 丁丙乙甲己戊

33. 西方有句話：「法國一著涼，全歐打噴嚏。」這是形容 19 世紀法國政局對歐洲的影響力。請問：當時法國曾經爆發哪兩場革命，在各地引發響應的浪潮？

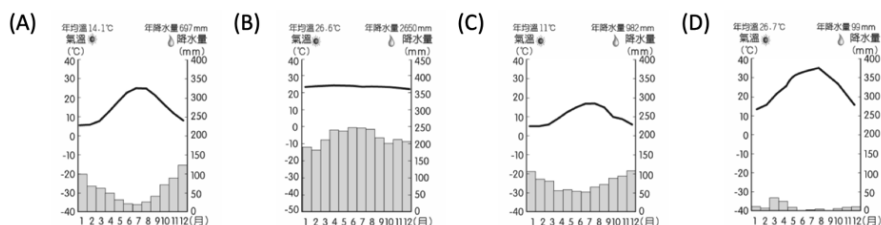
- (A) 科學革命、法國大革命  
(B) 清教徒革命、工業革命  
(C) 哥白尼革命、光榮革命  
(D) 七月革命、二月革命

**題組 4** 中國水果貿易商因受中美貿易戰影響，原本向【圖 8】「甲」地進口之櫻桃被徵收高額關稅，為降低成本，只能尋找替代進口國，以維持國內的商業活動。請根據【圖 8】回答第 34~36 題：



【圖 8】

34. 由此圖判斷，櫻桃適合生長在下列何種環境？



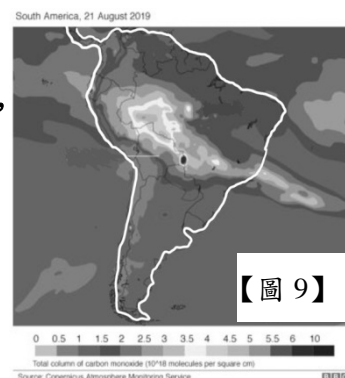
35. 美國第一級產業就業人口僅占 3%，卻有極高的產值，且能出口賺取外匯，此與下列何者關係最大？

- (A) 引進大量外籍移工 (B) 大規模機械化耕作  
(C) 大力發展精緻農業 (D) 集約耕作提高產量

36. 若要尋找櫻桃的替代進口地，應該到下列哪個國家去進行接洽？

- (A) 古巴 (B) 巴西 (C) 智利 (D) 墨西哥

**題組 5** 【圖 9】為 2019/08/21 南美洲某事件發生後的二氧化碳排放圖示，請根據此圖回答第 37~38 題：



【圖 9】

37. 若要為此圖訂定新聞標題，下列何者最適合？

- (A) 亞馬遜雨林的悲歌  
(B) 龍捲風走廊的逆襲  
(C) 地球板塊的傷痕  
(D) 極地冰河的葬禮

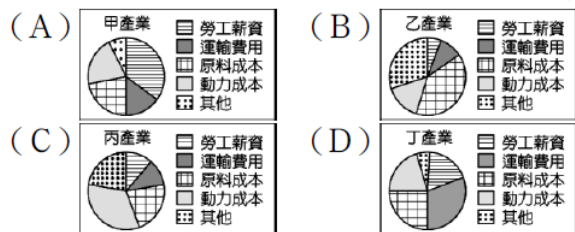
38. 此事在國際上引起極大關注，讓事件發生所在國不得不採取應對措施，以消弭國際的輿論壓力。試問：此事件的發生可能跟下列何者有關？

- (A) 工業發展排放廢氣  
(B) 放火焚林增加農地  
(C) 內戰烽火爭奪領土  
(D) 開發沿岸深海石油

# 新北市立新莊國民中學 108 學年度第 1 學期第 3 次段考 9 年級社會領域試題卷

**題組 6** 川普擔任美國總統後，以「讓美國再次偉大」為主軸，推翻許多貿易條約，讓過去『不同國家依據自身的優勢扮演著重要角色』的國際分工狀況受到挑戰。請根據上述內容回答第 39~40 題：

39. 文中提到『讓美國再次偉大』，泛指原已失去優勢的產業重回美國，讓失業的工人可以再次回到職場。試問：此產業的生產成本結構可能為下列何者？



40. 文中提到『不同國家依據自身的優勢扮演著重要的角色』，下列何者能用來當作此一現象的實例？

- (A) 加拿大：廉價勞工
- (B) 美國：高階技術
- (C) 墨西哥：豐富資金
- (D) 秘魯：廣大市場

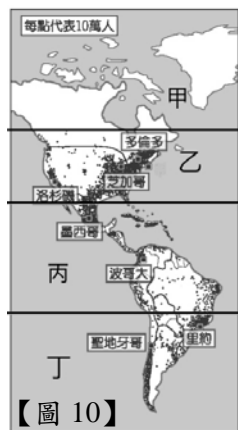
**題組 7** 【圖 10】為美洲的人口分布點圖，請根據【圖 10】回答第 41~43 題：

41. 圖中乙區人口多集中於東岸沿海，與下列何者關係較密切？

- (A) 氣溫較高
- (B) 雨量較多
- (C) 開發較早
- (D) 地勢平坦

42. 地理學常提到「地勢愈高，人口密度愈低」，若要用右圖解釋此理論，則需要排除圖中何區以避免爭議？

- (A) 甲
- (B) 乙
- (C) 丙
- (D) 丁



43. 圖中各區的都市化程度與成因條列如下，請問何者的說明較符合事實？

	都市化程度	說明
(A)	甲區 80%	鄉村工作機會多，吸引人口移入都市
(B)	乙區 82%	都市工作機會少，促使人口移入鄉村
(C)	丙區 86%	都市工作機會多，促使人口移入鄉村
(D)	丁區 92%	鄉村工作機會少，促使人口移入都市

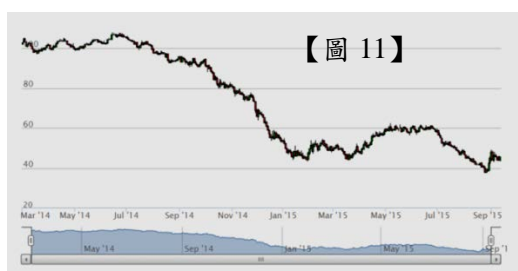
**題組 8** 2019 年中南美洲國家陸續爆發反政府示威遊行抗議，除了政府效能不彰與貪腐情況嚴重外，經濟上的困境更是此波抗議浪潮的導火線。請根據上述內容回答第 44~45 題：

44. 文中的經濟困境指的可能為下列何者？

- (A) 饑荒問題嚴重，影響勞工生產
- (B) 高齡人口增加，衝擊消費市場
- (C) 勞工薪資上漲，外國企業撤資
- (D) 缺乏工業技術，仰賴歐美投資

45. 【圖 11】為近年石油價格走勢圖，此可用來解釋哪個國家的近年來遇到的困境？

- (A) 巴西
- (B) 阿根廷
- (C) 委內瑞拉
- (D) 智利



**題組 9** 圖為天氣風險管理公司於美洲分公司位置，請依據【圖 12】回答第 46~47 題：

46. 受預算限制，需依據可能發生天氣災害之地點、時間來決定人力配置，下列為四個分公司的位置與駐點時間，試問：何者因天氣災害發生頻率最高，需配置大量人力？

	(A)	(B)	(C)	(D)
公司位置	甲	乙	丙	丁
駐點時間	6-9 月	1-3 月	4-5 月	12-2 月

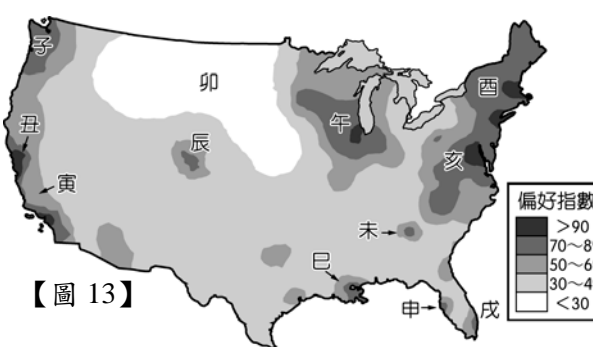


47. 天氣觀測多需大型精密儀器，其運送過程易受坡度影響而有損害，因此大多以空運為主，僅有兩地往來坡度平緩區域，才以陸運運輸。試問：下列路段何者可利用陸運運輸？

- (A) 甲-->乙
- (B) 甲-->丙
- (C) 乙-->丙
- (D) 乙-->丁

48. 「【圖 13】

是針對美國大學生的居住及工作地點選擇的抽樣調查，並將結果繪製成偏好指數空間分布圖，指數愈高表



示當地愈受大學生喜愛。」下列關於此圖的說明何者正確？

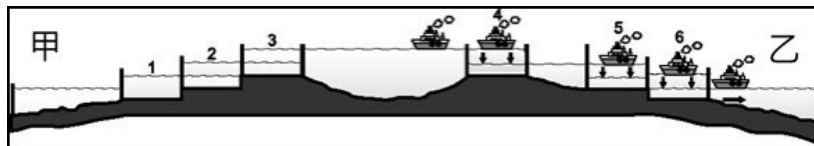
- (A) 子區：四季如夏高溫，易受學生青睞，偏好指數高
- (B) 卯區：為農牧區，工作機會有限，偏好指數低
- (C) 巳區：電影工業發達，學生追星圓夢，偏好指數高
- (D) 酉區：天氣潮濕陰雨，對外交通不便，偏好指數低

49. 【圖 14】為黃熱病的分布疫區，為避免黃熱病的擴散，疫區國審核簽證時常會要求黃熱病疫苗接種證書方核發入境許可。若根據此圖判斷，到哪個氣候區旅行要打疫苗？

- (A) 夏雨型暖濕氣候
- (B) 溫帶沙漠氣候
- (C) 溫帶海洋性氣候
- (D) 溫帶地中海型氣候



50. 【圖 15】為從智利出發的船隊，依序經過巴拿馬運河 1 開門到 6 開門運送貨物至英國的航線位置圖。請問：圖中的甲、乙分別為哪個海域？



- (A) 甲：太平洋、乙：印度洋
- (B) 甲：大西洋、乙：太平洋
- (C) 甲：印度洋、乙：大西洋
- (D) 甲：太平洋、乙：大西洋



新北市立新莊國民中學 108 學年度第 1 學期第 3 次段考 9 年級社會領域試題  
解答

1	2	3	4	5	6	7	8	9	10
<b>C</b>	<b>C</b>	<b>D</b>	<b>A</b>	<b>D</b>	<b>C</b>	<b>B</b>	<b>C</b>	<b>A</b>	<b>A</b>
11	12	13	14	15	16	17	18	19	20
<b>D</b>	<b>B</b>	<b>B</b>	<b>C</b>	<b>D</b>	<b>A</b>	<b>B</b>	<b>C</b>	<b>A</b>	<b>C</b>
21	22	23	24	25	26	27	28	29	30
<b>D</b>	<b>C</b>	<b>A</b>	<b>C</b>	<b>B</b>	<b>D</b>	<b>A</b>	<b>D</b>	<b>A</b>	<b>B</b>
31	32	33	34	35	36	37	38	39	40
<b>A</b>	<b>B</b>	<b>D</b>	<b>A</b>	<b>B</b>	<b>C</b>	<b>A</b>	<b>B</b>	<b>A</b>	<b>B</b>
41	42	43	44	45	46	47	48	49	50
<b>C</b>	<b>C</b>	<b>D</b>	<b>D</b>	<b>C</b>	<b>C</b>	<b>B</b>	<b>B</b>	<b>A</b>	<b>D</b>