

※ 8 選擇題：本試卷共 50 題，每題 2 分，總分為 100 分。  
每一題均為單選題，請選出最適當答案。

1. 資料一：昭和 12 年（1937 年），臺北州開始推行「國語家庭」，只要家中成員皆講日語，經官方認可後，政府會頒發「國語家庭」認定證書，並可獲得較好的待遇。  
資料二：昭和 15 年（1940 年），臺灣總督府公布《改姓名法令》，宣布「恩准」臺灣人改用日本式姓名，如姓張改姓長本、林改姓小林、呂改姓宮本等。根據你對日治時期臺灣統治政策演變的了解，當時臺灣正處於哪一個時期？

(A) 漸進主義時期 (B) 內地延長主義時期  
(C) 皇民化運動時期 (D) 無方針主義時期

2. 議員甲：「我堅決反對六三法，目前台灣的行政首長已經手握行政、司法以及軍事等權力，若再給予立法權，那麼他必然成為獨霸一方的土皇帝。」議員乙：「我可不這麼認為，台灣事務複雜多變，給予行政首長立法權，反而有助統治台灣地區。」請問：文中所說的台灣最高行政首長是指哪一個官職？

(A) 行政長官 (B) 總統 (C) 巡撫 (D) 總督

3. 羅志祥在生日時，爸爸送他一本「撼動臺灣 50 事」，他在書中看到一則漫畫如下圖，由漫畫內容可知，這是清帝國在哪場戰爭之後的情形？



(A) 英法聯軍 (B) 甲午戰爭 (C) 中法戰爭 (D) 牡丹社事件

4. 右圖是民國九十年發行的 20 元流通硬幣，圖面是原住民抗日英雄莫那·魯道，請問當時莫那·魯道反抗日本統治，主要是在下列哪一個地點？



(A) 臺北州 (B) 臺中州 (C) 臺東廳 (D) 臺南州

5. 2004 年，李登輝訪問日本，特別至八田與一的老家石川縣拜訪其後代。請問：對許多老一輩的台灣人而言，八田與一在哪方面的貢獻令人印象深刻的？

(A) 水利工程建設 (B) 稻米品種改良  
(C) 新式糖業發展 (D) 縱貫鐵路興建

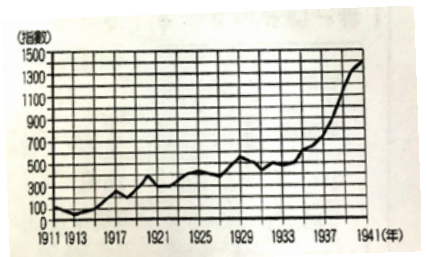
6. 某一天《台灣日日新報》的社會版面出現下列新聞標題：(甲)台灣實施米、肉等物資配給制度 (乙)年輕的李美花被騙到南洋，淪為慰安婦 (丙)台東的張文朗改名為長谷川太郎，被徵召前往中國東北。請問：此三則新聞最可能發生在下列哪一事件後？

(A) 甲午戰爭結束後 (B) 中法戰爭結束後  
(C) 第一次世界大戰結束後 (D) 中日戰爭爆發後

7. 臺灣總督乃木希典曾談到治理臺灣的問題：「臺灣施政也真是一大堆令人厭煩的事，難怪人民要謀反。就像叫化子討到馬匹一般，既養不起，又不會騎。這樣下去，只有被咬、被踢…」文中明言日人治臺初期面對臺人抗日激烈之困境。請問這反映日治哪一時期的臺灣問題？

(A) 文官統治時期 (B) 無方針主義時期  
(C) 內地延長主義時期 (D) 皇民化運動時期

8. 右圖為西元 1911~1941 年台灣輕工業生產指數圖。由圖中資料可知，1930 年代以後，台灣輕工業生產指數大幅上升，這與下列何者有關？



(A) 日本政府推動內地延長主義  
(B) 總督府積極發展台灣新式糖業  
(C) 日本的南進政策  
(D) 「工業日本，農業台灣」政策的推動

9. 「西元 1895 年 5 月 25 日，台北士紳一百多人在★★★的率領之下，以鼓號樂隊為前導，浩浩蕩蕩地恭送台灣民主國總統印章與國旗到巡撫衙門前。台灣巡撫接了總統官印、升上了國旗，眾人忍不住哭泣起來，台灣民主國的成立典禮，就在悲慘的氣氛中結束。」文中所稱的★★★，後來擔任台灣民主國義軍統領，請問應為何人？

(A) 劉銘傳 (B) 劉永福 (C) 丘逢甲 (D) 唐景崧

10. 附圖是歷史老師帶來跟同學們分享的紙鈔，並且希望班上同學討論紙鈔存在的歷史背景。請問：下列四位同學何人的說法較符合史實？



(A) 家家說：「這應該是清末劉銘傳時期發行的。」  
(B) 瑪莎說：「我覺得是清朝擊敗日本海盜後發行的。」  
(C) 阿喜說：「我想可能是日治時期設立的臺灣銀行發行的。」  
(D) 美珍說：「這是國民政府接收臺灣後為取代日幣發行的。」

11. 日治初期，臺灣的民政長官後藤新平曾說：「治理臺灣的方式絕對不是把成功的日本經驗套在臺灣人民身上。……我們必須先了解臺灣人的習性，依據其習性定出一套管理辦法才有效。」根據上述理論，後藤新平進行下列哪一措施？


(A) 用武力鎮壓臺灣的抗日分子與原住民  
(B) 將日本國內的法制延用到臺灣  
(C) 對臺灣進行舊有風俗習慣、地籍和人籍等調查  
(D) 在臺灣推皇民化運動

12. 博安在網路上看到一段文章：「西元 1913 年，羅福星祕密組織革命黨，密謀一舉消滅在臺日人，可惜為日本警察所偵知，同年 12 月羅福星於淡水被捕。次年被處以死刑，年僅 29 歲。他留下一段話讀來令人唏噓——不死於家，永為子孫祭奠，而死於臺灣，永為臺民紀念耳。」由其內容判斷，這是描述哪一事件？

(A) 牡丹社事件 (B) 西來庵事件  
(C) 霧社事件 (D) 苗栗事件

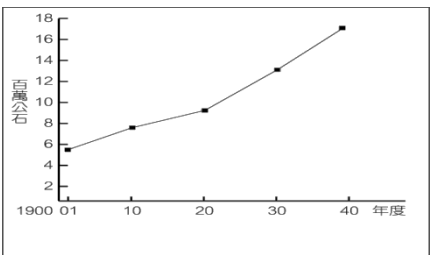
13. 下圖代表日本治台時期的政策演變過程。請問：圖中甲→乙→丙三個時期應如何表示？

(A) 無方針主義→皇民化運動→內地延長主義  
(B) 無方針主義→內地延長主義→皇民化運動  
(C) 皇民化運動→無方針主義→內地延長主義  
(D) 內地延長主義→無方針主義→皇民化運動 (L1)





14. 右下圖為日治時期臺灣稻米生產量的曲線圖。西元 1920 年以後稻米生產量增加的原因：(甲)農業臺灣政策的推行(乙)蓬萊米改良成功(丙)嘉南大圳的興建(丁)中國大陸地區對臺灣稻米的大量需求。正確的有哪些？




15. 右圖是日治時期臺灣行政區域圖，請問：下列關於「事件」和「發生地」的配對，何者正確？



- (A) 西來庵事件－D  
(B) 霧社事件－A  
(C) 苗栗事件－B  
(D) 日軍接收台灣登陸的地點－C

16. 右圖是小明參加某組織的會員手冊，有關這個組織的敘述，下列何者正確？



- (A) 保甲制度原產於日本，由總督府引進臺灣施行  
(B) 壯丁團的成員，主要由警察出任  
(C) 保甲分設「里長」、「鄰長」，負責執行地方事務  
(D) 壯丁團的任務負責救災，防範盜匪

17. 位於西亞地區的敘利亞自 2011 年爆發戰爭以來，大量人民逃亡海外，主要逃亡路線途經土耳其，再轉往希臘、義大利等鄰近的歐洲國家定居。從以上敘述可推斷下列哪一種人口現象？

- (A) 敘利亞的社會增加率上升  
(B) 希臘的自然增加率上升  
(C) 土耳其的社會增加率下降  
(D) 義大利的社會增加率上升

18. 右圖為我國某人口政策的宣導圖片，請問：該政策主要目的為下列何者？



- (A) 減少性別不均  
(B) 增加人口拉力  
(C) 提升人口素質  
(D) 提高自然增加率

19. 下表為新北市主要行政區 2016 年人口與房價統計表，請問根據表中數據，下列何者的推論正確？

| 行政區 | 自然增加率(‰) | 社會增加率(‰) | 房屋均價(萬/坪) |
|-----|----------|----------|-----------|
| 淡水  | 2.46     | 19.15    | 20.4      |
| 林口  | 6.48     | 21.70    | 27.5      |
| 三峽  | 3.25     | 9.72     | 22.8      |
| 新莊  | 4.67     | -2.46    | 30.6      |
| 三重  | 2.24     | -1.89    | 34.6      |
| 五股  | 3.03     | 11.47    | 23.8      |
| 板橋  | 3.31     | -6.83    | 39.1      |
| 永和  | 0.59     | -6.87    | 42.0      |
| 中和  | 2.33     | -2.42    | 36.1      |

20. 「高雄市農業局首開先例將台灣水果打入西亞阿拉伯國家市場，包括番石榴、紅龍果等水果，深受當地消費者喜愛。西亞國家雖然有從埃及、泰國、越南進口的番石榴，但甜度、脆度均不及台灣；台灣紅龍果近一公斤碩大的果形、鮮豔的紅色果肉，也讓國外買主相當驚訝。」上述內容和台灣哪一項農業經營特色有關？

- (A) 農業技術先進 (B) 經營集約度高  
(C) 農業勞力充足 (D) 農業生產成本高

21. 歐洲大部分國家於 2012 年起禁止以傳統「格子籠」方式飼養蛋雞，臺灣雖受限於□□因素採取室內飼養無法大規模「野外自由放牧」，仍應努力至少做到「平飼」方式飼養，追求動物福利需求及蛋品安全。請問上述中□□因素所指為何？

- (A) 人工昂貴 (B) 技術限制 (C) 土地狹小 (D) 氣候炎熱
- 註 1：格子籠飼養：二至四隻雞關在窄小籠子裡，常互相踩踏，甚至一輩子不曾走踏到地面上，更無法張開翅膀梳理羽翼，易生病。
- 註 2：室內平飼：雞隻可於地面活動，禽舍內放置產蛋箱、棲架，提供母雞築巢產蛋，並可在高處歇息。

22. 右圖是臺灣某種農作物的分布圖，下列關於該作物的敘述何者正確？

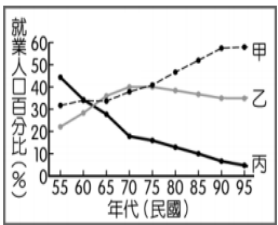


- (A) 為臺灣早期傳統主要的經濟作物  
(B) 因進口糖的影響使栽培面積縮減  
(C) 主要分布在副熱帶的山地、丘陵  
(D) 因飲食習慣改變使作物需求量減少

23. 近年來臺灣河川鱒魚數量日益減少，為兼顧漁民生計並使鱒苗得以溯河成長，農委會禁止在距離海岸三哩內海域、潮間帶及河口水域以任何方式捕撈鱒苗，請問：上述政策實施的主要目的為下列何者？

- (A) 改善漁業勞力不足 (B) 減緩地層下陷問題  
(C) 避免漁業資源枯竭 (D) 因應漁業設備老舊

24. 臺灣有句俗諺「大暑吃鳳梨」，代表六月是鳳梨盛產期。玟其的爸爸在八卦台地種鳳梨，再由玟其的姊姊製作成鳳梨酥，玟其則負責在台北 101 大樓裡設立櫃位銷售。請問關於玟其一家人所從事的產業活動分類下列何者正確？



- (A) 甲:玟其、乙:爸爸、丙:姊姊  
(B) 甲:玟其、乙:姊姊、丙:爸爸  
(C) 甲:姊姊、乙:爸爸、丙:玟其  
(D) 甲:姊姊、乙:玟其、丙:爸爸

25. 臺灣夏天天氣熱，但是鮮乳夏天產量較少，造成供不應求，因此有廠商會進口國外成本低廉的「冰磚奶」再還原上市。由於政府只對液態乳限制進口數量，冰磚奶屬固態，不受限制，本土酪農業憂心低價競爭衝擊。請問上述現象與下列何者有關？

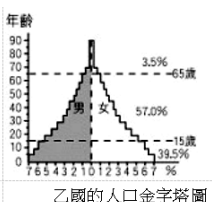
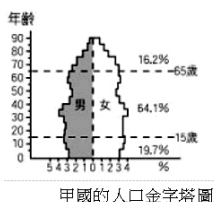
- (A) 觀光牧場興起 (B) 臺灣加入 WTO  
(C) 飲食習慣改變 (D) 酪農業技術先進

26. 右圖為臺灣人口分布圖，下列關於此圖的敘述何者正確？

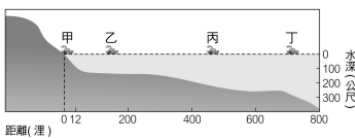


- (A) 受歷史發展因素影響  
(B) 西部氣候佳人口較多  
(C) 此圖屬於分層設色圖  
(D) 鄉村地區推力<拉力



27. 右列甲、乙國的人口金字塔圖中，比較這兩個國家在人口上的差異，下列敘述哪一項「正確」？
- 

甲國的人口金字塔圖      乙國的人口金字塔圖
28. 黑鮪魚、櫻花蝦和烏魚子是東港三寶，為屏東東港地區創造極大的經濟效益。試問「東港三寶」漁撈活動的作業範圍應為圖中的何處？



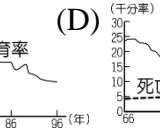
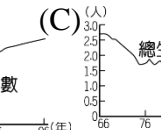
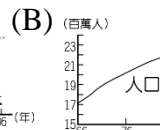

甲 乙 丙 丁

29. 下表為佩佩國與喬治國的男女人口數資料，請問關於兩國的性別比數據下列何者正確？

|      | 佩佩國    | 喬治國    |
|------|--------|--------|
| 男生人數 | 2900 萬 | 2300 萬 |
| 女生人數 | 3200 萬 | 2100 萬 |


30. 近年來全台各地出現「一日農夫」活動，連台北市客家文化主題公園，都在寸土寸金的台北市設計了一座「茶山水田」，種植的米還有「百萬米」稱號，開放民眾體驗插秧、割芥菜，當個樂活的一日農夫。上述活動最適合用來說明下列何者的實例？

31. 若想正確掌握近年來 臺灣 的扶養比變化趨勢，由下列哪一張圖來判斷最恰當？



32. 臺灣的漁船在大西洋海域捕捉魷魚時，常因涉嫌入侵 阿根廷 領海而遭該國扣押，如依然持續冒險進犯不是被開槍擊沉，就是被全球通緝，抓到立即沒收漁船與漁獲，也大大損害國家名譽。依海洋漁業作業範圍判斷，臺灣捕魷漁船最有可能從事何種漁業類型？

33. 右圖為小丸子家庭的成員圖，圖中分別說明成員的年齡，請根據資料分析，下列哪一項說法是正確的？



34. 兒童福利聯盟執行長指出，「根據調查，詢問青少年心目中的帥哥美女條件。男、女生眼中的『女神』都需要皮膚白和腿很長，但男生還要求胸部大(36.5%)；而男女生心目中的「帥哥」必備條件一定要身高 180 公分和鼻子挺，但女生還特別喜歡雙眼皮(42.7%)。在媒體大力放送白皙美人、混血臉孔、人魚線、馬甲線...等等的『審美』標準的潛移默化中，也無怪乎少年們對自己的身體外觀普遍不滿，甚至要靠外力來改變了」。請問：下列針對上述文章的敘述，何者正確？

35. 以下為一則新聞報導：

一位公車司機只要遇到有人不肯讓座給老弱婦孺者，就會停車等到有人肯讓座才願意行駛。有乘客在網路上 PO 文讚揚這名司機的行為，引起熱烈的迴響。

根據以下內容，請判斷該名司機具備哪一種現代公民的基本素養？

36. 團體的種類有不同的分類方式，下列四個團體的分類，完全正確的是哪一項？

| 團體           | 依功能分類 | 依《人民團體法》分類 | 依參與意願區分 |
|--------------|-------|------------|---------|
| (A) 台灣野鳥協會   | 工作取向  | 職業團體       | 志願      |
| (B) 嘉義縣陳氏宗親會 | 關係取向  | 社會團體       | 非志願     |
| (C) 時代力量     | 工作取向  | 政治團體       | 志願      |
| (D) 董氏基金會    | 關係取向  | 社會團體       | 非志願     |

37. 下表為內政部所統計的人民團體數，請根據內容，下列敘述何者正確？

| 年份    | 政治團體 | 職業團體  | 社會團體  |
|-------|------|-------|-------|
| 80 年  | 84   | 6800  | 7773  |
| 85 年  | 111  | 7193  | 11788 |
| 90 年  | 131  | 8756  | 18695 |
| 95 年  | 164  | 9853  | 28027 |
| 100 年 | 252  | 10620 | 38026 |
| 105 年 | 353  | 11105 | 50093 |

38. 新聞報導：「高雄醫學大學驚傳醫科生因追求愛情受挫，引發殺人及自殺的雙重悲劇，(甲)中華民國諮商心理師公會全國聯合會 指出，此一事件相當值得社會大眾省思情緒教育與感情輔導的重要性，尤其是(乙)男性在成長過程中，大多會被賦予獨立、超越、勇敢的角色，也因此(丙)男性在感情觸礁時會比較介意被比下去的感覺，情緒很容易淹沒在羞恥感與孤單感中，此時最好及時協助他改變有害的羞恥想法與情緒，否則一旦渴望報復的心理被嚴重合理化，就會覺得受害人要為他的痛苦付出代價。」根據上述，下列何項敘述**錯誤**？

39. 政軒 在上課時抄筆記，出了一點**錯誤**，請幫他找出來。

| 項目      | 公會         | 工會            |
|---------|------------|---------------|
| (A)組織成員 | 勞方所組成的團體   | 資方所組成的團體      |
| (B)主要任務 | 維護同業間的公益   | 保障勞工權益、發展生產事業 |
| (C)團體型態 | 工作取向職業團體   | 工作取向職業團體      |
| (D)舉例   | ○○烹飪商業同業公會 | ○○餐飲業職業工會     |

第 3 頁，共 4 頁

請翻面



40. 政穎非常喜歡觀賞美國職籃賽事。今天賽程為「印第安那溜馬隊對上紐澤西籃網隊」，關於賽事的社會互動型態，哪項敘述正確？



- (A) 溜馬隊對上籃網隊，是一種衝突  
(B) 溜馬隊若想取得勝利必須和籃網隊合作  
(C) 籃網隊必須仰賴同隊隊員的合作才能夠取得勝利  
(D) 溜馬隊和籃網隊藉此比賽進行交換活動
41. 學者分析，現代孩子較常出現的某些行為及價值觀，與「社會化途徑」之間是有所關聯的。以下相關配對描述，何者**錯誤**？
- (A) 看見藝人在螢光幕前亮麗演出，就興起想進入演藝圈的念頭—學校  
(B) 現在新鮮人因為家長過度保護而失去獨立思考能力—家庭  
(C) 重視群體，近朱者赤，近墨者黑—同儕團體  
(D) 孩童表現出暴力行為與觀看的電視節目有關—傳播媒體
42. 在社會生活中，人們扮演的角色多元，而衍生出「角色衝突」的情況。下列何者符合角色衝突的意涵？
- (A) 我是民意代表，代表人民監督政府  
(B) 我是職業婦女，經常無法準時接孩子回家  
(C) 我是公司員工，因不滿主管而與他大吵一架  
(D) 我是家庭主夫，善盡全職奶爸職責
43. 老師這節課將進行關於「社會互動的方式」的隨堂測驗，以下為志明的考卷答案，請幫他算算看，他此次測驗得幾分？
- (A) 100 分 (B) 80 分 (C) 60 分 (D) 40 分。

七年級「社會互動的方式」隨堂測驗

班級：725 座號：30 姓名：志明

◎配合題：一題 20 分，滿分 100 分

(甲)競爭 (乙)合作 (丙)衝突 (丁)交換 (戊)順應 (己)同化

(丁) 1. 努力替老闆工作，力求表現，以換取加薪。

(戊) 2. 入伍服兵役，聽從軍中長官命令。

(己) 3. 小花的穿著打扮和偶像越來越相似，幾乎一模一樣了。

(乙) 4. 台北世大運台灣女子排球隊發揮團隊精神勇奪團隊第四名。

(甲) 5. 總統府前遊行抗議隊伍與路過民眾發生口角爭執。

44. 下表為 阿達 這一年所參加活動的團體，根據判斷他參加的團體有哪幾個屬於「關係取向」的團體？
- (A) 二個 (B) 三個 (C) 四個 (D) 五個
- |   |            |
|---|------------|
| 甲 | 宜蘭同鄉會      |
| 乙 | 中華民國兒童人權協會 |
| 丙 | 新北市醫師公會    |
| 丁 | 李氏宗親會      |
| 戊 | 台灣大學校友會    |
45. 公民課時討論「現代公民的基本素養」，有四組同學分別上台報告，下列哪一位的說明是正確的？
- (A) 公益彩券的經銷商必須為身心障礙者、低收入戶、原住民—秉持尊重與理性  
(B) 假日老師帶我們去福隆海水浴場進行淨灘活動—促進公眾利益  
(C) 開班會時，我們會安靜傾聽同學的發言—遵守公共秩序  
(D) 動物保育人士遞交陳請書希望政府重視流浪動物權利—追求社會正義

46. 大法官第 644 號解釋宣告：「人民團體法第二條規定：人民團體之組織與活動，不得主張共產主義，或主張分裂國土。讓主管機關於許可設立人民團體以前，得就人民『主張共產主義，或主張分裂國土』之政治上言論之內容而為審查，並作為不予以許可設立人民團體之理由，顯然已與憲法保障人民結社自由與言論自由相違背，所以人民團體法第二條及其相關之條文，應自本解釋公布之日起失其效力。」因此，立法院已三讀通過刪除上述條文內容。下列何者最能說明大法官解釋的精神？
- (A) 組成各種團體，只要跟政府機關登記即可  
(B) 個人可以同時加入很多人民團體  
(C) 達到法定年齡之成年人依法就可以組織成立團體  
(D) 人民在不侵害他人權利的前提下可基於自由意志組織各種團體
47. 下表為葉瀨中學裡的學生 進藤光 與其他人、事、物所產生的互動關係。請問：哪些是屬於「人際互動」？
- (A) 甲乙 (B) 丙丁 (C) 甲丁 (D) 乙丁

|   |                         |
|---|-------------------------|
| 甲 | 進藤光 與 塔史亮 對弈            |
| 乙 | 葉瀨中學與海王中學比賽             |
| 丙 | 進藤光 與 葉瀨中學              |
| 丁 | 葉瀨中學的 進藤光 與 圍棋社指導老師 李老師 |

48. 近年來，我國由於人民團體的蓬勃發展，對於人民積極的參與公共事務有所助益，並能促進社會進步。下列四人對於組成有關參與人民團體的敘述，何者**錯誤**？
- (A) 阿閃：有些非志願團體是我們無法依照自由意願選擇的  
(B) 小電：參與團體事務也可以完成個人的志趣與目標  
(C) 阿麥：憲法保障人民的結社自由是毫無限制的  
(D) 小坤：團體必須是兩個或兩個以上的人所組成的
49. 根據課本中「團體」的敘述，下列何者最符合團體的定義？
- (A) 看 Lamigo 棒球賽的球迷  
(B) 參加反年金改革的遊行群眾  
(C) 在購買排隊美食的觀光客  
(D) 新莊國中校友會
50. 對於各種社會化的途徑，下列敘述何者正確？
- (A) 傳播媒體的報導不一定正確，應懂得分辨  
(B) 父母親的所作所為一定是正確的  
(C) 學校是強迫式的教育，會抹殺個人的自由發展  
(D) 同儕團體的影響力比不上家庭，毋需在意。



新北市立新莊國民中學 106 學年度第 2 學期第 1 次段考 7 年級社會領域試題

解答

|          |          |          |          |          |          |          |          |          |          |
|----------|----------|----------|----------|----------|----------|----------|----------|----------|----------|
| 1        | 2        | 3        | 4        | 5        | 6        | 7        | 8        | 9        | 10       |
| <b>C</b> | <b>D</b> | <b>B</b> | <b>B</b> | <b>A</b> | <b>D</b> | <b>B</b> | <b>C</b> | <b>C</b> | <b>C</b> |
| 11       | 12       | 13       | 14       | 15       | 16       | 17       | 18       | 19       | 20       |
| <b>C</b> | <b>D</b> | <b>B</b> | <b>A</b> | <b>C</b> | <b>D</b> | <b>D</b> | <b>D</b> | <b>D</b> | <b>A</b> |
| 21       | 22       | 23       | 24       | 25       | 26       | 27       | 28       | 29       | 30       |
| <b>C</b> | <b>D</b> | <b>C</b> | <b>B</b> | <b>B</b> | <b>A</b> | <b>A</b> | <b>B</b> | <b>A</b> | <b>C</b> |
| 31       | 32       | 33       | 34       | 35       | 36       | 37       | 38       | 39       | 40       |
| <b>A</b> | <b>B</b> | <b>C</b> | <b>D</b> | <b>D</b> | <b>C</b> | <b>D</b> | <b>A</b> | <b>A</b> | <b>C</b> |
| 41       | 42       | 43       | 44       | 45       | 46       | 47       | 48       | 49       | 50       |
| <b>A</b> | <b>B</b> | <b>B</b> | <b>B</b> | <b>B</b> | <b>D</b> | <b>C</b> | <b>C</b> | <b>D</b> | <b>A</b> |